



巢湖一中 合肥八中 淮南二中 六安一中 南阳
宣城中学 滁州中学 池州一中 阜阳一中 灵璧

本试卷满分300分，考试时间

第1卷

一、选择题：本题共35小题，每小题4分，共140分。在每小题给出的四个选项中，只有一项是符合题目要求的。

梯田是一种强烈依赖人类活动的遗产，它不仅是人类农耕文明的“活化石”，也是未来保障粮食安全的重要生产资料。2013年云南红河哈尼梯田被列入世界遗产名录，元阳梯田是红河哈尼梯田的核心区。图1示意云南省元阳县主要梯田分布。目前，元阳部分低海拔梯田已改种香蕉等旱地经济作物，但核心区撂荒和改旱现象尚不明显。据此完成1~3题。

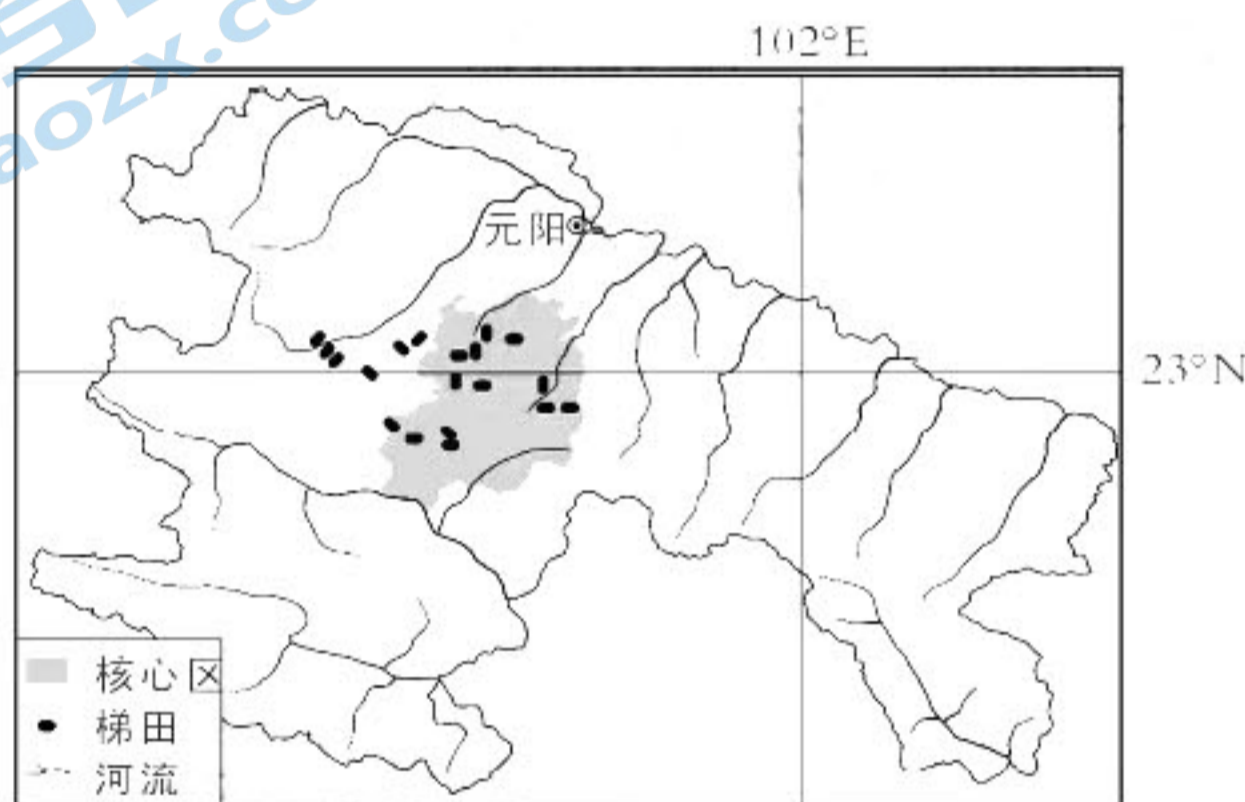


图1

- 近年来，我国山区梯田大量撂荒，这将直接导致（ ）
A. 种植结构改变 B. 田埂数量骤减 C. 粮食单产减少 D. 耕地面积减少
- 元阳梯田部分低海拔地区水田改旱地，实质上反映出该县可能（ ）
A. 城镇化进程减缓 B. 农村劳动力流失
C. 土地荒漠化严重 D. 水土流失加剧
- 元阳梯田核心区梯田撂荒和改旱现象不明显是由于该地区（ ）
A. 气温相对较高 B. 地形坡度较小 C. 土地生产力更高 D. 政府政策保护

算力即数据处理能力，随着东部数字经济的发展，未来对算力的需求急剧增加。为改善我国数字基础设施布局不均，降低数据中心运营成本，2022年2月17日，中国正式全面启动“东数西算”工程，在西部大规模建设数据中心形成算力支撑东部需求。图2示意全国一体化大数据中心体系布局设计。据此完成4~6题。



图2

2022届高三四月中考

综合能力测试

南陵中学 舒城中学 太湖中学 天长中学 屯溪一中
 灵璧中学 宿城一中 合肥六中 太和中学 合肥七中

时间150分钟。请在答题卡上作答。

北京高考在线
 www.gkzxx.com

4. 推测数据中心运营成本占比最高的是 ()
 A. 能源成本 B. 劳力成本 C. 运输成本 D. 环境成本
5. 不同数据类型对网络延时要求存在差异, 适宜转移到西部的数据业务部门是 ()
 A. 灾害预警 B. 远程医疗
 C. 存储备份 D. 视频通话
6. 在所有西部数据中心枢纽中, 成渝枢纽应重点 ()
 A. 夯实网络等基础设施保障 B. 发展大规模算力中心
 C. 打造全国性绿色算力基地 D. 提升算力的服务品质

冰壶运动又称冰上溜石, 是一种双方运动员依次投掷冰壶到固定区域, 击出对方冰壶的运动。冰壶石在冰面上移动, 因此底部石材要求不透水, 以减少水渗进冰壶石后在冰面上移动时频繁的冻融对运动器材的损耗。目前, 制作冰壶的优质石材产地主要位于苏格兰艾尔萨克雷格岛。图3为冰壶构造示意图。据此完成7~9题。




图3

7. 制作冰壶的岩石可能是 ()
 A. 玄武岩 B. 花岗岩 C. 石灰岩 D. 大理岩
8. 冰壶主体与冰壶底面一般由两种不同岩石材料磨制, 制作冰壶底面的岩石一般质地 ()
 A. 更粗糙 B. 更绵软 C. 更致密 D. 更疏松
9. 按成因分类艾尔萨克雷格岛属于 ()
 A. 大陆岛 B. 冲积岛 C. 珊瑚岛 D. 火山岛

北京2022年冬奥会开幕式以24节气倒计时开场, 倒计时数字“1”时为立春节气(图4), 正好是开幕式当天, 彰显了中华文化的源远流长与文化自信。跳台滑雪项目是以滑雪板为工具, 在专设的跳台上以自身的体重通过助滑坡获得的速度比跳跃距离和动作姿势的一种雪上竞技项目。表1示意滑雪影响等级对比, 数字越大干扰越强。据此完成10~11题。

表1



图4

滑雪影响等级	降雪量等级(24小时)	风力等级(f)	最高气温(T_g) $^{\circ}\text{C}$
1	无降雪	$f \leq 2$ 级	$-12 \leq T_g < 2$
2	小雪	2级 $< f \leq 3$ 级	$-16 \leq T_g < -12$ 或 $2 < T_g < 10$
3	中雪	3级 $< f \leq 5$ 级	$-20 \leq T_g < -16$
4	大雪及以上	$f > 5$ 级	$T_g \leq -20$

10. 北京 2022 年冬奥会开幕式倒计时为数字“6”时，地球在黄道上约位于图 5 的（ ）

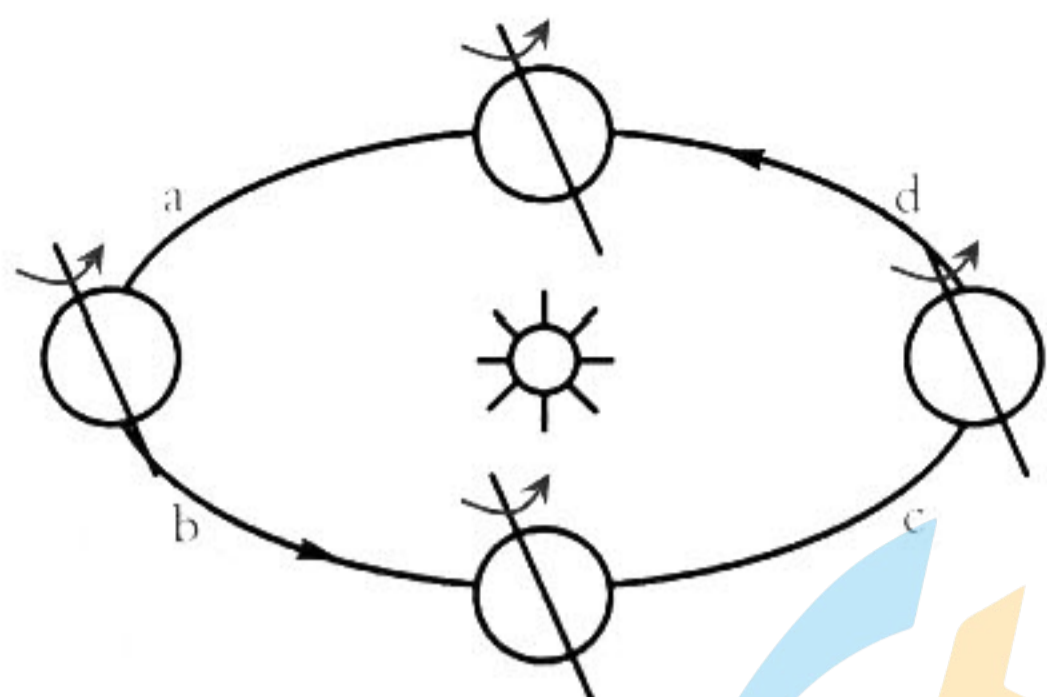


图 5

- A. a 处 B. b 处 C. c 处 D. d 处
11. 跳台滑雪没有世界纪录，影响该项目比赛成绩的自然因素是（ ）
A. 气温 B. 气压 C. 风力 D. 降水
12. 猪粮比，通俗说就是生猪价格和作为生猪主要饲料的玉米价格的比值。按照我国相关规定，生猪价格和玉米价格比值在 6.0 : 1，生猪养殖基本处于盈亏平衡点。据国家发展改革委监测，2022 年 2 月 21 日~25 日当周，全国平均猪粮比价为 4.98 : 1。为此，国家（ ）
①可以启动中央冻猪肉储备收储工作 ②要提高保护价收购种植农户的玉米
③建议养殖场（户）合理安排生产经营 ④应通过竞价交易向市场投放储备猪肉
A. ①② B. ①③ C. ②④ D. ③④
13. 2021 年 12 月 1 日召开的国务院常务会议确定，“十四五”时期，要坚持就业导向、适应市场需求，推动职业技能培训扩容提质。为此，国家可以采取的措施有（ ）
①开展职工在岗培训，健全职工技能培训机制
②对购买用于培训的相关设备，予以税收支持
③支持各类职业院校和职业培训机构开展培训
④发挥培训主体作用，开展青年职业精神教育
A. ①③ B. ①④ C. ②③ D. ②④
14. 图 6 反映的是 2017-2021 年我国国内生产总值、全国居民人均可支配收入增长情况。对图示应作如下理解（ ）

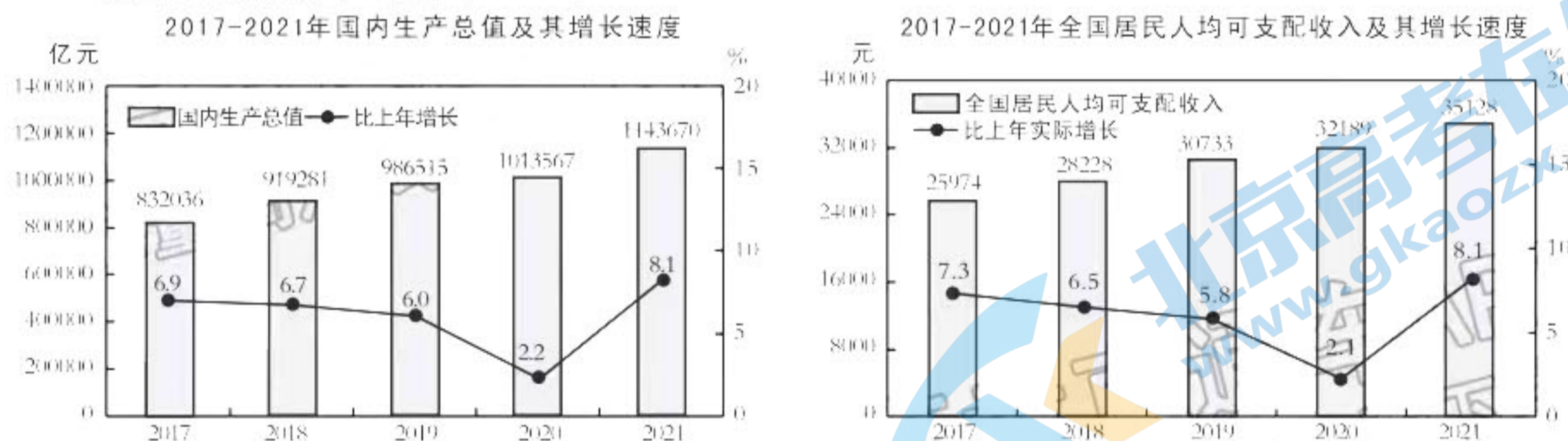



图 6

- ①经济高速发展为实现共同富裕提供前提 ②按劳分配让发展成果更多惠及全体人民
③经济增长为居民收入增长奠定坚实基础 ④我国经济增长的同时实现居民收入同步增长
A. ①② B. ①③ C. ②④ D. ③④
15. 2021 年是中国加入世贸组织 20 周年，图 7 信息从侧面反映出（ ）



注：入世 20 年，中国不仅成长为世界第一大出口国，还是第二大进口国

图 7

①我国成为拉动世界经济复苏和增长的重要引擎
关注北京高考在线官方微信：[北京高考资讯\(微信号:bjgkzx\)](https://www.gkzxx.com)，获取更多试题资料及排名分析信息。

- ②现阶段，中国左右着世界经济的“游戏规则”
 ③我国已成为经济全球化的重要载体和主要贡献者
 ④我国深度融入世界经济，与世界各国共享中国机遇

A. ①② B. ①④ C. ②③ D. ③④

16. 2022年3月5日，地方各级人民代表大会和地方各级人民政府组织法修正草案（以下简称地方组织法修正草案）提请十三届全国人大五次会议审议。本次地方组织法修正草案将“发展全过程人民民主”写入总则，明确地方人大和地方政府“坚持以人民为中心，坚持全过程人民民主”。坚持“全过程人民民主”（ ）

- ①是确立人民当家作主地位的重要举措 ②可以使人民多渠道参与国家政治事务
 ③是对我国民主政治制度的完善和发展 ④使民主的内容和形式实现了真正统一

A. ①③ B. ①④ C. ②③ D. ②④

17. 党支部是党的基础组织，担负直接教育、管理、监督党员和组织、宣传、凝聚、服务群众的职责。按照党章关于党支部委员会每届任期3年至5年的规定，支部委员会应按时进行换届选举。这样做有利于（ ）

- ①强化党支部思想领导，转变党的执政方式 ②加强党的组织建设，不断改进党支部工作
 ③加强党性修养，杜绝党员干部不作为行为 ④规范选举制度，模范遵守民主集中制原则

A. ①② B. ①③ C. ②④ D. ③④

18. 在中非合作论坛第八届部长级会议开幕式上，中国国家主席习近平提出了坚持团结抗疫、深化务实合作、推进绿色发展和维护公平正义等构建新时代中非命运共同体的四点主张，宣布了一系列对非合作新的重大举措，倡议实施减贫惠农、数字创新、绿色发展、和平安全等“九项工程”。这些主张和举措（ ）

- ①有利于推进区域经济、政治一体化进程
 ②表明中国积极践行共商共建共享的原则
 ③彰显了中国致力于睦邻友好、合作共赢的理念
 ④顺应当今时代主题，符合中非人民的共同利益

A. ①③ B. ①④ C. ②③ D. ②④

19. 不同文学艺术的价值内核都是真善美，所以，中国文艺需要通过讲述中国故事反映人们共同价值追求。海外读者阅读中国文学，一定也是被人物吸引，感动于人物的命运，惊讶于独特的审美旨趣，进而去感受文字背后的社会生活和价值追求，与作家情感产生共鸣。从中可以看出（ ）

- ①被海内外读者广泛认同是文艺创作的根本目的
 ②有价值的文艺创作助力提高中国文化国际影响力
 ③文艺创作应坚持通过文化的民族性展现文化共性
 ④反映时代精神的文艺作品能够增强人的精神力量

A. ①② B. ①④ C. ②③ D. ③④

20. 2022年1月10日，由中央网信办主办的2021中国正能量“五个一百”网络精品评选结果出炉，文字、图片、建设者、专题活动、动漫音视频作品齐聚，在2022新的一年开启之际，在网络正能量建设的亮眼成绩之上，再起一座耸立的高峰。这一评选活动（ ）

- ①在互联网平台上传播优秀文化，稳固着正能量声音的阵地
 ②彰显着网络正能量的勃勃生机，有利于网络空间天朗气清
 ③发挥了文化对社会的积极作用，用优秀的文化作品鼓舞人
 ④激发向上向善的网络力量，保障广大网民的基本文化权益

A. ①② B. ②③ C. ①④ D. ③④

21. 2022年3月1日，习近平在中央党校中青年干部培训班开班式上发表讲话强调，坚定理想信念，必先知之而后信之，信之而后行之。坚定理想信念不是一阵子而是一辈子的事，要常修常炼、常悟常进，无论顺境逆境都坚贞不渝，经得起大浪淘沙的考验。讲话意在指出（ ）

- ①要把正确思想意识应用于实践从而推动党的事业发展
 ②坚守正确思想意识是中青年干部的立足点和终身追求
 ③始终发挥正确思想意识指导作用不是轻而易举做到的
 ④要遏制错误思想意识对人体生理活动的消极调控作用

A. ①② B. ①③ C. ②④ D. ③④

22. 图8漫画《机会面前》讽刺了一些人想问题、做事情（ ）

- ①没有正确地发挥其主观能动性
 ②不能果断地抓住时机促进发展
 ③不善于具体分析矛盾的特殊性
 ④不敢分析和揭露矛盾的普遍性

A. ①② B. ①④

C. ②③ D. ③④



图8

23. 厨房小白初学烹饪，手执镰刀割下稻谷，学习胸外按压技术，亲手焊接制作手电筒……上海交通大学等高校优化整合校内外资源，开设科创学堂、电工学堂、公益学堂等劳动技能

培训课，全面打造劳动教育“大思政课”。学校如此重视劳动教育的哲学依据是（ ）

- ①劳动教育是培育劳动精神的根本途径 ②劳动是推动社会历史发展的决定力量
③劳动是人的存在方式和社会发展的基础 ④劳动是实现价值和创造美好生活的手段

A. ①② B. ①④ C. ②③ D. ③④

24. 商朝时，束（同刺）族主要活动在山东地区，部族分支迁徙往往在母族周边。西周时期，束族的宗子分支迁徙到西周都城的周边地区。除束族外，东部地区的诸族也出现了类似现象。这一变化说明西周（ ）

- A. 族群之间的文化交融有所加强 B. 中央实现了对地方的直接控制
C. 血缘关系对政治的影响力减弱 D. 分封制扩大了周王室统治区域

25. 西汉墓室中有荆渠哺父、董永事父等孝子图，这些孝子在生前并未得到官府表彰。东汉时期，不仅史书中记载了官府表彰孝子的情形，部分孝子的事迹还被官府绘制成像册供人传阅，用以训诫民众。这表明东汉时期（ ）

- A. 以孝治国理念缺乏社会基础 B. 察举选官制度臻于成熟完善
C. 农耕经济发展重构丧葬传统 D. 儒家伦理政治化的趋势明显

26. 宋代，“尘世有摇小鼓而售戏面具者”。所谓“摇小鼓”是指商贩在叫卖吆喝的基础上加工而成的特色音响广告，它借助一定的器具，形成一定的音乐认知，成为特定的引向具体商品的替身。“摇小鼓”的出现（ ）

- A. 丰富了市民的文化生活 B. 凸显了商贩的市场意识
C. 瓦解了城市的坊市界限 D. 催生了音乐艺术商业化

27. 明末清初一些思想家提出“富民”主张，如唐甄认为“夫富在编户，不在府库。若编户空虚，虽府库之财积如丘山，实为贫国”，颜元提出“富天下，强天下，安天下”。这些主张（ ）

- A. 使经世致用成为主流思想 B. 突破了宋明理学的义利观
C. 为民本思想注入时代价值 D. 削弱了工商阶层的影响力

28. 表2为晚清时期武汉地区部分官办工厂企业演变情况。据此可知这一时期（ ）

表2

设立年份	名称	地点	演变
1890	汉阳铁厂	汉阳	1908年改由盛宣怀招商，演变为官督商办的汉冶萍公司
1890	湖北织布官局	武昌	1902年由应昌公司承租
1907	白沙洲造纸厂	武昌	1911年交由买办刘子敬商办
1908	汉阳针钉厂	汉阳	1910年由华侨承办
1908	模范大工厂	武昌	1908年改官商合办

- A. 近代工业的市场化程度提高 B. 官办企业逐步退出历史舞台
C. 兴办实业日益成为社会共识 D. 民族资本主义发展动力不足

29. 民国初年，政府废除“跪拜、请安”等旧式见面礼，无论民见官、民间群体相见，均为免冠鞠躬之礼，“唯女子不脱帽”，当时“非惟士子遵行，即农工商亦无敢稍行违背”。这主要说明（ ）

- A. 社会交往日益尊重个人自由 B. 礼俗变革传递平等观念
C. 女性所受礼教束缚由此解除 D. 政府强制推广西方文化

30. 1948年1月，中共中央发出《关于建立报告制度》的指示，规定各中央局和分局，每两个月向中央和中央主席作一次报告，内容主要是：“该区军事、政治、土地改革、整党、经济、宣传和文化等各项活动的动态”。这一指示（ ）

- A. 适应了战略决战的新形势 B. 实现了党的工作重心的转移
C. 加强了党的集中统一领导 D. 推动了解放区社会制度变革

31. 表3为中国共产党通过的部分重要决议。这些决议的通过旨在（ ）

表3

时间	决议	侧重点
1945年	《关于若干历史问题的决议》	侧重于对三次“左”倾错误的剖析
1981年	《关于建国以来党的若干历史问题的决议》	侧重于对毛泽东同志的评价，尤其是关于确立毛泽东同志的历史地位，坚持和发展毛泽东思想这个核心问题
2021年	《中共中央关于党的百年奋斗重大成就和历史经验的决议》	侧重于阐述中国特色社会主义新时代的实践探索和理论建设，重点总结九年来的原创性思想、变革性实践、突破性进展、标示性成果

- A. 引导广大的党员传承红色基因 B. 告诫党员要牢记党史不忘初心
C. 增强党员实现民族复兴的信心 D. 统一全党思想建功历史新征程

32. “拜东方文明为师”，这在当时不失为是一种智者的眼光。无论是埃及的艺术形式还是美索不达米亚的数学和天文学，都烙上了希腊人所独有的智慧的特征，用柏拉图的话

关注北京高考在线官方微信：[北京高考资讯\(微信号:bjgkzx\)](https://www.bjgkzx.com)，获取更多试题资料及排名分析信息。

来说，就是“我们把一切从外国借来的东西变得更美丽”。这反映出古希腊文明()

- A. 源于北非的古埃及文明
B. 孕育出最早的人文精神
C. 奠定了欧洲文化的基础
D. 借鉴融合了东方的文化

33. 雪莱在 1819 年时已相信人民与统治者之间的一场冲突已不可避免，而他急切地希望站在人民一边。由于当时英国有所谓“诽谤罪”的法律压制，雪莱便以隐晦的语言创作了《西风颂》，其中有“如果冬天来了，春天还会远吗？”的诗句预言了社会的新生。据此可知，雪莱()

- A. 认为诗歌创作要再现社会生活
B. 强烈批判英国政府的专制统治
C. 鼓励人们反对压迫和追求自由
D. 认识到了无产阶级的历史使命

34. 有学者指出，十月革命后的俄国社会，不用说无产阶级的文化，就是资产阶级文化的状况也是很差的，传统村社中的“公共”意识与集体观念经过半个多世纪资本主义的“洗礼”，剩下的只是小私有者的“心理和习惯”，因此实施“战略退却”的新经济政策就成为必然。对此理解正确的是()

- A. 新生的苏维埃政权缺乏阶级基础
B. 社会转型应该与社会文化相适应
C. 十月革命破坏了俄国的文化传统
D. 战时共产主义政策损害农民利益

35. 图9是印度作为中间游移力量示意图。据此可知，印度()

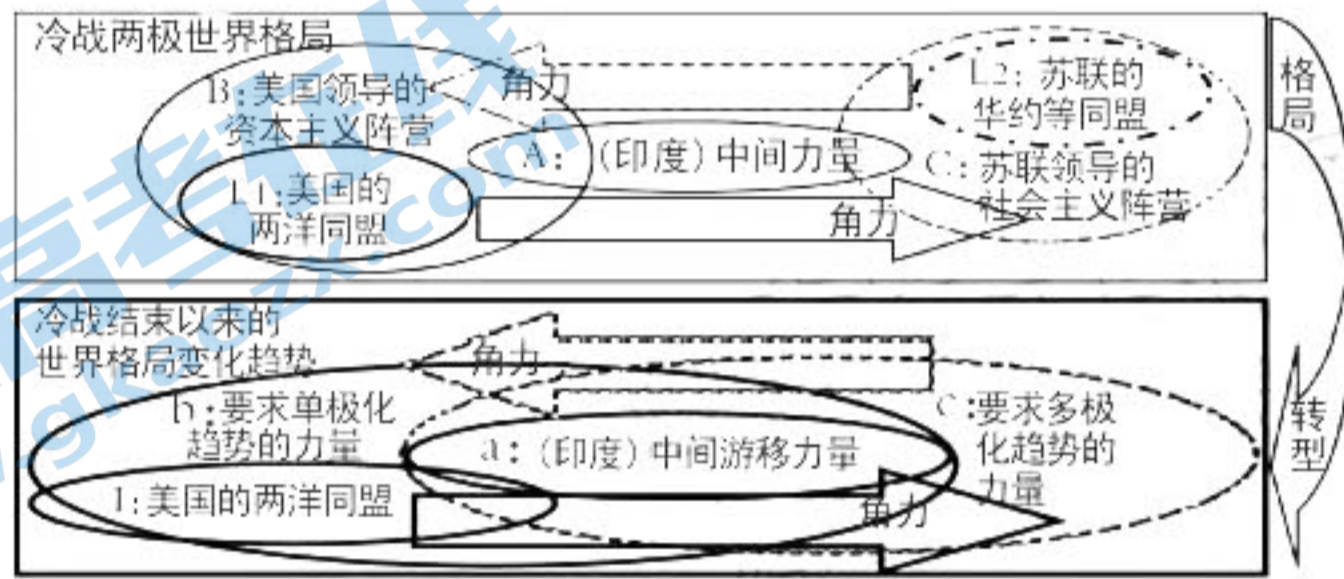


图 9

- A. 采取了灵活外交以谋求利益最大化
B. 寻求与西方国家全方位的合作
C. 致力于推动世界政治格局的多极化
D. 背离了不结盟运动的原则立场

第 II 卷

二、非选择题：共 160 分。第 36—42 题为必考题，每个试题考生都必须作答，第 43—47 题为选考题，考生根据要求作答。

(一) 必考题：135 分。

36. 阅读图文材料，完成下列要求。(24 分)

生物多样性的主体为指定区域内的全体植物、动物和由其构成的各类生态系统等。澳大利亚由于其独特的地理位置和古老大陆的特殊进化过程，生物多样性丰富、物种特有性极高。但自 18 世纪以来，澳大利亚累计引进 130 多种外来物种，很多已经成为危害农牧业和自然环境的有害入侵物种。其中兔子于 1859 年引进，1881 年已基本蔓延至整个新南威尔士州，1883 年该州颁布澳大利亚第一部针对该农业害兽的《兔子滋扰法》。近 200 年来，澳大利亚有百余种动植物灭绝，已成为全球生物多样性减少第二严重的国家。图 10 示意 1870~1960 年间兔子在澳大利亚大陆的传播路径。

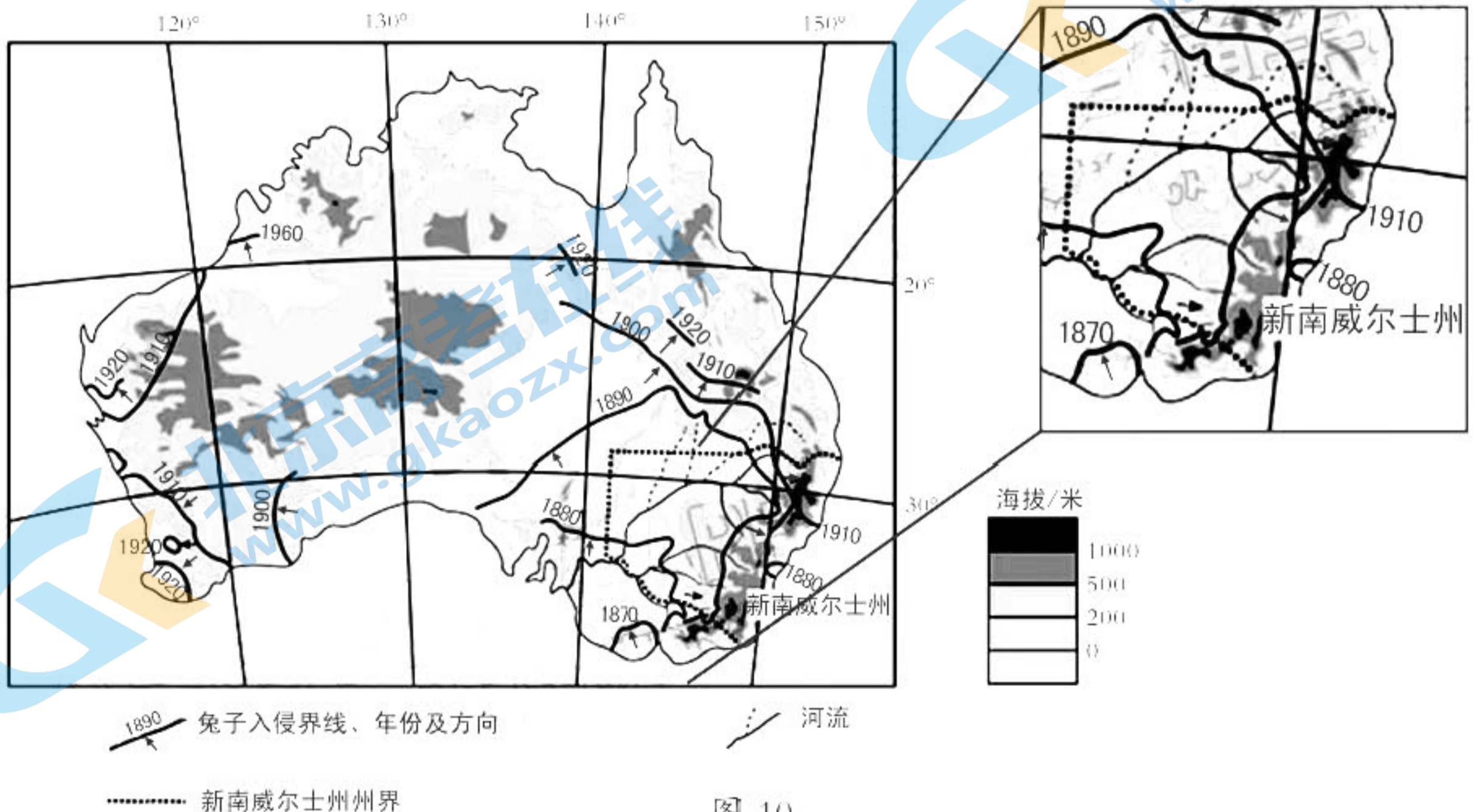


图 10

关注北京高考在线官方微信：[北京高考资讯\(微信号:bjgkzx\)](#)，获取更多试题资料及排名分析信息。

- (1) 简述澳大利亚生物多样性丰富的有利区位条件。(6分)
- (2) 1880年,新南威尔士州东部及南部已有兔子入侵,但东海岸兔子未大规模向西部内陆扩散,试说明其原因。(6分)
- (3) 分析兔子成为澳大利亚农牧业害兽的主要原因。(6分)
- (4) 推测澳大利亚保护生物多样性的主要困难。(6分)

37. 阅读图文材料,完成下列要求。(22分)

黄土高原是世界上面积最大、厚度最厚的黄土沉积区,因其独特的气候和土壤条件,加上长时间人类不合理的开发,成为世界上水土流失最严重的地区之一。暑假期间,某地理学习兴趣考察小组在赵老师带领下到甘肃、陕西两省对6个小流域的水土流失及治理现状展开调查。期间发现6个小流域均采取了相应的工程(坡面工程、沟道工程)措施、生物措施和农业技术措施,生物措施中林、灌、草占比存在明显差异,林地主要有分水岭防护林、陡坡水土保持林、沟道防护林等。图11示意6个小流域生物治理措施中林、灌、草面积及占比。

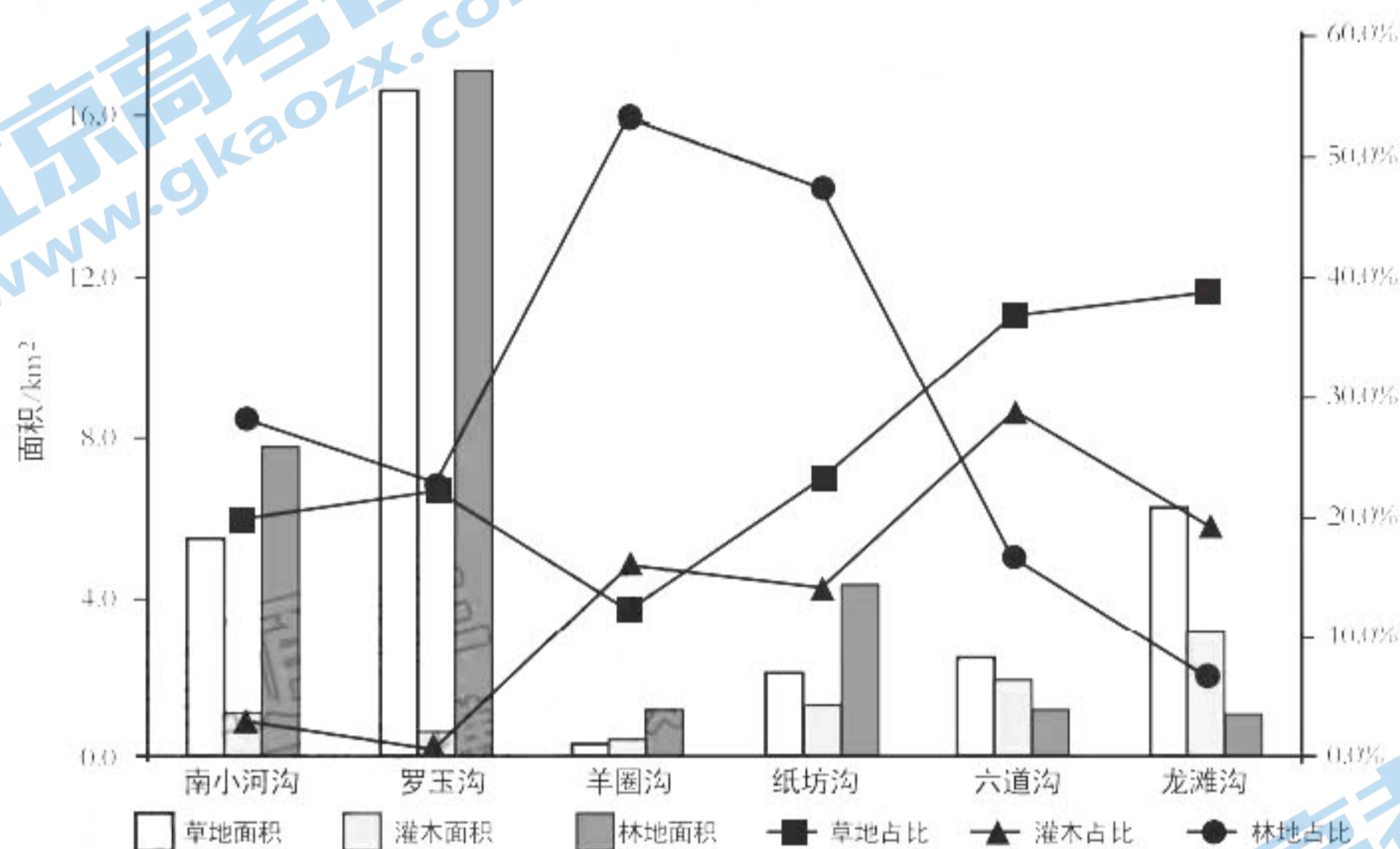


图 11

- (1) 指出同学们在考察地可能看到的水土保持工程。(6分)
- (2) 列举兴趣小组实地考察水土流失现象需要收集的材料。(8分)
- (3) 据图推测羊圈沟、龙滩沟两流域的气候差异。(4分)
- (4) 任选图中两类林地,简述其生态防护作用。(4分)

38. 阅读材料,完成下列要求。(14分)

2021年中国农民丰收节金秋消费季活动,从网络直播带货到乡村民宿体验,从农家美食品鉴到农业观光采摘,推出了一系列实打实的促消费举措。人们发现,各地举办的丰收节里既有农民也有市民。农民当然是丰收节的主角,其获得感强不强,是衡量丰收节举办成功与否最重要的标准。而要增强农民的获得感,就必须把丰收的农产品销售出去、卖出好价钱,这离不开市民的参与。不同于一般的农事节庆,丰收节不仅需要敲锣打鼓、热热闹闹,更需要盆满钵满、实实在在。

丰收的真谛,不仅是农业产量增加,也意味着农民收入增加。然而,我国不少农产品存在不同程度的同质化竞争现象,目前相当多的地方还是大路货多,精品和优质特色产品少;农业产业链条短,农产品加工转化率不足,产品附加值和效益偏低,市场竞争力总体不强;有的地方虽然有优质特色农产品,但“养在深闺人未识”,一般消费者都不知道,更谈不上购买。加之,季节性集中上市和阶段性价格下行,导致农民时常面临“增产不增收”的窘境。

结合材料,运用经济生活的知识,谈谈如何破解农民面临的“增产不增收”的窘境。

39. 阅读材料，完成下列要求。(12分)

2022年1月19日召开的中国特色社会主义参政党建设总结推进会指出，中共十九大以来，各民主党派把参政党建设作为重要政治任务，取得显著成效。

思路清晰。学习借鉴执政党建设的理念经验，吸收转化为符合自身实际的举措。加强政治引领，开展“不忘合作初心，继续携手前进”主题教育活动、中共党史学习教育，各民主党派共建立历史传统教育基地245个。各民主党派中央紧扣中心，深入调研，中共十九大以来通过“直通车”等形式提出意见建议495件，参政党建设成果转化为履职尽责的行动自觉。

问题导向。坚持发现问题、直面问题、解决问题，认真找短板、补弱项。不少民主党派专门开展“作风建设年”活动，整理问题清单，提出整改措施，取得了实实在在的效果。农工党中央制定了有关信息发布管理办法，九三学社中央组建宣讲团，开展500余场巡回宣讲，有效提升了学习的深度、热度。

结合材料，运用政治生活知识，说明各民主党派为什么把加强自身参政能力建设作为重要政治任务。

40. 阅读材料，完成下列要求。(26分)

近年来，随着IP创意产品消费强势崛起，人们消费不再局限于功能性效用的满足，而是更注重其蕴含的文化意涵，关注消费活动的整体体验。

一方面，IP消费是推动消费升级，反映消费需求更加多样化、个性化的趋势。从文化景点到卡通形象，从体育运动到影视动漫，不同消费群体通过IP产品展示自己的喜好，既彰显个性，也找到认同感。另一方面，IP商品是IP文化价值与商业价值的结合。文化价值和商业价值并不天然互相背离，相反，二者的结合能更好地促进文化产业发展与兴盛。消费者通过消费行为表达对某种文化产品和活动的喜爱，可以获得更多满足感和幸福感；IP商品作为文化内涵的衍生，提升相关产品的溢价，能为文化创作带来更多的经济价值。

在中国悠久历史与丰富文化的双重积淀下，从来不会缺少IP生长的土壤。近年来，中国IP商品销售占比逐年提升，就是最好的印证。从中国制造到中国创造，发展文化创意产业，要充分发挥国人创造性，让中国的文化IP“出圈”“吸粉”。随着中国文化自信的增强和相关市场的繁荣发展，未来中国IP文化创意产业有着巨大的成长空间。

(1) IP商品必须是文化价值与商业价值的结合。结合材料运用矛盾基本属性的知识说明该观点。(12分)

(2) 运用文化生活知识，分析未来中国IP文化创意产业有着巨大成长空间的原因。(10分)

(3) 请就如何发展文化创意产业，提两条合理化建议。(4分)

41. 阅读材料，完成下列要求。(25分)

材料一

进入20世纪后，西方历史学的危机开始展现。局限于文字史料的民族国家历史书写造成了领域的狭窄化，追求客观写史的理论在实践中遭遇质疑，对历史学学科性的强调排斥了历史学与其他人文、社会科学之间的交流。从19世纪到20世纪，社会学、心理学、地理学、经济学等学科纷纷形成并兴起，丰富了人们对社会的认识，暴露出传统史学对社会历史的解释不足与缺陷。更为重要的是，西方国家的现代化推动了西方社会的民主化和世俗化进程，普通群众在社会生活中作用和影响日益加强。资本主义工业化、现代化所引发的各种弊端，迫使人们重新审视和反思西方文明及其价值观念，重新思考直线的历史进化模式。在新技术革命推动下，生产力得到巨大发展，由此造成生产关系和社会关系发生深刻变化，马克思主义对西方知识界特别是人文社会科学知识分子产生很大影响，这都使西方进步的历史学家逐渐转向政治以外的其他人类生活领域，以布洛赫等人为代表的法国年鉴学派应运而生。

——摘编自樊江宏《法国年鉴学派研究》

材料二

对于 20 世纪 20 年代末出现的社会史论战中马克思主义史学家用唯物史观解释中国历史，与当时国内主流史学界并不符合。社会史论战本身既是由现实问题而来，又全然表现为回到现实问题中去。由中国社会性质问题论战进而展开的社会史论战，因其较为明显的非学术色彩、普遍生硬的史论结合特征等原因，短时间内难以得到主流史学界认同。社会史论战使唯物史观与中国历史联结在一起勾勒出马克思主义史学的研究雏形，但是马克思主义史学尚需从历史学研究的学术层面充实加强。之后的几年里，人们更注重反思社会史论战中存在的问题，在充实史料的基础上加强社会经济史研究。研究者及其观点也发生了各种变化，经过几年的讨论、研究、调整、淘汰，中国马克思主义史学阵营在 30 年代末至 40 年代以后逐渐明确。

——摘编自张越《中国马克思主义史学的形成与社会史论战》

- (1) 根据材料一并结合所学知识，指出法国年鉴学派兴起的背景。(10 分)
(2) 根据材料二并结合所学知识，概括中国社会史论战的特点和历史意义。(15 分)

42. 阅读材料，完成下列要求。(12 分)

材料

与世界上其他文明相比，中国古代政治呈现出独特的特征。早在秦朝统一前后，中国便出现了科层制政府并逐渐形成和完善了择优录用的科层选拔体制。帝制中国自公元前 221 年建立其间历经数番朝代更替，但一个相似的帝国政体却得以绵久不绝。帝制中国开疆拓土，特别是在北方影响的扩展，常常是北方游牧民族入主中土之后自身汉化的结果。大部分时间里，军队由文官控制，除非内战乱世，武将一般没有干涉政事的能力。超验宗教未曾对政治发生重大影响，而政府又对各种信仰抱有较高的宽容态度。商人阶级在帝制中国的政治舞台上不具有重要的政治地位，即使在商业化和城市化水平臻至顶峰的北宋时期，亦是如此。

——摘编自赵鼎新《东周战争与儒法国家的诞生》

从材料中提取一个论题，结合中国古代史相关知识，加以论述。(要求：论题明确，论述须史论结合，表述清晰。)

- (二) 选考题：共 25 分。请考生从 2 道地理选考题、3 道历史选考题中每科任选一题作答。如果多做，则每科按所做的第一题计分。

43. 【地理——选修 3：旅游地理】(10 分)

冰雪旅游是以冰雪资源为基础，为游客提供一个短时间内体验冰雪文化机会的旅游模式，张家口作为冬奥会主要雪上比赛项目承办地，实现张家口地区冰雪旅游品牌化发展是实现冬奥遗产可持续发展的重要途径。

列举张家口冰雪旅游品牌建设的主要措施。

44. 【地理——选修 6：环境保护】(10 分)

内蒙古河套灌区受自然条件影响，盐碱化严重。作为我国最大的自流灌区，灌区内以地面灌溉为主。由于当地农民灌溉习惯及灌区供水条件等约束因素的影响，每次灌溉的灌水定额较大，灌溉水量渗漏严重，导致土壤次生盐渍化更严重。自 2010 年开始，河套灌区推行高效节水灌溉方式，成效显著。表 4 为 2014 年和 2020 年内蒙古河套灌区盐碱地变化情况。

表 4

年度	开发面积 (万 hm^2)	盐渍化面积 (万 hm^2)				盐渍化面积占比 (%)			
		小计	轻度	中度	重度	小计	轻度	中度	重度
2014 年	1.18	0.31	0.22	0.04	0.04	26.27	18.80	3.79	3.68
2020 年	2.45	0.17	0.10	0.06	0.02	14.67	8.32	5.04	1.30

概括内蒙古河套灌区土壤次生盐渍化严重的主要原因，并根据材料得出一个结论，用表中数据予以论证。

文科综合能力测试(政治)参考答案

一、选择题(本大题共12小题,每小题4分,共48分。在每小题给出的四个选项中,只有一项是符合题目要求的)

题号	12	13	14	15	16	17	18	19	20	21	22	23
答案	B	C	D	B	C	C	D	C	A	B	A	D

12. B 猪粮比越高,说明养殖利润越好,反之则越差。但两者比值过大或过小都不正常。目前,全国平均猪粮比价处于盈亏平衡点以下,意味着猪肉价格较低,养殖场(户)亏损较大,国家可以通过为养殖场(户)提供有效信息指导,启动中央冻猪肉储备收储工作等,缓解猪肉价格下行压力,减少养殖场(户)亏损,①③符合题意。材料与保护价收购农户玉米无直接联系,②不选。向市场投放储备猪肉将导致猪肉价格进一步下跌,④不选。
13. C 本题的主体是国家,而开展职工在岗培训、开展青年职业精神教育的主体是企业或者职业培训机构,①④排除。对职业培训给予税收和各种支持,符合国家这一主体,措施正确而且符合题目要求,②③符合题意。
14. D 从图表可以看出,2017-2021年全国居民人均可支配收入与国内生产总值基本保持同步增长,这说明经济发展是居民收入增长的根本原因,③④符合题意。经济高质量发展为实现共同富裕提供前提,①表述不妥。建立健全各项制度,完善社会政策,做大、分好蛋糕,让改革发展成果更多惠及全体人民,②说法不妥。
15. B 由图表可以看出,人世20年,中国关税总水平大幅度降低,并为世界提供了巨大的市场,所以可以推论出我国成为拉动世界经济复苏和增长的重要引擎,深度融入世界经济,与世界各国共享中国机遇,①④正确。现阶段,经济全球化是由发达资本主义国家为主导,左右着世界经济的“游戏规则”,②说法错误。经济全球化的载体是跨国公司,③说法错误。
16. C 把民主选举、民主协商、民主决策、民主管理、民主监督各个环节贯通起来,不断发展全过程人民民主,说明人民可以多渠道参与国家政治事务,有利于我国民主政治制度的完善和发展,②③入选。宪法明确人民当家作主的地位,①表述不妥。我国在发展全过程人民民主之前,就已经实现了民主内容和形式的真正统一,④不选。
17. C 党支部委员会按期进行换届选举,是规范选举制度,遵守民主集中制的表现,有利于加强党的组织建设,改进党支部工作,②④正确。材料强调的是党内选举,未涉及党支部思想领导,①排除。材料不涉及党性修养问题,且“杜绝不作为行为”说法绝对,③排除。
18. D 题干中的主张和举措,有利于促进中非之间的合作以及构建中非命运共同体,但“政治一体化”说法错误,①排除。中非不是邻国关系,③不选。中非的合作符合和平与发展的时代主题和中非人民的共同利益,表明中国积极践行了共商共建共享原则,②④符合题意。
19. C 材料主要说明,不同的文学艺术有共同的价值内核,中国文艺应通过自己独特的文艺个性去展示共同的价值追求,这样有利于传播中华文化,讲述中国故事,②③符合题意。反映时代特征,推动实践发展,是文艺创作的根本目的,①表述不妥。材料没有涉及到优秀文化增强精神力量的问题,④与题意不符。
20. A 正能量的作品齐聚,传播了先进文化,有利于营造天朗气清的网络空间,稳固了正能量声音的阵地,①②符合题意。文化有先进与落后之分,笼统的说文化对社会的积极作用有误,③排除。题目没有涉及到网民基本文化权益的保障,④不选。

21. B 讲话首先强调，“坚定理想信念，必先知之而后信之，信之而后行之”，这说明①可选。然后又强调坚定理想信念是一辈子的事，要加强修炼反思，要经得起大浪淘沙的考验，③可选。从实际出发是中青年干部的立足点，维护人民群众根本利益是中青年干部的终身追求，②表述错误。④强调的是错误的思想意识，与题意不符。
22. A “前面的太肥！”“后面的太瘦！”，在犹豫不决中错失良机，没有正确地发挥主观能动性，①②符合题意。前面的嫌肥，后面的嫌瘦，说明这些人能够具体分析矛盾的特殊性，③排除。漫画没有涉及回避矛盾，④不选。
23. D 开展劳动教育有利于培育劳动精神，但不是根本途径，①说法错误。人民群众是推动社会历史发展的决定力量，②说法错误。从历史唯物主义的角度看，劳动是人的存在方式和社会发展的基础，人必须在劳动中实现人生价值，③④符合题意。

二、非选择题（本大题3小题，共52分）

38.（14分）

- (1) 品牌强农，鼓励各类市场主体发掘、培育一批优质农产品品牌，强化品牌营销，讲好品牌故事，提升品牌溢价，让品牌产品成为节庆消费的主角。（4分）
- (2) 科技富农，加强农业与科技融合，延长农业产业链，提升农产品附加值，为农民致富注入新的动力。（4分）
- (3) 营销助农，鼓励各类市场主体开展展示展销、直播带货、专场推介等各类营销促销活动，让农产品走出大山，出村进城，走进寻常百姓家。（3分）
- (4) 消费惠农，鼓励各类市场主体通过发放消费券、打折让利、流量倾斜等方式，吸引广大城乡居民购物过节，助力乡村振兴。（3分）

39.（12分）

- (1) 参政党加强自身参政能力建设是完善新型政党制度的客观要求，有利于夯实多党合作政治基础，巩固多党合作政治格局。
- (2) 有利于参政党围绕党和国家中心任务积极建言献策，推动决策科学化民主化，切实做好中国共产党的好参谋、好帮手、好同事。
- (3) 有利于参政党解决好自身问题，全面提高综合素质，增强履职尽责的自觉性、主动性和创造性，提升参政议政能力，树立良好的参政党形象。
- (4) 有利于巩固各民主党派同中国共产党通力合作的友党关系，保持多党合作事业薪火相传，推动各政党为共同目标而奋斗。（每点3分，共12分。从其他角度说明言之有理也可给分）

40.（26分）

- (1) ①同一性和斗争性是矛盾的两个基本属性。（2分）斗争性是指矛盾双方相互排斥、相互对立；同一性是指矛盾双方相互依赖、相互贯通。文化价值与商业价值是IP商品包含的矛盾着的两个方面。（2分）②IP商品的文化价值是指IP商品的文化内涵及其社会效益；IP商品的商业价值是指IP商品的经济效益。（2分）IP商品具有较高的文化价值，才能提升IP商品的溢价，为文化创意带来更多的经济效益；（2分）IP商品具有较高的商业价值，有利于推动文化传播和文化繁荣，增强人们文化自信。（2分）③二者相结合能更好地促进文化产业发展与兴盛，进而推动经济发展。（2分）
- (2) ①中华民族历史悠久，中华文化源远流长、博大精深，国人坚定的文化自信，为中国IP文化创意产业成长奠定坚实的文化基础；（2分）②中国IP文化创意产业的发展顺应了文化与经济相互交融的时代特点，是推动文化生产力发展和提升综合国力的重要因素；（2分）③中国IP文化创意产业注重文化创新，坚持以人民为中心的创作导向，尊重人民主体地位，调动人民群众的积极性；（3分）④新时代人们文化需求日益呈现出多层次、多样化、多方面的特点，我国文化市场越来越繁荣，这些都为中国IP文化创意产业成长提供良好的市场环境。（3分）
- (3) 示例：①从中华优秀传统文化中汲取丰富营养；②面向世界，博采众长，着力不同民族文化的交流借鉴；③激发全民文化创造力，优化文化创新的社会环境，打开全民创新的闸门。（每条2分，共4分。其他答案言之有理即可酌情给分）

文科综合能力测试（历史）参考答案

一、选择题（本大题共12小题，每小题4分，共计48分）

题号	24	25	26	27	28	29	30	31	32	33	34	35
答案	A	D	B	C	A	B	C	D	D	C	B	A

24. A 根据材料并结合所学知识可知，商朝东族和其他诸族分支迁徙往往在母族周边，到西周时期，为了加强对地方控制，东族的宗子分支迁徙到西周都城的周边地区。这说明西周时期政治军事等因素在一定程度上加速了各部族的人口流动和汇聚于都城附近，为族群之间的文化交融创造了有利条件，促进了族群之间的文化交融，故选A项。西周分封制对地方实行的是间接控制，B项排除；C项强化了血缘关系对政治的影响，材料反映的是西周通过加强控制宗子分支，从而达到控制其族群的目的，体现的仍然是血缘关系对政治的影响，同时西周宗法制的实施也说明血缘关系对政治的影响力没有减弱，据此排除C项；D项与材料主旨不符，排除。
25. D 根据材料并结合所学知识可知，西汉墓室里反映的孝子是汉代民间推崇的孝子，他们的故事只流传于民间，反映的是朴素的民间孝亲方式和家庭伦理观念，到了东汉时期，一些民间的孝子故事被政府表彰并有组织地绘制成像册对全社会进行教化，“孝”作为儒家伦理道德日益成为政治统治的工具，儒家伦理逐渐政治化，故选D项。A项表述与材料信息不符，排除；材料信息与察举制无关，B项排除；材料中东汉时期的信息是表彰孝子等，不属于丧葬礼俗问题，因此农耕经济发展重构丧葬传统表述不符合题意，C项排除。
26. B 根据材料可知，商贩为了促销自己所卖的商品，逐渐形成了有特色的叫卖方式“叫卖、吆喝”及后来的“摇小鼓”，因而“摇小鼓”的出现凸显了商贩的市场意识，故选B项。“摇小鼓”只是商业领域中的一种叫卖方式，并非是为了满足市民的文化生活，不属于市民文化的范畴，A项排除；C项材料无法体现，也不符合史实，排除；仅凭材料信息难以得出D项“催生”的结论，排除。
27. C 材料中明末清初的思想家提出富民主张，一方面是对儒家民本思想的继承和发展，另一方面是明末清初社会商品经济发展变化的反映，因此明末清初商品经济的发展为儒家传统的民本思想注入新的时代特征，故C项正确。A项错在主流，当时经世致用没有成为主流思想，排除；B项“突破”不符合史实，材料本身也没有涉及如何富民的问题，因此义利问题也就无从谈起，排除；富民思想对工商业者是有利的，因此不是削弱而是增强了工商阶层的影响力，D项排除。
28. A 根据材料并结合所学知识，武汉的这些官办工厂转变为民办或官商合办，民间资本的参与，必然意味着企业与市场的联系加强，增强了此类企业的市场化程度，促进近代工业整体的市场化程度提高，同时民间资本和市场的存在与发展，必然会为民族资本主义发展提供有利条件，故选A项，排除D项。B、C项，根据材料信息无法得出这样的结论，排除。
29. B “跪拜、请安”体现的是以下对上的封建礼制，表明人与人之间具有严格的等级差别。民国初年，“无论民见官、民间群体相见，均为免冠鞠躬之礼”，则体现了社交礼仪上渗透人人平等的意识，故选B项。材料所言的是社交礼仪，没有凸显个人意识和个人自由，排除A项；女子可以不脱帽，是对女子的尊重，但不等于女性所受的礼教束缚被解除，排除C项；材料信息看不出对违反新礼制的处罚，不能体现“强制性”，排除D项。
30. C 1948年1月，解放战争处于战略反攻阶段，为了配合战场形势需要，党中央在西柏坡，需要了解各地情况，加强了党的集中统一领导，以便做出战略决策，故选C项。战略决战是在1948年秋，当时尚未进入战略决战阶段，排除A项；工作重心的转移

是1949年七届二中全会党的决策，排除B项；建立“报告制度”不是改革“社会制度”，当时解放区实行的是新民主主义社会制度，一直到1956年才被社会主义制度所取代，排除D项。

31. D 根据材料并结合所学知识，D项表述符合上述表格中中国共产党通过的重要决议的主旨思想，统一全党思想，开启新阶段的征程，故选D项。A、B、C三项表述正确，但不符合上述三次重要决议共同的主旨思想，均排除。
32. D 根据材料“拜东方文明为师”“无论是埃及的艺术形式还是美索不达米亚的数学和天文学，都烙上了希腊人所独有的智慧的特征”“我们把一切从外国借来的东西变得更美丽”可知，古希腊人在广泛吸收了东方文明并融合自身的文明的基础上发展了希腊文明，故选D项。A项与材料主旨和史实不符，排除；材料信息体现不出希腊文明孕育出最早的人文精神和奠定了欧洲文化的基础，排除B、C项。
33. C 根据材料“相信人民与统治者之间的一场冲突已不可避免……急切地希望站在人民一边”“诗句预言了社会的新生”可知，雪莱主张人们反抗统治者的压迫，预言革命春天即将来临，给生活在黑夜及困境中的人们带来鼓舞和希望，故C项正确。雪莱是浪漫主义文学的代表，再现社会现实是现实主义文学的特征，根据材料“雪莱便以隐晦的寓言创作”，与A项的再现社会生活不符，A项既不符合材料信息也不符合史实，排除；当时英国已逐步建立了君主立宪制，因而并不是专制统治，B项排除；认识到了无产阶级的历史使命的是马克思主义，其诞生的时间是1848年，1849年的雪莱不可能认识到无产阶级的历史使命，D项排除。
34. B 根据材料表述，该学者主要阐述了十月革命后俄国社会文化落后（农村小生产者的“心理和习惯”广泛而浓厚）与战时共产主义政策退回到新经济政策这一“战略退却”的因果关系，并据此认为这一“战略退却”是具有历史必然性的，因此该学者的观点应该是：战时共产主义政策在当时的俄国缺乏社会文化土壤，新经济政策与俄国社会文化是相适应的，故B项符合题意。A项是对材料的误读，材料是探讨文化与社会转型的关系，不是苏维埃政权的阶级基础问题，苏维埃政权的阶级基础是工农兵，缺乏阶级基础的表述不符合基本史实，排除；就材料信息而言，村社的传统是资本主义破坏的，不是十月革命，排除C项；D项简单的指出共产主义政策损害农民的利益，忽略了“战时”性特点，从而忽视了战时共产主义政策是为赢得内战的胜利从根本上维护了农民阶级利益的一面，因此D项既不符合史实，也不符合材料主旨。
35. A 根据材料，印度无论在美苏争霸时代的两极之间扮演中间力量，还是在冷战结束以来单极化力量与多极化力量之间左右摇摆，这种立场的变化大小都是基于自身的国家利益，呈现出印度采取了灵活外交以谋求利益最大化总体特征，故选A项。B项与材料信息不符，排除；C项与图示材料及史实均不符，排除；就材料而言，印度既不放弃不结盟运动的领导者角色（在冷战时期），又因时而动地进行有限的结盟活动（多极化时期），D项属于以偏概全，排除。

二、非选择题（本大题包括必考题和选考题两部分，其中41—42为必考题，45—47为选考题，共52分）

41.（25分）

（1）背景：传统史学的危机；新兴学科的出现；生产力发展，引发社会变革；现代化和工业化弊端引发人们反思西方文明；马克思主义的影响。（1点2分，5点10分，共10分，其他言之成理亦可酌情赋分）

（2）特点：引入马克思主义唯物史观；立足现实，注重对社会性质等国情问题的分析；因自身存在弊病，主流史学界并不认同。（1点2分，3点6分，共6分，其他言之成理亦可酌情赋分）

历史意义：推动唯物史观在史学研究中的运用，促进了马克思主义史学的发展；推动马克思主义在中国的进一步传播；推动了社会史的研究，促进了时人对近代中国国情的认识；为中国共产党探索民主革命道路提供了理论借鉴。（1点3分，3点9分，任答3点即可，共9分）

42. (12分)

参考示例1

论题：中国古代政治发展形成了独特的科层制政府。(2分)

论述：早在春秋战国时期，随着宗法分封体制的逐渐解体，军公爵制为代表的官僚制度渐趋形成，为后世官僚政治奠定了基础。秦朝建立后全面推行官僚政治取代贵族政治，建立了从中央到地方的各层级的政府及其官僚体系，科层制政府正式形成。此后，汉代察举制、魏晋南北朝时期的九品中正制、隋唐至晚清的科举制的实施，官员选拔与儒家思想相结合，逐渐形成和完善了择优录用的科层选拔体制；与此同时，三省六部制、内阁制、郡国制、行省制的实施，中央到地方政府机构不断分工调整，官僚体系愈发严密，并逐步形成文官控制武将的历史传统。科层制政府的形成和完善，有利于打击特权垄断，加强了中央集权，保障官僚素质，提升治国效率，促进古代社会进步和统一多民族国家的发展。总之，中国古代政治发展形成了独特的科层制政府，为中华文明的发展繁荣提供了重要条件。(10分)

参考示例2

论题：商人在传统的社会中并不具有重要的政治地位。(2分)

论述：“士农工商”一直是中国古代历史发展过程中的传统观念，充分反映了商人并不具有重要的政治地位。从商朝出现商人开始，帝制中国对于商人的管控力度明显加大。汉武帝时期，为保证国家经济发展，采用重农抑商的政策，限制商人买卖，并对其进行限制。随着北宋商品经济的发展，城市经济得以发展，但商人的身份却没有得到相应的提高。整体的社会趋向仍然是以科举制为主导的入朝为官、复业入仕的社会倾向。尤其到了明清时期，商品经济发展达到鼎盛，出现了一大批富庶商人群体，徽商晋商成为其中的代表，但是商人经商的最终目的仍然是以科举为主要上升渠道，商人在传统的社会中并不具有重要的政治地位。综上，古代商人受传统“士农工商”观念影响，不具有重要地位。(10分)
(以上参考示例仅供阅卷参考，不是唯一标准答案，本题还可以从文化传统等角度提取论题进行论述，如学生提取其他论题进行论述，言之成理亦可赋分)

45. (15分)

- (1) 背景：计划经济价格体系存在弊端，价格市场化的发展；学者的理论研究；城市经济体制改革全面展开；集体经济和非公有制经济的迅速发展。(1点2分，3点6分，任答3点即可，共6分)
- (2) 简评：双轨制的实施是当时中国由计划经济走向市场经济过程中的特殊产物，具有一定合理性；它为经济从计划向市场转型提供了一条能够大体平稳过渡的途径，避免了全局性震荡；推动价格市场化改革及整个商品市场的发育；推动了非公有制经济的发展。(1点2分，3点6分，共6分) 两种价格体系的存在，导致在实践中产生了一定的弊端。(3分)

46. (15分)

- (1) 原因：德军的强大；挪威组织、指挥不得力；卖国组织及头目的破坏；英法盟军没有有效支援。(1点2分，4点8分，共8分)
- (2) 影响：增强德军实力和气势；造成双方人员伤亡；保住了德国的铁矿石运输线；巩固了德国北侧的防御，获得了众多的重要战略据点。(1点2分，2点4分，3点7分，任答3点即可，共7分。若从二战进程的整体角度进行作答，言之成理即可酌情赋分。)

47. (15分)

- (1) 特点：集思广益，因地制宜；制定计划；内容广泛；持续时间短。(1点2分，2点4分，3点7分，任答3点即可，共7分)
- (2) 影响：促进西北开发和社会近代化；有利于西北边疆的稳定；壮大了西北军阀的力量；为后世开发西北奠基。(1点2分，4点8分，共8分)

文科综合能力测试(地理)参考答案

一、选择题(本大题共11小题,每小题4分,共44分。在每小题给出的四个选项中,只有一项是符合题目要求的)

题号	1	2	3	4	5	6	7	8	9	10	11
答案	D	B	D	A	C	B	B	C	D	A	C

1. D 梯田作为耕地的类型之一,是保障粮食生产的重要生产资料,随着梯田撂荒,原有耕地直接弃耕,直接导致耕地面积减少,D正确;种植结构反映区域农作物种类的比例,与耕地面积无关,A错误;梯田撂荒,原梯田边缘的田埂不会急剧减少,B错误;粮食单产是粮食总产量与种植面积之比,耕地面积减少无法直接体现出单产的变化,C错误。
2. B 梯田是一种对人类活动依赖性强的农业系统,山区梯田水稻种植需要大量劳动力,随着工业化与城镇化的发展,农村劳动力大量流失,低海拔地区由水稻种植转变为劳动力需求更少、经济效益更高的旱地经济作物,城镇化进程是加快而不是减缓,B正确,A错误;水田改旱地与土地荒漠化关系不大,水土流失会减缓,C、D错误。
3. D 由图知核心区位于高海拔地区,气温相对较低,土地生产力较低,难以通过改种经济作物实现农民增收,在工业化和城镇化的影响下,一般低海拔地区易水田改旱,高海拔地区易撂荒,A、C错误;核心区海拔高,坡度不会小,B错误;该地被列入世界遗产名录,且位于核心区,在城镇化迅速发展的背景下,当地政府会对核心区大力实施文化保护和脱贫攻坚,以保护梯田景观,D正确。
4. A 与东部地区相比,西部各枢纽地区清洁能源丰富,数据中心运营过程中降温散热需要消耗大量电能,能源成本占比高,西部地区清洁能源具有比较优势,A正确;数据中心产业属于非劳动力导向型产业,B错误;数据的传递主要通过网络基础设施进行,C错误;数据产业对环境产生的污染少,D错误。
5. C 东部地区数字经济发达、人口稠密,对算力需求量大,同时数据的远距离传输会存在延时问题,西部距东部市场远,宜布局对网络延时要求不高的业务,C正确。
6. B 与西部其他枢纽相比,成渝地区人口稠密、经济发达,数据用户规模较大、应用需求强烈,B正确;贵州、内蒙古、甘肃、宁夏可再生能源丰富,数据中心绿色发展潜力大,可重点提升算力服务品质和利用效率,在发挥资源优势的基础上,夯实网络基础,打造面向全国的非实时性算力保障基地,A、C、D错误。
7. B 冰壶运动需要投掷冰壶,冰壶之间撞击频繁,对硬度要求高,花岗岩为岩浆岩类的侵入岩,密度高,硬度大,符合制作冰壶的要求,B正确。
8. C 冰壶石在冰面上移动,因此底部岩石要求质地致密且不透水,以减少水渗透岩石后在冰面上移动时频繁的流涎对运动器材的损耗,C正确,A、B、D错误。
9. D 由于制作冰壶的岩石是花岗岩,属于岩浆岩,可推测艾尔萨克雷格岛属于火山岛,A、B、C错误,D正确。
10. A 根据题目信息倒计时数字为“1”时是立春节气,按照24节气的顺序(春雨惊春清谷天,夏满芒夏暑相连,秋处露秋寒霜降,冬雪雪冬小大寒)可以看出,倒计时数字为“6”时,节气应该为小雪,根据二分二至示意图判断,图中左侧地球的位置应该为冬至,小雪节气在冬至之前30天,判断为a处,A正确。
11. C 依据跳台滑雪的概念,可知跳台滑雪其中1个评比项是通过获得的速度比较滑行距离,滑行过程中的风速和风向对运动员成绩的干扰较大,所以该项目不能评选出世界纪录,C正确。

二、非选择题（共4题，56分，其中43、44题为选考题。）

36.（24分）

- （1）澳大利亚国土面积大，陆地生物生存空间广；纬度低，热量充足，气候、地形种类多样（答出其中两点或答出自然条件多样就可得分）；澳大利亚属于古老的大陆，四面环海，保留许多特有物种；海岸线长，海域辽阔，海洋生物多等。（每点2分，任答三点得6分）
- （2）大分水岭（蓝山）山高坡陡林密（答出其中两点或高大山地阻挡即可得分），兔群难以通行；（2分）初期兔子数量少，东部海岸气候湿润，多小型食肉动物，兔子难以大规模繁衍；（2分）西部内陆地区沙漠广布，气候干旱，草场缺乏等（2分）
- （3）兔子繁殖速度快，天敌少，人为杀灭难度大；兔子大量啃食天然草场及人工牧草；兔粪堆积覆盖草原，草类枯死，牧区牲畜草料短缺；当地原生天然植被大量减少，地表裸露，土地沙化加剧，土地生产力下降（答出植被破坏，土地沙化即可得分）等。（每点2分，任答一点得6分）
- （4）澳大利亚沙漠广布，自然环境恶劣；（2分）气候干旱，淡水资源短缺且空间分布极不均匀；（2分）大陆相对独立，多特有物种，生态系统极为脆弱（2分）

37.（22分）

- （1）鱼鳞坑、水平沟、梯田、淤地坝、蓄水池、塘坝、水库等（每点2分，任答三点得6分，其他合理答案酌情给分）
- （2）降水、气温（昼夜温差、气温年较差）、日照时数等气候资料；小流域侵蚀沟的深度、宽度、坡面坡度等地貌资料；土壤类型、土壤质地状况等土壤资料；水土流失现状、水土流失类型等水土资料；植被类型、植被覆盖率等植被资料；农业生产状况、耕作方式、耕作习惯等农业资料（每点2分，但必须答出气候、侵蚀沟地貌、土壤、植被、水土流失、农业等六个类型中的四个才可得分，每一类型中答出一个角度即可得分）
- （3）据龙滩沟草地占比最高，羊圈沟林地占比最高，可推测龙滩沟年降水量较少，蒸发较强，适合草类生长；（2分）羊圈沟降水量相对较多，蒸发相对较弱，适合植树造林（2分）
- （4）分水岭防护林：减缓风力侵蚀和流水侵蚀；陡坡水土保持林：降低坡面径流流速和侵蚀作用，减少水土流失；沟道防护林：减小沟道内的侧蚀及下蚀，防止沟道扩张，降低流速，增加沟道内泥沙淤积（每点2分，任答两点得4分）

43.（10分）

深度挖掘冰雪旅游资源，打造冰雪旅游特色产品；最大限度的开放赛道和场馆，增强游客体验；丰富淡季旅游项目，延长游客旅游时间；将冰雪旅游与农家乐等民俗休闲活动结合，延长冰雪产业链；加强品牌宣传，提升品牌知名度；加强旅游服务人员素养培训，提升服务质量和口碑。（每点2分，任答五点得10分）

44.（10分）

主要原因：灌区位于河套平原，地形平坦，排水不畅，自流漫灌导致地下水位上升；（2分）气候干旱，风速大，蒸发强烈，大量盐碱留在地表（2分）

结论1：通过节水灌溉方式，减少了土地盐渍化面积。（2分）

论证：通过比对2014年和2020年盐渍化面积变化，2014年开发面积为1.18万 km^2 ，盐渍化面积为0.31万 km^2 ，占总开发面积比例为26.27%；（2分）2020年开发面积为2.45万 km^2 ，盐渍化面积为0.17万 km^2 ，占总开发面积比例为14.67%，土壤盐渍化面积大大减少。（2分）

结论2：通过节水灌溉方式，降低了土地盐渍化程度。（2分）

论证：通过比对2014年和2020年不同程度盐渍化面积变化，其中，轻度盐渍化面积从0.22万 km^2 减少至0.10万 km^2 ，占比从48.80%下降到8.32%；（2分）重度盐渍化面积从0.04万 km^2 减少至0.02万 km^2 ，占比从3.68%下降到1.30%，土地盐渍化程度大幅减轻。（2分）

关于我们

北京高考在线创办于 2014 年，隶属于北京太星网络科技有限公司，是北京地区极具影响力的中学升学服务平台。主营业务涵盖：北京新高考、高中生涯规划、志愿填报、强基计划、综合评价招生和学科竞赛等。

北京高考在线旗下拥有网站门户、微信公众平台等全媒体矩阵生态平台。平台活跃用户 40W+，网站年度流量数千万量级。用户群体立足于北京，辐射全国 31 省市。

北京高考在线平台一直秉承 “精益求精、专业严谨” 的建设理念，不断探索 “K12 教育+互联网+大数据” 的运营模式，尝试基于大数据理论为广大中学和家长提供新鲜的高考资讯、专业的高考政策解读、科学的升学规划等，为广大高校、中学和教科研单位提供 “衔接和桥梁纽带” 作用。

平台自创办以来，为众多重点大学发现和推荐优秀生源，和北京近百所中学达成合作关系，累计举办线上线下升学公益讲座数百场，帮助数十万考生顺利通过考入理想大学，在家长、考生、中学和社会各界具有广泛的口碑影响力

未来，北京高考在线平台将立足于北京新高考改革，基于对北京高考政策研究及北京高校资源优势，更好的服务全国高中家长和学生。



微信搜一搜

北京高考资讯

官方微信公众号: bjgkzx

官方网站: www.gaokzx.com

咨询热线: 010-5751 5980

微信客服: gaokzx2018