

2020 北京陈经纶中学初三（上）期中

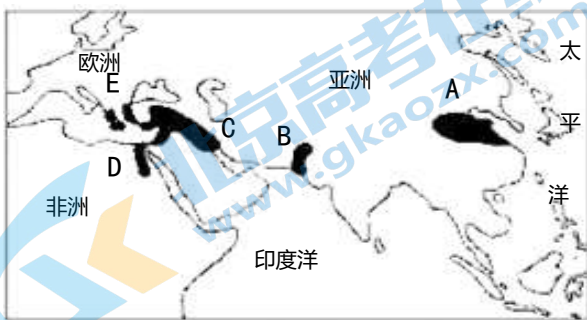
历史

时间： 70 分钟 满分： 70 分

班级： _____ 姓名： _____ 学号： _____

一、选择题：本大题共 20 个小题，每小题 1.5 分，共 30 分。在每小题给出的四个选项中，有且只有一项是符合题目要求的。

1. 人类历史上相继诞生了丰富多彩的古代文明。关于右图中 D 地文明，下列说法正确的是



- A. 制定了《汉谟拉比法典》
- B. 形成了种姓制度
- C. 使用楔形文字
- D. 建造了金字塔

2. 公元前 5 世纪后半期，雅典奴隶主民主政治达到极盛。下列说法正确的是

- A. 雅典主要以农业为主，崇尚武力
- B. 国家各级官职向雅典居民开放
- C. 规定国家一切权力属于全体公民
- D. 雅典法律规定妇女也可以参政

3. 恩格斯在《共产党宣言》里面说到：“封建的中世纪的终结和现代资本主义纪元的开端，是以一位大人物为标志的。”恩格斯提到的这位“大人物”就是《神曲》的作者

- A. 但丁
- B. 达·芬奇
- C. 莎士比亚
- D. 拉斐尔

4. 右图展现了人类 15 世纪末到 16 世纪初对地球的探索过程，其中最能证明“地圆说”为科学真理的航海路线是



- A. ① B. ② C. ③ D. ④

5.新航路开辟后，玉米这一美洲特产很快传到中国西南部、非洲及东南欧，马铃薯、可可等美洲特产传到亚欧非诸洲，非洲的咖啡等传到欧美，成为人们生活中的必需品。这一现象说明新航路开辟

- A. 促进了欧洲资本主义的发展
B. 使世界开始连成一个整体
C. 给亚非拉人民带来了灾难
D. 揭开西欧各国殖民掠夺序幕

6. 右图是位于西非塞内加尔的戈雷岛，1978 年被列为世界文化遗产。15-19 世纪，至少有数千万黑人从这里被转卖，有 500 万黑人死于岛上。该岛直接见证了



- A. 鸦片贸易 B. 三角贸易 C. 种姓制度 D. “非洲年”

7.这一事件后又过了大约 30 年，议会制度才可以说在英国站住了脚，由人民代表中的大多数人来决定谁来治理国家。议会因此实际是主权者。材料中的“这一事件”是

- A.1215 年颁布了《大宪章》 B.1640 年资产阶级革命爆发
C.1649 年处死国王查理一世 D.1689 年《权利法案》通过

8. 下面是美国国会大厦中悬挂的四幅美国历史的油画，按油画所反映历史事件时间的先后进行排序，正确的一组是



① 《签订独立宣言》



② 《登陆的哥伦布》



③ 《康沃利斯勋爵在约克镇投降》



④ 《朝圣者登船（英属北美殖民地的开辟）》

- A. ④①②③ B. ②④①③ C. ②③④① D. ③①②④

9. 《拿破仑法典》将自由、平等、博爱的精神编入法典；法典在字面上将封建残余和王室特权废除了；法典中一半以上的条款涉及到财产权。这反映出法典

- A. 继承了法国大革命的基本原则 B. 确立了三权分立的基本原则
C. 成为其他国家制定法律的蓝本 D. 推翻了法国的君主专制制度

10. 历史事实是描述历史事件的实际情况，历史观点是对历史事实的看法或结论。下列选项中属于历史观点的是

目录	
一、英人后裔	历经艰辛
二、初显身手	表现不凡
三、辞职回家	娶妻务农
四、众望所归	出任司令
五、率军出征	投身独立
六、临危不乱	连战连捷
七、经受考验	顽强战斗
八、指挥若定	打败英军
九、再度出山	两任总统
十、发表别辞	忠告后人

- A. 1689年，议会通过《权利法案》，逐渐形成君主立宪制
B. 1776年，美国第二届大陆会议通过《独立宣言》
C. 1804年，拿破仑建立法兰西第一帝国
D. 英、美、法资产阶级革命都促进了本国资本主义的发展

11. 右图所示图书目录应该出自

- A. 《克伦威尔传》 B. 《华盛顿传》 C. 《拿破仑传》 D. 《林肯传》

12. 某同学整理了关于法国大革命的重大事件时间轴，空格中应填入的内容是



- A. 议会重新召开 B. 攻占巴士底狱 C. 处死路易十六 D. 来克星顿枪声

13. 19世纪早期，伦敦除了赤贫阶层之外几乎所有的人都可以买上好几套衣服，用价格低廉的机织棉布制成的轻薄内衣也得到了推广。这一现象主要得益于

- A. 棉布制品的进口 B. 工业革命的发展 C. 电气时代的到来 D. 世界市场的形成

14. 以下示意图反映的是马克思主义从理论到现实的发展历程，其中①处应填



- A. 《人权宣言》发表
- B. 《独立宣言》发表
- C. 《共产党宣言》发表
- D. 宪章运动开展

15. 某校为举办展览，搜集了下列图片。图中人物的共同之处是



章西女王



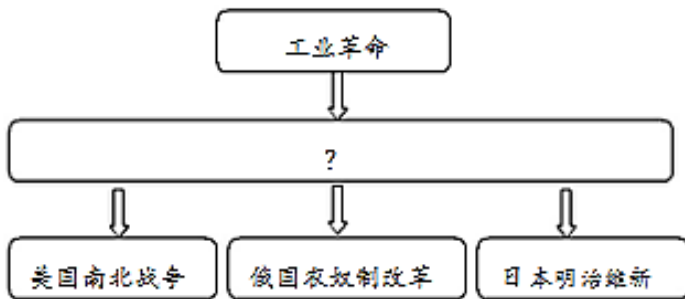
玻利瓦尔



华盛顿

- A. 创立了新的国家
- B. 反抗了殖民压迫
- C. 解放了黑人奴隶
- D. 结束了封建统治

16. 建构知识之间的联系，形成知识结构是历史学习的一项重要能力。观察右图，其中空白处应该补充的内容是



- A. 新航路的开辟
- B. 文艺复兴
- C. 资本主义制度的确立
- D. 资产阶级统治的巩固和扩大

17. 以下《19世纪60-70年代俄国制造业统计表》说明

年份	企业数(个)	工人数(人)	产值(千卢布)
1860	99	11600	7954
1879	187	42000	51937

- A. 彼得一世改革开启了俄国近代化进程
- B. 俄国加强了沙皇专制统治，强化农奴制

- C. 克里米亚战争的失败是俄国改革的催化剂
- D. 亚历山大二世改革推动了俄国资本主义发展

18. 下列选项所列事迹与右图提到的林肯的品行追求相匹配的是



团结

- A. 颁布《解放黑奴宣言》，还禁止美国国土的任何蓄奴行为
- B. 内战后没有对战败的“南方联盟”采取报复行动，维护国家统一
- C. 在百货店做零工，清点钱款时，及时送还客人多出的 12 美分
- D. 被拥护奴隶制的狂热分子刺杀

19. 如下表，横线上应该填写

名词解释：_____

明治初年的近代化（欧化）现象，也是当时明治政府的口号，明治政府引进欧美的近代技术、社会制度和风俗习惯等，逐渐影响到个人的衣食住行和生活规范。例如电报邮政开始营业，安装煤气灯，以及鼓励穿西服、吃西餐等。

- A. 废藩置县
- B. 殖产兴业
- C. 文明开化
- D. 制定宪法

20. 19 世纪 80 年代，德国人本茨制造出汽车，此后，汽车逐步成为人们交通工具的重要组成部分。使这一创造成为可能的前提条件是

- A. 蒸汽机的改良与推广
- B. 电影以及摄影机的发明
- C. 内燃机的发明与使用
- D. 电力进入生产生活领域

二、材料题：本大题共 4 个小题，共 40 分。

21. 在世界近代历史发展进程中，资本主义生产方式在不断改变，随着生产力的提高，社会生活也在不断发展与变化。（10 分）

材料一 手工工场和租地农场的出现，促进了西欧经济和社会的发展。

①从 13 世纪开始，一些规模较大的手工工场在国际贸易发达的地区出现，如意大利等。

②毛纺织业是最早出现社会分工的部门，在意大利自治城市里，商人投资开办作坊，控制原料采购和产品销售两个环节，雇佣一些行会手工业者和零散工人工作。生产过程分成梳毛、纺线、染色、织布、平整等多道工序，由专门的手工业作坊完成。

③英国的租地农场出现得最早。在租地农场，土地所有者出租土地，有的提供一部分经营资本；经济实力较强的实际经营者承租土地，提供种子、牲畜、农具和其余资本，使用少量雇佣工人来耕种土地。

④据统计，16世纪，英国贵族从他出租的土地所得资金与同一块土地承租者用农场经营所得收入的比是1：10。

(1)用材料一内容，证明以下观点。(3分填序号，每空多选、少选、错选均不得分)

观点1：分工合作，成为手工工场的一个主要生产方式。_____

观点2：在手工工场和租地农场采用的生产方式，都具有资本主义生产关系的特征。_____

观点3：租地农场的经营方式，对承租者具有巨大的诱惑力。_____

材料二 13世纪—19世纪中期欧美部分著名桥梁对照表

时间(年)	木桥	石桥	铁桥
1209	_____	英 旧伦敦桥	_____
1345	_____	意大利 Veccio 桥	_____
1604	_____	法国 巴黎新桥	_____
1758	瑞士 Wettingen 桥	_____	_____
1768	_____	英 Blackfrier 桥	_____
1779	_____	_____	英 Severn 铸铁拱桥
1785	_____	法 St. Maxene 桥	_____
1796	_____	_____	英 Surderland 铸铁拱桥
1803	_____	_____	法 St. Denis 人行桥
1817	_____	英 Waterloo 桥	_____
1824	_____	_____	英 Southwark 铸铁拱桥
1840	_____	_____	美 Frankford 桥

——摘编自韩柏林《世界桥梁发展史》

(2)根据材料二，说出18世纪中后期以后欧美桥梁建设的变化。(1分)并结合所学，分析这一变化出现的原因。(1分)

材料三 工业城市周边的河流既为机器运转提供动力，又成为市内工厂排放污水的极佳场所。……受到污染的饮用水是诱发热病、伤寒和霍乱等传染病的主要因素，极大威胁了工业城市居民的健康。……煤成为工业生产的主要动力原料后，由于技术原因导致的不充分燃烧和废气处理装置的缺乏，使得煤炭在燃烧过程中往往产生大量烟尘和二氧化硫、一氧化碳等有毒气体，这些气体排放到空气中后就造成严重的大气污染。工业生产所用的化学药品也会造成空气污染。

(3) 根据材料三概括工业城市在发展过程中出现的问题。(2分)

材料四 在第二次工业革命中，科学家进入工业研究的实验室。

时间	部门	重要发明
1856年	化学	英国科学家帕金在医药学的实验中，发明了一种合成染料，人工染料和其他各种合成工业由此开始
1867年	电力	德国的西门子在电磁学研究的基础上，通过反复实验，制成有经济意义的现代发电机
1879年	钢铁	英国的托马斯运用化学知识，通过科学分析和实验，创造了用含磷较高的铁矿石炼出好钢的办法，成为钢铁时代的真正开端

(4) 依据材料四并结合所学，说出第二次工业革命中出现众多发明的原因。(1分) 列举第二次工业革命中的发明成果。(1分，材料四中的发明除外) 给人类的生产和生活带来了什么影响？(1分)

22. 某历史小组同学为了研究世界近代化的发展历程，以英国为例，搜集整理了以下资料，让我们跟随他们一起去一探究竟吧。(13分)

材料一

作者	内容	出自作品
①	“人类是一件多么了不起的杰作！多么高贵的理性！多么伟大的力量！多么优美的仪表！多么文雅的举动！在行为上多么像一个天使！在智慧上多么像一个天神！宇宙的精华！万物的灵长！”	《哈姆雷特》
	“噢，奇妙啊！瞧这儿，有那么多风度不凡的人儿！人类是多么美好啊！这个新世界多棒啊，有这样好的人物！”	《暴风雨》
	人应该生活，而非仅仅为了生存而活着。	《为奴十二载》

(1) 材料一中①处作者是谁？(1分) 其作品内容反映出作者具有什么思想？(1分) 这一思想在当时具有什么重要意义？(1分)

材料二 “光荣革命”说其“光荣”就在于它不流血。不流血的原因是：国家的统治阶层已齐心协力要把国王搞下台。但同时，他们也没有让下层民众参与国家政体的设计。光荣革命从表面看似乎一切都没有变，只是换了国王。但实质上新国王是由议会创造出来的，既然议会创造了国王，主权当然在议会。光荣革命确立了英国的君主立宪制，最高权力从国王一个人手里转交到贵族一批人手里。

——钱乘旦《英国通史》

(2) 依据材料二，对以下表述做出判断。直接从材料得出的，在括号内划“√”；违背材料所表达意思的，在括号内划“×”；材料没有涉及的，在括号内划“O”（4分）


①“光荣革命”通过和平的方式实现了英国做高权力的转移。（ ）

②英国民众在“光荣革命”过程中发挥了重要的作用。（ ）

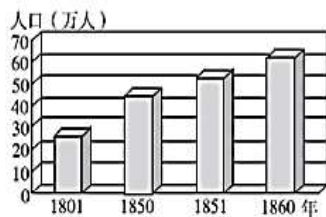
③英国资产阶级革命中处死了国王查理一世。（ ）

④“光荣革命”后，国王的权力受到议会限制。（ ）

材料三



①1769年瓦特改良的蒸汽机



②19世纪英国城镇人口变化图



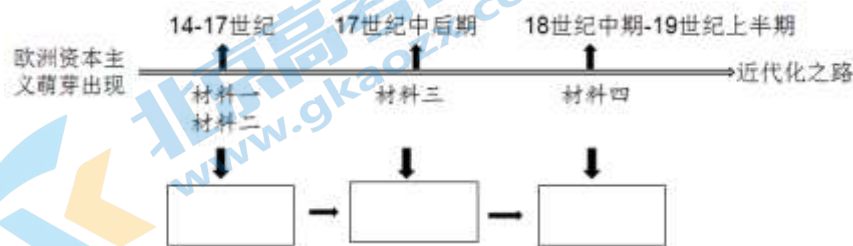
③1850年英国棉纺厂



④1825年“旅行者”号机车

(3) 说出以上四幅图片所反映内容的共同历史背景？（1分）分析这些内容对英国有哪些影响。（2分）

(4) 近代化之路：历史小组的同学们把以上四则材料按时序梳理好之后，总结出了世界历史近代化发展进程的三个阶段（政治近代化、经济近代化、思想近代化），如图所示，请你按时序把近代化的三个阶段补充完整。（3分）



23. 17-18 世纪欧洲社会巨变，开启了资产阶级革命的时代，民主和法制建设在这个过程中不断的完善，下面我们就通过研读史料来探究下列问题（11 分）

【威斯敏斯特宫】威斯敏斯特宫，又称伦敦议会大厦，是英国议会所在地。



材料一 1689 年英国议会在威斯敏斯特宫通过《权利法案》，规定：

凡未经议会同意，以国王权威停止法律或停止法律实施……为非法行为。

凡未经议会准许……为国王……征收金钱……皆为非法。

除经议会同意之外……国王征募或维持常备军，皆属违法。

(1) 依据材料一，说出《权利法案》对英国国王的哪些权力进行了限制。（2 分）

【自由女神像】自由女神像位于纽约市的自由岛上，她手持火炬，矗立在纽约港入口处，迎接了 19 世纪末以来到美国定居的无数移民，是美国的象征。



材料二 自由女神像是法国人民赠送给美国人民的礼物，于 1886 年建造完工，自由女神右手高举象征自由的火炬，左手捧着一块铭牌刻着 JULY IV MDCCLXXVI（1776 年 7 月 4 日），脚上散落着已断裂的锁链，右脚跟抬起作前进状，整体为挣脱枷锁、挺身前行的反抗者形象。

——摘编自《世界遗产》

(2) 依据材料二并结合所学，说出自由女神手中铭牌代表的文件名称。（1 分）谈谈自由女神像寄托了美法两国人民哪些美好愿望。（2 分）

【美国费城】1787年，各州代表齐聚费城，召开制宪会议，制定出美国宪法。


材料三 在设计一个由人来统治人的政府时，最大的困难在于：你必须首先使政府有能力控制被统治者，其次要强制政府控制自己。

——麦迪逊（美国1787年宪法制定者）

（3）结合所学，说出美国1787年宪法是如何解决材料三中所提到的困难的。（1分）

【巴黎凡尔赛宫】1789年10月5日，国王路易十六被迫在此签署了《人权宣言》

材料四

	<p>第一条 人生来就是而且始终是自由的，在权利方面一律平等。</p> <p>第二条 一切政治结合均旨在维护人类自然的和不受时效约束的权利。</p> <p>第六条 每一个公民在法律的眼里一律平等。</p> <p>第十七条 财产是不可侵犯与神圣的权利。</p> <p>第二十一条 自由地传达思想和见解是人类最宝贵的权利之一。所有公民都有言论、著述和出版的自由。</p> <p>——《人权宣言》</p>
--	---

（4）依据材料四，概括《人权宣言》的所体现的主要思想。（2分）

材料五 法国政府对思想与舆论实行严格的管制。1789年前巴黎仅有4种政治性报刊存在。1789年前法国仅有60种报刊，1792年8月10日却猛增至500种以上，当时的人们为突然出现的大量讨论时政和社会问题的印刷品而震惊。

——摘编自韩伟华《论大革命与拿破仑时代的法国新闻自由》

（5）阅读材料五，说出1789-1792年法国报刊数量的变化。（1分）结合材料四，分析变化的原因。（1分）

材料六 要形成对历史正确、客观的认识，必须学会对搜集来的史料进行分类整理，并能够辨析史料的信度与效度，在此基础上形成对历史正确而客观的认识。……所谓史料的效度，也称为史料的适用性，通常是指史料能够直接或间接为研究或印证某一历史事件所用。——摘编自徐洁《“史料实证”素养的养成探究》

（6）某班研究小组近期的研究主题是“近代早期资本主义制度的确立”，请你从材料一至材料五中，选取一则你认为符合该研究主题的史料，把史料序号填在对应横线处，并运用所选史料说明与该主题的关系。（1分）

研究主题：近代早期资本主义制度的确立

相关史料序号：_____ 关系：_____

24. 资本主义制度的扩展（6分）

材料一 废除农奴制后，俄国有 2250 万依附俄国封建农奴主的农民获得了解放，在法律上成为有财产的自由人……改革时农民取得的全部份地，约值 6500 万卢布，而农民却要付近 9 亿卢布……19 世纪 60-90 年代，俄国的纺织机增加 9 倍，工业总产量增加 7 倍。

——张贵荣《1861 年俄国农奴制改革的再思考》

（1）依据材料一，概括俄国农奴制改革的影响。（2分）

材料二 南北战争以统一战争始，以废除黑人奴隶制的革命终。在战争期间颁布的宅地法……就是用革命的手段，以最有利农民的方式解决了土地问题。废除了黑奴制直接扫除了发展资本主义经济障碍，土地问题的解决直接推动农业资本主义经济的发展。北方工业资产阶级还利用政权，通过“南方重建”等行动，大力发展资本主义，在第一次工业革命的基础上又掀起了第二次工业革命，以经济建设为中心实现中国梦，美国经济很快进入一个飞速发展的时代。

——摘编自余志森《南北战争结束 150 周年记：美国崛起的开端》

（2）依据材料二，指出美国经济飞速发展的原因。（2分）

材料三



① 三府七十二县示意图



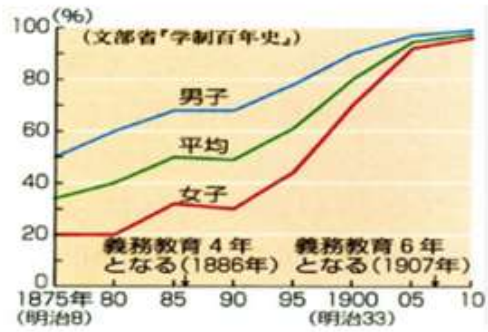
② 富冈缫丝厂于明治5年（1872年）由明治政府成立的制纱厂



⑦ 1876年2月26日，日本迫使朝鲜签订不平等的《江华条约》

国家	时间	年平均增长速度
日	1868-1873	32.2%
英	1851-1873	3.3%
美	1861-1873	5%
德	1861-1873	3.8%

⑧ 四国经济年平均增长速度表



③明治时期教育普及率



④1872年东京与横滨铁路通车



⑤明治时期的日本新式陆军



⑥东京鹿鸣馆 1883年建

(3) 依据材料三的图表信息，在明治维新对日本的影响方面，你能得出怎样的历史认识，并说明依据。(2分 至少说出2点)

关于我们

北京高考资讯是专注于北京新高考政策、新高考选科规划、志愿填报、名校强基计划、学科竞赛、高中生涯规划的超级升学服务平台。总部坐落于北京，旗下拥有北京高考在线网站（www.gaokzx.com）和微信公众平台等媒体矩阵。

目前，北京高考资讯微信公众号拥有30W+活跃用户，用户群体涵盖北京80%以上的重点中学校长、老师、家长及考生，引起众多重点高校的关注。
北京高考在线官方网站：www.gaokzx.com

北京高考资讯 (ID: bj-gaokao)
扫码关注获取更多



关注北京高考在线官方微信：[北京高考资讯 \(ID:bj-gaokao\)](https://www.gaokzx.com)，获取更多试题资料及排名分析信息。