

高二历史试卷

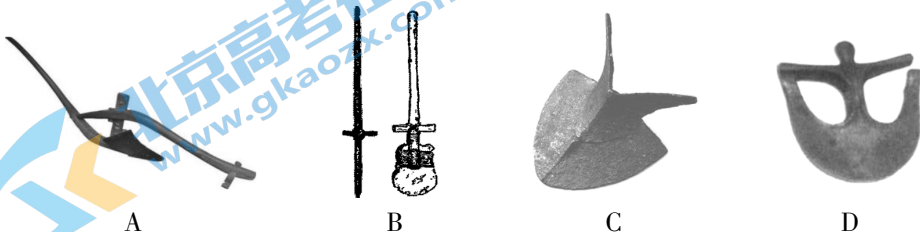
2022. 1

(考试时间 90 分钟 满分 100 分)

第一部分(选择题 共 45 分)

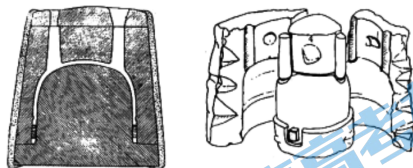
本部分共 15 题,每题 3 分,共 45 分。在每题列出的四个选项中,选出最符合题目要求的一项。

- 1.《国语·鲁语》记述了一段故事“昔烈山氏(是中国上古时期姜姓部落的首领)之有天下也,其子曰柱,能殖百谷百蔬”。判断当时“殖百谷百蔬”的农具应是



2. 古代金属器成型方式包括锻打和铸造两种。下图的制作工艺和工具出现在

- A. 半坡时期
B. 商周时期
C. 两汉之际
D. 唐宋之交



3. 它全长 30 余千米,“将湘江和漓江连成一气,使得长江流域与珠江流域两大水系发生了关系;它使中国南北水路又多了一条沟通途径,有利于中原文明与岭南文明的交流;其间发明的斗门(运河的船闸),使船只可以上台阶,这真是创造了一个奇迹”。这段文字赞美的是

- A. 邗沟 B. 都江堰 C. 龙首渠 D. 灵渠

公元前 138 年 公元前 119 年	张骞两次出使西域,联合月氏、乌孙等共同对付匈奴。
公元前 127 年 至公元前 119 年	汉政府三次出兵重创匈奴,并在内地通往西域的咽喉要道先后设立武威、张掖、酒泉、敦煌四郡。
公元前 101 年	在轮台等地进行屯田,并设置地方官吏管理。
公元前 60 年	控制东部天山北麓的匈奴日逐王降汉,西汉统一西域。 西域都护府作为管理西域的军政机构。

——摘自《新疆的若干历史问题》白皮书 国务院新闻办公室 2019 年

关注北京高考在线官方微信:北京高考资讯(微信号:bjgkzx) 获取更多试题资料及排名分析信息。

4. 材料反映出的汉政府加强对西域管辖、治理的手段和措施包括

- ①和亲册封 ②武力讨伐 ③设置机构 ④移民屯戍
A. ①②③ B. ①②④ C. ①③④ D. ②③④

5. 右图是709年日本铸造的铜钱,其币面的“和同开珎”四字系仿当时中国货币。其样式与风格是模仿



A



B



C




D

6. 下列几项地方机构中,从代表中央监督地方的监察机构,演变为地方常设行政机构的有

- ①州 ②道 ③路 ④省
A. ①②③ B. ①②④ C. ①③④ D. ②③④

7. 章怀太子墓的《礼宾图》表现的是公元7世纪的一个情景。图中左侧的三位官员应隶属于

- A. 鸿胪寺 B. 大理寺
C. 都护府 D. 宣政院



8. 研究要跟着史料走,跟着在阅读过程中产生的问题走;史料是研究者的史料,研究者只有通过阅读史料进而发现问题,才能真正“占有”史料。在对下列三则史料的研读过程中,学生可发现“问题”而形成的研究主题有

遣人¹掌邦之委积,以待施惠;乡里之委积²,以恤民之艰厄;门关之委积,以养老孤;郊里之委积,以待宾客;野鄙之委积,以待羁旅;县都之委积,以待凶荒。

——《周礼·地官·遣人》

老而无妻曰鳏,老而无夫曰寡,老而无子曰独,幼而无父曰孤。此四者,天下之穷民而无告者。文王发政施仁,必先斯四者。

——《孟子·梁惠王下》

凡鳏寡孤独及笃疾之人,贫穷无亲属依倚,不能自存,所在官司应收养而不收养者,杖六十。

《大明律》

遣人:地方官名。掌理结余财物,以供馈赠施予及接待宾客等使用。

委积:原指禾谷堆。储备粮食、柴草、木材、饲料等物资,用于防灾、备战、济困、招待宾客和供应寄居人员。储备量少的称“委”,储备量多的称“积”。

- ①以德治国 ②法律教化 ③社会救济 ④基层治理
A. ①② B. ②④ C. ①②③ D. ①②③④

9.《南京条约》规定,英国商人应缴纳“进口、出口货税、餉费,均宜秉公议定则例”。这项规定其重点在于

- A. 公平 B. 协定 C. 税额 D. 例章

10. 这是 18 世纪某国宣布建国时颁布的法律文件

在有关人类事务的发展过程中,当一个民族必须解除其和另一个与之有关的民族之间的政治联系,并在世界各国之间,接受自然法则和自然界的造物主的旨意赋予的独立和平等的地位时,出于对人类舆论的尊重,必须把他们不得不独立的原因予以宣布。

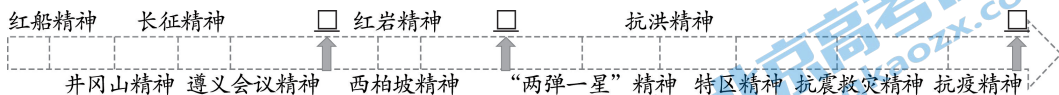
以下对这一文件的分析,正确的有

- A. 宣扬了权力制衡,对未来社会提出政治构想
B. 扩大了议会权力,标志资本主义制度的确立
C. 提出了自由平等原则,猛烈冲击了君主专制
D. 体现了人民主权思想,宣告北美殖民地独立
11. 19 世纪 60 年代中期开始,美国高等教育开始了巨大变革。耶鲁学院毕业的一位校友感慨道:“对一个运气好的自由人而言,在闲暇时间舞文弄墨或凭借家庭步入仕途确实美好,但我们必须要去修建铁路、说服法官或编辑报纸,我们要在一个混乱的社会中生存……需要将自己的知识当作工具应用到各种职业领域中。”他的观点反映了这一时期美国高等教育
- A. 遵循英国传统,将教学和研究相结合
B. 扩大学习范围,倾向世俗化和专业化
C. 体现工业时代需求,推广实用教育
D. 挽救大危机的困境,提供国民教育
12. 观察图片信息,给予正确排序



- A. ①②③④ B. ④①②③ C. ①④②③ D. ①②④③

13. 革命精神是党和国家的宝贵财富,是一代又一代中国共产党人经历生死考验、付出巨大代价所形成的,是一代又一代中国共产党人顽强拼搏、不懈奋斗铸就的。在下列革命精神示意图的“□”中填入正确内容



- ①苏区精神 ②延安精神 ③抗美援朝精神 ④脱贫攻坚精神
 A. ①②③ B. ①②④ C. ①③④ D. ②③④

1968年9月	《红旗》杂志(1958-1988年间中国共产党中央委员会主办的理论刊物)发表《从“赤脚医生”的成长看医学教育革命的方向》。
1977年底	“赤脚医生”数量为150多万名,全国85%的生产大队实行合作医疗。
20世纪80年代	全国实行合作医疗制度的行政村锐减至5%; 《国务院批准卫生部关于合理解决赤脚医生补助问题的问题》,明确界定为“他们同民办教师一样,是农村中的知识分子,技术人员,脑力劳动者”。
2004年1月	颁布《乡村医生从业管理条例》,规范乡村医生的从业行为,保护乡村医生的合法权益,保障农村居民获得初级卫生保健服务,促进农村卫生事业的发展,逐步建立适应新农合的医疗消费层次和水平的服务体系。

14. “赤脚医生”是农村社员对“半农半医”卫生员的亲切称呼。研究中国农村医疗体制的发展历程,从“赤脚医生”的身上我们可以看到

- ①以朴素实用的治疗模式,满足初级医护需要
 ②随着改革的逐步深入合作医疗制度宣告结束
 ③建立了完善的切合农民利益的合作医疗制度
 ④在中国卫生史乃至世界卫生史上具有创造性

- A. ①② B. ①④ C. ②③ D. ③④

15. 亚洲基础设施投资银行是一个政府间性质的亚洲区域多边开发机构。重点支持基础设施建设,是首个由中国倡议设立的多边金融机构,总部设在北京。截止到2021年10月,亚投行有104个成员国。亚投行的成立对世界经济发展的影响有

- ①促进区域建设互联互通化
 ②扩大人民币的国际影响力
 ③替换了国际贸易结算货币
 ④有利于调整国际收支平衡

- A. ①② B. ②③ C. ①④ D. ③④



第二部分

本部分共3题,共55分。

16. (29分)大约1万年前,农业出现,人类从食物采集者转变为食物生产者。相对稳定的食物供应促进了人口的增长,使人类有条件从事各种物质文化创造活动。

材料一



①



②



③



④



⑤

(1)对图片进行排序,依据图片中的信息说明理由。(6分)

研读数据,组织、调动相关知识与能力,提出观点并能加以解释,是中学生科学思维中的重要内容之一。

材料二

国家	农业机械化开始年份(年)	基本实现机械化年份(年)
美国	1910	1940
加拿大	1920	1950
法国	1930	1955
意大利	1930	1960
英国	1931	1948
日本	1946	1967
韩国	1976	1996

——数据来源:农业部农业机械化管理局、中国农业机械工业协会,《国内外农业机械化统计资料(1949-2004)》,中国农业科学技术出版社。

(2)依据上表内容,结合所学知识,设计三个思考题,并进行解答。(6分)

材料三

阶段	时间	田赋		工商税总额	
		数额(单位:元)	%	数额(单位:元)	%
第一阶段	1776	42,771,300	73	15,930,200	27
	1842	42,293,282	76	13,030,589	24
第二阶段	1885	49,829,423	48	53,405,201	52
	1890	51,999,675	44	66,323,100	56
第三阶段	1903	57,269,194	38	92,143,422	62
	1911	74,076,073	27	202,723,658	73

(3) 依据材料结合所学知识,对上表中三个阶段的中国税制结构加以说明。(9分)

材料四

1959年11月1日,历经六载建设的第一拖拉机制造厂落成典礼正式举行,新中国正式结束了不能自主生产拖拉机的历史,河南工业也随着“一拖”等10大项目的建成投产,正式走上新征程。从1966年到1978年期间,河南工业发展出现的亮点是地方“五小工业”和当时称之为“社队企业”的异军兴起。国家财政规定,在以后五年内(自1970年起)安排80亿元专项资金,由省、市、自治区掌握。“五小工业”的蓬勃发展,构成了中国中小企业建设的一大特色,为当今的本土制造业奠定了一定的基础。

“五小工业”是指小钢铁厂、小煤矿、小化肥厂、小水泥厂、小机械厂,具有投资少、见效快、能就地取材的特点。

——摘自唐朝金《河南工厂简史》

材料五

公社必须办工业,公社能够办工业。公社办工业不仅可以促进农业大上快上,加快实现农业现代化,而且有利于充分发挥人民公社“一大二公”的优越性,为逐步从三级所有制过渡到公社所有制创造条件,这对于逐步缩小三大差别,加强工农联盟,巩固无产阶级专政有着深远意义。




——人民日报社论《伟大的光明灿烂的希望》

(4) 依据材料结合所学知识,说出到20世纪70年代,新中国的农业机械化是怎样发展起来的?对“五小工业”应作出怎样的评价。(8分)

17. (16分)朝贡体系·条约体系

材料一

朝贡体系的雏形是古代中国的畿服制度,秦汉以后推广运用到处理与域外关系上,中原政权和其他诸国以“册封”关系为主。南北朝时期原有的体系崩溃,至隋唐时期,羁縻制度逐步取代册封制度。宋元时期整个朝贡体系再次陷入混乱之中,至1371年明太祖朱元璋规定把15国列为“不征诸夷”,写入《祖训》,并确定了“厚往薄来”的朝贡原则,由此朝贡体系成为东方世界通行的国际关系体制。1842年,中英签订《南京条约》,朝贡体系的基础遭到了不可挽回的动摇。



(1)依据材料结合所学知识,对朝贡体系给予点评。(10分)

材料二

根据一般原则:本人是处理自己事务的最佳裁断者,因而拥有发动战争之权力的人,乃是唯一拥有缔结和约之权力的人。由此推导,公战能够由各方主权者单独发动,在王权政制下这种权力理所当然属于君主。

——格劳秀斯《战争与和平法》(1625年)

所有罗马帝国的选侯、邦君和各邦,应根据本协议确定和确认享有他们自古以来的权利、特权、自由、优惠、自由行使领土权,不论是宗教的,还是政治的或是礼遇性的权利,因而他们永远不能,也不应受到任何人以任何借口进行的骚扰。

……参加协议的所有各方应有义务保卫和保护本合约的每一项条款不受任何人的侵犯,不论其信奉何宗教……

——《威斯特伐利亚和约》(1648年)

(2)综合以上两个文件,说出它们在近代国际法形成中的作用。(6分)

18. (10分) 共和制在中国的建立经历了曲折的过程。

1928年,南京国民政府颁布政府组织法。规定政府组织、权限及职能。

……

材料一

本党愿与各党各派及一切群众团体进行选举联盟,并在候选名单中确定共产党员只占三分之一,以便各党各派及无党无派人士均能参加边区民意机关之活动与边区行政之管理。在共产党员被选为某一行政机关之主管人员时,应保证该机关之职员有三分之二为党外人士充任,共产党员应与这些党外人士实行民主合作,不得一意孤行,把持包办。

——《陕甘宁边区施政纲领》(1941年)

材料二

中国国民党在国民大会未举行以前,为准备实施宪政起见,修改国民政府组织法……

(二) 国民政府委员由国民政府主席就中国国民党内外人士选任之。

(三) 国民政府委员会为政府之最高国务机关。

附注:

(一) 国民政府主席提请任各党派人士为国府委员时,由各党派自行提名,但主席不同意时,由各该党派另提人选。

(三) 国府委员名额之半,由国民党人员充任,其余半数,由其他各党派及社会贤达充任,其分配另行商定。

——《政协关于政府组织问题的协议》(1946年)

(1) 1941年陕甘宁边区施政纲领、1946年政协协议中对“政府组织”提出了哪些主张?(2分)

材料三

(一) 今年的五一劳动节,是中国人民走向全国胜利的日子。向中国人民的解放者中国人民解放军全体将士致敬! 庆祝各路人民解放军的伟大胜利!

……

(三) 今年的五一劳动节,是中国劳动人民和一切被压迫人民的觉悟空前成熟的日子。庆祝全解放区和全国工人阶级的团结! 庆祝全解放区和全国农民的土地改革工作的胜利和开展! 庆祝全国青年和全国知识分子争自由运动的前进!

(四) 全国劳动人民团结起来,联合全国知识分子、自由资产阶级、各民主党派、社会贤达和其他爱国分子,巩固与扩大反对帝国主义、反对封建主义、反对官僚资本主义的统一战线,为着打倒蒋介石,建立新中国而共同奋斗!

(五) 各民主党派、各人民团体、各社会贤达迅速召开政治协商会议,讨论并实现召集人民代表大会,成立民主联合政府!

……

——1948年《中国共产党中央委员会发布“五一”劳动节口号》

(2) 结合所学知识说出中国共产党为建立人民共和国作了哪些准备?(8分)

高二年级历史参考答案

2022. 1

1	2	3	4	5	6	7	8	9	10	11	12	13	14	15
B	B	D	D	C	A	A	D	B	D	C	C	D	B	A

16. (29 分)

(1) (6 分)

排序(1 分): ①②③⑤④

理由(5 分): ①古代埃及牛耕 ②中国唐朝曲辕犁 ③马拉收割机, 农机改进力度大, 动力仍为畜力 ④无人机技术在农业的应用(现代农业生产向自动化转变) ⑤农用机械动力来源应为蒸汽动力(或为内燃机)。

(2) (6 分)

示例一

解释类	选择一个国家为视角, 对其农业机械化进程进行研究。
对比类	选择其中的两个国家, 比较各国农业机械化开始和结束的时间, 分析产生差异的原因。
归纳类	从西方和亚洲不同国家农业机械化的进程中归纳共性, 得出认识。

示例二

第一层级	是什么: 具体时间、地点等。
第二层级	原因、影响、意义、评价类。
第三层级	对同一问题多角度提问; 有比较视角、有联系史实的视角、有全球视角、对中国农业发展的启示等。

(3) (9 分)

第一阶段: 田赋是国家财政收入的支柱; 工商税占比约四分之一。

说明: 自然经济占据绝对优势地位, 政府实行重农抑商政策, 财政主要依赖于农业, 商业贸易活动隶属于自然经济体制。

第二阶段: 田赋在国家财政收入中占比大幅下降, 在国家财政整体占比中, 工商税额开始超过田赋。

说明: 鸦片战争以来, 西方商品通过通商口岸大量进入中国, 中国农产品商品化程度提高; 洋务运动、民族资本主义的产生及初步发展, 中国自然经济不断解体。

第三阶段: 田赋在国家财政收入中占比持续大幅下降, 工商税额增加迅速, 成为税收的主要来源。

说明:20 世纪初列强加强对华的经济侵略,清政府允许列强在华投资建厂,列强对华商品输出、资本输出加剧;清政府放宽民间设厂限制、清末新政鼓励民间办厂,促进民族资本主义的发展;政局动荡、战祸频仍,农业生产受到沉重打击。

(4)(8 分)

“一五计划”的完成为我国的工业化奠定了初步基础;建设“四个现代化”的伟大目标、国家的顶层设计,推动了农业机械化的发展;农村的集体生产,“五小工业”的发展,有利于农业机械化的推广。

“五小工业”是根据当时中国农业发展的需要,结合各地特点,依靠地方力量,形成服务于地方农业的小而全的工业体系。“五小工业”符合我国当时的国情,有利于推进农业机械化的进程,改善了地方工业构成和布局,带动地方农业和其他相关领域发展,为日后农村经济体制改革和乡镇企业的发展,提供了经验和教训。

17. (16 分)

(1)(10 分)

朝贡体系是古代东亚地区规模最大、持续最久、具有较强连续性和最大影响力的体系。它以经济文化实力为后盾,以“协和万邦”的“天下观”为理念,逐步形成以中国为核心、以“礼”调整关系的等级体制;体系内部承担相应的权利和义务,保持其独立性;依托于朝贡而形成朝贡贸易,成为各国对华贸易的重要方式之一。

朝贡体系依托于农业社会并严格控制海外贸易;“天下观”长期主导着中国看待世界的眼光和视角;近代欧洲列强在其全球扩张过程中进抵东亚,传统的朝贡体系遭到前所未有的冲击并且终致崩溃。

(2)(6 分)

明确国际法的主体是主权国家,奠定了国际法的基础;确定了国际关系中的国家领土主权与独立等原则;开创召开国际会议解决争端,结束战争的先例;确立各缔约国有法必依、违法集体制裁的国际法基本原则等,推动近代国际法在 17 世纪形成。

18. (10 分)

(1)(2 分)

1941 年陕甘宁边区施政纲领主张按照“三三制”原则,与党外人士民主合作,巩固抗日民族统一战线。

1946 年政协协议通过在国府委员名额比例等方面的努力,反对国民党一党独裁。

(2)(8 分)

解放战争不断取得胜利,结束国民党政权在大陆的统治;联合各党派、各阶层的爱国人士,组成最广泛的民主统一战线,推动政治协商会议的召开;解放区进行土地改革及颁布实施相关经济政策和行政区建设,为政权建设奠定基础;毛泽东发表《论人民民主专政》,为共和国的成立奠定了理论基础;召开七届二中全会,制定革命胜利后党在各方面的基本政策。

北京高一高二高三期末试题下载

北京高考资讯整理了【2022年1月北京各区各年级期末试题&答案汇总】专题，及时更新最新试题及答案。

通过【北京高考资讯】公众号，对话框回复【期末】或者底部栏目<试题下载→期末试题>，进入汇总专题，查看并下载电子版试题及答案！

