

2023 北京怀柔高一（上）期末

历史

第一部分 选择题(每小题 1.5 分, 共 60 分)

在下列各题的四个选项中, 只有一项是符合题意的。

1. 考古研究发现, 在比良渚文化更晚的二里头、殷墟等许多夏商时代的遗址中, 也都发现了源自于良渚文化的玉琮等玉器。良渚式的玉琮和玉锥形器等还发现在四川广汉三星堆以及成都金沙等商周时代的遗址中。这主要反映出中华文明的特点是 ()

- A. 星罗棋布 B. 源远流长 C. 多元一体 D. 中原核心

2. 西周时边远地区得到开发, 打破了之前邦国林立的状态, 形成对周王室众星捧月般的政治格局, 促使这一局面出现的主要因素是推行了 ()

- A. 王位世袭制 B. 分封制 C. 内外服制 D. 宗法制

3. 有学者认为, 虽然百家争鸣中各学派发表自己的观点, 批评别人的看法, 但也吸收了其他学派的思想, 如荀子政治思想的最大特征是以礼容法, 兼言王霸。这说明 ()

- A. 春秋时期风气开放 B. 各派思想本质相同
C. 百家既争鸣又融合 D. 争鸣推动思想繁荣

4. 易中天在《帝国的终结》中说: “秦, 虽死犹存, 它亡的悲壮。”从政治上看, “秦, 虽死犹存”主要是指 ()

- A. 开创了专制主义中央集权制度 B. 嬴政自称始皇帝
C. 在中央建立三公九卿制度 D. 实行“焚书坑儒”

5. 东晋南朝时期, 南方土地大量开垦, 农作物品种增加, 产量提高; 纺织、陶瓷、造船等行业也有明显的进步。出现这一现象的主要原因是 ()

- A. 江南自然资源丰富 B. 大批水利工程的兴建
C. 北方人口大量南迁 D. 政府重视经济的发展

6. 隋唐开始的科举选官制度, 使一些本来无立锥之地的平民书生, 通过科场也得以晋身于官僚、贵族的行列, 这样一来, 在社会的等级阶层之间, 也就必然会出现等级中的升降、甚至贵贱间的对流。据此可知, 科举制 ()

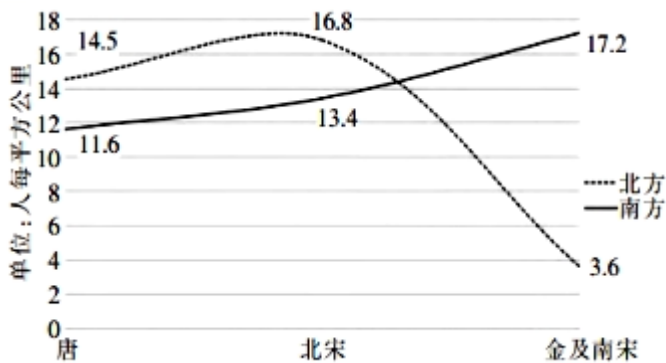
- A. 有利于提高官员文化素质 B. 有利于加强中央集权
C. 使社会的阶层流动性增强 D. 有利于社会公平公正

7. 唐朝时, 皇帝赋予门下省给事中的职掌包括“凡百司奏抄, 侍中审定, 则先读而署之, 以驳正违失”。这一做法 ()

- A. 推进了民主政治的建立 B. 提高了政府的行政效率
C. 加剧了君权与相权矛盾 D. 降低了决策 失误风险

8. 陕西西安出土的唐代何家村遗址中发现的钱币, 既有唐代流行的开元通宝, 又有日本元明天皇铸造的和同开环, 还有波斯的萨珊银币、东罗马金币等。这一发现可用于说明唐朝 ()

关注北京高考在线官方微信: [北京高考资讯\(微信号:bjgkzx\)](#), 获取更多试题资料及排名分析信息。




- A. 科学揭示了社会阶层的流动
B. 准确呈现了经济基础的变动
C. 客观上反映南方市场的扩大
D. 合理解读了北民南迁的原因
14. 《明会典》卷二《皇明祖训》：“自秦始置丞相，不旋踵而亡。汉、唐、宋因之，虽有贤相，然其间所用者，多有小人专权乱政。”明太祖朱元璋鉴于历史上“专权乱政”的教训，采取的措施是（ ）
A. 设立参知政事
B. 设立军机处
C. 设立内阁
D. 废除宰相
15. 郑和下西洋是世界历史上规模空前的远洋航行，2017年习近平主席在“一带一路”国际合作高峰论坛发表讲话，称“15世纪初的明代，中国著名航海家郑和七次远洋航海……之所以名垂青史，是因为它依靠的不是坚船和利炮，而是宝船和友谊。”这主要强调了郑和下西洋（ ）
A. 扩大了明朝对外交往的范围
B. 促进了中外之间友好交往
C. 保证了海上丝绸之路的畅通
D. 增加了明朝政府的财政收入
16. 清代从康熙帝开始，官员将奏折密封后可以直接呈给皇帝，皇帝朱批后发回，这样既快又保密。康熙时期只有百余名官员有密奏权，雍正扩展到1200余人。雍正要求在京大臣、各督抚总兵都要密奏，还特许一些低微官吏的密奏权。雍正帝做出这些改变的主要目的是
A. 提升官员才干处理繁多的政务
B. 皇帝加强对官僚队伍的控制
C. 配合军机处行使中枢机构职能
D. 调动地方各级官员的积极性
17. 明清时期，在江南、华南的一些地区，经济作物的种植面积扩大，传统的粮食生产比重降低。这一现象表明，明清时期上述地区
A. 农业生产出现衰退
B. 人口变动导致粮食需求减少
C. 普通农户收益锐减
D. 农产品商品化趋势明显
18. 陈旭麓在《近代中国社会的新陈代谢》一书中指出：“这场战争是一块界碑。它铭刻了中世纪古老的社会在炮口逼迫下走入近代的最初一步。”这里的“这场战争”是指
A. 虎门销烟
B. 第二次鸦片战争
C. 鸦片战争
D. 甲午中日战争
19. 鸦片战争后，徐继畲说，欧洲人“情性缜密，善于远思，长于制器，金木之工，精巧不可思议，用水火，尤为奇妙”。姚莹夸赞英国“纺织器具俱用水轮火轮，亦或用马，毋须人力”。这反映了时部分知识分子（ ）
A. 对中国面临困局的反思
B. 迎合西方列强侵略要求
C. 主张实行中体两用思想
D. 得到统治者的坚定支持
20. 中国历史上某次农民起义颁布了《天朝田亩制度》和《资政新篇》，沉重打击了清王朝的统治。这一农

民起义是

- A. 白莲教起义 B. 天理教起义 C. 太平天国运动 D. 义和团运动

21. 下图为一幅近代著名时事漫画，名为《时局图》漫画作者的目的在于



- A. 宣传了“师夷长技以制夷” B. 揭露帝国主义侵略，唤起民族觉醒
C. 进行托古改制，维新变法 D. 号召民众进行资产阶级的民主革命

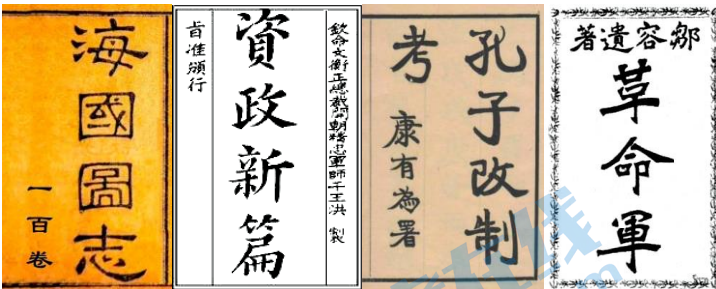
22. 有首上海的旧民谣，讲述了清朝 260 多年的大事，其中与戊戌政变有关的句子是（ ）

- A. 吴三桂要去借清兵，顺治帝登基享现成
B. 林则徐严禁吸洋烟，忠心报国无人识
C. 曾国藩团练起湘乡，淮军还有李鸿章
D. 好头颅六个凭空送，菜市街夜夜叫冤魂

23. 老舍在《我的母亲》中写道：“父亲死在庚子闹拳的那一年，联军入城……母亲拉着哥哥与三姐坐在墙根，等着‘鬼子’进门。”这里的“鬼子”是指


- A. 英国军队 B. 英法联军 C. 八国联军 D. 日本军队

24. 下面是某历史学习兴趣小组搜集的关于中国近代的文献。据此可知，该兴趣小组研究的主题可能是（ ）



- A. 天朝上国的彻底崩溃 B. 新兴力量的日益崛起
C. 政治民主的积极尝试 D. 救亡图存的探索之路

25. 一种名为“人造自来血”的补药曾在近代中国流行。左图和右图是 1911 年 10 月和 11 月刊登在《申报》上的广告。这两则广告的变化折射出



- ①革命党人把广告当作发动武昌起义的宣传工具
- ②民国成立后商人积极投身中国政治变革的浪潮
- ③商人利用时局巨变及时调整营销策略
- ④民主共和已成为中国社会的发展趋势

A. ①② B. ②③ C. ③④ D. ①④

26. 1915年，陈独秀在上海创办《青年杂志》。该杂志作为史料可以直接用于研究

- A. 百日维新
- B. 黄花岗起义
- C. 北伐战争
- D. 新文化运动

27. 某校爱国主义教育专栏展示了大量图文资料,其中一组如右图,它反映 历史事件是



A. 戊戌变法 B. 辛亥革命 C. 五四运动 D. 国民革命

28. 下图为浙江嘉兴南湖红船，“红船精神”在这里孕育。与此直接有关的历史事件是（ ）

	<p style="text-align: center;">红船精神</p> <p>开天辟地、敢为人先的首创精神 坚定理想信念、百折不挠的奋斗精神 立党为公、忠诚为民的奉献精神</p>
--	--

浙江嘉兴南湖红船（复制品）

- A. 中国共产党诞生
- B. 井冈山革命根据地建立
- C. 抗日战争
- D. 解放战争

29. 1927年，毛泽东领导湘赣边秋收起义，创建了中国第一个农村革命根据地，点燃了“工农武装割据”星星之火。他创建的是

- A. 井冈山革命根据地
B. 中央革命根据地
C. 陕甘宁革命根据地
D. 川陕革命根据地

30. 在中国共产党的历史上有许多重要的会议，其中标志着中国共产党从幼稚走向成熟的是

- A. 中共一大
B. 八七会议
C. 中共七大
D. 遵义会议

31. 勿忘国耻，居安思危。每年9月18日全国许多城市都会响起防空警报声，以铭记九一八事变。该“事变”标志着（ ）

- A. 日本称霸亚洲野心的得逞
B. 国共合作抗日的实现
C. 抗日战争相持阶段的到来
D. 中国局部抗战的开始

32. 《古城新情调》一文写道：解放就是光明的到来，解放亦是生活的向上，王府百货店挂起了庆祝和平解放的大标语。文中情景发生于（ ）

- A. 淮海战役胜利后
B. 辽沈战役胜利后
C. 渡江战役胜利后
D. 平津战役胜利后

33. 人民解放军第30军文工团团团长胡士平，曾给家中父母兄弟写下了多封战地家书。下面是他在某次战斗期间写的一封家书中的几句话。据此判断，与这封家书写作相关的历史事件是（ ）

“这鱼就是长江的鱼吧”

“如果明天再吃鱼的话，那是在大江以南去了”

“我们一定坚决打过去，把江南的兄弟都解放”

“在太阳刚露红的时候，我们安全的(地)到达了南岸。江南的大地苏醒了。现在我住在渡口的第一个村庄上”

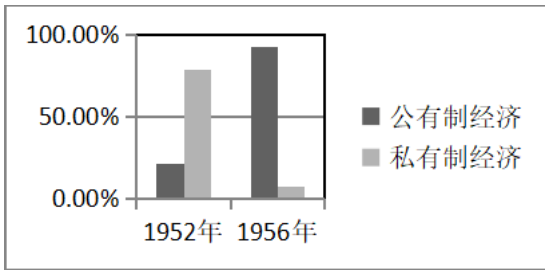
- A. 全面内战的爆发
B. 三大战役
C. 千里跃进大别山
D. 渡江战役

34. 下图是1955年周恩来在万隆会议上发言时的场景。在这次会议上，周恩来鲜明地提出了（ ）



- A. “求同存异”的方针
B. 和平共处五项原则
C. “打扫干净屋子再请客”
D. 开展以联合国为中心的多边外交

35. 如图为1952-1956年我国经济成分比重变化统计数据，对其解读正确的是（ ）



- A. 实现了社会主义的工业现代化
- B. 完成新民主主义革命遗留任务
- C. 标志社会主义经济制度初步确立
- D. 开始改变我国工业基础落后面貌

36. 下图为1973年画家赵志田创作的中国画《大庆工人无冬天》，作者的主要意图是



- A. 展现古典主义绘画艺术
- B. 强调国家发展战略重要
- C. 突出反映时代精神风貌
- D. 宣传国家工业生产成就

37. 改革开放对于现代中国的发展，犹如一次“壮丽的日出”。开启这一伟大历史转折的重要会议是

- A. 中共八大
- B. 中共十一届三中全会
- C. 中共十二大
- D. 中共十四届三中全会

38. 票证是某一历史时期经济发展的见证与缩影。图一的取消以及后来图二的出现，在一定程度上反映了我国新时期



图一粮票



图二股票

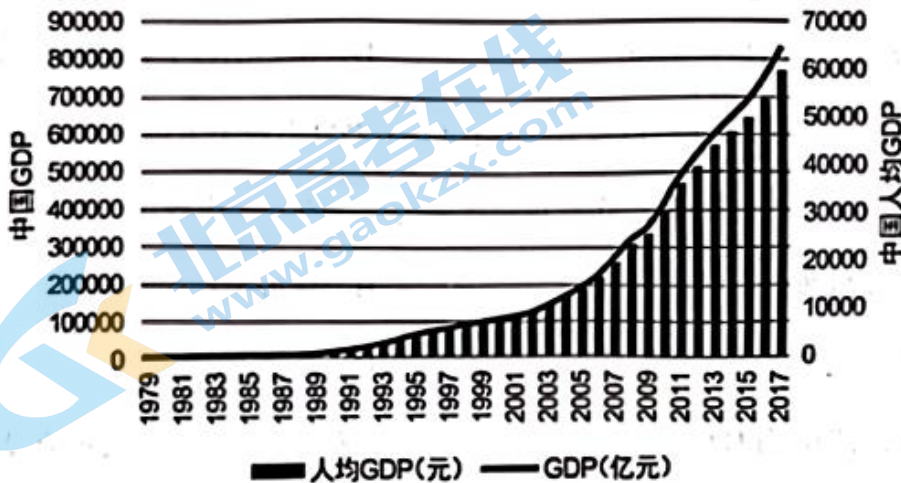
- A. 经济体制改革由农村向城市发展
- B. 分配方式由国家分配向按劳分配转变
- C. 经济形态由农业国变成了工业国
- D. 经济体制由计划经济向市场经济转变

39. 某学生在开展研究性学习过程中收集了一系列图片资料。并把它们归入不同的主题。下图最适合归入的主题是 ()



- A. “一国两制”的成功运用
B. 殖民地的血泪史
C. 香港的经济腾飞
D. 中英外交关系破裂

40. 下图为 1979—2017 年我国 GDP 与人均 GDP 规模变化情况。这一变化主要是由于中国（ ）



- A. 顺应了和平与发展的时代主题
B. 市场经济体制有利于经济稳定
C. 践行了人类命运共同体的理念
D. 改革开放的不断发展

第二部分 非选择题(共 40 分)

41. 自古以来,我国就是一个多民族共存、共同发展的国家。阅读材料,回答问题。

材料一 西周时期,判断一个人究竟是“中国”人还是蛮、夷、戎、狄,是以是否接受了或保持着“礼”作为标准,存在着“中国”敌视蛮、夷、戎、狄的现象。到了春秋时期,随着农田不断被开发,农业生产不断发展,蛮、夷、戎、狄越来越愿意接受“中国”文化的影响,出现主动向“华夏”靠近的趋势,最终在战国时期成为华夏族的一部分。

——摘编自王珂《从“天下”国家到民族国家:历史中国的认知与实践》、

(1) 根据材料一,概括西周至战国时期民族关系的变化。

材料二通过孝文帝改革,北魏“国家殷富,库藏盈溢,钱绢露积于廊者,不可较数”。改革使南北之间的均势逐渐被打破,形成北强南弱的局面,而北方民族大交融的实现,又大大淡化了南北对立的民族矛盾,这就为隋文帝结束隔江对峙奠定了基石。

——摘编自卜宪群《简明中国历史读本》

(2) 根据材料二并结合所学,分析北魏孝文帝改革的意义。

42. 中国古代的经济。阅读材料,回答问题。

材料一 宋代除了当时最著名的都城汴京,成都、建康、镇江及扬州等地成为名噪一时的著名商业

城市。据统计，唐代 10 万户的城市仅 11 个，北宋则多达 40 个。宋代城市坊市的格局已经打破，不再像唐代那样商业区和居民区严格分开，城市经营时间也大大放开。随着商品经济的发展，“交子”成为商品流通中的主要货币形式。宋代海外贸易空前繁盛，不仅超越前朝而且也为后世所不及。

——摘编自任崇岳主编《中国社会通史·宋元卷》

(1) 根据材料一，概括宋代“商业革命”的表现。

材料二方志是指记述地方情况的史志，是研究历史及历史地理的重要资料。

方志中最早出现辣椒的时间及对辣椒的称呼

省份	县志名称	时间	对辣椒的称呼
广东	《广东新语》	1680 年	番椒
湖南	《邵阳县志》	1684 年	番椒、海椒
山东	《山东通志》	1735 年	番椒
贵州	《思州府志》	1722 年	海椒
云南	《云南通志》	1736 年	海椒
四川	《大邑县志》	1749 年	海椒

(2) 根据材料二，在答题卡的地图上绘制辣椒在中国传播的路径。



中国地图

43. 为了拯救民族危亡，中国人民奋起反抗，仁人志士奔走呐喊，进行了可歌可泣的斗争。阅读材料，回答问题。

材料一 洋务运动以“中学为体，西学为用”思想为指导，虽有较强的保守性，但开始引进西方先进的生产技术和科学文化，并模仿资本主义的教育模式和生产模式开办新式学校和企业，说明洋务运动时期的中国社会已经开始了中国现代化涵义中的民族化和工业化搏动。但是，洋务运动只是单纯而有限地引

进一些先进科学技术和设备，在传统的封建社会结构中开办新式企业，且吏治腐败，效率低下，并非改变封建制度。因此，洋务运动是一种局部的、初步的和畸形的早期现代化运动，其求富举措尚有可嘉，其自强之道实属可训；其失败结局令人可悲。

——摘编自张海鹏主编《中国近代通史》

(1) 根据材料一并结合所学，评价洋务运动。

材料二 1889年，康有为率先提出建立“新中国”。梁启超1902年发表《新中国未来记》，他设想的“新中国”，曰“大中华民国”，第一任总统为光绪皇帝。“新中国”采用立宪政体，前期为君主立宪国，到光绪让权时转为民主共和国，“非到万不得已之时，必不轻用急激剧烈手段”。1903年，邹容在《革命军》一书中，将革命成功后建立的新国家定名为“中华共和国”，并提出了一系列具体政治纲领。

——摘编自王玉玲《清末民初“新中国”一词的概念内涵与话语演进》等

(2) 根据材料二，梁启超和邹容对“新中国”的设想有何不同？20世纪初，建立“新中国”的愿望反映出当时怎样的社会现实？

44. 1949年以来，怀柔发生了翻天覆地的变化。阅读材料，回答问题。

材料一某校历史小组搜集了一些研究怀柔历史的史料，史料如下所示：



①1949年发放的土地执照

姓名	籍贯	生前职务、历史事迹	姓名	牺牲年月	牺牲地点
李德全	北京平谷	中国人民志愿军	孙志	1950	朝鲜
李德全	北京平谷	中国人民志愿军	孙志	1950	朝鲜
李德全	北京平谷	中国人民志愿军	孙志	1950	朝鲜
李德全	北京平谷	中国人民志愿军	孙志	1950	朝鲜
李德全	北京平谷	中国人民志愿军	孙志	1950	朝鲜
李德全	北京平谷	中国人民志愿军	孙志	1950	朝鲜
李德全	北京平谷	中国人民志愿军	孙志	1950	朝鲜
李德全	北京平谷	中国人民志愿军	孙志	1950	朝鲜
李德全	北京平谷	中国人民志愿军	孙志	1950	朝鲜
李德全	北京平谷	中国人民志愿军	孙志	1950	朝鲜

②根据《怀柔县志》整理的部分抗美援朝烈士名单



③1958年周恩来总理视察怀柔水库建设工地



④20世纪60、70年代沙峪小学露天上课



⑤1981、1983年的果木包干到户承包到户

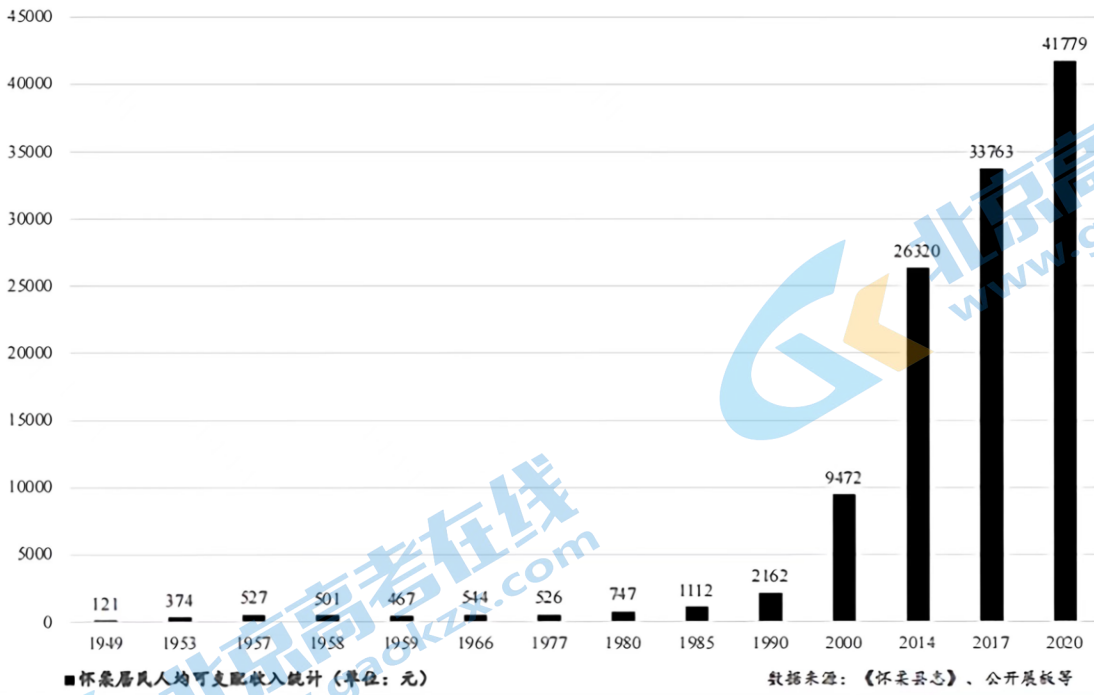
为了迎接1995年的第四届世界妇女大会非政府组织论坛，怀柔人民在150天的时间里改造了36家宾馆，准备了8个商品住宅公寓小区，确定133家餐馆为“世妇会”定点餐厅，改造了怀柔国际会议中心、怀柔一中万人活动会场，提供了各种会议室150多个，大小帐篷280多个。用110天修建了5公里长的红螺路，用95天新建了长途汽车站，完成了县城10万平方的停车场。

⑥根据《怀柔文史资料》整理的“世妇会”资料

(1) 按史料的类型将材料一的六则史料进行分类。

要求：写出史料类型，并在其后标明此类史料的序号。

材料二 怀柔居民人均可支配收入统计表



(2) 根据材料二并结合所学, 解读怀柔居民人均可支配收入的变化。

参考答案

第一部分 选择题(每小题 1.5 分, 共 60 分)

在下列各题的四个选项中, 只有一项是符合题意的。

1. 【答案】C

【解析】

【详解】根据“考古研究发现, 在比良渚文化更晚的二里头、殷墟等许多夏商时代的遗址中, 也都发现了源自于良渚文化的玉琮等玉器。……”可得出, 不同地区出现的文明成果有相似之处, 反映出中华文明的特点是多元一体, C 项正确; 材料没有强调其分布的特点, 也没有体现其历史悠久, 排除 AB 项; 材料主旨与中原核心无关, 排除 D 项。故选 C 项。

2. 【答案】B

【解析】

【详解】根据材料及所学可知, 西周实行分封制, 拓展了疆域, 形成了周天子-诸侯-卿大夫-士金字塔的贵族等级结构, 形成了天下共主的局面, B 项正确; 夏朝创立王位世袭制, 排除 A 项; 商朝创立内外服制, 排除 C 项; 西周的宗法制强调血缘关系与政治的结合, 排除 D 项。故选 B 项。

3. 【答案】C

【解析】

【详解】根据“虽然百家争鸣中各学派发表自己的观点, 批评别人的看法, 但也吸收了其他学派的思想”可知百家争鸣中, 各家学派既相互批判, 但同时又相互借鉴吸收, 说明百家既争鸣又融合, C 项正确; 风气开放和本质相同的说法无从体现, 排除 AB 项; 材料反映的不仅仅只有争鸣, 排除 D 项。故选 C 项。

4. 【答案】A

【解析】

【详解】“秦, 虽死犹存”主要是指秦对中国古代政治的贡献, 不仅统一了中国, 而且建立了一套专制主义中央集权制度, 对后世影响深远, 因此 A 项正确; BC 项属于具体的措施之一, 不是最佳选项, 排除 BC 项; “焚书坑儒”指秦始皇在公元前 213 年和公元前 212 年焚毁书籍、坑杀“犯禁者四百六十余人”, 是加强思想专制的措施, 并非秦朝采取的影响深远的政治措施, 排除 D 项。故选 A 项。

5. 【答案】C

【解析】

【详解】根据材料可知, 东晋南朝时期, 江南地区的农业和手工业明显发展, 结合所学可知, 这主要是由于北方动乱, 北方人口大量南迁, 带去了先进的技术和大量劳动力, C 项正确; ABD 三项都是出现材料中现象的原因, 但不是主要原因, 排除 ABD 项。故选 C 项。

6. 【答案】C

【解析】

【详解】结合所学知识可知, 科举制度的实行, 使平民通过读书、考试得以晋身于官僚、贵族行列, 推动社会等级阶层间的升降“甚至贵贱间的对流”等, 反映出科举制使社会的阶层流动性增强, C 项正确; 材

料并未强调科举制对官员文化素质的影响，排除 A 项；科举制有利于加强中央集权在材料中并未体现，排除 B 项；有利于社会公平公正与材料主旨不符，排除 D 项。故选 C 项。

7. 【答案】D

【解析】

【详解】唐朝实行三省六部制，门下省负责审核政令，“先读而署之，以驳正违失”有利于决策的合理性和科学性，降低了决策的失误风险，D 项正确；唐朝实行三省六部制，根本目的是加强君主专制，排除 A 项；三省分工明确，各司其职，提高了政府的行政效率，不符合题意，排除 B 项；材料这一做法降低了决策的失误风险，无法体现加剧了君权与相权矛盾，排除 C 项。故选 D 项。

8. 【答案】D

【解析】

【详解】根据材料“既有唐代流行的开元通宝，又有日本元明天皇铸造的和同开环，还有波斯的萨珊银币、东罗马金币等”，结合所学知识可知唐朝何家村遗址出土了日本、波斯、东罗马的货币，这说明唐朝与东亚、西亚、欧洲的经济交往活跃，D 项正确；这些外国货币不属于唐朝的货币体系，排除 A 项；材料反映的国家间的交往，不属于民族交融范畴，排除 B 项；市镇经济兴起于明清，排除 C 项。故选 D 项。

9. 【答案】D

【解析】

【详解】材料信息“本朝鉴五代藩镇之弊，遂尽夺藩镇之权，兵也收了，财也收了，赏罚刑政，一切收了，州郡遂日就困弱。靖康之祸，虏骑所过，莫不溃散”说明北宋加强中央集权导致地方困弱，面对金军侵扰无力还击。因此作者认为北宋制度设计导致地方贫弱无力对抗边患，故 D 正确；加强中央集权不是材料的主旨，故 A 错误；材料和政府机构的行政效率无关，故 B 错误；C 项错在“根本”，说法过于绝对。

10. 【答案】A

【解析】

【详解】根据材料可知，对于王安石变法，不同的学者站在不同的研究角度对其作出了不同的评价，这反映出历史研究的角度影响历史评价，A 项正确；“无法形成统一结论”的说法错误，排除 B 项；材料与学者素养无关，排除 C 项；历史解释需要有严谨的论证过程，排除 D 项。故选 A 项。

11. 【答案】B

【解析】

【详解】根据材料“儒家经典书籍经由榷场流入辽国，迁移默化地改变着辽国人的阅读习惯和思维方式”，可以得出汉族的文化对辽国产生了很大影响，可见榷场的设置促进了民族间的文化交流，B 项正确；榷场不可能主要服务于辽国文化需求，也不会结束了宋辽的敌对状态，排除 A 项；材料中没有体现民族平等的原则，排除 C 项；材料中没有体现中原文化的优越，排除 D 项。故选 B 项。

12. 【答案】D

【解析】

【详解】宋代政府除了办理法律手续、收取交易税，不再干预土地买卖和典当等活动，表明封建国家对社会控制相对松弛，D 项正确；材料不能说明宋代门第观念淡化，排除 A 项；社会成员身份趋于平等与政府

放宽经济控制不符，排除 B 项；材料并未体现科举制南北分卷的做法对社会的影响，排除 C 项。故选 D 项。

13. 【答案】C

【解析】

【详解】阅读材料图表可知，自北宋以来北方人口密度连续下降，南方人口密度持续上升，发展到金及南宋时期，北方人口密度只有 3.6，说明北方人口在这一时期急剧减少，而南方人口密度已经高达 17.2，说明南方人口数量持续上涨，已经超过北方人口 4 倍多，导致出现这一现象的原因是：北方长期战乱，南方相对安定，为南方经济发展提供了有利的社会环境。北方大量劳动人民为了躲避战乱而南迁，充实了南方的劳动力，并且带去先进的工具和技术，加快了南方的开发，促进南方经济发展。综上可知，南方人口数量增多，客观上反映南方市场的扩大，C 项正确；材料图表未涉及“社会阶层流动”，排除 A 项；自唐代至金及南宋时期，经济基础一直是封建小农经济，B 项表述出现史实错误，排除 B 项；北民南迁指的是北方少数民族迁往中原地区，而不是南方，排除 D 项。故选 C 项。

14. 【答案】D

【解析】

【详解】根据所学可知，明太祖朱元璋鉴于历史上丞相“专权乱政”的教训，废除宰相，皇帝直统六部，加强了皇权，D 项正确；北宋设立参知政事，分割丞相的行政权，排除 A 项；清朝雍正皇帝设立军机处，明成祖设立内阁，排除 BC 项。故选 D 项。

15. 【答案】B

【解析】

【详解】依据题干史料“因为它依靠的不是坚船和利炮，而是宝船和友谊”可知，习近平主席强调了郑和下西洋促进了中外之间的友好交往，是和平交往的表现，B 项正确；AC 项不符合“是宝船和友谊”，排除 AC 项；郑和下西洋目的主要是宣扬国威，给明朝带来较大的财政负担，排除 D 项。故选 B 项。

16. 【答案】B

【解析】

【详解】根据材料可知，材料指的是清朝的密折制度，群臣可以直言进谏，使大臣们相互牵制，加强了皇权，同时实现了及时的下情上达，B 项正确；材料中的变化不会起到提升官员才干的作用，排除 A 项；雍正帝做出这些改变的主要目的是加强对官僚队伍的控制，与配合军机处行使中枢机构职能无关，排除 C 项；D 项不属于雍正帝做出这些改变的主要目的，排除 D 项。故选 B 项。

17. 【答案】D

【解析】

【详解】材料信息“经济作物的种植面积扩大，传统的粮食生产比重降低”说明农业和市场联系加强，这体现了农产品商品化程度的提高，故 D 正确；“传统粮食生产比重降低”不能说明农业生产出现衰退，故 A 错误；明清时期，人口大大增长，粮食需求应该加大，故 B 错误；经济作物的广泛种植会带来农业收益的增加，故 C 错误。

【考点定位】中国古代农业••古代农业的发展••明清农业

点睛：明清社会转型是新高考的热点问题，本题考查到了历史解释的核心素养。明清社会经济的转型表现有：赋税制度的调整、农产品商品化程度提高、高产农作物引进、租佃制盛行、人口增长、资本主义萌芽产生、商帮和长途贩运贸易兴盛、江南工商业市镇兴起、白银成为普遍流通的货币、朝贡贸易、海禁和闭关锁国政策等。

18. 【答案】C

【解析】

【分析】

【详解】结合所学可知，鸦片战争使中国由独立自主的封建社会变为半殖民地半封建社会，由闭关锁国变为被迫对外开放，开启了中国近代史，改变了中国历史发展进程，这与材料对于中国来说，这场战争是一块界碑，它铭刻了中世纪古老的社会在炮口逼迫下走入近代的最初一步相吻合，故选C项；虎门销烟是鸦片战争的直接原因，排除A项；第二次鸦片战争使中国半殖民地半封建社会程度进一步加深，排除B项；甲午中日战争使中国半殖民地半封建社会程度大大加深，排除D项。故选C项。

【点睛】

19. 【答案】A

【解析】

【详解】根据材料及所学知识可知，鸦片战争后，徐继畲、姚莹等当时的先进知识分子发展了林则徐向西方学习的思想，提出学习西方先进技术的主张，这说明他们在反思当时中国面临的困局，积极寻求中国出路，A项正确；他们是探寻救国之路，而非迎合西方侵略，排除B项；徐继、姚莹等是当时“开眼看世界”的代表，他们的主张与中体西用思想不同，排除C项；他们的主张也没有得到统治者的坚定支持，排除D项。故选A项。

20. 【答案】C

【解析】

【分析】

【详解】1851年，洪秀全在广西桂平金田村发动起义，建号太平天国，起义军为“太平军”。不久，洪秀全称“天王”。攻克永安后，洪秀全封杨秀清为东王，萧朝贵为西王，冯云山为南王，韦昌辉为北王，石达开为翼王，所封诸王均受东王节制。太平天国初步建立起政权组织。太平天国定都天京后，1853年冬，为巩固政权，太平天国制定并颁布了建国纲领《天朝田亩制度》。洪仁玕写成《资政新篇》，提出向西方学习、改革内政等一系列政治、经济、文化、外交主张，得到洪秀全的赞赏。但由于受当时历史条件的限制，《资政新篇》未能付诸实践。太平天国起义是中国历史上规模最宏大的一次农民战争。它坚持斗争14年转战大半个中国，沉重打击了清朝的统治和外国侵略势力，谱写了中国近代史上壮丽的一章，C项正确；白莲教起义与“《天朝田亩制度》和《资政新篇》”无关，排除A项；天理教起义没有颁布“《天朝田亩制度》和《资政新篇》”，排除B项；义和团运动没有“沉重打击了清王朝的统治”，排除D项。故选C项。

【点睛】

21. 【答案】B

【解析】

【详解】由漫画信息和所学知识可知,《时局图》揭露了19世纪末帝国主义瓜分中国的阴谋,其目的是为了唤起民族觉醒,故B正确;鸦片战争后,魏源的《海国图志》宣传了“师夷长技以制夷”,故A错误;漫画和托古改制无关,故C错误;漫画不能反映出号召民众进行资产阶级的民主革命,故D错误。

22. 【答案】D

【解析】

【详解】“好头颅六个凭空送,菜市街夜夜叫冤魂”指的是戊戌政变被镇压时在菜市口慷慨就义的“戊戌六君子”,D项正确;A项是指清军入关,B项是鸦片战争时期林则徐禁烟,C项是镇压太平天国运动时期汉族地主势力提升,排除ABC项。故选D项。

23. 【答案】C

【解析】

【详解】根据所学知识可知,“庚子闹拳”指1900年庚子年义和团反帝爱国运动,故题干中“联军”“鬼子”指八国联军,C项正确;英国军队主要出现是在第一次鸦片战争时期,排除A项;英法联军主要出现在第二次鸦片战争,排除B项;日本军队主要出现在甲午中日战争,排除D项。故选C项。

24. 【答案】D

【解析】

【详解】根据所学知识《海国图志》是清末魏源所著的书籍,在书中提出了“师夷长技以制夷”的思想;《资政新篇》是太平天国后期颁布的施政纲领,提出了新的社会经济政策,试图回答农民革命应当向何处去的问题;《孔子改制考》是由维新派康有为撰写,为变法维新提供了理论依据;《革命军》是青年革命家邹容所著,在书中宣传革命,成为引导仁人志士走上革命道路的明灯;综合四部文献的内容,可知这四部文献都是不同阶级的人探求救亡图存道路的著作,D项正确;四部文献是对救亡图存道路的探索,不能直接说明天朝上国彻底崩溃,排除A项;《海国图志》和《资政新篇》不是新兴力量的著作,排除B项;《海国图志》与政治民主无关,排除C项。故选D项。

25. 【答案】C

【解析】

【详解】试题分析:①错误,因为武昌起义的时间是1911年10月10日,也就是11月起义已经结束,排除A项和D项;②项不选,通过图片中的广告只能看出时局变动,但不能说明商人投入政治变革中,排除A项和B项;③正确,武昌起义后,清政府土崩瓦解,民主共和成为历史的趋势,商人抓住这个变局将广告由“本世纪的贫血症之良药”改为了“专制与共和之过渡”,所以③④正确,故本题答案选C项。

考点:近代中国民主革命·辛亥革命·影响

【名师点睛】本题是图片类历史选择题,解读此类题目时要最大要从图片(包括图片的标题、内容、出处)最大程度获取有效信息,将所得信息融入课本相关知识,并综合题干的要求分析判断选项,从而得出正确答案。如本题要将广告中的广告词和辛亥革命等知识结合起来,才能大胆地排除掉①革命党人把广告当作发动武昌起义的宣传工具。

26. 【答案】D

【解析】

【详解】根据所学可知，1915年，陈独秀创办《青年杂志》并发表《敬告青年》一文，标志着新文化运动的开始。故答案为D项。ABC项，根据所学可知，百日维新是1898年，黄花岗起义是1910年，北伐战争是1926-1927年，此三项都与题干中的时间不符，排除。

【点睛】知识型选择题的题干与备选项基本上是重复教材的文字表述，但备选项的迷惑性、干扰性较大，如果基础知识掌握不牢，可能会被干扰所迷惑而选错。解答此类选择题的关键是扎扎实实地掌握教材的基础知识。

27. 【答案】C

【解析】

【详解】根据图片涉及“还我青岛”，可知是五四运动，巴黎和会外交失败，规定把德国在山东的各种特权全部让给日本，这成为五四运动爆发的一个原因，C项正确；戊戌变法不涉及青岛，A项错误；辛亥革命没有关于青岛的内容，B项错误；国民革命没有涉及青岛问题，D项错误。

28. 【答案】A

【解析】

【分析】

【详解】根据材料“浙江嘉兴南湖红船”、“红船精神”等相关信息可得，这应该是1921年中共一大召开的地点，标志着中国共产党的诞生，A项正确；1927年井冈山革命根据地建立，抵抗国民党的反动统治，不符合题意，排除B项；1937年日本全面侵华，中国人民全面抗战，不符合题意，排除C项；解放战争是在1946年中共与国民党之间的战争，不符合题意，排除D项。故选A项。

点睛】

29. 【答案】A

【解析】

【详解】结合所学知识可知，毛泽东在秋收起义失败后，转入井冈山建立第一个农村革命根据地，故选A。BCD均不符合材料中“第一个农村革命根据地”的限定条件，排除。

30. 【答案】D

【解析】

【详解】结合所学可知，遵义会议上，中共第一次独立自主地运用马克思主义原理来解决自己的路线、方针和政策问题，这标志着中共从幼稚走向了成熟，故选D；中共一大是中共诞生的标志，A项不符合题意，排除；八七会议上中共仍没有脱离共产国际的指示，其还未走向成熟，排除B；中共七大召开于1945年，中共早已成熟，排除C。

31. 【答案】D

【解析】

【详解】1931年，日本发动了侵略中国东北的九一八事变，九一八事变是中国局部抗战开始的标志，D项正确；九一八事变是日本发动的侵略中国东北的事变，日本称霸亚洲野心还没有得逞，排除A项；1937年国共开始合作抗日，排除B项；1938年武汉会战结束，抗日战争相持阶段到来，排除C项。故选D

项。

32. 【答案】D

【解析】

【详解】试题分析：本题考查学生对所学知识的掌握能力。首先我们明确这是解放战争中的一幕，关键就是解决是哪场战役。突破口就是王府百货，王府百货就是现在的王府井大街，因此确定是平津战役，本题选择 D 选项。

【考点定位】中国人民解放战争·解放战争的胜利·“三大战役”

33. 【答案】D

【解析】

【详解】根据“我们一定坚决打过去，把江南的兄弟都解放”，结合所学可知，1949 年 4 月 21 日渡江战役爆发，迅速突破长江防线，4 月 23 日，人民解放军占领了国民党统治中心南京，D 项正确；1946 年国民党进攻中原解放区，全面内战的爆发，不符合题意，排除 A 项；三大战役指辽沈、淮海、平津战役，与题意无关，排除 B 项；1947 年，刘邓大军千里跃进大别山，解开了战略反攻的序幕，不符合题意，排除 C 项。故选 D 项。

34. 【答案】A

【解析】

【详解】结合所学知识可知，1955 年在亚非万隆会议上，面对会议的分歧，周恩来总理掷地有声的提出了“求同存异”方针，赢得了与会国的支持，因此 A 正确；BC 与材料无关，排除；D 是改革开放新时期外交的表现，排除。故选 A。

35. 【答案】C

【解析】

【详解】从柱状图中可以得到公有制经济到 1956 年占我国经济成分比重大幅增加，并占到 50%以上，私有经济所占比例大幅下降，结合所学知识，1956 年底，三大改造完成，社会主义制度在我国初步确立，C 项正确；材料体现不出工业现代化，并且，1957 年，“一五计划”的完成，为我国的工业化建设奠定了基础，排除 A 项；完成新民主主义革命遗留任务与材料无关，排除 B 项；开始改变我国工业基础落后面貌是“一五计划”的完成，排除 D 项。故选 C 项。

36. 【答案】C

【解析】

【详解】由所学知识可知，一定时期的文化是一定时期政治经济的反映，画作体现了 20 世纪七十年代中国人民建设社会主义的高度热情以及艰苦奋斗的奉献精神，反映了当时的精神风貌，C 项正确；图示中国画不符合古典主义绘画艺术的特征，排除 A 项；图示画作无法体现国家发展战略，排除 B 项；图示画作是体现人民建设社会主义的高度热情以及艰苦奋斗的奉献精神，并不是为了宣传国家工业生产成就，排除 D 项。故选 C 项。

37. 【答案】B

【解析】

【详解】改革开放使得中国的建设取得了举世瞩目的成就，开启这一举措的重要会议是十一届三中全会，这次会议彻底否定了“两个凡是”的方针，重新确立解放思想、实事求是的思想路线；停止使用“以阶级斗争为纲”的口号，作出把党和国家的工作重心转移到经济建设上来，实行改革开放的伟大决策，故选 B；ACD 均与题意不符，故排除。

38. 【答案】D

【解析】

【详解】粮票是我国计划经济时代的特殊产物，而股票是市场经济的产物，粮票的消失和股票的出现说明我国经济体制正发生变化，即经济体制由计划经济向市场经济转型，D 正确；经济体制改革由农村向城市发展是 1984 年城市经济体制改革的开展，A 错误；图片显示的是经济体制转型，不是分配方式和经济形态的转型，B 和 C 项错误。

【点睛】创设新情境，挖掘新史料重新认识和解读历史是当下高考命题方式的主流方向和趋势，而图片和图表信息的解读即是其中重要的一个方面。在解读图片和图表信息时必须要注意以下几个方面，其一准确识别图中的信息，其二注意图中材料的来源或出处，最后就是要仔细观察图中是否有时间线索，只要有时间提示就为解题提供了较多的历史背景知识，因此一定要对此多加留意。

39. 【答案】A

【解析】

【详解】图片是香港特别行政区的徽标，结合所学可知，1997 年香港回归祖国，这是“一国两制”构想的成功运用，A 项正确；香港特别行政区的徽标无法体现殖民地的血泪史、香港的经济腾飞，排除 BC 项；香港特别行政区的徽标不能反映中英外交关系破裂，排除 D 项。故选 A 项。

40. 【答案】D

【解析】

【详解】根据所学可知，1978 年我国开始改革开放，1992 年我国确立了建立社会主义市场经济体制的目标，进一步深化改革，2001 年中国加入世界贸易组织，进一步扩大了对外开放，因此 1979—2017 年我国 GDP 与人均 GDP 大幅增长，D 项正确；A 项不是最主要原因，排除 A 项；我国 GDP 与人均 GDP 大幅增长，主要原因是改革开放，排除 B 项；我国 GDP 与人均 GDP 大幅增长，与践行了人类命运共同体的理念没有直接因果关系，排除 C 项。故选 D 项。

第二部分 非选择题(共 40 分)

41. 【答案】(1) 变化：由华夷之辨到华夏认同；民族融合趋势加强。

(2) 财政收入大大增加；社会生产获得发展；形成北强南弱的局面；缓和了民族矛盾，促进了民族交融；为隋朝统一全国奠定基础。

【解析】

【小问 1 详解】

变化：根据“存在着‘中国’敌视蛮、夷、戎、狄的现象”“最终在战国时期成为华夏族的一部分”，概括得出由华夷之辨到华夏认同和民族融合趋势加强。

【小问 2 详解】

根据“国家殷富，库藏盈溢，钱绢露积于廊者，不可较数”得出财政收入大大增加；社会生产获得发展；根据“形成北强南弱的局面”得出形成北强南弱的局面；根据“北方民族大交融的实现，又大大淡化了南北对立的民族矛盾”得出缓和了民族矛盾，促进了民族交融；根据“这就为隋文帝结束隔江对峙奠定了基石”得出为隋朝统一全国奠定基础。

42. 【答案】(1) 城市兴盛；城市坊市的格局已经打破；商业经营时间限制放开；出现纸币——交子；海外贸易空前繁盛。

(2) 辣椒在中国传播的路径是：广东——湖南——贵州——山东——云南——四川。

【解析】

【小问 1 详解】

根据“宋代除了当时最著名的都城汴京，成都、建康、镇江及扬州等地成为名噪一时的著名商业城市”得出城市兴盛；根据“宋代城市坊市的格局已经打破”得出城市坊市的格局已经打破；根据“城市经营时间也大大放开”得出商业经营时间限制放开；根据“‘交子’成为商品流通中的主要货币形式”得出出现纸币——交子；根据“宋代海外贸易空前繁盛”得出海外贸易空前繁盛。

【小问 2 详解】

根据材料二最早出现辣椒的时间可知，辣椒在中国传播的路径是：广东——湖南——贵州——山东——云南——四川。

43. 【答案】(1) 以“中学为体，西学为用”思想为指导，没有使中国走上富强道路；引进了西方资本主义国家的一些近代科学技术，使中国出现了第一批近代企业；一定程度上抵制了西方列强的侵略；洋务运动为中国近代企业积累了生产经验，培养了技术力量；在客观上为中国民族资本主义的产生和发展起到了促进作用，为中国的近代化开辟了道路。

(2) 不同：梁启超主张改良，经君主立宪逐步过渡到民主共和；邹容主张反清革命，推翻清朝，建立共和国家。现实：民族危机空前严重，国人对腐朽的清王朝彻底失望；民主、平等、自由等西方政治思想广泛传播；资产阶级民主革命运动兴起。

【解析】

【小问 1 详解】

根据“中学为体，西学为用”“并非改变封建制度”“其失败结局令人可悲”得出以“中学为体，西学为用”思想为指导，没有使中国走上富强道路；根据“开始引进西方先进的生产技术和科学文化，并模仿资本主义的教育模式和生产模式开办新式学校和企业”得出引进了西方资本主义国家的一些近代科学技术，使中国出现了第一批近代企业；一定程度上抵制了西方列强的侵略；洋务运动为中国近代企业积累了生产经验，培养了技术力量；根据“开始了中国现代化涵义中的民族化和工业化搏动”得出在客观上为中国民族资本主义的产生和发展起到了促进作用，为中国的近代化开辟了道路。

【小问 2 详解】

不同：根据“前期为君主立宪国，到光绪让权时转为民主共和国”得出梁启超主张改良，经君主立宪逐步过渡到民主共和；根据“邹容在《革命军》一书中，将革命成功后建立的新国家定名为‘中华共和国’”得出邹容主张反清革命，推翻清朝，建立共和国家。现实：根据所学，可从民族危机空前严重，国人对腐朽的清

王朝彻底失望；民主、平等、自由等西方政治思想广泛传播；资产阶级民主革命运动兴起等方面进行总结。

44. 【答案】(1) 实物史料：①⑤；文献史料：②⑥；图片史料：③④。

(2) 变化：新中国成立初期没有变化；20世纪90年代后迅速增长。

【解析】

【小问1详解】

根据材料结合所学知识可知，按载体可以分为四类：实物史料、文献史料、口述史料、图片和影像史料；实物史料是指历史上遗留下来的各种物件，如遗迹、遗址、遗物、出土文物等，因此题干中1949年发放的土地执照和1981、1983年的果实包干到户承包合同是当时遗留下来的实物，属于实物史料；文献史料是指以文字形式记录史料的资料，如史书、文书档案、地方史志、传记谱牒、文集日记、野史笔记、报纸、杂志、信件等，题干中《怀柔县志》整理的部分怀柔烈士名录和《怀柔文史资料》整理的“世妇会”材料都属于文献史料；图片、影像史料是指新闻图片、照片、纪录片、影像资料等，题干中1958年周恩来视察怀柔水库建设工地和20世纪60/70年代小学生露天上课都属于图片史料。

【小问2详解】

根据图片数据可知，怀柔居民人均可支配收入从1949-1985年期间没有明显的变化，相对低，而从1990-2020年期间，怀柔居民人均可支配收入由10000增长至45000，说明这是怀柔居民人均可支配收入迅速增长。

关于我们

北京高考在线创办于 2014 年，隶属于北京太星网络科技有限公司，是北京地区极具影响力的中学升学服务平台。主营业务涵盖：北京新高考、高中生涯规划、志愿填报、强基计划、综合评价招生和学科竞赛等。

北京高考在线旗下拥有网站门户、微信公众平台等全媒体矩阵生态平台。平台活跃用户 40W+，网站年度流量数千万量级。用户群体立足于北京，辐射全国 31 省市。

北京高考在线平台一直秉承 “精益求精、专业严谨” 的建设理念，不断探索 “K12 教育+互联网+大数据” 的运营模式，尝试基于大数据理论为广大中学和家长提供新鲜的高考资讯、专业的高考政策解读、科学的升学规划等，为广大高校、中学和教科研单位提供 “衔接和桥梁纽带” 作用。

平台自创办以来，为众多重点大学发现和推荐优秀生源，和北京近百所中学达成合作关系，累计举办线上线下升学公益讲座数百场，帮助数十万考生顺利通过考入理想大学，在家长、考生、中学和社会各界具有广泛的口碑影响力

未来，北京高考在线平台将立足于北京新高考改革，基于对北京高考政策研究及北京高校资源优势，更好的服务全国高中家长和学生。



微信搜一搜

北京高考资讯