

第I卷 选择题 (共140分)

一、选择题 (本大题共35小题,每小题4分,共140分。在每小题给出的四个选项中,只有一项是符合题目要求的)

电影产业链由原创、制作、发行、映演构成,大工业时代的电影生产通过整合产业链,将人才、资金等社会资源高度集聚,通过大资金投入、大明星团队、高水平制作营销、全球化发行映演,以流水线式协同合作批量生产电影。据此完成1~3题。

1. 电影工业化的主要驱动力是 ()
A. 艺术追求 B. 观众口碑 C. 社会责任 D. 经济利益
2. 电影工业化最适宜的影片类型是 ()
A. 艺术片 B. 纪实片 C. 商业片 D. 戏曲片
3. 电影工业化不利于 ()
A. 生产标准化 B. 艺术个性化 C. 分工专业化 D. 管理现代化

对流风暴是一种局地性短时强对流天气,其下沉气流空间分布极不均匀,往往在大片的下沉气流中有一股或者几股较强的气流,叫作下击暴流。江苏省地处中国东部,下击暴流发生频繁。图1示意近年来江苏省典型下击暴流和对流风暴出现的频率月变化。据此完成4~5题。

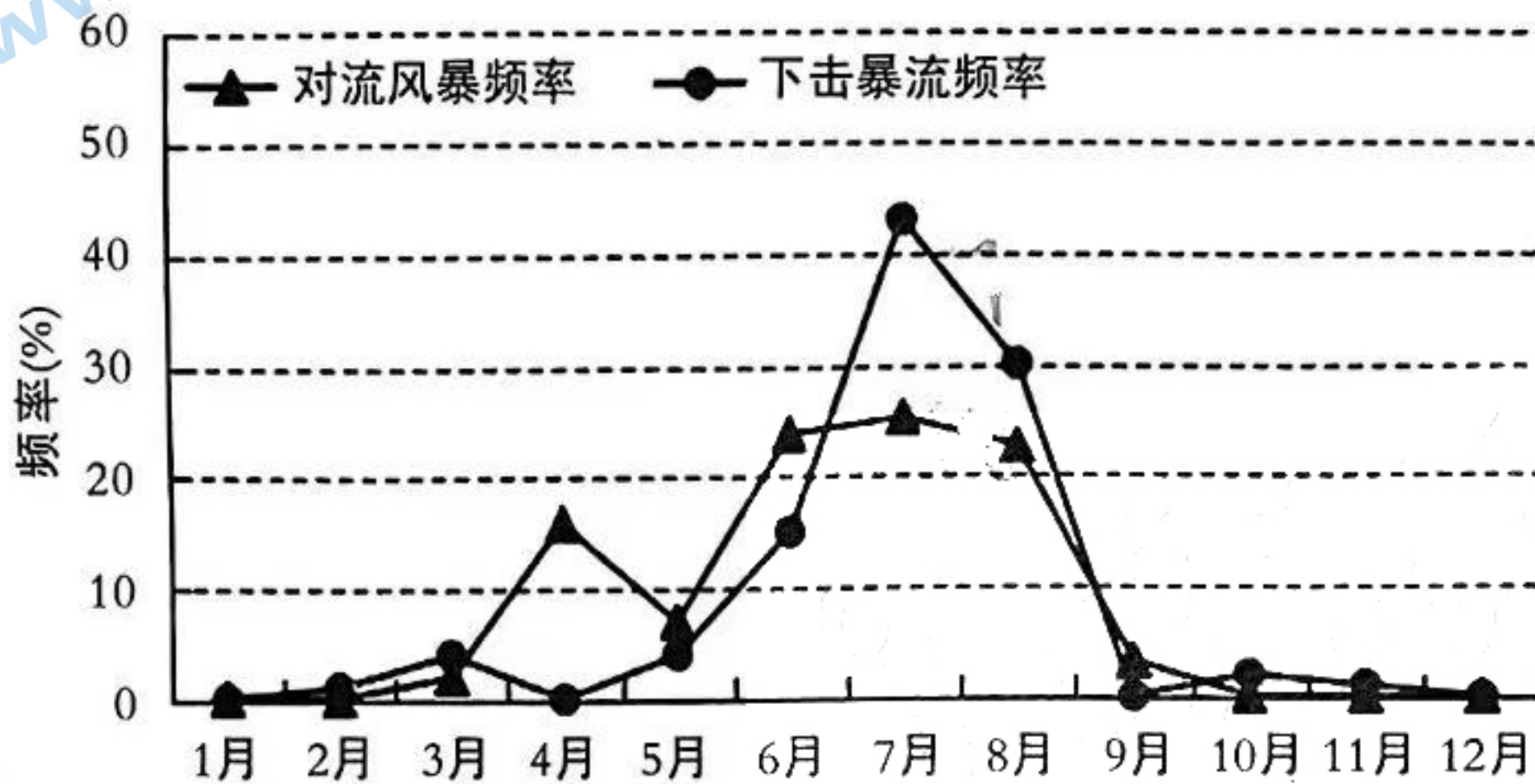


图1

4. 江苏省下击暴流产生的气象条件主要是 ()
①高温 ②低温 ③高湿 ④低湿
A. ①③ B. ①④ C. ②③ D. ②④
5. 江苏省发生下击暴流可能引起的气象灾害主要是 ()
A. 暴雨 B. 热浪 C. 强风 D. 寒潮

城址起源于环壕聚落,早期城址普遍据险而设,高墙深壕,主要侧重防御功能,并逐渐演变为区域性政治、经济、文化中心。图2为庙底沟二期(距今5000—4500年)到龙山时期(距今4500—4000年)黄河河套—黄土高原一带聚落和城址分布演变。据此完成6~8题。

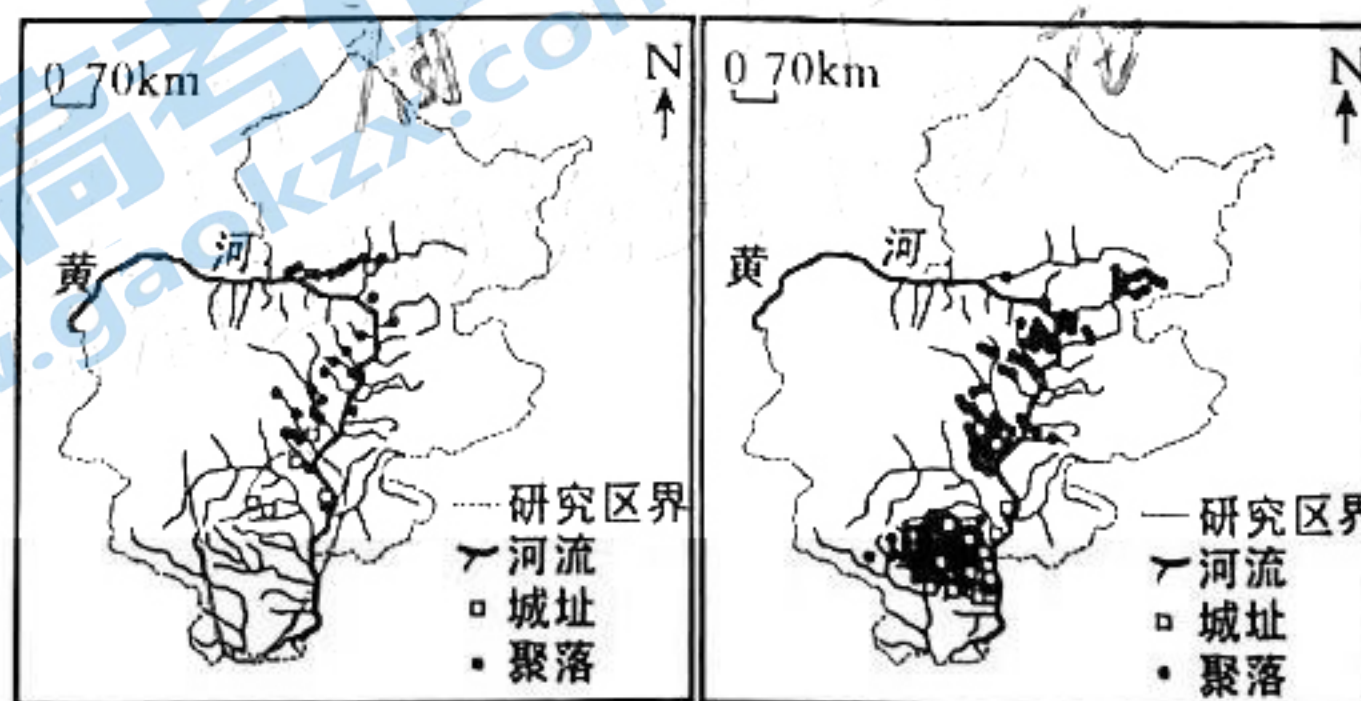


图2

高三4月期中考

测试题

学 太湖中学 天长中学 屯溪一中 宣城中学
中 太和中学 合肥七中 科大附中 野寨中学
冲。请在答题卡上作答。

龙山时期聚落空间分布特点是()

- A. 主要沿黄河中下游分布
B. 自北向南密度减小
C. 大致呈团块状分布
D. 总体呈条带状分布

与庙底沟时期相比,龙山时期气候趋向于()

- A. 暖湿
B. 暖干
C. 冷湿
D. 冷干

龙山时期带有城垣、环壕等防御设施的城址大幅增加,反映出当时()

- A. 生计模式调整
B. 资源竞争加剧
C. 聚落功能简化
D. 自然灾害频发

爱尔兰岛全岛人口不到700万,平均人口密度72.5人/km²(2022年),但人均温室气体排放居世界前列。2020年爱尔兰57%温室气体排放来自能源消费,当地石油等能源大量赖进口,其中约2/5用于建筑供暖。近年来,为减少碳排放、维护能源安全,爱尔兰积极发展集中供暖并探索开发可再生能源。图3示意爱尔兰地理位置,据此完成9~11题。

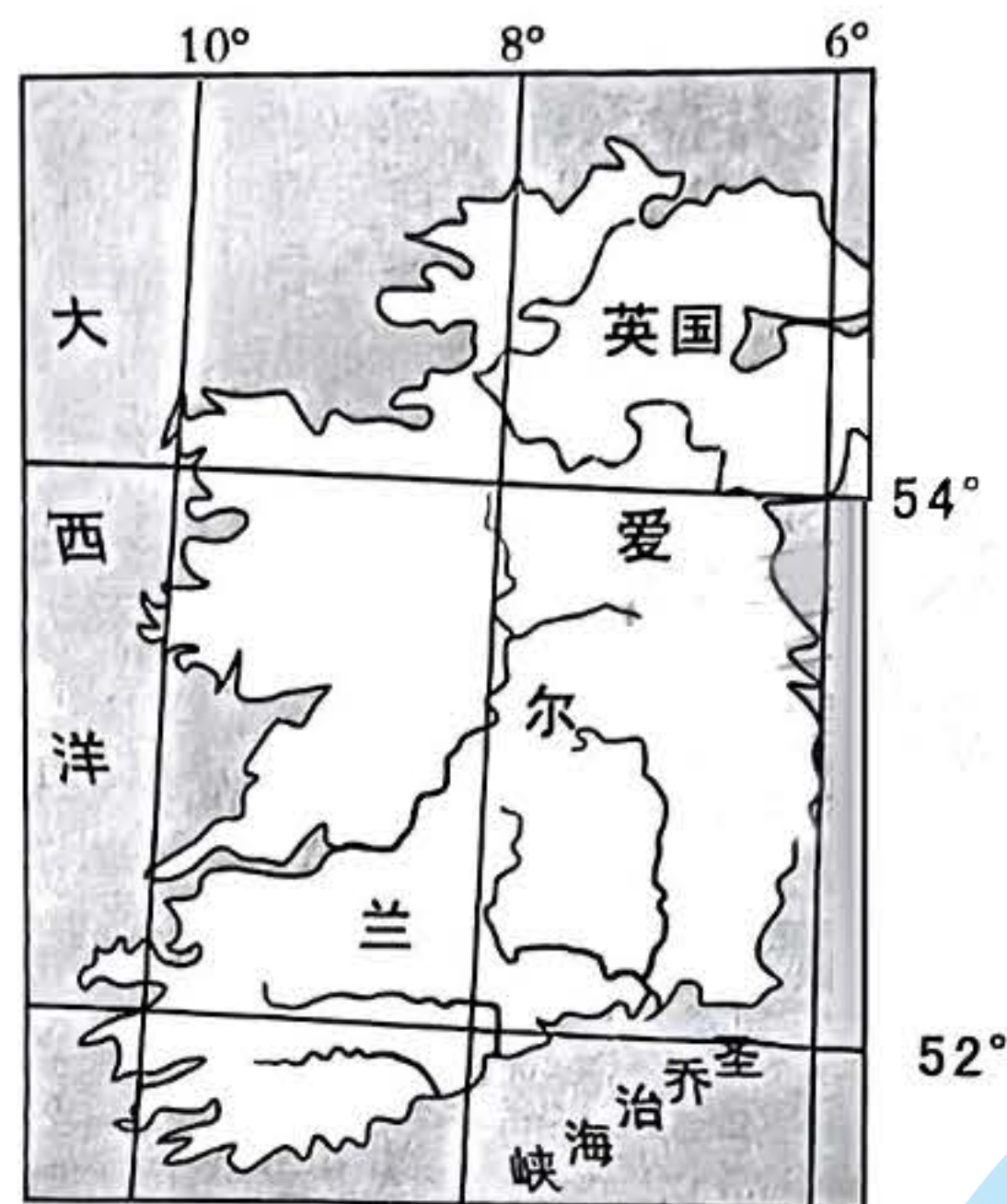


图3

爱尔兰能源安全问题来自于()

- A. 能源自给率较低
B. 建筑供暖比重大
C. 能源消费量较大
D. 温室气体排放量大

长期以来爱尔兰多为各家庭自行供暖。但自俄乌冲突以来特别是2022年冬季气温虽持续数月下降,大多数爱尔兰家庭却减少使用家庭供暖,主要原因是()

- A. 人口居住特别分散
B. 消费习惯彻底改变
C. 基础设施完全老化
D. 能源价格大幅飙升

爱尔兰适宜进行规模化开发的可再生能源是()

- A. 太阳能
B. 风能
C. 水能
D. 潮汐能

马克思在《资本论》中指出,凡是存在私有制的地方,劳动者的劳动时间就不可能自由。在较低形式的徭役劳动下,劳动者的必要劳动和剩余劳动在空间上分开,劳动者对剩余劳动时间有清晰的感知。但是到了资本主义雇佣劳动制度下,剩余劳动和必要劳动在时间和空间上相融合,劳动者不能直接分辨两种劳动时间,这也为资本家无限延长剩余劳动时间提供借口。上述论述()

- ①表明阶级斗争在人类社会中的巨大作用
②对社会主义实现由空想到科学的飞跃意义重大

- ③指出存在私有制的地方就有占有剩余价值的情况
④揭示了资本家剥削工人、占有工人剩余劳动的秘密

A. ①② B. ①③ C. ②④ D. ③④

13. 党的二十大报告指出：“科学社会主义在二十一世纪的中国焕发出新的蓬勃生机”在中国共产党百年求索中，科学社会主义在中国走过了一条极不平凡的发展道路，深深扎根于中国的社会土壤，紧跟时代发展潮流，顺应党和人民发展需要，持续焕发鲜活强大的生命力。科学社会主义在中国的发展（ ）

- ①为世界发展中国家探索独立与富强之路提供了中国智慧
②首次实现了社会主义从理论、运动到实践、制度的跨越
③推动中华民族迎来从站起来、富起来到强起来伟大飞跃
④为中国特色社会主义制度的完善与发展提供了根本动力

A. ①② B. ①③ C. ②④ D. ③④

14. 国企改革三年行动开始以来，央企涉及国家安全、国民经济命脉和国计民生领域营业收入占总体比重超过 70%，优势产业集群加快布局，国有资本配置效率和功能稳步提高。目前已有 1.3 万户中央企业子企业和 2.5 万户地方各级国有企业子企业建立了董事会，实现了董事会应建尽建，其中外部董事占多数的比例达 99.9%。可见，央企（ ）

- ①探索国有经济多种实现形式，更好发挥主导作用
②引领并带动社会资本，推动经济社会高质量发展
③推进布局优化和结构调整，增强国有经济控制力
④重视完善公司治理机制，积极构建现代企业制度

A. ①② B. ①④ C. ②③ D. ③④

15. 坚定实施扩大内需战略、培育完整内需体系，是加快构建以国内大循环为主体、国内国际双循环相互促进的新发展格局的必然选择，是促进我国长远发展和长治久安的战略决策。下列扩大内需的传导过程正确的是（ ）

- A. 降低出口环节费用→减轻出口企业负担→推动出口规模扩大→拓展国际市场空间
B. 优化初次分配格局→构建创新要素收益分配机制→增加高收入群体收入→释放群体消费潜能
C. 加大市场监管力度→有效弥补市场调节缺陷→消费环境得到改善→消费者的消费意愿增强
D. 推进绿色社区建设→居民形成绿色生活方式→带动资源能源消耗降低→促进人与自然和谐共生

16. 为落实中共二十大的部署，中共中央在深入研究论证、向社会广泛征求意见的基础上形成《党和国家机构改革方案（草案）》。2023 年 2 月 28 日经中共二十届二中全会审议通过后，将把国家机构改革部分的内容按照法定程序提交十四届全国人大一次会议审议。这表明中国共产党（ ）

- ①以依法执政和民主执政推进国家治理体系现代化
②在中国特色社会主义事业中发挥着领导核心作用
③通过国家机构的优化强化对国家事务的管理
④充分尊重了全国人大所拥有的最高立法权力

A. ①② B. ①③ C. ②④ D. ③④

17. 近年来，北京市政府完善“接诉即办”，将各类热线整合归集到 12345 市民服务热线形成全市统一的群众诉求受理平台，实现各类咨询、建议、举报、投诉事项“一号通”通过响应率、解决率、满意率“三率”考评机制，形成了党员干部“围着群众转”“下到一线干”的工作作风。“接诉即办”实施的意义在于（ ）

- ①形成社会治理合力，提高政府行政效率
②便捷社会民生诉求，推动政府职能转变
③加强国家权力集中，提升政府权威形象
④集聚基层自治能量，构建新型互信关系

A. ①② B. ①④ C. ②③ D. ③④

18. 习近平总书记作出重要指示指出，2023 年是毛泽东等老一辈革命家为雷锋同志题词 60 周年。60 年来，学雷锋活动在全国持续深入开展，雷锋的名字家喻户晓，雷锋的事迹深入人心，雷锋精神滋养着一代代中华儿女的心灵。实践证明，无论时代如何变迁，雷锋精神永不过时。从材料可以看出（ ）

- ①中华优秀传统文化涵养着中华民族共同的价值追求
- ②优秀文化对提高人们文化素养产生持久深远的影响
- ③弘扬雷锋精神能为新时代伟大变革注入不竭精神动力
- ④赓续传承雷锋精神要深刻把握其始终不变的时代内涵

A. ①③ B. ①④ C. ②③ D. ②④

19. 百年来，中国共产党对中国特色社会主义道路的探索历经从“走俄国人的路”到“当会自己走路”再到“走自己的道路，建设有中国特色的社会主义”“坚定不移走中国特色社会主义道路”的转变，中国特色社会主义道路愈来愈清晰，越走越宽广，不断彰显出强大的生命力。中国道路探索表明（ ）

- ①认识是主观与客观具体的历史的统一 ②客观事物的复杂性决定认识的反复性
- ③只有经过实践验证的认识才能成真理 ④人类认识在发展的实践中呈现无限性

A. ①③ B. ①④ C. ②③ D. ②④

20. 2023年2月22日，西班牙极右翼政党呼声党宣布，将于本月27日在众议院对现任首相桑切斯提出不信任动议，一旦得到众议院通过，众议院议长巴泰特将决定在全体会议上对该不信任动议进行辩论的日期，执政的左翼政党将推举拉蒙·塔马梅斯作为本次不信任动议中的首相候选人。这表明在西班牙（ ）

- ①首相一般由党员人数最多的政党领袖担任
- ②采用议会制民主共和制的政权组织形式
- ③当议会不信任政府时政府必须集体辞职
- ④政府首脑可以向国家元首申请解散议会

A. ①② B. ①③ C. ②④ D. ③④

21. 2023年1月，我国实际使用外资金额1276.9亿元，同比增长14.5%。从行业看，制造业实际使用外资同比增长40.4%；高技术产业实际使用外资同比增长62.8%，其中，高技术制造业同比增长74.5%，高技术服务业同比增长59.6%。从区域分布看，东部、中部、西部地区实际使用外资同比分别增长13.4%、25.9%、21.6%。由此可见我国（ ）

- ①经济韧性强、活力足、潜力大 ②通过放宽市场准入降低投资风险
- ③推动开放朝着优化结构方向转变 ④实行高水平贸易自由化便利化政策

A. ①② B. ①③ C. ②④ D. ③④

22. 网络作家小文与某网络科技公司签订协议，独家授权其某小说作品给公司平台使用。之后，小文发现该公司在未经征得小文本人同意的情况下，将其网络作品更名出版谋利。对此，下列说法正确的是（ ）

- ①网络公司属于法定许可使用，支付稿费即可
- ②未经作者同意擅自出版，网络公司构成侵权
- ③网络公司行为属于单方违约，协议自动解除
- ④小文可以诉求网络公司赔礼道歉、赔偿损失

A. ①② B. ①③ C. ②④ D. ③④

23. 某国王爱马。一天，他发现某大臣有七匹安达路西亚马（当时最好的马），就绞尽脑汁想要弄到手。不久他发布命令：

第一，凡有安达路西亚马的家庭，必须立即申报；
 第二，一匹马要缴纳一百第纳尔税金；
 第三，拥有五匹以上的，要按五匹申报；
 第四，不得谎报马的匹数。

下列表述与上述命令违背的逻辑思维的基本要求一致的是（ ）

- ①你的意见基本正确，一点问题也没有
- ②他有时清醒，有时迷糊，是一个半睡半醒的人
- ③今天早上，你可以说他迟到了，也可以说他没迟到
- ④我不认为张同学是勤奋的，也不认为他是不勤奋的

A. ①② B. ①③ C. ②④ D. ③④

24. 秦汉的皇帝往往在王朝的重要时刻，如更名号、立皇后、封禅、祥瑞及军事胜利之时以基层社区“里”为单位，赐“天下民”以“大饮酒”，由此全国的基层社区开展持续数日的宴饮。这一做法（ ）

- A. 践行了以民为本的治国理念
- B. 发挥了乡绅阶层的教化功能
- C. 缓和了社会救济不均的矛盾
- D. 增进了基层民众的政权认同

25. 贞观年间，唐太宗及其身边的北方文人和南朝文士主导了诗坛，其中，北方文人受儒家崇古尚质的诗教说影响较大，对南朝宫体诗的绮靡浮艳持批判态度，但没有因此而否定它的声辞之美……基于此，在南北文人间一种“各去所短，合其两长”的文学主张及实践活动悄然兴起。据此可知当时（ ）
- A. 唐太宗注重延揽各方人才
B. 南北互鉴推动贞观诗坛革新
C. 南方经济文化影响力上升
D. 儒家伦理深刻影响唐诗创作
26. 明制规定：“外官布政使，按察使缺员，由三品以上官会举”，监察官和各省地方大员有举荐贤能的责任。名臣于谦、巡抚周忱等出任要职，都是通过举荐而被委以重任的。这表明明朝时期（ ）
- A. 举荐制发挥了重要的选才功能
B. 九品中正制出现死灰复燃迹象
C. 八股取士导致了科举制的衰落
D. 选官制度出现权力下移的趋势
27. 据记载，“乾隆初，始闻有洋钱通用。至四十年后，洋钱用至苏、杭。其时我邑（今江苏无锡）广用钱票，兼用元丝银。后银价稍昂，乃渐用洋钱”，乾隆五十年后“但用佛头（西班牙银元）一种”。这反映了乾隆时期（ ）
- A. 清政府的货币主权逐渐旁落
B. 白银外流引发了严重的钱荒
C. 中国与世界经济联系加深
D. 西班牙垄断了中外贸易通道
28. 孙中山在 1917—1920 年所著的《建国方略》中指出“美十三州既发难抗英而后，乃延华盛顿出而为之指挥；法则革命起后，乃拔拿破仑于偏裨之间。若使一人易地而处，想必结果亦同样。故华拿之异趣，不关乎个人品德，而在其全国之习尚”。据此可知，孙中山（ ）
- A. 反对法国大革命
B. 倡导建立美国式共和政体
C. 接受了唯物史观
D. 意识到民众意志的重要性
29. 表 1 为英国报刊关于红军报道的统计。据此可知，这些报道（ ）

表 1

时间	数量
1934 年 7 月—12 月	35 篇
1935 年	139 篇
1936 年	210 篇

- A. 体现了红军力量的发展
B. 说明了抗日民族统一战线的扩大
C. 拓宽了长征研究的视野
D. 促进了世界反法西斯同盟的形成
30. 亚历山大之前，马其顿国王不过是一个最高军事首领而已，与众多部下平起平坐。君主偶有不慎，轻则被流逐他方，重则命归西天。这体现出当时的马其顿（ ）
- A. 原始民主遗风影响政治运行
B. 封建君主尚未实现高度集权
C. 城邦公民内部实行人人平等
D. 军事征伐导致内部治理危机
31. 在 7 世纪的《弗莱德加编年史》第二卷及第三卷中出现了法兰克人起源于特洛伊的传说，以此来表明法兰克人的历史和罗马人一样悠久。8 世纪中期的《法兰克人史记》更加频繁地提及罗马人历史上与法兰克人之间的交往。这说明（ ）
- A. 希腊成为西欧文化的起源地
B. 罗马人拥有久远的历史文化
C. 文明交往推动民族国家形成
D. 法兰克人民族意识有所增强
32. 14—16 世纪，英国议会制订了 11 部禁奢法令，以乡绅和城乡中产阶级的消费标准为重点关注对象，其中 1336 年的饮食禁奢法令最为严厉，它规定民众每餐最多可以享用两道菜，只有在宗教节日才能增加到三道菜，国王和贵族也不例外。据此可知，英国（ ）
- A. 议会主权原则得到贯彻
B. 经济发展影响法律变迁
C. 基督教会控制社会生活
D. 社会等级差异日益缩小
33. 19 世纪后半期，第一国际的成立带动欧洲涌现出国际性的工人运动，但是美国的工人运动却成为了例外。美国的工人对激进的政治纲领并不感兴趣，反而把目光放在了工资水平和工作条件等具体问题上。这表明当时的美国（ ）
- A. 工人阶级的斗争受国情的影响
B. 生产力水平低下缺少革命条件
C. 工人运动缺乏先进政党的领导
D. 社会价值取向鼓励个人的奋斗

34. 1914 年战争开始时，俄国大臣会议提出了“一切为了战争，一切用于战争”的口号，进行了卓有成效的动员，至 1916 年底，共有 1500 万人被送到前线，其中有 46% 的适龄男性参军入伍，数量庞大的妇女则在前线从事后勤工作，另一方面，农村出现了比较严重的弃种撂荒现象。这说明（ ）
- A. 一战加速十月革命爆发
B. 沙俄政府社会动员能力强大
C. 沙皇统治面临严峻挑战
D. 俄国妇女解放事业进展迅速
35. 当前的法国实行高税率的个人所得税制度，但对养育子女的家庭则施以差额税率，具体执行情况如表 2 所示。当前法国个人所得税制度的这一安排（ ）

表 2 法国正常婚姻家庭在四种情形下的年应纳税额

计算编号	应纳税额计算	夫妻生养子女情况			
		未有生养	生养一孩	生养二孩	生养三孩
a	家庭年应纳税所得额（欧元）	100 000	100 000	100 000	100 000
b	家庭计税份数	2	2.5	3	4
c	户商值（欧元） $c=a \div b$	50 000	40 000	33 333.33	25 000
d	通用税率	30%	30%	30%	11%
e	户商值按适用税率计算的年应纳税额（欧元） $e=c \times d$ - 速算扣除数额	9 005.86	6 005.86	4 005.86	1 640.86
f	家庭年应纳税额（欧元） $f=c \times b$	18 011.72	15 014.65	12 017.58	6 563.04

注：根据法国个人所得税户商计税法计算整理而得。

- A. 加剧了政府财政危机
B. 发挥了生育激励作用
C. 减轻了民众纳税负担
D. 完善了社会保障制度

第 II 卷 非选择题（共 160 分）

二、非选择题（本大题共 10 小题，共 160 分）

36. 阅读图文材料，完成下列要求。（26 分）

碟形湖是指鄱阳湖湖盆中由于泥沙沉积不均而在枯水期显现于洲滩之中的碟形洼地，是鄱阳湖独有的季节性景观，也是一种水生与陆生复合型的湿地生态系统，能为候鸟提供多样化的食物和生存空间。鄱阳湖不仅是长江许多濒危鱼类的家园，也是东亚最重要的候鸟栖息地，每年在此越冬的候鸟多达 70 万只。2022 年大旱后，鄱阳湖水利枢纽计划重提，方案中指出这一计划将在鄱阳湖湖口建立起 3 千米的巨型水坝，以便在秋冬季蓄积湖水。图 4 示意某碟形湖的生境类型。

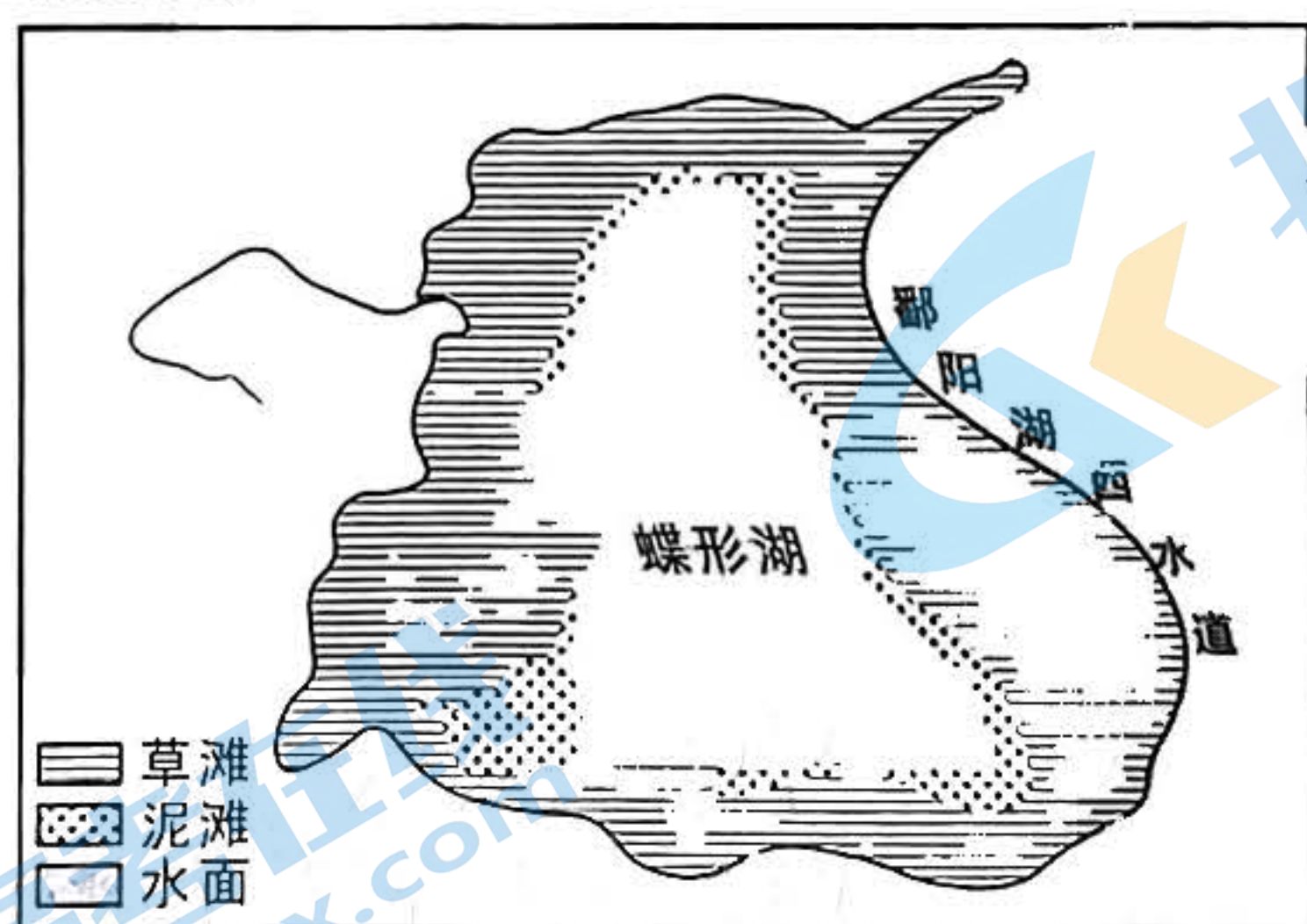


图 4

- 说明碟形湖的自然形成过程及其形态特征。（10 分）
- 简析碟形湖对候鸟越冬的生态意义。（6 分）
- 推测计划中的鄱阳湖水利枢纽工程对湖泊湿地生态系统的影响。（4 分）
- 近年来，随着全球气候变暖，长江流域降水变率增大，鄱阳湖夏季水位也随着出现大幅涨落，并对候鸟越冬产生影响。请你任选一种降水变化（增多/减少），推测夏季鄱阳湖水位变化对候鸟越冬的挑战。（6 分）

37. 阅读图文材料，完成下列要求。(30分)

非洲是粮食安全最严峻的地区之一，是粮食的净进口方，同时也大量出口经济作物，主要出口农产品以可可豆、带壳腰果、咖啡、烟草、茶叶、畜牧业初级产品等为主。中非农业合作互补性很强。中国在大力援助非洲粮食生产的同时，还帮助受援国建立农产品加工工业。为满足国内日益升级和多元化消费需求以及经济发展需要，也增加从非洲进口农产品。中非农业合作进入了新时期。图5示意2010年—2020年中国自非洲进口农产品概况，表3为2020年中国从非洲进口农产品金额排名前三位的国家及主要产品。

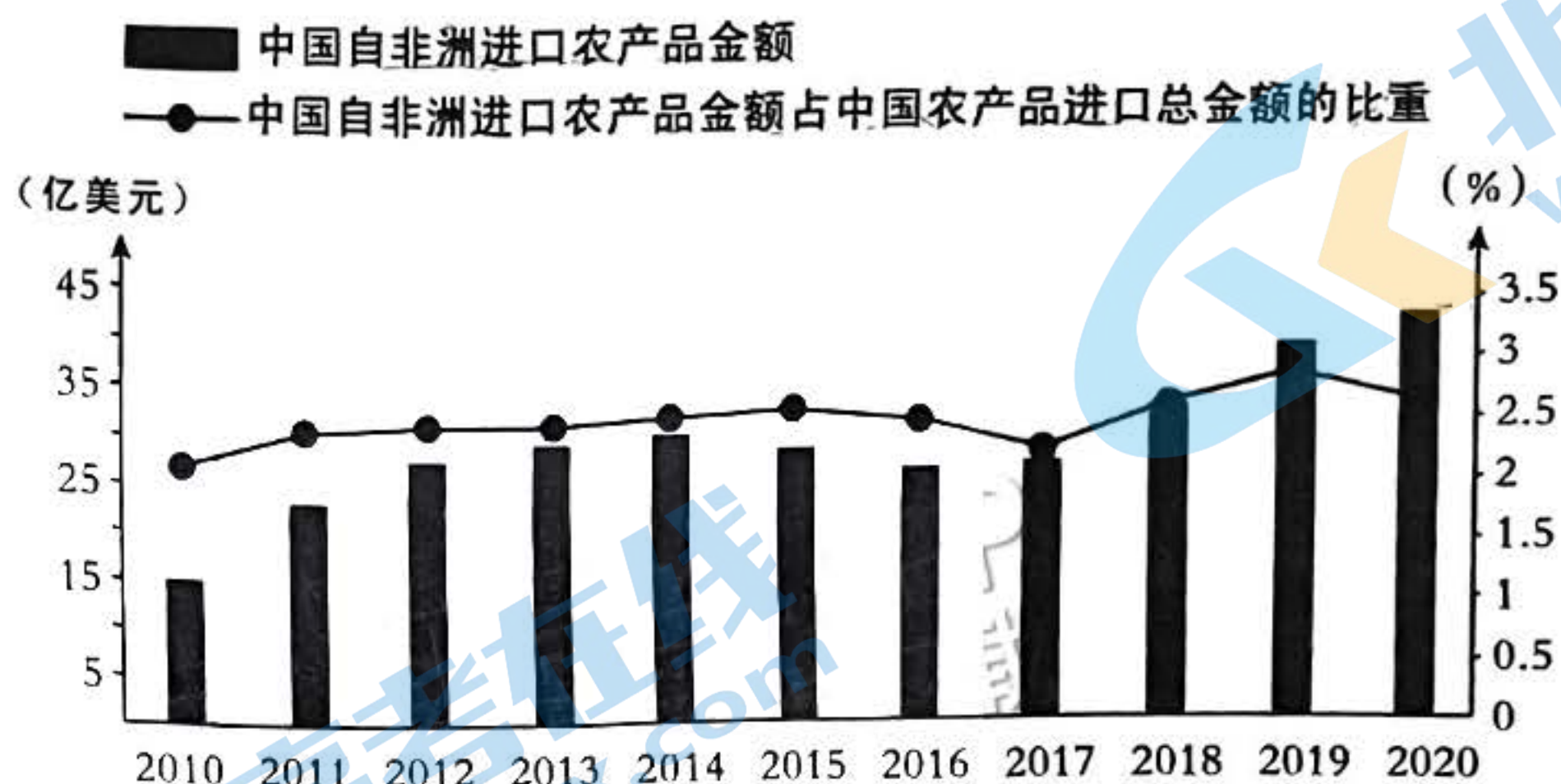


图5

表3

排名	国家	金额 (亿美元)	中国主要进口农产品及金额 (亿美元)
1	苏丹	7.07	芝麻籽 (2.96)、脱壳花生 (2.73)
2	南非	6.62	油性羊毛 (1.93)、坚果 (1.21)、橙子 (1.06)
3	津巴布韦	6.19	未加工烟草 (5.82)、烟草制品 (0.3)

- (1) 指出中国进口非洲农产品贸易的特点。(8分)
- (2) 概括非洲出口农产品的特点并分析形成的历史原因。(6分)
- (3) 推测中国助力非洲发展粮食生产的措施。(8分)
- (4) 就中非农业合作的意义之一发表你的感想。(8分)

感想①: 对非洲的意义
 感想②: 对中国的意义
 感想③: 对全球的意义

38. 阅读材料，完成下列要求。(10分)

2022年10月30日，《中华人民共和国黄河保护法》经全国人大常委会会议表决通过，自2023年4月1日起施行。

黄河保护法对涉及多个领域、多个部门、多个地方的流域治理工作进行了统筹协调、系统性体制机制设计。坚持问题导向，对特定区域、特定问题规定特别制度措施。例如，针对黄河流域生态环境脆弱问题，黄河保护法主要从加强生态保护与修复和加强污染防治两个方面，对加强生态环境保护作了规定。针对黄河流域高质量发展不充分问题，黄河保护法规定，黄河流域县级以上地方人民政府应当推动制造业高质量发展和资源型产业转型。

结合材料和所学《政治与法治》知识，分析黄河保护法的实施对黄河治理的意义。

39. 阅读材料，完成下列要求。（10分）

2022年，注定是不平凡的一年。错综复杂的国内外形势，叠加新冠疫情冲击，给区域经济发展带来诸多不确定性。面对困难与压力，安徽迎接挑战、迎难而上，乘风破浪、砥砺前行，经济社会平稳健康发展。

这一年，安徽落实中央部署，统筹疫情防控和经济社会发展。针对经济发展中存在的突出问题，加密出台稳经济一揽子政策和接续政策举措，深化改革开放、推进“双招双引”，全省经济顶住压力持续恢复。针对民生领域存在的突出问题，安徽持续实施暖民心行动，民生保障有力有效，群众幸福感获得感不断增强。

2022年，安徽经济保持在合理区间运行，高质量发展动能增强，主要经济指标增长优于全国，交出了一份满意的“发展答卷”。

结合材料并运用矛盾的相关知识，说明安徽省是如何交出一份满意的“发展答卷”的？

40. 阅读材料，完成下列要求。（10分）

2022年12月17日，联合国《生物多样性公约》第十五次缔约方大会第二阶段高级别会议闭幕，大会为推动制定“2020年后全球生物多样性框架”贡献了智慧和力量。习近平主席在开幕式致辞上提出了推进全球生物多样性保护的“四点主张”，具有很强的感召力，为全球生物多样性治理注入了强劲的政治动力。

2023年联合国将把确保享有和平的权利、确保社会经济权利和发展权、努力完成可持续发展目标、建立包容性社会等六大方面作为工作重点。2023年2月1日，联大主席应邀访华。双方就当前国际形势、联合国作用以及共同关心的议题深入交换意见。2023年2月11日，中国第21批赴黎巴嫩维和部队出色完成“猛虎-2023”演习。中国维和部队履行使命和任务，传递和平友谊，赢得黎巴嫩政府和国际社会的高度赞誉。

结合材料并运用《当代国际政治与经济》知识，说明中国为什么要坚定捍卫联合国权威？

41. 阅读材料，完成下列要求。（12分）

中学生李某长期居住在A石化炼油厂西生活区。居住地南边是液化气罐装站，该站经常漏气；东边是制造压力容器的工程队，该队主要是就地进行射线探伤，对容器喷漆；西边是炼油厂的生产装置；西北边是炼油厂火炬，排放出的火炬气含有害物质。后李某被诊断出患了急性混合型白血病，其家人认为是A石化炼油厂污染造成的。在双方多次协商未果的情况下，李某将A石化炼油厂告上了法庭。

(1) 本案追究被告侵权责任适用什么原则？为什么？（6分）

(2) 本案举证实行什么原则？法律为什么要确立此举证原则？（6分）

42. 阅读材料，完成下列要求。（10分）

一个世纪以前，巴甫洛夫对狗进行“铃声-食物”关联学习训练时发现：只有当铃声和食物同时出现，狗才学会二者之间的关联。现实中，铃声和食物的出现总会有时间间隔，研究者把最大时间间隔称为“一致性时间窗口”。此后，科学家相继在人、海兔、果蝇、蜜蜂等不同物种中观察到类似现象，时间范围从几秒钟到一分钟不等，但并不清楚其生物学机理。

一个世纪后，我国研究团队以经典的果蝇“气味-电击”嗅觉学习记忆为范式，揭示了“时间一致性”的新机理。研究发现，当通过遗传学手段降低五羟色胺水平时，对应“一致性时间窗口”缩短至10.8秒；当通过抗抑郁药增加五羟色胺水平时，时间延长至25.2秒。由此得出结论：“一致性时间窗口”受大脑中五羟色胺水平的双向调节。该研究有助于理解神经疾病导致学习记忆障碍的病理机制，为药物干预患者的时间认知障碍提供了新的思路。

运用《逻辑与思维》中推理的知识，分析材料中科学家对“一致性时间窗口”的研究过程。

43. 阅读材料，完成下列要求。（25分）

材料一

20世纪初，中国兴起了军国民教育。梁启超在著作中强调中国先秦时期就有武勇之精神，但也应借鉴他国的军国民主义教育，通过举国皆兵的教育，使国人“把体操练得好好的……”，以造就武勇刚强的“新国民”。1902年，蔡元培在上海组织中国教育会和学社，特别重视军事训练。1906年，清廷推行学制改革，强调“体操一科，稍长者，以兵式体操，严整其纪律”。辛亥革命后，学堂的体操课，被兵式体操和军事训练所代替，对此，茅盾曾说道“湖州中学的体操课，实在是正式的军事训练，远足是急行军的别名罢了”。新文化运动后不久，军国民教育为更为科学的新式学校体育所取代，近代中国体育自此脱离“国家化”的单向度，开始步入多元发展的阶段。

——摘编自郑志林《论军国民教育与我国近代体育的兴起》

材料二

新中国成立后，党和国家先后提出“国民体育”“发展体育运动，增强人民体质”等口号，并相继颁布《准备劳动与卫国体育制度》等政策，明确要求在厂矿、学校、部队及机关中成立体育协会，切实开展体育运动；农村地区在群众性体育的广泛性和经常化上下功夫，有步骤、有计划及科学地普及因地制宜的体育活动。实施过程上，实行国家体委和体育总会统一领导，各部门相结合的分工合作、高度集中的垂直管理模式，各地群众体育活动主要以体育协会组织开展。20世纪50年代末，共建立全国性体育协会21个，基层体育协会近4万个，农村基层体育协会3万余个，广播体操、课间操及工间操等“操类”活动空前繁荣。后期，随着体育学校及体育场馆等基建项目落地，以球类、武术、拔河等项目为主的群众体育活动日渐丰富。

——摘编自赵述强等《新中国成立以来群众体育治理的历程回顾与新时代瞻望》

- (1) 根据材料一并结合所学知识，指出近代军国民教育兴起的背景及影响。（12分）
- (2) 根据材料二并结合所学知识，说明新中国成立初期体育建设的特点及其意义。（13分）

44. 阅读材料，完成下列要求。(12分)

材料

表4

时期	内容
公元1500年前	除亚欧大陆及其非洲大陆的部分地区交往相对频繁外，其余地区整体上处于封闭状态。
15世纪末到19世纪	西方国家主导了人类交往的进程，美洲、大洋洲以及撒哈拉沙漠以南的非洲进入欧洲人的视野。西方人通过殖民主义，拓展了人类的活动空间。文明的交往广度、深度有所增加，部分文明也湮灭于人类发展的长河之中。
20世纪前半期	两次世界大战以战争的方式把全世界纳入统一的发展轨道上，使得人类的命运在世界范围内以联盟和敌对的状态紧密联系在一起。这两场战争从一个侧面说明了人类命运息息相关。
20世纪后半期	美苏为代表的不同政治制度的“文明”开启了竞争并存的模式，世界文明在动荡的进程中又有所突破，不同地域的文明比之前任何时期的联系都有所增强。
21世纪以来	一方面，世界各国相互联系和依存日益加深，和平与发展的大势不可逆转；另一方面，世界局势的不稳定性、不确定性依然突出，人类面临许多共同的挑战。

摘编自程美东《世界文明进程中的人类命运》

从材料中提取信息，结合世界近现代史知识拟定一个论题并加以论述。(要求：论题明确，论述时史论结合，逻辑清晰。)

45. 阅读材料，完成下列要求。(15分)

材料

中国古代从遗令到遗嘱有一个发展演变过程。早期的遗令含多方面内容，是亡者于生前对死后各种事务的安排及意愿的表达，涵盖甚广，外力和国家律令并不干预。隋唐以来，随着门阀制度的衰弱，同居共财大家族向单个独立小家庭经济体的过渡，家财的继承越来越现实而重要，遗令渐变为家长专门分配遗产的手段，这类专门赋予经济内容的遗令即遗嘱，由唐代遗嘱法所界定。唐宋遗嘱及其样文的流行，反映出遗嘱在家产继承中的重要地位。遗嘱继承制是父权家长制在家产继承上的体现，遗嘱继承高于法定继承。宋代遗嘱，须官给公凭才合法，完全纳入国家管控。南宋实行遗嘱税，实是征收遗嘱继承遗产税，这种制度性的完善，使中国遗嘱继承制进入一个新的发展阶段。

—摘编自乜小红《秦汉至唐宋时期遗嘱制度的演化》

- (1) 根据材料并结合所学知识，简要概括中国古代遗嘱制度的发展趋势。(6分)
- (2) 根据材料并结合所学知识，分析隋唐以来遗嘱制度变化发展的原因。(9分)

关于我们

北京高考在线创办于 2014 年，隶属于北京太星网络科技有限公司，是北京地区极具影响力的中学升学服务平台。主营业务涵盖：北京新高考、高中生涯规划、志愿填报、强基计划、综合评价招生和学科竞赛等。

北京高考在线旗下拥有网站门户、微信公众平台等全媒体矩阵生态平台。平台活跃用户 40W+，网站年度流量数千万量级。用户群体立足于北京，辐射全国 31 省市。

北京高考在线平台一直秉承 “精益求精、专业严谨” 的建设理念，不断探索 “K12 教育+互联网+大数据” 的运营模式，尝试基于大数据理论为广大中学和家长提供新鲜的高考资讯、专业的高考政策解读、科学的升学规划等，为广大高校、中学和教科研单位提供 “衔接和桥梁纽带” 作用。

平台自创办以来，为众多重点大学发现和推荐优秀生源，和北京近百所中学达成合作关系，累计举办线上线下升学公益讲座数百场，帮助数十万考生顺利通过考入理想大学，在家长、考生、中学和社会各界具有广泛的口碑影响力

未来，北京高考在线平台将立足于北京新高考改革，基于对北京高考政策研究及北京高校资源优势，更好的服务全国高中家长和学生。



微信搜一搜

北京高考资讯