

## 第一部分

本部分共 15 题，每题 3 分，共 45 分，在每题列出的四个选项中，选出最符合题目要求的一项

1. 一位史学家写道：“（战国时期）各国纷纷进行变法，最终建立起君主集权的官僚制政治形态，为以后大一统专制帝国的出现奠定了制度上的基础。”各国纷纷变法的根本原因是

- ①逐步建立君主专制制度      ②以儒家思想为指导  
③为统一奠定了基础      ④推动了社会的转型

A. ①②③      B. ①②④      C. ①③④      D. ②③④

2. 下列材料反映的是中国古代选官制度的演变历程，其所反映的选官制度按出现时间先后顺序排列正确的是

- ①“举孝廉，父别居”  
②“上品无寒门，下品无势族”  
③“朝为田舍郎，暮登天子堂”  
④“以法为教”“以吏为师”

A. ①②③④      B. ②④③①      C. ③①④②      D. ④①②③

3. 《旧唐书》记载：“武德七年，始定律令……百户为里，五里为乡。四家为邻，五家为保。在邑居者为坊，在田野者为村。村坊邻里，递相督察。”据此可以推知，唐朝时

- A. 乡里基层组织开始设立      B. 实行邻保制度相互监督  
C. 地方监察制度不断强化      D. 使乡约逐渐具有强制力

4. 明清时期，朝廷发布的各国使团贸易物品限制令中写道：“凡外国贸易，不许收买史书，黑黄紫皂大花西番莲缎，并一应违禁兵器、焰硝、牛角等物。”“外国贡使归国，伴送人员不许将违禁货物，私自进行贸易。”其反映了这一时期

- A. 朝贡贸易受到严格限制      B. 重农抑商政策的松动  
C. 外贸税收成为重要财源      D. 民间贸易受国家限制

5. 康乾盛世时期，清朝版图在前代王朝的基础上得到开拓和巩固，统一多民族国家得到进一步发展。清政府管理边疆地区的措施有

- ①在东北设都司、卫、所      ②沿长城布置“九边”军镇  
③在西藏设驻藏办事大臣      ④在西南进行“改土归流”

A. ①②      B. ①④      C. ②③      D. ③④

6. 晚清时期，中国的商业经营形式产生了新变化。下列历史事件可以佐证这一观点的是


- ①在广州设置公行，统揽对外贸易事务      ②上海出现了最早专营股票的证券机构  
③中国人自办的第一家银行在上海创办      ④第一家大型百货公司在香港成立

A. ①②③      B. ①②④      C. ①③④      D. ②③④

7.一位学生在历史学习过程中搜集了以下史料，其研究的主题是



魏晋墓砖画《驿使图》



民国时期自行车邮差出班



民国时期行动邮局的邮车

- A.《中外交往的演变》  
B.《民间邮驿的发展历程》  
C.《邮政工具的变迁》  
D.《近代社会生活的变迁》

8.辛亥革命后，中国出现了 300 多个政党、社团，开始了政党政治的尝试。下列对其评述正确的是，

- ①君主专制的土崩瓦解为政党政治提供了条件  
②各政党为谋求议会席位展开了激烈的竞争  
③袁世凯解散国会标志政党政治名存实亡  
④两党制形成，定期选举，轮流执政
- A.①②③  
B.①②④  
C.①③④  
D.②③④

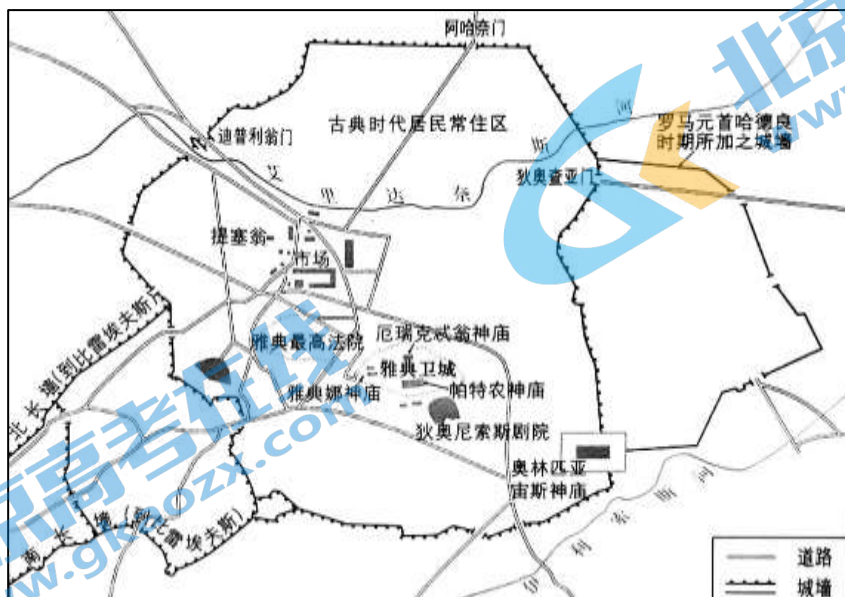
9.新民主主义革命时期，中国共产党在革命根据地、抗日根据地和解放区建立了不同形式的人民政权。这些政权建设

- A.为建立人民共和国奠定了理论基础  
B.为新中国的政权建设奠定了坚实基础  
C.体现了人民民主原则和社会主义原则  
D.使得中国特色社会主义制度更加巩固

10.远古时期，人类以采集、渔猎为生。伴随着人类知识的积累和技术的进步，原始农业逐渐形成，其意义在于

- ①是人类经济和社会生活的第一次革命  
②标志社会贫富分化与不平等开始出现  
③初步改变了纯粹依赖自然资源的状况  
④促进人们生活方式和生产方式的变化
- A.①②③  
B.①②④  
C.①③④  
D.②③④

11.阅读下图，下列对古代雅典城市布局与功能的阐释正确的有



雅典城市平面示意

- ①城市具有政治、宗教、防卫、经济功能

- ②布局受到自然地理条件的影响
- ③布局讲究对称和主次分明院落有序
- ④城市建有功能多样的公共活动场所

A. ①②③                      B. ①②④                      C. ①③④                      D. ②③④

12. 下列有关西欧封建社会对基层治理的叙述，正确的是

- A. 基层治理依靠实行自治的村社
- B. 教会在基层治理中发挥重要作用
- C. 自治市镇是基层治理的基本单位
- D. 社区成为基层自治的主要方式

13. 《共产党宣言》中写道：“这些工业所加工的，已经不是本地的原料，而是来自极其遥远的地区的原料；它们的产品不仅供本国消费，而且同时供世界各地消费。”以上历史现象的产生是由于

- ①海陆大通形成全球性交通网络    ②资本主义世界市场的逐渐形成
- ③资产阶级在全球进行殖民扩张    ④《关税与贸易总协定》的签订

A. ①②③                      B. ①②④                      C. ①③④                      D. ②③④

14. 以下是世界银行及下设机构为一些国家提供投资援助的统计，据此可以推断世界银行及下设机构

2000—2010年，世界银行及下设机构为世界最贫困地区，招聘和培训了300多万名教师；采购和发放了3亿多本课本；建设和修复了11.8万公里的道路，其长度相当于绕地球近三圈，并对13.4万公里的道路进行了维护保养。
2011年，世界银行及下设机构对撒哈拉沙漠以南非洲地区投资约为21亿美元；为受援国创造了约220万个就业岗位；给中小企业提供了总额约为1040亿美元的贷款。

- A. 推动了西欧国家战后重建                      B. 建立起了多边贸易体系
- C. 促进了发展中国家的发展                      D. 维持了国际收支的平衡

15. 下列选项中，史实与结论相符合的是

	史实	结论
A	1864年，上海煤气公司成立，此后自来水、电力、公路、电话等事业在上海发展起来	上海的城市基础设施建设达到世界水平
B	19世纪末20世纪初，美、德等新兴工业国家兴起，英国的贸易垄断地位被打破	美国成为唯一的世界贸易中心
C	20世纪50年代以后，人工智能技术不断创新发展	开启了电子计算机时代
D	2009年，中国开始推进人民币的国际化。2016年，人民币成为主要的国际储备货币之一	中国在国际金融领域影响力提高

## 第二部分

本题共 5 题，共 55 分

16. (8 分) 郡县制度

材料一 唐朝柳宗元在《封建论》中说：“秦有天下，裂都会而为之郡邑，废侯卫而为之守宰……今国家尽制郡邑，连置守宰，其不可变也固矣。”

材料二 明末清初顾炎武在《郡县论》说：“封建之废，非一日之故也，虽圣人起，亦将变而为郡县。”

材料三 学者钱穆说：“秦汉以来的郡县制，到今天民国时代还存在，中国之永为统一国，此项制度实贡献过其甚大之绩效。”

(1) 依据材料一和材料二，分别概括柳宗元和顾炎武对郡县制度看法。(4 分)

(2) 依据材料三，并结合所学，谈谈你对钱穆观点的认识。(4 分)

17. (12 分) 白银货币

材料一 明太祖洪武元年(1368 年)置宝源局于应天，铸“大中通宝”钱，与历代钱兼行。”洪武七年(1374 年)，明太祖设宝钞提举司。洪武八年(1375 年)，明太祖命中书省造大明宝钞，命民间通行，宝钞作为法定货币。在民间金银不能通行于交易中。洪武二十七年(1394 年)，每贯宝钞只能兑换一百六十枚铜币，贬值已经超过六倍。宣德时期，政府重申并加强了对民间使用白银的禁令。正统元年(1436 年)，“收赋有米麦折银之令，遂减诸纳钞者，而以米银钱代替宝钞，弛银之禁。朝野率皆用银，共不者乃用钱……”

——据《明史·食货志》整理

材料二 当代学者搜集了明代洪武至成化年间徽州祁门土地买卖契约将其使用通货类别情况统计如下

时间	使用通货类别(买卖的结算方式)			
	宝钞(张)	银(张)	谷物(张)	绢布(张)
洪武年间(1369—1398 年)	37	6	5	
建文年间(1399—1402 年)	7	11	4	
永乐年间(1403—1424 年)	84	1	14	3
宣德年间(1426—1435 年)	9	1	9	21
正统年间(1436—1449 年)		35	7	12
成化年间(1465—1487 年)		90		

(1) 依据材料一概括洪武、宣德、正统三个时期白银货币地位的变化，并结合所学，简析导致白银货币地位变化的原因。(6 分)

(2) 对比材料一，举例说明，材料二土地买卖契约统计对研究明代白银货币地位的价值。(6 分)

## 18. (13分) 中医发展

材料一 中国古代中医针灸疗法的传播示意图



材料二 19世纪30年代,近代第一家西医医院眼科医局在广州创办。鸦片战争后,西医凭借医疗设备对各种疾病作出诊断,逐渐受到欢迎。西医的发展,引起了各界人士的关注。梁启超认为发展医学是变革图强、追求人类社会文明进步的重要组成部分。虽然在民间大部分民众仍然就诊于中医,但在一些城市中,学习西医的民间组织和宣传西医的报刊杂志纷纷出现。1903年,清末制订的“癸卯学制”中,将医科大学作为新学制的重要组成部分,虽然中医学仍列29门医学科目之首,但是其他28门科目皆属西医范畴。

1916年,一批留学归来的学者开始批判中医,以西方现代自然科学理论全面否定中医学理论之势兴起。1929年,国民党政府通过了取消中医的决议案。中医界发起抗争,也引起了社会各界的关注和支持,废止中医的决议案最终并没有真正实行。从此,中医人士纷纷创办中医学会、开办中医学校、中医院、创办期刊宣传中医理论。中医界积极探索中医发展出路,提出了“中西医汇通”、“中医科学化”等方案。但是中医学发展仍然缓慢。

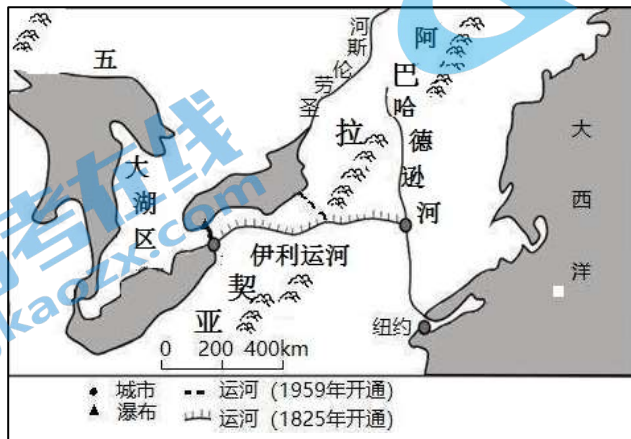
新中国成立后,在党和政府的推动下,制定了中西医结合的方针,新老中西医团结协作,使得中医的治疗水平取得很大进步。

(1) 依据材料一,指出中国古代中医针灸疗法传播的特点。(4分)

(2) 结合材料和所学,评析近代以来中医的发展。(9分)

## 19. (10分) 交通与经济发展

材料一 伊利运河示意图



材料二 1825年通航的伊利运河,是美国第一条提供东海岸与西部内陆快速运输的通道,向东可以通往纽约以及整个东北地区,将五大湖与纽约连为一体。伊利运河的开辟,突破了阿巴拉契亚山脉的阻隔。西部的农牧产品、木

材、矿石可以经过这条水路运往纽约。东部的工业品、日用品也可以源源不断地运往西部的沿河地区。1867年，纽约州的商业贸易额与进出口总额合计达56亿美元，使纽约一跃成为美国的经济和金融中心。伊利运河沿岸一些城市都发展成为经济多元化的工商业大都市，伊利运河被称为“城市之母”。五大湖区东面的阿巴拉契亚山地是美国最重要的煤田，其储量占全国的一半；西面和南面是美国重要的铁矿产区，蕴藏量约占美国的80%；采矿设备多由东部的匹兹堡等工业中心生产，经过伊利运河及其支线运往五大湖，催生了五大湖工业区的雏形。伊利运河的成功带动了美国各州建设运河的热潮，其中多数运河走向为东西向，旨在构建便于东西部区域联系的交通网络。结合材料和所学，以伊利运河为例，论述交通运输对美国经济发展的影响（10分）

20.（12分）新中国的法治建设

时代	法律文献
20世纪50年代	1950年《中华人民共和国土地改革法》 1954年《中华人民共和国宪法》 《中华人民共和国国务院组织法》 《中华人民共和国人民法院组织法》 《中华人民共和国人民检察院组织法》
20世纪80年代	1982年《中华人民共和国宪法》 《中华人民共和国商标法》 1983年《中华人民共和国中外合资经营企业法实施条例》 1986年《中华人民共和国民法通则》
20世纪90年代	1992年《中华人民共和国工会法》 1994年《中华人民共和国劳动法》 1999年《中华人民共和国宪法修正案》 《中华人民共和国合同法》

阅读材料，任选两个时代，结合时代背景，阐释国家发展与法治建设的关系。（12分）

# 2022 北京昌平高二（上）期末历史

## 参考答案

第一部分共 15 题，每题 3 分，共 45 分

1.C 2.D 3.B 4.A 5.D 6.D 7.C 8.A 9.B 10.C 11.B 12.B 13.A 14.C 15.D

第二部分共 5 题，共 55 分

16. (8 分)

(1) (4 分)

柳宗元认为：郡县制的形成是不以人的主观意志为转移的，是不可改变的。

顾炎武认为：郡县制的形成是历史发展的必然结果

(2) (4 分)

认识：郡县制作为中央集权制下的地方行政制度，是适应中国古代社会发展需要的一种政治制度。郡县制对巩固国家统一产生了很大作用。因此，钱穆肯定郡县制的巨大贡献。

17. (12 分)

(1) (6 分)

变化：洪武年间禁止民间使用白银。宣德年间，政府加强了对民间使用白银的限制。正统年间政府放松了对使用白银的限制，白银成为纳税货币，白银开始广泛流通。

原因：宝钞的贬值，商品经济发展，税制变化，使政府逐渐放松了对白银的限制。

(2) 6 分

价值：与《明史》形成互证，为研究提供更多的依据。如：正统年间白银使用数量增多，与《明史》记载正统年间禁令放松形成互证。为研究提供了新的视角。如：《明史》记载洪武和宣德年间政府禁止民间使用白银，但是契约反映民间仍存在使用白银的现象。

18. (13 分)

(1) (4 分) 特点：先向东传播、后向西传播（8 世纪中医针灸疗法向东传入朝鲜、日本，宋元以后通过丝绸之路传入欧洲和西亚、北非），传播范围广泛。（两个方向传播）

(2) (9 分)

参考示例：

鸦片战争后，由于西医采取了先进的技术和设备，开始得到城市市民的认可。西医的传播符合当时向西方学习的时代潮流，研究西医者增多，甚至梁启超将发展西医与变革图强、文明进步相结合。清末新政教育改革中，西医地位提高，中医开始受到挑战。在晚清时期，中医虽然仍得到大部分民众认可，但其优势地位受到了冲击。

民国时期，由于受留学热潮和新文化运动的影响，一些学者以西方自然科学理论审视中医传统理论，中医被否定，一度有被政府取缔的危险。中医人士由此开始大力宣传，并探索中西医汇通，中医科学化等新的发展道路。在这一时期，中医虽然地位岌岌可危，但也开始了转变和发展的历程。

新中国成立后，中医事业受到国家重视，通过中西医结合方针的指导和各方协作，获得新的发展，使古老的中医焕发新生。

综上，中医的曲折历程与近代以来中国社会的变化紧密相关。这一历程也说明了传统文化只有在不断创新、与其他文化的交流互鉴中持续发展。

19. (10分)

参考示例：

论述：伊利运河的开通，突破了阿巴拉契亚山脉的阻隔，沟通了美国东西部。

通过伊利运河，为美国纽约等东部城市提供了来自西部的原料，推动纽约发展成为国际化商贸中心。同时，又将东部的工业品运往西部的市场。

伊利运河推动了五大湖区采矿业的发展，为五大湖工业区的形成创造了条件，促进了美国工业革命的发展。

伊利运河促进了运河沿途城市发展成为工商业大都市，推动了美国城市化进程。

伊利运河带动了交通事业的发展，促进美国构建完善的运河交通网络体系。

由此说明，工业革命的需求带动了交通运输业的发展，交通运输业的发展推动了美国工业化向纵深发展。

20. (12分)

20世纪50年代前期，正值我国由新民主主义向社会主义过渡时期。《中华人民共和国土地改革法》的颁布，使农民从封建土地制度的束缚中彻底解放出来，促进了农村生产力提高，巩固了新生的人民政权。《中华人民共和国宪法》等法律的颁布，以法律的形式确立了社会主义的政治制度，进入中国社会主义法治建设的初创阶段，社会主义法治是社会主义国家实现广大人民意志的法律制度。

20世纪80年代，我国进入改革开放和社会主义现代化建设新时期。改革开放后，中共中央为了保障人民民主，必须加强社会主义法制，保障法律面前人人平等。1982年《中华人民共和国宪法》的颁布，有利于加强社会主义法治建设。《中华人民共和国商标法》《中华人民共和国中外合资经营企业法实施条例》等法律的颁布，为改革开放提供了法律保障。我国法治建设进入新的发展时期。

20世纪90年代，我国处于改革开放深入发展时期，对法治建设提出了更高的要求。《中华人民共和国工会法》《中华人民共和国劳动法》《中华人民共和国合同法》的颁布，适应了社会主义市场经济的需要，有利于保障劳动者权益，规范经济行为。《中华人民共和国宪法修正案》将“实行依法治国，建设社会主义法治国家”写入宪法，国家法治建设得到进一步加强。推动我国社会主义制度不断完善和发展，为实现中华民族伟大复兴奠定了坚实的法制基础。



## 北京高一高二高三期末试题下载

北京高考资讯整理了【2022年1月北京各区各年级期末试题&答案汇总】专题，及时更新最新试题及答案。

通过【北京高考资讯】公众号，对话框回复【期末】或者底部栏目<试题下载→期末试题>，进入汇总专题，查看并下载电子版试题及答案！

