

平谷区 2021—2022 年度第一学期高三年级质量监控

思想政治试卷

第一部分（选择题 共 45 分）

在每小题列出的四个选项中，只有一项是最符合题目要求的。本部分共 15 小题，每小题 3 分，共 45 分。

1. 高三某班围绕“中国特色社会主义的实践探索”进行探究活动，小新同学整理了如下内容



公私合营盛锡福帽厂



第一届全国人民代表大会召开



十一届三中全会公报
小新同学探究的主题可能是



1978 年和 2017 年 GDP 比较

- A. 伟大的改革开放
- B. 中国日益走近世界舞台正中央
- C. 只有社会主义才能救中国
- D. 改革开放前与改革开放后两个历史时期的关系

2. 中国共产党对我国社会主要矛盾的认识根据社会发展变化而不断调整和深化。

时间	社会主要矛盾
1956 年	人民对于建立先进的工业国的要求同落后的农业国的

(党的八大)	现实之间的矛盾, 人民对于经济文化迅速发展的需要同当前经济文化不能满足人民需要的状况之间的矛盾
1981年 (党的十一届六中全会)	人民日益增长的物质文化需要同落后的社会生产之间的矛盾
2017年 (党的十九大)	人民日益增长的美好生活需要和不平衡不充分的发展之间的矛盾

下列选项分析正确的是

- ①对社会主要矛盾的认识和把握, 坚持了一切从实际出发, 使客观符合主观
- ②矛盾双方的对立推动事物发展, 正确把握主要矛盾, 才能更好促进社会发展
- ③社会主要矛盾的变化, 没有改变我国处于社会主义初级阶段的基本国情
- ④观察和把握社会主要矛盾, 始终把人民利益作为一切工作的出发点和落脚点

A. ①② B. ①④ C. ②③ D. ③④

3. 近年来, 我国对铁路行业的市场准入逐步放宽限制, 鼓励民间资本参与铁路建设和经营。随着各种资本的涌入, 激烈的竞争迫使各家企业纷纷亮出“奇招”。某公司利用自身优势, 引入大数据分析技术, 把当地居民和产业的需求与铁路运输进行匹配, 更好地满足了市场的需求, 带动了当地经济和社会的发展。下列选项对竞争能增进消费者福祉的分析正确的是

- ①市场竞争——灵敏捕捉市场信息、发现市场机会——更好满足消费者需求
- ②市场竞争——不同所有制经济相互学习、取长补短——国有企业发展壮大
- ③市场竞争——提高管理水平和资源配置效率——满足消费者更多需求
- ④放宽市场准入——民营经济发展壮大——调整优化所有制结构

A. ①② B. ①③ C. ②④ D. ③④

4. “如果是以前, 至少得跑四次大厅, 每次准备一大堆材料, 现在只需一次就办好了!”北京市积极落实国务院的部署, 连续5次集中出台优化营商环境改革举措, 企业设立登记等事项实现“一次告知、一表申请、一套材料、一窗受理、一网办理、一口发证”。下列选项分析正确的是

- ①北京市落实国务院的部署, 体现了我国的政权组织形式
- ②改革举措提升了政府公共服务效能, 激发了市场主体活力
- ③深化改革改变政府职能, 规范权力运行, 提高依法行政能力
- ④改革举措强化对政府权力的监督, 推进科学决策民主决策

A. ①③ B. ①④ C. ②③ D. ②④

5. 科学的宏观调控, 有效的政府治理, 是社会主义市场经济体制优势的内在要求。下列选项对我国政府经济职能和作用分析正确的是

	经济职能	措施	作用
A	制定国家经济发展战略和规划	国家制定《中华人民共和国国民经济和社会发展第十四个五年规划和2035年远景目标纲要》	保持宏观经济稳定

B	实施国家宏观经济政策	2022年继续实施积极的财政政策和稳健的货币政策。积极的财政政策要提升效能，更加注重精准、可持续。稳健的货币政策要灵活适度，保持流动性合理充裕	克服经济发展的周期性
C	加强市场监管	清理和废除妨碍全国统一市场和公平竞争的各种规定和做法，严禁并惩处各类违法行为	规范市场秩序，促进公平竞争
D	加强和优化公共服务	某省努力实现教育资源优质均衡配置；深化公立医院改革，县乡医疗机构一体化改革提质增效	缩小收入差距，促进共同富裕

总结经验是一种良好的工作方法，更是改进工作的有效形式。回答6、7题

6. 高度重视和善于总结历史经验，是中国共产党的一大特点和优势。

重要会议	通过的决议
1944年5月到1945年4月，党的六届七中全会	审议通过的《关于若干历史问题的决议》对党诞生以来的各个历史时期的主要经验教训进行了深刻总结，为当时新的革命形势下继续开辟人民解放事业的新胜利确立了思想准备。
1981年6月，党的十一届六中全会	审议通过的《关于建国以来党的若干历史问题的决议》，全面总结了新中国成立以后社会主义革命和建设的历史经验，指明了中国社会主义事业和党的工作继续前进的方向。
2021年11月，党的十九届六中全会	审议通过的《中共中央关于党的百年奋斗重大成就和历史经验的决议》对中国共产党成立以来团结带领人民进行波澜壮阔的百年奋斗史进行了深刻总结，有力激发为实现中华民族伟大复兴而奋斗的信心和动力。

重视和善于总结历史经验

- ①是党坚持解放思想、实事求是、与时俱进、求真务实的体现
- ②有利于探究和把握经济社会发展规律，增强党的民主执政本领
- ③有利于加强党的组织建设，发挥共产党员的先锋模范作用
- ④有利于党把握政治主动，增强工作的主动性、预见性和创造性

A. ①② B. ①④ C. ②③ D. ③④

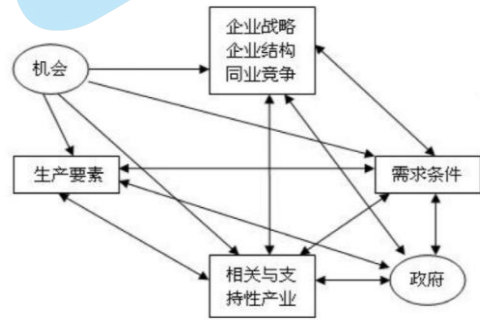
7. 总结好经验需要

- ①要运用系统性思维，对事物的各部分进行分析再形成整体性判断
- ②要坚持共性与个性的辩证统一，善于从特殊性中归纳普遍性
- ③要坚持从思维具体——思维抽象——感性具体的认识过程
- ④要发挥意识活动的直接现实性、创造性，能动地认识世界

A. ①② B. ①③ C. ②④ D. ③④

8. 国家竞争优势理论认为，影响一国竞争优势的是

各种条件综合作用的结果（如右图所示）。生产要素条件包括非技术工人、自然资源等初级要素以及现代基础设施、高学历人才、研究机构等高级要素。高级生产要素对获得竞争优势具有不容置疑的重要性。本国消费者需求层次高，则对相关产业取得国际竞争优势有利。政府通过政策调节来创造竞争优势。下列举措能够增强国际竞争力的是






- ①国家加强知识产权保护，营造良好的创新环境
 - ②积极参与国际分工与合作，发展组装业和制造业
 - ③形成以技术、品牌、质量、服务为核心的出口竞争优势
 - ④加强职业培训，提高劳动者素质，用脑力劳动取代体力劳动
- A. ①③ B. ①④ C. ②③ D. ②④

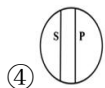
9. 山水画《江山如此多娇》布局奇巧，笔墨俱佳。江水曲折无波，帆船缓缓向前，山脉由近及远逐步推进，凸显空间感、纵伸感，其间草木、山石、鸟雀、幽亭共同营造出山水大美的意境，也给人一种“无限风光在险峰”的感受，观之令人振奋，感染力强。下列分析正确的有



- ①草木、山石、鸟雀、画作之间存在着必然的联系
 - ②其创作灵感源自于画家的文化底蕴和艺术思考
 - ③画面设计体现了近与远、有限与无限的和谐统一
 - ④说明优秀文化可以丰富人的精神世界
- A. ①② B. ①④ C. ②③ D. ③④

10. 某学习小组学习了“概念”的相关知识后，联系学习实际分析概念外延之间的关系。下列选项分析正确的是

- ①  全同关系，例：S：市场机制与P：“看得见的手”
- ②  属种关系，例：S：社会救助与P：社会保险
- ③  矛盾关系，例：S：实体经济与P：虚拟经济



④ 反对关系，例：S：劳动性收入与P：转移性收入

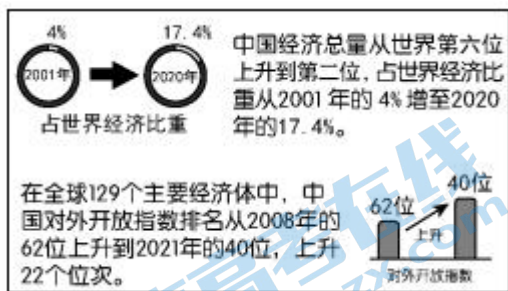
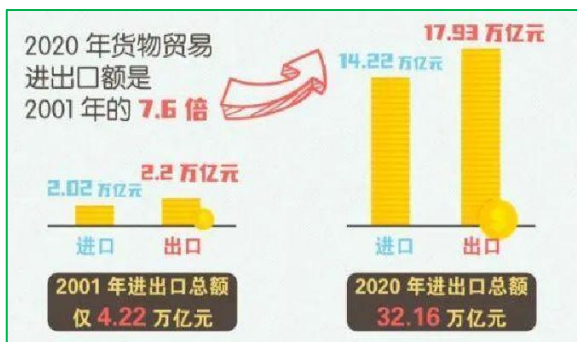
- A. ①② B. ①③ C. ②④ D. ③④

11. 一群牧民同在一块公共草场放牧，大家都想多养羊，这样就能多受益。然而，草地的承载力毕竟有限，如果对羊的数量没有任何限制条件，那么最后的结局必然是草场持续退化，直至无法养羊，最终导致所有牧民破产，这就是“公地悲剧”。“公地悲剧”给我们的启示有

- ①明确和稳定所有权，能够定分止争，促进资源的合理使用
- ②完善市场体系，发挥市场的决定性作用，增强可持续发展能力
- ③加强立法完善法律法规，严格执法，规范市场主体的经济行为
- ④健全优胜劣汰市场化退出机制，促进经济要素自由流动

- A. ①② B. ①③ C. ②④ D. ③④

12. 中国入世 20 年成绩单（2001—2021 年）



下列推论正确的是

- ①积极应对经济全球化的冲击和挑战，推动开放型经济水平的提高，促进市场经济发展
- ②中国经济快速增长，为世界提供了更广阔的市场，为全球经济增长提供了强大推动力
- ③中国是经济全球化的主导者，我们始终敞开胸怀、拥抱世界，积极作出中国贡献
- ④我国进出口结构不断优化，创新利用外资方式，维护国际秩序，促进共同世界发展

- A. ①② B. ①③ C. ②④ D. ③④

13. 回天地区是指北京市回龙观、天通苑地区。这里居住人口密度大，城市功能不完善，交通拥堵现象严重，是北京市城市治理的痛点区域。2018年，北京市启动“回天行动计划”，抓住物业管理、垃圾分类“关键小事”，强化党建引领，规划先行，动员多元治理，共建共享。经过持续治理，“规划失衡、管理失范、社会失治”问题得到有效遏制。居民参与社会治理意愿从40.6%提升到87.3%，催生了“回天有我”的价值观，居民实现从“一旁看”到“一起干”的身份转变。从唯物辩证法的总特征角度分析，“回天行动”治理模式

- ①重视在实践中形成正确价值观，并指导城市治理实践活动
 - ②把握联系多样性，善于分析和把握事物存在和发展的各种条件
 - ③掌握系统优化的方法，重视部分作用，用局部发展推动整体发展
 - ④正确认识主次矛盾辩证关系，坚持两点论与重点论相统一的方法
- A. ①③ B. ①④ C. ②③ D. ②④

14. “学以致用”，高三某同学总结了运用科学思维方法解答政治试题的方法，其中分析正确的是

- ①“运用所学知识分析某一现象的产生”类试题，适合运用发散思维，根据已知信息，多角度思考寻求问题答案
 - ②推导类试题需要把握事物之间的因果联系，寻找事物现象和本质之间的内在关系
 - ③“分析某一事件的影响”类试题，适合运用辩证思维，坚持矛盾分析法，全面分析其影响
 - ④“材料体现了哪些学科知识”类试题，适合运用演绎推理方法，从个别性前提得出一般性结论
- A. ①② B. ①③ C. ②④ D. ③④

15. 随着购物、外卖、社交、酒店旅游等电商市场集中度日益提高，有的平台运营公司利用优势地位和商家的依赖性，要求中小商家在不同平台间“二选一”，如果商家被发现在其他平台同时销售，平台运营公司会对商家进行惩处，甚至直接下线其所有商品。下列选项分析正确的是

- A. 公司把“二选一”作为经营战略，是获得竞争优势的重要手段
- B. 公司应加强与同类公司的联合，共同制定策略，进一步控制市场
- C. “二选一”是排除和限制竞争的行为，损害了消费者的自主选择权
- D. 针对此类行为，国家行政机关应及时进行查处，做到公正司法

第二部分（非选择题 共55分）

16. 实施乡村振兴战略，是新时代“三农”工作的总抓手，各地在推进乡村振兴的工作中积累了丰富的经验。运用《经济与社会》的知识，对下列经验进行点评。（6分）

经验	点评
某乡率先建立健全集体经营性建设用地入市办法和增值收益分配机制，拓展农业价值空间。	示例：坚持生产要素按贡献参与分配，推动资源优化配置，增加农民收入

某市郊区在乡村振兴中，实现农作物种植、农产品加工、农产品销售和农业观光旅游融合发展，提升农产品附加值，打造品牌农业。	①
某地依托现代信息技术，建设智慧农业大棚，通过信息平台，及时了解植物生长的动态信息，如空气湿度、土壤温度、细菌总量等，适时自动灌溉和控制，如出现异常情况，还会自动警示。	②

17. 北京冬奥会的成功举办，离不开一个个默默无闻的劳动者的辛勤付出。

王志新，国家高山滑雪中心压雪车司机，从2018年加入团队时毫无保障经验的“小白”，逐渐锻造成合格的赛事保障人员。

王志新说：“不想给自己留遗憾，不想有什么困难给自己吓倒、吓跑。只能在艰苦的环境中磨炼着，坚持着。”

在一次又一次尝试中，王志新掌握了高超的技巧，成为第一个能在最险要的赛道上单独操控压雪车的中国司机。

王志新说：“我们付出这三年就是为了在中国能开一届完美的冬奥会，我为冬奥会付出过，对我来说是一种荣誉。”“当滑雪运动员在自己做的雪道上取得好成绩的时候，真的很有成就感。”

运用《经济与社会》《哲学与文化》的相关知识，说明材料带给我们的启示。（8分）

18. 《北京市接诉即办工作条例》的立法过程始终保持与民意的良性互动，社会关切的问题、群众的合理的意见和建议在立法中得到充分体现，法规草案在反复讨论与审议之中不断打磨完善。

主体	意见和建议	法规回应
社区居民	优化精准派单流程，提高办理效率	对权责明确管辖清晰的，直接派；无法直接锁定承办单位的，由区政府组织相关单位协调办理；疑难复杂诉求可提前进行会商。

承办单位	发挥科技优势，形成街道层级的城市大脑	对诉求办理情况的数据进行全口径汇总，利用大数据、云计算、人工智能等科技手段，开展数据动态监测。
政协委员	希望对接线员定期培训	采取分级分类培训、工作指导交流、经验总结推广等措施，提升各有关单位工作人员的政治、法律、业务素质和工作能力。
人大代表	考核评价标准应该更人性化	督促与激励相结合，覆盖接收、派单、办理、主动治理等全流程，分级分类考评，对“吹哨”街道乡镇和“报到”部门进行双考核。

结合材料，运用《民主与法治》相关知识，说明《北京市接诉即办工作条例》的制定是发挥我国民主政治制度优势，坚持科学立法的过程。（8分）

19. 中国积极参与全球治理，获得越来越多国家的信任和尊重。

★在全球公共卫生治理方面，中国最早承诺将新冠疫苗作为全球公共产品，迄今已向120多个国家和国际组织提供近20亿剂疫苗，占中国以外全球疫苗使用总量的1/3，成为对外提供疫苗最多的国家。

★在气候变化领域，中国作出系列实质性贡献。2021年9月，中国宣布将大力支持发展中国家能源绿色低碳发展，不再新建境外煤电项目。

★在经贸合作领域，中国在多边合作机制下不断开放市场，推动全球经贸合作发展。2021年10月，中国加入全球最低企业税率协议，承诺对跨国公司实行更公平的税收，并从2023年起实行15%的全球最低税率。中国在“一带一路”倡议框架下，加强沿线国家基础设施建设，推动当地经济可持续发展。

结合材料，运用《当代国际政治与经济》的知识，分析中国获得越来越多国家的信任和尊重的原因。（6分）

20. 马克思主义是中国共产党人理想信念的灵魂，中华优秀传统文化是中华民族的精神命脉。马克思主义与中华优秀传统文化的融通和结合，不断推动着马克思主义中国化。

毛泽东创造性地解读“实事求是”一词，将其确立为党的思想路线。邓小平把“小康社会理想作为社会主义现代化建设的奋斗目标。

习近平用“于安思危，于治忧乱”警示党要始终满怀忧患意识、风险意识；用“政之所兴在顺民心，政之所废在逆民心”强调党要牢记全心全意为人民服务的宗旨。

(1) 推进马克思主义中国化，必须坚持把马克思主义基本原理同中华优秀传统文化相

结合。结合材料，运用文化的相关知识，谈谈对这一观点的理解。(9分)

(2) 综合运用所学知识，说明马克思主义基本原理同中华优秀传统文化的结合是辩证否定的过程。(6分)

21. 实现社会主义现代化是实现中华民族伟大复兴的必然要求，也是中国共产党人的使命承诺。

中国式现代化是社会主义性质的现代化。中国共产党从成立之日起，就把为中国人民谋幸福、为中华民族谋复兴作为矢志不渝的奋斗目标。在各个时期，我们党紧紧依靠人民，跨过一道又一道沟坎，夺取一个又一个胜利，取得举世瞩目的现代化成就，迎来了从站起来、富起来到强起来的伟大飞跃。让人民在国家发展中有更多的获得感、幸福感、安全感是中国式现代化的基本价值准则。

(1) 运用《政治与法治》和《哲学与文化》的知识，谈谈对这一价值准则的认识。(6分)

共同富裕，是“共同”和“富裕”的有机统一，需要处理好效率和公平的关系，既要做大“蛋糕”，又要分好“蛋糕”。共同富裕需要人人参与、各尽所能，必须用制度调动各方面积极性，让一切创造社会财富的源泉充分涌流。

(2) 阅读材料，综合运用所学，说明如何通过改革实现共同富裕。(6分)

平谷区 2021—2022 年度第一学期高三质量监控思想政治试卷

参考答案

第一部分（共 45 分）

1	2	3	4	5	6	7	8
D	D	B	C	C	B	A	A
9	10	11	12	13	14	15	
D	D	B	A	C	B	C	

16.（6 分）

- ①贯彻协调发展理念，产业结构升级，促进乡村高质量发展（3 分）。
 ②促进科技创新，实现现代科学技术与传统产业融合，发展现代农业。（3 分）

（解题思路：做什么——怎么样）

17.（8 分）

评分观察视角：

准确运用劳动精神、工匠精神、价值观的导向作用、价值判断与选择、价值的创造和实现等知识分析问题。

等级水平	等级描述
水平 4（7—8 分）	观点鲜明，能明确表达自己的见解；紧扣问题，从多角度深入分析；知识运用准确、贴切；逻辑严密，条理清晰
水平 3（4—6 分）	观点比较明确，能表达自己的见解；能扣住问题，运用多个知识展开论述，知识运用比较准确；逻辑性较强，有条理
水平 2（2—3 分）	观点不明确；论述不能集中指向问题，罗列知识；知识运用不正确；论述缺乏逻辑，条理性差
水平 1（0—1 分）	应答与试题无关；或重复试题内容；或没有应答

18.（8 分）

坚持人民代表大会制度，广泛听取人大代表的意见和建议，人民政协是我国政治生活中发扬社会主义民主的重要形式，发挥人民政协的参政议政职能，坚持民主立法，健全立法机关和社会公众沟通机制，广开言路，集思广益。发展社会主义协商民主，拓宽公民有序参与立法途径，保障人民知情权、参与权、表达权、监督权，集中群众智慧，是实现科学立法、民主立法的动力之源。

（其他角度回答，言之合理可酌情给分）

19.（6 分）

中国奉行独立自主的和平外交政策，以维护世界和平、促进共同发展为宗旨，坚持走和平发展道路，积极参与全球治理，承担国际责任，构建人类命运共同体。中国是经济全球化的贡献者，坚持互利共赢的开放和发展战略，推动经济全球化朝着更加开放、包容、普惠、平衡、共赢的方向发展。

（其他角度回答，言之成理，可酌情给分）

20.（1）（8 分）

中华优秀传统文化源远流长、博大精深，其核心理念、中华传统美德、中华人文精神等，与马克思主义基本原理具有内在统一性，能够成为滋养马克思主义中国化的丰厚土壤。马克

思主义是开放的理论,具有与时俱进的品质,能够把中华民族的价值共识、精神追求、政治智慧等寓于马克思主义中国化的理论成果中,不断开辟马克思主义新境界。实现二者结合才能丰富和发展马克思主义,才能更好促进中华优秀传统文化的继承和发展,不断铸就中华文化新辉煌。

答题思路提示:从“为什么能结合——结合的意义”等角度合理作答。

(2)(6分)

辩证的否定是肯定之中有否定,否定之中有肯定,辩证否定的实质是扬弃。推动马克思主义基本原理同中华优秀传统文化相结合,要坚持马克思主义科学的世界观和方法论的指导,辩证分析中华优秀传统文化,推动中华优秀传统文化的创造性转化和创新性发展,找准结合点,赋予其新的时代内涵,推动古老的中华文明不断焕发新的生机活力。

21.

(1)(6分)

评分观察视角:

准确运用党的性质、宗旨、根本立场、人民群众是历史创造者、正确的价值判断和选择等知识分析问题。

等级水平	等级描述
水平4(5—6分)	观点鲜明,能明确表达自己的见解;紧扣问题,从多角度深入分析;知识运用准确、贴切;逻辑严密,条理清晰
水平3(3—4分)	观点比较明确,能表达自己的见解;能扣住问题,运用多个知识展开论述,知识运用比较准确;逻辑性较强,有条理
水平2(1—2分)	观点不明确;论述不能集中指向问题,罗列知识;知识运用不正确;论述缺乏逻辑,条理性差
水平1(0分)	应答与试题无关;或没有应答

(2)(6分)

改革是社会主义社会发展的直接动力。实现共同富裕要积极推进改革。

推进生产资料所有制改革,促进多种所有制经济共同发展,调动各种市场主体的积极性,提高劳动生产率和资源配置效率,促进经济发展,为实现共同富裕提供物质基础。

推进收入分配制度改革,坚持按劳分配为主体,多种分配方式并存,完善个人收入分配,缩小收入差距,实现社会公平,促进共同富裕。

(从其它角度回答,言之成理,可酌情给分)

2022 北京高三各区一模试题下载

北京高考资讯公众号搜集整理了【**2022 北京各区高三一模试题&答案**】，想要获取试题资料，关注公众号，点击菜单栏【**高三一模**】—【**一模试题**】，即可**免费获取**全部一模试题及答案，欢迎大家下载练习！

还有更多**一模排名**等信息，考后持续更新！



微信搜一搜

北京高考资讯

A screenshot of the WeChat public account interface for '北京高考资讯'. On the left is a vertical menu with options: '一模试题' (highlighted with a red box), '二模试题', '高考真题', '期末试题', and '各省热门试题'. To the right of the menu is a QR code with the text '识别二维码查看下载 北京各区一模试题&答案'. At the bottom is a navigation bar with three items: '高三一模' (highlighted with a red box), '热门资讯', and '福利资料'. On the right side of the screenshot is a promotional graphic with an orange background. It features a cartoon student sitting at a desk with books, writing. Above the student are two speech bubbles: one says '这里有最新热门试题' and the other says '考后最快更新分享'.