

2016年普通高等学校招生全国统一考试

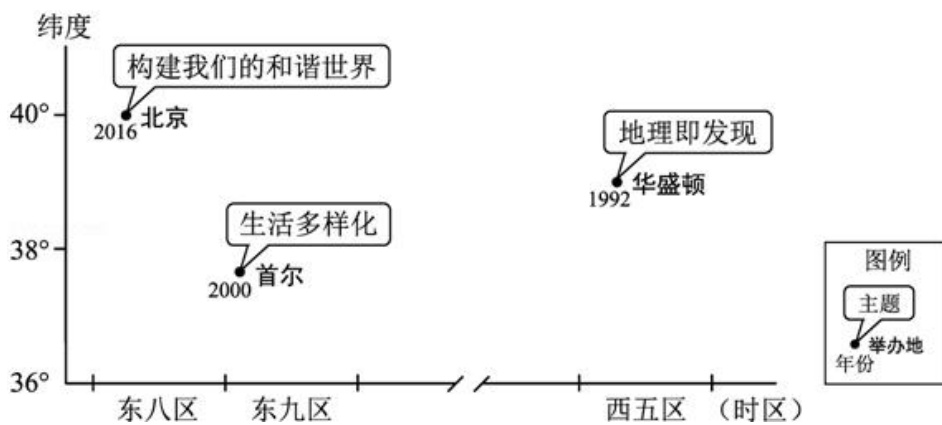
文科综合（北京卷）

本试卷共 15 页，共 300 分，考试时长 150 分钟，考生务必将答案答在答题卡上，在试卷上作答无效，考试结束后，将本试卷和答题卡一并交回。

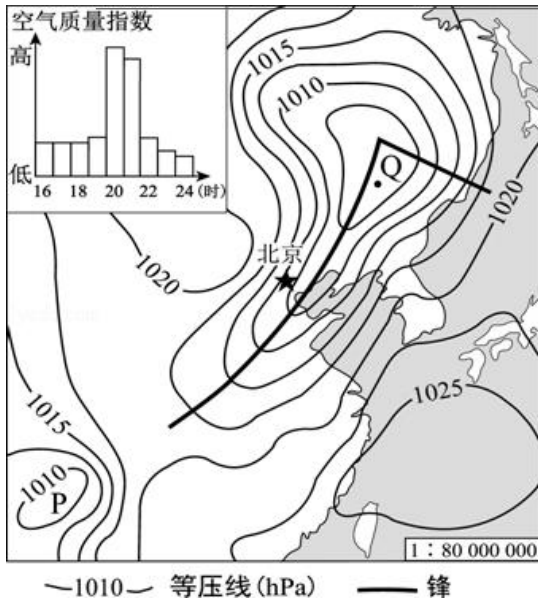
第一部分（选择题 共 140 分）

本部分共 35 小题，每小题 4 分，共 140 分。在每小题列出的四个选项中，选出最符合题目要求的一项。

2016 年 8 月 21 日 - 25 日，第 33 届国际地理学大会将在北京举行，往届大会曾在华盛顿等地举办，读图，回答第 1、2 题。



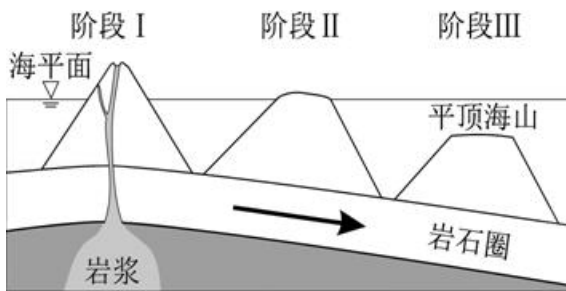
- （4分）本届大会期间，北京（ ）
 - 适逢中国农历处暑节气
 - 八达岭长城漫山红叶
 - 比首尔正午太阳高度大
 - 比华盛顿日出时间晚
- （4分）图中举办地所在国家（ ）
 - 位于北半球中纬度
 - 地处环太平洋灾害带
 - 人口增长模式不同
 - 南部沿海有寒流经过
- （4分）如图表示某日 20 时海平面气压分布及 16~24 时北京空气质量指数变化。读图，回答问题。



该日 20 时 ()

- A. 北京大风扬沙，空气污染加重
- B. 东海海域天气晴朗，风大浪高
- C. 低压天气系统中，P 强度最强
- D. Q 地位于暖锋锋前，出现降水

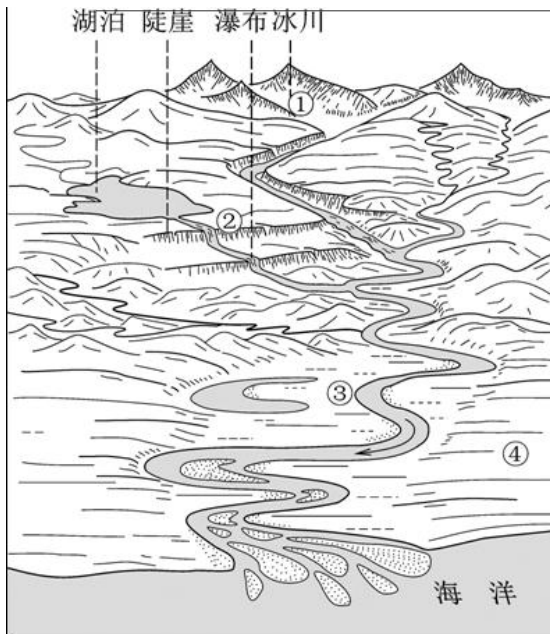
4. (4 分) 如图示意平顶海山的形成过程。读图，回答问题。



平顶海山 ()

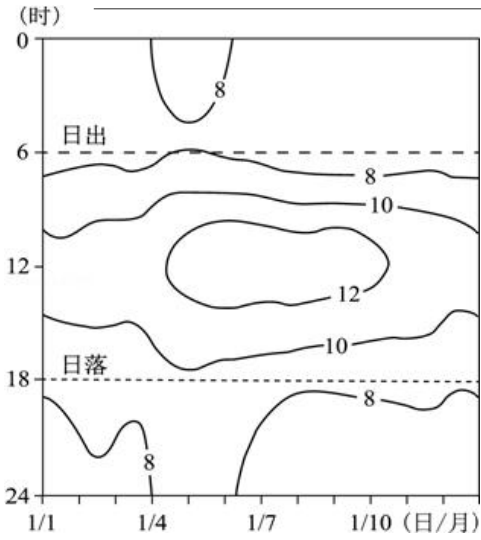
- A. 为褶皱山
- B. 由沉积岩构成
- C. 顶部形态由内力作用塑造
- D. 随着板块的移动没入水下

如图为某流域局部景观示意图。读图，回答第 5、6 题。



5. (4分) 图中 ()
- A. ①处冰川融化，湖泊水位升高
 - B. ②流量稳定，河流的落差小
 - C. ③处谷宽、流速慢，适宜修建水库
 - D. ④处地形平坦，农业生产条件优越
6. (4分) 若该图示意中国某流域，图中 ()
- A. 地理按 1: 10 万比例描绘，特征清晰
 - B. 冰川地处新疆，覆盖范围山脊延伸
 - C. 径流季节变化大，存在不同程度水患
 - D. 海域位于北回归线以南，港口数量少

如图为某山地气象站一年中每天的日出，日落时间及逐时气温(℃)变化图，读图，回答第7、8题。



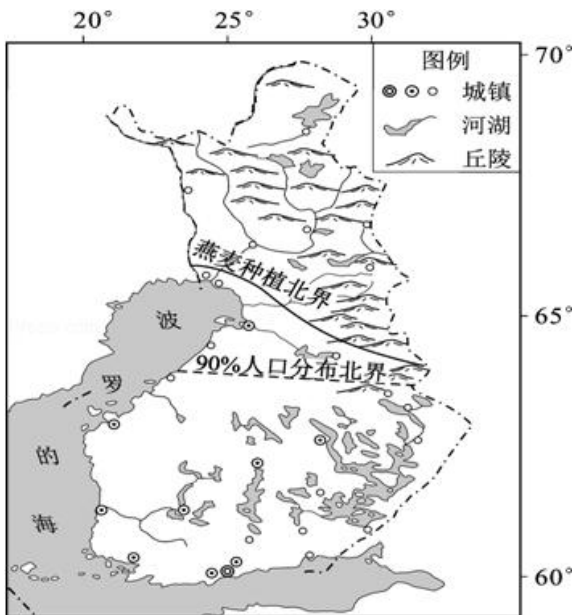
7. (4分) 气温日较差大的月份是 ()

- A. 1月
- B. 4月
- C. 7月
- D. 10月

8. (4分) 该山地 ()

- A. 冬季受副热带高压带控制
- B. 因台风暴雨引发的滑坡多
- C. 基带的景观为热带雨林
- D. 山顶海拔低于 1000 米

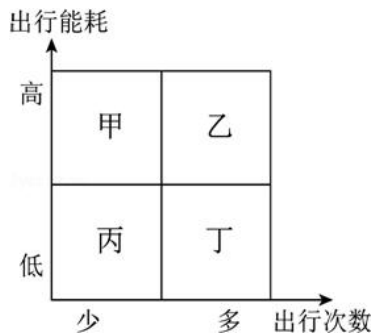
读图，回答第 9、10 题



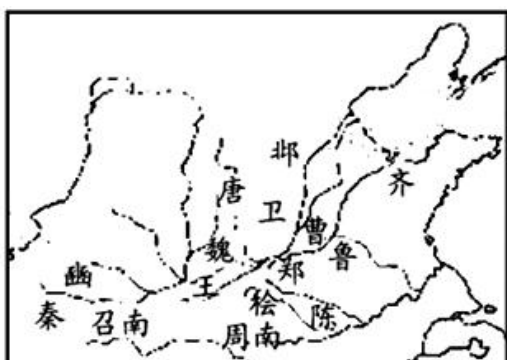
9. (4分) 芬兰 ()

- A. 盛行西风，终年温和多雨

- B. 山区水土流失严重，城镇数量少
- C. 人口稀疏区以大牧场放牧业为主
- D. 森林资源丰富，木材加工业发达
10. (4分) 燕麦种植北界呈图示走向，主要是由于该国 ()
- A. 东部地区的河湖密布，灌溉条件好
- B. 西部受暖流、地形影响，气温偏高
- C. 东南部土层较深厚，耕作技术高
- D. 西北部多晴朗天气，日照时间长
11. (4分) 城市居民往返于居住地和各功能区之间所耗费的能量总和，即出行能耗，如图示意某大城市居民出行次数与出行能耗的组合关系，读图，回答问题。



- 据图推断 ()
- A. 甲区多公共服务设施，靠近住宅区
- B. 乙是位于郊区的高新技术产业园区
- C. 丙区商业网点等级低，服务半径小
- D. 丁为中心商务区，能耗昼夜差异大
12. (4分) 中国古代有一部文学作品集，如图是其作品来源地域示意图，下列诗句出自这一作品集的是 ()



- A. 关关雎鸠，在河之洲
- B. 长门献赋汉相如，东篱赏菊陶元亮
- C. 汉代李将军，夺得匈奴马
- D. 政烦方改篆，愚俗乃焚书
13. (4分) 中国古代某一时期，朝廷与地方矛盾尖锐，某节度使派人到中书省办事，因其态度恶劣，遭宰相武元衡呵斥，不久，武元衡在靖安坊的东门被该节度使派人刺杀，此事发生在()
- A. 汉长安 B. 唐长安 C. 宋汴梁 D. 元大都
14. (4分) “神宗既用王安石为参知政事，安石为帝言天下财利所当开辟敛散者，低然其说，遂创立制置三司条例”“以通天下之利”，这说明，王安石变法初期的改革重点在于()
- A. 分散宰相权利 B. 加强皇权
- C. 加强军事实力 D. 增加财政收入
15. (4分) 黄宗德是16世纪一位典型徽商。最初他只是经营棉布、粮食等，后获得政府许可，转而从事利润更大的食盐贸易，积累了巨额财富，用于购田置地。这说明当时()
- ①农产品大量进入商品流通领域
- ②农本思想依然占主导地位
- ③政府放弃对食盐贸易的控制
- ④商人社会地位显著提高。
- A. ①② B. ②③ C. ②④ D. ①④
16. (4分) 17世纪来华传教士曾将《论语》《大学》等译为拉丁文在欧洲出版，19世纪中期传教士理雅各将多部儒家经典译成英文，在西方引起轰动。这表明()
- A. 儒家思想被西方学者普遍接受
- B. 中国传统文化在西方引起关注
- C. 中西文化交流限于传教士之间
- D. 儒家思想推动了西方政治革命
17. (4分) 一种名为“人造自来血”的补药曾在近代中国流行。图1和图2分别是1911年10月和11月刊登在《申报》上的广告。这两则广告的变化折射出()



图1



图2

- ①革命党人把广告当作发起武昌起义的宣传工具
- ②民国成立后商人积极投身中国政治变革的浪潮
- ③商人利用时局巨变及时调整营销策略
- ④民主共和已成为中国社会的发展趋势。

A. ①② B. ②③ C. ③④ D. ①④

18. (4分) 20世纪一二十年代，一位历史人物因创办《新青年》被誉为新文化运动的先驱，后又成为“五四运动的总司令”。此人（ ）

- A. 是中共“一大”上海组的代表
- B. 在中共“一大”被选为书记
- C. 提出“政权是由枪杆子中取得的”
- D. 指挥了“八一”南昌起义

19. (4分) “走向世界丛书”于20世纪80年代开始出版，所收著作记录了近代国人亲历西方的见闻感言，如容闳的《西学东渐记》、康有为的《欧洲十一国游记》等，反响极大。该丛书的出版（ ）

- ①展现了近代国人走出国门、了解世界的历程
- ②改变了近代中国闭关锁国、盲目自大的局面
- ③为中国改革开放、融入世界提供了历史借鉴
- ④开创了独立自主的和平外交新局面。

A. ①② B. ②③ C. ①③ D. ②④

20. (4分) 有经济史学家估算，16 - 18世纪，荷兰与英国人均GDP年增长率均高于同时代的其他国家。这一时期荷、英经济的高增长均得益于（ ）

- ①资本市场的发展

②世界工厂地位的确立

③资本主义世界体系的建立

④海外殖民掠夺。

- A. ①② B. ②③ C. ③④ D. ①④

21. (4分) 图中①②③④代表四个国家, 对其历史上发生的改革描述正确的是 ()



- A. 16世纪前期在①进行的改革, 削弱了教会权力, 实现了国家统一
 B. 19世纪初在②进行的改革, 推翻了奥斯曼帝国的统治
 C. 19世纪后期在③进行的改革, 废除了农奴制, 促进了资本主义发展
 D. 20世纪前期在④进行的改革, 建立了君主立宪制

22. (4分) 在美国第一届联邦政府中, 国务卿杰斐逊和财政部长汉密尔顿在内政外交等问题上出现严重分歧, 他们的追随者之间随之发生冲突。1796年大选中, 选民因地域、职业和政治倾向的差异分裂成不同的集团。这是美国一个重要制度的起源。这一制度是 ()

- A. 邦联制 B. 两党制 C. 议会制 D. 共和制

23. (4分) 电影往往是社会现实与舆论的一种反映。1943年, 好莱坞拍摄了一些歌颂苏联的电影, 比如《光荣的日子》《出使莫斯科》等。1948年, 苏联对美国的威胁成为好莱坞电影的重要主题之一, 这类影片有《铁幕背后》《红色威胁》等。与这一时期电影主题转变相关的政治环境有 ()

- ①“杜鲁门主义”的提出
 ②北大西洋公约组织成立
 ③欧洲煤钢共同体成立

④不结盟运动兴起。

- A. ①② B. ②③ C. ③④ D. ①④

24. (4分) 以天津“泥人张”作品为依托,“梦娃”系列公益广告运用三维技术绘制的形象萌动可爱,表达主题所用的童谣朗朗上口,深受大家喜爱。下列认识正确的有()

- ①该公益广告是文化传播途径创新的成功案例
- ②该公益广告是对社会主义核心价值观的生动表达
- ③该公益广告的成功表明面向人民大众的文化更富有生命力
- ④该公益广告的成功表明内涵丰富的中华文化是文化创新的动力。



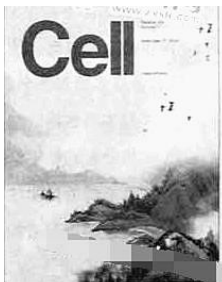
- A. ①③ B. ①④ C. ②③ D. ②④

25. (4分) “折戟沉沙铁未销,自将磨洗认前朝”,一件经历过战争的铁器,诉说着推动历史前进的必然和偶然;“君看六幅南朝事,老木寒云满故城”,一副古旧的画卷,描绘出凄清荒凉的六朝时景,令后人触目伤怀……文物是无言的百科全书,承载着珍贵的历史信息。加强文物保护、管理和利用()

- ①可以给文物保护部门带来较高的经济效益
- ②是推动我们文化事业发展的一项重要内容
- ③有利于传承和弘扬中华民族优秀传统文化
- ④能够使国家占据世界文化发展的制高点。

- A. ①② B. ①④ C. ②③ D. ③④

26. (4分) 某国际学术期刊的封面,用中国山水画形象地表现了中国某生物研究组的一项重要研究成果。山顶代表体细胞状态;连接各山顶的桥代表小分子,能够促进各山顶之间的横越;山水中的小舟代表转基因方法,通过不同的路线实现重编程。采用绘画形式表现科学研究成果反映了()



- A. 科学与艺术具有相通性
- B. 科学与艺术都来自于创新思维
- C. 科学与艺术都可以提高人的精神素养
- D. 艺术的传播需要借助科学的力量

27. (4分) 针对学生群体中的“拖延症”现象, 某校学生“创客”社团设计了一款手机应用软件, 该软件具有如下功能:

目标专注: 45分钟内, 专注于要完成的学习任务, 直到铃声响起, 休息5分钟后重新进入学习

任务拆分: 将无法一次性解决的复杂学习任务拆分为多个小任务

量化评估: 对学习任务的完成情况进行实时统计

同伴激励: 同伴各自将学习任务完成情况上传至平台, 相互激励

同学们从哲学角度对这一设计进行讨论, 下列分析合理的有 ()

- ① “目标专注”强调意识的目的性, 能使我心无旁骛, 抓紧时间
- ② “任务拆分”把整体分解成部分, 避免因为任务庞大而畏难不前
- ③ “量化评估”创造了新的规律, 督促我有条不紊地完成任务
- ④ “同伴激励”强调外部矛盾的作用更为重要, 大家会因此不甘落后。



- A. ①②
- B. ①③
- C. ②④
- D. ③④

28. (4分) 跑步正成为许多人青睐的健身方式。回答5、6题。

“奔跑, 两腿以最简单的方式交替前行, 无数次地重复, 但每一步都是新的迈进, 最后能成就一个看似难以企及的跨越。” “奔跑, 让我知道自己正在努力, 普通可以变得独特, 平凡可以变得卓越。” 从以上跑步爱好者的感受中, 可以领悟到 ()

- A. 人生价值的大小通常来自于个人体验
- B. 生命的意义在于社会对个体的肯定
- C. 人可以在量的积累中获得精神提升
- D. 人的意志不断推动社会发展

29. (4分) 跑步正成为许多人青睐的健身方式。回答5、6题。

“跑步热”的兴起，使一些城市的马拉松比赛吸引了众多的爱好者，赛事组织者常常面临报名者众多而参赛名额有限的困难。在解决参赛名额这一稀缺资源配置的难题时 ()

- ①先到先得的排队法能缓解供求矛盾
- ②随机分配的抽签法能实现资源的优质配置
- ③价高者得的拍卖法违背了市场竞争的公平原则
- ④优先本地报名者的做法是采用计划手段配置资源。

A. ①② B. ①④ C. ②③ D. ③④

30. (4分) 2016年中国在部分地区试点“一元券硬币化工程”，用一元硬币替代一元纸币；2015年丹麦公布了关于“无现金社会”的议案，计划用电子货币代替纸币；长期的恶性通货膨胀导致委内瑞拉货币面值极高，2008年该国政府发行新的货币，新币与旧币的兑换比例是1:1000。上述三个国家的方案和措施都 ()

- ①体现了国家拥有发行货币的权力
- ②改变了货币衡量的商品价格
- ③可以稳定物价，控制通货膨胀
- ④能方便交易行为，降低货币使用成本。

A. ①③ B. ①④ C. ②③ D. ②④

31. (4分) 在封闭经济条件下，某国国内市场土豆价格为每千克5元，国际市场土豆价格为每千克4元（按该国货币计价）。该国政府决定放开土豆的进出口贸易。假定不考虑国际贸易的成本，以及该国国内土豆供求变化对国际市场土豆价格的影响。在自由贸易条件下，下列说法正确的是 ()

- A. 该国国内市场土豆价格为每千克4元，该国为土豆出口国
- B. 当该国政府大力宣传土豆出口中国时，该国土豆产量将会增加
- C. 当该国土豆种植技术有大幅改进时，该国国内市场土豆价格不会发生变化
- D. 当国际市场土豆价格上涨50%时，该国国内市场土豆价格将为每千克5元

32. (4分) 汉文帝、汉景帝统治期间，经济恢复，社会稳定，史称“文景之治”。这个时期，朝廷改变了自商鞅以来的全面管制政策，对工商业采取放关税、“弛山泽之禁”的政策，对农业采取“轻徭薄赋”的政策，文帝曾两次“除田税之半”。关于“文景之治”时间的政策理念，正确的判断有 ()

- ①与斯密和李嘉图共同的政策主张比较接近

②与“罗斯福新政”的国家干预模式有相似之处

③与深受供给学派影响的“里根经济学”比较接近

④与西方现代市场经济的日本模式有相似之处。

- A. ①② B. ①③ C. ②④ D. ③④

33. (4分) 2016年北京市某中级人民法院受理了多起以区政府为被告的行政案件,涉及环保、社会保障、食品药品安全等重点社会民生问题,许多区政府负责人主动出庭应诉。行政机关负责人主动出庭应诉()

- ①表明行政机关积极接受法治部门的内部监督
②表明行政机关积极接受司法机关的监督并对其负责
③有利于行政纠纷的实质性解决与公共政策的改进
④有利于化解矛盾,实现法律效果与社会效果的有机结合。

- A. ①② B. ①③ C. ②④ D. ③④

34. (4分) 如图是亳州市谯城区人大代表的选票。关于这张选票,下列说法正确的是()

代表候选人按姓名笔画排列				(第10选区)		
符号				符号		
候选人姓名	丁某	王某	陈某	另选人姓名		

说明: 1、应选代表2名, 多选无效, 等于或少选有效。
2、选票上名单为正式代表候选人名单, 同意的请在姓名上方符号栏内画“○”, 反对的画“×”, 弃权不画任何符号。若另选他人, 请在另选人姓名栏内填写姓名并在姓名上方符号栏内画“○”, 不画“○”的无效。

- A. 根据选票所反映的信息, 可判断该选举为间接选举
B. 根据选票所反映的信息, 可判断该选举为差额选举
C. 根据选票推测, 该区人大代表所代表的人口数比农村人大代表的4倍
D. 在另选人姓名栏内填写自己的姓名, 并在上方符号栏内画“○”, 该选票无效

35. (4分) 某高中生在准备以“现代文官制度的起源与发展”为题的发言时, 整理出下列文献资料从政治学角度看, 资料中存在错误的有()

- ①1855年, 英国政府颁布了文官制度改革的第一个枢密院令, 该法令规定成立不受党派干涉的文官事务委员会, 委员由首相奏请国王任命
②1867年, 经过议会改革, 英国议会共和制进一步加强, 新型工业资产阶级取代土地贵族获得了在下院的主导地位, 要求继续推进文官制度改革

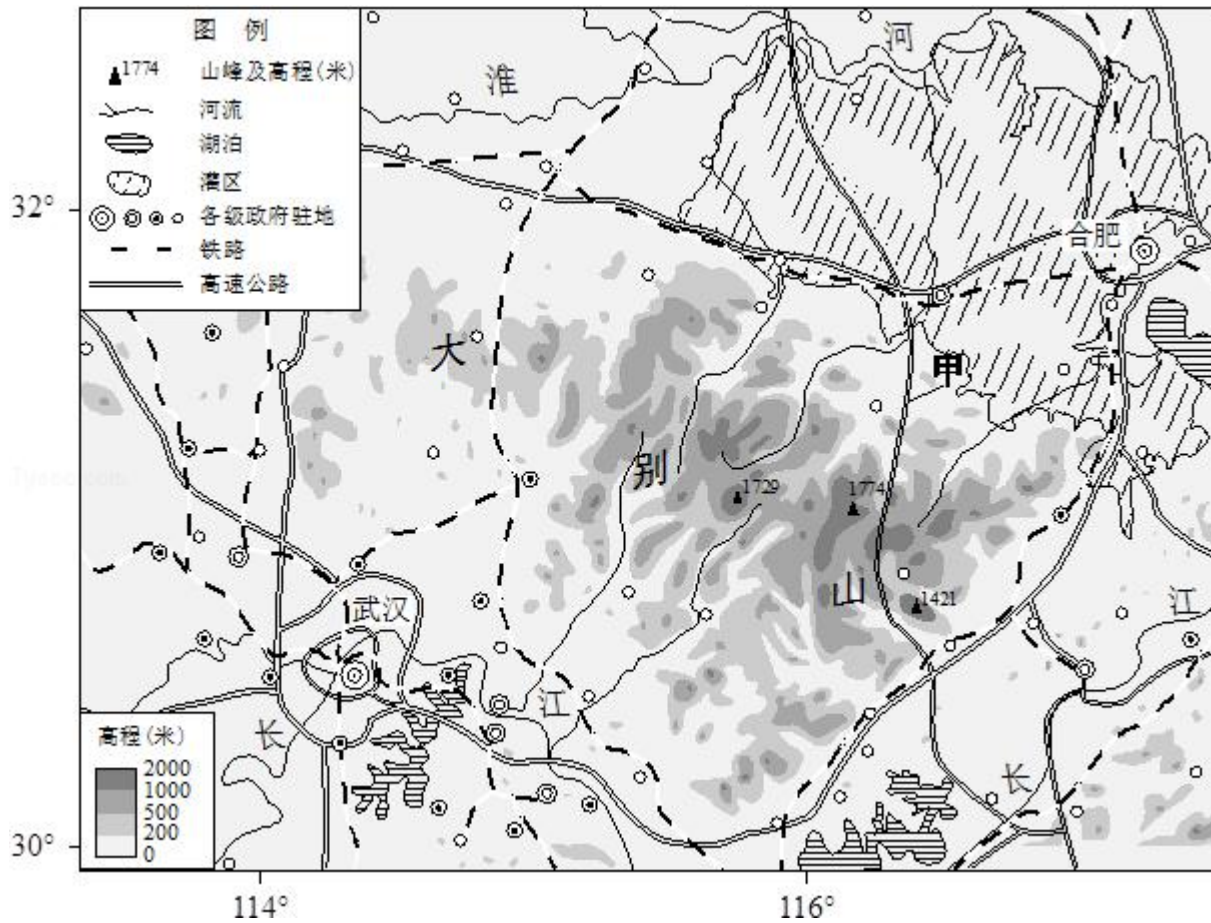
③1829年，安德鲁·杰克逊任总统后，美国交替执政的政党把官职作为战利品，公开进行“政党分肥”，造成政府腐败，民众迫切要求对文官制度进行改革

④1883年，美国总统签署了国会通过的《文官法》，规定成立联邦政府公务员管理机构——文官委员会，委员由总统提名，经众议院同意产生，向国会负责。

- A. ①③ B. ①④ C. ②③ D. ②④

第二部分（非选择题 共160分）

36. (36分) 读图，回答下列问题.



古人登上大别山主峰，不禁感叹南北两侧的景色：“山之南山花烂漫，山之北白雪皑皑，此山大别于他山也！”

(1) 推断古人登山的时间，分析该季节南北景色差异的原因。

图示灌区是我国高产农田建设的重点区域之一，该区水利工程具有“蓄、引、提、排相结合”的特色。

(2) 简述形成该特色的自然条件，说明灌区水利工程在高产农田建设中的功能。

(3) 分析甲高速公路施工难度大的原因，概述该公路对大别山区社会经济发展的影响。

国家大力推进信息化，工业化协同发展，实施精准扶贫政策，为大别山区农产品加工业发展带来新契机。

(4) 阐述大别山区发展农产品加工业的有利因素。

37. (36分) “教育是一个民族最根本的事业”

- - 邓小平

材料一 董仲舒按人性把人分为上中下三个等级，占人口多数的“平民”是教育的主要对象。他主张设立各级学校，教授儒家经典，将他们培养为“笃于礼薄于利”“以天下为忧”的君子，以使得“教化大行，天下和洽”。

古罗马教育家昆体良（35 - 98 年）认为，学校教育优于家庭教育，培养演说家是公民教育的重要目标。他还认为，完美的演说家“不仅要有超群的演说天赋，还要有完美的品格”“能尽公民之义务，能在公私事务中完成使命，能以终稿引导国家，能以立法奠定其雄厚基础”。

(1) 阅读材料一，概括董仲舒和昆体良教育主张的相同点。

材料二 严复认为：“西之教平等，故以公治而贵自知”“将教育者，其实常三宗；曰体育，曰智育，曰德育，三者并重”。

1912 年，蔡元培批评清政府的教育宗旨说：“忠君与共和政体不合，尊孔与信教自由相违”。同年，中华民国教育部公布的《教育宗旨》规定：“注意道德教育，以实利教育、军国民教育编之，更以美感教育完成其道德”。

1957 年，毛泽东提出：“我们的教育方针，应该使受教育者在德育、智育、体育几方面都得到发展，成为有社会主义觉悟的有文化的劳动者”。

1955 年，《中华人民共和国教育法》规定：“教育必须为社会主义现代化建设服务，必须与生产劳动相结合，培养德、智、体等方面全面发展的社会主义事业的建设者和接班人”。

(2) 阅读材料二，概括中国近现代教育目标的特点：结合时代背景对此进行分析。

材料三 人文教育是欧洲教育的传统。19 世纪，英国知识界对教育的内容展争论。一派认为，科学（自然科学和应用科学）应该是教育的主体内容，它是文明的基础和核心，是国家富强之所在。教育不能只培养绅士，而是要满足社会以的现实需要，但科学在教育中几乎没有获得应有的分量。另一派则认为，古典人文科目（语文、文学、哲学、历史、数学等）仍然应该是教育的核心内容。人文教育不仅追求纯粹知识，还是人类实现美、快乐、自由和道德的途径。类似的争论在近现代很多国家都发生过。

(3) ①概述这一教育争论在英国出现的时代背景。

②教育内容既受限于历史时代，又对历史发展产生影响。你如何看待上述教育争论中的观点？运用中外历史发展进程中的重要史实加以论述。

要求：观点明确，史实充分，史论结合，逻辑清晰。

38. (32分) 阅读材料，完成下列要求。

材料一 发端于 20 世纪中叶的数字革命，创造出不断进化的“灵长类机器”。90 年代实验室里的超级计算机，占地有一个网球场的面积那么大，成本高达 5000 万美元；20 年后寻常百姓家中的平板电脑，像杂志一样的轻薄，运算能力更胜一筹，成本却不到 500 美元。

数字时代人类能够处理和利用的知识信息实现了爆炸式增长。手机的导航应用程序自动接收车辆的定位信息，分析实时路况，告诉司机到达目的地的最佳路线；健康数据库公司通过可穿戴式设备检测海量普通市民的个人健康状况，协助医生进行精准治疗。

数字技术让人与人之间的连接变得空前广泛和紧密。你的一天可以这样度过：早上用拼车软件叫了一辆私家车顺路载你去上班；中午从短租网站上联系了一个背包客，准备把闲置的房间租给他；晚上接受了五位网友的求助，帮他们修改程序代码。

材料二 有研究认为，不同职业被电脑取代的概率主要取决于其社交性、创造性以及感知和操控性的强弱。



【注】“感知和操控性”指灵敏、协调的操作能力和应付复杂工作环境的能力。

(1) 阅读上述材料，阐述科学技术的进步怎样影响了个人的经济生活。

材料三 无人驾驶汽车是一种主要依靠车内计算机系统来实现无人驾驶的智能汽车，这一技术的应用可以减少交通事故、改变城市拥堵状况、节约能源消耗，甚至将影响人们的生活方式和观念。国内外各大汽车制造商和互联网公司纷纷投入巨资开发研制。但是，无人驾驶汽车的发展也面临一些问题。比如，汽车上路的标准是什么？发生交通事故后，汽车制造商、软件开发商和车主，谁来承担责任？黑客入侵带来的安全隐患如何避免？车主的位置信息等如何保护？

(2) 结合材料三，运用《政治生活》相关知识，分析应该如何推进我国无人驾驶汽车的发展。

材料四 由于技术正在变得强大而廉价——而且更加无处不在，所以越来越多的个人手中都已经掌握了这种力量。掌握这些力量的个人并不都是理智的，意图良好的，如基因组测序领域的突破能够治愈疾病，也能用于生产天花病毒的攻击性版本。

——（摘自《第二次机器革命》）

不管是在当今还是在未来，科技都可能造成破坏，但我们的生活受惠于科技变得更好了，这也是真真切切的事实。我想环境可能是个很好的例子。伦敦现在的天气说不上纯净无暇，但也比 50 年代爆发煤炭烟雾事件那会儿强太多了，人类文明的进步需要依靠持续的技术革新，没有科技，我不认为我们能解决气候变化和贫困问题。

- - - (摘自《人与机器共同进化》)

这样了不起的应用科学，它既节约了劳动，又使生活更加舒适，为什么带给我们的幸福却那么少呢？坦率的回答是，因为我们还没有学会怎样正当地去使用它。

如果你们想使你们一生的工作有益于人类，那么，你们只懂得应用科学技术本身是不够的。关心人的本身，应当始终成为一切技术上奋斗的主要目标；关心怎样组织人的劳动和产品分配这样一些尚未解决的重大问题，用以保证我们科学思想的成果会造福于人类，而不致成为祸害。

在你们埋头于图表和方程时，千万不要忘记这一点！

- - - (摘自《爱因斯坦文集》“对加利福尼亚理工学院学生的讲话”)

(3) 阅读上述材料，围绕“科技与人的关系”这一主题，自选角度，自拟题目，运用《生活与科学》相关知识，写一篇 200~300 字的短文。

要求：观点鲜明；可以全面论述，也可以就某一点深入分析；知识运用准备、贴切；论述合乎逻辑，条理清晰。

39. (12 分) 某校开展“我为社区献一策”的社会实践活动，下面是一组同学撰写的调查报告。请在横线处按要求填写内容。

某小区“潮汐式”停车方案调查报告

(一) 调查背景

某小区建成于 20 世纪 80 年代，未规划停车位，且无专门物业公司管理。近年来，“停车难”成了小区居民头疼的问题。针对这一问题，居委会积极采取应对措施。第一阶段，应部分居民要求，居委会将小区绿化用地改造为停车位，但遭到另一些居民的强烈反对。第二阶段，居委会计划引入外地的“潮汐式”停车经验，与附近不对外开放停车位的写字楼达成协议：夜间，小区居民可以在写字楼付费停车；白天，写字楼里的上班族可以在小区付费停车，利用“错时停车”共享车位，盘活闲置资源。但这一计划公布后，担忧、质疑也随之出现。本调研小组受居委会邀请，对小区“潮汐式”停车方案展开调查。

(二) 调查过程

(1) 文献查阅

① 相关报道，如其他地区的实践经验

② _____。(填写一种其他类型的文献资料)

(2) 问卷调查

访谈对象：居民、_____、_____，(填写其他两类访谈对象)

问卷调查结果：

“潮汐式”停车方案居民意见统计

调查对象	赞成		反对	
	比例	理由	比例	理由
有车居民	70%	缓解停车难	30%	夜间在写字楼停车要付费
无车居民	40%	缓解小区道路拥堵	60%	存在安全、噪音等问题

(三) 结论及建议

(1) 本报告对该社区居委会第一阶段做法的评价是：_____

(2) 鉴于“潮汐式”停车方案涉及多元利益主体，本报告认为需要进一步完善小区的民主管理，为此提出3条建议：_____。

40. (8分) 河南安阳西高穴曹操墓和江西南昌刘贺墓都是近年来的重大考古发现。

	西高穴曹操(155 - 220年)墓	海昏侯刘贺(前92 - 前59年)墓
墓葬位置	只符合部分文献记载(注:文献中关于曹操墓位置有多种记载)	与文献记载一致
墓葬形制和结构	与当时王侯级墓类似	符合汉代列侯墓的规制
出土器物	具有汉代特征	具有典型的汉代风格
出土器物上的文字	“魏武王”(注:包括曹操在内,这一历史时期曾有一位魏武王)	“刘贺”“海昏侯臣贺”

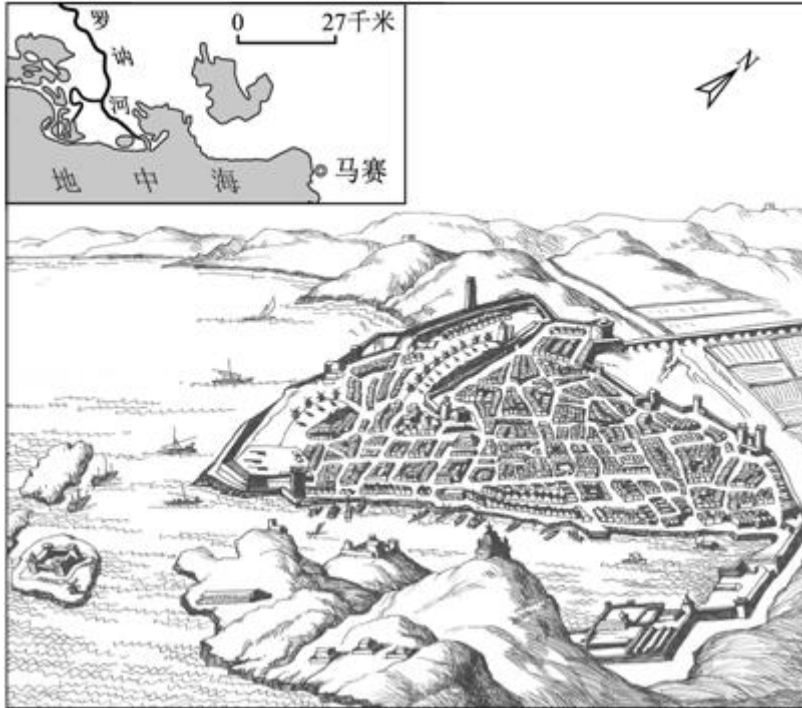
目前学术界基本上一致认为海昏侯墓的墓主就是刘贺,但在西高穴墓的墓主是否为曹操这一问题上海存在争议。

(1) 阅读表格,对比刘贺墓资料,说明西高穴墓墓主身份存在争议的原因。海昏侯墓将规划建设成国家考古遗址公园。

(2) 列举该遗址公园对当地旅游业发展的影响。

41. (10分) 中法两国的文化交流源远流长。2016年4月至6月,第十一届“中法文化之春”在中国举行,促进了两国之间的友好往来。

法国作家大仲马在《基督山伯爵》中,对马赛进行了刻画。如图为马赛的地理位置及港区旧貌图。马赛三面被石灰岩山丘所环抱,气候宜人,拥有法国最大的海港。读图,回答问题。



(1) 简述马赛成为法国天然良港的条件。

19 世纪末 20 世纪初，孟德斯鸠、卢梭等人的思想被中国资产阶级维新派和革命派广泛宣传。《论法的精神》和《社会契约论》也被译成汉语出版。

(2) 概括孟德斯鸠和卢梭的思想，并分析其思想在近代中国广为传播的原因。（8 分）

鲁迅和雨果分别是中国和法国的伟大作家，虽然相隔万里，但是他们的思想有很多相通之处。下文为鲁迅文化基金会秘书长、鲁迅长孙周令飞先生在“鲁迅对话雨果”中法文化交流活动中讲话的部分内容。

“雨果在他的《悲惨世界》里说：‘只要本世纪三个问题得不到解决：贫穷使男子潦倒，饥饿使女子堕落，黑暗使儿童羸弱，换句话说，从更广的意义来说，只要这世界上还存在愚昧和困苦，和本书同一性质的作品都不会是无益的。’鲁迅先生以他高度浓缩的小说、精美绝伦的散文和浩瀚滚烫的杂文，表达了同样的意愿和同样的意志，正如他那首《无题》绝句所言：‘万家墨面没蒿草，敢有歌吟动地哀。心事浩茫连广宇，于无声处听惊雷。’”

(3) 结合材料，分析“鲁迅对话雨果”交流活动的文化意义。（8 分）

文综试题答案

1. **【分析】** 主要考查了地球运动的地理意义。从题干信息知，本届大会期间，北京时间为 2016 年 8 月 21 日 - 25 日。处暑即为“出暑”炎热离开的意思，是农历二十四节气之中的第 14 个节气，交节时间点在公历 8 月 23 日前后；八达岭长城漫山红叶的时间为秋季，主要在 10 月份附近；北京和首尔均位于北回归线以北地区，且北京比首尔纬度高，全年正午太阳高度比首尔小；大会期间北半球处于昼长夜短的状态，纬度越高，白昼越长，北京位于华盛顿东面，同时纬度较华盛顿高，此期间北京比华盛顿日出时间早。

【解答】 解：A、处暑即为“出暑”炎热离开的意思，是农历二十四节气之中的第 14 个节气，交节时间点在公历 8 月 23 日前后，故正确；

B、八达岭长城漫山红叶的时间为秋季，主要在 10 月份附近，故不符合题意；

C、北京和首尔均位于北回归线以北地区，且北京比首尔纬度高，全年正午太阳高度比首尔小，故不符合题意；

D、大会期间北半球处于昼长夜短的状态，纬度越高，白昼越长，北京位于华盛顿东面，同时纬度较华盛顿高，此期间北京比华盛顿日出时间早，故不符合题意。

故选：A。

【点评】 本题难度适中，属于能力题，解题的关键是从图中获取信息和掌握地球运动的地理意义。

2. **【分析】** 本题主要考查自然环境，人类活动的差异。不同的国家，地区，自然环境存在明显差异。

【解答】 解：图中举办地所在国家为中国、韩国和美国。三个国家并不是都位于北半球中纬度，A 错；

三个国家均地处环太平洋灾害带，B 对；

三个国家均处于“现代型”的人口增长模式，C 错；

中国和美国南部均有寒暖流经过，而韩国南部只有暖流经过，D 错。

故选：B。

【点评】 本题首先需要判断出三个国家，然后在根据自然环境特征来回答。

3. **【分析】** 主要考查了天气系统判读。从左上角图中读取北京 20 日的空气指数，是前提。判读海平面等压线图时，读图中的海陆轮廓、等压线数值、等压线弯曲状况及锋线所在位置，结合天气系统的相关知识进行题目解答。仔细读图，16~24 时北京空气质量指数变化图显示该日 20 时空气质量指数非常高，指数越大，级别越高，说明污染越严重。

【解答】 解：A、根据 20 时海平面气压分布图来判断，北京此时受冷锋影响，若暖气团较为干燥，北京会出现大风扬尘天气，空气污染加剧，故正确；

B、东海海域受高压控制，以下沉气流为主，天气晴朗，风浪小，故不符合题意；

C、低压天气系统中，Q 强度最强，故不符合题意；

D、Q 地位于低压中心附近，冷锋锋前位置，可能出现降水，故不符合题意。

故选：A。

【点评】本题难度适中，属于能力题，解题的关键是从图中获取信息和掌握天气系统判读。

4. 【分析】主要考查了地壳物质循环。从图中读取岩浆涌出和岩石圈运动箭头信息，就可以解决问题。

【解答】解：仔细读图，此山地是岩浆喷发而形成的火山，随岩石圈下降，山地顶部没入水下，受外力作用慢慢形成平顶火山。

故选：D。

【点评】本题难度较小，属于基础题，解题的关键是从图中获取信息和掌握地壳物质循环。

5. 【分析】本题主要考查流域开发建设及综合治理的对策措施。流域开发建设的基本内容：根据“资源优势”确定流域开发方向。资源开发和生态（恢复）建设。

【解答】解：仔细读图，可以看出，①处冰川融化，不会引发图中湖泊的水位上升，A 错；

②处受湖泊影响，流量稳定，但该处有陡崖分布，河流的落差大，B 错；

③处谷宽、流速慢，不适宜修建水库，C 错；

④处位于河流中下游平原，地形平坦，并与生产条件优越，D 对。

故选：D。

【点评】本题关键是从图中读取山地、海洋、冰川、陡崖、湖泊、瀑布等信息，结合河流水文特征的判断与分析，进行综合分析。

6. 【分析】本题主要考查流域开发建设及综合治理的对策措施。综合治理的对策措施：根据“存在的问题”确定流域的治理措施，包括：对水土流失的治理措施，对河流污染的治理措施，对生物资源破坏的治理措施。

【解答】解：若该图示意中国某流域，描述了从源头到入海口的状况，比例尺小，特征不够清晰，A 错；

图中信息显示该河流为外流河，若冰川地处新疆，该河流为北疆的额尔齐斯河，注入北冰洋，只有小部分在我国境内，B 错；

该河流为我国的外流河，主要分布在季风区，径流季节变化大，存在不同程度的水患，C 对；

从图上的信息难以判断海域的位置，D 错。

故选：C。

【点评】 本题关键是从图中读取山地、海洋、冰川、陡崖、湖泊、瀑布等信息，结合河流水文特征的判断与分析，进行综合分析。

7. **【分析】** 气温日较差 = 一天中最高气温 - 一天中最低气温。等温线越密集气温日较差越大。

【解答】 解：仔细读逐时气温变化图，图中7月份等温线密集，温差相差大，所以气温日较差大。

故选：C。

【点评】 本题主要考查气温日较差的计算，属基础题。

8. **【分析】** 本题主要考查自然地理环境的差异性，特别是对气候的成因、特点的考查。

【解答】 解：由图中看出该地一年中每天的日出时间均为6时，日落时间均为18时，说明该地位于赤道上。

A、赤道地区终年被赤道低气压带控制，故A错；

B、赤道地区几乎没有地转偏向力，该地不可能有台风发生，故B错；

C、赤道地区山地自然带的基带与水平自然带一致，故景观为热带雨林，故C对；

D、该地为热带雨林气候，最冷月气温在15℃以上，若山顶海拔低于1000米，1月份的温度不可能低于8℃，D错。

故选：C。

【点评】 从图中读取某山地气象站一年中每天的日出时间为6时，日落时间为18时的信息，从而判断该气象站的纬度位置，这是解该题的关键。

9. **【分析】** 本题主要考查芬兰的自然及经济地理特征，抓住气候特点是关键。影响气候的主要因素：纬度位置、大气环流（气压带风带、季风）、海陆位置、地形、洋流等。

【解答】 解：A、从经纬度位置和海陆位置看，纬度较高，波罗的海以东受北大西洋暖流影响较小，故判断亚寒带针叶林气候为主，A错；

B、该区亚寒带针叶林覆盖率高，降水量较小故水土流失较轻，城镇数量少是因为纬度高气温低，故B错；

C、人口稀疏区是指北部地区，而该区植被以针叶林为主草原面积小，农业以林业为主，故C错；

D、本区植被以亚寒带针叶林为主森林资源丰富，木材加工业发达，故D对。

故选：D。

【点评】 解答区域地理题应抓住区域典型特征，然后用整体性分析方法进行区域分析。如该区亚寒带针叶林气候就是典型特征，由这种气候推断水土流失、城镇分布、农业类型及相关工业。

10. **【分析】** 影响农业的区位因素有：地形、气候、水源、土壤等自然因素；交通、市场、技术、政策等社会经济因素。

【解答】解：A、燕麦种植北界呈西北东南走向，说明西北部的自然条件相对较好。东部地区的河湖密布，但灌溉条件并不是芬兰农业发展的主要限制性因素。故不符合题意。

B、西部受北大西洋暖流影响明显，气温偏高，从图中丘陵分布看，地形较为平坦。故正确。

C、难以判断出东南部土层较深厚，耕作技术的高低。故不符合题意。

D、西北部受盛行西风和暖流影响，热量条件好。故不符合题意。

故选：B。

【点评】本题主要考查区域地理环境特征判断，农业区位条件分析，做题时，要综合分析，抓住主导因素。

11. **【分析】**主要考查了城市功能区布局。从题干中理解新概念“出行能耗”的含义，从图中提取从居住区到甲乙丙丁四个功能区的出行能耗和出行次数，结合城市功能区布局的特点，即可解答。

【解答】解：A、仔细读图，甲区出行能耗高、出行次数少，不可能是公共服务设施，故不符合题意；

B、乙地出行能耗高、出行次数多，可能是位于郊区的高新技术产业园区，故正确；

C、丙区出行能耗低、出行次数少，不可能商业网点等级低，故不符合题意；

D、丁地出行能耗低、出行次数多，不可能为中心商务区，故不符合题意。

故选：B。

【点评】本题难度适中，以“某大城市居民出行次数与出行能耗的组合关系”为背景材料，要求学生熟练掌握城市功能区布局相关知识。

12. **【分析】**本题以周朝的分封制图为切入点，考查《诗经》的内容。

【解答】从图中可以看到齐、魏、秦、陈，卫等，可判断出此图为周朝的分封制图，可以确定这个时期是周朝。A项选自《诗经》，故A项正确。

B项涉及两个人：西汉的司马相如和东晋的陶渊明。与题干时间不符，应排除。

C项涉及汉代的李广将军，与题干时间不符，应排除。

D项涉及的是秦始皇时期的焚书坑儒，与题干时间不符，应排除。

故选：A。

【点评】《诗经》也叫诗三百，共305篇，分为风、雅、颂三部分。风，即十五国风，就是各地区的曲调，共160篇。雅即朝廷正乐，分为大雅和小雅，大雅31篇，西周时的作品，小雅74篇，大部分是西周作品，少部分是东周时作品。颂是宗庙祭祀之乐，许多是舞曲，比较舒缓，分为周颂31篇，鲁颂4篇，商颂5篇。《诗经》内

容大致分为六类：1、祭祖颂歌和周族史诗。2、农事诗。3、燕飨诗。4、怨刺诗。5、战争徭役诗。6、婚姻爱情诗。

13. 【分析】 本题考查中国古代政治制度的演进。考查唐朝中央集权制度被削弱。

【解答】 从材料“节度使”可知，有节度使的朝代只有两个，唐朝和宋朝。可排除 A 项。

从材料“中书省”可知中书省的朝代只有唐朝和元朝，可排除 C 项。

结合所学知识可知，唐朝中后期，中央集权被削弱，出现了藩镇割据的局面，材料的叙述反映了中央和地方的矛盾很尖锐。故 B 项符合题意。

故选：B。

【点评】 唐朝的政治制度：（1）唐朝中央设中书省、门下省、尚书省三省，尚书省设吏、户、礼、兵、刑、工六部，负责执行政令；三省是皇帝处理政务的协助机构；政事堂是合议军国大事的中央机构。全国一切大权均集中皇帝手中；分相权为三，既削弱相权，又使其互相牵制，降低三省长官的品级；削分相权，加强皇权。

（2）地方实行道、州、县制三级制。

14. 【分析】 本题考查王安石变法：以发展生产，富国强兵，挽救宋朝政治危机为目的，以“理财”、“整军”为中心，涉及政治、经济、军事、社会、文化各个方面。

【解答】 由“安石为帝言天下财利所当开辟敛散者，低然其说，遂创立制置三司条例”可以分析出王安石初期的变法是为了增加政府的收入，D 选项正确；A、B、C 项内容材料中没有体现。

故选：D。

【点评】 本题主要考查学生正确解读材料和运用所学知识解决问题的能力。

15. 【分析】 本题主要考查我国古代商业发展，重点了解明清时期商业发展中商帮，了解商帮的特点和影响。

【解答】 从材料和所学知识可知，黄宗德经营棉布、粮食等，说明农产品大量进入商品流通领域，故①正确；但“积累了巨额财富，用于购田置地”说明受农业是根本传统影响，故②正确；③④与史实不符，故排除。故 A 正确。

故选：A。

【点评】 本题主要考查对材料信息的正确解读和所学知识的运用能力，了解我国古代主要的经济政策，理解在小农经济为主导的社会环境下，古代商人一直处于被压制的地位。

16. 【分析】 本题主要考查中西方文化交流，了解“中学西渐”和“西学东渐”的基本情况。

【解答】 A 项内容与史实不符，材料中也只是说引起轰动，并没有说普遍接受，故排除；

“在西方引起轰动”说明儒学思想引起了西方许多的关注才出现的结果，故 B 正确；

C项“中西文化交流限于传教士之间”，不符合史实，也与材料不符，材料中并没有说是在传教士中引起轰动。故C排除；

D项与史实不符，推动西方政治革命的是资产阶级启蒙思想。故排除。

故选：B。

【点评】 本题考查学生对材料信息的准确解读能力，了解在中西方的交流中，文化交流是其重要组成部分，中西方文化的交流也是两种文明的碰撞，要有正确对待外来文化的态度。

17. **【分析】** 本题以两则广告的变化为切入点，考查辛亥革命的影响。

【解答】 武昌起义的时间是1911年10月10日，而题干的时间是1911年10月和11月，即武昌起义已经结束，故①错误；

通过图片中的广告看不出商人投身中国政治变革，故②错误；

武昌起义后，清政府统治土崩瓦解，民主共和成为历史趋势，商人抓住这个变局将广告由“救廿世纪贫血症之良药”改为了“专制与共和之过渡”，故③④正确。故C项正确。

故选：C。

【点评】 辛亥革命是高考的常考点，在复习中应注意掌握它的背景、经过、成果、历史功绩以及教训。

18. **【分析】** 本题考查中国共产党的成立。考查陈独秀的历史事迹。

【解答】 由“20世纪一二十年代”“因创办《新青年》被誉为新文化运动的先驱“后又成为‘五四运动的总司令’”可以判断出此人是陈独秀，结合所学知识可知中国“一大”上他被选为中央政治局书记，故B项正确。

故选：B。

【点评】 陈独秀的历史事迹：

政治上：先是支持维新派，后来在李大钊影响下开始信仰马克思主义，连任中国共产党五届中央政治局总书记，晚年参与托派（托洛茨基派，就是和斯大林也就是共产国际对着干的那个阵营）。

思想上：创办《新青年》杂志，高举民主与科学大旗，并和胡适一起发动了文学革命，著有《独秀文存》。

文学上：精通古文与文字学，晚年编著《小学识字教本》，也为中国教育做出巨大贡献。

19. **【分析】** 本题考查近代中国了解和学习西方过程，了解近代“西学东渐”的过程和内容。认识中国近代在学习西方历史经历了由“器物--制度--思想文化”过程。

【解答】 材料中容闳和康有为在了解和学习西方过程中，在洋务派学习西方技术的基础上，提出了不仅学习西方的技术，更主要学习西方的制度，主张革新制度。故①符合；

改变近代中国闭关锁国、盲目自大的局面是鸦片战争后，故②不符合；

在 20 世纪 80 年代出版这些书籍，正是我国当时进行改革开放初期，为中国改革开放、融入世界提供了历史借鉴作用，故③符合；

开创了独立自主的和平外交新局面是在新中国成立时，故④错误；故 C 项正确。

故选：C。

【点评】 本题考查了近代先进的中国人学习西方以及中国改革开放相关知识，要求学习了解近代先进的中国人学习西方的主要代表人物和思想主张，认识我国实行改革开放伟大决策的正确性和必要性。

20. **【分析】** 本题考查荷兰的殖民扩张、英国的殖民扩张，重点是把握它们殖民扩张行为的共性。

【解答】 16 - 18 世纪，处于早期殖民扩张时期，早期殖民扩张给西方国家的资本主义发展带来了充足的资本原始积累和广阔的海外市场，①④正确；

英国在 19 世纪中期工业革命基本完成的时候确立世界工厂的地位，19 世纪末 20 世纪初第二次工业革命发生资本主义世界体系基本建立，所以②③不正确。

故选：D。

【点评】 本题关键从时间上突破，明确“16 - 18 世纪，荷兰与英国人均 GDP 年增长率均高于同时代的其他国家”是因为它们的殖民扩张。

21. **【分析】** 本题考查俄国农奴制改革的背景，重要的是解读地图能力。

【解答】 A、16 世纪前期在德国进行的宗教改革，削弱了教会权力，1871 年通过俾斯麦王朝战争实现了国家统一，所以 A 错误；

B、18 世纪末 19 世纪初默罕默德·阿里改革推动了埃及的现代化，实际上使埃及摆脱了奥斯曼帝国的统治。但是在 1922 年 11 月 1 日，土耳其废除苏丹制，结束了奥斯曼帝国的历史。1923 年 10 月 29 日建立土耳其共和国。所以 B 项描述不符合史实。

C、19 世纪后期在③处即俄国进行的 1861 年农奴制改革，废除了农奴制，促进了资本主义发展，C 项与史实相符。

D、在 1922 年 11 月 1 日，土耳其废除苏丹制，结束了奥斯曼帝国的历史。1923 年 10 月 29 日建立土耳其共和国。所以 D 项描述不符合史实。

故选：C。

【点评】 本题将宗教改革、默罕默德·阿里改革、1861 年农奴制改革、凯末尔改革放一起考，综合性强，难度大，要注意区分这些改革涉及的国家和改革的措施、影响。

22. 【分析】本题考查近代西方民主政治的确立与发展，了解考查美国 1787 年宪法和代议制的确立，着重了解政党制的形成。

【解答】由“1796 年大选中，选民因地域、职业和政治倾向的差异分裂成不同的集团”并结合所学知识可知，这一制度是两党制，故选 B 项；

A 项出现于美国独立后和 1787 年宪法前，与题干时间不符；

C 项与美国史实不符；D 项错误，1787 年宪法就确定了美国是民主共和制了。

故选：B。

【点评】本题主要考查学生的知识能力。了解美国代议制的确立过程。认识政党制是西方代议制的重要内容。注意区别美国代议制与欧洲其它资本主义国家代议制。

23. 【分析】本题考查杜鲁门主义，“杜鲁门主义”是干涉别国内政的代名词，它的提出，标志着美苏之间的“冷战”正式开始。

【解答】题干中电影主题转变的时间是 1948 年，转变后的主题是“威胁”，1947 年美国总统杜鲁门提出了“杜鲁门主义”，标志着美苏冷战的开始，故①正确；

1949 年，为了在军事上对抗苏联为首的社会主义国家，美国牵头成立了北约，故②正确；

欧洲煤钢共同体成立于 1952 年，故③错误；

不结盟运动兴起于 20 世纪 50 年代中期，是新独立的亚非拉发展中国家为了摆脱美苏控制和维护独立而酝酿的，与题干主旨不符，故④错误。

故选：A。

【点评】杜鲁门主义是美国对外政策的重大转折点。它与美国当时实行的马歇尔计划共同构成美国对外政策的基础，标志着美苏在二战中的同盟关系的结束及冷战的开始，也标志着美国作为战后第一大国的世界霸主地位的确立。在此后长达 30 年的时间内，杜鲁门主义一直作为美国对外政策的基本原则并起着支配性作用。

24. 【分析】本题考查：社会主义核心价值观、发展大众文化。

【解答】材料未涉及到“文化传播”，①与意无关，排除；

“公益广告运用三维技术绘制的形象萌动可爱，表达主题所用的童谣朗朗上口，深受大家喜爱”是因为这些公益广告是对社会主义核心价值观的生动表述，它们能够成功，是因为它们面向人民大众、富有生命力，②③符合题意，入选；

文化创新的动力是社会实践，④说法错误，排除。

故选：C。

【点评】解答本题的基本思路是先抓住题肢的关键词，排除错误选项；再抓住题干的关键词，排除无关选项。最后得出答案。本题难度中等。

25. **【分析】** 本题考查：对待传统文化的正确态度

(1) “取其精华，去其糟粕”；批判继承，古为今用。

①面对传统文化，要辩证地认识它在现实生活中的作用，分辨其中的精华与糟粕。

②对于传统文化中符合社会发展要求的、积极向上的内容，应该继续保持和发扬。

③对于传统文化中不符合社会发展要求的、落后的、腐朽的东西，必须“移风易俗”，自觉地加以改造或剔除。

(2) 要在继承的基础上发展创新，推陈出新，革故鼎新。

历史文物是传统文化的见证与载体，加强对文物的保护、管理和利用就是要继承和发展优秀传统文化，这应是我们文化事业发展的一项重要内容。

【解答】加强文物保护、管理和利用是为了更好地传承传统文化，不是为了取得较高的经济效益，①不选；

文物承载着珍贵的历史信息，加强文物保护、管理和利用就是保护继承和发展传统文化，它是推动我们文化事业发展的一个重要内容，②正确；

文物是无言的百科全书，文物的保护、管理和利用有利于传承和弘扬其中包含的优秀传统文化，③正确；

文物的保护、管理和利用有利于文化的继承与发展，但不能使国家占领文化发展的制高点，④不选；。

故选：C。

【点评】本题借文物的保护、管理和利用来考查传统文化的相关知识。获取和解读信息的能力是高考考核目标与要求之一，我们应学会从试题中提取有效信息和核心信息，对其进行分析整合，得到正确的答案。本题难度适中。

26. **【分析】** 本题考查：文化的表现形式

文化具有非常丰富的形式，如思想、理论、信念、信仰、道德、教育、科学、文学、艺术等都属于文化；人们进行文化生产、传播、积累的过程都是文化活动。

科学与艺术具有相通之处，它们都是文化的表现形式，都属于文化。

【解答】用山、桥、小舟之间的联系代表体细胞与小分子、基因之间的联系，这体现了科学与艺术具有相通性，A项正确；

科学与艺术来自于社会实践，B项不选；

材料并没有表明科学与艺术都可以提高人的精神素养，C项不选；

材料表明科学的传播需要借助艺术的手法，D项与材料主旨不符。

故选：A。

【点评】 获取和解读信息的能力是高考考核目标与要求之一，我们应学会从试题中提取有效信息和核心信息，对其进行分析整合，得到正确的答案。本题难度适中。

27. **【分析】** 本题考查：规律的客观性、内因与外因的辩证关系

(1) 规律是事物运动过程中固有的、本质的、必然的、稳定的联系。它是客观的，是不以人的意志为转移的，它既不能被创造，也不能被消灭。

(2) 唯物辩证法认为事物的内部矛盾（即内因）是事物自身运动的源泉和动力，是事物发展的根本原因。外部矛盾（即外因）是事物发展、变化的第二位的原因。内因是变化的根据，外因是变化的条件，外因通过内因而起作用。

【解答】 “目标”强调了意识的目的性，①正确，入选；

“任选拆分”是把整体分解成部分，②正确，入选；

规律是客观的，是不能被创造的，③说法错误，排除；

“同伴激励”强调了外因（即外部矛盾）对事物发展的重要性，但外因只是事物发展的条件，内因（内部矛盾）才是事物发展的依据，不能说外部矛盾更为重要，④说法错误，排除。

故选：A。

【点评】 本题运用排误法来解答是最快的，所谓排误法，即排除题肢本身表述错误或部分错误的题肢，如本题中，③④两个题肢说法明显错误。

28. **【分析】** 本题考查：人的价值、在砥砺自我中走向成功

(1) 人的价值的内涵与评价：

①人的价值的内涵：个人对社会的责任和贡献（社会价值）；社会对个人的尊重和满足（自我价值）。

②对人的价值的评价主要是看他的贡献。最根本的是对社会发展和人类进步事业的贡献。评价一个人价值的大小，就是看他为社会、为人民贡献了什么。

(2) 在砥砺自我中走向成功：

①需要充分发挥主观能动性，需要顽强拼搏、自强不息的精神；

②需要努力发展自己的才能，全面提高个人素质；③需要有坚定的理想信念，需要正确价值观的指引。

“奔跑，让我知道自己正在努力，普通可以变得独特，平凡可以变得卓越。”体现奔跑者顽强拼搏、永不言弃的精神，这是实现人生价值必备的主观条件。

【解答】人生价值的实现有客观的评价标准，它的大小不能由主观体验来决定，A项不选；

生命的意义主要在于个人对社会的贡献，社会对个体的肯定只是生命意义中的次要部分，B项不选；

奔跑是无数次的重复，是一个量的积累的过程，“奔跑让我知道自己正在努力，平凡可以变得卓越”这体现了在量的积累中可以获得精神提升，C项正确；

材料强调了人的意志对于个人的意义，没有提及人的意志对社会发展的意义，且人的意志推动社会发展的说法也不准确，D项不选。

故选：C。

【点评】获取和解读信息的能力是高考考核目标与要求之一，我们应学会从试题中提取有效信息和核心信息，对其进行整合，得到正确的答案。本题难度适中。

29. **【分析】**本题考查：资源配置的手段

在市场经济中，资源配置主要是通过市场调节来实现的。商品生产者、经营者在利益杠杆的作用下，积极调整生产经营活动，从而推动科学技术和经营管理的进步，促进劳动生产率的提高和资源的有效利用。

单纯的市场调节会导致资源配置效率低下、资源浪费；社会经济不稳定，发生经济波动和混乱；收入分配不公平，收入差距拉大，甚至导致严重的两极分化。这时候，就需要国家进行宏观调控。

解决参赛名额这一稀缺资源配置的难题，首先要依赖市场调节，当市场调节出现不足时，需要国家采取多种手段进行宏观调控，以保证赛事顺利进行。

【解答】参赛名额先到先得能早日实现供需平衡，缓解供求矛盾，①正确；

随机分配的抽签法不能照顾到参赛者的素质问题，这不利于资源的优化配置，②不选；

价高者得，参赛者可以在价格方面公平竞争，没有违背市场竞争的公平原则，只是在道义上这个做法有欠缺，③不选；

优先本地报名者的做法是运用强制的方式来完成的，这体现了计划手段配置资源，④正确。

故选：B。

【点评】本题考查考生对材料的分析理解能力，考生在分析题肢的时候，要结合材料进行思考，排除题肢中和材料无关以及错误的，剩下的就是正确的选项了。本题难度适中。

30. **【分析】**本题考查：纸币发行、通货膨胀

1、纸币是由国家（或某些地区）发行的、强制使用的价值符号。

2、通货膨胀：

(1) 纸币由国家发行，但国家不可以任意发行纸币，纸币的发行量必须以流通中所需要的货币量为限度，超过这个限度就会引起物价上涨，纸币贬值，引发通货膨胀。

(2) 防止通货膨胀的方法：

①根本的方法：发展生产，增加社会产品供应量。

②减少纸币发行量，使其与流通中实际需要量尽量相符。

本题材料表明：鉴于通货膨胀等原因，货币在流通中的过程中会有诸多不便，为了方便居民交易，各国纷纷改革本国货币政策。

【解答】材料中中国在部分地区试点“一元券硬币化工程”，用一元硬币替代纸币、丹麦计划用电子货币代替纸币、委内瑞拉政府发行新的货币这些事例都表明，政府有权发行该国货币，①入选；

价格是价值的货币表现，价值量大，价格高。各国只是用货币或电子货币替代纸币，并没有涉及到价值量的改变，因此，价格也不会改变，②排除；

要防止和抑制通货膨胀，一是要大力发展生产，增加有效供给。二是控制货币供应量和信贷规模。实施适度从紧和量入为出的财政方针，努力增收节支等措施。材料并未涉及到减少纸币发行量，③说法与题无关，排除；

三个国家这么做的目的都是减少货币的使用，为了方便居民交易，④入选。

故选：B。

【点评】解答这类选择题要求学生在把握基础知识的前提下充分理解材料和各题肢，特别注意各选项中的解释是否与材料提供的信息相符合。本题难度适中。

31. **【分析】** 本题考查：价格与供求的关系

(1) 供求关系影响价格：供过于求，价格下降；供不应求，价格上升。

(2) 价格影响供求关系，使供求趋于平衡：

①某种商品价格上升，人们对它的需求量会减少；价格下降，需求量会增加。

②某种商品价格上升，生产者会扩大生产规模，增加产量；价格下降，生产者会压缩生产规模，减少产量。

【解答】材料表明，该国国内市场土豆价格在封闭经济条件下为每千克 5 元，而国际市场土豆价格为每千克 4 元，则在自由贸易的条件下，该国土豆对外贸易不具比较优势，该国应为土豆进口国，A 项不选；

在自由贸易的条件下，该国向中国出口土豆，价格也应为每千克 4 元，仍不具有比较优势，该国土豆产量不会增加，B 项不选；

在自由贸易条件下，该国只是整个国际市场的一部分，该国的劳动生产率为个别劳动生产率，不会影响世界土豆劳动生产率的变化，国内土豆价格和国际土豆价格都不变，C项正确；

当国际市场土豆价格上涨50%时，国内市场土豆价格与国际市场土豆价格一致，应为 $4 \times (1+50\%) = 6$ 元，D项不选。

故选：C。

【点评】 这道题综合程度比较强，可以说通过一道题考了经济生活第一单元、第二单元和第四单元所有的知识。难度较大。

32. **【分析】** 本题考查：斯密与李嘉图的自由贸易学说、美国的自由市场经济体制

亚当斯密主张靠自由市场这只看不见的手来调配资源，分流资本，靠人们主观的利己动机和客观的利他性来积极地创造财富，使得国家富足。

李嘉图主张坚持斯密的资本主义市场经济原则，靠看不见的手来调配资源，扩大生产，以扩大供给来创造需求，排斥一切政府干预，在市场调节下让经济完全自由的运行。

美国自由市场经济模式，即所谓消费者导向型市场经济模式。它十分强调市场力量对促进经济发展的作用，认为政府对经济发展只能起次要作用。

“文景”时期，朝廷改变了自商鞅以来的全面管制政策，对工商业采取放关津、“弛山泽之禁”的政策，对农业采取“轻徭薄赋”的政策…都体现了政府放手让市场来调节资源配置。

【解答】 斯密、李嘉图和受供给学派影响的“里根经济学”均强调减轻政府对经济的干预，①③符合题意；

从材料中可以看出，文景之治强调减轻税负，减少国家对经济的干预，而“罗斯福新政”和西方现代市场经济的日本模式均强调强化政府在经济中的作用，因此②④不选。

故选：B。

【点评】 获取和解读信息的能力是高考考核目标与要求之一，我们应学会从试题中提取有效信息和核心信息，对其进行整合，得到正确的答案。本题难度适中。

33. **【分析】** 本题考查：政府依法行政的意义和要求；对政府权力进行制约和监督

1. 政府依法行政的意义和要求

(1) 意义：政府依法行政是贯彻依法治国方略、提高行政管理水平的基本要求，体现了对人民负责的原则。

①有利于保障人民群众的权利和自由；

②有利于加强廉政建设，提高政府的威信；

③有利于防止行政权力的缺失和滥用，提高行政管理水平；

④有利于带动全社会尊重法律、遵守法律、维护法律，推进社会主义民主法制建设。

(2) 要求：合法行政、程序正当、权责统一等。

2. 对政府权力进行制约和监督

(1) 必要性：权力是把双刃剑。政府权力运用得好，可以造福人民；权力一旦被滥用，就会滋生腐败，贻害无穷。为了防止权力的滥用，需要对权力进行制约和监督。

(2) 意义：政府接受监督是坚持依法行政、做好工作的必要保证。政府只有接受监督才能做出正确的决策；提高行政水平和工作效率，防止和减少工作失误；防止滥用权力，保证清正廉洁；才能真正做到权为民所用，造福于人民，建立起一个具有威信的政府。

【解答】①不符合题意，题意体现的是行政机关积极接受司法机关的外部监督；

②表述错误，“行政机关积极接受司法机关的监督”是正确的，但“行政机关对司法机关负责”说法错误，在我国，行政机关对同级人大负责；

③④符合题意，根据题意，“行政机关负责人主动出庭应诉”有利于行政纠纷的实质性解决与公共政策的改进，有利于化解矛盾，实现法律效果与社会效果的有机结合；

故选：D。

【点评】 本题考查学生获取解读信息，调动应用知识能力，难度一般。我们做每一道政治选择题都是运用已有的知识，对题干提供的材料、信息进行分析、甄别、遴选，平时要注意夯实基础，培养能力。

34. 【分析】 本题考查：我国的选举制度及其选举方式

(1) 直接选举 - - 优点：使每一个选民都有表达自己意愿的机会，选择自己最信赖的当家人。

缺点：不适合选民较多、分布较广的情况，成本较高，组织技术难度大。

(2) 间接选举 - - 优点：适合选民较多、分布较广的情况。

缺点：使选民与候选人之间的联系受到一定的阻隔。

(3) 等额选举（正式候选人名额等于应选名额的选举方式）

- - 优点：可以比较充分考虑当选者结构的合理性。

缺点：限制了选民的自由选择，积极性受到影响。

(4) 差额选举（正式候选人名额多于应选名额的选举方式）

- - 优点：提供选择余地，被选举人形成相应竞争，有助选民了解候选人。（竞选）

缺点：易导致虚假宣传、金钱交易。

注意：我国将在相当长的一段时间内采用直接选举与间接选举相结合的选举方式。村（居）民委员会的选举实行直接选举，县、乡两级人大代表实行直接选举；县以上的各级人大代表、乡及乡以上各级政府的领导人员由间接选举产生。我国各级人大代表普遍实行差额选举。

【解答】A 不合题意，城区人大代表的选举属于直接选举；

B 符合题意，差额选举是正式候选人名额多于应选名额的选举方式，由选票可看出，候选人为 3 人，而应选名额为 2 名，因此是差额选举；

C 不合题意，由选票看不出该区人大代表所代表的人口数是农村人大代表的 4 倍；

D 表述错误，直接选举可选择自己最信赖的当家人，因此在另选人姓名栏内填写自己的姓名，并在上方符号栏内画“0”是代表另选举他人，该选票有效。

故选：B。

【点评】考查学生提取信息、调动所学知识理解和解决问题的能力。注意：一方面要把握材料要阐明的主旨，并和所学知识对应起来，另一方面运用排除法去除不合题意和错误的选项。

35. 【分析】本题考查：英国的君主立宪制、美国的政治制度

(1) 英国实行君主立宪制。国家的主要机构有国王、议会和内阁。其中，议会是国家最高立法机关，主要扮演立法者和监督者的角色。内阁是国家最高行政机关，从议会产生，由占议会多数席位的政党组成，并对议会负责。国王只是“虚位元首”。

(2) 美国实行共和制的国家。美国共和制的特点是实行三权分立，但行政、立法、司法三大机构中，又以掌握行政和军事大权的总统为核心。因此美国政体是“总统共和制”。

【解答】本题要求选择本身存在错误的选项。

1867 年，英国的政体为议会制君主制，不是议会共和制，且此时新兴工业资产阶级只是增强了在下院的地位，并没有成为下院的主导力量，②是错误的，适合题意；

1883 年，美国的政体为总统制共和制，美国总统签署了国会通过的《文官法》，其中强调设立总统直辖的三人文官委员会，文官委员会向总统负责，不是向国会负责，④错误，应选。

故选：D。

【点评】本题考查学生获取和解读信息、调动和运用知识的能力。属于基础知识的再现，运用排除法做，难度较小。

36.

【分析】 (1) 材料中“山之南山花烂漫，山之北白雪皑皑，此山大别于他山也！”古人登山，一边开春，一边比较寒冷，所以我们想到一定是春季；南北景色差异的原因从大别山所在地理位置及山地南北坡的气温不同等角度分析。

(2) 农业区位的自然条件要从地形、气候、水源、土壤等方面分析。灌区水利工程的功能应结合降水变化、地形等因素分析。

(3) 影响高速公路施工难度大的主要原因从地形、河流的气候等角度分析，公路发展对区域社会经济发展的影响表现在加强联系、带动相关产业发展和增加就业等角度。

(4) 大别山区发展农产品加工业的有利因素从原料、政策、交通和市场等角度分析。

【解答】解：(1) 材料中“山之南山花烂漫，山之北白雪皑皑，此山大别于他山也！”可知是春季；南北景色差异是因为山北为阴坡，山南为阳坡，阴坡气温低于阳坡。

(2) 图示灌区地势低平，河网密布；大别山区为亚热带季风气候，降水丰富，热量充足；但降水量年际变化大，所以水利工程在高产农田建设中的功能主要是灌溉，抗旱，蓄洪，排涝。

(3) 甲高速公路施工段从图中等高线看经过山地、河流，需要修建隧道、桥梁；影响：扩大对外联系；缩短距离，节约时间等。

(4) 大别山区发展农产品加工业的有利因素有原料丰富，政策和技术支持等。

故答案为：

(1) 春季。位于亚热带北部；主峰海拔高，气温低，有季节性积雪；山北为阴坡，山南为阳坡，阴坡气温低于阳坡。

(2) 地势低平，河网密布；年降水量较大且集中在夏季，降水量年际变化大。灌溉，抗旱，蓄洪，排涝。

(3) 经过山地、河流，需要修建隧道、桥梁。扩大对外联系；缩短距离，节约时间；带动相关产业；增加就业。

(4) 政策和技术支持；农产品资源丰富，接近原料地；距合肥、武汉等大中城市较近，市场广阔；修建高速公路，交通运输条件改善。

【点评】注意从图中读取经纬度位置、区域海拔（高程）、河流湖泊分布、武汉和合肥等城镇分布、灌区位置和铁路公路分布等信息，结合区域差异分析、水利工程分布原因和影响、交通运输建设影响因素及意义和工业发展区位条件分析等地理基本原理和规律的分析，用科学、简练的语言进行阐述即可。

37.

【分析】 (1) 本题考查董仲舒和昆体良的思想。考查他们在教育主张的相同点。

(2) 本题考查近现代中国教育事业的发展。考查中国近现代教育目标的特点。

(3) 本题考查西方的教育观点。考查英国教育争论的背景、观点。

【解答】 (1) 本题主要考查学生正确阅读理解材料以及依据材料提供的有效信息和相关知识解决问题的能力，解题的关键在于能够从材料中找准有效信息。由“董仲舒按人性把人分为上中下三个等级，占人口多数的“中民”是教育的主要对象”和“培养演说家是公民教育的重要目标”可以看出他们的教育对象不是全体民众；由材料“他主张设立各级学校”和材料中“古罗马教育家昆体良（35 - 98 年）认为，学校教育优于家庭教育”可以概括出两个人都是重视学校教育的；由“教授儒家经典，将他们培养为“笃于礼薄于利”“以天下为忧”的君子”和“不仅要有超群的演说天赋，还要有完美的品格”可以概括出两个人都重视品德教育，由“以天下为忧”的君子”和“能尽公民之义务，能在公私事务中完成使命，能以忠告引导国家，能以立法奠定其雄厚基础”可以概括出人才要为国家服务。

(2) 本题主要考查学生正确解读材料和运用所学知识解决问题的能力。第一问由“将教育者，其实常三宗；曰体育，曰智育，曰德育，三者并重 我们的教育方针，应该使受教育者在德育、智育、体育几方面都得到发展，成为有社会主义觉悟的有文化的劳动者 注意道德教育，以实利教育、军国民教育编之，更以美感教育完成其道德。

(3) 第一小问结合所学知识可以从工业革命兴起、科学的发展和理性主义的影响等角度进行分析；第二小问是开放性试题，对学生要求较高，既需要阅读理解材料摆出自己的观点，又需要结合所学知识进行论述，史论结合。做此类题目首先注意把观点摆出来，如科学教育和人文教育要相结合，相互补充。然后可以结合两次工业革命中科学的重要性及科学可能带来的危害性进行论证。

故答案为：

(1) 相同点：教育的主要对象不是全体民众；学校教育是培养人的重要方式；教育要培养品德高尚的人；人才要为国家服务。

(2) 特点：将德、智、体作为人才培养的重要标准；不同时代对教育目标都有所补充、发展。

分析：清末思想家提出，人才培养的标准以西方的自由、平等理念为核心；这一主张一度成为中华民国的教育宗旨。新中国成立后，教育方针强调培养社会主义的劳动者；改革开放后，强调培养为社会主义现代化服务的全面发展的人。

(3) ①时代背景：工业革命的兴起；科学技术的发展；理性主义的发展。

②观点及论述：观点：科学教育和人文教育要相结合，相互补充。

论述：第二次技术革命是科学、技术、生产三者关系发生变化的一个转折点。在此之前，生产、科学、技术三者的关系主要表现为生产的发展推动技术进步，进而推动科学的发展。例如，第一次工业革命中，蒸汽机技术革命主要是从工匠传统发展而来，在生产经验积累的基础上摸索出技术发明，然后才总结出热力学理论。以电力技术革命为标志的第二次技术革命以来，这种生产带动科学技术发展的情况发生改变，现在是科学推动技术进步，再推动生产的发展。科学技术越来越走在社会生产的前面，开辟着生产发展的新领域，引导生产力发展的方向。如电磁学理论的建立，它先主要是通过科学实验探索出电磁学理论，通过促进电力技术的革命，并最终引发电力在生产中的广泛应用。当然科学技术是一把“双刃剑”，在推动经济发展的同时，也会带来如环境污染、物种灭绝加快、人身安全越来越没保障等问题。

【点评】 本题考查中西方教育的相关知识。应注意一个重要的知识：中西方教育的本质区别：西方教育是一种尝试教育，先让学生尝试进行体验，在体验中发现难点，然后在解决难点中积累经验，最后，得出结论，那是真正属于自己研究的成果；中国教育是一种灌输式教育，先将成人的经验告知学生，让学生按已有成功经验去操作（并非所谓的真学习）按部就班，在经验的指导下学习实践，同样，也是可以得到自己的结论，但是往往很难跳出已有的固定模式。两者的最大差异就在于西方教育以人为本，从人的学习的本能出发，符合学习论，而中国教育是一种消除错误的“生产”教育，将学生当作产品，希望在生产线上生产出的是合格品，而不是次品。正是不能正视“学习是可以犯错的”这一规律，使得学生缺乏应有的创新思维。

38.

【分析】 试题分析：

- (1) 本题考查与公民个人息息相关的生产、消费、就业、收入分配等相关知识。结合材料所述，可从科技进步可以提高个人的消费水平和质量，改变消费方式；科技进步能为个人创造新的就业机会，促进就业形式多样化；科技进步给很多行业的劳动者带来挑战，改变就业结构，导致失业和收入水平的变化；科技进步对劳动者素质提出新要求，劳动者需要提高个人素质等方面展开论述。
- (2) 本题考查政治生活知识，设问指向如何推进无人驾驶汽车的发展。从政治生活的角度，可从人大加强立法工作、政府履行相关职能、公民坚持权利与义务相统一等方面阐述各政治生活主体在推进无人驾驶汽车发展中的具体作为。
- (3) 本题要求运用哲学知识写一篇有关“科技与人的关系”的短文，可供选择的角角度较多，如从科技对人发展的利弊角度可运用矛盾主次方面的关系来论述；从人对科技的利用要坚持正确价值观、尊重社会发展规律，符合最广大人民利益的角度均可回答。

【解答】 (1)

- ①科技进步提高劳动生产率，降低商品价格，提高需求和供给的匹配效率，提高个人的消费水平和质量，改变消费方式。
- ②科技进步使个人能够更有效地配置和分享其服务和技能，创造新的就业机会，促进就业形式多样化。
- ③科技进步给很多行业的劳动者带来挑战，改变就业结构，导致失业和收入水平的变化，影响个人生活水平。
- ④科技进步对劳动者素质提出新要求，影响个人职业选择。劳动者需要提高个人素质，适应科技进步带来的变化。

(2)

- ①人大完善修改相关法律法规，为无人驾驶汽车的发展提供法律依据。
- ②政府加强市场监管，建立行业标准。
- ③政府制定相关优惠政策，支持无人驾驶汽车产业的发展。
- ④政府打击黑客入侵等不法行为，保障车主的行车安全和信息隐私，保护公民的生命安全及合法权益。

(3)

等级水平	等级描述
水平 1	观点鲜明，能明确表达自己的见解；紧扣问题，全面展开论述，或就某点深入分析；知识运用准确、贴切；逻辑严密，条理清晰
水平 2	观点比较鲜明，能表达自己的见解；能扣住问题展开论述，或能就某点分析；知识运用比较准确、贴切；逻辑性较强，有条理
水平 3	观点不明确；论述不能集中指向问题，罗列知识；知识运用不明确；论述缺乏逻辑，条理性差
水平 4	应答与试题无关，或重复试题内容，或没有应答

【点评】第（1）问：设问指向分析科学技术的进步怎样影响了个人的经济生活，这实质是考查我们获取和解读信息，描述和阐释事物的能力。

第（2）问：该题没有明确主体，因此考生在解答时要注意区分行为主体，有条理地组织答案。

第（3）问：注意要语言通顺，主题鲜明，字数符合要求。

39.

【分析】（二）

（1）本题涉及的是民主管理及物权的相关问题，故可查阅与居委会管理、物权相关的法律及研究成果、相关论文。

（2）本题要求我们写出访谈对象，可考虑能与本事件发生关系的居委会、业委会、街道办事处、党员代表等相关人物。

（三）

（1）本题问及对居委会第一阶段做法的评价。可从居委会的性质角度谈第一阶段做法有没有发挥居委会应有的作用，以及为什么没能发挥其应有作用。

（2）本问要求提出相关建议。可从民主决策、民主管理、民主监督的角度提出关于停车方案的具体建议，注意要言之有物，运用相关的政治术语。

【解答】（二）

（1）文献查阅（示例）：相关法律，如《中华人民共和国城市居民委员会组织法》、《中华人民共和国物权法》；研究成果，如相关论文。

（2）访谈对象：居委会、业委会、街道办事处、党员代表、志愿者代表、政府规划部门、社区民警、专家等。

（三）

（1）作为基层群众性自治组织，居委会积极解决停车难问题，发挥管理居民公共事务等作用。第一阶段，居委会根据部分有车居民意见将绿地改为停车位，没有遵循民主程序、听取多方意见。

（2）本题可从引导居民参与决策、实施民主管理、完善监督的角度作答。如从其他角度回答，符合题意，亦可酌情给分。

示例：居委会可以通过张贴公告，使居民了解“潮汐式”停车方案的相关信息；通过召开居民会议等形式，及时沟通、协调不同居民的主张和利益诉求；制定具体停车和收益分配细则，完善方案。居委会可以组织居民成立停车管理小组，实施“潮汐式”停车方案，实现居民自我管理。居委会和停车管理小组应定期公开、汇报停车方案和收益使用情况，自觉接受居民监督。

【点评】本题综合考查我国公民政治参与的途径，考查学生调动和运用知识的能力、论证和探究问题的能力，注重对学生概括能力和发散思维能力考查。开放性较大，难度较高。

40.

【分析】本题考查中国历史文化遗产。考查西高穴墓和海昏侯墓。

【解答】（1）本小问的原因只需从材料概括即可。抓住“只符合部分文献记载（注：文献中关于曹操墓位置有多种记载）”““魏武王”（注：包括曹操在内，这一历史时期曾三位魏武王）”等信息归纳概括即可。

（2）本小问影响需要结合所学知识解答。根据所学可知，遗址公园对当地旅游业发展的影响有：增加旅游资源数量，丰富旅游资源种类，扩展旅游路线，提高旅游目的地知名度；扩大客源市场，增加旅游业收入；促进旅游设施建设和交通条件改善。

故答案为：

（1）原因：与海昏侯墓有关的资料都没有引发争议，结合器物上的文章，完全可以证明其墓主为刘贺。西高穴墓出土器物的时代以及墓葬规制分别于曹操所处时代及其身份相符，但这一时期有三位“魏武王”，且文献中关于曹操墓的位置有多种记载。综合来看，虽然西高穴墓的墓主为曹操的可能性比较大，但相关资料说服力不如海昏侯刘贺墓，因此墓主的身份存在争议。

（2）增加旅游资源数量，丰富旅游资源种类，扩展旅游路线，提高旅游目的地知名度；扩大客源市场，增加旅游业收入；促进旅游设施建设和交通条件改善。

【点评】历史文化遗产包括物质文化遗产和非物质文化遗产。物质文化遗产是具有历史、艺术和科学价值的文物，非物质文化遗产是指各种以非物质形态存在的与群众生活密切相关、世代相承的传统文化表现形式。

41.

(1) **【分析】** 本题主要考查影响港口的区位因素：1、自然条件（港阔水深、陆地地形平坦宽阔；）；2、社会经济条件（腹地情况、城市依托、国家政策等）。题中的“石灰岩山丘所环抱”，素描图中的海湾、河流，马赛位置示意图中的罗纳河等信息都是作答的依据。

【解答】 解：马赛地理位置示意图显示，马赛临地中海，而地中海是联系亚洲、非洲、欧洲的枢纽，所以马赛港位置重要；优良的港口区位应满足良好的陆域条件和水域条件，比如图上看出马赛港位于海湾且开阔，同时“石灰岩山丘环抱”暗示海岸为基岩质海岸，海水深；同时图中的罗纳河、马赛市显示有城市为依托腹地广阔。

故答案为：位于地中海沿岸；为基岩海岸，港阔水深；海湾风浪小，潮差小；靠近罗纳河口；腹地广阔。

【点评】 此题关键是从图中读出有用信息，再结合“港口的区位”这一知识点，即可解答，是考查知识迁移能力的一道好题。

(2) **【分析】** 本题考查启蒙运动。考查孟德斯鸠和卢梭的思想以及在近代中国广为传播的原因。

【解答】 本题对于孟德斯鸠和卢梭的思想，结合所学知识即可回答，如反对君主专制、主张三权分立、主权在民、社会契约、天赋人权等。第二小问结合所学知识从近代中国民族危机加剧；西方民主思想对中国的影响等角度分析。

故答案为：

思想：反对君主专制，主张三权分立，倡导平等、自由，提倡天赋人权，倡导主权在民。

原因：中华民族危机严重，需要政治变革；政治变革需要新的理论指导；西方民主思想成为中国政治变革的理论武器。

【点评】 本题考查中西方思想解放潮流。在复习中应注意掌握中西方思想的背景、内容以及影响，更重要的是将中西方思想进行比较来掌握。

(3) **【分析】** 本题考查文化交流的意义，由于要分析“鲁迅对话雨果”交流活动的文化意义，则可先分析鲁迅与雨果文化作品的共性，这种文化上的共性是交流活动开展的基础。接着再具体分析文化交流的意义及作用，可从文化交流有利于增进文化的合作与发展，有利于文化创新、有利于增强文化自信等角度具体论述。

【解答】 本题要求分析“鲁迅对话雨果”交流活动的文化意义，可从材料归纳概括并运用所学知识解答即可。可以从两人的共同点如关心社会历史的进步，关注下层百姓的命运，具有强烈的社会责任感，都是追求人类共同价值的文化巨人等方面结合对中法两国的影响等角度进行分析。

故答案为：

鲁迅和雨果都关心社会历史的进步，关注下层百姓的命运，具有强烈的社会责任感，是各自民族精神的代表，也是追求人类共同价值的文化巨人。这场跨越时空的“对话”能增进中法人民的相互理解，促进两国文化合作与发展，也有助于增强我们建设文化强国的自觉性，在中法文化的交流中推动文化创新。

【点评】 本题考查了文化的多样性、文化交流的意义及作用。文化既是民族的，也是世界的，此题考查了中西文化的交流，所以应先从它们的共性出发，再分析此文化交流的意义。本题对学生的分析能力有较高要求。