



南充市教育科学研究所学生成绩查询APP下载网址:
查分网址: <http://www.sxw.cn/download>

秘密★启封并使用完毕前【考试时间: 2022年5月8日上午9:00-11:30】

南充市高2022届高考适应性考试(三诊)

文科综合能力测试

注意事项:

1. 本试卷分第I卷(选择题)和第II卷(非选择题)两部分。答题前,考生务必将自己的姓名、考生号填写在答题卡上。
2. 回答第I卷时,选出每小题答案后,用铅笔把答题卡上对应题目的答案标号涂黑,如需改动,用橡皮擦干净后,再选涂其它答案标号。写在试卷上无效。
3. 回答第II卷时,将答案写在答题卡上,写在试卷上无效。
4. 考试结束,将答题卡交回。

第I卷

本卷共35小题,每小题4分,共140分。在每个小题给出的四个选项中,只有一项是符合题目要求的。

总部位于中国广州的TCL公司于2004年收购法国汤姆逊公司彩电业务后,公司所属的波兰工厂就承担了TCL欧盟生产基地角色。波兰工厂生产所需零配件的80%都来源于中国,零配件的运输主要采用海运。2016年波兰工厂采用“全球流动的即时生产”新模式(即零配件均来自国外,无配件积压),开始使用中欧班列来运输零配件。据此完成1-3题。

1. TCL公司收购汤姆逊公司彩电业务主要是为了
 - A. 降低生产成本
 - B. 提高生产技术
 - C. 扩大欧盟市场
 - D. 增加当地就业机会
2. 波兰工厂主要零配件80%都来源于中国,主要是因为中国
 - A. 科技水平高
 - B. 生产成本低
 - C. 空间距离近
 - D. 市场规模大
3. 2016年波兰工厂采用新的生产模式和中欧班列运输方式的主要目的是
 - ①降低仓储成本
 - ②延长供应周期
 - ③增强市场适应性
 - ④加强国际合作
 - A. ①②
 - B. ①③
 - C. ②③
 - D. ②④

位于内蒙古自治区巴彦淖尔市境内的乌梁素海是黄河改道形成的河迹湖,中国八大淡水湖之一,素有“塞外明珠”的美誉。乌梁素海是河套灌区的重要组成部分,它接纳了河套地区90%以上的农田排水,然后

经过湖泊的生物生化作用后,排入黄河,起到改善水质的作用。鉴于乌梁素海湖区补水来源不足、污染物长期积累、水体污染严重的情况,巴彦淖尔市加大了向乌梁素海生态补水力度,使水体质量得到一定程度改善。图1为乌梁素海周边地区图

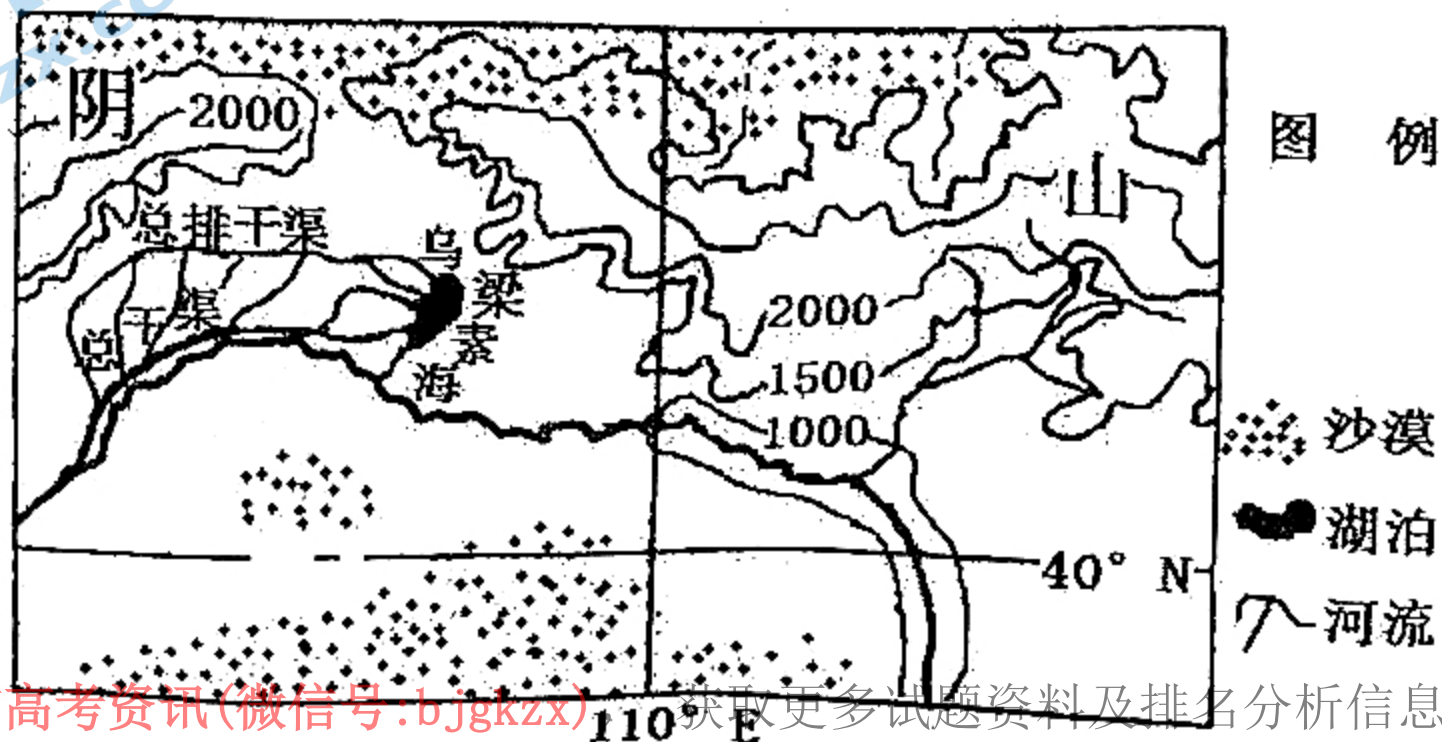


图1

4. 河套灌区灌水渠和排水渠结合有利于

- A. 缓解土地盐碱化
C. 提高水资源利用率

- B. 减少化肥使用量
D. 增加河套地区降水量

5. 加剧乌梁素海污染程度的自然原因是

- A. 光照强
B. 风力大

- C. 气温高
D. 蒸发量大

6. 适宜对乌梁素海进行生态补水的时间是

- A. 河套平原灌溉期
C. 黄河凌汛期

- B. 黄河结冰期
D. 黄河枯水期

位于横断山脉与云贵高原交界的布拖县农民千百年来只会种植苦荞和土豆等传统作物，附加值低，仅够温饱。脱贫攻坚，产业是根本。蓝莓原产于北美洲，喜温凉，喜光，喜酸性土壤。布拖县以产业扶贫的方式引进高原蓝莓，进行规模化种植。为了减少杂草的生长，专家建议在蓝莓树根部覆盖松针（松树的叶），同时在两棵树之间覆盖黑色地膜。据此完成7~9题。

7. 布拖县栽种蓝莓的主要优势气候条件是

- A. 纬度低，热量丰富
C. 海拔高，光照充足

- B. 降水多，气候湿润
D. 多深谷，寒潮影响小

8. 布拖县发展产业时选择了价值高的蓝莓，是因为当地

- A. 土地流转费用高
C. 消费升级加快

- B. 青壮年劳动力缺乏
D. 市场距离远

9. 农户到山上森林中捡拾了大量的松针，对森林的作用是

- A. 减少病虫害
C. 减轻水土流失

- B. 降低火灾隐患
D. 减少生物多样性

长白山火山有过多次数喷发也有过长时间间歇，最后一次喷发是距今大约300年，长白山火山喷发物质堆积在火山口周围，使得长白山山体高耸成峰，形成为同心圆状火山锥体。长白山是一个休眠活火山，虽然休眠300年，但世界上休眠数百年再次喷发火山并不少见。1997年中国地震局与吉林省地震局在长白山天池建立火山监测站。据此完成10~11题。

10. 可作为长白山地区曾经火山喷发明确证据的是

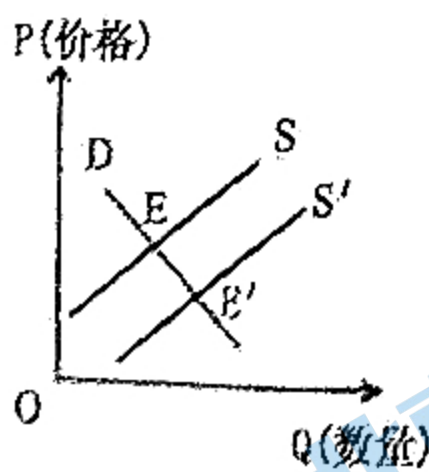
- A. 浮石
B. 倾斜岩层
C. 飞瀑
D. 浑圆山顶

11. 为监测火山活动，长白山天池建立了火山监测站，观测的内容有

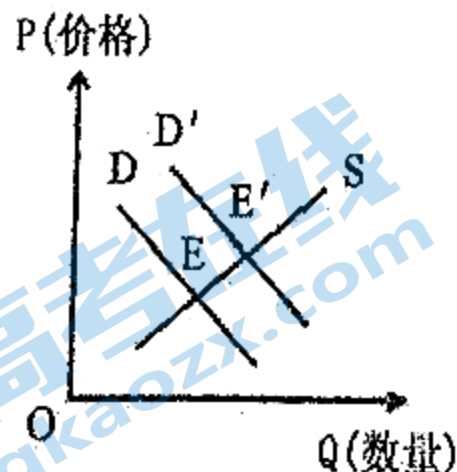
- ①地震 ②火山动体形变 ③植被覆盖率 ④泉水温度和溢出气体

- A. ①②③
B. ②③④
C. ①②④
D. ①③④

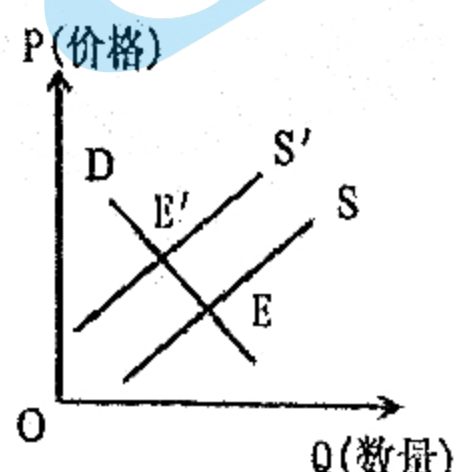
12. 如果不考虑其他因素，当某种条件发生变化时，会引起商品价格均衡点E向E'移动。下列对这种移动解释合理的是



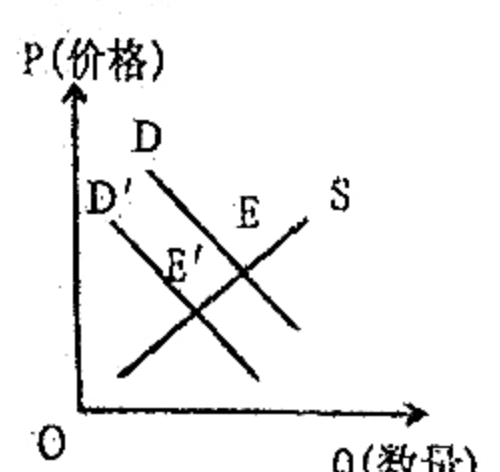
甲



乙



丙



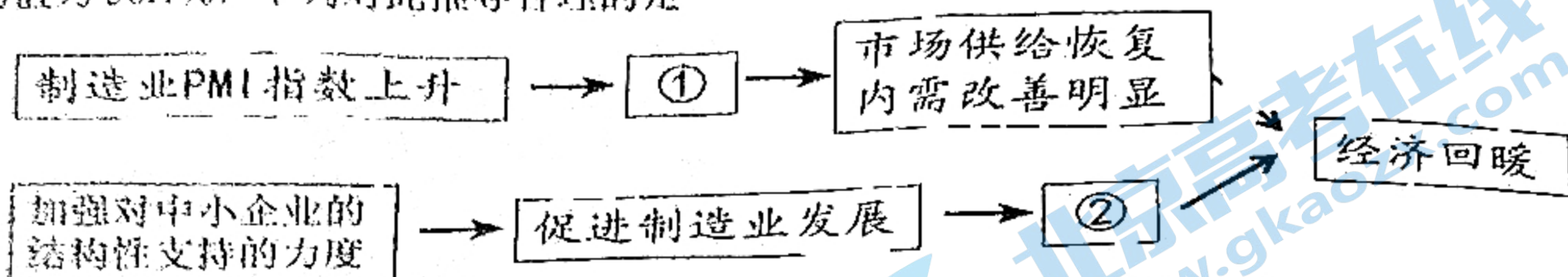
丁

- ①助推“碳达峰”“碳中和”目标实现，新能源产业快速发展，发生甲图变化
②“动态清零”防疫政策使疫情有效控制，口罩行业企稳向好，发生乙图变化
③俄乌冲突持续胶着，全球能源供应紧张，油价市场剧烈波动，发生丙图变化
④新能源车企突破核心技术，实现智能技术与生产的深度融合，发生丁图变化

关注北京高考在线官方微信，获取更多试题资料及排名分析信息。

- A. ①③
B. ①④
C. ②③
D. ②④

13. PMI是采购经理指数(Purchasing Managers' Index)的简称,是世界经济运行活动的重要评价指标和世界经济变化的晴雨表。PMI荣枯线为50%,如果PMI大于50%,表示经济上升,反之,则趋向下降。2021年10月以来中国制造业采购经理指数(PMI)稳中有升,平均值为50.1%,下列对此推导合理的是



- A. ①制造业持续提升 ②消费水平提升
B. ①产业结构优化 ②制度成本下降
C. ①制造业持续提升 ②PMI 得到提高
D. ①就业市场低迷 ②消费水平提升

14. 2022年4月10日,习近平总书记踏访海南,要求海南加快建设具有世界影响力的中国特色自由贸易港,让海南成为新时代中国改革开放的示范。4月21日,他又与新老朋友“云端”相聚,共同出席博鳌亚洲论坛2022年年会开幕式并发表主旨演讲,强调坚持建设开放型世界经济,把握经济全球化发展大势,促进全球平衡、协调、包容发展。无论是海南考察,还是博鳌亚洲论坛年会,总是能听到时代的潮声。对“时代的潮声”理解正确的是

- ①我国打造开放合作新平台,主导全球经济的发展方向
②面对世界未来之问,中国全领域开放以彰显大国担当
③我国推动更高层次开放型经济发展有利于全球化进程
④基于共商共建共享原则,中国开放的大门会越开越大

- A. ①②
B. ①③
C. ②④
D. ③④

15. 2022年2月17日,国家发展改革委等部门联合印发文件,同意在京津冀、长三角、粤港澳大湾区、成渝等地启动建设国家算力枢纽节点,并规划了10个国家数据中心集群。至此,全国一体化大数据中心体系完成总体布局设计,“东数西算”工程正式全面启动。此举是基于

- ①优化算力基础设施布局,推动算力、算法集约化和服务化
②解决东部算力资源富裕与中西部算力需求严重不足的矛盾
③扩大有效投资,形成更多内需增长点,促进数字经济发展
④贯彻新发展理念,形成数据为纽带的城乡协同发展新格局

- A. ①②
B. ①③
C. ②④
D. ③④

16. 近年来,深圳立足新发展阶段,在推进基层治理现代化的道路上,既着眼于为构建基层社会治理新格局贡献深圳力量、为探索全过程人民民主新实践展现深圳担当,又着力于始终保持党对各种组织的领导力、不断改进供需动态平衡的方法论、切实增强基层治理改革的协同性,续写“春天的故事”,努力探索超大型城市现代化治理新路径。深圳着力于切实增强基层治理改革的协同性有利于

- ①坚持和加强党的领导,确保基层治理正确方向
②激发基层自治活力,推进基层治理水平的提升
③丰富基层民主实践的形式,夯实基层自治基础
④形成自治合力,推动政府职能由管理转为服务

- A. ①②
B. ①④
C. ②③
D. ③④

17. 法治政府建设是全面依法治国的重点任务和主体工程,是推进国家治理体系和治理能力现代化的重要支撑。下列举措符合建设法治政府要求的是

关注北京高考在线官方微信:北京高考资讯(微信号:bjgkzx),获取更多试题资料及排名分析信息。

①	②	③	④
完善基本法律体系，做到有法可依、有法必依、执法必严、违法必究。	坚持法治思维和法治方式，做到法无禁止即可为。	健全行政权力制约和监督体系，促进行政权力规范透明运行。	审慎用权，确保决策制度科学、程序正当、过程公开、责任明确。

- A. ①② B. ①③ C. ②④ D. ③④

18. 2021年全国政协全年共举办重要协商活动25次，开展视察考察调研82项，立案提案5039件。人民政协牢记责任使命，紧紧围绕“国之大者”深入协商议政，有效服务决策实施……由此可见，人民政协

- ①丰富协商民主形式，开拓了多党合作新路径
②聚焦党和国家中心任务，履行参政议政职能
③在国家现代化治理体系中作用发挥卓有成效
④践行全过程民主，保障政协委员行使提案权

- A. ①② B. ①④ C. ②③ D. ③④

19. 近年来，河南卫视不再依靠流量明星网红造势，而是专注于挖掘传统文化的内核，不断推出“中国节日”系列节目。2022年凭借《丰年》《国色天香》《采莲》等节目爆火“出圈”，彰显了优秀传统文化的非凡魅力。这表明

- ①优秀传统文化的非凡魅力源于传播方式的创新
②挖掘传统文化的内核离不开文化的交流和借鉴
③应深入挖掘和阐发中华优秀传统文化时代价值
④继承基础上创新能为优秀传统文化注入新活力

- A. ①② B. ①③ C. ②④ D. ③④

20. 大漠无垠，阳光洒满戈壁。经过183天的太空飞行，神舟十三号载人飞船返回舱于2022年4月16日10时许在东风着陆场成功着陆。在平凡的岁月中成就非凡，在无名的耕耘中造就有名，中国航天人追星揽月，以艰苦奋斗问鼎苍穹，在浩宇苍穹中尽显强国风采。航天人身上所彰显的航天精神

- ①是中华民族伟大复兴的“主心骨”，将助力航天事业不断发展
②能激励人们建功立业，努力成为担当民族复兴大任的时代新人
③能为人民群众积极投身民族伟大复兴提供智力支持和方向保证
④形成于航天事业伟大实践中，是伟大中华民族精神的生动展现

- A. ①② B. ①③ C. ②④ D. ③④

21. 奥密克戎是2019新型冠状病毒的变种，最早于2021年11月9日在南非被首次检测到，目前已有奥密克戎BA.1进化分支、奥密克戎BA.2进化分支、XE（即奥密克戎BA.1和BA.2的重组）三种变种。面对不断变异的新冠毒株，新冠疫苗也需不断迭代，最近共四款新冠迭代疫苗有了新进展。由此可见

- ①疫苗研究是在认识主体和客体相互作用中得到不断发展的
②新冠病毒毒株快速变异迫使人们不断推翻已经获得的真理
③真理和谬误界限严格，在不断实践中才能将谬误变为真理
④预防和抗击新冠病毒蔓延是人们从事新冠疫苗研究的目的

- A. ①③ B. ①④ C. ②③ D. ②④

22. 2021年12月8~10日在北京举行的中央经济工作会议指出，在充分肯定成绩的同时，必须看到我国经济发展面临需求收缩、供给冲击、预期转弱三重压力，同时面临世纪疫情冲击，外部环境更趋复杂严峻和不确定，这要求我们既要正视困难，又要坚定信心，我国经济韧性强，长期向好的基本面不会改变。这体现了

- ①认识事物要善于把握主流，坚持两点论与重点论的统一
- ②应把握联系的多样性，一切以时间、地点、条件为转移
- ③“一分为二”的辩证思维，是增强经济韧性的客观基础
- ④上层建筑促进经济基础，经济基础不断推动生产力发展

A. ①② B. ①④ C. ②③ D. ③④

和谐医患关系是指以医生为中心的群体（医方）与以患者为中心的群体（患方）在医学活动中建立起来的协调匀称的相互关系。“语言沟通和心灵抚慰是第一处方”。医者多用善意语言，与患者进行有效沟通，是医德规范的基本要求，是治疗疾病的良药，更是和谐医患关系的现实需要。这表明

- ①医者多用善意语言有利于实现医患矛盾双方在一定条件下相转换
- ②医者多用善意语言能充分发挥意识对患者治疗活动的主动创造性
- ③医者践行医德需要坚持把精湛医学技术与高尚人文精神有机结合
- ④医者注重有效沟通让医患间笑颜以对是建设和谐医患关系的前提

A. ①② B. ①④ C. ②③ D. ③④

24. 商代出现了史官，起初并不是专司记事，而是主持祭祀，沟通神与王的意志。东汉班固将史书著录于《六艺略》“春秋家”，以史附从于经。魏晋南北朝，史学对民族关系和中外交流的记载突出。隋唐以来，私人修史受到扼制，官修史书成就显著。由此可知，我国传统史学

- A. 呈现出阶段性分裂式的特征
- B. 有利于社会进步和传承民族文化
- C. 主观倾向性影响了历史真相
- D. 官修和私修的编撰方式迥然不同

25. 汉初，商贾“大者田数百顷，小者百余顷”，中后期“（国）财赂衰耗而不澹”。桑弘羊强调“富国何必用本农，工不出，则农用乏，商不出，则宝货绝。富在术数，不在力耕”。这表明桑弘羊

- A. 主张工商可以富国
- B. 放弃传统重农抑商政策
- C. 加强政府宏观调控
- D. 强调工商皆本的合理性

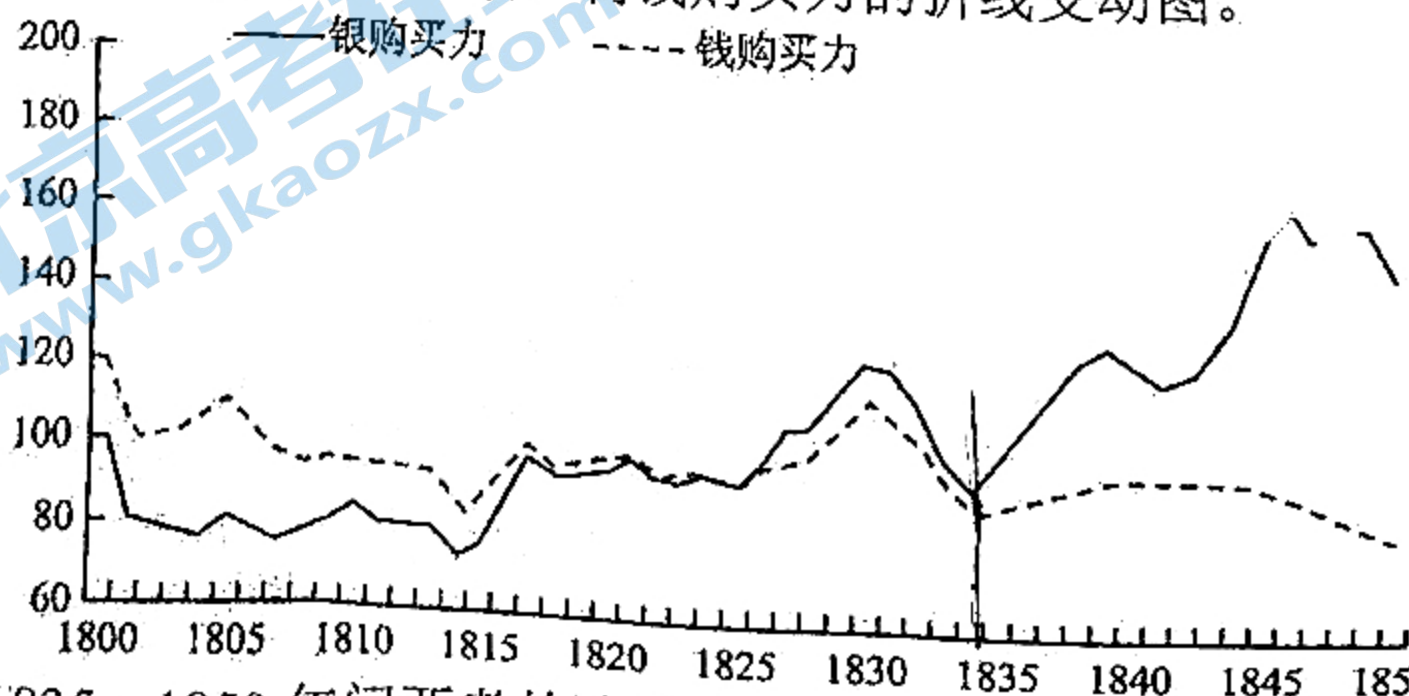
26. 东晋政权为笼络南渡聚族而居士民，在长江南北梁益诸州、荆襄一带，置侨州郡县安置侨人，保持其原来籍贯（如在京口设立南徐州），另立户籍，给予免除赋役之优待，不受当地政府管辖。这一政策

- A. 不利于江南地区经济的开发
- B. 标志着户籍制度的成熟
- C. 形成了郡国并行的管理体系
- D. 扩大了政权的统治基础

27. 学者田澍认为内阁有教育功能、筹划功能、补过功能等，但这几种功能的正常发挥需要一定的条件，即：皇帝勤政、皇帝亲信并尊崇阁臣。但在实际运行中，阁臣常常得不到皇帝的真心支持，使内阁的功能不能得到充分发挥。这说明

- A. 内阁是相权的翻版
- B. 阁权受到皇权的制约
- C. 中枢机构发生异变
- D. 阁臣与皇帝冲突加剧

28. 下图为 1800~1850 年间中国白银、制钱购买力的折线变动图。



其中，促成 1835~1850 年间两者的购买力呈现出不同趋势的主要原因是

关注北京高考在线官方微信：北京高考资讯(微信号:bjgkzx)，获取更多考试资讯、排名分析信息。

- A. 传统制钱丧失竞争力
- C. 中外经济联系的加强

- B. 中国对外贸易处于出超地位
- D. 白银开始成为主要流通货币

29. 有学者认为：蔡元培、胡适理想的新文化运动是中国的“文艺复兴”。新文化运动批评、扬弃了传统文化的正统东西，他们又选择了清代朴学方法、白话文、古典小说、戏曲，他们研究先秦诸子，发掘墨子的思想价值。该认识意在强调新文化运动

- A. 改变了绝对化的倾向性
- B. 是民主思想启蒙和文化革新运动
- C. 不是对传统文化的断裂
- D. 冲击了封建君主专制和纲常礼教

30. 抗战时期，中国共产党有计划地与敌人发行的日伪货币政策作斗争。1939年10月，冀南抗日根据地成立冀南银行，发行冀南银行币，1941年陕甘宁边区银行发行银行券（简称“边币”），在新四军开辟的根据地，发行“抗币”。这一举措

- A. 粉碎了日军对沦陷区的经济掠夺
- B. 进一步巩固了抗日民主政权
- C. 彻底解决了根据地物价猛涨问题
- D. 扩大抗日民族统一战线范围

31. 下表是1961—1962年我国钢铁工业的调整统计表，对此解读正确的是

时 间	基建投资（亿元）	年度指标（万吨）	钢产量（万吨）
1961年	11.88	850	870
1962年	5.07	600	667

- A. 降低成本以缓解财政危机
- B. 所有制结构发生了改变
- C. 压缩产量以减轻市场压力
- D. 国民经济结构得到改善

32. 亚里士多德说：“每一个公民都不能属于他自己，而是国家的一份子，人的发展依赖于教育，因此教育必须由国家来管理，国家要建立统一的教育制度，使受教育者一方面获得德性，另一方面成为理想国家的统治者和被统治者”。这反映出，当时雅典

- A. 城邦集体利益高于公民个体利益
- B. 民众享有受教育的平等权利
- C. 国家教育能够保证城邦长治久安
- D. 公民接受教育才有真正自由

33. 1694年，英国为“九年战争”筹款，国会同意国王授权威廉·彼得森等创立英格兰银行，前提是长期借钱给政府。拿到特许权后，金融城中1208位股东（其中有伦敦市长、市政管、商人、医生、鱼贩等）只用两周筹资120万英镑，以年息8%贷款给政府，政府把这笔钱全部支取。这说明英格兰银行的成功主要得益于

- A. 公众与政府间的信用关系
- B. 世界经济霸主地位确立
- C. 国王的权利受到议会制约
- D. 政府和民众的危机意识

34. 瞿秋白曾有一段派驻苏俄（联）的经历，他对于俄国农民问题的历史发展和前景这样写道：“资本主义中‘最初积累’的发展，必定令农民为阶级的分化；国家工业的发达，必定一面吸收无产阶级化的农民，一面扩充财政……”据此推断，苏俄（联）当时

- A. 践行了战时共产主义政策
- B. 消除了与西欧各国的分歧
- C. 实施了列宁的新经济政策
- D. 揭开了工业化建设的序幕

35. 1960年，法国总统戴高乐邀请赫鲁晓夫访法，会谈时，提出“缓和、谅解、合作”的政策主张，同时他也主张欧洲国家在诸经济、文化、技术、旅游等方面同苏联相互交流和接触。这一转变

- A. 加速了欧洲一体化进程
- B. 反映美苏“冷战”重心的转移
- C. 表明法美两国关系破裂
- D. 利于缓和“冷战”的紧张局势

关注北京高考在线官方微信：北京高考资讯(微信号:bjgkzx)，获取更多试题资料及排名分析信息。

本卷包括必考题和选考题两部分。第36—42题为必考题，每个试题考生都必须作答。第43—46题为选考题，考生根据需求作答。

(一) 必考题

36. 阅读图文材料，完成下列要求。(24分)

材料一 年楚河流域地处西藏自治区南部，属于温带半干旱高原季风气候区，河谷地带多夜雨。该流域因自然条件独特，粮食单产高且品质好，素有“后藏粮仓”的美誉。上世纪90年代，年楚河流域因不合理经济活动引发了许多生态环境问题，严重制约了当地社会经济发展。

材料二 图2为年楚河流域图，图3是年楚河上游年内降水量、流量、气温统计图。




图2

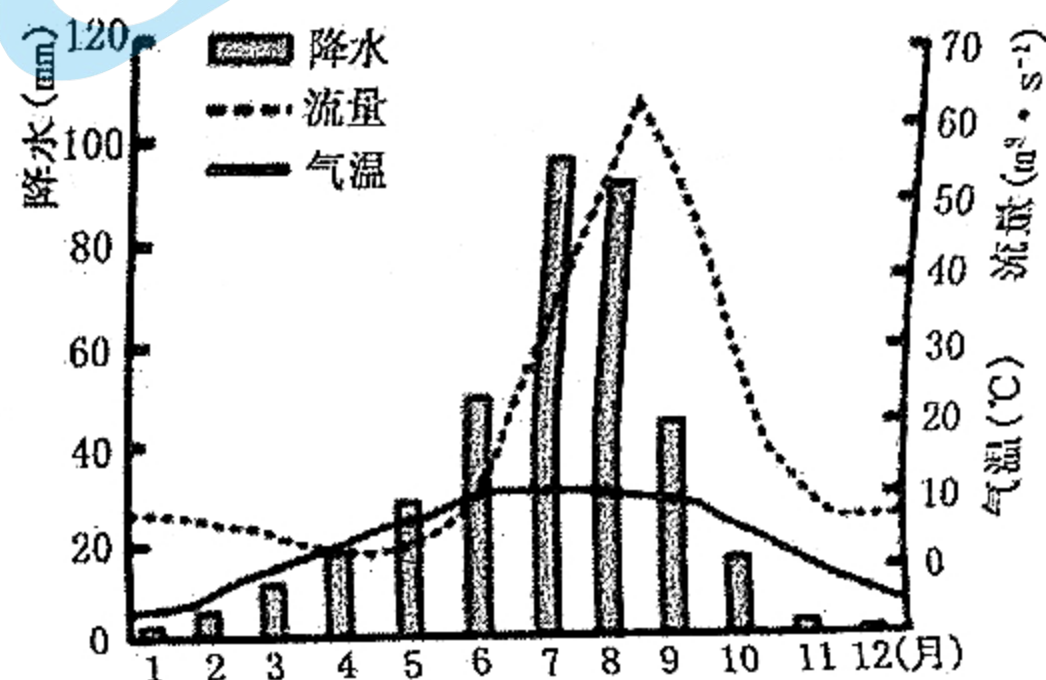


图3

- (1) 据图3描述年楚河上游河段的径流量特征。(6分)
- (2) 分析年楚河流域成为“粮仓”的主要气候条件。(6分)
- (3) 据材料，推测该流域人类不合理的农业生产活动以及产生的主要环境问题。(6分)
- (4) 请为促进年楚河流域农业可持续发展提出可行的措施。(6分)

37. 阅读图文材料，完成下列问题。(22分)

韩江为广东省潮汕平原最大河流，在其接近入海口处形成多条入海水道，在水道下游，河流和海浪共同作用下形成沙垅(图4)。沙垅内侧形成封闭或半封闭的潟湖(如图4中甲湖)，最终形成沙垅——潟湖平原(图5)。当地政府为了保障韩江三角洲地区的供水安全，在韩江入海水道上建了水闸。

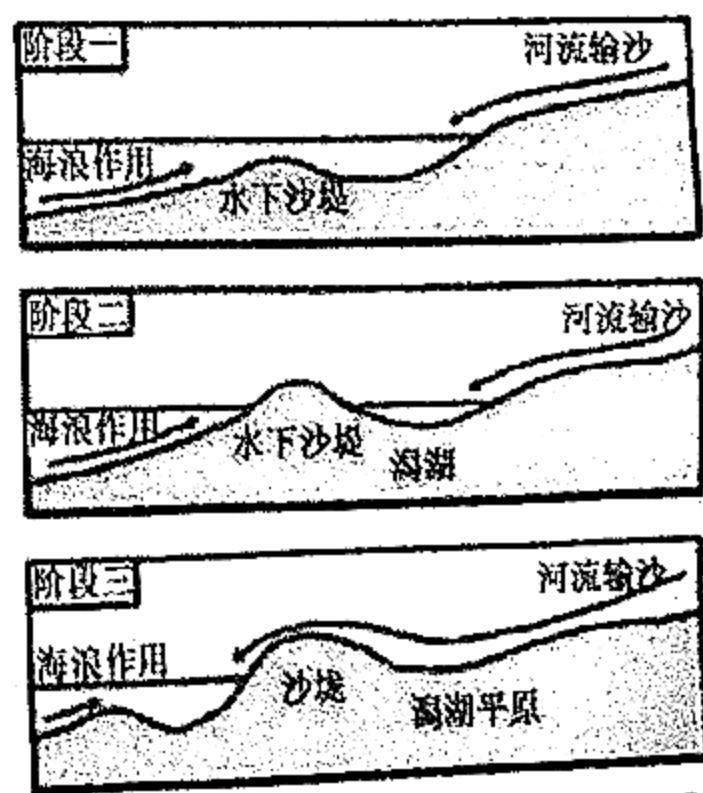
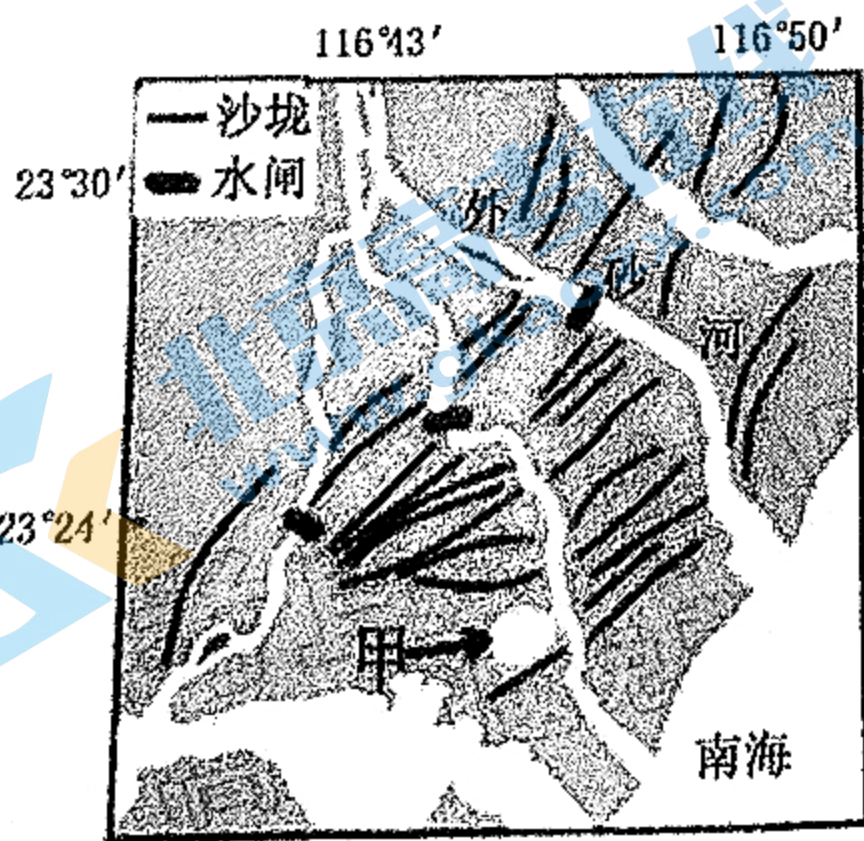


图5 沙垅—潟湖平原形成过程图

关注北京高考在线官方微信(微信号:bjgkzx),获取更多试题资料及排名分析信息。

- (1) 描述沙垅的分布特点, 并指出其主要物质来源。(6分)
- (2) 试分析甲湖泊形成过程中湖水逐渐变淡的主要原因。(6分)
- (3) 从地质作用角度, 简述沙垅—潟湖平原的形成过程。(6分)
- (4) 推测水闸如何保障该地区的供水安全。(4分)

38. 阅读材料, 完成下列要求。(12分)

2022年4月10日,《加快建设全国统一大市场的意见》正式发布,其中,在流通领域,重点提到要建设现代流通网络,即优化商贸流通基础设施布局,加快数字化建设,推动线上线下融合发展,形成更多商贸流通新平台新业态新模式。然而我国的流通领域还存在诸多问题。首先,我国还没有形成完善统一的国内大市场,仍然存在一些约束自由流动的隐性壁垒,超大规模市场的优势尚未得到充分发挥;其次,在物流体系建设上,城乡融合的交通网络不够完善,基础设施数字化和网络化改造相对比较滞后,核心枢纽、主干线路、区域仓储分拨中心、终端配送节点缺乏统筹协调,各种运输方式的衔接效率不高;最后,在社会信用体系建设上还比较滞后,违法失信行为经常发生。因此,疏通流通领域的堵点,对促进国内大循环,建设全国统一大市场,推动经济健康发展具有重要作用。

结合材料并运用社会主义市场经济体制相关知识,说明我国应如何疏通流通领域的堵点以推动建设全国统一大市场。(12分)

39. 阅读材料,完成下列要求。(12分)

为推动各省落实环境保护、促进绿色发展,第二轮第六批5个中央生态环境保护督察组于2022年3月23日至25日陆续进驻河北、江苏、内蒙古等5省(自治区)开展督察。各督察组聚焦问题线索,深入基层、深入一线、深入现场,采取暗察暗访和蹲点调查等方式开展工作,督察地市级党委政府生态环境保护工作推进落实情况。经过督察双方共同努力,一批群众身边的生态环境问题得到解决;一批整改不到位甚至污染反弹的问题得到查处;一批生态环境违法行为得到及时纠正。截至4月10日,各督察组共收到群众来电、来信举报7608件,受理有效举报6373件。经梳理合并重复举报,累计向被督察对象转办5394件;被督察对象已办结或阶段办结2083件,其中立案处罚442家;立案侦查25件;约谈党政领导干部98人,问责党政领导干部54人。

结合材料并运用政治生活的知识,说明开展中央环保督察工作对各地落实环境保护、促进绿色发展的作用。(12分)

40. 阅读材料,完成下列要求。(28分)

共同富裕是社会主义的本质要求,是人民群众的共同期盼。

关注北京高考在线官方微信:北京高考资讯(微信号:bjgkzx),获取更多试题资料及排名分析信息。

消除贫困、改善民生、促进共同富裕是我们党矢志不渝的奋斗目标。党的十九届五中全会对扎实推动共同富裕作出重大战略部署，在2035年基本实现社会主义现代化远景目标中明确提出“全体人民共同富裕取得更为明显的实质性进展”。近年来，浙江省在探索解决发展不平衡不充分问题方面取得了明显成效，具备开展共同富裕示范区建设的基础和优势。2021年6月10日，中共中央、国务院正式公布《关于支持浙江高质量发展建设共同富裕示范区的意见》，要求浙江在高质量发展高品质生活、城乡区域协调发展、收入分配制度改革、文明和谐家园建设等方面加强探索，为推进全国共同富裕提供省域示范。

浙江在推进共同富裕示范区建设中，既要实现物质富裕，更要实现精神富有。近年来，浙江多措并举，担负新时代文化使命，全面提升文化软实力：打响“浙江有礼”品牌，着力打造思想理论高地、精神力量高地、文明和谐高地、文艺精品高地、文化创新高地。深入挖掘浙江红色资源，守好“红色根脉”，激励全省人民在共同富裕道路上奋力前行。大力推进文化研究工程，打造世界文化遗产群等具有代表性的浙江文化符号和文化标识。推进高品质精神文化服务体系建设，构建“15分钟品质文化生活圈”，实现公共文化服务共享均等、可持续、高质量。推进江南特色的文化创新高地建设，实施文化产业数字化战略，在文化融合发展上不断取得新突破，持续擦亮浙江文化金名片。

- (1) 结合材料并运用关于事物矛盾问题精髓的知识，说明浙江应如何建设好共同富裕示范区。(12分)
- (2) 结合材料并运用发展中国特色社会主义文化的知识谈谈“浙江担负新时代文化使命，全面提升文化软实力”给我们的启示。(12分)
- (3) 浙江的高质量发展和共同富裕离不开大力弘扬浙江精神，请就如何弘扬和培育浙江精神拟一条宣传标语并指出其哲学依据。(4分)

41. 阅读材料，完成下列要求。(25分)

材料一 1931年，湘鄂西等根据地发生大水灾，“房屋倾坍，室如悬磬”。党和苏维埃政府设立粥厂救济；开展节约粮食的活动“党政机关每天两餐稀饭一餐干饭，军事机关一餐稀饭两餐干饭”、“红军游击队员生活费”减半；动员群众、机关人员、红军修堤凿沟开河，不到三年便修建了万余座水利工程，形成了“年成丰熟笑眯眯”的局面。1934年，中央苏区受“先水后旱之灾”，面对严峻的形势，政府广泛发动群众，推行工具统一使用和劳动力相互调剂的策略，结果农业收成“比去年增加一成”，瑞金等重灾区“虽然无很大增加，但也没有减少生产”。

——摘编自《土地革命战争时期革命根据地的生产救灾活动》

材料二 俄罗斯政府一向重视灾害治理，他们在中学开设安全和逃生课程，有计划地向居民宣传安全防范和自救知识，建立了全俄急救和医学中心等医疗和教育机构。在联邦

关注北京高考在线官方微信：北京高考资讯(微信号:bjgkzx)，获取更多试题资料及排名、报分。

紧急状态预防和响应统一国家体系形成的基础上，提出了国家和地方应急管理责任分享制。为了人民的生命、健康与财产权，在法规中特别强调当政府宣布进入紧急状态后，某些权力和自由将受到必要的限制。……为防范危机期间因出现“泄密”报道而破坏政府方案的效力，避免不当报道对人心的扰乱，政府对媒体的职责做出了法律规范，以确保紧急状况发生时，媒体能起到协助政府与社会沟通、稳定社会情绪、缓解紧张状态的作用。鉴于救灾部门使命与美国联邦应急管理署的相似性，俄还与美国建立了防救灾的合作关系，并同北约取得了相关合作的直接联系。

——摘编自游志斌《俄罗斯的防救灾体系》

- (1) 根据材料一并结合所学知识，概括革命根据地灾害治理措施的特点和意义。(12分)
- (2) 根据材料一、二并结合所学知识，指出与党和苏维埃政府相比，俄罗斯在灾害防治措施上的不同。(8分)
- (3) 综合上述材料，谈一谈你对灾害防治工作的认识。(5分)

42. 阅读材料，完成下列要求。(12分)

时间	中国	外国
18世纪	1723至1735年，雍正帝推行“摊丁入亩”、大兴文字狱、设军机处，加强了对西藏管辖。同意开洋，但明确规定外国商船只能到广东虎门和福建厦门两处。 1772至1782年，修《四库全书》，寓禁于修，销毁大批“违禁书籍”。	1714年，英国乔治一世继位。启蒙运动蓬勃发展。 1754年，英国和法国在北美发生战争。 1758年，瓦特改良蒸汽机。 1776年，《国富论》发表。
19世纪	1851年，太平天国起义。 1854年，上海成立“关税管理委员会”，这是中国第一个由外国人管理的海关。 1861年至1894年，洋务运动。 1898年，戊戌变法运动。	1840至1856年，发动两次鸦片战争。 1859年，达尔文发表《物种起源》 1866年，西门子发明发电机 1868年，明治维新
20世纪	1949年10月1日，中华人民共和国成立。 1955年，参加亚非万隆会议。 1984年10月，中国城市经济体制改革开始。	1947年，共产党和工人党情报局成立。 1961年，不结盟国家第一次首脑会议。 1979年，撒切尔改行货币主义政策。 1994年，克林顿上台，推行“宏观调控，微观自主”政策

——摘编自李亚凡《世界历史年表》等

关注北京高考在线官方微信：北京高考资讯(微信号:bjgkzx)，获取更多试题资料及排名分析信息。

上表为 18~20 世纪中外历史事件简表。从表中提取相互关联的中外历史信息，自拟论题，并结合所学知识予以阐述。（要求：写明论题，中外关联，史论结合。）

(二) 选考题 (请考生从给出的 2 道地理题、3 道历史题中每科各选一题作答，如果多做，则按所做的第一题计分)

43. 【旅游地理】 (10 分)

近年来“低碳旅游”日渐兴盛，低碳旅游是指在旅游系统运行过程中，应用低碳经济理论，以低能耗、低污染、低排放为原则开发和利用旅游资源与环境，实现资源利用的高效低耗与对环境损害最小化的全新旅游发展方式。低碳旅游是一种深层次的环保旅游，它包括旅游生产和旅游消费的低碳化。

从景区管理者的角度指出发展低碳旅游可采取的措施，并简述其对景区的意义。(10 分)

44. 【环境保护】 (10 分)

近年来，很多城市流行“挖湖造景”。人工造湖看似改善了人居环境，但作为封闭的水体，由于其水位低、水量小等特点，导致自净能力较弱。2021 年 6 月，成都市某小区内的人工湖泊就出现湖面垃圾漂浮、水位下降、水草疯长现象，湖泊生态状况堪忧。说明修复此类湖泊生态可采取的措施。(10 分)

45. 【历史——选修 1：历史上重大改革回眸】 (15 分)

材料 1755—1759 年，清朝出动数万军队平定叛乱，结束了天山南北长达数百年的分裂割据局面。清朝基本沿用汉、唐治理西域的办法，在新疆实行以军事为主的军府制度，设置伊犁将军为最高军政长官。在汉、回农民聚居的乌鲁木齐，清政府采用与各省一致的郡县制，而塔里木盆地是维吾尔族的聚居区域，清政府则基本保留其原有的伯克统治制度。1759 年，清朝从内地抽调满、汉、回等官兵到新疆驻防；清政府还在天山南北开展了大规模的以屯田垦荒的生产活动，改变了新疆长期以天山为界“南农北牧”的经济格局。清朝对新疆地区原存在的两大宗教——伊斯兰教和喇嘛教（藏传佛教）均采取以政教分离为中心的保护、利用政策，对各族群众的正常宗教活动给予保护，并重新修建了一些寺院。

——摘编自齐清顺《清朝对新疆的治理与开发》

(1) 根据材料，概括清朝前期治理与开发新疆的主要措施。(8 分)

(2) 根据材料并结合所学知识，简析清朝前期对新疆治理与开发的影响。(7 分)

46.【历史——选修3：20世纪的战争与和平】（15分）

材料 中国国务院新闻办公室2013年4月发布的《2012年美国的人权纪录》统计，美国是冷战结束后对外发动战争最频繁的国家。2001—2011年，每年约有1.4万至11万名平民死于美国领导的“反恐战争”……2014—2016年，美国空袭伊拉克7258次，空袭叙利亚5828次，共导致约6000名平民死亡，并制造了生态灾难，致使伊拉克战后儿童出生缺陷率“惊人增加”。美国专家罗伯特·基欧汉所说：“强国总是寻求建立一种有利于其利益和意识形态的国际政治经济秩序。”亚洲人口多，消费力强，资源丰富；中东位处欧洲、亚洲和非洲的接合地带，地缘战略地位十分重要。所以，亚洲和中东自然成为美国频繁发动战争的主要战场。

——摘编自袁源《二战后美国发动的十三场战争》

(1) 根据材料并结合所学知识，概括冷战结束后美国频繁发动对外侵略战争的原因。

(8分)

(2) 根据材料并结合所学知识，分析冷战结束后美国频繁发动对主权国家侵略战争的影响。(7分)

47.【历史——选修4：中外历史人物评说】（15分）

材料 钱镠（852—932年），21岁投军，以“马上得天下”建吴越国，定都杭州，历事唐、后梁、后唐三朝。钱镠一统两浙后，始终“奉中原正朔”，确立“保境安民”的基本国策。外尊朝廷，交邻邦，开拓贸易；内敦恭俭，正刑赏，发展生产。他开创世界筑海塘史之先河，“钱氏捍海石塘”解除了钱塘江的潮患威胁；他三次拓建杭州城，为杭州从三等城市跻身一等奠定了基础；他对杭州建置作出改革，新设钱江县。他多次疏浚西湖，使西湖之水足用于杭州居民，同时，还疏浚太湖等；大力兴修水利，发展农桑。他组织兵民凿开钱塘江口的暗礁，开辟航道，发展南北及海外贸易，使杭州成为当时东南最大的商业都会。他推崇佛教，大规模修建灵隐寺使其成为江南名刹。吴越时期的杭州，经济繁荣，兼有山水之美，佛教人文之盛，俗称“上有天堂，下有苏杭”。

——摘编自《“天堂”的奠基人钱镠》

(1) 根据材料，概述钱镠治理吴越国的主要政绩。(8分)

(2) 根据材料并结合所学知识，简析钱镠取得上述政绩的原因。(7分)

关于我们

北京高考在线创办于 2014 年，隶属于北京太星网络科技有限公司，是北京地区极具影响力的中学升学服务平台。主营业务涵盖：北京新高考、高中生涯规划、志愿填报、强基计划、综合评价招生和学科竞赛等。

北京高考在线旗下拥有网站门户、微信公众平台等全媒体矩阵生态平台。平台活跃用户 40W+，网站年度流量数千万量级。用户群体立足于北京，辐射全国 31 省市。

北京高考在线平台一直秉承“精益求精、专业严谨”的建设理念，不断探索“K12 教育+互联网+大数据”的运营模式，尝试基于大数据理论为广大中学和家长提供新鲜的高考资讯、专业的高考政策解读、科学的升学规划等，为广大高校、中学和教科研单位提供“衔接和桥梁纽带”作用。

平台自创办以来，为众多重点大学发现和推荐优秀生源，和北京近百所中学达成合作关系，累计举办线上线下升学公益讲座数百场，帮助数十万考生顺利通过考入理想大学，在家长、考生、中学和社会各界具有广泛的口碑影响力

未来，北京高考在线平台将立足于北京新高考改革，基于对北京高考政策研究及北京高校资源优势，更好的服务全国高中家长和学生。



微信搜一搜

北京高考资讯

官方微信公众号: bjgkzx

官方网站: www.gaokzx.com

咨询热线: 010-5751 5980

微信客服: gaokzx2018