

北京市朝阳区高三年级第一次综合练习

文科综合能力测试

2017.3

(考试时间 150 分钟 满分 300 分)

第一部分 (选择题, 满分 140 分)

本部分共 35 小题, 每小题 4 分, 共 140 分。在每小题列出的四个选项中, 选出最符合题目要求的一项。

元宵和端午节是中国的两个传统节日, 吃元宵、赏花灯, 以及吃粽子、赛龙舟分别是这两个节日的民间习俗。元宵和粽子都是以稻米为原料制成的节令食品。图 1 为我国双季稻主要适宜种植区分布图。回答第 1、2 题。

1. 对于北京而言
  - A. 端午节后即进入多雨季节
  - B. 元宵节时的昼长比广州长
  - C. 元宵节的日出时刻比端午节早
  - D. 端午节的正午太阳高度比元宵节大

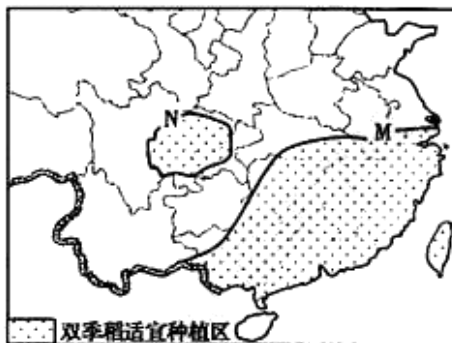


图 1

2. 据图可知
  - A. 双季稻种植的主要影响因素是饮食习惯
  - B. M 界线西段折向西南主要受海拔影响
  - C. N 界线内种植双季稻的优势条件是光照充足
  - D. 对双季稻生长影响最大的自然灾害是寒潮

图 2 为局部地区某时海平面气压分布图。读图, 回答第 3、4 题。

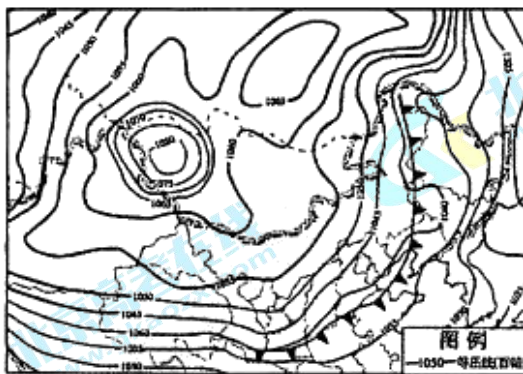


图 2

3. 在图中天气系统影响下, 最可能出现的景象是
 

A. 北风卷地白草折	B. 映日荷花别样红
C. 万条垂下绿丝绦	D. 黄梅时节家家雨
4. 此时
 

A. 最强高压中心位于西伯利亚	B. 渤海海域可能发布海浪预警
C. 京津地区即将迎来大幅降温	D. 陕西北部天气不利于污染物扩散

泰国苏梅岛(9°N,100°E)面积约247平方千米。北京的地理老师小王和他的朋友小李春节期间到苏梅岛旅游。图3为小王手绘的苏梅岛地图以及二人的对话。据此,回答第5、6题。



图3

5. 苏梅岛

- A. 属于热带雨林气候
- B. 11月至次年4月是当地的旅游旺季
- C. 盛产柑橘、葡萄等水果
- D. 手绘地图的比例尺约为1:30000

6. 图中

- A. 西侧为沙质海岸,东侧为礁石海岸
- B. 东侧受地形影响,公路离海较远
- C. 酒店区的优势区位因素是旅游资源
- D. 影响码头选址的主要因素是市场

光伏发电是将光能直接转变为电能的一种技术,其关键原件是太阳能电池,图4为光伏设备生产流程图。回答第7、8题。



图4

7. 目前,下列省区中最适宜布局太阳能光伏设备生产基地的是

- A. 江苏
- B. 青海
- C. 新疆
- D. 贵州

8. 一个国家的光伏发电

- A. 成本比矿物能源发电成本低
- B. 可有效减少本国大气碳排放
- C. 所占比例取决于其太阳能资源的丰富程度
- D. 可根本解决区域能源短缺及环境污染问题

图5为某国等降水量线和自然带分布图。读图,回答第9、10题。

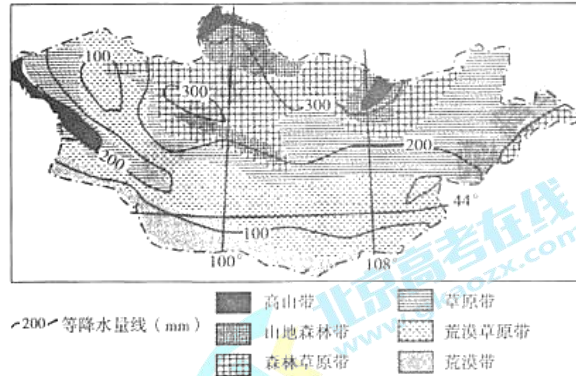


图5

9. 该国
- A. 位于亚欧大陆东部,东临太平洋
  - B. 属于温带季风气候,冬季寒冷干燥
  - C. 以流水侵蚀地貌为主,河谷纵深
  - D. 自然景观水平地域分异的主导因素是水分
10. 对该国荒漠面积变化进行监测和评估的地理信息技术是
- A. RS
  - B. RS和GPS
  - C. RS和GIS
  - D. GIS

图6为我国新疆南部的板块运动示意图。读图,回答第11题。

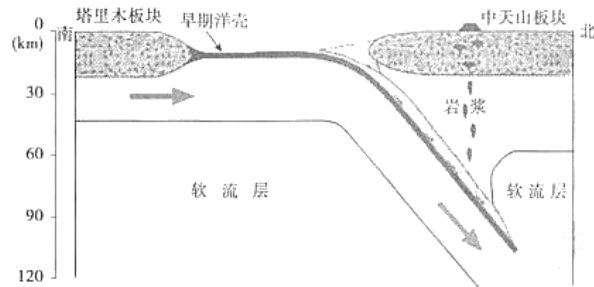


图6

11. 图中所示
- A. 岩石圈厚度达120千米
  - B. 板块为东西相向运动
  - C. 岩浆喷发形成天山山脉
  - D. 板块边界为消亡边界
12. 柏杨称商鞅变法是在大黄金时代的一次惊心动魄的大魔术。这次变法使秦国
- A. 出现迁徙与择业的相对宽松环境
  - B. 私人工商业经济得到迅速发展
  - C. 士人阶层冲破束缚出现思想争鸣
  - D. 创建新权力结构实现富国强兵

13. 钱穆先生认为“(孔子)以学不厌、教不倦为中心,政治事业则为其以学以教之当境实践之一部分”“汉儒尊孔,不免将此事业之重要性首尾例置”。他认为汉儒推崇孔子是更

注重

①安贫乐道      ②传道授业      ③通经致用      ④德治仁政

A. ①②      B. ①③      C. ②④      D. ③④

14. 下表选项中,材料与结论之间逻辑关系正确的是

	材 料	结 论
A	燕赵秦晋齐梁江淮之货,日夜商贩而南,蛮海闽广豫章南楚瓯越新安之货,日夜商贩而北。	陆上、海上丝绸之路空前繁荣
B	1550~1800年日本白银产量的绝大部分和占美洲产量一半的世界白银流入中国,中国成了全球白银的“吸泵”。	以中国为中心的纳贡体系形成
C	拿破仑在1808年创立帝国贵族制度,其中旧贵族出身的占22.5%,资产阶级出身的占58%。	资产阶级成为统治集团的支柱
D	1882年,顺天乡试一发榜,《申报》的记者以快马将两江地区中试名单送到天津,用电报传到上海,次日见报,江南士子时隔24小时就获知考试结果。	通讯革新提高了政府工作效率

15. 一位学者曾发表这样的感慨“一场运动,使一个缺乏群众基础的‘在野党’,发展成为一个全国性的‘执政党’;一个由少数知识精英聚集的幼年的党迅速成长为中国政治舞台上—支不可忽视的力量;成千上万工农群众卷入这场洪流,这在中国历史上是前所未有的。”他谈到的历史事件是

A. 辛亥革命      B. 五四运动      C. 国民革命      D. 抗日战争

16. 某组学生承担了“20世纪30年代的中国”学习主题,提出研讨具体方案。下列方案中更恰当的表达这一学习主题的有

①考验:应对世界性的经济危机  
②对抗:从两党合作到分裂对峙  
③转移:从政府迁徙到北上抗日  
④较量:民主联合政府的可行性

A. ①②      B. ①③

C. ②④      D. ③④

17. 图7反映的历史事件,使全国大约3亿多无地和少地的农民分得了土地和其它一些生产资料的同时

A. 推动了国民经济恢复和发展  
B. 全国掀起了农业合作化高潮  
C. 初步建立了新中国工业基础  
D. 实行了家庭联产承包责任制



图7

18. 20 世纪 80 年代以来,中国采取更为灵活多样的外交方式,取得的重大成就,是通过、签订了
- A.《中苏友好同盟互助条约》  
B.《不结盟国家和政府首脑宣言》  
C.《中国——东盟全面经济合作框架协议》  
D.《中华人民共和国香港特别行政区驻军法》

甲:他的哲学追求集中在认识人自己,终其一生述而不作,喜欢讨论问题或讲授哲学。	乙:他是多门学科的奠基人,著作涉及逻辑学、物理学、心理学、伦理学、政治学等。	丙:他提出了关于人的最基本的问题,并以他的名著——“三大批判”为代表,最终确立了人类的主体地位。
--	--	--

19. 上述三位学者在学术思想与学术探索中遵循的共同原则是  
A. 理性      B. 神性      C. 道德      D. 中道
20. 962 ~ 1806 年的德国全称为“德意志民族神圣罗马帝国”,却被伏尔泰称之为“既非神圣,又非罗马,更非帝国”。这个阶段的德国  
A. 首倡了文艺复兴      B. 发生了宗教改革  
C. 结束了民族分裂      D. 完成了工业革命
21. 西方学者在研究 19 世纪后期蒸汽船的使用时发现,在欧美国家和非欧美国家都出现了贸易量翻倍的同时,非欧美国家城市化率下降了 15 - 16%;欧美国家城市化率上升了 11 - 17%。以上材料表明  
①蒸汽船推动全球城市化进程      ②奴隶贸易促使人口急剧集中  
③亚非拉地区的殖民地化加深      ④工业水平和城市化率成正比  
A. ①②      B. ②③      C. ①④      D. ③④
22. “农产品价格在 1929 - 1933 年实际下降了 50%,但人们仍因贫困而挨饿,种粮者面对微薄的收入深感失望……”对此该国政府所采取的调整措施是  
A. 开垦荒地扩大生产      B. 减产与收购相结合  
C. 着力刺激消费市场      D. 大力推行集体农庄
23. 1958 年,在莫斯科举办了首届柴可夫斯基国际钢琴比赛,美国钢琴家范·克莱本荣获一等奖,这使美国“从一种 50 年代以来的不快阴影中得到些许解脱”。下列选项中属于“不快阴影”的是  
A. 华沙条约组织的成立      B. 签署《关税及贸易总协定》  
C. 欧洲共同体的诞生      D. 中国第一颗原子弹试爆成功
24. 为统一劳动步调,提高劳动效率,增加劳动乐趣,广大劳动人民在长期艰苦的生产实践中,创作出劳动号子这种独特的民歌品种。通州运河船工号子是运河文化的重要符号,入选了北京市首批非物质文化遗产。下列认识中,正确的是  
A. 运河船工号子随着京杭大运河的断航而失去了保护的价值  
B. 运河船工号子蕴含的包容精神是中华民族精神的重要内容  
C. 运河船工号子能够对当代北京发展进程产生重大深刻影响  
D. 运河船工号子对于研究大运河文化的发展具有重要的意义

高三文科综合能力测试 第 5 页(共 15 页)

25. 把“床前明月光”翻译成 Before my bed a pool of light,将月光和思乡之情暗喻为水,翻译家许渊冲先生的翻译创作让西方人也体会到了中国唐诗的精妙。同时,许先生把雨果、司汤达等西方作家的著作翻译成中文,让中国读者感受到欧洲社



《静夜思》

床前明月光  
Before my bed a pool of light  
疑是地上霜  
I wonder if it's frost around  
举头望明月  
Looking up, I find the moon bright  
低头思故乡  
Bowing, in homesickness I'm drowned

图8

- 会的风貌,影响了一批中国作家的创作。上述事例说明
- ①文化多样性是文化创新的重要源泉      ②中华文化与其他民族文化有相通性  
③翻译创作将成为文化传播的主要手段      ④文化交流促进了中华文化发展和进步
- A. ①②      B. ①③      C. ②④      D. ③④
26. 传统中医文化中有“药食同源”之说,意思是有些食物即药物,比如山药既可以做食材,也可以做药材。《本草纲目》记载:山药治诸虚百损、疗五劳七伤、去头面游风、止腰痛、除烦热、补心气不足、益肾气、健脾胃、润毛皮、生捣贴肿、硬毒能治。这说明
- ①人们能够利用山药的客观属性来满足自身的不同需要  
②山药在不同生长阶段具有不同特征呈现出不同的效用  
③人们可以根据需要改变山药的特性使其具有不同功能  
④人们可以通过实践建立新的联系使山药得到合理利用
- A. ①②      B. ①④      C. ②③      D. ③④
27. 读万卷书,行万里路。2014年起,北京市部分中学开始实施“研学旅行、游学结合”的课程新模式。以下是某校研学旅行活动的课程方案(摘录):

课程目标:让学生接触社会,在体验中学习和锻炼,重在全员参与、集体活动、走出校园、实践体验。

课程设计:从综合实践活动课程角度统筹考虑,把研学旅行和地理、历史、政治、科技等课程有机融合。

课程要求:阅读《研学之旅资料卡》,制定研学计划;积极参与活动,完成课程规定的内容;根据自己的体会,填写研学考察报告。

- 从哲学角度对这一方案进行评价,下列表述合理的有
- ①研学课程目标的制定突出社会实践的重要性,充分体现意识的能动性  
②知识储备是研学质量的根本保障,强调了主要矛盾对事物的决定作用  
③在研学课程的设计上既重视“游”,又强调“学”,做到了全面地看问题  
④学生参与活动时要根据自己的实际制定研学计划,做到客观符合主观
- A. ①③      B. ①④      C. ②③      D. ②④

28. “在殿堂和田垄之间,你选择后者,脚踏泥泞,俯首躬行,在荆棘和贫穷中拓荒。洒下的汗水,是青春,埋下的种子,叫理想。守在悉心耕耘的大地,静待收获的时节。”“感动中国2016年度人物”大学生村官秦玥飞从耶鲁大学毕业后选择回到祖国服务,并且发起了“黑土麦田公益”项目,招募优秀毕业生到国家级贫困县从事创业和扶贫。这表明
- ①在劳动和奉献中实现并证明人生的价值 ②要在个人与社会的统一中实现人生价值  
③掌握丰富的知识是实现人生价值的前提 ④价值观对人生道路的选择具有促进作用
- A. ①②                      B. ①④                      C. ②③                      D. ③④
29. 既符合绿色出行的理念,又解决了最后一公里出行难的共享单车,频频遭遇“黑手”,私自上锁、破坏损毁等情况屡见不鲜,乱停乱放,影响环境,阻碍交通。有人认为:“共享单车是企业的一种经营行为,就应该由企业而不是政府去管理和维护。”这一观点
- A. 合理,政府应正确处理政企关系,避免对企业的干预  
B. 合理,政府要坚持法无授权不可为,避免权力的越位  
C. 不合理,政府应审慎行使权力,发挥市场机制的作用  
D. 不合理,政府应积极履行职能,提高管理和服效能
30. 民法被称为社会生活的百科全书,编纂民法典是实现国家治理体系和治理能力现代化的重大举措。2016年全国人大常委会对《中华人民共和国民法总则(草案)》进行了三次审议,三次征求社会公众意见,两次征求全国人大代表意见;2017年3月15日,第十二届全国人民代表大会第五次会议表决通过了《民法总则》。这说明
- ①立法过程充分体现了开门立法、民主立法的精神  
②公民积极参与民主管理,增强了对法律的认同感  
③全国人大常委会行使决定权,积极推进法治建设  
④全国人大行使国家立法权,维护人民的根本利益
- A. ①②                      B. ①④                      C. ②③                      D. ③④
31. 边际收益是指增加一单位产品的销售所增加的收益,即最后一单位产品的售出所取得的收益。当生产要素投入数量增加到一定程度以后,其他条件不变时,边际收益是递减的。假设图9是某影片的边际收益图。对此解读正确的是
- A. 影院放映场次在  $n_1$  时总收益最低  
B. 影院放映场次在  $n_2$  时总收益最大  
C. 影院放映场次在  $n_3$  时总收益最大  
D. 影院放映场次在  $n_4$  时总收益最低

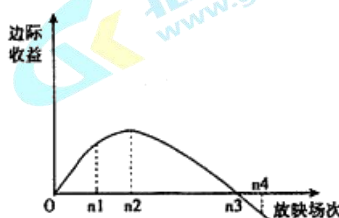


图9

32. 为响应国家“大众创业、万众创新”的号召,培养创新创业人才,实践活动被赋予了新的时代内涵。某地开展青年学生创业大赛,一名中学生以“新能源汽车无线充电”项目为创意,向评委阐述自己的创业计划,其中合乎经济学道理的是
- ①战略选择:积极承担社会责任以缓解资源和环境压力  
②竞争策略:通过核心技术创新能够取得竞争上的优势  
③资金筹措:通过发行金融债券从资本市场募集到资金  
④组织机构:设立董事会负责企业的日常经营管理事宜
- A. ①②      B. ①④      C. ②③      D. ③④
33. 面对当前世界经济和贸易增速不断降低、国际金融市场波动加剧、地区和全球性问题突发多发的外部环境,一些国家开始重拾贸易保护主义,出现“逆全球化”趋势。针对这种现象,我们应该
- ①强化规则意识,提高利用贸易规则的本领  
②倡导贸易自由,及时地完善全球贸易规则  
③扩大对外开放,积极融入全球一体化进程  
④坚持独立自主,扩大国内投资和消费需求
- A. ①②      B. ①④      C. ②③      D. ③④
34. 在资本主义发展史上,一直存在着经济自由主义与国家干预主义两种思潮的斗争,对于二者的激烈交锋,以下表述正确的是
- ①“谷物法”的废除说明国家干预主义将占据主流  
②经济危机的爆发使得多数国家采取了干预主义  
③“滞胀”出现使经济自由主义面临着重大困境  
④国家垄断资本主义发展削弱了自由主义的影响
- A. ①②      B. ①③      C. ②④      D. ③④
35. 2016年,美国总统大选举行全民投票,同时举行参众两院议员改选。共和党人唐纳德·特朗普当选美国总统。民主党和共和党的国会议席数也发生了明显变化,如下表所示:

国会总席位	选举年	民主党	共和党
众议院 435 席	2014	188 席	247 席
	2016	194 席	241 席
参议院 100 席	2014	46 席	54 席
	2016	48 席	52 席

某校高三学生根据上述信息,对这一时事进行述评时,得出如下推断,其中恰当的是

- ①民主党在国会事务中将无法对执政党形成制衡  
②两党在阶级基础和意识形态上存在明显的区别  
③特朗普行使行政权力时将会得到国会更多配合  
④国会由选民直接选举产生不受行政机关的干预
- A. ①②      B. ①④      C. ②③      D. ③④



第二部分（非选择题 共 160 分）

36. (36 分) 读图 10, 回答下列问题。

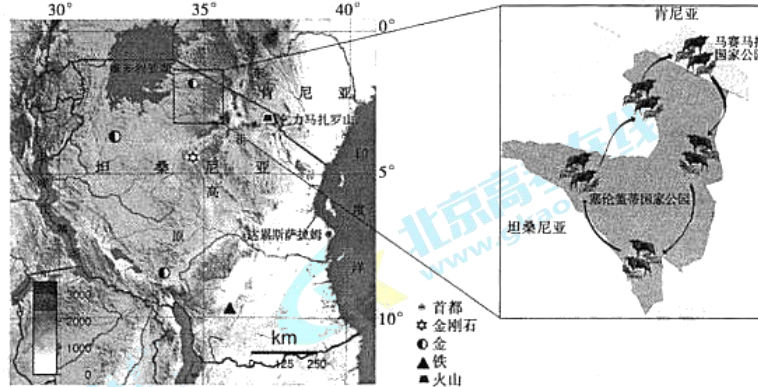


图 10

地处赤道附近的乞力马扎罗山海拔 5895 米, 是非洲第一高峰。山顶白雪皑皑, 山腰草木繁盛, 山麓雨林茂密。

(1) 指出乞力马扎罗山形成的主要地质作用, 并分析其独特景观的形成原因。(10 分)

每年, 上百万头斑马、角马和瞪羚会在坦桑尼亚的塞伦盖蒂草原和肯尼亚的马赛马拉草原之间迁徙。北京的小亮同学暑假期间来到东非高原, 目睹了这一大自然的壮观场景。

(2) 说出小亮见到角马等动物迁徙的大致方向, 并分析其原因。(12 分)

2015 年, 中国企业赢得了在坦桑尼亚建设长约 2561 千米的铁路项目, 该铁路将连接首都达累斯萨拉姆与内陆邻国。预计至 2020 年, 将会有 500 多家中国企业到坦桑尼亚投资。

(3) 简述坦桑尼亚吸引中国企业投资的优势条件。(8 分)

咖啡是坦桑尼亚的传统出口农产品, 近 20 年种植面积增加了 1 倍多, 但经济效益没有明显提高。

(4) 请为坦桑尼亚咖啡产业的发展提出建议。(6 分)

37. (36分) 法安天下, 德润人心, 德法并举是治国理政的重要手段。阅读材料, 回答问题。

中国青铜时代的法律, 注重法以“刑”为核心的同时, “纳上下于道德, 而合天子、诸侯、大夫、士、庶民成一道德团体”, 制度和礼皆是道德之器械。这种纳法律于道德的传统, 流衍于后世。

——梁治平《中华文明读本·法律体系篇》

《十二表法》将作为家庭首领的家父享有独特的巨大权力具体化并且细分化。其对家父唯一的明确限制是有一条“若家父出卖家子三次, 家子即脱离家父”的规则。家父对隶属于他的后裔的财产和生命拥有绝对支配权。当家父欲行使对其后裔处以死刑的权力时, 必须召集理事会进行听审, 家父的行为要受到这个理事会裁决的约束。处在绝对家父权之下的家子, 能够和家父一样自由地投票和担任法官, 公法与私法并不相矛盾。

——[英] H. F 乔洛维茨 巴里·尼古拉斯《罗马法研究历史导论》

(1) 概括“中国青铜时代的法律”与古罗马《十二铜表法》的不同。(10分)

政治意义上的“宪法”一词在英美两国含义迥然不同。于美国意味着某个特定时刻颁布的作为国家最高法律的成文法律文件, 而对于英国人而言意味着其实际的社会政治秩序——经由数个世纪渐积而成的——从前代继承下来的且规范当下政府操作行为的法律、习惯和先例。

——[英] 沃尔特·白芝浩《英国宪法》

(2) 说出“宪法在英美两国迥然不同”的表现形式, 结合所学知识, 谈谈你对英国宪法特点的理解。(10分)

回顾关于就业问题的相关法律法规的发展历程,从经验得失中汲取丰富的养分。

时间	名称	内容
1902	《钦定学堂章程》	《钦定小学堂章程》广设简易农工商实业学堂,小学堂毕业生得以入之;《钦定中学堂章程》《钦定高等学堂章程》与上相比逐级提升。
1913	《实业学校令》 《实业学校规程》	从宏观和微观两个层面成为职业教育法制的主要载体。
1922	《劳动立法之原则》 《劳动法大纲》	中国劳动组合书记部及中共二大提出“制定保护工人、农人和妇女的法律”,实行8小时工作制,工厂设立医院及其他卫生设备。
1929	《工厂法》 《工厂检查法》	内政部劳工司掌理劳工团体监督、劳工生活、工矿卫生设备、工人失业及伤害救济、劳动保险、调节劳资纠纷等事务。
1931	《职业介绍所暂行办法》 《中华苏维埃共和国劳动法》	20世纪30年代的失业问题迫使政府加强和加速了职业介绍立法活动。1935年《职业介绍法》出台。 改善工人阶级劳动地位、保障工人阶级权利,苏区劳动就业法开始走向统一。
20世纪下半叶,欧美主要国家就业促进法制取得突破性进展;《中华人民共和国就业促进法》于2007年颁布,2008年正式实施。		

——黄河《中国近代就业促进法制变迁及启示》

(3)为促进就业和经济发展,相关法律法规逐步出台。阅读材料,概括近代以来中国就业法规的发展特点。结合所学,就其发展历程进行分析。(16分)

38. (34分)实现国民健康长寿,是国家富强、民族振兴的重要标志。阅读材料,回答问题。

**健康中国** 健康是促进人的全面发展的必然要求,是经济社会发展的基础条件,也是广大人民群众的共同愿望和共同追求。当前我国居民主要健康指标总体上优于中高收入国家的平均水平,但随着工业化、城镇化、人口老龄化以及生态环境、生活方式变化,维护人民健康面临一系列新挑战。2016年,国家颁布了《“健康中国2030”规划纲要》。

根据《纲要》,建设健康中国,必须把握健康领域发展规律,转变过去落后的发展理念,坚持科学发展观,为健康中国提供良好的环境;必须统筹考虑普及健康生活、优化健康服务、完善健康保障、建设健康环境、发展健康产业等五大任务。

(1)运用《生活与哲学》相关知识,分析说明上述材料所蕴含的哲学道理。(8分)

**健康产业** 健康产业是具有巨大市场潜力的新兴产业。推进健康产业供给侧结构性改革,可以不断促进健康中国的可持续发展。

**【健康产业信息化】**信息技术与健康产业的结合是新趋势,互联网的发展,特别是移动互联网技术的发展与健康产业结合,为健康产业发展提供了新的动力。比如:健康大数据提升诊断和治疗水平;移动互联网发展促进医疗信息沟通便捷化;手机医疗应用成为健康产业新方向。

**【健康产业多元化】**健康产业包括医疗产品、保健用品、营养食品、休闲健身、健康管理等相关产业。随着人们生活水平的提高,老年健康产业将成为我国健康产业发展的重要内容,健身娱乐成为健康产业新亮点。

### 健康产业 发展趋势

**【非基本医疗卫生服务市场化】**非基本医疗服务是相对于基本医疗服务而言的,具有层次性、发展性和地区性等主要特点。发展非基本医疗卫生服务,有利于医疗卫生资源的合理配置和利用。

**【健康产业全球化】**在经济全球化的今天,中国的健康产业正在加快发展的步伐,投身到全球卫生健康市场发展的大潮之中,比如:健康消费的国际间双向流通;医疗专业人才的单项流动;健康产品全球化。

(2)运用《经济生活》相关知识,结合材料,预测健康产业发展带来的积极影响。(8分)并分析如何推进非基本医疗卫生服务市场化。(6分)

**健康生活** 建设健康中国,普及健康生活离不开公众对健身运动的广泛参与。小明一家都是社区里的健身达人,他们希望带动全社区的街坊邻里参与到全民健身的大潮中去。在运动过程中小明见到了以下现象:

现象一:社区内公共健身器材损坏严重,超过使用期限,缺乏及时维护和更新;一些运动器材旁放置杂物、晾晒衣服,使使用者无法靠近,影响了居民使用。

现象二:社区内健身场地有限,小区广场舞的音响声音比较大,甚至造成噪声污染,打扰了小区其他居民的正常生活,因而影响了广场舞健身运动的开展。

(3)结合材料,运用《政治生活》相关知识,就如何解决上述现象所反映的问题提出3条建议并说明其理论依据。(12分)

39. (12分)随着《中国诗词大会》第二季决赛的热播,全社会掀起了学习中国诗词文化的热潮。

某校高二文科班学生举行“赏中华诗词,寻文化基因,品生活之美”主题班会,学生分组分享自己学习诗词的方法及体验。

甲组同学:阅读法是通过研读经典名著的方式学习诗词。阅读名著《红楼梦》,徜徉于金陵十二钗(正册)、红楼梦十二支曲、大观园题咏、菊花诗、咏柳词、怀古诗、香菱学诗等诗词中,体会《红楼梦》中的诗词之美。

腹有诗书气自华,通过读书,提高了自己的文学素养,也拥有了诗意的生活。

乙组同学:吟唱法是通过吟唱相结合的方法学习诗词。诗词中往往有平仄的韵律,特别是一些律诗,节奏感强,比较适合吟唱。如毛泽东《七律·长征》:红军不怕远征难,万水千山只等闲。五岭逶迤腾细浪,乌蒙磅礴走泥丸。金沙水拍云崖暖,大渡桥横铁索寒。更喜岷山千里雪,三军过后尽开颜。

把诗词转化为歌曲吟唱不仅容易记忆,也有利于体会诗词的韵律之美。

丙组同学:听书法是通过选择一些听书软件中的音频节目反复听来学习诗词。可以选择喜马拉雅软件中的高中语文诗词讲解、诗词鉴赏等音频,每天坚持听一段。

安静的倾听有助于我们体会诗词所要表达的意境,陶冶我们的情操。

阅读上述材料,围绕班会主题,结合自身体验,自选角度,自拟题目,运用《文化生活》相关知识,写一篇200字左右的短文。

要求:观点鲜明;可以全面论述,也可以就某一点深入分析;知识运用准确、贴切;论述合乎逻辑,条理清晰。

40. (20分)京津冀三省市地缘相接、文化一脉、历史渊源深厚,具备相互融合、协同发展的良好条件。

“蓟”是北京见于文献记载的最早的地名之一,“武王褒封帝尧之后於蓟,北京城区肇始斯地。其时惟周,其名曰蓟”。20世纪50年代的考古发掘工作中,出土了宫殿建筑构件并发现151座春秋、战国至东汉时的陶井,及井底汲水的水罐等生活用品。诗人李益曾有“惆怅秦城送独归,蓟门烟树远依依”,诗中“秦城”传为秦置蓟县,“蓟门”指的是当时唐幽州藩镇城,亦后来辽金都城之前身。金章宗始定燕京八景,其一名为“蓟门飞雨”,元代相延,明代改为“蓟门烟树”,清代袭之。

(1)根据材料并结合所学知识,对“蓟”的变化进行解读。(10分)

要求:提取信息充分,总结归纳准确完整、解释和分析逻辑清晰。

高三文科综合能力测试 第13页(共15页)

北京新机场位于北京正南方,其中一半建在大兴区,一半建在河北廊坊市境内。在北京产业功能外溢的基础上,新机场的建设将为廊坊带来新的契机。图11为北京新机场的位置以及廊坊市产业布局规划示意图。



图11

(2) 简述北京新机场的建设对廊坊市社会经济发展的影响。(10分)

41. (22分) 国家制订的“十三五”规划确定了到2020年消除贫困的目标,打响了“精准扶贫”的攻坚战。2016年已超额完成1000万人脱贫目标,同时出现一些成功案例。

我国的贫困地区多是生态环境脆弱地区。读图12,回答第(1)题。

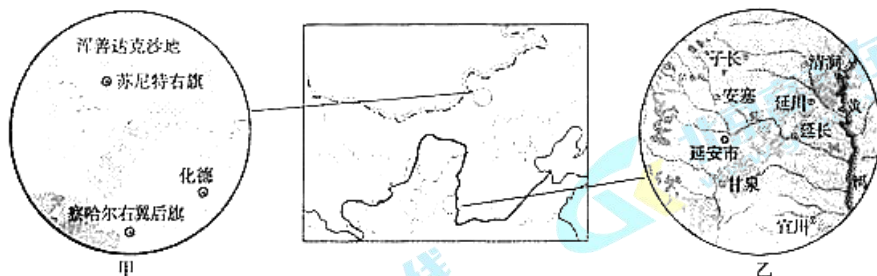


图12

(1) 在甲、乙两区域中任选其一,简述该地区主要的生态环境问题及其自然原因。(10分)

含嘉仓，始建于隋大业元年(605年)，是盛纳京都以东州县所交租米之皇家粮仓。至唐天宝8年总储粮量约为5833400石，被称为中国古代最大的粮仓。含嘉仓反映出当时的军事、漕运、建筑、防潮技艺、粮食管理制度等众多信息，具有重大研究和观瞻价值。

——《洛阳日报2011年11月22日》

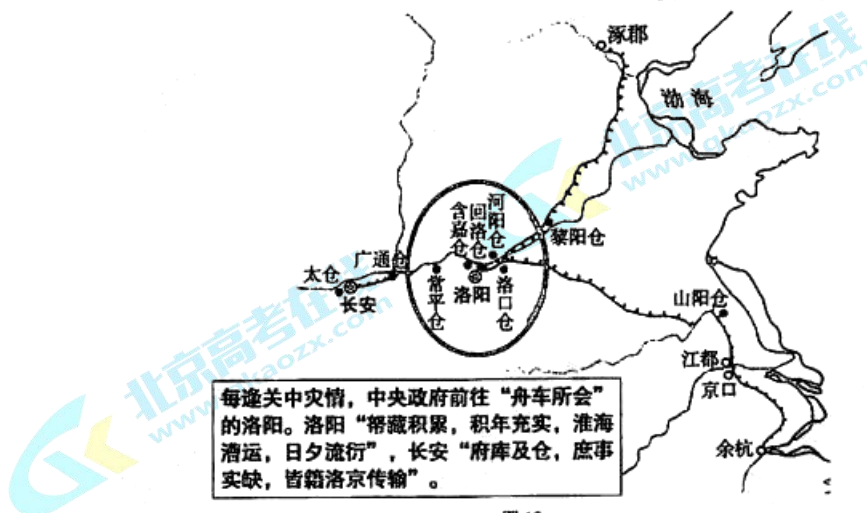


图13

(2)结合所学知识，分析图中含嘉仓及周边大粮仓的作用及其选址原因。(6分)

“精准扶贫”利国利民，一些成功的案例为打响“精准扶贫”攻坚战提供了有效借鉴。

◎某地推行“旅游+扶贫”，加大乡村文化的挖掘、开发和推广，一批文旅一体的农家乐、特色农产品、手工艺品等迅速发展，探索出一条新的致富门路。

◎某地推出“金融+扶贫”，探索出通过金融扶持、依托区域优势的扶贫思路。短期扶贫项目有小家禽、小药园等；长期扶贫项目有核桃、茶叶等特色农产品种植。当地采用长短结合方式因地制宜、多种经营、用小贷款来促进大产业。

◎某地集团推出“教育+扶贫”，创办了全国唯一的全免费民办高中，实施长达15年全免费教育，共接收2588名处于辍学边缘的学生。该学校结合贫困学子的特点，总结出一套独具特色的德育、智育课程体系。

(3)综合上述成功案例，请运用哲学“思想方法与创新意识”的相关知识加以简要论证。(6分)

(考生务必将答案答在答题卡上，在试卷上作答无效)

北京市朝阳区高三年级第一次综合练习

文科综合能力测试参考答案

2017.3

第一部分 共 35 小题, 每小题 4 分, 共 140 分。

1	2	3	4	5	6	7	8	9	10
D	B	A	B	B	C	A	B	D	C
11	12	13	14	15	16	17	18	19	20
D	D	D	C	C	B	A	C	A	B
21	22	23	24	25	26	27	28	29	30
D	B	A	D	C	B	A	A	D	B
31	32	33	34	35					
C	A	B	C	D					

第二部分 共 6 小题, 共 160 分。

36. (36 分)

(1) 岩浆活动(岩浆喷发)(2 分)

山地位于赤道附近,(2 分)海拔高,相对高差大,(2 分)山顶积雪不化;从山麓到山顶,随海拔升高,气温降低,降水变化,(2 分)形成垂直气候带,从而形成植被的垂直变化现象。(2 分)

(2) 由南向北(2 分)

原因:东非高原属于热带草原气候,一年分干湿两季;(2 分)随气压带风带的移动,南北各地进入雨季的时间不同;(2 分)7、8 月,北部的马赛马拉草原受赤道低压带控制,正值草原气候的雨季,草类茂盛;(2 分)而此时,南部的塞伦盖蒂草原正值草原气候的干季,草类枯黄。(2 分)角马等动物逐水草而居,(2 分)故向北迁徙。

(3) 较低的土地价格;丰富的矿产资源(或原料充足);丰富而廉价的劳动力;巨大的市场潜力;日趋完善的海陆交通;政策支持。(答出任意四条得 8 分)

(4) 加大科技投入,培育良种;专业化生产;深加工,延长产业链,提高附加值;做好防灾减灾工作;加强宣传,创建品牌,提高知名度,开拓市场。(合理即可,答出任意三条得 6 分)

高三文科综合能力测试答案 第 1 页(共 3 页)



37. (36分)

(1)夏商周时代的中国法律重刑法,与血缘政治相结合,强调法律是道德的补充;(6分)  
古罗马的《十二铜表法》以私法为核心,注重维护家父的支配权,注重法律程序,公法与私法并立。(4分)

(2)英国没有统一的成文宪法,是由一系列的法律、习惯和先例构成;美国宪法是由1787年制定的成文宪法及宪法修正案构成;(2分)英国宪法是历经几个世纪的渐积而成,美国1787年宪法由制宪会议制定。(2分)

从13世纪的《大宪章》到17世纪的《权利法案》(2分)及其后一系列的法律文件,最终确立了议会主权(王在法下),建立了君主立宪制政体;(2分)具有尊重传统、渐进创新的特点。(2分)

(3)特点:关注职业教育、保障就业、改善劳工环境等是立法重点;(2分)受国内、国际环境影响,立法的侧重点不同;(2分)历时百年,伴随着工业化、法制化、全球化的发展进程(2分)。

分析:从清末新政到民国初年,政府奖励实业,以立法形式保障实业人才的逐级培养;(2分)国民政府相关法律内容不断补充修缮;(2分)中国共产党于革命时期以保障工人阶级权利为核心,倡导并实践立法;(2分)新中国改革开放后,颁布并实施的全国性的统一就业法,推动社会主义市场经济体制下规范化就业的进程。(2分)促进了中国法律体系的不断完善。(2分)

38. (34分)

(1)人民群众是历史的主体,要把人民群众的利益作为最高的价值标准;推进健康事业发展,建设健康中国,符合广大人民群众的共同愿望和根本利益。(2分)物质决定意识,要求一切从实际出发;建设健康中国,要着眼于我国健康领域所存在的现实问题。(2分)尊重客观规律和发挥主观能动性相结合;建设健康中国,必须把握健康领域发展规律。(2分)系统优化方法要求用综合的思维方式认识事物;建设健康中国,必须统筹考虑各项相关任务。(2分)

(其他哲学角度作答,言之有理,可以酌情给分)

(2)积极影响:健康产业的发展有利于促进创新驱动战略的落实,转变经济发展方式和产业结构的调整;有利于促进企业转变经营战略,利用核心技术提高竞争力和打造知名品牌;有利于我国更好的利用国际市场和资源推动健康中国的发展;有利于不断满足人民群众日益增长的多层次多样化健康需求。(8分)

如何推进:完善我国基本经济制度,支持和引导非公有制经济发展,充分调动社会各方面的积极性;完善市场规则,改善市场秩序,创造公平竞争的良好市场环境;充分发挥市场在医疗卫生资源配置中的决定作用,科学宏观调控,优化医疗卫生产业结构。(6分)

(3)建议举例:

政府加强健身设施的建设,利用公园、绿地、城市道路等区域安排健身活动场地,节假日和课余时间开放机关单位和学校体育设施,履行社会、经济、文化建设等职能;依法打击违反全民健身条例的行为,履行保障人民民主、维护国家长治久安职能。(4分)

公民积极维护良好的健身环境,合理使用爱护健身设施,健身活动不得影响他人的正常

高三文科综合能力测试答案 第2页(共3页)

工作、学习和生活；遵守健身活动场所的规章制度。要坚持权利和义务相统一。(4分)  
居委会主动联系政府相关部门与居民一起协商解决公共健身器材维护和更新问题，及时协调不同居民的利益、解决纠纷等，发挥居委会自我管理、自我服务的功能。(4分)  
(其他角度作答，言之成理，可以酌情给分)

39. (12分)

知识角度建议：优秀文化塑造人生；文化交流传播的意义；传统文化的作用；中华文化的特征；文化自觉和自信等。(一定要结合自身体验展开论述)

等级水平	等级描述
水平4	观点鲜明，能明确表达自己的见解；紧扣问题，全面展开论述，或就某点深入分析；知识运用准确、贴切；逻辑严密，条理清晰
水平3	观点比较明确，能表达自己的见解；能扣住问题展开论述，或能就某点分析；知识运用比较准确、贴切；逻辑性较强，有条理
水平2	观点不明确；论述不能集中指向问题，罗列知识；知识运用不正确；论述缺乏逻辑，条理性差
水平1	应答与试题无关，或重复试题内容，或没有应答

40. (20分)

(1)从西周的封国到秦朝置县、(2分)从唐的北方重镇，经过辽金、元明清，北京逐步成为统一多民族国家的政治、经济、文化中心。(2分)北京悠久的历史体现着中国从分封制向中央集权制的转变；(2分)见证着北方地区与中原内地的政治、经济、文化联系，(2分)各民族共同创造了中华文明。(2分)

(2)促进基础设施完善；(2分)利于承接北京的产业转移和促进本地的产业升级；(2分)带动相关产业发展；(2分)增加就业，提高收入；(2分)促进工业化与城市化。(2分)

41. (22分)

(1)甲区域：土地荒漠化(2分)

自然原因：气候干旱，降水少；大风日数多；(气候异常；)地面多沙质沉积物；植被稀少。

(8分)

乙区域：水土流失(2分)

自然原因：降水集中，多暴雨；地面坡度陡，地表径流流速快；地表物质疏松；植被覆盖差，易被侵蚀。(8分)

(2)作用：国家储粮基地；保障都城供应；调拨赈济灾荒。(2分)

原因：临近两都，利于政府调配；位于运河中点，便于粮食运输。(4分)

(3)矛盾具有特殊性，要求具体问题具体分析，打响“精准扶贫攻坚战”需要结合当地实际，有针对性地采取不同扶贫思路，进行不同的扶贫实践探索。(3分)

事物是不断变化发展的，要求我们用发展的观点看问题，要用创新精神不断探索新的扶贫模式。(3分)

(其他哲学角度作答，言之有理，可以酌情给分)

高三文科综合能力测试答案 第3页(共3页)



扫描二维码，关注北京高考官方微信！

查看更多北京高考相关资讯！