

陈经纶中学 2023-2024 第一学期 初三道法 期中检测

时间：70分钟

满分：70分

班级：_____ 姓名：_____ 学号：_____

一、选择题：本大题共 15 个小题，每小题 2 分，共 30 分。在每小题给出的四个选项中，有且只有一项是符合题目要求。

1.10 月 8 日，以“潮起亚细亚”为总主题的第 19 届亚洲运动会胜利闭幕。本届杭州亚运会主题口号是“_____”。口号中运用了全球互联网通用符号，也契合了杭州互联网之城的特征。口号意在各国人民在亚运会这个大舞台上交融，面向未来，共建人类命运共同体的良好愿望。

- A.更快、更高、更强——更团结 B.一起向未来
C.心心相融，@未来 D.同一个世界，同一个梦想

2.2023 年是我国改革开放 45 周年，改革开放以来，我国书写了精彩的“中国故事”，创造了发展的“中国奇迹”，塑造了崭新的“中国形象”，推动了中国社会发生了翻天覆地的变化、创造了经济快速发展和社会长期稳定“两大奇迹”。对此你的理解

- ①改革开放极大地解放和发展了生产力，增强了综合国力
②改革开放解决了我国社会的主要矛盾，实现了共同富裕
③改革开放极大激发广大人民群众的积极性，增强了社会发展活力
④改革开放成为现代化建设的中心工作
A.①② B.①③ C.②④ D.③④

3.作为福建省乃至我国改革开放的重要窗口，厦门在持续扩大开放中始终坚持探索，敢闯敢试，不断深化改革。数据显示，挂牌四年来，厦门自贸片区累计推出 361 项创新举措，至今新增企业 4.1 万多家。厦门只是一个缩影，改革开放让中国腾飞。这充分说明改革开放是

- ①中国特色社会主义最本质特征 ②是当代中国最鲜明的特色
③我国的强国之路、富民之路 ④民族振兴、社会进步的基石
A.①② B.①④ C.②③ D.③④

4.《中共中央国务院关于做好 2023 年全面推进乡村振兴重点工作的意见》指出，确保粮食安全、防止规模性返贫等底线，扎实推进乡村发展、乡村建设、乡村治理等重点工作，加快建设农业强国，建设宜居宜业和美乡村。这有利于

- ①提高农民收入，整体解决绝对贫困问题 ②培育乡村新产业，推动高质量发展
③消除城乡差距，实现农业现代化 ④巩固脱贫成果实现共同富裕
A.①③ B.①④ C.②③ D.②④

5.党的十八大以来，中国特色社会主义进入_____，这是我国发展新的历史方位。我国社会主要矛盾已经转化为_____之间的矛盾

- A.新时代；人民日益增长的美好生活需要和不平衡不充分的发展

- B.新阶段；人民日益增长的物质文化需要同落后的社会生产
- C.新时代；经济发展与环境保护
- D.新阶段；资源驱动与创新驱动

6.9月16日，2023年全国科普日主场活动在北京市首钢园开启。活动以“提升全民科学素质，助力科技自立自强”为主题。在这里，你可以近距离观赏航天飞行器返回器和月壤实物，在C919飞行模拟器上感受到不同天气下的驾驶舱操作流程，还可以在逐梦苍穹展区体验一把“月地驾驶”……开展全国科普日活动

- ①有利于弘扬科学精神，感受科技创新的魅力
- ②有利于营造创新氛围，提升公民科学素质
- ③是建设创新型国家、创新型社会的必由之路
- ④说明科技创新是决定当代中国命运的关键一招

A.①② B.②④ C.③④ D.①④

7.现代社会，民主应该成为公民的一种生活方式和生活态度。下列活动体现公民积极参与民主生活的有

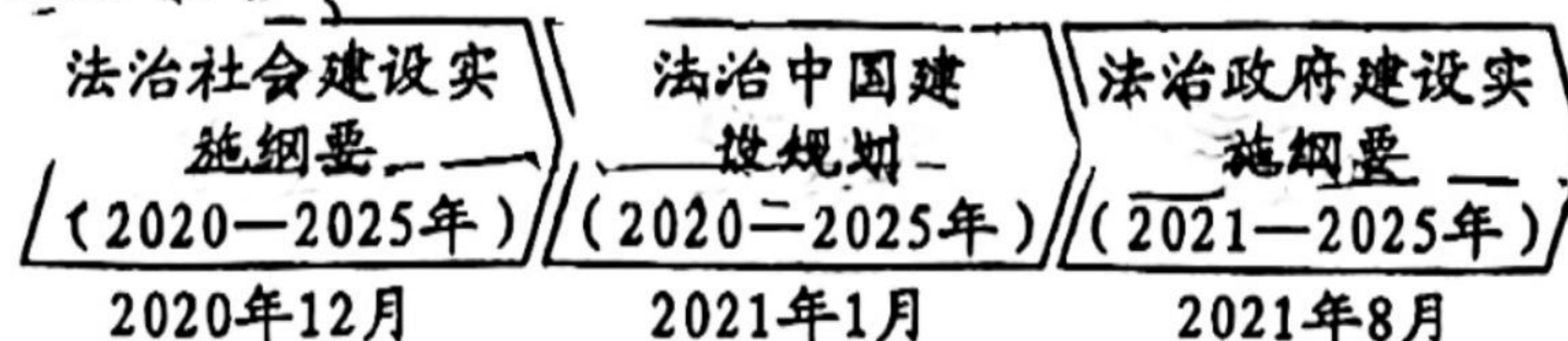
- ①孙岩利用假期在社区做垃圾分类志愿指导员
- ②张老师作为市民代表参加水价调整听证会
- ③太三学生郭昊参加县乡人大代表换届选举
- ④张硕观看博物馆举办的云展览

A.①② B.①④ C.②③ D.③④


8.同学们运用所学知识对下面新闻进行了点评，正确的是

新闻	点评
A.《中共中央国务院关于加快建设全国统一大市场的意见》发布，意见明确，要加快建设高效规范、公平竞争、充分开放的全国统一大市场	有利于发挥政府在资源配置中的决定性作用
B.十三届全国人大常委会第三十六次会议表决通过了《中华人民共和国反电信网络诈骗法》	全国人民代表大会是最高国家权力机关，行使立法权
C.全国专精特新中小企业发展大会在江苏省南京市开幕。中小企业联系千家万户，是推动创新、促进就业、改善民生的重要力量	我国坚持按劳分配为主体，多种分配方式并存
D.北京市人大常委会启动“万名代表下基层”活动，努力让来自基层群众的“金点子”成为解决问题的“金钥匙”	基层群众自治制度是我国根本政治制度

9.下图中的“一规划两纲要”，共同构建起新时代中国特色社会主义法治建设的顶层设计，描绘了一幅更加恢宏的法治画卷。在实现中华民族伟大复兴的进程中，坚定不移地走法治道路，要求



- ①坚持法治国家、法治政府和法治社会一体建设
 - ②行政机关的各项权力都应该在法治轨道上运行
 - ③实行良法善治，因为有了法律制度就有了法治
 - ④公民自觉守法、严格执法，维护社会公平正义
- A.①② B.①③ C.②④ D.③④



10.对右图漫画理解正确的是

- A. 我国已经建立了非常完备的法律体系
- B. 我国法治体系不断完善, 实行良法之治
- C. 公开征求意见体现了政府科学立法
- D. 科学立法是依法治国的关键

11.在道德与法治课上, 老师为大家展示了下列案例, 同学们对此作出了解读。其中解读正确的有

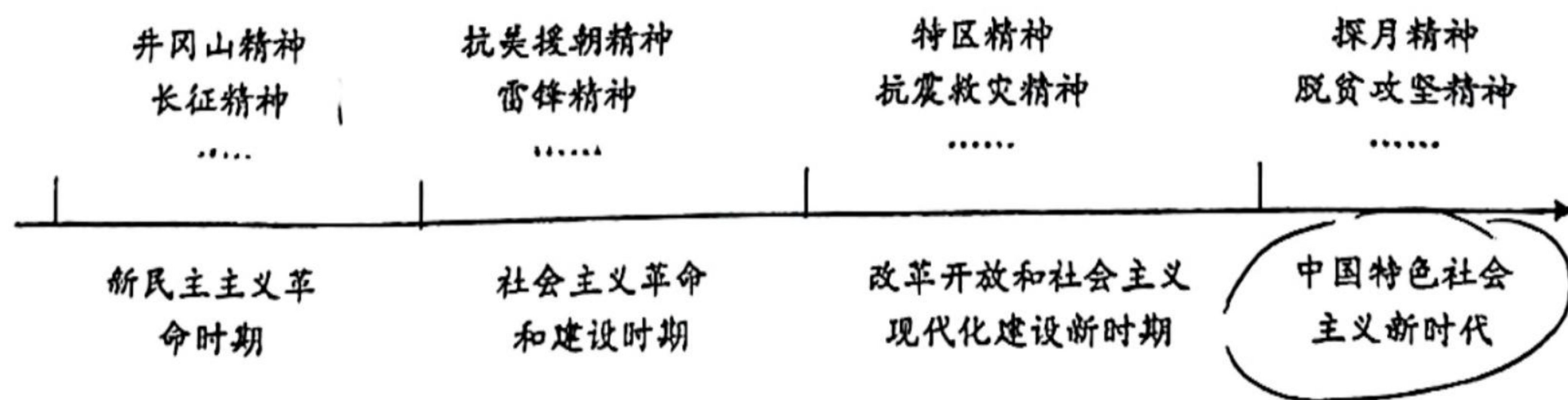
案例	解读
① 全国人大常委会就《反电信网络诈骗法草案》向社会公开征求意见	科学立法
② 张某打算开一家餐馆前, 先去工商部门办理营业执照	全民守法
③ 城管对某街边无证商贩进行整治	公正司法
④ 公安部门对电信诈骗人员立案侦查, 后移送司法机关依法追究	严格执法

- A.①② B.①③ C.②③ D.③④

12.垃圾虽小, 却牵着民生。目前我国城市生活垃圾收集、运输和处理模式粗放, 推进垃圾分类迟缓, 造成每年数百亿元的损失。垃圾分类推进迟缓, 缘于“有倡议缺标准, 有试点少管理, 靠自发无惩戒”。针对“靠自发无惩戒”, 应当

- A. 加强科学管理, 推动习惯养成
- B. 继续扩大垃圾分类试点的范围
- C. 提高公众对垃圾分类的认识度
- D. 以道德来引领, 用法治来约束

13.一百多年来, 中国共产党弘扬伟大建党精神, 在长期奋斗中构建起中国共产党人的精神谱系。



这些精神都是中华民族精神的具体体现。由此我们可以看出

- ① 民族精神的核心是自强不息
 - ② 民族精神具有与时俱进的品格
 - ③ 民族精神随着时代的进步不断丰富和发展
 - ④ 传承和弘扬民族精神要从小事做起
- A.①② B.①④ C.②③ D.③④

14.对下列中国传统美德解释正确的是

- ①孝悌也者，其为人之本欤——孝亲敬长，仁爱兄弟
- ②人生自古谁无死，留取丹心照汗青——任劳任怨，无私奉献
- ③出入相友，守望相助——互帮互助，和睦共处
- ④知人者智，自知者明——勤劳勇敢，自强不息

A.①② B.①③ C.②④ D.③④

15.近年来，北京市坚持用社会主义核心价值观引领首都文明城市建设，把社会主义核心价值观贯穿融入各项工作之中，塑造城市之魂，培育城市之德，使其成为全体市民的思想和行为自觉。这是因为社会主义核心价值观

- ①是实现中华民族伟大复兴的唯一价值引领
- ②促进人的全面发展，引领社会全面进步
- ③凝结着全体中国人民共同的价值追求
- ④是代代相传的中华优秀传统文化的精髓

A.①② B.②③ C.①④ D.③④

二、非选择题：本大题共5个小题，共40分。

16. (8分) 这十年，北京发展的秘诀是做好“加减法”。

减量+提质量 发展动能更澎湃

首钢2005年启动搬迁调整，2010年底涉钢产业全面停产。滑雪大跳台、无人车驾驶、智慧化场馆节能运营……经过十余年探索，首钢园区已成为集商业、科技、体育、文旅等多种业态于一体的高端产业综合服务区，新动能持续注入。

减量+增幸福 完善保障更贴心

创新京津冀一体化医疗服务，让患者“一站式”享受到最优的治疗服务。将更多医疗机构纳入医联体，促进优质医疗资源下沉……改革有“温度”、社会有活力。只要不断将改革推向深入，打通制约经济循环的关键堵点，就一定能够为中国式现代化注入不竭的活力和动力。

结合材料，运用所学，请你对北京做好“加减法”这一发展秘诀进行点评。

17. (8分) 陈经纶中学道德与法治学科以“创新中国”为主题，开展探究活动，同学们纷纷以小组为单位搜集资料，以下是其中一个小组的探究报告。

资料一	资料二
从“天宫”、“蛟龙”、“天眼”、“悟空”“墨子”、大飞机、“北斗”导航相继问世，再到全球最大的海上钻井平台“蓝鲸2号”、磁悬浮列车研发、5G技术	我国许多产业面临“缺芯”“少核”“弱基”的困境，一些关键核心技术和装备存在受制

等，一项项科技成果在新时代里不断涌现。	于人的“卡脖子”风险。
小组结论：中国科技以创新之手拨动探索之弦，用高超的技艺、攻坚的决心淬炼出的大国重器，使中国屹立于世界科技创新强国之林。	
我的收获：作为祖国的未来，建设创新型国家我们要……成长为国家需要的创新型人才，强国有我！	

(1) 你是否同意此小组的结论？请说明理由。(6分)

(2) 请你补全探究报告中我的收获部分。(2分)

18. (8分)【参与民主生活，感受民主力量】

材料一 人民民主是社会主义的生命，是中国共产党始终高举的旗帜。人民民主是一种全过程的民主，其精髓关键就在一个“全”字。主体“全”。从106岁老人的第18次投票，到刚满18周岁的大学生第一次行使选举权，全过程人民民主不是空头支票，而是真实让人民群众感受到自己是国家的主人领域“全”。从人大代表坚持问需于民、问计于民，到政协委员参与基层协商解决急难愁盼问题，完整的制度程序和完整的参与实践，使全过程人民民主扎根在中国大地。流程“全”。从选举到立法，从治理到监督，人民的声音有地方说，说了有人听，听了有反馈。全过程人民民主使得人民利益要求既能畅通表达，也能有效实现。

材料二 “人民通过选举、投票行使权利和人民内部各方面在重大决策之前进行充分协商尽可能就共同性问题取得一致意见，是中国社会主义民主的两种重要形式。”“商量”二字朴实无华，“真谛”一词力重千钧。”民主不是装饰品，不是用来做摆设的，而是要用来解决人民需要解决的问题的。”

(1) 材料中提到的中国社会主义民主的两种重要形式是什么？(2分)

(2) 结合以上材料，运用所学知识，谈谈我国全过程人民民主“好”在哪里？(至少三方面)(6分)

19. (8分) 某地政府网站上有一条政民互动信息。

首页>政民互动>详情

反映问题：某社区粮食局宿舍路面破旧不堪，安全隐患大，路面年久失修，到处是坑，

小区内全是老人小孩，经常有人摔倒，安全隐患极大。希望政府抓紧帮助修理路面。

**街道回复：

经核实，该社区粮食局宿舍建成于1999-2000年，楼栋数3栋，居民户数192户，建筑面积约1.68万平方米。针对粮食局宿舍路面急需修缮问题，采取近远期结合的方式解决。近期，街道协调居委会、小区物业对路面坑洼破损点位进行修复，消除安全隐患。远期，根据《北京市老旧小区综合整治工作手册》该小区已列入老旧小区综合整治项目，计划2024年初实施楼本体改造，2025年完成道路等小区整体更新改造。

(1) 该街道的答复，是否符合我们对法治政府的要求，请评价并说明理由。(5分)

在该政府网站中，我们看到市民们热心反映生活中存在的民生问题，向政府发声、提出建议，并得到政府相关部门的积极反馈，推动了民生问题的高效解决。

(2) 作为新时代的中学生，我们应该如何更好地参与民主生活？(3分)

20. (8分) 博物馆凝结着人类智慧的结晶。随着社会的发展，博物馆已经成为传播新知和展示人类文明的重要窗口。

2020年，北京正式提出打造“博物馆之城”。《蓝皮书》显示，截至2022年底，在北京市文物局履行备案手续，合并调整后共有博物馆共202家，年均接待观众量超过5000万人次。

北京博物馆不仅数量多，展览内容更加丰富。举办了大量甲骨文、书法、绘画、戏曲等展览。

文博游受到年轻客群青睐的同时，越来越多的博物馆二销产品也逐渐“出国”。其中包括中国国家博物馆推出的“大观园纸雕灯”，故宫角楼一侧的“角楼咖啡”等。

随着“旅行+看展”“旅行+刷博物馆”成为新的旅游方式，文博看展、文化演艺、国风国潮也逐渐成为旅游新风尚。

(1) 请结合材料和所学，分析让博物馆融入人们生活的原因。(6分)

(2) 请你就如何让博物馆更好地融入人们生活，提出两条合理化建议。(2分)