


考生须知

1. 本试卷共 8 页，共两部分，共 24 题，满分 70 分。考试时间 70 分钟。
2. 在试卷和草稿纸上准确填写姓名、准考证号、考场号和座位号。
3. 试题答案一律填涂或书写在答题卡上，在试卷上作答无效。
4. 在答题卡上，选择题用 2B 铅笔作答，其他试题用黑色字迹签字笔作答。
5. 考试结束，将本试卷、答题卡和草稿纸一并交回。

第一部分

本部分共 20 题，每题 1.5 分，共 30 分。在每题列出的四个选项中，选出最符合题目要求的一项。

1. 武王克商以后，为巩固周人的统治地位，“封建亲戚，以藩屏周”，将中原地区与周边区域联系起来，奠定了此后中原王朝版图的基础。“封建亲戚”的制度是  
A. 禅让制                      B. 分封制                      C. 郡县制                      D. 行省制
2. 下图是“书同文字”木方，此木方说明秦统一后不仅在全国范围统一了文字的字形与字体，还统一了官职、法律、名物等方面的用语。它反映出



- A. 百家争鸣的社会条件                      B. 秦国强盛基础的奠定
- C. 秦朝中央集权的加强                      D. 秦对西域统治的巩固
3. 汉朝统治者改变了秦朝的政策，提出了“以礼为教”，奉行“以孝治天下”，通过赐物、赐予王杖、减免赋税、刑罚优待等措施，在社会上基本形成了尊老敬老的良好风尚。此现象说明  
A. 汉朝利用儒家思想来治国                      B. 西汉实施了“推恩令”
- C. 皇帝拥有至高无上的权力                      D. 东汉外戚宦官交替掌权

4. 下列可作为研究三国两晋南北朝时期社会特征的史料是

- ① 商鞅铜方量      ② 《史记》      ③ 淝水之战示意图      ④ 北魏帝王出御图
- A. ①②                      B. ①④                      C. ②④                      D. ③④

5. 苏辙《记岁首乡俗寄子瞻二首·蚕市》中的“倾困（谷仓）计口卖余粟，买箔还家待种生。不惟箱篚（容器）供妇女，亦有鋤耨（耕作）资男耕。”生动描绘了人们在蚕市上出售余粮，购买养蚕工具，添置家具，为再生产作好准备的情景。这反映出宋代

- A. 商品经济的发展                      B. 思想控制的加强
- C. 科学技术的进步                      D. 交通工具的变化

6. 明清时期文书避讳制度进一步加强，朱元璋特别避讳“天下有道，望拜青门”等词句，认为影射自己曾经当过和尚；康熙帝名玄烨，在文书中必须避讳，因而将玄武门改为了神武门。此现象的实质是

- A. 统一多民族国家巩固                      B. 社会矛盾不断加剧
- C. 限制民间文学的发展                      D. 君主专制不断强化

7. 福州新馆位于北京市西城区虎坊桥西北的骡马市大街，是林则徐和福建籍在京官员筹资购置的同乡会馆。2019年北京市西城区完成福州新馆文物腾退修缮，将其辟为“全国禁毒宣传教育基地”。这是由于林则徐

- A. 编写《四库全书》                      B. 在东南沿海组织抗倭斗争
- C. 领导了虎门销烟                      D. 发起并开展了洋务运动

8. 下表为“列强在华强租租借地和划分‘势力范围’情况”，此情景发生于

国别	强租租借地	“势力范围”
德国	胶州湾租借地	山东
沙俄	旅大租借地	长城以北、新疆、东北
法国	广州湾租借地	广东、广西、云南
英国	九龙租借地、威海卫租借地	长江流域
日本		福建


- A. 《南京条约》签订后                      B. 《北京条约》签订后
- C. 《天津条约》签订后                      D. 《马关条约》签订后

9. 1897年中国官方在上海洋务局举办了第一场大型交谊舞会，该舞会共发出请柬600封，均“红笺金字，封以华函”，受邀者多系在沪外国人、清朝官员、社会名流等。由此可见

- A. 民族资本主义获得发展
- B. 社会普遍接受平等观念
- C. 三民主义思想影响深远
- D. 近代中国社会新旧并存

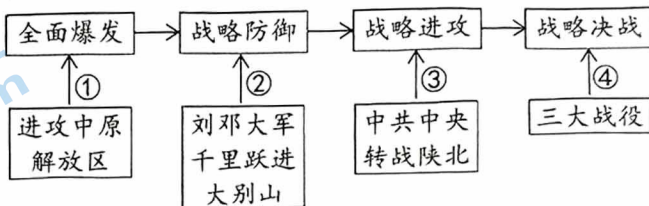
10. 文化作品是时代的印记。1918年《新青年》杂志发表了鲁迅的第一篇白话文小说《狂人日记》，无情批判吃人的封建礼教。当时的社会思想潮流是

- A. 师夷长技
- B. 变法图存
- C. 民主与科学
- D. 科学社会主义



11. 示意图可以简洁地展示历史事件的发展过程。下面示意图中内容，对应正确的是

- A. ①②
- B. ①④
- C. ②③
- D. ③④



12. 1955年在印度尼西亚召开的亚非会议，初步塑造了新中国的国际形象：新中国是一个以和平发展为主要价值取向的国家；新中国是一个主张求同存异的国家；新中国是一个为发展中国家主持正义的国家。这是因为中国

- A. 抗美援朝胜利提高了国际地位
- B. 社会主义制度基本确立起来
- C. 参加并促进万隆会议圆满成功
- D. 恢复了在联合国的合法席位

13. 下面是某文献内容摘编，结合所学判断此内容出自

第一条 凡未经议会同意，以国王权威停止法律或停止法律实施之僭越权力，为非法行为。

第四条 凡未经议会准许，借口国王特权，为国王而征收，或供国王使用而征收金钱……皆为非法。

- A. 《权利法案》
- B. 《人权宣言》
- C. 《独立宣言》
- D. 《拿破仑法典》

14. 有学者认为，18世纪全球最有活力的地区首推大西洋两岸，直到19世纪前期，大西洋两岸革命浪潮此起彼伏，构成一个“大西洋革命”时代。以下史实能支撑这一观点的有

- ①文艺复兴
  - ②北美独立战争
  - ③法国大革命
  - ④日本明治维新
- A. ①②
  - B. ①④
  - C. ②③
  - D. ②④

15. 右侧内容节选了某历史教科书的部分章节，据此判断这一课的学习内容是

- A. 资产阶级革命
- B. 第一次工业革命
- C. 第一次世界大战
- D. 雅尔塔会议召开

◆第三部分 工业、帝国和改革，英国 1754-1914

● \_\_\_\_\_ ?

- △工业变革是巨大的
- △全国各地的变化速度各不相同
- △一些城市变大了
- △人们害怕失去工作

16. 1687年出版的《自然哲学的数学原理》一书正式提出了运动三定律，将惯性或惯性力与运动第一定律分开表述，并确立了第二和第三定律，把这三个定律作为一个整体提炼出来，确认为动力学的基本定律。做出这个创造性贡献的科学家是
- A. 亚里士多德      B. 达·芬奇      C. 牛顿      D. 达尔文

17. 下表是《1870年、1913年主要资本主义国家在世界贸易中的占比》，导致表中数据发生变化的历史因素是

年份	国家				
	英国	美国	德国	法国	俄国
1870年	22%	8%	13%	10%	——
1913年	15%	11%	13%	8%	4%

- A. 蒸汽机的广泛应用      B. 第二次工业革命开展  
C. 经济大危机的爆发      D. 国家干预经济的实施
18. 有学者认为，世界近现代国际关系中存在四对基本矛盾。下列各项对应正确的是

	基本矛盾	事件
A	殖民主义国家与殖民地半殖民地国家的矛盾	印度非暴力不合作运动
B	帝国主义国家之间争夺殖民霸权的矛盾	《联合国宣言》的签署
C	国际工人运动和社会主义运动的兴起和发展及其与国际和国内资产阶级的矛盾	两大集团的全面对峙，两极格局形成
D	帝国主义国家和社会主义国家的矛盾	德国西里西亚织工起义

19. 20世纪50年代，厨房、空间及核技术领域都沦为了超级大国竞争的主要场所。厨房充当了“联结国家、市场与家庭技术政治的节点”，在众多博览会上被美国政府视为技术进步和消费社会富足的象征。由此折射出当时的国际形势是
- A. 和平与发展成为时代主题      B. 既非战争又非和平的冷战状态  
C. 世界殖民体系已彻底崩溃      D. 世界正在朝着多极化方向发展

20. 2020年，中国完成消除绝对贫困的任务，提前10年实现联合国2030年可持续发展议程减贫目标，对全球减贫贡献率超过70%；中国累计参与了近30项联合国维和行动，累计派出维和人员5万余人次。这说明

- ①中国为建立公正合理的世界新秩序努力  
②中国方案和中国智慧利于解决人类问题  
③联合国发挥了维护世界和平与安全作用  
④加入联合国的各会员国都是发展中国家



- A. ①②③      B. ①②④  
C. ①③④      D. ②③④

## 第二部分

本部分共 4 题，共 40 分。

### 21. (9 分) 水利与社会

材料一 都江堰水利工程，蕴含着丰富的中国重大工程可持续发展智慧。

①公元前 256 年，李冰率众利用水流的自然规律，在竹笼中堆放石块，将岷江分为内江和外江，引入成都平原，并立三石人于水中以观察水位，总结出治水要诀即“深淘滩、低作堰”。

②227 年，三国蜀汉丞相诸葛亮设堰官，征丁一千二百人护堰。

③1877 年，丁宝楨等将都江堰分水鱼嘴等全部改用条石修砌，条石之间用铁锭互相间住，并用桐油、石灰、糯米汁嵌缝。

④1938 年出版的《都江堰水利述要》记述当时受益于都江堰的田地“计有川西 14 县之广……约 520 余万亩”。

⑤1981 年至 2000 年期间，都江堰开始试点建立灌区台账，省人大常委会颁布《四川省都江堰水利工程管理条例》；禁止岷江上游电站枯水期调峰运行。

⑥截止 2022 年，都江堰灌溉面积达到 1130 万亩，成为造福成都、德阳等 7 市 40 县（市、区）的特大型灌区。


(1) 将材料一的史实与以下观点相对应（3 分，填序号，每空多选、少选、错选均不得分）

中国智慧·修筑完善：\_\_\_\_\_

大国水利·政府重视：\_\_\_\_\_

经济发展·造福千秋：\_\_\_\_\_

材料二 15-18 世纪明清时期的中国社会趋于稳定，人口迅速增长，国家花费巨资修建大型水利工程以维持农业生产。18 世纪以后，中国传统水利研究已经进入总结期，而欧洲城市 and 工厂的大量兴起，使农村劳动力迅速向城市集中。为保证城市人口健康和工厂的可持续运行，英国政府不得不重新修建水利系统，解决生活用水和货物运输问题。



18 世纪中期，伦敦桥水厂使用的机械化水车和水泵

——摘编自马冲《15-18 世纪中国与西方技术发展比较分析》

(2) 依据材料二，分析 15-18 世纪中西方水利建设的推动因素。（2 分）指出水利建设与社会发展的关系。（2 分）

材料三 “黄河宁，天下平”。1994年开工建设的小浪底水利枢纽是黄河治理开发的关键控制性工程，也是我国水电史上第一个全方位与国际惯例接轨的大型水利枢纽工程。工程全面实行项目法人责任制、招标投标制、建设监理制和合同管理制，4个国家的14个公司和建设单位组成的3个国际联营体中标，承建大坝工程、泄洪系统工程和引水发电系统。引入了国外的资金、技术、人才和先进的管理经验，创造了具有中国特色的国际工程管理模式。

——摘编自《小浪底水利枢纽工程顺利通过国家竣工验收》

(3) 依据材料三并结合所学，说明小浪底水利枢纽工程建设体现的时代特征。(2分)

22. (12分) 文明交流

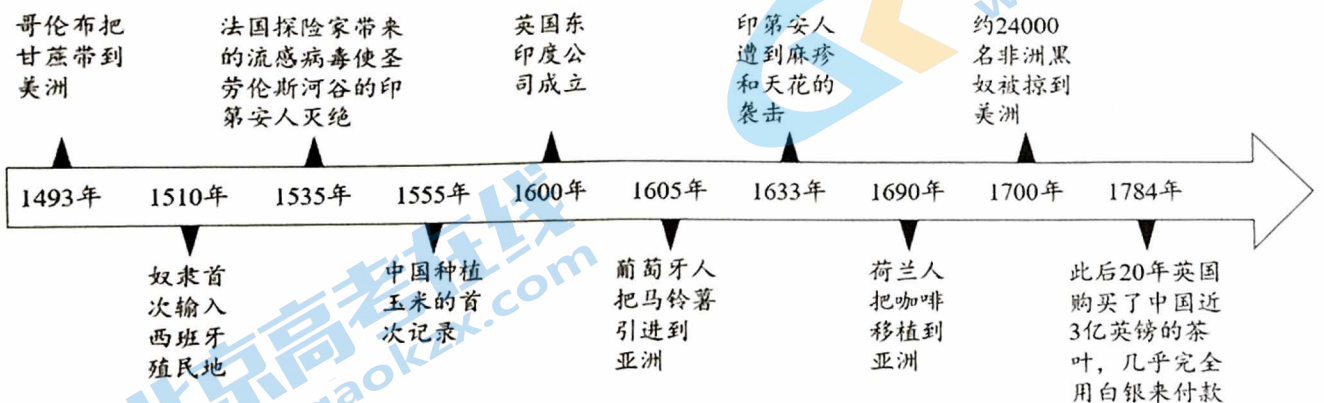
材料一 2007年“南海一号”沉船被整体打捞出水面，它的发掘填补了海上丝绸之路南海研究的空白。下面是“南海一号”沉船及部分出水文物。

			
①沉船船舱结构	②银锭凝结物	③伊斯兰风格带跨	④船舱内的大量瓷器
木船两舷为多重板搭接结构，现存的船体结构复杂，有些货舱存有水平分割结构	根据船上携带白银货币数量巨大的特点，考古学家推断此次出行兼有较多采购目的	出水的伊斯兰风格带跨(kuč)，与出土于大伊朗地区的10-13世纪黄金饰品风格相近	船舱内码放的瓷器，大约16万件，来自江南景德镇等各个窑，器形包括壶瓶、罐、碗、盘、碟、炉等

——摘编自李岩《考古中国——15位考古学家说上下五千年》

(1) 依据材料一，任选两件文物，分别说明其反映的南宋时期社会状况。(4分)

材料二 世界历史发展大事记(部分)



(2) 指出引发材料二所示史实出现的标志性事件。(1分) 选择材料二中相互关联的事件，结合所学自定一个你想论述的观点，并加以阐述或说明。(5分)(要求：观点正确，史论结合，条理清楚。)

**材料三** 中国有句古话：“万物并育而不相害，道并行而不相悖。”每一种文明都扎根于自己的生存土壤，凝聚着一个国家、一个民族的非凡智慧和精神追求，都有自己存在的价值。“全球文明倡议”主张尊重世界文明多样性，秉持平等和尊重，摒弃傲慢和偏见，倡导所有国家和民族传承发展自身文明、自主选择符合本国国情的发展道路，推动不同文明交流对话、和谐共生。

——光明日报《全球文明倡议：点燃人类文明之光》

(3) 依据材料三，谈谈对世界文明多样性的认识。(2分)

23. (11分) 以中国式现代化全面推进中华民族伟大复兴

**材料一** 鸦片战争后，先进的中国人走上追寻现代化之路。早期的现代化经历了“自强求富”“变法自强”“立宪自强”的演进过程。洋务运动被视为近代中国追求现代化的起点，但其成果却几乎在甲午战争的失败中尽数瓦解。洋务运动的破产证明它根本无法化解中国社会的主要矛盾，既不能自强也不能求富，因为它的出发点在于维护封建王朝的统治，而不是着眼于中华民族的长远发展。

——摘编自郭若平《从近代历史进程看中国式现代化》

(1) 依据材料一，概括中国早期现代化的特点。(1分) 说说洋务运动的局限性。(1分)

**材料二**

1954年周恩来首提“四个现代化”。1964年周恩来指出：“把中国建设成为一个具有现代农业、现代工业、现代国防和现代科学技术的社会主义强国，赶上和超过世界先进水平。”并宣布了实现“四个现代化”目标的“两步走”设想。“第一步，建立一个独立的比较完整的工业体系和国民经济体系；第二步，全面实现农业、工业、国防和科学技术的现代化，使我国经济走在世界的前列”。

人物扫描

◆ 邓稼先一生从事原子弹研究，在十分困难的条件下夜以继日地工作，终于在1964年，我国第一颗原子弹爆炸成功。

◆ 袁隆平经过反复试验，在20世纪70年代，成功培育出籼型杂交水稻，获得首届最高科学技术奖。

◆ 屠呦呦从古典文献中获得灵感，在极为艰苦的条件下，经过数百次实验，终于在20世纪70年代发明了青蒿素，获得2015年诺贝尔生理学或医学奖。

(2) 结合所学，说出20世纪50年代实现“工业现代化”的措施。(1分) 说明材料二中三位科学家为实现“四个现代化”做出的贡献。(3分)

**材料三** 中国式现代化强调同世界各国互利共赢，推动构建人类命运共同体。高质量共建“一带一路”，打造进博会等对外合作新平台。截至2022年9月底，中国建交国总数增至181个，同110多个国家和地区组织建立伙伴关系。中国一定能为人类文明进步事业注入和平发展新动力，同世界人民携手开创人类更加美好的未来。

——摘编自人民日报评论《这是走和平发展道路的现代化》

(3) 依据材料三，概述中国式现代化的内容及其对世界的影响。(3分)

材料四 从现在起，中国共产党的中心任务就是团结带领全国各族人民全面建成社会主义现代化强国、实现第二个百年奋斗目标，以中国式现代化全面推进中华民族伟大复兴。

(4) 结合你的人生理想，说说你能为推进中华民族伟大复兴所做的贡献。(2分)

24. (8分) 北京历史悠久，文化底蕴丰富


材料一 侯仁之曾说：“西有周口店龙骨山，东有上宅，东西文化遥相辉映，珠联璧合，填补了北京史的空白。”

周口店累计出土的石器数万件，种类齐全，从距今70万年至1.8万年都有代表性的器物。还留下了大量的曾经使用过火的灰烬，最厚的灰烬层超过6米。上宅遗址的文化遗存第2期年代距今约7000-6500年，为上宅遗存的典型代表，陶器、石器数量多，有石斧、砍砸器、石磨盘、石磨棒等用于砸击、研磨的工具。

——摘编自张志国《填补北京史空白的上宅文化遗址》

(1) 考古发现是研究原始社会的重要证据之一。依据材料一，找出能够反映周口店遗址和上宅遗址生产力水平的证据。(2分) 写出这些证据可以得出的历史认识。(1分)

材料二

 <p>卢沟桥桥东的碑亭内立有乾隆所题“卢沟晓月”汉白玉碑一块，桥、碑、月亮共同构成“卢沟晓月”，入选“燕京八景”。</p>	<p>卢沟桥始建于金代，它是北京现存最古老的石造联拱桥。卢沟桥的支撑系统是由10座桥墩承担的，10座桥墩形成了11个孔。桥的东头是宛平县城，这是一座建于明末拱卫京都的拱极城。1937年7月7日，卢沟桥事变，中国全民族抗战由此拉开了序幕，宛平城的城墙上至今还留着累累弹痕。1987年中国人民抗日战争纪念馆在宛平县城城北建成。</p>
---------------------------------------------------------------------------------------------------------------------------------------------------	-----------------------------------------------------------------------------------------------------------------------------------------------------------------------

(2) 依据材料二，概括卢沟桥的历史研究价值。(3分)

材料三 历史悠久、多元共生、追求和谐、融古拓新、关注大局、突出中正、讲究对称、海纳百川、宽容厚德、强调创新、注重发展等文化特征是北京地域文化的精华。

——摘编自李建平等《北京精神与文化》

(3) 依据材料三，选择其中一个北京文化特征，列举出符合该特征的北京文化代表(材料一、材料二内容除外)并加以说明。(2分)



## 历史答案及评分参考

2023.5

## 第一部分（共30分）

1	2	3	4	5	6	7	8	9	10
B	C	A	D	A	D	C	D	D	C
11	12	13	14	15	16	17	18	19	20
B	C	A	C	B	C	B	A	B	A

## 第二部分（共40分）

## 21.（9分）

(1) ①③；②⑤；④⑥（3分）

(2) 因素：中国因人口增多，发展农业生产的需要；欧洲受工业革命的影响，推动工业化的发展；政府推动；满足生产生活需要。（任意两点可得2分）

关系：政府支持工农业发展而进行水利建设；科技进步推动水利建设的发展等。水利建设推动经济的发展，有利于社会生产力的提高。（2分）

(3) 时代特征：对外开放进一步深化，国际合作项目深入实施；现代企业制度的建立；依据国情进行水利建设；科学技术的发展；经济全球化的发展等。（任意两点可得2分）

## 22.（12分）

(1) 社会状况：①南宋时已掌握较高的造船技术；②南宋时商品经济活跃，对外贸易发达；③中外经济文化交流密切；④瓷器是对外贸易的主要商品之一，手工业发达。（所选文物与结论一致即可得2分，共4分）

(2) 事件：新航路开辟。（1分）

观点例举：新航路开辟使世界开始成为一个整体；新航路开辟促进了物种的大交流；早期的殖民扩张，给殖民地人民带来了深重的灾难；疫病在殖民地的传播，给当地人民带来了巨大的灾难；欧洲国家的早期殖民扩张有助于资本原始积累，有助于世界市场的形成；高产作物传入中国和白银大量流入推动了明清时期经济的繁荣；等等。（任一观点即可得1分）

阐述或说明：（略）（4分）

- (3) 认识：尊重各国家和地区文明的特殊性（差异性）；要维护自己的文化特性，发扬优秀的文化传统；推动不同文明交流对话；文明多样性维系着人类文明的延续；共同构建人类命运共同体等。（言之有理即可得 2 分）

23. (11 分)

- (1) 特点：以自强、救国为动力，追求自强；都没有实现中国的现代化。（任意一点即可得 1 分）

局限性：只学习西方科学技术，没有改变腐败的政治制度；根本目的是维护和巩固清政府的统治。（任意一点即可得 1 分）

- (2) 史实：一五计划。（1 分）

贡献：在艰苦的工作条件下，坚持不懈进行科学研究，为国防现代化（原子弹）、农业现代化（籼型杂交水稻）、科学技术现代化（青蒿素）的发展做出突出贡献。（3 分）

- (3) 内容：推动构建人类命运共同体；高质量共建“一带一路”，打造对外合作新平台；与多国建立和平外交关系，成为合作伙伴。（任意两点得 2 分）

影响：促进世界各国共同发展；推动人类文明进步。（任意一点得 1 分）

- (4) 认识：（有具体理想，有叙述，言之有理，即可得 2 分。）

24. (8 分)

- (1) 证据：北京人能够使用石器、使用火；上宅遗址出土了磨制石器。（2 分）

认识举例：生产工具的进步是社会发展的动力；劳动在人类社会发展起到重要作用；中华文明多元一体。（言之有理，即可得 1 分）。

- (2) 价值：了解清朝的碑刻；研究卢沟桥的历史；研究抗日战争；了解北京特色景观等。（其它言之有理亦可。任意 3 点即可得 3 分）。（1 分）

- (3) (略) (2 分)

## 关于我们

北京高考在线创办于 2014 年，隶属于北京太星网络科技有限公司，是北京地区极具影响力的中学升学服务平台。主营业务涵盖：北京新高考、高中生涯规划、志愿填报、强基计划、综合评价招生和学科竞赛等。

北京高考在线旗下拥有网站门户、微信公众平台等全媒体矩阵生态平台。平台活跃用户 40W+，网站年度流量数千万量级。用户群体立足于北京，辐射全国 31 省市。

北京高考在线平台一直秉承 “精益求精、专业严谨” 的建设理念，不断探索 “K12 教育+互联网+大数据” 的运营模式，尝试基于大数据理论为广大中学和家长提供新鲜的高考资讯、专业的高考政策解读、科学的升学规划等，为广大高校、中学和教科研单位提供 “衔接和桥梁纽带” 作用。

平台自创办以来，为众多重点大学发现和推荐优秀生源，和北京近百所中学达成合作关系，累计举办线上线下升学公益讲座数百场，帮助数十万考生顺利通过考入理想大学，在家长、考生、中学和社会各界具有广泛的口碑影响力

未来，北京高考在线平台将立足于北京新高考改革，基于对北京高考政策研究及北京高校资源优势，更好的服务全国高中家长和学生。



微信搜一搜

北京高考资讯