

历史试题

本试卷分第一卷(选择题)和第二卷(非选择题)两部分。满分100分,考试时间75分钟

一、选择题:本题共16小题,每小题3分,共48分。在每小题给出的四个选项中,只有一项是符合题目要求的。

1. 辅佐商王成汤的伊尹,在西周时期作为良臣受到推崇。到了东周时期,伊尹又具有了庖厨、媵臣、间谍、谏臣、帝师等多种形象。这种变化
- A. 源于伊尹自身的复杂经历
B. 开启百家争鸣的文化盛况
C. 折射社会环境的剧烈变动
D. 顺应新兴阶级的争霸需要
2. 汉初,朝廷允许诸侯在京师治邸(修建住宅),以便诸侯朝宿。元封元年,武帝打算定期祭祀泰山,以“古者天子五载一巡狩,用事泰山,诸侯有朝宿地”为由,下令诸侯治邸泰山下。武帝意在
- ~~A.~~ 遵循上古政治传统
B. 方便诸侯朝觐天子
C. 加强对诸侯的控制
~~D.~~ 减轻京师人口压力
3. 唐代江南地区,许多兴修的陂塘均可养鱼,还可以种植蒲、苈、菱、芡等经济作物。例如丹阳的练湖,“幅员四十里,菰蒲菱芡之多,龟鱼鳖蜃之生,厌沃江淮,膏润数州”。这说明当地
- A. 综合利用农业资源
B. 推广曲辕犁提高了效率
~~C.~~ 政府市场意识增强
D. 传统经济结构发生变化
4. 明初鼓励天下臣民上言四方利弊,并设立建言会议制度,由礼部每年定期召集九卿六科专门讨论民情建言,“其间可行者,移各该衙门施行”。此举有利于
- A. 选拔实用人才
B. 变革君主专制体制
~~C.~~ 分割宰相权力
D. 提高政府治理能力

表 1 为“中国古代沙尘暴天气记载简表”。

时间	记载次数	波及地域
公元前 4 世纪	2 次	主要局限在西北地区
4-10 世纪	39 次	长安等地多次出现
11-15 世纪	97 次	河南开封等黄河流域开始频繁出现

此可推知

春秋战国时期西北地区已沙漠化
 汉唐时期华北地区尚未得以开发
 游牧民族南下导致中原环境恶化
 环境恶化推动政治经济中心转移

1 为英国传教士施美夫考察福州后于 1847 年出版的《福州日记》节选。该记述

忽略了在华传教的主要思想障碍
 揭示了中国佛道两教的渐趋衰落
 印证了英国对华战争的主要目的
 改变了中英两国交往的历史方向

(福州) 没有一种宗教可以主宰人们的恐惧或是尊崇, 没有一种偏执的宗教力量会威胁到我们 (传播基督教) 的进程... 福州或许可以成为英国圣公会传道会下一个建立的传教基地。

2 为“1894 年中国水师船只情况表”。

水师	船只总数	外购舰只数	自造舰只数			
			总数	福州	江南	广州
广东	27	18	9	4		5
福建	21	7	14	14		
南洋	25	11	14	7	7	
北洋	33	26	7	7		

图 1

8. 1902年前后, 梁启超大量撰文, 号召开展国民性改造运动, 培养“新民”。此后, 陈独秀、胡适、鲁迅等人吸收了该思想, 认为“造因之道, 首在树人”, 只有培养没有劣根性的新青年才能救中国。这表明梁启超的主张

- A. 推动了新式大学的创办
- B. 启迪了新文化运动
- C. 反思了辛亥革命的教训
- D. 传播了马克思主义

9. 1921年8月2日, 《上海生活报》报道: “前天, 法国警察通知法租界的中国团体说, 根据新的规定, 一切团体在他们待的地方举行会议必须在48小时以前取得警察的批准。” 这表明

- A. 生活类报刊是当时主流媒体
- B. 列强开始获取租界管辖权
- C. 中共建党遭受外国势力侵扰
- D. 社会团体在上海广泛建立

10. 1941年, 晋冀鲁豫边区进行了参议员选举工作, 最后选出由共产党员为参议长, 2位国民党党员为副议长, 共计参议员197名的临时参议会, 其中共产党员参议员46人。该举措的主要目的是

- A. 促进抗日根据地的巩固与发展
- B. 争取英美国家的经济援助
- C. 实现地方政权权力的制约平衡
- D. 探索政协会议的体制模式

11. 图2、图3分别为20世纪60年代国产彩色动画片代表作《小蝌蚪找妈妈》和《大闹天宫》的剧照。这类作品反映了中国美术电影




图2

图3

- A. 传承与发展了中国传统艺术
- B. 深受苏联影视艺术风格的影响
- C. 创作主要源自中国古典神话
- D. 着重宣传阶级斗争的意识形态

12. 古希腊先后出现三位备受推崇的悲剧诗人, 他们创造的剧作人物形象依次是: 神或者是神化了的人、“应当是怎样”的理想英雄、“现实中本来是怎样”的人。这反映了古希腊

- A. 道德和信仰危机日益严重
- B. 神权始终控制人们的思想
- C. 人在社会中地位日益突出
- D. 推崇抗争命运的英雄人物

十四、十五世纪英国形成以伦敦为中心的道路网，一般认为此时，人们的消费需求有了质的提升，对粮食等基本生活用品需求下降，对各种精美工业品、服装、奢侈品需求大增。这些因素直接推动了英国

- A. 商业革命的拓展
- ~~B. 经济格局的变化~~
- ~~C. 两大阶级的对抗~~
- ~~D. 海外的殖民扩张~~

图4为1896年《南德邮车报》发表的四
种国家政体漫画中的一幅，图中某种政体
被描绘成一头巨大肥猪，大臣绕在边缘，
人民被拦在远处。该作品意在

- ~~A. 歌颂专制政体的治理效率~~
- B. 揭露君主专制的腐败独裁
- C. 抨击君主立宪的分权模式
- ~~D. 嘲讽共和政体的争权夺利~~




图4

5. 1925年，欧洲已有8个代议制的国家实行了独裁统治。1933年，意大利法西斯领导人抵
达芝加哥，受到了当地民众与官方热情的欢迎，就连罗斯福总统也请他共进午餐。这反
映出

- A. 经济大危机加剧了国际紧张
- B. 世界多极化趋势在不断增强
- ~~C. 美国正成为世界大战策源地~~
- ~~D. 传统资本主义遭遇信任危机~~

6. 图5、图6分别是2000年与2017年世界传统贸易网络结构图，图中德、中、日、美居
贸易供应链的中心位置。图5到图6的变化表明了

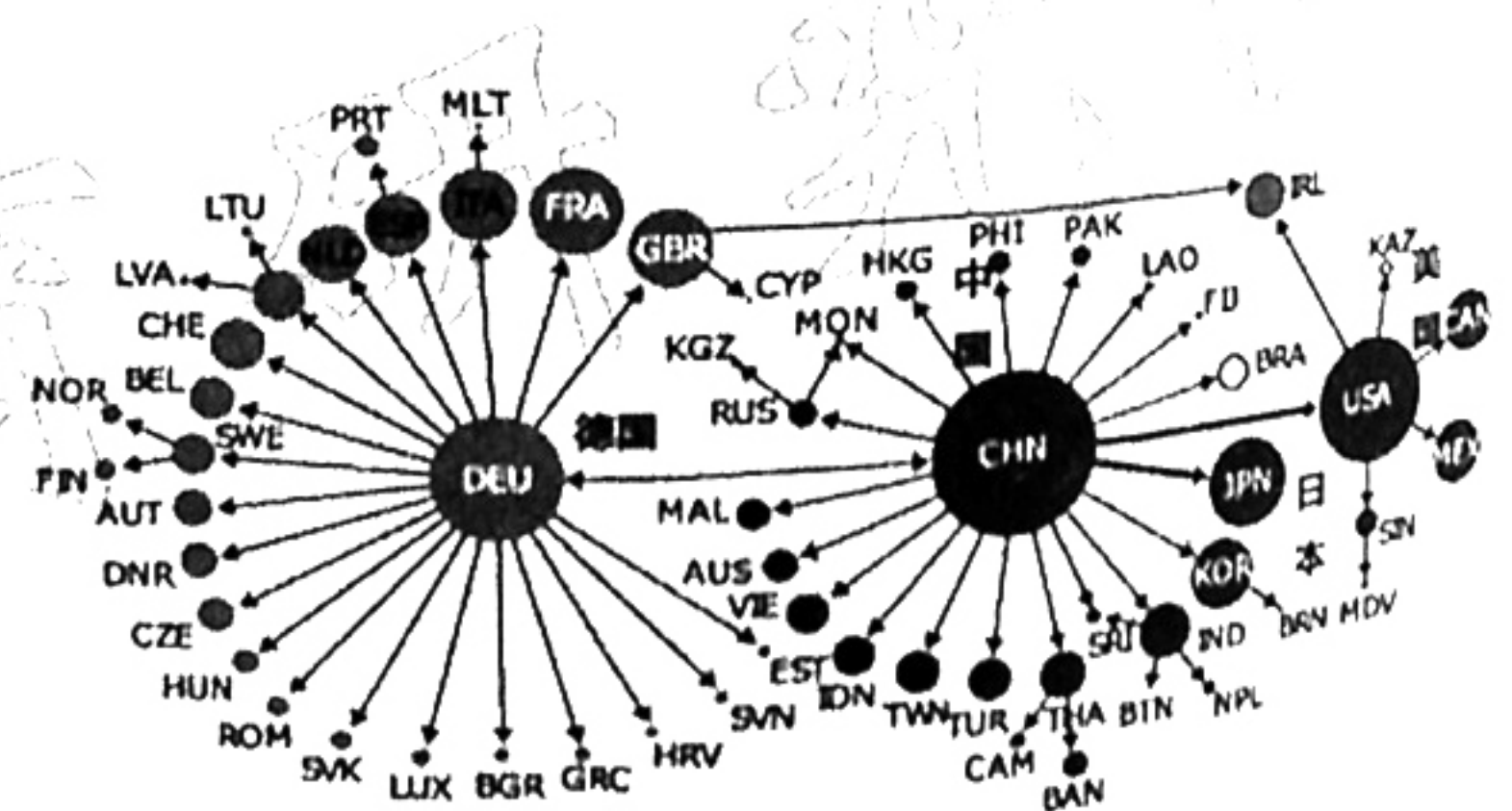
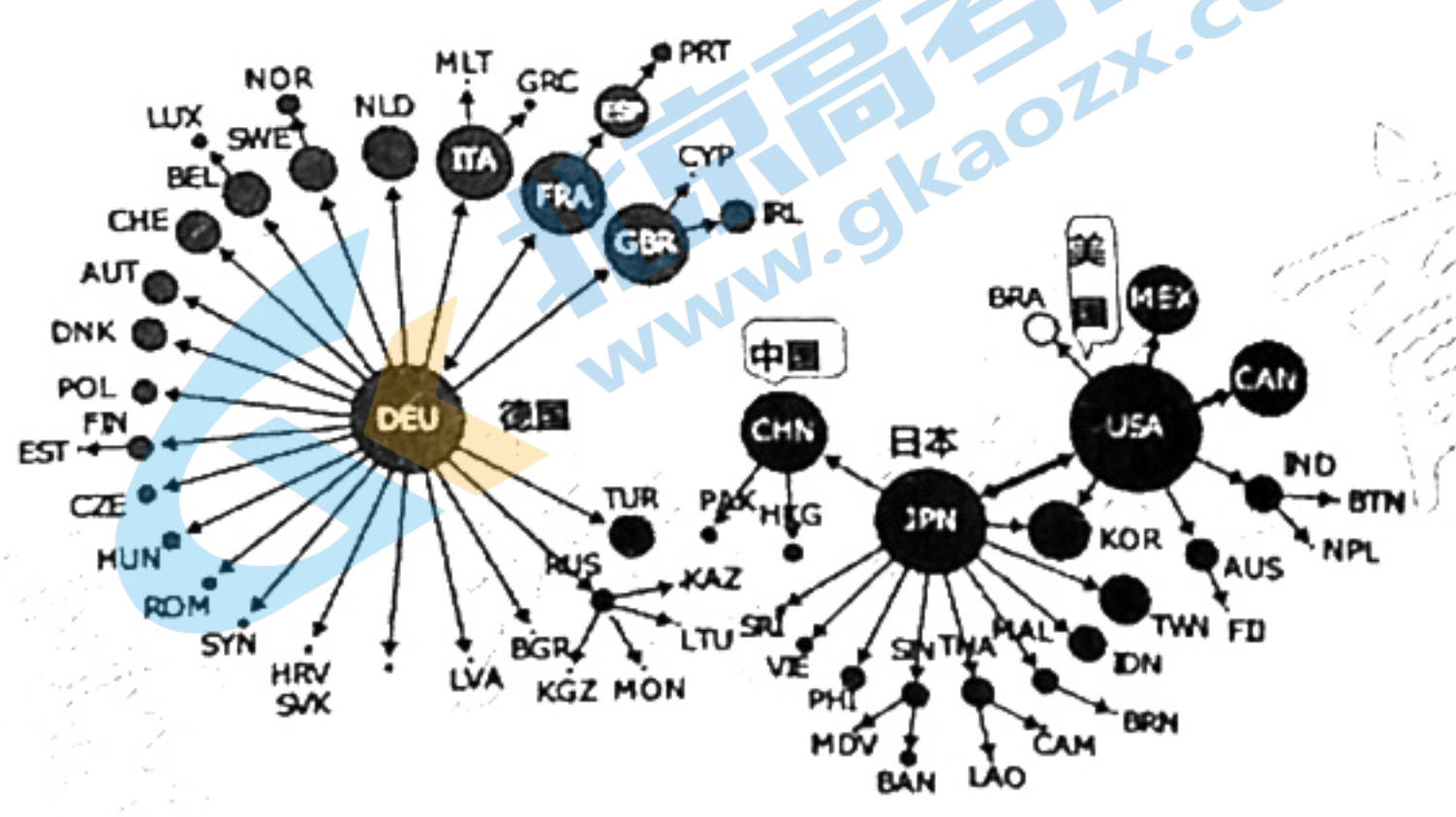


图5 2000年的世界贸易网络结构图
图6 2017年的世界贸易网络结构图

- A. 德国成为最大的贸易进出口国
- ~~B. 美、欧、日三国贸易网络地位形成~~

二、非选择题：本题共 4 小题，共 52 分。

17. 阅读材料，完成下列要求。(8 分)

材料

开宝九年（公元 976 年），宋太祖意欲从开封迁都洛阳。表 3 是《续资治通鉴长编》中的有关记载：

(1)	上曰：“吾将西迁无它，欲据 <u>山河之胜而去冗兵</u> 。循周、汉故事，以 <u>安天下也</u> 。”
(2)	起居郎李符上书曰：“京邑（洛阳）凋弊，宫阙不完， <u>畿内民困，军食不充</u> ……”
(3)	铁骑左右厢都指挥使李怀忠言曰：“东京有汴渠之漕，岁致江淮米数百万斛，都下兵数十万，咸仰给焉。且府库重兵，皆在大梁（开封）。根本安稳已久，不可动摇。若遽迁都，臣实未见其便。”

表 3

根据材料并结合所学知识，简析迁都洛阳的利与弊。

18. 阅读材料，完成下列要求。(20 分)

材料一 二战后，日本、韩国、菲律宾和中国台湾等国家和地区相继被纳入美国阵营，与美国联系日益紧密，其技术人才迁移美国的趋势也迅速加快。70 年代末期以后，随着中国等国家改革开放的开始，几乎所有亚洲国家都不同程度地参与到全球化的大潮中，相应的，亚洲流向美国的技术人才也与日俱增。1949~1979 年间，中国向美技术移民现象并不常见，但自 1980 之后迅速增多。到 2000 年，中国、印度和菲律宾成为向美国输送科技人才数量最多的三个国家。

——摘编自梁茂信《全球化视野下亚洲科技人才移民美国的历史透视》

材料二 1990 年代开始，中共中央提出“支持留学，鼓励回国，来去自由”的方针。教育部先后设立了多项基金和奖励计划，先后资助或支持了两万多名优秀留学人员回国。教育部与西部地区建立实质性合作机制，先后组织归国留学生赴西部从事学术、科研与创业活动，取得很好的经济效益与社会效益。中国政府大力投资和鼓励高新技术的发展，百度、阿里巴巴和腾讯等一大批中国企业迅速崛起，吸引了越来越多的海外华人精英回国发展。至 2018 年，我国留学回国人数达 51.94 万人，创历史新高。

——摘编自吴瑞君、陈程《我国海外科技人才回流趋势及引才政策创新研究》

(1) 根据材料一并结合所学知识，概括二战后亚洲向美国技术移民的原因。(8 分)

(2) 根据材料并结合所学知识，简析 1990 年代以来，中国海外科技人才回流的主要特点及其作用。(12 分)

关注北京高考在线官方微信：[北京高考资讯\(ID:bj-gaokao\)](#)，获取更多试题资料及排名分析信息。

19. 阅读材料，完成下列要求。(12分)

材料

表4 世界汽车发展简表

科技推动社会

时间	历史事件
1769年	法国人居纽制造了世界上第一辆蒸汽驱动的三轮汽车。
1825年	英国人嘉内制造了一辆蒸汽公共汽车，开始了世界上最早的公共汽车运营。
1885年	德国戴姆勒把汽油内燃机装在了木制自行车和四轮马车上，被后人称做是摩托车和汽车的初始； 本茨成功研制世界公认的第一辆汽车，1886年1月29日申请了汽车发明的专利，这一日被公认为是世界汽车的诞生日。
1896年	美国福特试制出第一台汽车。
1914年	福特汽车公司采用流水生产线技术生产汽车，成为全世界汽车厂大批量生产方式的原型。此后不久，世界上的大部分汽车生产从欧洲转移到了美国，占领了美国之外的世界市场的35%。
20世纪 80-90年代	80年代，汽车逐渐电子化、智能化。 1990年，日本本田导航系统问世，无人驾驶汽车问世，激光、超声波、电视摄像机取代了人眼。

——摘编自《世界汽车百年历史》

从材料中提取两条或两条以上的信息，拟定一个论题，并就所拟论题予以简要阐述（要求：论题明确，持论有据，论证充分，表达清晰。）（12分）

9.50
p
25

20. 阅读材料，完成下列要求。(12分)

材料

18世纪法国的高等法院有着举足轻重的政治地位，若法官们认为国王法令中存在弊端，可以拒绝注册并向国王呈交谏诤书。1765年，高等法院的法官甚至以集体辞职来抗议新增捐税。1771年，国王的新任司法大臣莫普进行改革，流放了原高等法院155名法官，建立新的最高法院；取消贵族买卖法官官职的制度，由国王任命法官；禁止收取诉讼酬金，由国家支付法官薪金，薪金高低取决于任职者是否一丝不苟地履行了职责。

莫普改革打破了国王和高等法院既有斗争又相互妥协的模式。支持高等法院一方和政府改革派之间产生了激烈的舆论战。民众同时接受着双方的影响，形成既反贵族又反专制主义的思想。1774年，路易十六即位后，为了缓和危机，将莫普清除出政府，重建高等法院。但是，这场旧制度末年的改革仍被认为是“法国通往1789年的一个显著的标识点”。

——摘编自洪庆明《莫普改革与法国旧制度末年的政治文化转变》

(1) 根据材料并结合所学知识，概括莫普改革的目的。(6分)

(2) 根据材料并结合所学知识，说明莫普改革是“通往1789年的一个显著的标识点”。(6分)

莫

2021年4月福州市新高考适应性测试

历史试题参考答案

一、选择题：本题共16小题，每小题3分，共48分。在每小题给出的四个选项中，只有一项是符合题目要求的。

题号	1	2	3	4	5	6	7	8	9	10	11	12	13	14	15	16
答案	C	C	A	D	D	A	B	B	C	A	A	C	B	B	D	D

二、非选择题：本题共4小题，共52分。

17. (8分)

利：洛阳较开封地理位置险要；可以减轻军事与财政的压力，有利于国家安定；历史上长期为都城，具有良好政治文化基础。(4分)

弊：洛阳遭战火破坏，经济凋敝；迁都增加国家与民众负担；漕运条件劣于开封，粮食供应困难。(4分)

18. (20分)

(1) 全球化趋势的发展；从两极格局到多极化的演变；中美关系改善；中国等国家改革开放；美国科技文化的领先地位。(8分)

(2) 特点：政府支持，政策灵活；国家建设与个人发展相结合；原因多元，形式多样；数量不断增多，回流趋势增强。(6分)

作用：有利于提升整体人才素质，引入先进技术，提升科技竞争力；推动西部开发建设，取得显著社会效益和经济效益；促进产业转型升级，转换经济增长动力。(6分)

19. (12分) 评分标准：论题部分0-3分，论述部分0-9分。具体赋分要求如下：

分值	要求
10-12分	所拟论题符合要求，指向明确。 能够结合科学的史学理论如唯物史观，引用两个以上的具体史实，支持论题，史实准确；分析、论述充分，结论合理；逻辑严密，文字通顺。
7-9分	所拟论题符合要求，指向明确。 能够引用两个以上的具体史实，支持论题，史实较准确；有一定的分析、论述；逻辑较严密，文字较通顺；结论合理。
4-6分	所拟论题基本符合要求，指向较明确。 能够运用一个史实支持论题；表述较通顺；结论明确。
0-3分	能依据材料提出自己的论题，但观点不完整或指向不明确，论述文字与论题关系不清，或无关系；结论错误；没有逻辑性，文字不通顺。

答案(略)

20. (12分)

(1) 目的：消除高等法院的反抗倾向；树立王权的绝对权威；完善司法体系。(6分)

(2) 莫普改革改变了国王和高等法院传统权力关系，加剧了统治阶级内部的矛盾与分化；引发的舆论危机，促进了启蒙思想的广泛传播，加速了1789年法国大革命的到来。(6分)

关于我们

北京高考在线创办于 2014 年，隶属于北京太星网络科技有限公司，是北京地区极具影响力的中学升学服务平台。主营业务涵盖：北京新高考、高中生涯规划、志愿填报、强基计划、综合评价招生和学科竞赛等。

北京高考在线旗下拥有网站门户、微信公众平台等全媒体矩阵生态平台。平台活跃用户 40W+，网站年度流量数千万量级。用户群体立足于北京，辐射全国 31 省市。

北京高考在线平台一直秉承“精益求精、专业严谨”的建设理念，不断探索“K12 教育+互联网+大数据”的运营模式，尝试基于大数据理论为广大中学和家长提供新鲜的高考资讯、专业的高考政策解读、科学的升学规划等，为广大高校、中学和教科研单位提供“衔接和桥梁纽带”作用。

平台自创办以来，为众多重点大学发现和推荐优秀生源，和北京近百所中学达成合作关系，累计举办线上线下升学公益讲座数百场，帮助数十万考生顺利通过考入理想大学，在家长、考生、中学和社会各界具有广泛的口碑影响力

未来，北京高考在线平台将立足于北京新高考改革，基于对北京高考政策研究及北京高校资源优势，更好的服务全国高中家长和学生。



微信搜一搜

北京高考资讯