

2018 年北京市春季高中会考

历史

1. “逮克殷践奄，灭国数十，而新建之国皆其功臣、昆弟、甥舅，本周之臣子；而鲁、卫、晋、齐四国，又以王室至亲为东方大藩。”与材料描述相关的制度是

- A. 禅让制 B. 世袭制 C. 分封制 D. 郡县制

2. 《汉书》记载：“武帝施主父之册，下推恩之令，使诸侯王得分户邑，以封子弟，不行黜陟，而藩国自析。”据此判断汉武帝实行“推恩令”的目的是

- A. 恩泽贵族 B. 削弱王国势力 C. 增加税收 D. 实现民族交融

3. 北宋初年，为加强中央集权，宋太祖采取的措施有

- ①把主要将领兵权收归中央 ②文官担任地方长官
③地方赋税大部分转运中央 ④在地方设置节度使

- A. ①②③ B. ②③④ C. ①②④ D. ①③④

4. 清朝政治制度出现了新的变化。右图所示机构产生的影响是



A. 中央对地方控制减弱 B. 君主专制进一步加强

C. 南书房参与机要事务 D. 国事均由军机处决策

5. 英国强迫清政府签订不平等条约的内容中，严重破坏中国领土主权的条款是

- A. 协定关税 B. 割香港岛 C. 片面最惠国待遇 D. 领事裁判权

6. 梁启超指出：“吾国……直待台湾既割，二百兆之偿款既输，而鼾睡之声，乃渐惊起。”与文中所涉内容相关的不平等条约是

- A. 《南京条约》 B. 《天津条约》 C. 《马关条约》 D. 《辛丑条约》

7. 蔡元培在一幅挽联中写道：“是中国自由神，三民五权，推翻历史数千年专制之局。吾侪后死者，齐心协力，完成先生一二件未竟之功。”他悼念的是

- A. 林则徐 B. 康有为 C. 孙中山 D. 鲁迅

8. 下图中有“废除二十一条”“拒绝和约签字”“还我青岛”等标语，其反映的史事是



A. 禁烟运动 B. 公车上书 C. 武昌起义 D. 五四运动

9. 1927 年国民革命失败后，中国共产党开创了“农村包围城市”的革命道路，逐渐形成“工农武装割据思想”。这一思想包括

①武装斗争 ②土地革命 ③根据地建设 ④建立革命统一战线

A. ①②③ B. ②③④ C. ①②④ D. ①③④

10. 美国记者斯诺在《红星照耀中国》一书中称誉的“当今时代无与伦比的一次史诗般的远征”，指的是

A. 南昌起义 B. 秋收起义 C. 红军长征 D. 挺进大别山

11. 某班设计了“抗日战争”的网页，页面设置了“抗战爆发”“正面战场”“敌后战场”“抗战胜利”四个栏目。如果再增加一个栏目，最恰当的是

A. 九一八事变 B. 淞沪会战 C. 日寇暴行 D. 日本投降

12. 下图是一幅历史照片，可以用来佐证



人民解放军占领总统府

A. 战略决战的开始 B. 全国大陆基本解放
C. 人民解放战争的结束 D. 国民党政府在大陆统治垮台

13. 20 世纪 50 年代，我国确定的政治制度有中国共产党领导下的多党合作和政治协商制度，还有

①人民代表大会制度 ②民族区域自治制度 ③“一国两制”方针 ④普遍推行村民自治

A. ①② B. ②③ C. ①③ D. ②④

14. 公元前 5 世纪，罗马的《十二铜表法》规定：“期满，债务人不还债的，债权人得拘捕之，押其到长官前，申请执行。”这体现了

A. 保护私有财产 B. 限制贵族权力 C. 维护平民利益 D. 扩大统治基础

15. 有关英国责任制内阁的表述，正确的是

①由多数党领袖组阁 ②实际上对议会负责 ③首相有权解散议会 ④掌握司法权

A. ①②③ B. ②③④ C. ①②④ D. ①③④

16. 某学习小组在进行研究性学习时，围绕某一主题搜集了如下资料。这一主题应是



《共产党宣言》封面 巴黎公社成立 攻打冬宫

- A. 空想社会主义理论的出现 B. 巴黎公社的成立及其意义
C. 俄国十月革命影响的探讨 D. 科学社会主义理论与实践
17. 当今世界多极化的发展趋势日益明显，主要是因为
A. 若干政治力量的崛起 B. 各国经济联系日趋紧密
C. 多元文化的交流融合 D. 联合国的作用不断加强
18. 南宋诗人范成大在《四时田园杂兴》中写道：“昼出耘田夜绩麻，村庄儿女各当家。” 这句诗反映了
A. 男耕女织的小农经济 B. 农业灌溉方式的变化
C. 民营手工业艰难经营 D. 农村商品经济的发展
19. 在中国古代的纺织、制瓷等行业中，私营手工业超过官营手工业占据主导地位是在
A. 商朝 B. 唐朝 C. 宋朝 D. 明朝
20. 据史书记载，“评进之则箭下，入土也深；退之则箭上，入土也浅……江东之田器尽于是”。这一农具指的是



- A. 耒车 B. 翻车 C. 曲辕犁 D. 筒车
21. 明清统治者推行“海禁”和“闭关锁国”政策，其主要影响有
①保护了民族工业的发展 ②失去了开拓海外市场的契机
③避免了西方的殖民侵略 ④阻碍了中外民间的贸易往来
A. ①② B. ②③ C. ①③ D. ②④
22. 奕訢在《统筹全局折》中写道：“治国之道，在乎自强，而审时度势，则自强以练兵为要，练兵又以制器为先。”下列企业中体现这一思想的是
A. 江南制造总局 B. 汉阳铁厂 C. 轮船招商局 D. 发昌机器厂
23. 杨德才在《中国经济史新论》中指出，1920年同1913年比较，厂矿数和资本额分别增加了152%和51.3%。促使这种增长的国内因素是
A. 洋务派大力投资兴办了新式企业 B. 戊戌变法中成立农工商总局
C. 政府鼓励及实业救国思潮的影响 D. 南京国民政府重视经济建设
24. 近代有一首竹枝词中写道：“举头铁索路行空，电气能收夺化工。从此不愁鱼雁少，音书万里一时通。”此诗赞扬的是

- A. 铁路运输 B. 电报电信业 C. 航空事业 D. 航海事业

25. 新中国试制成功第一批新型喷气式飞机是在

- A. 国民经济恢复时期 B. “一五”计划期间
C. “大跃进”运动期间 D. 改革开放时期

26. 下图是某一时期经济建设的宣传画，上面有“社社亩产万斤粮”“人人共庆丰收年”等标语。它反映了当时

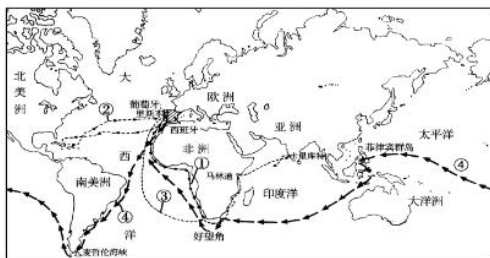


- A. 农业生产的真实情况 B. 不切实际的浮夸之风
C. 农业科技的巨大进步 D. 经济建设的重大成就

27. 1978年以后，中国开始进行农村经济体制改革。下列说法正确的是

- ①实行家庭联产承包责任制 ②农民有了生产和分配的自主权
③改变了农村土地的所有权 ④极大调动了农民的生产积极性
A. ①②③ B. ②③④ C. ①②④ D. ①③④

28. 下图中，意大利航海家哥伦布的航海路线是

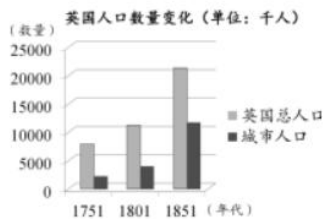


- A. ① B. ② C. ③ D. ④

29. 17世纪初，拥有众多商船、成为世界头号贸易强国的是

- A. 荷兰 B. 西班牙 C. 法国 D. 葡萄牙

30. 下图所示英国城市人口变化的主要原因是



- A. “三角贸易”展开 B. 君主立宪政体建立 C. 工业革命广泛开展 D. 欧洲经济的一体化
31. 美国史学家指出：“1921年，列宁发起的政策允许农民经营自己的土地和出售自己的粮食。私人企业可以经营小型工业，恢复了货币和信贷……将俄国经济拖出混乱不堪的状况。”这一政策是
- A. 战时共产主义政策 B. 新经济政策 C. 农业集体化政策 D. 工业化政策
32. 威廉·本内特在《美国通史》中写道：“数千年轻的男人临时居住在窝棚里，从事修建长途铁路的工程，虽然挣得不多，但他们的健康能够得到保证，重要的是有一种成就感。”罗斯福新政中与之相关的举措是
- A. 复兴工业 B. 整顿银行 C. 以工代赈 D. 调整农业
33. 为了解决“斯大林模式”给苏联经济造成的困难，赫鲁晓夫、勃列日涅夫相继进行了经济改革。他们改革的共同点是
- A. 优先解决农业生产中的问题 B. 调整所有制结构发展个体经济
C. 重点发展轻工业以改善民生 D. 力图缓解计划经济造成的弊端
34. 20世纪80年代，英国首相撒切尔夫人说：“社会有一个梯子和一张安全网，梯子用来供人们自己努力改善生活，安全网则用来防止人们跌入深渊。”她说的“安全网”应指
- A. 社会保障体系 B. 强化国防保障 C. 发展粮食生产 D. 劳动安全保护法
35. 20世纪50年代，欧洲的联合开始于
- A. 政治领域 B. 经济领域 C. 军事领域 D. 文化领域
36. 当今中国很多汽车知名企业与世界汽车集团合资，例如：北汽集团与现代、奔驰、切诺基等，上汽集团与大众、通用等。这些现象出现的背景是
- A. 中国汽车业开始起步 B. 世界市场最终形成
C. 经济区域集团化发展 D. 经济全球化的推进
37. 以下主张体现春秋时期道家思想的是
- A. 克己复礼，民贵君轻 B. 顺应自然，无为而治
C. 兼爱非攻，节用尚俭 D. 法不阿贵，以法治国
38. 如果要了解“天下兴亡，匹夫有责”这一思想的起源，应当查阅的是
- A. 李贽的《焚书》 B. 黄宗羲的《明夷待访录》
C. 顾炎武的《日知录》 D. 王夫之的《船山遗书》
39. 下列中国古代医学重要成果中，奠定后世中医临床学理论基础的是
- A. 《黄帝内经》 B. 《伤寒杂病论》 C. 《千金方》 D. 《本草纲目》
40. 研究商代的历史，需要释读的文字是



A. (1) B. (2) C. (3) D. (4)

41. 中国古代四大发明对欧洲近代社会产生重要影响。其中“替宗教改革开路，并使推广民众教育成为可能”的是

A. 指南针与印刷术 B. 造纸术与火药 C. 火药与指南针 D. 造纸术与印刷术

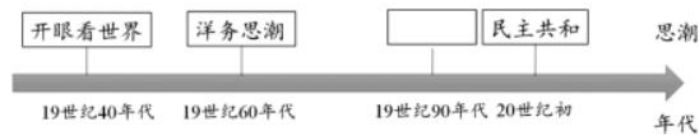
42. 想了解宋代汴京的建筑、交通、商业和市民生活，可以参考的艺术作品是

A. 《女史箴图》 B. 《送子天王图》 C. 《富春山居图》 D. 《清明上河图》

43. 中国戏曲艺术种类繁多，其中以历史故事为主要题材，用京胡、鼓、板、锣等乐器伴奏，角色分为生、旦、净、丑的剧种是

A. 评剧 B. 黄梅戏 C. 豫剧 D. 京剧

44. 下列是中国近代思想演变示意图，空格内应填写



A. 师夷长技 B. 中体西用 C. 维新变法 D. 三民主义

45. 20世纪90年代以来，党和政府把教育事业摆在优先发展的地位，表现在

A. 开展识字教育 B. 恢复高考制度
C. 通过《义务教育法》 D. 提出“科教兴国”战略

46. 古希腊出现了众多的思想家，其中提出“知识即美德”这一名言的是

A. 泰勒斯 B. 苏格拉底 C. 亚里士多德 D. 柏拉图

47. 被誉为“生物学中的牛顿”，第一次把生物学完全放在科学基础之上的科学家是

A. 瓦特 B. 达尔文 C. 爱迪生 D. 爱因斯坦

48. 某同学想了解现实主义文学流派的作品，他应该阅读的书籍是

A. 《西风颂》 B. 《巴黎圣母院》 C. 《人间喜剧》 D. 《等待戈多》

49. “要是没有听过这部壮丽的作品的话，那么你这一生可以说是什么作品也没听过”，这是恩格斯对《命运交响曲》的评价。这部伟大音乐作品的作者是

A. 德彪西 B. 莫扎特 C. 李斯特 D. 贝多芬

50. 下图是毕加索的名作《格尔尼卡》（局部）。它采用夸张、变形与抽象的表现方法，以超现实主义风格，表现痛苦、受难和兽性，控诉了法西斯的战争暴行。该作品所属的流派是



A. 古典主义 B. 浪漫主义 C. 印象画派 D. 现代主义

北京高考在线是长期为中学老师、家长和考生提供新鲜的高考资讯、专业的高考政策解读、科学的升学规划以及实用的升学讲座活动等全方位服务的升学服务平台。自 2014 年成立以来一直致力于服务北京考生，助力千万学子，圆梦高考。

目前，北京高考在线拥有旗下拥有北京高考在线网站和北京高考资讯微信公众号两大媒体矩阵，关注用户超 10 万+。

北京高考在线_2018 年北京高考门户网站

<http://www.gaokzx.com/>

北京高考资讯微信：bj-gaokao

北京高考资讯

关于我们

北京高考资讯隶属于太星网络旗下，北京地区高考领域极具影响力的升学服务平台。

北京高考资讯团队一直致力于提供最专业、最权威、最及时、最全面的高考政策和资讯。期待与更多中学达成更广泛的合作和联系。

长按二维码 识别关注



微信公众号：bj-gaokao

官方网址：www.gaokzx.com

咨询热线：010-5751 5980