


2023-2024 学年度第二学期高二年级开学考（历史）

第一部分

本部分共 40 题，每题 1.5 分，共 60 分。在每题列出的四个选项中，选出最符合题目要求的一项。

1. 考古人员在内蒙兴隆洼遗址清理出距今 8000 多年前的 170 余座半地穴式房址，这些房址排布均匀，遗址外围以围壕环绕。考古人员在遗址内筛选出 1500 多粒碳化粟和黍的种子，还发现了许多石铲、石磨盘、石磨棒、陶器等器物。据此可知当时（ ）
- A. 原始人群采集狩猎迁徙不定
B. 部落之间军事冲突频繁
C. 居民已定居并从事农业生产
D. 阶级分化贫富差别明显
2. 距今 7000 至 5000 年前的河姆渡遗址中出土了磨制的石器、骨器、玉器以及陶器、木器等生产生活用品，还出土了人工栽培稻遗物、干栏式建筑构件等。以上材料能够实证（ ）
- ①长江流域是中华文明的摇篮之一
②中国是世界稻作文明重要发源地
③河姆渡人以采集和渔猎生活为主
④河姆渡人已经进入了新石器时代
- A. ①②③
B. ①②④
C. ①③④
D. ②③④
3. 岳麓书院藏秦简《尉卒律》记载：“里自卅户以上置典、老各一人。不盈卅户以下，便利，令与其旁里共典、老”。岳麓秦简也记“一里过百（户）而可隔垣益为门者，分以为里。”由此可知秦朝（ ）
- ①县以下官员由皇帝任命
②用法律方式规范基层治理
③地方已实现了基层自治
④对普通民众实行有效管理
- A. ①②
B. ②③
C. ①③
D. ②④
4. 公元前 536 年，郑国执政子产将法律条文铸在象征国君地位的金属鼎上，向全社会公布，史称“铸刑书”。公元前 450 年左右，罗马共和国为了缓和平民与贵族的矛盾，将《十二铜表法》刻于铜牌之上并公布。两部法律的共同点有（ ）
- A. 引发了德治与法治之争
B. 都消除了各自的社会矛盾
C. 符合当时社会发展需求
D. 代表本国法律的最高成就
5. 下图是出土于甘肃武威的彩绘木王杖（鸠杖）及《王杖简》，王杖杖杆粗细均匀，杖顶端有鸠鸟横卧。木简载有公元前 31 年“年七十受王杖”的诏书及公元前 28 年“毆击王杖主当弃市”的令。这说明当时
- A. 实行尊重和优抚老人的政策
B. 政府设立了专门的救助机构
C. 宗族内部救助活动逐渐兴起
D. 善堂、善会等慈善组织出现



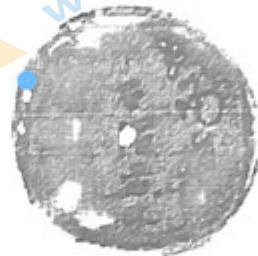
6. 公元 313-314 年间，一位驻扎在甘肃的粟特人那耐·万达克向家乡撒马尔罕寄了一封信（部分内容见下），该信件可用于研究（ ）
- 最后一位皇帝从洛阳逃走。由于饥荒，城市和宫廷遭到火灾……这些所谓的匈奴人，昨天还受制于君王！
从敦煌一直到金城（兰州）……亚麻布销路很好。
居住在从金城到敦煌地区的我们，没有亲属，年老而且面临死亡。
- ①西晋末期的政治局势
②丝绸之路的商业活动
③江南地区的经济开发
④粟特商人群体的境遇
- A. ①②③
B. ①②④
C. ①③④
D. ②③④

7. 隋朝建立后, 命州县官“大索貌阅”, 将人口体貌与户籍登记相比较, 重新核定户籍, 严防不实, 然后“输籍定样”, 登记各户具体情况, 确定各户等级纳税标准。以上举措(),

- A. 有利于增加财政收入, 加强中央集权
B. 查清隐匿人口, 消除社会矛盾
C. 将丁银平摊到田赋中, 稳定社会秩序
D. 打击豪强地主, 促进人口流动

8. 1998年, 考古人员在印尼海域发现的唐朝时期古沉船“黑石号”中载有约5万件长沙窑瓷器。在“黑石号”沉船出水文物中, 有一件题为“湖南道草市石渚孟子有明樊家记”的长沙窑瓷碗(见下图)。以上考古成果说明唐朝()。

- ①海上对外贸易已经十分发达
②石渚草市的瓷器已远销海外
③已注重宣传商品的品牌价值
④长沙窑瓷器只面向国内市场
- A. ①②③
B. ①②④
C. ①③④
D. ②③④



9. 乌青镇地处江南水乡, 与京杭大运河、太湖相通, “四方宾客及商贾, 凡有事于浙者, 率取径道, 舳舻相望”。明成化、弘治年间, 该镇“里人贾鬻他方, 四时往来不绝”。康熙时乌青镇所产蚕丝, 远销国内外, “财赋所出甲于一郡”。乌青镇的发展(),

- ①得益于发达的水运交通
②体现了江南工商业市镇的繁盛
③增加了政府的财政收入
④表明朝廷已放弃重农抑商政策
- A. ①②③
B. ①②④
C. ①③④
D. ②③④

10. 下列史料反映了中国古代不同时期的赋税制度、政策, 按其出现先后顺序排列正确的是()

- ①“民有二男以上不分异者, 倍其赋”
②“一条鞭法者, 总括一州县之赋役, 量地计丁, 丁粮毕输于官”
③“凡丁, 岁役二旬。若不役, 则收齐佣(庸), 每日三尺”
④“滋生人丁, 永不加赋”
- A. ①③②④
B. ②③①④
C. ③①④②
D. ③④②①

11. 下列材料与结论对应正确的是()

序号	材料	结论
①	今台阁选举, 涂塞耳目, 九品访人, 惟问中正。故据上品者, 非公侯之子, 则当涂之弟也	魏晋南北朝门阀士族势力强大
②	隋唐以前中央只任命郡县的主要官员, 属官则由长官自己选用, 隋唐以后, 九品以上官员均由中央任命	地方割据威胁中央集权
③	明朝司法特别重视实践中“例”, 《问刑条例》多次修订, 最终采取“律为正文、例为附注”的形式	明朝法律体现了律例合编的特点
④	清朝乡约宣讲内容多为康熙“圣谕十六条”、雍正《圣谕广训》, 并常常援引《大清律例》	乡约为政府利用、与法律合流

- A. ①②③
B. ①②④
C. ①③④
D. ②③④

12. 中国古代王朝十分重视监察官员的作风和考核官员的业绩。若为此观点提供证据, 可以选择的史实有()

- ①秦设推行上计制度
②隋唐以御史台为监察机构
③宋朝取士不问家世
④明朝设立了督察院和六科
- A. ①②③
B. ①②④
C. ①③④
D. ②③④

13. 当铺在魏晋南北朝时期兴起，唐朝时期取得了合法地位。清朝时期，钱庄大量出现，庄票普遍流行。从当铺到钱庄的发展表明（ ）

- A. 社会救助机构不断完善
- B. 信贷业务不断发展
- C. 商业契约意识开始形成
- D. 对外贸易逐渐繁盛

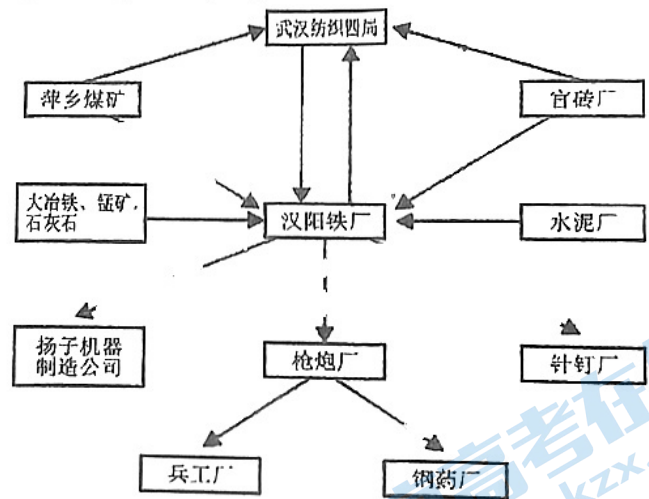
14. 若查找中国古代王朝优抚救济弱势群体历史材料，应选择（ ）

- A. 四境之内，丈夫、女好皆有名于上，生者著，死者削
- B. 凡丁，岁役二旬。若不役，则收其庸，每日三尺
- C. 凡鳏寡孤独，每月官给粮米三斗，每岁给帛布一疋（音 pī，量词），务在存恤
- D. 凡甲内有盗窃、邪教、赌博聚会等事，及面生可疑、形迹诡秘之徒，责令专司查报

15. 1870 年清政府设立南洋通商大臣之后，又设立北洋大臣，管理直隶、山东、奉天三省通商、洋务，办理有关外交、海防、关税及官办军事工业等事宜。以上做法（ ）

- A. 表明清朝丧失了关税自主权
- B. 促进了洋务运动的开展
- C. 为维新变法奠定了阶级基础
- D. 扫除了民主革命的障碍

16. 清末，湖广总督张之洞引进西方机器，在武汉兴办汉阳铁厂。至辛亥革命前后，在武汉地区逐步形成了以汉阳铁厂为龙头的工业体系（如右图所示），汉口也成为中国第二大内河港口城市，并赢得了“东方芝加哥”的美称。以下对汉阳铁厂的认识正确的有



- ① 是近代民族资本主义企业代表
 - ② 有利于当地近代工业化的发展
 - ③ 促进了武汉地区的城市化进程
 - ④ 推动了矿产资源的开发和利用
- A. ①②③
 - B. ①②④
 - C. ①③④
 - D. ②③④

17. “中华苏维埃政权所建设的是工人和农民的民主专政的国家。苏维埃政权是属于工人、农民、

红军兵士及一切劳苦民众的。在苏维埃政权下，所有工人、农民、红军兵士及一切劳苦民众都有权选派代表掌握政权的管理”。以上规定（ ）

- A. 调动了人民群众对北伐战争的支持
- B. 说明了红色革命根据地政权的性质
- C. 支援了国民党统治区抗日反蒋运动
- D. 鼓舞了中国社会各阶层的抗日热情

18. 1940 年，延安县曾用民选的方式选举征粮委员会，选出了 9 名共产党员和 18 名非党人士（包括富裕户和绅士），在百姓的支持下，征粮委员会顺利完成了相关任务。毛泽东对这个经验很重视，并号召在边区各地推广运用。这一经验的推广（ ）

- A. 促进了中华苏维埃共和国制度建设
- B. 巩固和扩大了抗日民族统一战线
- C. 展现了人民代表大会制度的优越性
- D. 标志着基层民主制度建设的完善

19. 1949 年 8 月至 12 月，毛泽东以中央或个人名义发出多份电报，督促各地尽快召开各界人民代表会议并向中央报告开会情况；他还批复和批转不少地区关于召开各界人民代表会议的报告，推广开会经验。以上做法（ ）

- A. 推动了新型人民民主政权的建立与发展
- B. 保证了人民解放战争战略反攻取得胜利
- C. 奠定了建立新型人民共和国的理论基础
- D. 标志着全国人民代表大会制度正式确立

20. 以下为改革开放以来党和国家提出的处理民族问题的思想原则。这些原则的提出和落实 ()

“三个离不开”——汉族离不开少数民族，少数民族离不开汉族，各少数民族之间也互相离不开

- “两个共同”——共同团结奋斗，共同繁荣发展
- “五个认同”——对伟大祖国的认同、对中华民族的认同、对中华文化的认同、对中国共产党的认同、对中国特色社会主义的认同

- A. 奠定了现代中国版图的基础
- B. 推动了民族区域自治制度的确立
- C. 促进了多元一体格局的形成
- D. 有助于铸牢中华民族共同体意识

21. 1951年，政务院颁布《中华人民共和国劳动保险条例》，1952年11月底，2860家企业、320万职工享受到条例所规定的保险待遇。到1956年，享受劳保条例的职工合计2300多万，占国营、公私合营、私营企业职工总数的94%。以上做法 ()

- A. 维护了企业中广大普通劳动者的利益
- B. 结束了多年物价连续上涨的局面
- C. 标志着对生产资料私有制改造的完成
- D. 促进了经济体制改革顺利地展开

22. 2015年12月，中国发起的亚洲基础设施投资银行正式成立，“银行的成立将有助于从亚洲域内及域外动员更多的亟需资金，缓解亚洲经济体面临的融资瓶颈，与现有多边开发银行形成互补，推进亚洲实现持续稳定增长”。亚洲基础设施投资银行的成立与发展 ()

- ①表明中国正在以自己的发展惠及世界
- ②推动了区域互联互通和区域一体化发展
- ③确立了更具活力和永久性的多边国际贸易体制
- ④促进了亚洲经济发展为全球经济发展提供新动力

- A. ①②③
- B. ②③④
- C. ①②④
- D. ①③④

23. 2019年5月，中国主要面向亚洲搭建的重要对话合作机制——亚洲文明对话大会在北京举行，大会主题为“亚洲文明交流互鉴与命运共同体”。亚洲47个国家以及域外国家的政府官员和文化、教育、智库、媒体、影视、旅游等领域的代表共计2000余人参加。联合国教科文组织等国际组织负责人出席大会。这一活动 ()

- ①有利于凝聚亚洲发展共识，促进各国共同发展
- ②掀起了中国与亚洲各个国家之间建交的新高潮
- ③体现了中国为世界的和平与发展贡献中国智慧
- ④显示了中国对联合国国际事务核心作用的支持

- A. ①③
- B. ②③
- C. ②④
- D. ③④

24. 雅典公民在十八岁时要在村社名簿中登记，登记需要村社成员进行宣誓投票决定，如果投票不同意，他可以向陪审法庭申诉，申诉成功则可登记。登记后的公民经过两年服役并举行一定仪式后可正式参加公民大会及各项民主政治生活。如果议事会发现其登记时未满18岁，那允许他登记的村民便要受到罚金的处分。由此可知雅典 ()

- ①取得公民权是参与社会生活的前提
- ②民主政治生活中注重程序的规范性
- ③陪审法庭发挥最高权力机关的职能
- ④村社在基层治理中发挥了重要作用

- A. ①②
- B. ①③
- C. ①④
- D. ②④

25. 汉谟拉比法典的下列法律条文表明 ()

第七条 自由民从自由民之子或自由民之奴隶买得或为之保管银或金，或奴隶，或女奴，或牛，或羊，或驴，或不不论何物，而无证人与契约者，是为窃贼，应处死。

- ①法典维护奴隶制度
- ②自由民与奴隶身份日趋平等
- ③法典保护私有财产
- ④古巴比伦人已具有契约意识

- A. ①②③ B. ①②④ C. ①③④ D. ②③④

26. 1490年，法王查理八世颁布了《穆兰法令》，开始限制拉丁语的使用，强制要求地方司法审讯和诉讼笔录必须使用法语或地方语言（俗语）。1510年，法王路易十二颁布法令，要求地方所有司法文件都要使用俗语，禁用拉丁语。1539年8月，法王弗朗索瓦一世规定法语正式取代拉丁语成为官方语言。以上法王的做法（ ）

- A. 推动了封君封臣制度的形成 B. 导致了马丁·路德的宗教改革
C. 拉开了欧洲文艺复兴的序幕 D. 增强了法兰西人民的民族意识

27. 新航路开辟以后，小麦、水稻等粮食作物被引种到美洲。到1535年，“墨西哥已能输出小麦到安的列斯群岛与地峡区两地”。出于饮食习惯和宗教等原因，欧洲移民“喜欢白面包甚于玉米”。“在巴西，由于黑奴喜欢吃米，遂对稻米有很大需求”。小麦、水稻等作物传入美洲（ ）

- ①丰富了美洲地区的食物种类 ②促进了当地经济和贸易的发展
③促进了世界市场的最终形成 ④促使移民较快适应美洲的生活

- A. ①②③ B. ①②④ C. ①③④ D. ②③④

28. 随着对外扩张，拿破仑曾在荷兰、意大利、西班牙、葡萄牙等国家和地区强制推行《法国民法典》。1815年拿破仑战争失败后，这些欧洲国家发现消除《法国民法典》的影响是不可能完成的任务，于是只好沿用。这说明（ ）

- ①拿破仑战争沉重打击了欧洲的封建势力
②欧洲各国对拿破仑战争的危害缺乏认识
③拿破仑战争传播了《法国民法典》的理念
④拿破仑战争引发了当地民众的强烈反抗

- A. ①② B. ③④ C. ①③ D. ②④

29. 1764年，意大利人贝卡里亚在《论犯罪与刑罚》中提出：“在法官判决之前，一个人是不能被定为罪犯的。只要还不能断定他已经侵犯了给予他公共保护的契约，社会就不能取消对他的公共保护。”这体现了

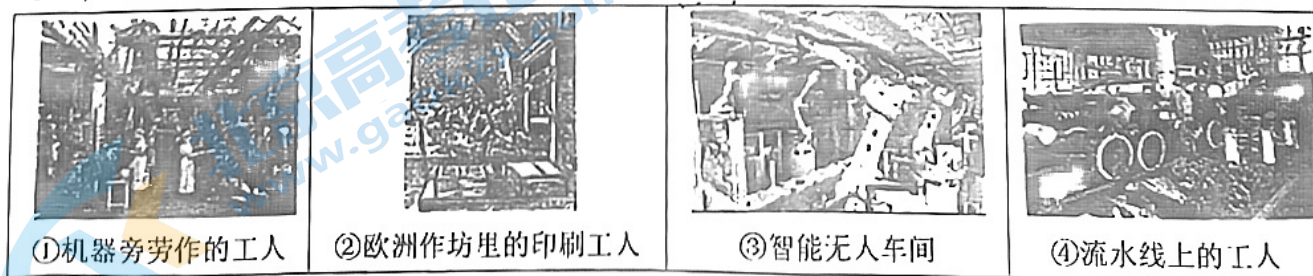
- A. 分权制衡原则 B. 契约自由原则
C. 无罪推定原则 D. 政治中立原则

30. 1869年苏伊士运河通航，英法等国争夺苏伊士运河的控制权，埃及人民为收回苏伊士运河不断进行斗争。1914年巴拿马运河通航，美国长期控制巴拿马运河地区，巴拿马人民为收回主权持续抗争。苏伊士运河和巴拿马运河的开通（ ）

- ①动摇了以欧洲为中心的世界格局
②损害了埃及、巴拿马的国家主权
③缩短了洲际之间远洋航行的距离
④加强了世界各地间的经济联系

- A. ①②③ B. ①②④ C. ①③④ D. ②③④

31. 下列生产方式按其出现先后顺序排列正确的是（ ）



- A. ①②③④ B. ②①④③ C. ③②①④ D. ④①②③

32. 下列选项中，史实与结论相符的是 ()

	史实	结论
A	1816年，英国制定法案，实行金本位制	促进了手工工场的发展
B	1944年，美、英等11个国家召开会议，确立以美元为核心的货币体系	为美国推行世界霸权提供有利条件
C	20世纪70年代，美国停止美元兑换黄金	浮动汇率制被固定汇率制取代
D	进入21世纪，欧元、日元、人民币在国际货币基金组织货币篮子中比重上升	欧元成为国际结算主要货币

33. 19世纪后期，美国通过法案对文官制度进行了规范，通过公开考试择优录用文官，文官考核和工资以实绩为依据，经考试录用的文官实行常任制，由法律保障其职位，不得任意撤换。这些内容 ()

- A. 有效避免官僚习气的滋生 B. 体现了文官任期制的特点
C. 有助于政府工作的稳定性 D. 实现了文官与政党共进退

34. 近年来，某国际化物流企业优化组织结构，集中资源，提高效率，并研发了柔性自动化仓储系统，利用AI在内的技术创新，打造全面智慧化自动化的物流体系，每天可以处理上亿件快件，更加快速高效地满足全球用户需求。该企业的行为 ()

- ①体现了集约化的经营模式 ②开启了经济全球化的进程
③为制造业现代化提供范例 ④得益于人工智能技术进步

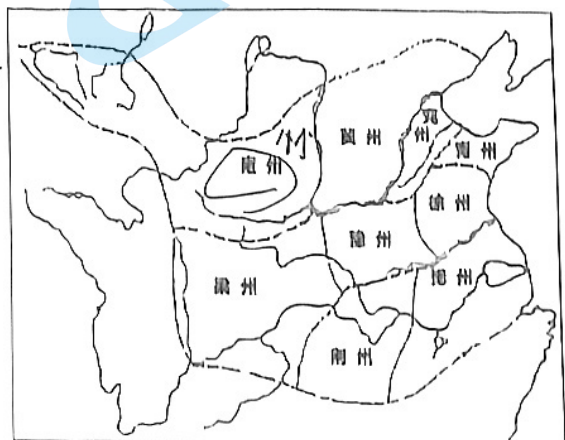
- A. ①② B. ①③ C. ①④ D. ②④

35. 20世纪70年代，联合国教科文组织提出“生态城市”概念，其特征有生态性、和谐性、理想性、可持续性。2007年欧盟《欧盟智慧城市报告》提出基于云计算、社交网络等信息技术工具，让城市更加智能、科技、环保、低碳。2012年6月，中国有320多个城市借助物联网、传感网等信息技术工具积极开展“智慧城市”建设。这说明 ()

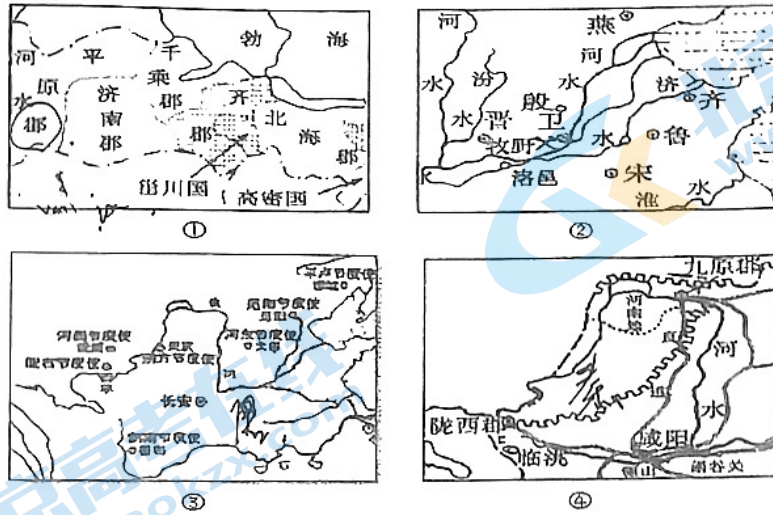
- A. 世界各大洲城市化发展十分均衡 B. 欧盟提出的城市发展理念凸显地域特色
C. 世界城市化以教科文组织为主导 D. 第三次科技革命影响着城市的发展方向

36. 《尚书·禹贡》是战国时期托名大禹的一篇地理著作。文中以地理为径，分当时天下为九州（如右图）并分成九个等级：雍州上上，徐州上中，青州上下，豫州中上，冀州中中，兖州中下，梁州下上，荆州下中，扬州下下。据此分析，《尚书·禹贡》对以下哪种说法的史料价值最大 ()

- A. 西周时期以都城为中心的分等级统治体制
“州”作为行政区划的历史开端
C. 战国时期以黄河中下游为中心的统一观念
D. 大禹时代的国家疆域及行政区划

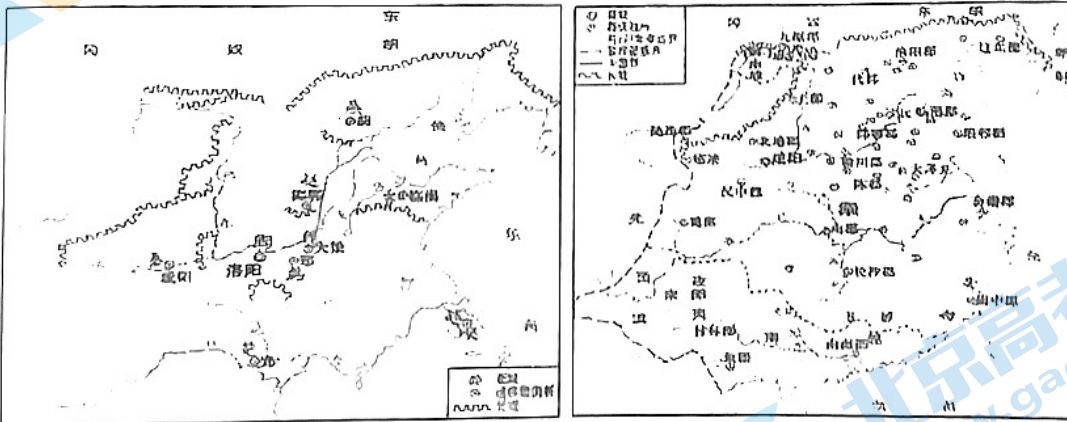


37. 下列四幅地图，按时间先后顺序排列正确的是



- A. ③②①④ B. ④②③① C. ②③①④ D. ②④①③

38. 下列两幅图反映了中国古代不同时期的长城布局。据此可知



- A. 长城保护了中原农耕文明 B. 中国辽阔版图基本形成
C. 长城防御的对象发生变化 D. 秦朝率先创立郡县制度


39. 右图为明清时期太湖地区经济发展示意图，图中信息可以体现出明清时期（ ）

- A. 农业作物种植的多样化
B. 经济重心南移最终完成
C. 资本主义萌芽开始出现
D. 海外贸易实际较为发达



40. 右图是《不扩散核武器条约》缔约国示意图，苏联、美国、英国等国于1968年7月1日签署了该条约。中国于1992年3月递交加入书。1995年5月，联合国召开缔约国大会，决定无限期延长该条约。这一条约的签订（ ）

- A. 基本上消除了核武器扩散的风险
- B. 改变了全球治理体制的基本规则
- C. 涵盖了全球大多国家和国际组织
- D. 是世界政治格局发展演变的产物



第二部分

本部分共两个大题，共40分。

1. (20分) 民族交融·民族认同

材料一 在古代历史中，“中国”一词常指居于中原地区的汉族政权，往往成为长城以南中原王朝政权的代称，如汉司马迁“自三代以来，匈奴常为中国患害”。辽宋夏金政权并立时期，随着辽金等政权的兴起，这些少数民族统治者多以“中国之主”自居，辽金王朝内部的汉族知识分子多以本朝为“中国”，如辽代的刘辉就在其奏折中以辽为“中国”，称“西边诸蕃为患，士卒远戍，中国之民疲于飞挽”。金代的统治者更是频频以“中国”自居。金海陵王时，太后就曾以“兴兵涉江、淮伐宋，疲弊中国”为由劝谏海陵王停止征战。辽金王朝的统治者自称“中国”，将传统意义上的“中国”扩大到辽金统治之下的东北和西北地区，汉族与契丹、女真、蒙古等诸多民族生活在一起。“中国”一词成为少数民族与汉族共有的政治符号，成为统一多民族国家的代名词。

——摘编自郑炜、崔明德《辽金时期民族关系思想的发展与中华民族多元一体格局的形成》

- (1) 与前代相比，辽金时期“中国”一词的内涵发生了怎样变化？结合所学知识分析这种变化产生的影响。(12分)

材料二

①（北魏孝文）帝雅好读书，手不释卷。《五经》之义，览之便讲，学不师受，探其精奥。善谈《左》《老》，尤精释义。诗赋铭颂，任兴而作。有大文笔，马上口授，及其成也，不改一字。

——摘自《魏书·高祖纪》

②（唐太宗认为）自古皆贵中华，贱夷、狄，朕独爱之如一，故其种落皆依朕如父母。

——摘自《资治通鉴》

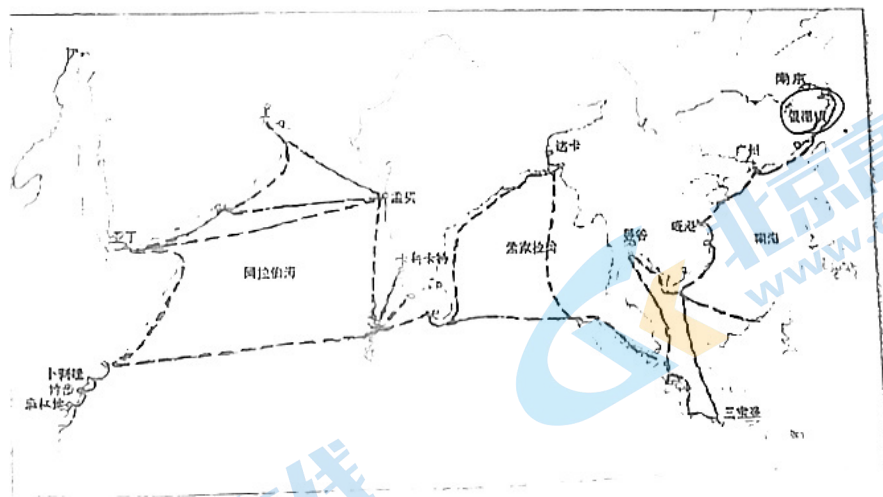
③康熙二十二年（1683年）在对喀尔喀土谢图汗、车臣汗的诏书中称：“朕视天下为一体，率土之人，靡不抚恤。”1685年，在对议政王大臣的诏书中称：“今海内一统，寰宇宁谧，满汉人民，俱同一体。”1704年，在对大学士的上谕中称：“朕于满洲、蒙古、汉军、汉人，视同一体。”“顾念长治久安，务在因俗宜民。”

——摘自《清实录·圣祖仁皇帝实录》

（2）从上表所列三位历史人物中任选其一，依据材料二并结合所学的具体史实，围绕“民族认同与中华民族共同体”这一主题说明他作出的贡献。（8分）

42. 景德镇瓷器（20分）

材料一



海上陶瓷之路示意图

明清时期，景德镇不但是中国，而且是世界的制瓷中心，生产大量精美的青花瓷、五彩瓷、克拉克瓷等，并能够设计各种不同的装饰图案适应国外的市场需求。明清时期朝贡贸易密切，永乐二十一年各国使臣和商人到南京的一次就有1200多人，这些使臣回国都购买大批瓷器。郑和的船队不仅带回了永、宣青臣和商人到南京的一次就有1200多人，这些使臣回国都购买大批瓷器。郑和的船队不仅带回了永、宣青花瓷赖以形成特色的进口青料——“苏麻离青”，同时也开拓了庞大的海外市场。当时景德镇的十里长街店铺多达1221家，其中70%以上是徽商开设的。1602—1644年，荷兰东印度公司贩运到东南亚的中国瓷器，总数就达到420万件以上，多数是景德镇瓷器。

——摘编自孙文伟、孙天健《明代瓷器成就及其社会原因》等

（1）依据材料，概括明清时期景德镇瓷业发展特点，并结合所学分析原因。（12分）

材料二 17 世纪以前，欧洲时常爆发流行病，食物霉变是重要原因，劣质餐具是罪魁祸首。中国瓷器密封性能好，不利于病菌的粘附和繁殖。景德镇的瓷质茶具、咖啡具、巧克力杯大量出现，丰富了饮品器皿，改变了人们的生活方式，推动了欧洲饮食文化的发展。文艺复兴时期，景德镇陶瓷以洁净的胎体配以动人的纹饰，展示王公贵族或富商巨贾纵情现世的享乐，对世俗生活具有潜移默化的影响。18 世纪欧洲还盛行用景德镇青花瓷作为镜框，用瓷板镶嵌桌椅，甚至墙壁、天花板、窗户的凹处都用陶瓷镶嵌。欧洲王公显贵竞相陈列收藏中国瓷器。景德镇瓷器明快、秀丽、严谨、精巧的艺术风格，给沉闷的欧洲艺术吹来了一阵清凉的东风，形成了洛可可艺术。

——唐嘉、袁胜根、胡伟《明清时期景德镇瓷器在欧洲文明进程中的作用》

(2) 依据材料并结合所学，简述中国瓷器在欧洲文明进步方面产生的影响。(8 分)

关于我们

北京高考在线创办于 2014 年，隶属于北京太星网络科技有限公司，是北京地区极具影响力的中学升学服务平台。主营业务涵盖：北京新高考、高中生涯规划、志愿填报、强基计划、综合评价招生和学科竞赛等。

北京高考在线旗下拥有网站门户、微信公众平台等全媒体矩阵生态平台。平台活跃用户 50W+，网站年度流量数千万量级。用户群体立足于北京，辐射全国 31 省市。

北京高考在线平台一直秉承“精益求精、专业严谨”的建设理念，不断探索“K12 教育+互联网+大数据”的运营模式，尝试基于大数据理论为广大中学和家长提供新鲜的高考资讯、专业的高考政策解读、科学的升学规划等，为广大高校、中学和教科研单位提供“衔接和桥梁纽带”作用。

平台自创办以来，为众多重点大学发现和推荐优秀生源，和北京近百所中学达成合作关系，累计举办线上线下升学公益讲座数千场，帮助数十万考生顺利通过考入理想大学，在家长、考生、中学和社会各界具有广泛的口碑影响力

未来，北京高考在线平台将立足于北京新高考改革，基于对北京高考政策研究及北京高校资源优势，更好的服务全国高中家长和学生。

推荐大家关注北京高考在线网站官方微信公众号：**京考一点通**，我们会持续为大家整理分享最新的高中升学资讯、政策解读、热门试题答案、招生通知等内容！

