

# 高三地理

2022. 04

本试卷共 8 页，100 分。考试时长 90 分钟。考生务必将答案答在答题卡上，在试卷上作答无效。考试结束后，将本试卷和答题卡一并交回。

## 第一部分 选择题（共 45 分）

下列各小题均有四个选项，其中只有一项是符合题意要求的。请将所选答案前的字母，按规定要求填涂在答题卡第 1~15 题的相应位置上（每小题 3 分，选对一项得 3 分，多选则该小题不得分）。

根河市位于构造断陷盆地中，年平均降水量为 438 毫米，森林覆盖率高，空气洁净。该市冬季持续时间超过 250 天，年平均气温为  $-3.5^{\circ}\text{C}$ ，被国家气象局认定为中国“冷极”，但该市东南部的根河上有多条数十米至 200 米左右的不冻河段。当地常出现冰雾（极寒天气下因水汽凝华而造成能见度下降的现象），持续时间久，不易散失。读图 1，完成第 1~3 题。

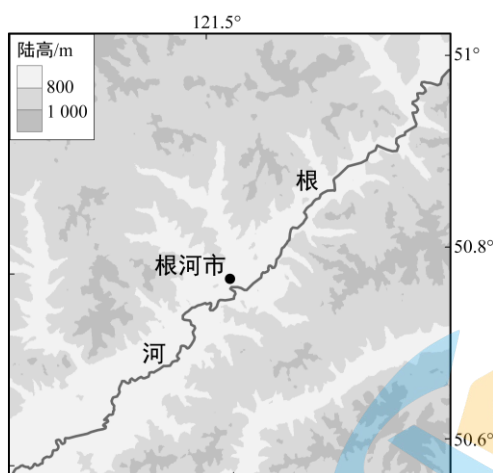


图 1

1. 根河市成为中国“冷极”的主要原因是

①纬度较高，太阳高度小

②夏季短促，有极夜现象

③海拔较高，热量较少

④河水蒸发，吸收热量

A. ①②③

B. ①②④

C. ①③④

D. ②③④

2. 根河出现多条不冻河段的主要原因是

A. 地势较低平，气温较高

B. 河流流速快，不易冻结

C. 河水深度大，热容量大

D. 河床有热泉，局部增温

3. 根河市冰雾不易散失的直接原因是

A. 降水丰沛

B. 可吸入颗粒物较多

C. 风力较小

D. 工业废气排放较多

图 2 为北京市某中学地理小组用木杆测量一日内太阳高度变化时绘制的木杆影长变化示意图。读图，完成第 4 题。




图 2

4. 当日所处时段可能是

- A. 立春—惊蛰
- B. 芒种—小暑
- C. 寒露—霜降
- D. 大雪—小寒

图 3 为我国四座大城市由城市中心区向外的步行等时线分布示意图（单位：分钟）。读图，完成第 5 题。

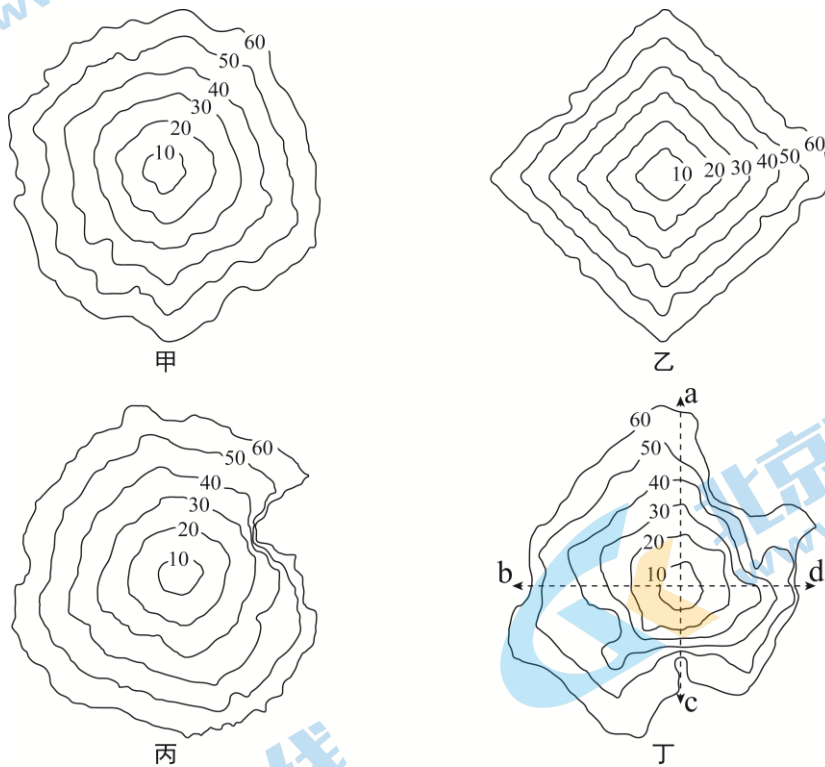


图 3

5. 据图推断

- A. 甲城市的道路布局具有良好的可达性
- B. 乙城市主干道自城中心呈放射状延展
- C. 丙城市地形崎岖，自然地理屏障较多
- D. 丁城市有河流自南向北穿过城中心区

6. 在丁城市的 a~d 四个方向中，步行可达性最优的是

- A. a
- B. b
- C. c
- D. d

读图 4，完成第 7~9 题。

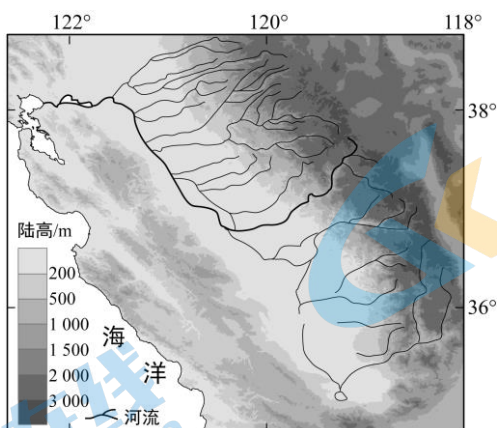


图 4

7. 图中平原形成的主要内力作用过程是
- A. 美洲板块与非洲板块挤压，地层俯冲隆起
  - B. 美洲板块与亚欧板块张裂，地层褶皱凹陷
  - C. 南极洲板块与美洲板块张裂，地层水平错断
  - D. 太平洋板块与美洲板块挤压，地层断裂陷落

8. 平原北部河流密度高于南部的的主要原因

- ①受中纬西风影响大，且蒸发较弱
- ②地势更为低平，多地表径流汇集
- ③受寒流影响大，水汽来源较充足
- ④与海湾相连，海水倒灌补充水源

- A. ①②
- B. ①③
- C. ②④
- D. ③④

9. 该地盛产果蔬，其有利的气候条件有

- A. 全年热量充足，冬季不结霜
- B. 降水总量丰沛，全年湿度大
- C. 风沙灾害较少，无大风天气
- D. 夏季光照充足，昼夜温差大

山东省境内有 10 座黄河大桥和 54 座黄河浮桥。浮桥指用船或浮箱代替桥墩，浮在水面的桥梁。浮桥需根据水情变化在一年中进行多次拆解和安装。图 5 为浮桥景观。据此完成第 10~12 题。



图 5

10. 相比水运, 公路桥梁运输的优点有

- A. 运输速度快, 安全性高
- B. 单位运输成本低, 连续性强
- C. 能源消耗大, 灵活性强
- D. 线路建设投资小, 运输量大

11. 相比建造黄河大桥, 架设黄河浮桥的优势有

- ①架设周期短
  - ②科技含量高
  - ③运营时间长
  - ④施工成本低
- A. ①③      B. ①④      C. ②③      D. ②④

12. 拆解浮桥主要发生在

- ①汛期即将来临前
  - ②出现流凌或者凌汛现象时
  - ③流量流速稳定时
  - ④上游水库即将调水调沙前
- A. ①②③      B. ①②④      C. ①③④      D. ②③④

武功山位于江西省中西部, 呈东北—西南走向, 植被种类丰富, 自然植被保存较好。武功山云海蔚为壮观, 云海的形成高度与对流强弱有关。图6为武功山南北坡植被垂直带谱示意图, 图7为武功山云海景观。据此完成第13~15题。

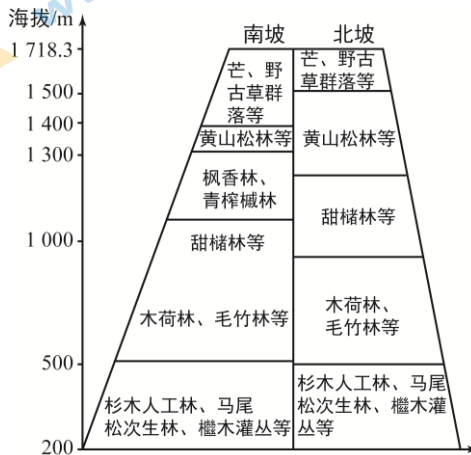


图6



图7

13. 武功山植被种类较丰富的自然原因有

- ①人类活动干扰少
  - ②山体高差较大
  - ③夏季有冰川融水
  - ④水热资源丰富
- A. ①③      B. ①④      C. ②③      D. ②④

14. 武功山南坡森林分布上界低于北坡的主要原因是

- A. 夏季风的迎风坡, 降水较丰沛
- B. 日照时间长, 光照和热量丰富
- C. 蒸发强烈, 土壤水分含量较小
- D. 地形和缓, 森林生长空间充足

15. 武功山云海的壮观景象多出现在

- ①2月至4月
  - ②5月至7月
  - ③8月至10月
  - ④11月至次年1月
- A. ①②      B. ①④      C. ②③      D. ③④



## 第二部分 非选择题（共 55 分）

16. 青海省玉树藏族自治州囊谦县有丰富的矿产资源。当地已发现盐泉 29 处，其中 8 处建为盐场，自古以来采用传统的晒盐法制盐。该县目前常住人口约 9 万人。图 8 为囊谦地区盐泉形成过程示意图。阅读图文材料，回答下列问题。（13 分）

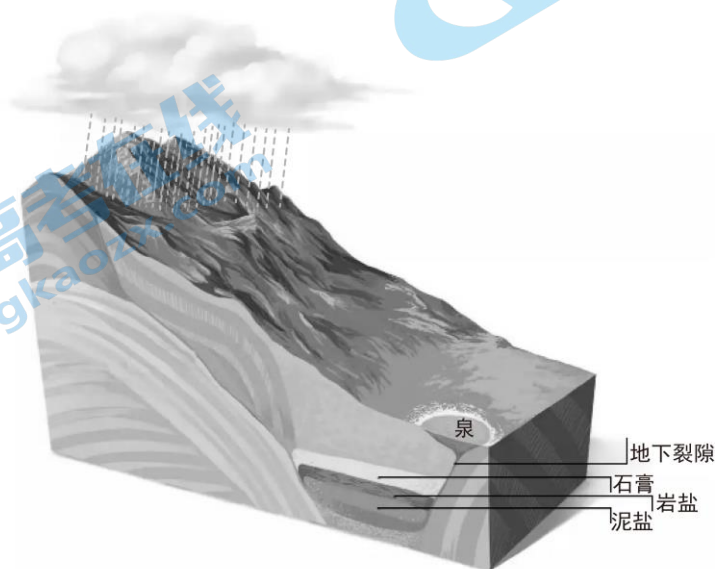


图 8

(1) 运用水循环原理，绘制囊谦地区盐泉形成过程的结构图。（5 分）

数百年来，盐场生产的大部分食盐通过牛、马驮运至半径 300—500km 的范围内销售。随着交通条件改善，当地盐场销售市场萎缩，多个盐场出现经营困境，工人数量骤减，且以中老年人为主。

(2) 从社会经济角度，说明当地自古以来盐泉多但盐场少的主要原因。（4 分）

(3) 列举促进当地制盐业发展的合理化建议。（4 分）

17. 读图9，回答下列问题。(9分)

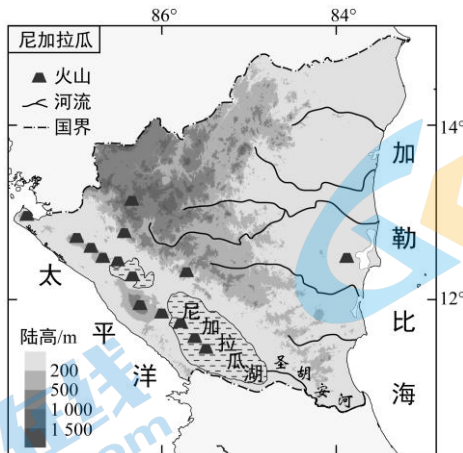


图9

(1) 描述尼加拉瓜的河流水系特征。(5分)

尼加拉瓜湖曾是太平洋伸进中美洲大陆的一个海湾，随着岁月流逝，封闭成湖，并由咸水湖逐渐变成淡水湖。

(2) 推测尼加拉瓜湖的形成过程。(4分)

18. 温宿县地处天山南麓，是新疆维吾尔自治区的水稻主产区之一。读图10，回答下列问题。

(15分)

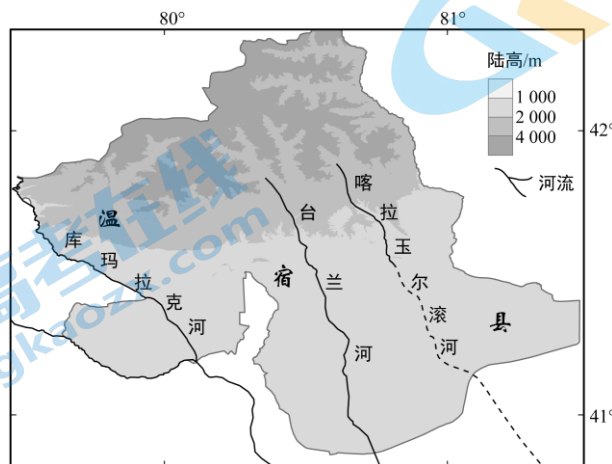


图10

(1) 评价温宿县种植水稻的自然条件。(6分)

温宿县改变秸秆焚烧或直接还田的方式,使用机械将秸秆收集打包用做生产饲料和有机肥等。

(2) 概述改变水稻秸秆利用方式可能产生的效益。(5分)

近年来,温宿县积极调整农业产业结构,除水稻、核桃、红枣和苹果种植外,坚持培育杏李、樱桃、梨、西梅和反季节蔬菜等高附加值的特色种植产业。

(3) 简述温宿县调整农业产业结构的意义。(4分)

19. 读图 11, 回答下列问题。(10分)

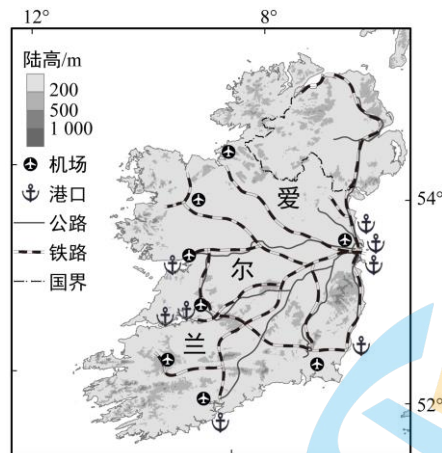


图 11

爱尔兰岛河网密布, 环境冷湿。

(1) 分析爱尔兰岛环境冷湿的主要成因。(5分)

历史上爱尔兰农牧业发达, 其天然生态草场约占全国总面积的 80%, 90%的奶制品用于出口, 多数被作为奶粉原料。乳畜业在该国国民经济中占有重要地位, 近半个多世纪以来, 伴随工业化不断推进, 当地乳畜业生产已实现高度自动化。

(2) 简述爱尔兰乳畜业发达的社会经济条件。(5分)

20. 某校学生到甘肃省庆阳市进行多能互补综合能源基地建设的研学考察活动。读图 12, 回答下列问题。(8 分)

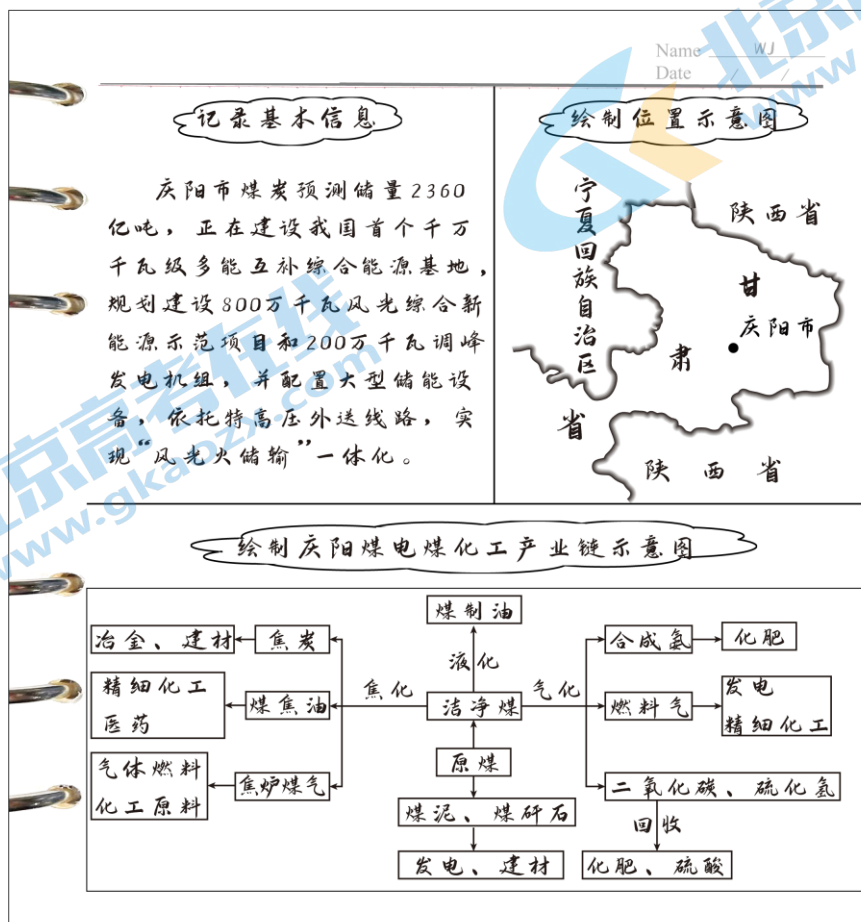


图 12

(1) 归纳庆阳市煤电煤化工产业的生产特点。(4 分)

(2) 说明庆阳市建设多能互补综合能源基地对国家能源安全的影响。(4 分)



## 2022 北京高三各区二模试题下载

北京高考资讯公众号搜集整理了【**2022 北京各区高三二模试题&答案**】，想要获取试题资料，关注公众号，点击菜单栏【**一模二模**】→【**二模试题**】，即可**免费获取**全部二模试题及答案，欢迎大家下载练习！

还有更多**二模成绩、排名、赋分**等信息，考后持续分享！



# 微信搜一搜

北京高考资讯

