

四川省 2020 级高中毕业班诊断性测试

文科综合能力测试

注意事项:

1. 答卷前, 考生务必将自己的姓名、准考证号填写在答题卡上。
2. 回答选择题时, 选出每小题答案后, 用铅笔把答题卡上对应题目的答案标号涂黑。如需改动, 用橡皮擦干净后, 再选涂其它答案标号。回答非选择题时, 将答案写在答题卡上。写在本试卷上无效。
3. 考试结束后, 仅将答题卡交回。

一、选择题: 本卷共 35 小题, 每小题 4 分, 共 140 分。在每小题给出的四个选项中, 只有一项是符合题目要求的。

S 公司是我国最大纵向一体化(从面料研发、设计、打样及生产等所有环节)针织服装代工企业, 主体生产基地位于浙江宁波, 在东南亚设有纺织厂。公司为多个国际知名运动品牌客户提供从设计研发、生产、保密等一条龙服务, 客户甚至直接将设计中心搬到了 S 公司的生产基地。目前 S 公司已成为国际知名运动品牌首选合作伙伴。据此完成 1~3 题。

1. 影响 S 公司在东南亚建纺织厂的主要区位因素是
A. 技术 B. 市场 C. 原材料 D. 劳动力
2. 成为国际知名运动品牌首选合作伙伴, 是因为 S 公司产品
①样式种类多 ②生产耗时短 ③品质优良 ④抗风险能力强
A. ①②③ B. ①③④ C. ②③④ D. ①②④
3. 客户将设计中心搬到 S 公司生产基地, 主要是为了
A. 提高设计水平 B. 加强信息交流 C. 降低营销成本 D. 扩大生产规模

农业生产托管服务在不改变农地经营权的基础上, 农户将生产作业委托给专业的托管组织经营, 托管组织代替农户完成部分或全程的农业生产作业。调查发现, 受劳动力数量、受教育程度、种植面积、家庭收入等因素影响, 新疆玉米种植户的农业生产托管采用率偏低。图 1 示意农业生产托管对农户福利的影响机制。据此完成 4~6 题。

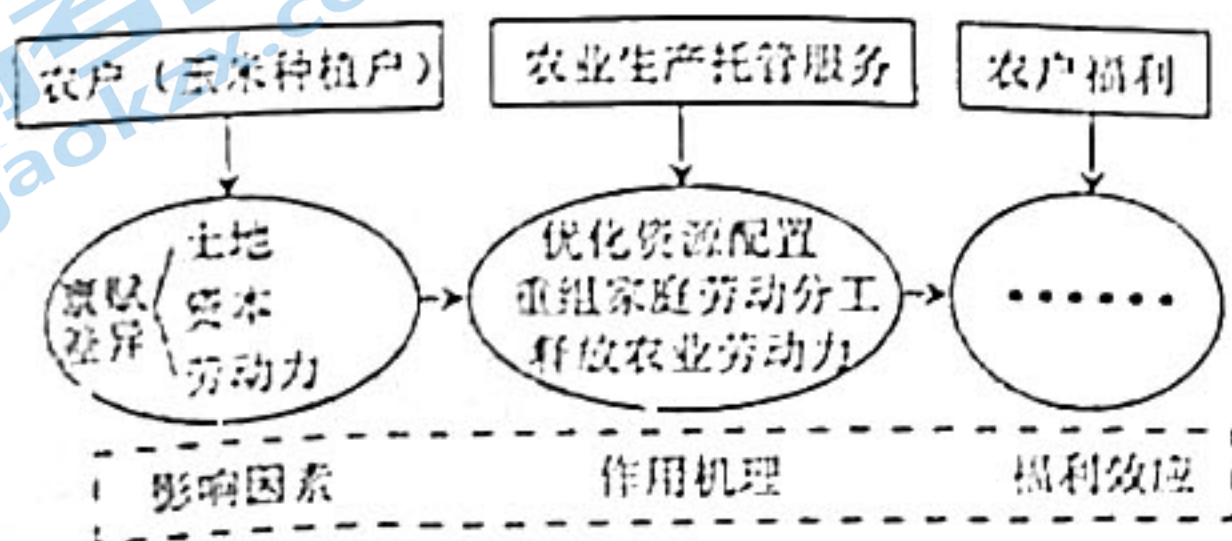


图 1

4. 农业生产托管给新疆玉米种植户家庭带来的福利可能是
 A. 玉米品质提高 B. 非农报酬增加 C. 劳动技能提升 D. 生活成本降低
5. 新疆地区玉米种植户的农业生产托管采用率偏低的主要原因是
 A. 家庭收入高 B. 劳动力数量多 C. 受教育年限短 D. 耕地面积小
6. 提升新疆地区玉米种植户的农业生产托管采用率的有效途径有
 ①加大对农业生产托管多样化宣传 ②降低农业生产托管的交易成本
 ③制定统一的农业生产托管服务“套餐” ④增加农户耕地面积
 A. ①② B. ②③ C. ①③ D. ③④

图2示意上海市7月某日的一次天气过程。据此完成7~9题。

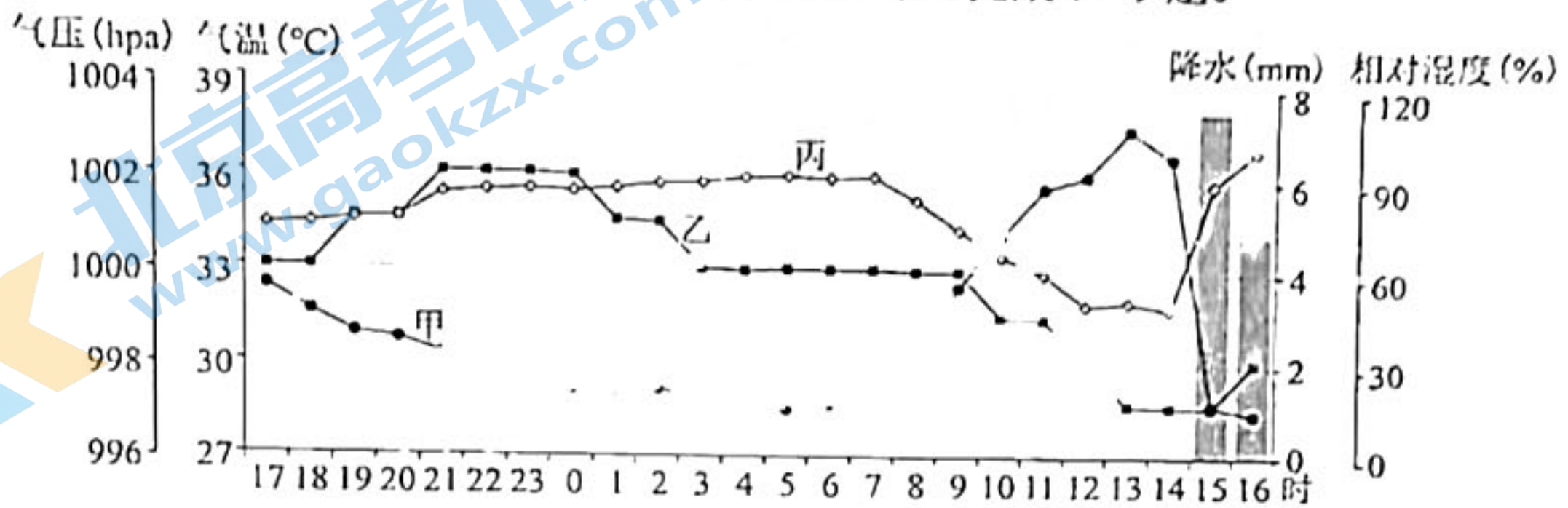


图2

7. 图中曲线代表的含义是
 A. 甲—气温，乙—气压，丙—相对湿度 B. 甲—相对湿度，乙—气压，丙—气温
 C. 甲—气温，乙—相对湿度，丙—气压 D. 甲—相对湿度，乙—气温，丙—气压
8. 此次降水类型最有可能是
 A. 地形雨 B. 锋面雨 C. 台风雨 D. 对流雨
9. 15时—16时曲线丙数值增大的主要原因是
 A. 气压降低 B. 气温降低 C. 水汽量增加 D. 太阳高度变大

丹霞地貌具有典型的“顶平、身陡、麓缓”的特征。图3示意我国东南部某丹霞地貌区植被分异模式。据此完成10~11题。

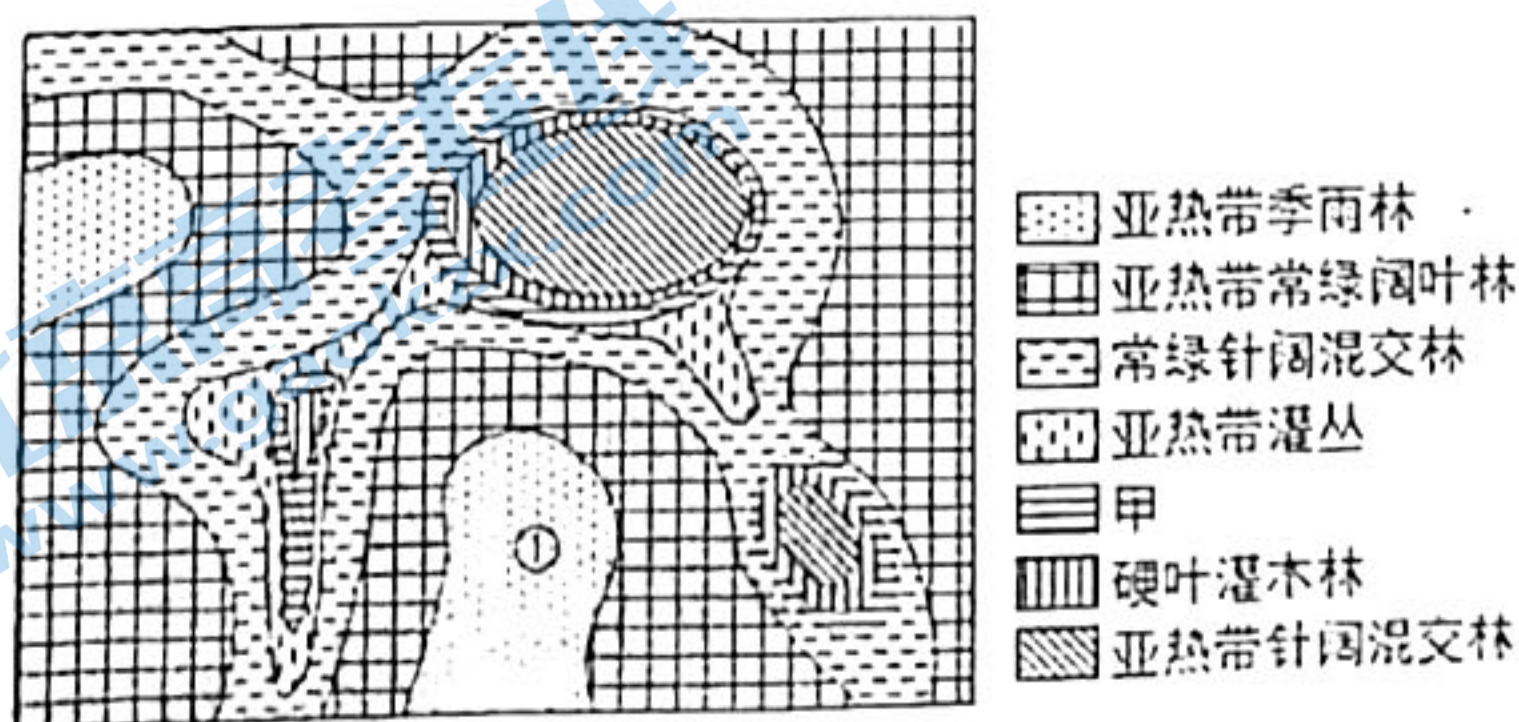


图3

10. 推测甲代表的植被类型是

A. 高山苔原

B. 硬叶林

C. 旱生灌丛

D. 山地草原

11. 影响①处植被类型的主导因素是

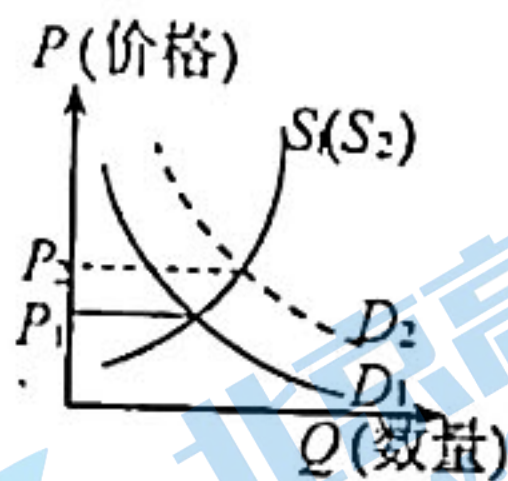
A. 地形

B. 纬度位置

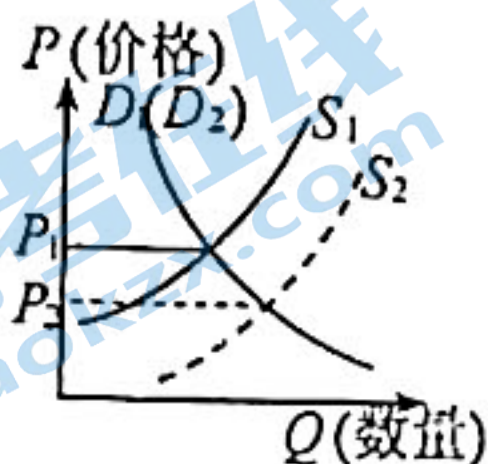
C. 季风环流

D. 海陆位置

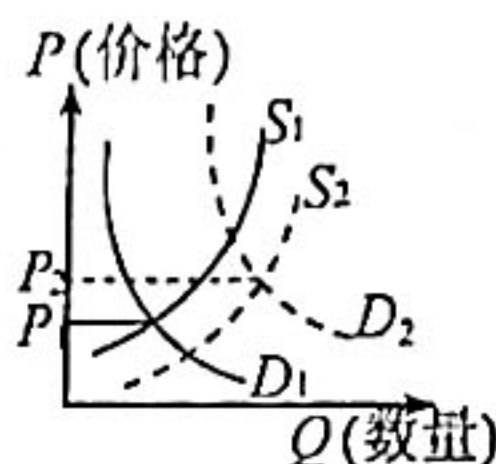
12. 2023年1月8日, 随着我国对新冠病毒感染正式实施“乙类乙管”, 旅游业全面复苏号角吹响, 春节假期出行需求大幅增加。有数据显示, 1月1日至8日, 春节出行的国内长线度假旅游产品丰富、咨询量同比上涨近20倍, “量价齐飞”势头明显。在其他因素不变的情况下, 能正确反映这一变化的图示是



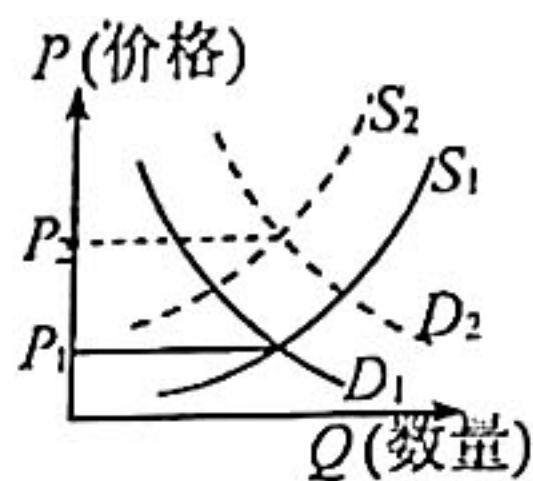
A.



B.



C.



D.

13. 2022年12月5日, 中国人民银行下调金融机构存款准备金率0.25个百分点, 共计释放长期资金约5000亿元, 这是央行年内第二次降准。关于央行降准的影响, 下列推导正确的是

①降低存款准备金率→货币信贷总量增加→投资规模扩大→提振市场信心

②降低存款准备金率→企业融资成本下降→刺激社会供给→抑制通货膨胀

③降低存款准备金率→金融机构资金增加→服务能力提升→支持实体经济

④降低存款准备金率→居民储蓄意愿降低→刺激居民消费→拉动经济增长

A. ①③

B. ①④

C. ②③

D. ②④

14. 某村依托茶树资源, 积极探索“三社”融合发展: 农民专业合作社组织村民种植、采摘、加工茶叶; 基层供销社负责收购, 通过“线上+线下”的方式销售; 村股份经济合作社进行资产管理和收益分配, 并协调处理村内生态环境问题。如今, 该村茶产业发展如火如荼, 吸引了不少游客前来“打卡”。“三社”融合发展能

①促进产业融合发展, 以产业振兴推动乡村振兴

②实现优势互补, 推动各种所有制经济共同发展

③发展壮大村级集体经济, 激发乡村的内生动力

④引入竞争机制, 促进资源在城乡之间高效配置

A. ①②

B. ①③

C. ②④

D. ③④

15. 近年来,我国跨境电商进出口规模持续快速增长,成为最具发展活力和潜力空间的贸易新业态。数据显示,2022年上半年我国跨境电商市场规模达7.1万亿元,占我国货物贸易进出口总值的35.85%。我国大力促进跨境电商发展旨在

- ①释放国内供应链的生产力,保持国际收支平衡
- ②建设更高水平的开放型经济,构建新发展格局
- ③优化营商环境,提高投资的自由化便利化水平
- ④深度融入经济全球化,促进产业结构优化升级

A. ①③

B. ①④

C. ②③

D. ②④

16. 某镇积极探索“人大代表+网格”工作机制,将82名区、镇人大代表融入14个微网格。人大代表们对于网格内经济发展、民生保障等常态工作,开展专题调研,以建议形式提交镇政府办理落实;对矛盾纠纷、社会稳定事项进行分析研判,并开展有针对性化解处理程序。这一工作机制

- ①通过完善基层行政管理体制,实现了共建共治共享
- ②改进监察方式,提升了政府决策的科学性和民主性
- ③是“人民选我当代表,我当代表为人民”的生动实践
- ④拓宽了人大代表履职平台,助力基层治理能力提升

A. ①②

B. ①③

C. ②④

D. ③④

17. 2022年是中国共产党明确提出统一战线政策100周年。习近平总书记在中央统战会议上强调,“统战工作的本质要求是大团结大联合,解决的就是人心和力量问题。”做好新时代统战工作,需要

- ①将铸牢中华民族共同体意识作为党的民族工作的主线
- ②完善我国的政党制度,加强党对民主党派的思想领导
- ③坚持我国宗教中国化方向,引导宗教与社会主义相适应
- ④政协围绕团结和民主两大主题,履行好参政议政的职责

A. ①②

B. ①④

C. ②③

D. ③④

18. 党的二十大报告指出,要推动构建新型国际关系,深化拓展平等、开放、合作的全球伙伴关系,致力于扩大同各国利益的汇合点。这是基于

- ①竞争、合作与冲突是国际关系的基本形式
- ②当前国际形势急剧变化,各国命运紧密相连
- ③中国坚持多边主义,参与全球治理体系建设
- ④构建新型国际关系是世界各国共同的战略目标

A. ①③

B. ①④

C. ②③

D. ②④

19. 近年来, 火出圈的地方博物馆文创产品呈现销售热潮, 甘肃省博物馆的“马踏飞燕”玩偶、河南博物院的考古盲盒、湖北博物馆的越王勾践剑U盘、三星堆博物馆的川蜀麻将摆件等等, 让大批年轻人直呼“上头”。这说明

- ① 文化创新以满足个性化的文化需求为目的
- ② 文创盘活文化遗产, 增强国人的文化自信
- ③ 文创产品是传播传承中华文化的重要载体
- ④ 反映时代精神是文创产品的根本价值追求

A. ①③ B. ①④ C. ②③ D. ②④

20. 由中央宣传部、中央文明办等机构联合主办的“我们的中国梦——文化进万家”活动于2023年1月1日正式启动, 本次活动将依托各类基层文化阵地开展惠民文化服务项目, 内容上与传承中华优秀传统文化、推进乡村全面振兴、文化遗产保护、新时代文明实践活动等紧密结合。开展这一活动

- ① 是培育和践行社会主义核心价值观的重要举措
- ② 有利于发展文化产业, 保障人民基本文化权益
- ③ 旨在弘扬科学精神, 不断提高公民的科学素养
- ④ 能够为奋进新时代新征程提供强大的精神力量

A. ①③ B. ①④ C. ②③ D. ②④

21. 下列选项中与图4漫画的哲学寓意最相符合的是

- A. 思维与存在具有同一性
- B. 人们对事物的评价受到主观因素的制约
- C. 客观事物的复杂性决定了认识的差异性
- D. 只有发挥主观能动性才能把握事物本质



图4 作者: 张砚均

22. 某市湿地资源丰富, 但早些年因围湖造田、房地产开发, 导致湖泊严重萎缩, 破坏了湿地的生态系统。近年来, 该市践行生态文明理念, 探索出“立法在先、全局规划、智慧管理、多方联动”的治理经验, 获得了“国际湿地城市”的殊荣。该市的转型发展表明

- ① 人的认识是主观与客观具体的历史的统一
- ② 发展的本质是新事物对旧事物的辩证否定
- ③ 实践基础上的理论创新是社会发展的根本动力
- ④ 运用综合思维认识和处理问题能促进系统优化

A. ①③ B. ①④ C. ②③ D. ②④

23. 习近平主席在二〇二二年新年贺词中强调：“青年兴则国家兴，中国发展要靠广大青年挺膺担当。”北京冬奥会志愿者用青春和奉献提供了暖心的服务；一大批青年骨干挑起中国空间站“T”字构型研制的大梁；平均年龄只有22岁的中国小匠在世界技能大赛上收获优异成绩……青春风采已成为奋进中国的一道道风景，这启示我们

- ①个人发展要与祖国前途命运紧密结合
- ②要在不懈奋斗和奉献中创造精彩人生
- ③坚定理想信念是青年成长、发展的前提
- ④培养卓越才能是实现人生价值的根本途径

A. ①② B. ①④ C. ②③ D. ③④

24. 老子认为人对事物的欲望越多，就越不自由。孔子自述一生自我修养的经过，“吾十有五而志于学，三十而立，四十而不惑，五十而知天命，六十而耳顺，七十而从心所欲不逾矩”。这反映出，当时他们

- A. 具有朴素辩证法思想
- B. 强调个体的生命价值
- C. 恢复三代的政治制度
- D. 代表新兴地主阶级要求

25. 唐初，三省长官每日上午在政事堂共商国家大事，午后各归本省处理本职工作。玄宗时政事堂更名“中书门下”，宰相基本专职化，“不归本司”。宰相会议所做决策以文字形成“中书门下奏状”，报皇帝批准，付外执行。这一变化

- A. 强化了三省权力
- B. 加强了权力监督
- C. 扩大了统治基础
- D. 规范了决策程序

26. 图5是西夏的榆林石窟壁画《唐僧取经图》。据考证，该画根据唐玄奘途经瓜州（今甘肃境内）时的真实故事绘制而成。孙悟空的原型是帮助玄奘偷渡玉门关的胡人石槃陀，老马则是瓜州人送给他的坐骑。这一壁画

- A. 完整地还原了历史真相
- B. 印证当时中西陆路盛行
- C. 反映民族交融的趋势
- D. 源自《西游记》素材



图5

27. 清朝政府规定各地地方官员必须收集粮价，并建立了全国性的粮价奏报系统，以全面掌握各地的粮价动态，对于奏报不及时或者奏报不实的官员，皇帝经常进行追查，有的被严加议处。这旨在

- A. 关注民生以切实救灾
- B. 统一全国各地粮食价格
- C. 促进各地商品的流通
- D. 督察官员对皇帝的忠诚

关于我们

北京高考在线创办于 2014 年，隶属于北京太星网络科技有限公司，是北京地区极具影响力的中学升学服务平台。主营业务涵盖：北京新高考、高中生涯规划、志愿填报、强基计划、综合评价招生和学科竞赛等。

北京高考在线旗下拥有网站门户、微信公众平台等全媒体矩阵生态平台。平台活跃用户 40W+，网站年度流量数千万量级。用户群体立足于北京，辐射全国 31 省市。

北京高考在线平台一直秉承 “精益求精、专业严谨” 的建设理念，不断探索 “K12 教育+互联网+大数据” 的运营模式，尝试基于大数据理论为广大中学和家长提供新鲜的高考资讯、专业的高考政策解读、科学的升学规划等，为广大高校、中学和教科研单位提供 “衔接和桥梁纽带” 作用。

平台自创办以来，为众多重点大学发现和推荐优秀生源，和北京近百所中学达成合作关系，累计举办线上线下升学公益讲座数百场，帮助数十万考生顺利通过考入理想大学，在家长、考生、中学和社会各界具有广泛的口碑影响力

未来，北京高考在线平台将立足于北京新高考改革，基于对北京高考政策研究及北京高校资源优势，更好的服务全国高中家长和学生。



微信搜一搜

北京高考资讯