

# 德阳市高中 2018 级“三诊”考试

## 文科综合试卷

说明:

1. 本试卷分为两卷,第 I 卷为选择题,第 II 卷为非选择题,共 14 页。
2. 考生作答时,须将答案答在各科答题卡上(答题注意事项见答题卡),在本试卷、草稿纸上答题无效。考试结束后,将答题卡交回。
3. 本试卷满分 300 分,150 分钟完卷。

### 第 I 卷 (选择题 共 140 分)

本卷共 35 小题,每小题 4 分,共计 140 分。在每小题列出的四个选项中,只有一项是最符合题目要求的。

图 1 为某国 1960-2020 年总人口变化统计。2020 年,该国人口密度约为 8.5 人/平方千米。近年来,该国国内人口迁移的主要方向是由东部人口稀少地区迁往西部人口密集地区。据此完成 1~3 题。

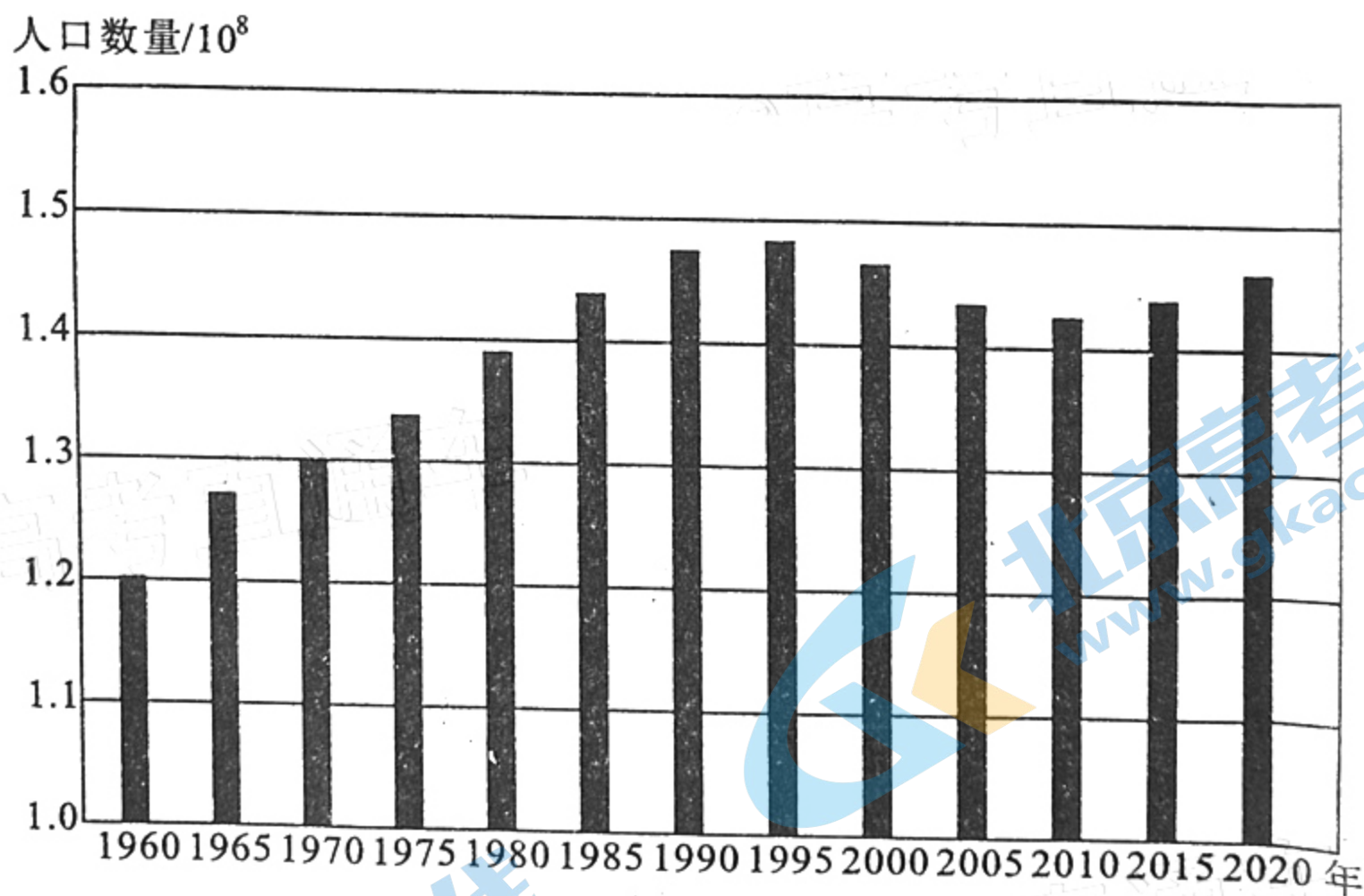


图1

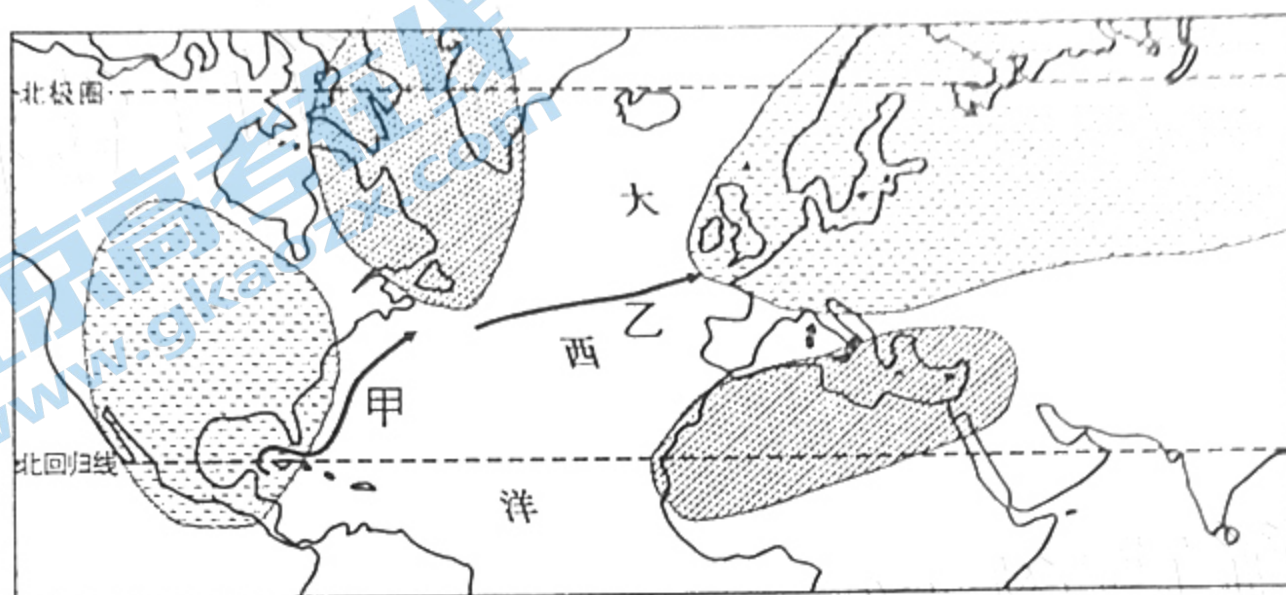
1. 2000 年以来,该国人口增长呈现出的特点是  
A. 高出生率,低死亡率  
B. 高出生率,低自然增长率  
C. 低出生率,高死亡率  
D. 低死亡率,低自然增长率
2. 据材料判断,该国属于  
A. 亚洲国家  
B. 欧洲国家  
C. 非洲国家  
D. 北美洲国家
3. 近年来,促使该国国内人口由东部迁往西部地区的主导因素是  
A. 就业  
B. 婚姻  
C. 战争  
D. 政策



南繁是指将水稻、玉米、棉花等作物的育种材料,在当地收获后拿到我国南方亚热带或热带地区进行繁殖和选育的方法。在长绒棉的育种工作中,新疆某农科所充分利用海南的独特自然环境,经过几十年的南繁北育,先后培育出多个长绒棉新品种,保障了新疆长绒棉的高产、稳产。据此完成4~5题。

4. 在海南南繁基地,繁育新疆长绒棉种子的最佳季节是  
 A. 春季                      B. 夏季                      C. 秋季                      D. 冬季
5. 海南与新疆的自然条件差别较大,长绒棉在海南生长最不利的自然条件是  
 A. 光照时间不足      B. 紫外辐射较强      C. 空气湿度较大      D. 土壤肥力较差

受大范围海洋和大气状况变化影响,图2所示区域某些年份气温和降水会出现异常。图2示为某年冬季该区域气温较常年的异常情况。据此完成6~8题。



图例 较冷区 较暖区 洋流

图2

6. 与常年同期相比,该年冬季甲、乙洋流势力  
 A. 都减弱                      B. 都增强                      C. 甲增强,乙减弱                      D. 甲减弱,乙增强
7. 该年冬季,欧洲北部大部分地区较常年同期  
 A. 气温高,降水多      B. 气温高,降水少      C. 气温低,降水多      D. 气温低,降水少
8. 图示区域该年冬季出现气温异常,与此密切关联的现象可能是北大西洋海区近地面气压  
 A. 南北差异偏大      B. 与高空差异偏大      C. 南北差异偏小      D. 与高空差异偏小

四川西部某自然灾害监测预报中心为监测某学校附近的一处山体滑坡,分别在学校内(基准点)和滑坡体顶部(监测点)安装了监测设备。图3为2014年8月至2015年9月以学校为基准点监测到的滑坡体位移数据。据此完成9~11题。

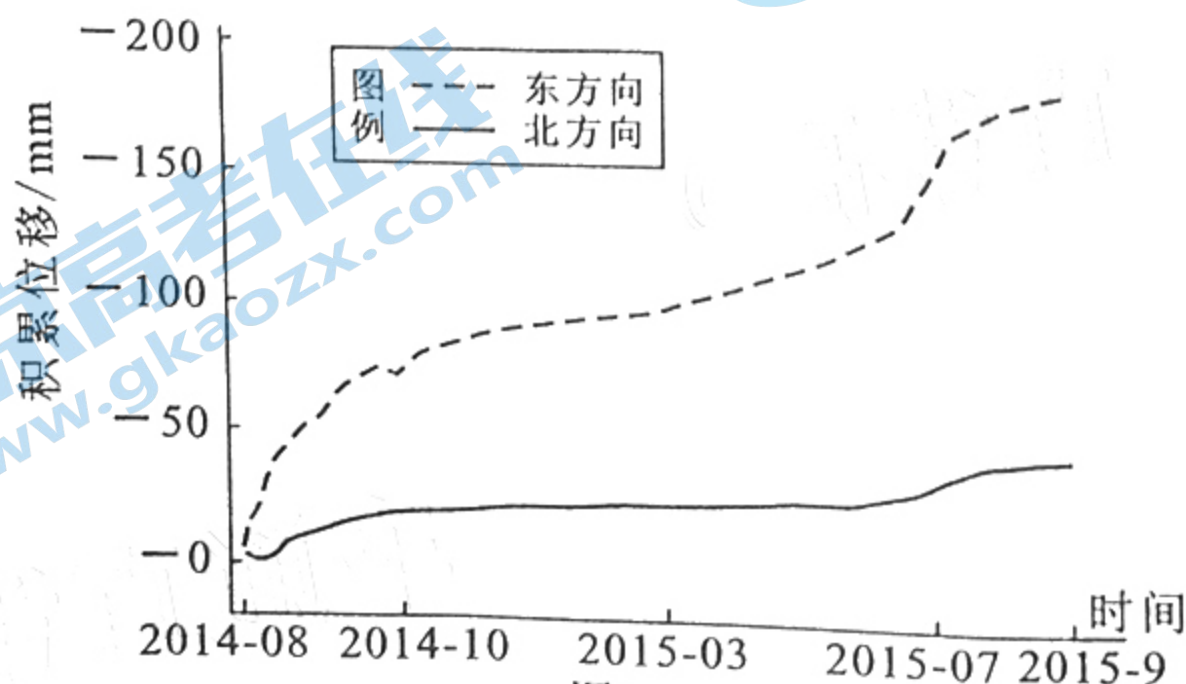


图3



9. 滑坡位移和实时速度检测主要依靠

A. GIS

B. GPS

C. RS

D. 数字地球

10. 该滑坡体的移动方向是

A. 西偏南

B. 南偏西

C. 东偏北

D. 北偏东

11. 推测导致该地滑坡位移速度变化的主要诱因是

A. 地震强度

B. 重力条件

C. 大气降水

D. 气温变化

12. 价格的变化会影响消费者是否购买以及购买多少的商品或服务,但不同商品或服务的需求弹性不同,这也会影响到企业的价格决策和生产经营的收益。不考虑其它因素,符合图4中商品a和b需求曲线的选项是

①a能够表示普通食用油,价格上涨生产者的经济效益会提高

②b能够表示贵金属首饰,采用降价销售有利于增加其销售量

③若a和b是替代品,b商品大幅提价可能导致a商品销量下降

④若a和b是互补品,a商品小幅提价可能导致b商品销量下降

A. ①③

B. ①④

C. ②③

D. ②④

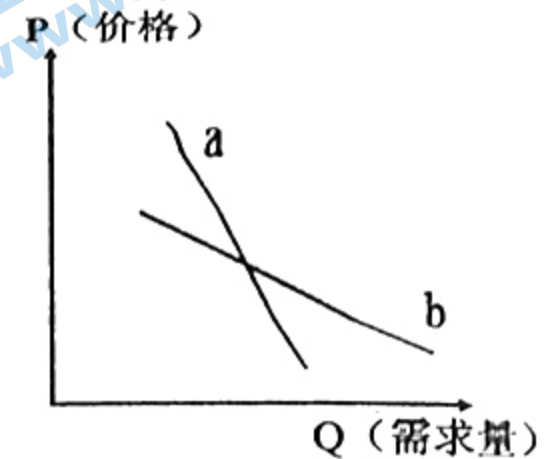


图4

13. 2021年春节史无前例地特殊,1亿人原地过年成“原年人”。2021年1月20日至2月18日,商务部会同中央网信办、工业和信息化部、市场监管总局、国家邮政局和中国消费者协会,共同指导地方和企业开展了“2021全国网上年货节”。年货节期间,全国网络零售额达9057.6亿元。网上年货节的开展

①为年货由商品到货币的跳跃搭建强有力平台

②为“原年人”提供了更加丰富的消费品选择

③创新了年货这一类商品市场价格的形成机制

④有利于推动居民由商品消费向服务消费转变

A. ①②

B. ①③

C. ②④

D. ③④

14. 按照“国家组织、联盟采购、平台操作”的工作机制,2020年11月5日,国家医保局组织了首次高值医用耗材冠脉支架集中带量采购。中选产品以中选价为支付标准,全额纳入医保支付范围。与2019年相比,相同企业的相同产品平均降价93%。对此次采购的冠脉支架大幅降价原因推断合理的是

①集中带量采购有利于把握议价主动权

②冠脉支架企业科技水平短期大幅提高

③国家对高值医用耗材实行合理的定价

④实现了有为政府和有效市场有机结合

A. ①②

B. ①④

C. ②③

D. ③④

15. 经国务院批准,自2021年1月1日起对883项商品(不含关税配额商品)实施进口暂定税率;自2021年7月1日起,取消9项信息技术产品进口暂定税率,包括降低国内亟需的高新技术设备及零部件、国内紧缺资源品以及部分优质原料等商品的进口关税。此举可能带来的积极影响为

A. 降低进口商品成本→扩大社会总需求→丰富国内消费市场→满足人民美好生活需要

B. 进口商品价格下降→倒逼国内企业转型→降低企业经营风险→提高企业国际竞争力

C. 增加信息技术进口→用好全球创新资源→提高高质量科技供给→推进高起点上创新

D. 扩大引进外资→促进投资自由化→实现国内国际市场联动→促进世界经济共同发展



2020年11月20日,德阳市荣膺“第六届全国文明城市”称号。自启动创建文明城市以来,市政府不断提升城市管理服务水平,解决群众关心的热点难点问题,8000余名干部职工走进街头巷尾开展文明劝导,23万余名群众自发加入创城志愿者队伍,人人参与、人人支持创建。“创国文”的成功离不开

- ①政府关注民生,坚持对人民负责的原则 ②政府履行职能,提高公共管理服务水平  
③推进协商民主,人人参与凝聚社会合力 ④发展基层民主,坚持基层群众自治制度

A. ①②

B. ①④

C. ②③

D. ③④

17. 国家主席习近平于2021年3月11日签署主席令,公布全国人大通过的关于修改《中华人民共和国全国人民代表大会组织法》的决定。该法增设的“总则”规定:全国人大及其常委会坚持中国共产党的领导,依法行使职权;全国人大常委会和各专门委员会、工作委员会应当同代表保持密切联系,听取代表意见建议,支持保障代表依法履职,扩大代表对各项工作的参与,充分发挥代表作用。这表明

- ①国家主席作为国家机关有权行使国家立法权  
②我国国家权力机关必须坚持中国共产党的领导  
③人大代表的职能得以扩大更好代表人民的权益  
④人民代表大会制度这一根本政治制度得以完善

A. ①②

B. ①③

C. ②④

D. ③④

18. 30年弹指一挥间,中国已成为联合国维和行动第二大出资国。中国维和部队参加联合国维和行动以来,严格遵循“当事国同意、中立、非自卫或履行授权不使用武力”的维和行动基本原则,出兵人数位列5个常任理事国之首,常年向维和行动提供2500多名维和军人。在世界的很多角落,都有中国维和军人在为和平争取机会,为生命赢得时间。这充分表明我国

- ①始终是维护国际秩序和世界和平的坚定力量  
②践行联合国宪章的宗旨原则并参与各项行动  
③坚定维护我国国家利益并走和平发展的道路  
④在积极参与全球治理中彰显大国责任与担当

A. ①②

B. ①④

C. ②③

D. ③④

19. 武,止戈为武,本义奔跑战斗,拥有消停战事、维护和平的实力。中国武术是中国劳动人民在长期的社会实践中不断积累和丰富起来的宝贵文化遗产,一直流传至今,包含了中国人对生命和宇宙的参悟。据此推断正确的是

- ①文化自信来自对时代发展潮流的深刻把握  
②中华文化源远流长显示出其特有的包容性  
③人们在实践中创造文化在生活中享用文化  
④中国人民有热爱和平的文化基因和价值追求

A. ①②

B. ①④

C. ②③

D. ③④

20. 2020年12月17日,我国的“太极拳”正式列入联合国教科文组织人类非物质文化遗产代表作名录。经过近400年的发展和流布,世代传承,习练者遍布全国各地,并在海外有着广泛传播和传承。太极拳申遗成功

- ①能推动太极拳运动的普及,促进世界文化交流与繁荣

- ②在北京走向世界,提升中华文化国际影响力

关注北京高考在线 [www.gkzx.com](http://www.gkzx.com) 北京高考资讯 (ID:bj-gaokao), 获取更多试题资料及排名分析信息。



③旨在丰富文化遗产时代内涵,展现世界文化的多样性

④得益于其悠久的历史价值,能够引领世界文化的发展

A. ①②

B. ①④

C. ②③

D. ③④

21. “你打你的、我打我的”也被毛泽东称之为“各打各的”。它的出发点就是“先打弱的、后打强的”,在运动中以歼灭敌人有生力量为主的作战原则,不受局部情况牵制因而摆脱被动。总之一句话,就是要“完全主动作战”。其中蕴含的哲学道理是

A. 非关键部分及其变化不会影响整体的功能

B. 具体问题具体分析是解决问题的根本方法

C. 立足整体统筹全局才能更好实现最优目标

D. 充分发挥部分作用就能实现整体最大功能

22. 2021年2月20日,习近平在学习党史教育动员大会上指出:在全党开展党史学习教育,是立足党的百年历史新起点、统筹中华民族伟大复兴战略全局和世界百年未有之大变局、为动员全党全国满怀信心投身全面建设社会主义现代化国家而作出的重大决策,是推动党的自我革命、永葆党生机活力的必然要求。从哲学上看,这是因为

①事物只有通过自我否定自我超越才能得到不断发展

②社会意识的发展决定于社会存在的发展并与其同步

③认识能够反作用于实践并指导和促进客观事物发展

④发挥主观能动性必须以尊重客观规律为前提和基础

A. ①②

B. ①④

C. ②③

D. ③④

23. “我们就是祖国的界碑,脚下的每一寸土地都是祖国的领土”“宁肯高原埋忠骨,绝不丢失一寸土”。戍边英烈们的事迹感动着每一个中国人。是他们不惜一切代价,用青春热血换来了我们的和平、团圆。英烈虽已逝去,精神永驻边关!这启示我们要

①提高个人素质,实现自我价值

②坚持价值引领,规定人生方向

③坚定理想信念,坚守使命担当

④崇尚崇高生活,凝聚人生价值

A. ①②

B. ①③

C. ②④

D. ③④

24. 战国中后期,秦国都城的宫殿面积大幅扩张,压倒了宗庙与市,与东方六国都城遵循周礼的城市布局形成了鲜明对比。据此可推知,当时秦国


A. 坊市制度趋向瓦解

B. 宗法观念遭到摒弃

C. 城市功能发生变化

D. 社会转型领先六国

25. 在图5中,水田里有几个农人在劳作,或犁地,或插秧,或收割。此图反映了当时



关注北京高考在线官方微信:北京高考资讯(ID:bj-gaokao),获取更多试题资料及排名分析信息。

图5 广东省佛山市东汉墓出土的水田模型



A. 农业生产经验受到重视

B. 北旱南稻格局已经形成

C. 铁犁牛耕技术得到推广

D. 小农生产模式普遍存在

26. 唐朝初年,唐高祖在京师聚集高僧,立十大德,同时尊奉老子为道祖,以道教为国教。然而在治国理政时,他却说“自古为政,莫不以学,则仁、义、礼、智、信五者俱备,故能为利博深。”据此可知,唐初

A. 佛道主导了政策的制定

B. 儒学政治生命力仍强大

C. 儒释道合流趋势的加强

D. 三教并行政策受到冲击

27. 给事中本来是言谏官,掌侍从规谏,无弹劾监察之职。宋朝之后,给事中开始拥有监察功能。明朝六科给事中职能进一步变化,转为监察官员,成为钳制六部的独立机构。给事中职能的变化

A. 推动了权力中枢的异化

B. 保证了中央决策的正确

C. 促进了监察程序的规范

D. 抑制了宰相权力的膨胀

28. 表1 1871~1894年上海港装卸出口棉花流向情况表

年份	装卸出口总数		对国内出口数		对国外出口数	
	千担	折合吨数	千担	折合吨数	千担	折合吨数
1871	526	31480.5	496	30024.5	30	1816
1872	418	25302.9	376	22760.5	42	2542.4
1878	320	19370.7	271	16404.5	49	2966.1
1883					28	1694.9
1894	930	56296.0	184	11138.1	746	45157.9

(资料来源:江海关 1871~1894 年关册)

表1 中的数据可以用来说明

A. 中国对棉纺织品的需求减少

B. 西方列强对华资本输出扩大

C. 近代中国民族工业发展艰难

D. 中国自然经济仍占主导地位

29. 中华民国建立后,陆军部下令将清朝各昭忠祠改建为大汉忠烈祠,汇集各省“尽忠民国死事诸烈,入祀其中,由本部派专员致奠,以后即由各执政春秋致奠。”这一做法的主要目的是

A. 否定传统的儒家价值观念

B. 强化民众对新政权的认同

C. 改变原有祠堂的社会功能

D. 宣传五族共和的建国理念

30. 1944年,中国共产党在提出组织联合政府的同时,设计了一套备用方案,即准备在联合政府方案遭拒绝时,单独成立解放区联合委员会。“它将是地方性的联合政权,不是第二中央政府,但同时,又因为国民党政府必不承认它,故又是独立性质的地方政权。”该备用方案的提出可以用来说明当时

A. 国共两党实力的消长  B. 统一战线政策的转变



~~C~~ 抗日战场形势的紧张

D. 国共作战方案的分歧

31. 1983年,中央电视台播出的纪录片《话说长江》以长江的自然风光和人文历史风貌为叙事对象,基本没有具体的人物和故事。而中央电视台在2004年播出的纪录片《再说长江》则将个人作为叙事对象,通过这些个人的故事来展现长江的魅力。这一变化反映出

~~A~~ 对外开放步伐的不断加快

~~B~~ 生态文明建设的重大成就

C. 个人价值得到更多的尊重

D. 人们的物质生活日益丰富

32. 据统计,公元前1世纪,罗马几乎所有部门的权力执掌者中至少有一人为平民,并且平民出身的官员在其中的人数至少占了一半,如在市政官的四人中,有两名平民,两名贵族。据此可知,当时罗马

~~A~~ 民主政治已成为民心所向

B. 贵族与平民政治上分庭抗礼

C. 自然法精神得到一定彰显

D. 万民法保障了平民的参政权

33. 路德认为上帝设立了两个王国:一个是属灵王国,即教会。在属灵王国,人是完全自由的;一个是俗世王国,即国家。在俗世王国,人是国王受管辖的。二者都是上帝的王国,但两者是完全独立的。路德此言论意在

A. 维护君主专制

B. 阐明国家与教会关系

~~C~~ 倡导信仰自由

~~D~~ 驳斥教权至上的观点

34. 1853年,《美国棉花种植者》杂志评论到:“迄今为止,美国的奴隶劳动给世界带来了,而且仍在带来难以估量的福祉。如果这种福祉想要持续下去,奴隶劳动也必须继续下去,因为说什么用自由劳动力为世界供应棉花根本就是无稽之谈。棉花从来不曾由自愿劳动力耕作成功过。”该评论

A. 反映了资本主义发展的潮流

B. 掩盖了资本剥削方式的罪恶

~~C~~ 展现了美国棉花种植的优势

~~D~~ 揭示了美国工业崛起的根源

35. 1960年,由亚非拉发展中国家组成的石油输出国组织(欧佩克)成立,成员国通过采取集体行动,干预被控制的世界石油市场,从中获取合理的利润。从1960-2019年,在欧佩克的推动下,石油价格上涨了15倍之多。欧佩克的行动

A. 使世界石油市场混乱失序

~~B~~ 确立了世界多极化格局

C. 冲击了旧的世界经济秩序

~~D~~ 推动全球化的深入发展



## 第Ⅱ卷(非选择题 共160分)

本卷包括必考题和选考题两部分。第36题~第41题为必考题,每个试题考生都必须作答。第43题~第46题为选考题,考生根据要求作答。

36. 阅读图文材料,完成下列要求。(24分)

Y家居公司成立之初为瑞典的一家乡村便利店。一直以来,Y公司秉承“提供种类繁多、美观实用、老百姓买得起的家居用品”的经营理念,充分考虑消费地的经济水平、文化背景,有计划地进行空间扩散。到2020年,Y公司的300多家商场遍布全球。1963年,Y公司进驻挪威,在其首都奥斯陆郊外开设了仓储式大卖场,这是该公司在瑞典以外开办的第一家商场。1998年至2020年间,Y公司在上海先后开设了5个卖场,第五家店是位于市中心黄金地段的迷你门店,Y公司将迷你门店定位为“家居规划工作室”,经营方式线上线下结合,有专业设计师提供装修设计,顾客也可以DIY定制家具,顾客先体验后下单,门店送货上门。图6是瑞典和挪威部分区域略图。

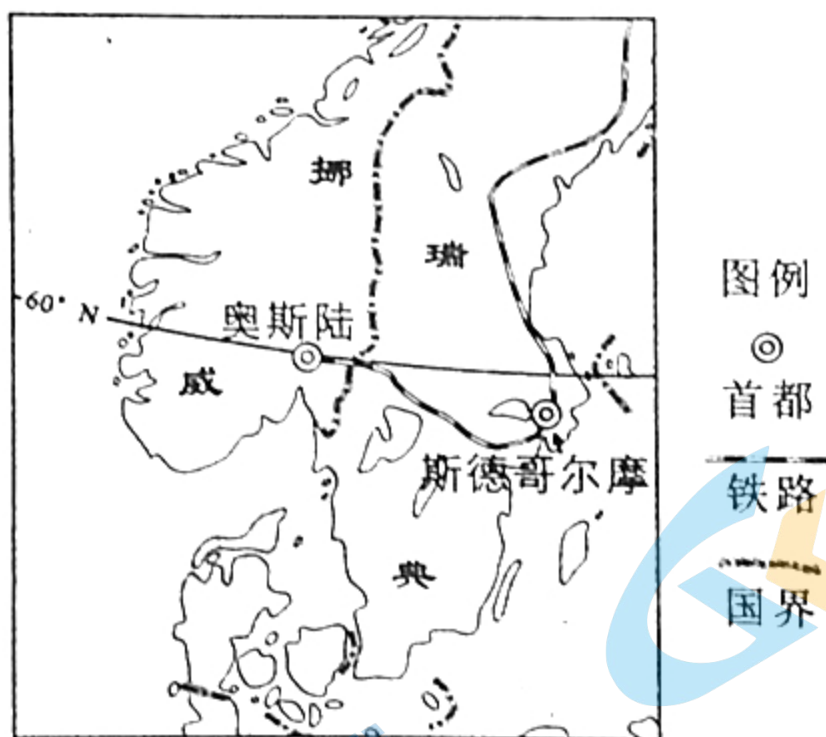


图6

- (1) 据材料指出挪威成为Y公司海外扩散第一站的优势条件。(6分)
- (2) 分析Y公司大型商场选址奥斯陆郊外的合理性。(6分)
- (3) 分析Y公司在上海市中心开设“迷你门店”的原因。(6分)
- (4) 简述Y公司空间扩散模式对我国家具跨国企业“走出去”的借鉴意义。(6分)

关注北京高考在线官方微信: [北京高考资讯\(ID:bj-gaokao\)](#), 获取更多试题资料及排名分析信息。



37. 阅读图文材料,完成下列要求。(22分)

季节冻土是指土壤因季节变化造成温度在 $0^{\circ}\text{C}$ 上下波动而出现冻结和融化的现象。研究发现,土壤最大冻结深度和冻结日数与当地积雪覆盖厚度、历时相关性强,和植被覆盖度、腐殖质厚度呈负相关。图7示意我国新疆伊犁季节冻土地区5个主要站点土壤冻结最大深度,其中M、N站点的自然植被分布为温带荒漠草原和温带草原,N站土壤冻结日数最长。

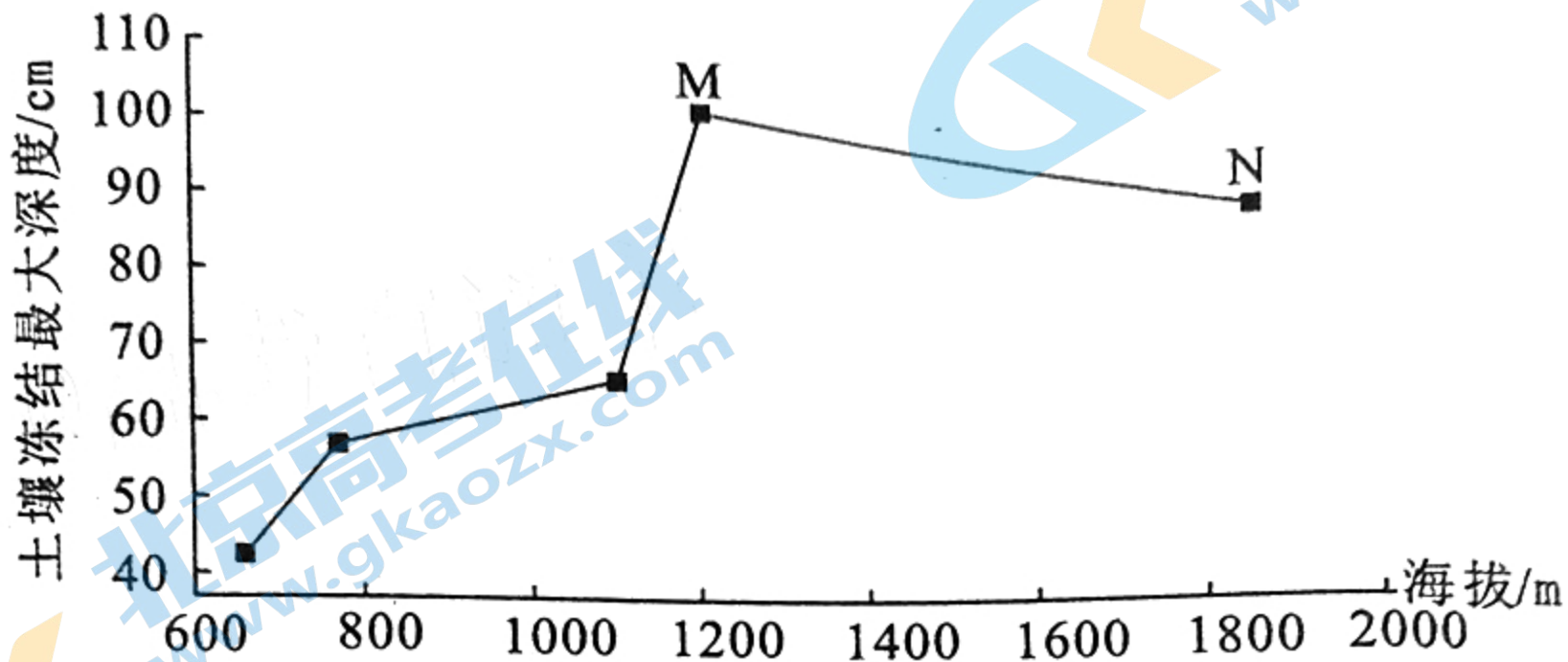


图7

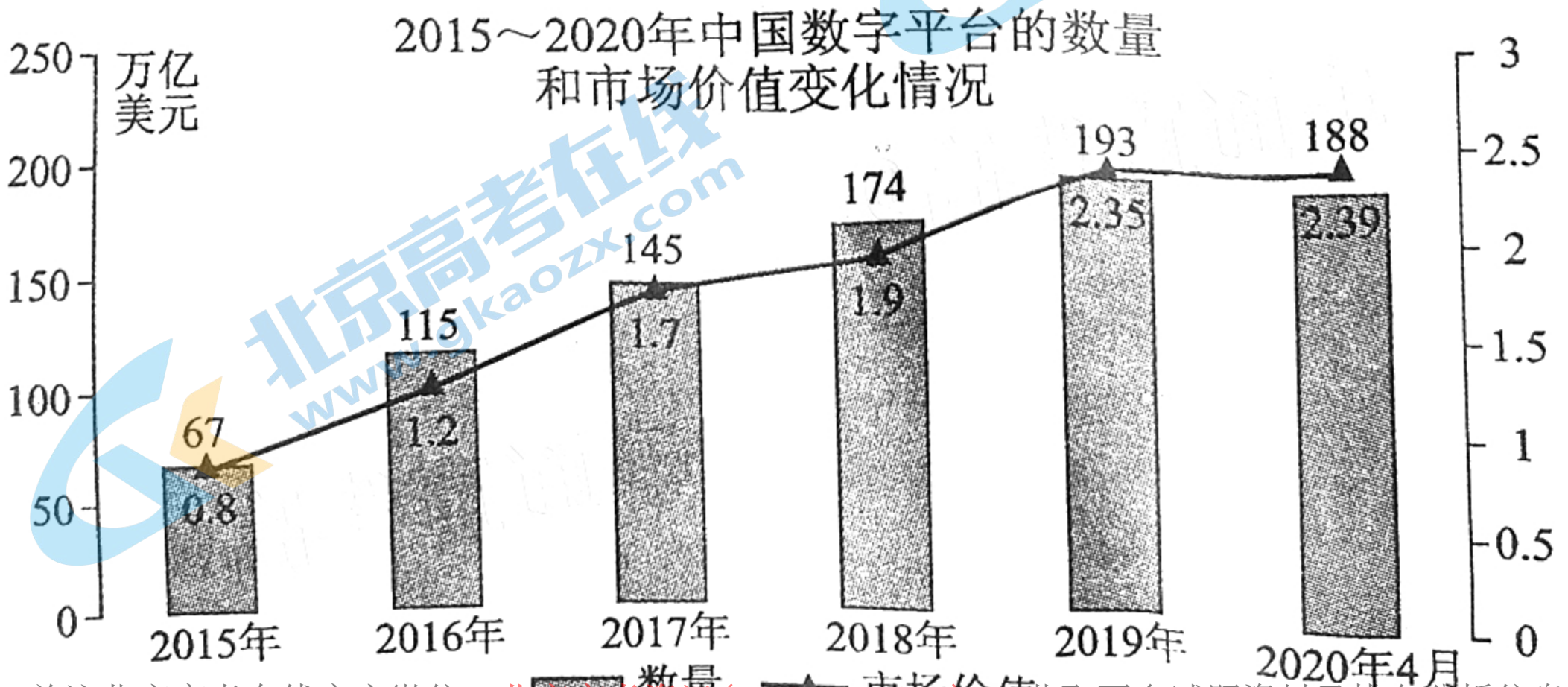
(1)分析N站土壤最大冻结深度比M站浅的原因。(6分)

(2)分析N站土壤冻结时间长的气候条件。(6分)

(3)推测气候变暖引起的当地季节冻土变化及对水循环可能产生的影响。(10分)

38. 阅读材料,完成以下要求。(30分)

材料一



关注北京高考在线官方微信: 北京高考资讯(ID:bj-gaokao) 获取更多试题资料及排名分析信息。

图8



11/11

同的经济活动单元所构成的新经济系统,是基于数字平台的各种经济关系的总称。平台是一种虚拟或真实的交易场所,平台本身不生产产品,但可以促成双方或多方供求之间的交易,收取恰当的费用或赚取差价而获得收益。百度、腾讯、淘宝、京东等是我国平台经济的重要参与方。

宅家“云办公”、视频上网课、掌上点外卖、在线问诊、VR看房……随着数字经济的快速发展,如今人们衣食住行的方方面面都离不开互联网平台。平台聚集社会资源和合作伙伴,为客户提供好的产品,通过聚集人气扩大用户规模,达到平台价值、客户价值和服务价值最大化。

(1)概括图8反映的经济现象。(4分)结合材料一,运用经济生活知识分析发展平台经济对我国经济发展的意义。(10分)

材料二 2021年3月15日召开的中央财经委员会第九次会议指出,近年来我国平台经济发展总体态势是好的、作用是积极的,同时也存在一些突出问题。要坚持发展和规范并重,把握平台经济发展规律,建立健全平台经济治理体系,明确规则,划清底线,加强监管,规范秩序,更好统筹发展和安全、国内和国际,促进公平竞争,反对垄断,防止资本无序扩张。要加强规范和监管,维护公众利益和社会稳定,形成治理合力推动平台经济规范健康持续发展。

(2)结合材料二,运用联系的多样性知识,说明如何推动平台经济规范健康持续发展。(12分)

材料三 2020年,全国12315平台共受理“直播”投诉举报2.55万件,其中“直播带货”占比近8成,同比增长357.74%。直播带货产品质量疏于把关、使用“极限词”等引导消费者冲动消费、售后退换货难以保障等问题层出不穷。提高直播带货产品供给质量,保护消费者权益,不能让直播带货“带祸”。

(3)结合材料三,请为直播带货平台的健康发展提两条合理化建议。(4分)

39. 阅读材料,完成下列要求。(12分)

香港自古以来就是中国的领土,香港特别行政区是中华人民共和国不可分离的部分,是中华人民共和国的一个享有高度自治权的地方行政区域、直辖于中央人民政府。

早在1984年6月,邓小平同志就明确指出:“港人治港有个界线和标准,就是必须由以爱国者为主体的港人来治理香港。”“什么叫爱国者?爱国者的标准是,尊重自己民族,诚心诚意拥护祖国恢复行使对香港的主权,不损害香港的繁荣和稳定。”

2021年1月27日,习近平主席在听取香港特别行政区行政长官2020年度述职报告时强调,香港由乱及治的重大转折,再次昭示了一个深刻道理,那就是要确保“一国两制”实践行稳致远,必须始终坚持“爱国者治港”。

文综三诊 第10页(共14页)



2021年3月11日,十三届全国人大四次会议通过了《全国人民代表大会关于完善香港特别行政区选举制度的决定》。该决定规定了完善香港特区选举制度的基本原则和核心要素,其中第六条授权全国人大常委会修改香港基本法附件一和附件二。全国人大常委会通过的两个修订草案,就是对全国人大有关决定内容的全面展开和具体落实。新修订的香港基本法基本保留了原来的附件一、附件二的名称、体例和框架结构,内容进一步充实细化,更加具有操作性,特别是针对香港回归以来选举实践中暴露出来的制度漏洞和缺陷作了完善性规定。

结合材料,运用政治生活有关知识,分析全国人大通过完善香港选举制度决定的政治意义。

#### 40. 阅读材料,完成下列要求。(10分)

“沉睡三千年,一醒惊天下。”三星堆发掘始于20世纪30年代。1986年,三星堆发掘两个“祭祀坑”一举震惊天下。35年后的2021年,三星堆再启挖掘6座“祭祀坑”,再次惊艳世界。

据介绍,此次考古发掘首次使用了方舱和防护服。在三星堆遗址考古现场,近2000平方米的大棚覆盖了整个发掘区域。6个祭祀坑被“装入”4个窗明几净的钢架玻璃工作舱。每个舱内安装了8台400万星光级网络摄像机、1台工业全景相机,专门用于考古工程的全程记录,实现实时传输到现场应急会议室,通过专家会诊系统实现远程文物会诊功能。所有工作人员均着防护服进入,在悬挂可升降的工作台上开展工作,身体都不接触坑内地面。文保人员通过超景深显微镜观察文物表面状态,并为其拍照,采集原始信息。文物被3D打印制成的硅胶保护套严密包裹起吊,送入实验室进行清理和修复处理。

随着一件件文物的出土、修复,三星堆博物馆也将很快“上新”。三星堆博物馆将建立开放一个文物修复数字展示馆,游客可以看到三星堆出土文物修复上新的过程,让三星堆文化所承载的重要意义更好地“飞入寻常百姓家”。

科技助力三星堆考古遗址新发现,结合材料运用文化生活知识加以说明。

#### 41. 阅读材料,完成下列要求。(25分)

材料一 近代中国是世界粮食进口大国。1871年-1873年,中国进口大米41.6万公担(1公担=100公斤),到1909年-1911年,进口大米猛增至373.2万公担,增加约8倍。上海是主要粮食进口地区。上海开埠后,粮食需求量不断上升,大米进口量由1913年的0.012万公担上升到1922年的98.08万公担。面粉进口则由1864年的0.63万公担增至1900年16.91万公担。其次,广州开埠后也成为主要的粮食进口口岸,自1912年至1918年,广东每年平均进口大米、面粉等各类粮食8亿斤。福州、厦门被迫开放为通商口岸,外国米源源不断以低价向福建倾销。

——据汪德平《近代中国粮食国际贸易研究》

文综三诊 第11页(共14页)

关注北京高考在线官方微信:北京高考资讯(ID:bj-gaokao),获取更多试题资料及排名分析信息。



材料二 新中国成立后,政府带领人民自力更生,大力发展粮食生产,用占世界7%左右的耕地,养活了占世界22%的人口。1995年与1949年相比,粮食总产量增长了3倍多。目前,中国粮食总产量位居世界第一,人均380公斤左右,达到世界平均水平。人均肉类产量41公斤、水产品21公斤、禽蛋14公斤、水果35公斤蔬菜198公斤,均超过世界平均水平。据联合国粮农组织统计,在八十年代世界增产的谷物中,中国占31%的份额。中国发展粮食生产取得的巨大成就。

——据国务院新闻办《中国的粮食问题》(1996年)

(1)根据材料一并结合所学知识,说明近代中国粮食进口的概况,并分析近代中国成为世界粮食进口大国的原因。(10分)

(2)根据材料二并结合所学知识,分析新中国成立后我国发展粮食生产的特点及意义。(15分)

42. 阅读材料,完成下列要求。(12分)

材料

表2 “中国”含义的历史演变

周代	青铜器“何尊”上有铭文“宅兹中国,自兹义民”,其意为武王灭商之后成周(今河南洛阳)作为天下的中心,统治民众。
汉代	将汉朝所统治区域视为中国,《史记·匈奴列传》记载“匈奴南与中国界于故塞”。
魏晋南北朝时期	据有中原之地的曹魏政权被称为“中国”,而蜀、吴两国亦皆以魏为“中国”。入主北方地区的一些游牧民族政权也开始自称“中国”。
唐朝	《唐会要》里曾多次将“中国”与“波斯”和“大秦”(东罗马帝国)并列。
宋元时期	辽金元自称“中国”的记载有很多。部分汉族文人学士,认同其为“中国”。北宋与南宋也都自称中国,并认为“正统”。
清朝	康熙晚年接触到大量西方国家的人员与事物之后,对臣子发出警告说:海外如西洋等国,千百年后中国恐受其累。“中国”这个词得到了更多的运用。

——据来梦娜《论“中国”含义的历史演变》等

从材料中提取两条或两条以上信息,拟定一个论题,并就所拟论题进行简要阐述。(要求:明确写出所拟论题,阐述须有史实依据。)



请考生在第 43、44 两道地理题中任选一题作答,如果多做,则按所做的第一题计分。做答时用 2B 铅笔在答题卡上把所选题目的题号涂黑。

43. [地理——选修 3:旅游地理](10 分)

2021 年 3 月,神秘的三星堆遗址再次进入人们视野,中央电视台及多家新闻媒体连续报道六个祭祀坑重大考古新发现,新出土的黄金面具等器物燃起了大众对古蜀文明的神往。随着疫情放缓,清明小长假期间,来自全国各地的旅游者慕名而至,三星堆游客突破 4.5 万人次,同比增长 2386.02%,博物馆游异常火爆(图 9)。



图 9

分析今年清明小长假期间三星堆博物馆旅游异常火爆的原因。

44. [地理——选修 6:环境保护](10 分)

贵州省西部的草海,水域面积 46.5 平方千米,平均水深 2 米,蓄水常年不断,但水体更新周期较长。草海紧邻威宁县城,随着城市的发展和过度的旅游开发,草海水体受到严重污染。2015 年开始,威宁启动“退城还湖、退村还湖、退耕还湖、治污净湖、造林涵湖”等工程。2019 年 3 月,威宁县政府发出《关于加强草海自然保护区管理的通告》,全面禁止草海自然保护区划船载客等旅游活动。2020 年 1 月至 6 月,当地降水量少,草海水位下降约 0.5 米。7 月至 8 月,草海近岸水域水草大面积死亡。

请分析 2020 年 7 月至 8 月草海近岸水域水草大面积死亡的原因。

关注北京高考在线官方微信: [北京高考资讯 \(ID:bj-gaokao\)](#), 获取更多试题资料及排名分析信息。



用2B铅笔在答题卡上把所选题目的题号涂黑。

#### 45. 历史上重大改革回眸(15分)

材料 日本自明治维新开始便以“和魂洋才”为口号学习欧美,建立适合日本国情的科学技术体系。明治政府和民间团体大批聘请欧美专家,这些专家分布在大专院校、研究所、工厂企业和政府部门,为培养日本所缺乏的科技人才,建立日本空缺的科技部门,做出了重大贡献。明治政府还及时建立了大批各种专业研究机构,倡导技术自主,鼓励团队精神,有计划的开展科学技术研究。明治政府不惜高价引进西方先进技术的专利权,再加以改造,使其更适合日本实际,并提高功效……科学技术的引进和发明迅速转入实用和批量生产阶段,许多科学家下海当企业家,把发明创造迅速转化为生产力。20世纪初,日本在物理学、化学、工学、生物学、医学等方面都取得了巨大进步,建立了相对完整的科学技术体系。

——《世界文明史(下)》

(1) 根据材料并结合所学知识,概括日本明治政府科技改革成功的原因。(8分)

(2) 根据材料并结合所学知识,简评日本明治政府的科技改革。(7分)

#### 46. 中外历史人物评说(15分)

材料 唐宣宗李忱(846-859年在位)登基后,重用科举出身的“牛党”成员,结束了长达半个世纪的“牛李党争”。针对大量闲田,宣宗“令所在长吏设法,召募贫人,课励耕种。”846年,宣宗复佛,但对修寺的原则进行了规范,对建造寺院等活动进行了节制。宣宗更换品行恶劣的节度使,并利用节度使与少数民族政权的矛盾,打压二者的膨胀。849年吐蕃内乱,七关军民来降,宣宗派兵接管。851年归义军张义泽带着河湟十一州图籍觐见唐宣宗,“于是河、湟之地尽入于唐”,宣宗随即下诏当地“五年内不加税赋”。宣宗后期频繁更换宰相,但对宦官的打击较弱,宣宗驾崩之后,宦官势力再次崛起,晚唐农民大起义的序幕也就此拉开。

——据《资治通鉴》、《唐会要》等

(1) 根据材料并结合所学知识,概括唐宣宗的统治政策。(7分)

(2) 根据材料并结合所学知识,评价唐宣宗的统治。(8分)

关注北京高考在线官方微信: [北京高考资讯\(ID:bj-gaokao\)](#), 获取更多试题资料及排名分析信息。



## 关于我们

北京高考在线创办于 2014 年，隶属于北京太星网络科技有限公司，是北京地区极具影响力的中学升学服务平台。主营业务涵盖：北京新高考、高中生涯规划、志愿填报、强基计划、综合评价招生和学科竞赛等。

北京高考在线旗下拥有网站门户、微信公众平台等全媒体矩阵生态平台。平台活跃用户 40W+，网站年度流量数千万量级。用户群体立足于北京，辐射全国 31 省市。

北京高考在线平台一直秉承“精益求精、专业严谨”的建设理念，不断探索“K12 教育+互联网+大数据”的运营模式，尝试基于大数据理论为广大中学和家长提供新鲜的高考资讯、专业的高考政策解读、科学的升学规划等，为广大高校、中学和教科研单位提供“衔接和桥梁纽带”作用。

平台自创办以来，为众多重点大学发现和推荐优秀生源，和北京近百所中学达成合作关系，累计举办线上线下升学公益讲座数百场，帮助数十万考生顺利通过考入理想大学，在家长、考生、中学和社会各界具有广泛的口碑影响力

未来，北京高考在线平台将立足于北京新高考改革，基于对北京高考政策研究及北京高校资源优势，更好的服务全国高中家长和学生。



微信搜一搜

北京高考资讯