

# 2023 天津高考真题

## 物 理

### 一、单选题

1. 运行周期为 24h 的北斗卫星比运行周期为 12h 的 ( )

- A. 加速度大                      B. 角速度大                      C. 周期小                      D. 线速度小

2. 如图是爬山所带氧气瓶，氧气瓶里的气体容积质量不变，爬高过程中，温度减小，则气体 ( )



- A. 对外做功                      B. 内能减小                      C. 吸收热量                      D. 压强不变

3. 关于太阳上进行的核聚变，下列说法正确的是 ( )

- A. 核聚变需要在高温下进行                      B. 核聚变中电荷不守恒  
C. 太阳质量不变                      D. 太阳核反应方程式： ${}_{92}^{215}\text{U} + {}_0^1\text{n} \rightarrow {}_{86}^{141}\text{Ba} + {}_{36}^{92}\text{Kr} + 3{}_0^1\text{n}$

4. 能说明光是横波的是 ( )

作者的备注：原卷为四个对应情景图片，配以相应文字解释。

- A. 全反射                      B. 干涉                      C. 偏振                      D. 衍射

作者的备注：原卷为四个对应情景图片，配以相应文字解释。

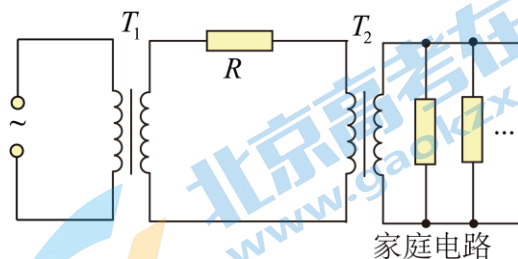
5. 质量为  $m$  的列车匀速  $v$  行驶，突然以  $F$  大小的力制动刹车直到列车停止，过程中恒受到  $f$  的空气阻力，下列说法正确的是 ( )

- A. 减速运动加速度大小  $a = \frac{F}{m}$                       B. 力  $F$  的冲量为  $mv$

- C. 刹车距离为  $\frac{mv^2}{2(F+f)}$                       D. 匀速行驶时功率为  $(f+F)v$

### 二、多选题

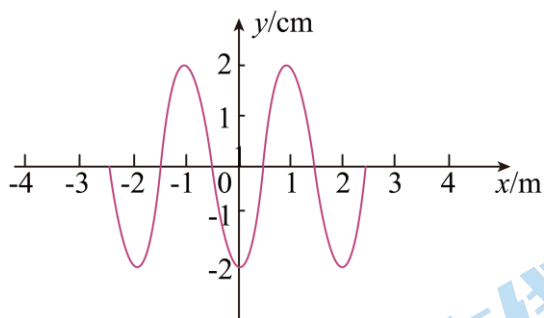
6. 下图为输电线为用户输电的情景，电路中升压变压器  $T_1$  和降压变压器  $T_2$  都认为是理想变压器，中间输电电路电阻为  $R$ ，下列说法正确的有 ( )



- A.  $T_1$  输出电压与  $T_2$  输入电压相等  
B.  $T_1$  输出功率大于  $T_2$  输入功率

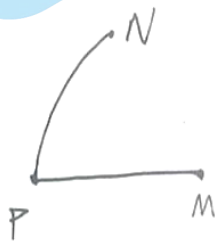
- C. 若用户接入的用电器增多, 则  $R$  功率降低  
 D. 若用户接入的用电器增多, 则  $T_2$  输出功率降低

7. 一列机械波的波源是坐标轴原点, 从  $t = 0$  时波源开始振动,  $t = 0.5\text{s}$  时波形如图, 则下列说法正确的有 ( )



- A. 在这种介质中波速  $v = 4\text{m/s}$   
 B.  $x = 1\text{m}$  处质点在  $t = 0.3\text{s}$  时位于波谷  
 C. 波源振动方程  $y = 0.02\sin(5\pi t + \pi)\text{m}$   
 D.  $x = -1\text{m}$  处质点半个周期内向左位移半个波长

8. 如图, 一个固定正电荷产生的电场中, 同一个正电荷  $q$  两次以大小相同、方向不同的初速度从  $P$  点出发, 分别抵达  $M$  点,  $N$  点, 且  $q$  在  $M, N$  点时速度大小也一样, 则下列说法正确的有 ( )

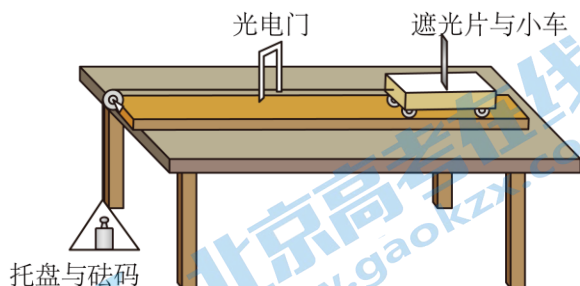


- A.  $P$  点电势大于  $M$   
 B.  $M$  点电势大于  $N$   
 C.  $q$  从  $P$  到  $M$  一直做减速运动  
 D.  $M, N$  两点处电场强度大小相同

### 三、实验题

9. 验证机械能守恒的实验

如图放置实验器材, 接通电源, 释放托盘与砝码, 并测得:



作者的备注: 此处绘图粗糙, 连接遮光片小车与托盘砝码的绳子应与桌面平行; 原卷中已说明, 遮光片与小车位于气垫导轨上 (视为无摩擦力), 这里没有画出。

- a. 遮光片长度  $d$   
 b. 遮光片小车到光电门长度  $l$

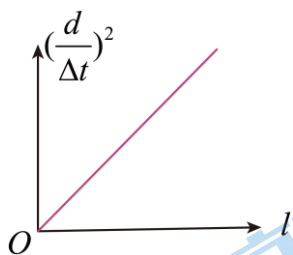
c. 遮光片小车通过光电门时间  $\Delta t$

d. 托盘与砝码质量  $m_1$ , 小车与遮光片质量  $m_2$

(1) 小车通过光电门时的速度为\_\_\_\_\_;

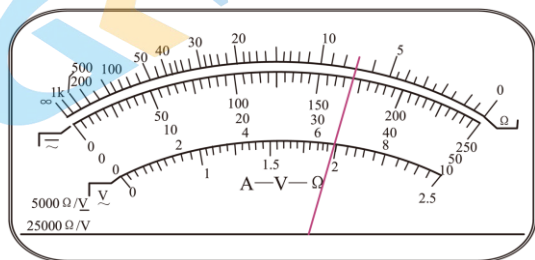
(2) 从释放到小车经过光电门, 这一过程中, 系统重力势能减少量为\_\_\_\_\_, 动能增加量为\_\_\_\_\_;

(3) 改变  $l$ , 做多组实验, 做出如图以  $l$  为横坐标。以  $(\frac{d}{\Delta t})^2$  为纵坐标的图像, 若机械能守恒成立, 则图像斜率为\_\_\_\_\_。



10. 测电阻  $R$  大小。

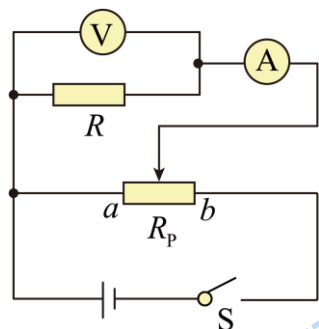
(1) 同学们首先用欧姆表  $\times 1$  档位大致测出电阻阻值大小, 如图, 则电阻大小读数为\_\_\_\_\_  $\Omega$ 。



同学们继续使用学生电源 (4V) 组装下图电路进行实验, 其中电表可以从如下中进行选择: (括号中为电表量程及内阻)

A. 电压表  $V_1$  (0—15V, 15k $\Omega$ )      B. 电压表  $V_2$  (0—3V, 3k $\Omega$ )

C. 电流表  $A_1$  (0—3A)                      D. 电流表  $A_2$  (0—0.6A)



作者的备注: 原卷画出了实物图, 这里还原出的是电路图。

(2) 应选择电压表\_\_\_\_\_, 电流表\_\_\_\_\_。(填器材前字母)

(3) 下列哪些说法是正确的? \_\_\_\_\_

A. 电压表分流属于系统误差

B. 实验开始前滑动变阻器滑片应该调到  $b$  端

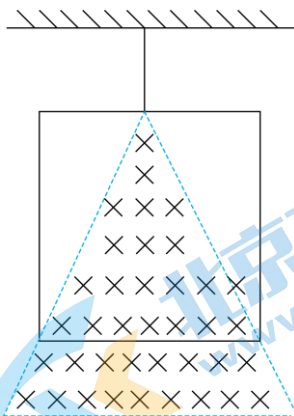
C. 如图所示的电路，可以通过调节滑片使电压表示数为 0

D. 多组实验可以减小系统误差

#### 四、解答题

11. 如图，有一正方形线框，质量为  $m$ ，电阻为  $R$ ，边长为  $l$ ，静止悬挂着，一个三角形磁场垂直于线框所在平面，磁感线垂直纸面向里，且线框中磁区面积为线框面积一半，磁感应强度变化  $B = kt$  ( $k > 0$ )，已知重力加速度  $g$ ，求：

- (1) 感应电动势  $E$ ;
- (2) 线框开始向上运动的时刻  $t_0$ ;



12. 已知 A、B 两物体  $m_A = 2\text{kg}$ ， $m_B = 1\text{kg}$ ，A 物体从  $h = 1.2\text{m}$  处自由下落，且同时 B 物体从地面竖直上抛，经过  $t = 0.2\text{s}$  相遇碰撞后，两物体立刻粘在一起运动，已知重力加速度  $g = 10\text{m/s}^2$ ，求：

- (1) 碰撞时离地高度  $x$ ;
- (2) 碰后速度  $v$ ;
- (3) 碰撞损失机械能  $\Delta E$ 。

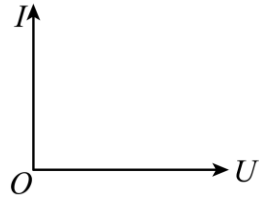
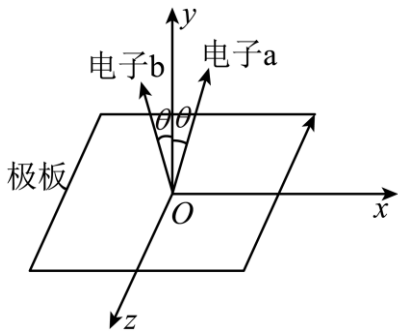
13. 信号放大器是一种放大电信号的仪器，如图 1，其可以通过在相邻极板间施加电压，使阴极逸出的电子，击中极板时，激发出更多电子，从而逐级放大电信号。已知电子质量  $m$ ，带电量  $e$ 。

(1) 如图 2，在极板上建系。极板上方空间内存在磁场，其强度为  $B$ ，方向平行  $z$  轴。极板间电压  $U$  极小，几乎不影响电子运动。如图，某次激发中，产生了 2 个电子  $a$  和  $b$ ，其初速度方向分别在  $xOy$  与  $zOy$  平面内，且与  $y$  轴正方向成  $\theta$  角，则：

- (i) 判断  $B$  的方向;
- (ii)  $a$ 、 $b$  两个电子运动到下一个极板的时间  $t_1$  和  $t_2$ ;

(2) 若单位时间内阴极逸出的电子数量不变，每个电子打到极板上可以激发出  $\delta$  个电子，且  $\delta \propto U$ ，阳极处接收电子产生的电流为  $I$ ，在答题纸给出坐标系里画出表示  $U$  和  $I$  关系的图像并说出这样画的理由。





关注北京高考在线官方微信：[京考一点通](#)（微信号:bjgkzx），获取更多试题资料及排名分析信息。

## 参考答案

### 一、单选题

1. 【答案】D

【详解】根据万有引力提供向心力有

$$F = G \frac{Mm}{r^2} = m \frac{v^2}{r} = mr\omega^2 = m \frac{4\pi^2}{T^2} r = ma$$

可得

$$T = 2\pi \sqrt{\frac{r^3}{GM}}$$

$$v = \sqrt{\frac{GM}{r}}$$

$$\omega = \sqrt{\frac{GM}{r^3}}$$

$$a = \frac{GM}{r^2}$$

因为北斗卫星周期大，故运行轨道半径大，则线速度小，角速度小，加速度小。

故选 D。

2. 【答案】B

【详解】A. 由于爬山过程中气体体积不变，故气体不对外做功，故 A 错误；

B. 爬山过程中温度降低，则气体内能减小，故 B 正确；

C. 根据热力学第一定律可知

$$\Delta U = W + Q$$

爬山过程中气体不做功，但内能减小，故可知气体放出热量，故 C 错误；

D. 爬山过程中氧气瓶里的气体容积质量均不变，温度减小，根据理想气体状态方程有

$$\frac{PV}{T} = C$$

可知气体压强减小，故 D 错误；

故选 B

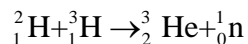
3. 【答案】A

【详解】A. 因为高温时才能使得粒子的热运动剧烈，才有可能克服他们自身相互间的排斥力，使得它们间的距离缩短，才能发生聚变，故 A 正确；

B. 核聚变中电荷是守恒的，故 B 错误；

C. 因为太阳一直在发生核聚变，需要放出大量能量，根据质能方程可知是要消耗一定的质量的，故 C 错误；

D. 核聚变的方程为



题中为核裂变方程，故 D 错误。

故选 A。

4. 【答案】C

【详解】A. 根据光的全反射现象，说明光由光密介质进入光疏介质和由光疏介质进入光密介质会有不同的现象，不能因此确定是横波还是纵波，故 A 错误；

BD. 干涉和衍射是所有波的特性，不能因此确定是横波还是纵波；根据光能发生干涉和衍射现象，说明光是一种横波，具有波动性，故 BD 错误；

C. 光的偏振现象说明振动方向与光的传播方向垂直，即说明光是横波，故 C 正确；

故选 C。

作者的备注：原卷为四个对应情景图片，配以相应文字解释。

5. 【答案】C

【详解】A. 根据牛顿第二定律有

$$F + f = ma$$

可得减速运动加速度大小

$$a = \frac{F + f}{m}$$

故 A 错误；

B. 根据运动学公式有

$$t = \frac{v}{a} = \frac{mv}{F + f}$$

故力  $F$  的冲量为

$$I = Ft = \frac{Fmv}{F + f}$$

方向与运动方向相反；故 B 错误；

C. 根据运动学公式

$$v^2 = 2ax$$

可得

$$x = \frac{v^2}{2a} = \frac{mv^2}{2(F + f)}$$

故 C 正确；

D. 匀速行驶时牵引力等于空气阻力，则功率为

$$P = fv$$

故 D 错误

故选 C。

## 二、多选题

### 6. 【答案】B

【详解】AB. 由于输电过程中电阻  $R$  要产生热量, 会损失功率, 故  $T_1$  输出功率大于  $T_2$  输入功率;  $T_1$  输出电压大于  $T_2$  输入电压, 故 A 错误, B 正确;

C. 由于输入电压不变, 所以变压器  $T_1$  的输出变压不变, 随着用户接入的用电器增多, 导致用户端的等效电阻变小, 则电流变大, 根据

$$P_{\text{损}} = I^2 R$$

可知  $R$  功率增大; 故 C 错误;

D. 用户接入电路的用电器越多, 用电器消耗功率增大, 即  $T_2$  输出功率增大, 故 D 错误。

故选 B。

### 7. 【答案】BC

【详解】A. 由图中可知  $t = 0.5\text{s}$  时, 波传播的距离为  $x = 2.5\text{m}$ , 故波的速度为

$$v = \frac{x}{t} = \frac{2.5}{0.5} \text{m/s} = 5\text{m/s}$$

故 A 错误;

B. 由图可知该波的波长为  $\lambda = 2\text{m}$ , 所以波的周期为

$$T = \frac{\lambda}{v} = \frac{2}{5} \text{s} = 0.4\text{s}$$

波传播到  $x = 1\text{m}$  需要的时间

$$t_1 = \frac{x_1}{v} = \frac{1}{5} \text{s} = 0.2\text{s}$$

由图可知该波的起振方向向下,  $t = 0.3\text{s}$  该波振动了  $0.1\text{s}$ , 即  $\frac{1}{4}T$ , 所以位于波谷, 故 B 正确;

C. 根据图像可知该波的振动方程为

$$y = A \sin\left(\frac{2\pi}{T}t + \varphi\right) = -0.02 \sin(5\pi t) \text{m} = 0.02 \sin(5\pi t + \pi) \text{m}$$

故 C 正确;

D. 质点只是上下振动, 不随波左右移动, 故 D 错误。

故选 BC。

### 8. 【答案】D

【详解】ABC. 由题意, 同一个正电荷  $q$  两次以大小相同、方向不同的初速度从  $P$  点出发, 分别抵达  $M$  点,  $N$  点, 且  $q$  在  $M$ ,  $N$  点时速度大小也一样, 则说明  $M$ 、 $N$  两点的电势相同, 但由于正电荷  $q$  有初速度, 则无法判断  $P$  点电势和  $M$  点电势的大小关系, 且也无法判断  $q$  从  $P$  到  $M$  的运动情况, 故 ABC 错误;

D. 根据以上分析可知,  $M$ 、 $N$  两点在同一等势面上, 且该电场是固定正电荷产生的电场, 则说明  $M$ 、 $N$  到固定正电荷的距离相等, 则  $M$ 、 $N$  两点处电场强度大小相同, 故 D 正确。



故选 D。

### 三、实验题

9. 【答案】 ①.  $\frac{d}{\Delta t}$  ②.  $m_1gl$  ③.  $\frac{1}{2}(m_1+m_2)(\frac{d}{\Delta t})^2$  ④.  $\frac{2m_1g}{m_1+m_2}$

【详解】(1) [1] 小车通过光电门时的速度为

$$v = \frac{d}{\Delta t}$$

(2) [2] 从释放到小车经过光电门，这一过程中，系统重力势能减少量为

$$\Delta E_p = m_1gl$$

[3] 从释放到小车经过光电门，这一过程中，系统动能增加量为

$$\Delta E_k = \frac{1}{2}(m_1+m_2)(\frac{d}{\Delta t})^2$$

(3) [4] 改变  $l$ ，做多组实验，做出如图以  $l$  为横坐标。以  $(\frac{d}{\Delta t})^2$  为纵坐标的图像，若机械能守恒成立有

$$m_1gl = \frac{1}{2}(m_1+m_2)(\frac{d}{\Delta t})^2$$

整理有

$$(\frac{d}{\Delta t})^2 = \frac{2m_1g}{m_1+m_2} \cdot l$$

则图像斜率为  $\frac{2m_1g}{m_1+m_2}$ 。

10. 【答案】 ①. 机阅 7 ②. 机阅 B ③. 机阅 D ④. 机阅 AC##CA

【详解】(1) [1] 电阻大小读数为

$$7 \times 1\Omega = 7\Omega$$

(2) [2] 由于同学们使用学生电源 (4V)，则为减小误差电压表应选择  $V_2$ 。

故选 B。

[3] 整个回路中的最大电流约为

$$I = \frac{E}{R} \approx 0.57A$$

则电流表应选择  $A_2$ 。

故选 D。

(3) [4] A. 电压表分流属于系统误差，故 A 正确；

B. 为保护电路，实验开始前滑动变阻器滑片应该调到  $a$  端，故 B 错误；

C. 如图所示的电路为分压式电路，可以通过调节滑片使电压表示数为 0，故 C 正确；

D. 多组实验可以减小偶然误差，故 D 错误。

故选 AC。

### 四、解答题

关注北京高考在线官方微信：[京考一点通](#)（微信号：[bjgkzx](#)），获取更多试题资料及排名分析信息。

11. 【答案】(1)  $\frac{kl^2}{2}$ ; (2)  $\frac{mg \cdot 2R}{k^2 l^3}$

【详解】(1) 根据法拉第电磁感应定律有

$$E = \frac{l^2}{2} \cdot \frac{\Delta B}{\Delta t} = \frac{kl^2}{2}$$

(2) 由图可知线框受到的安培力为

$$F_A = \frac{kl^3}{2R} \cdot kt$$

当线框开始向上运动时有

$$mg = F_A$$

解得

$$t_0 = \frac{mg \cdot 2R}{k^2 l^3}$$

12. 【答案】(1) 1m; (2) 0; (3) 12J

【详解】(1) 对物块 A, 根据运动学公式可得

$$x = h - \frac{1}{2}gt^2 = 1.2\text{m} - \frac{1}{2} \times 10 \times 0.2^2 \text{m} = 1\text{m}$$

(2) 设 B 物体从地面竖直上抛的初速度为  $v_{B0}$ , 根据运动学公式可知

$$x = v_{B0}t - \frac{1}{2}gt^2$$

即

$$1 = v_{B0} \times 0.2 - \frac{1}{2} \times 10 \times 0.2^2$$

解得

$$v_{B0} = 6\text{m/s}$$

可得碰撞前 A 物块的速度

$$v_A = gt = 2\text{m/s}$$

方向竖直向下;

碰撞前 B 物块的速度

$$v_B = v_{B0} - gt = 4\text{m/s}$$

方向竖直向上;

选向下为正方向, 由动量守恒可得

$$m_A v_A - m_B v_B = (m_A + m_B)v$$

解得碰后速度

$$v = 0$$

(3) 根据能量守恒可知碰撞损失的机械能

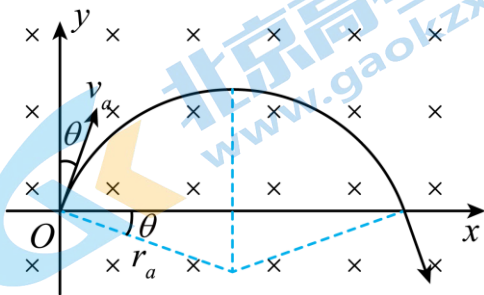
$$\Delta E = \frac{1}{2} m_A v_A^2 + \frac{1}{2} m_B v_B^2 - \frac{1}{2} (m_A + m_B) v^2 = 12\text{J}$$

13. 【答案】(1) (i) 沿  $z$  轴反方向; (ii)  $t_1 = \frac{(\pi - 2\theta)m}{eB}$ ,  $t_2 = \frac{\pi m}{eB}$  (2) 见解析

【详解】(1) (i)  $a$  电子, 初速度方向在  $xoy$  平面内, 与  $y$  轴正方向成  $\theta$  角; 若磁场方向沿  $z$  轴正方向,  $a$  电子在洛伦兹力作用下向  $x$  轴负方向偏转, 不符合题意; 若磁场方向沿  $z$  轴反方向,  $a$  电子在洛伦兹力作用下向  $x$  轴正方向偏转, 符合题意;

$b$  电子, 初速度方向在  $zoy$  平面内, 与  $y$  轴正方向成  $\theta$  角。将  $b$  电子初速度沿坐标轴分解, 沿  $z$  轴的分速度与磁感线平行不受力, 沿  $y$  轴方向的分速度受到洛伦兹力使得电子沿  $x$  轴正方向偏转, 根据左手定则可知, 磁场方向沿  $z$  轴反方向。符合题意;

综上所述, 磁感应强度  $B$  的方向沿  $z$  轴反方向。



(ii)  $a$  电子在洛伦兹力作用下运动轨迹如图, 由图可知电子运动到下一个极板的时间

$$t_1 = \frac{2(\frac{\pi}{2} - \theta)}{2\pi} T = \frac{(\frac{\pi}{2} - \theta)}{\pi} \frac{2\pi m}{eB} = \frac{(\pi - 2\theta)m}{eB}$$

$b$  电子, 沿  $z$  轴的分速度与磁感线平行不受力, 对应匀速直线运动; 沿  $y$  轴方向的分速度受到洛伦兹力使电子向右偏转, 电子运动半个圆周到下一个极板的时间

$$t_2 = \frac{\pi}{2\pi} T = \frac{\pi m}{eB}$$

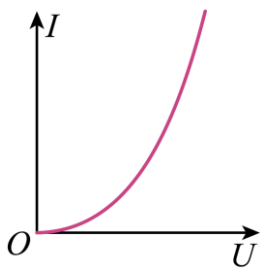
(2) 设  $\delta = kU$ , 单位时间内阴极逸出的电子数量  $N_0$  不变, 每个电子打到极板上可以激发  $\delta$  个电子, 经过  $n$  次激发阳极处接收电子数量

$$N = N_0 \delta^n = N_0 (kU)^n = N_0 k^n U^n$$

对应的电流

$$I = Ne = eN_0 k^n U^n = (eN_0 k^n) U^n = AU^n$$

可得  $I-U$  图像如图



关注北京高考在线官方微信：[京考一点通](#)（微信号:bjgkzx），获取更多试题资料及排名分析信息。

## 关于我们

北京高考在线创办于 2014 年，隶属于北京太星网络科技有限公司，是北京地区极具影响力的中学升学服务平台。主营业务涵盖：北京新高考、高中生涯规划、志愿填报、强基计划、综合评价招生和学科竞赛等。

北京高考在线旗下拥有网站门户、微信公众平台等全媒体矩阵生态平台。平台活跃用户 40W+，网站年度流量数千万量级。用户群体立足于北京，辐射全国 31 省市。

北京高考在线平台一直秉承 “精益求精、专业严谨” 的建设理念，不断探索 “K12 教育+互联网+大数据” 的运营模式，尝试基于大数据理论为广大中学和家长提供新鲜的高考资讯、专业的高考政策解读、科学的升学规划等，为广大高校、中学和教科研单位提供 “衔接和桥梁纽带” 作用。

平台自创办以来，为众多重点大学发现和推荐优秀生源，和北京近百所中学达成合作关系，累计举办线上线下升学公益讲座数百场，帮助数十万考生顺利通过考入理想大学，在家长、考生、中学和社会各界具有广泛的口碑影响力

未来，北京高考在线平台将立足于北京新高考改革，基于对北京高考政策研究及北京高校资源优势，更好的服务全国高中家长和学生。



微信搜一搜



京考一点通