

2023 北京门头沟初三一模 历史

2023. 4

考生
须知

1. 本试卷共 10 页，分为两部分，第一部分选择题，20 个小题，共 30 分；第二部分非选择题，4 道题，共 40 分。
2. 请将条形码粘贴在答题卡相应位置处。
3. 试卷所有答案必须填涂或书写在答题卡上，在试卷上作答无效。请使用 2B 铅笔填涂，用黑色字迹签字笔或钢笔作答。
4. 考试时间 70 分钟，试卷满分 70 分。

第一部分 (共 30 分)

本部分共 20 题，每题 1.5 分，共 30 分。在每题列出的四个选项中，选出最符合题目要求的一项。

1. 青铜器反映了古代高度发达的文明。以下青铜器中，迄今世界上出土的最重的青铜器是



A. 毛公鼎



B. 司母戊鼎



C. 四羊方尊



D. 利簋

2. 周朝为稳定政治形势，巩固疆土，周王将土地和人民授予宗亲和功臣。这种制度是

A. 郡县制 B. 分封制 C. 宗法制 D. 三省六部制

3. 提出“仁者爱人”“己所不欲，勿施于人”主张的思想家是

A. 孔子 B. 孟子 C. 庄子 D. 韩非子

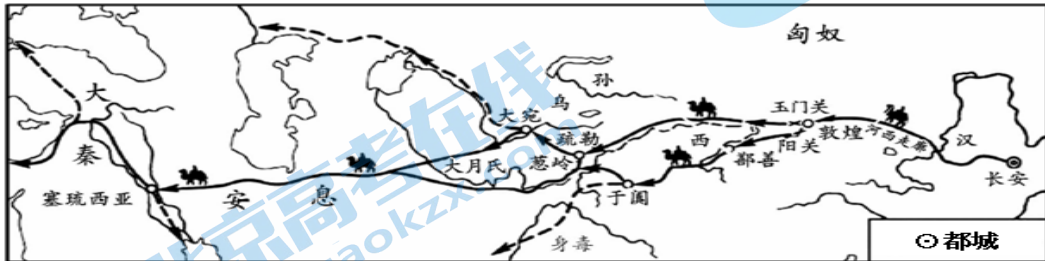
4. 古籍《华阳国志·蜀志》中记载：“(成都平原)水旱从人，不知饥馑。时无荒年，天下谓之‘天府’也”。这主要得益于战国时期李冰主持修建的

A. 都江堰 B. 驰道 C. 灵渠 D. 大运河

5. 我国的地方行政制度，自秦朝以来，逐渐发展和完善。开创了我国历代王朝地方行政基本模式的制度是

A. 丞相制 B. 州县制 C. 郡县制 D. 行省制

6. 下图是汉朝前往中亚、西亚和欧洲的主要交通线。当时这条交通线上运输最多的商品是



A. 茶叶 B. 丝绸 C. 牲畜 D. 瓷器

7. 造纸术带来了人类书写材料的一场划时代的变革，被列为中国古代四大发明之一，是中国对人类作出的伟大贡献。东汉时期改进了造纸术的是

A. 张仲景 B. 司马迁 C. 华佗 D. 蔡伦

8. 以下是小明学习某朝代历史后总结的部分学习笔记。由此判断，该朝代是

政治——“贞观之治”、“开元盛世”
 经济——曲辕犁、筒车、唐三彩
 对外——玄奘西行、鉴真东渡

- A. 商朝 B. 秦朝 C. 西晋 D. 唐朝

9. 从货贝到白银，从“交子”到“大明通行宝钞”，古老的中国货币见证了中国古代社会的发展和变迁，也对世界经济发展做出了巨大贡献。其中，“交子”出现的时间和地点是

- A. 唐朝、长安 B. 北宋、四川
 C. 南宋、临安 D. 元朝、大都


10. 下图为中国古代某朝代形势图，图中的行政制度出现于



- A. 隋朝 B. 唐朝 C. 元朝 D. 清朝

11. 以下示意图呈现了中国古代某一地区相关史实，根据所给信息，①处对应的史实是

孙权派卫温 隋炀帝派人 设置澎湖巡 ①
 到达夷洲 三赴流求 检司



- A. 设置西域都护 B. 设立宣政院
 C. 设置台湾府 D. 戚继光抗倭

12. 下列史实与结论之间对应有误的一项是

序号	史实	结论
A	虎门销烟	是中国人民禁烟斗争的伟大胜利
B	洋务运动	使中国从此走上了富强的道路
C	南昌起义	打响了武装反抗国民党反动派的第一枪
D	南京解放	结束国民党在大陆的统治

13. 纪念邮票是为纪念重大事件或重要人物而专门发行的邮票。以下邮票为纪念在社会主义革命和社会主义建设道路探索时期的英雄模范人物的是



①叶挺



②雷锋



③焦裕禄



④王进喜

关注北京高考在线官方微信：北京高考资讯(微信号:bjgkzx)，获取更多试题资料及排名分析信息。

A. ①②③④

B. ①③④

C. ②③④

D. ①②④

14. 文艺复兴时期涌现出了许多文学家、思想家和艺术家，下列人物与其作品搭配正确的是

A. 达·芬奇——《神曲》

B. 但丁——《蒙娜丽莎》

C. 莎士比亚——《哈姆雷特》

D. 拉斐尔——《最后的晚餐》

15. 英国资产阶级革命推翻了封建君主专制，为资本主义发展开辟了道路。英国资产阶级革命后确立的政治体制是

A. 君主立宪制

B. 总统制

C. 民主共和制

D. 君主专制

16. 某历史小组开展了历史学科专题研究，其内容涉及“共产党宣言”、“第一国际”、“巴黎公社”，以此推断他们研究的题目是

A. 马克思主义的诞生和国际共产主义运动的兴起

B. 殖民地人民的反抗与资本主义制度的扩展

C. 第一次世界大战和战后初期的世界

D. 战后的世界变化

17. 如果以“科学和文化在近代社会发展中的重要作用”为主题进行探究。以下内容可作为参考资料的是

A. 列宁与十月革命

B. 牛顿发现了万有引力定律

C. 甘地与非暴力不合作运动

D. 罗斯福与新政

18. 第二次世界大战是人类历史上规模空前的战争，战争进程按时间发生先后排序正确的是

①日本正式签署投降书

②日本偷袭珍珠港

③26国代表在华盛顿签署《联合国家宣言》

④诺曼底登陆

A. ①②③④

B. ③④①②

C. ③④②①

D. ②③④①


19. 右图漫画体现了二战后资本主义的新变化，与漫画寓意相符的史实是

A. 欧洲称霸世界

B. 北约组织东扩

C. 欧洲走向联合

D. 多极化趋势加强



20. 世界贸易组织自成立后，已经成为具有重大影响

A. 它的成立不符合经济全球化的发展潮流

B. 它可向冲突地区派出维和部队

C. 它彻底消除了世界各国间的贸易摩擦

D. 它以促进全球贸易和经济发展为宗旨

第二部分（共40分）

21.（10分）在长期历史发展进程中，各民族交往交流交融，形成了中华民族多元一体的格局。

材料一

中国古代民族交往交流交融主要事件呈现（部分）

时间	交流的主体民族		交流方式	类型
汉	汉	匈奴	和亲	招怀（招抚，怀柔）
	汉	匈奴	北击匈奴	民族战争
唐	汉	藏	和亲	招怀（招抚，怀柔）
宋元	汉	契丹	辽与北宋的和与战	民族战争
		党项	北宋与西夏的和与战	
	汉	契丹、党项	设立互市	互市贸易
	女真	汉	金灭辽和北宋	民族战争
蒙古	汉、女真	蒙古灭西夏与金	民族战争	

——摘自孟娜《统编版初中历史教科书中国古代民族交往交流交融史内容研究》

(1) 依据材料一及所学，概括中国古代民族间交往交流交融的主要类型。(3分) 说说这些民族间交往交流交融对中华民族多元一体格局的形成所产生的影响。(1分)

材料二 南京临时政府从国家层面认可民族平等，有利于改变历朝历代狭隘的大汉族观与清朝满族独尊的民族观。《中华民国临时约法》规定：“凡属蒙、藏、青海、回疆同胞……今皆得为国家主体，皆得为共和国之主人翁，即皆能取得国家参政权。”《中华民国临时约法》从法律层面将“五族共和”和“中华民族”确立为“中华民国”立国的法律依据。这些举措大大促进了中国境内各民族形成“中华民族”为一体的共识。

——摘编自何一民等《从“恢复中华”到“中华民族命运共同体”》

(2) 依据材料二，说出清末民初“中华民族”观念的内涵。(2分)

材料三

中国民族自治地方经济发展概况

年份	农业总产值（亿元）	工业总产值（亿元）
1952年	46.5	11.4
1978年	155.6	212.1
2014年	11 352.3	64 369

中华人民共和国各民族一律平等。国家保障各少数民族的合法的权利和利益，维护和发展各民族的平等团结互助和谐关系，禁止对任何民族的歧视和压迫，禁止破坏民族团结和制造民族分裂的行为。

国家根据各少数民族的特点和需要，帮助各少数民族地区加速经济和文化的发展。

各少数民族聚居的地方实行区域自治，设立自治机关，行使自治权，各民族自治地方都是中华人民共和国不可分离的部分。

——摘自《中华人民共和国宪法》

(3) 依据材料三及所学，概括 1952——2014 年民族自治地方经济发展的趋势。(1分) 分析变化的原因。(2分)

材料四 全面贯彻党的民族政策，深化民族团结进步教育，铸牢中华民族共同体意识，加强各民族

交往交流交融，促进各民族像石榴籽一样紧紧抱在一起，共同团结奋斗、共同繁荣发展。

——摘自中国共产党第十九次全国代表大会报告

(4) 依据材料四及所学，谈谈你对“铸牢中华民族共同体意识”的认识。(1分)

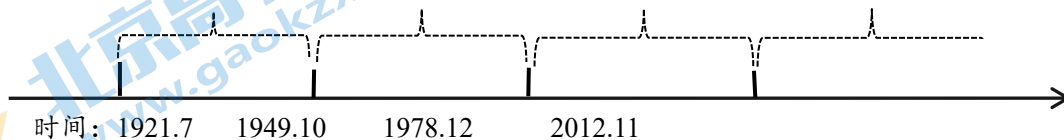
22. (10分) 中国共产党人的初心和使命，就是为中国人民谋幸福，为中华民族谋复兴。

材料一 中国共产党百年历史，可以划分为四个历史时期：从1921年7月中国共产党建立至1949年10月中华人民共和国成立，是新民主主义革命时期；从1949年10月至1978年12月党的十一届三中全会召开，是社会主义革命和建设时期；从1978年12月至2012年11月党的十八大召开，是改革开放和社会主义现代化建设新时期；从2012年11月至今是中国特色社会主义新时代。

——摘自曲青山《中国共产党百年辉煌》

(1) 依据材料一，把中国共产党百年历史四个历史时期分别填写在时间轴上。(4分)

历史时期：①() ②() ③() ④()



材料二

中国共产党百年奋斗各个时期的主要任务

时期	新民主主义革命时期	社会主义革命和建设时期	改革开放和社会主义现代化建设新时期	中国特色社会主义新时代
历史任务	反对帝国主义、封建主义和官僚资本主义，争取民族独立与人民解放，为实现中华民族伟大复兴创造根本社会条件。	进行社会主义革命，推进社会主义建设，为实现中华民族伟大复兴奠定根本政治前提和制度基础。	探索建设社会主义的正确道路，解放和发展社会生产力，为实现中华民族伟大复兴提供体制保证和物质条件。	实现第一个百年奋斗目标，开启实现第二个百年奋斗目标新征程，朝着实现中华民族伟大复兴的宏伟目标继续前进。
——以上摘自《中共中央关于党的百年奋斗重大成就和历史经验的决议》				
史实	A	B	C	D ③

(2) 依据材料二及所学，将下列史实填入表中相应位置。(3分，写序号)从史实中任选一个(示例除外)，说明其为实现中华民族伟大复兴的历史任务所起的作用。(2分)

史实：①三大改造的完成

②中共十一届三中全会的召开

③中国共产党第十九次全国代表大会召开

④抗日战争的胜利

示例：③中国共产党第十九次全国代表大会。大会确立了习近平新时代中国特色社会主义思想的指导地位，对推进中华民族伟大复兴历史进程具有决定性意义。

材料三 报告指出，从现在起，中国共产党的中心任务就是团结带领全国各族人民全面建成社会主义现代化强国、实现第二个百年奋斗目标，以中国式现代化全面推进中华民族伟大复兴。

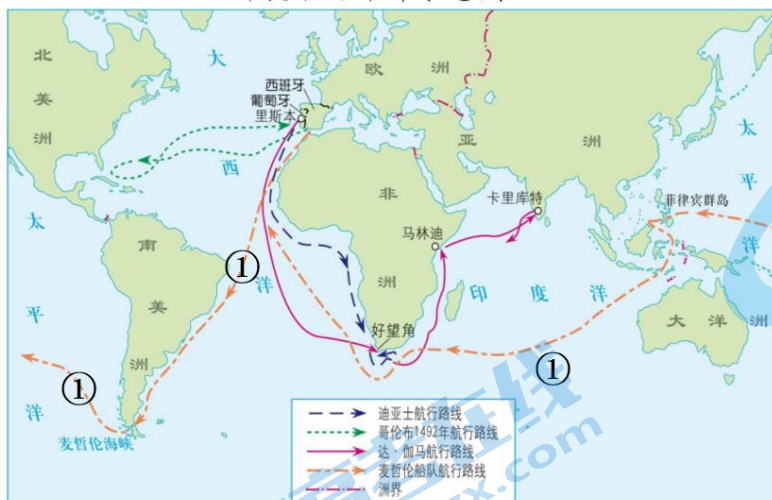
——摘自中国共产党第二十次全国代表大会报告

(3) 依据材料三及所学，说说为实现中华民族伟大复兴，青年学生应该担负的时代责任。(1分)

23. (10分) 人类社会进入到21世纪, 经济全球化的趋势进一步加强。

材料一

新航路的开辟示意图



(新航路的开辟)打破了以往人类文明区域性分割和孤立发展的局面, 首次把全球人类联系起来, 开始了人类文明一体化的进程……它大大扩展了人类活动的范围……世界的人种地理分布、宗教与文化格局开始发生重大变化……引发了欧洲近代几个世纪的大规模海外扩张, 开始了欧洲对世界征服和侵略的历史。

——摘自马世力主编:《世界史纲》(下册)

(1) 依据材料一及所学, 说出航行路线①代表的历史事件的意义。(1分) 概括新航路开辟的影响。(1分)

材料二 第一次工业革命是工业化的起点, 它改变了整个社会的经济结构, 同时, 随着殖民扩张急剧加强, 越来越多的国家沦为殖民地、半殖民地, 世界逐步形成一个不可分割的整体。第二次工业革命推动了资本主义经济的飞速发展, 主要资本主义国家进入到垄断资本主义阶段, 世界市场逐步形成。在第三次科技革命的推动下, 世界各国的相互联系和依赖日益紧密, 全球化日益成为人们关注的焦点。

——摘自《从全球化的角度看三次科技革命》

(2) 依据材料二及所学, 概括科技革命在经济全球化过程中起到的作用。(3分)

材料三 20世纪八九十年代以来, 世界局势趋于缓和, 和平与发展成为时代主题。各国把发展经济作为首要任务, 生产力和科技水平有了新的提高, 国家之间的经济联系日益紧密, 世界经济全球化的趋势加强。

——摘自义务教育统编教材《世界历史 九年级下册》

(3) 依据材料三, 归纳经济全球化趋势加强的原因。(2分)

材料四 全球化在推动全球经济社会发展的同时, 也存在了较大的隐患。全球发展失衡加剧、贫富差距和分配不公增大、国家冲突风险上升、国家治理危机和风险全球化加重等负面影响也日益显现, 加大了全球化停滞、向碎片化方向发展以及国家之间的矛盾与冲突等风险。

——摘自孙澄玉 张晓兰《当前经济全球化面临的新形势与新问题》

中国倡导的构建人类命运共同体理念为经济全球化的发展提供了指引, 推动了经济全球化朝着更加开放、包容、普惠、平衡、共赢的方向发展。中国所倡导的“一带一路”从一开始就强调其开放性特征, 为广大发展中国家参与经济全球化提供了一个新的平台, 是中国向世界提供的一项重要公共产品。

(4) 依据材料四，概括经济全球化发展面临的隐患的表现。(2分) 说说中国为经济全球化的发展做出的贡献。(1分)

24. (10分) 北京是一座有着丰富历史文化遗存的的城市，某校历史社团开展了实践考察活动。

【探寻先人足迹，追溯人类起源】

材料一 北京的考古发现(部分)

发现地点	遗址名称	考古发现	发现意义
房山	北京人遗址	距今 70 万至 20 万年。发现大量人类化石，代表约 40 个北京猿人个体。发现 1 万多件有关石器的材料，其中有一些是经过人工打制的石器。	通过考古，发现早期猿人向现代人类演进和发展变化的规律，为人类起源的研究提供了可靠的证据。
A	东胡林人遗址	距今约 1 万年。遗址内出土物品有人骨化石，经鉴定属两个成年男性和一个少年女性个体。发现了粟和黍，是目前在北京地区发现的最早的粟和黍的遗存。	在北京地区首次通过考古发现新石器时代早期人骨化石，具有一定的研究价值。
平谷	上宅文化遗址	距今 7000 年至 6000 年。在上宅和北坨头遗址中发现了大量陶器、磨制石器和半地穴式房屋遗存。	考古发现为研究北京地区新石器时代的中期历史文化提供了丰富的实物资料。

(1) 依据材料一，补充完成以下内容。(2分) 说说“考古发现”在研究远古人类历史时所起到的作用。(1分)

- ①东胡林人发现地 A 处指的是
- ②为研究北京地区古人类提供了可靠证据的旧石器时代遗址是

【参观名人遗迹 涵养家国情怀】

材料二 北京的名人遗迹(部分)

		
孙中山纪念馆 香山公园碧云寺第五进院落内	鲁迅故居 西城区阜成门内宫门口二条 19 号	李大钊故居 西城区佟麟阁文华胡同 24 号
孙中山(1866-1925)，伟大的民族英雄、伟大的爱国主义者、中国民主革命的伟大先驱。纪念馆通过实物、图片、音像等方式介绍了孙中山先生革命的一生。	鲁迅(1881-1936)，著名文学家、思想家，新文化运动的代表人物，中国现代文学的奠基人。这是鲁迅 1924 年至 1926 年在北京的住所。	李大钊(1889-1927)，中国最早的马克思主义者，中国共产党的主要创始人之一。1927 年 4 月被奉系军阀杀害，壮烈牺牲，时年仅 38 岁。

(2) 依据材料二及所学，从以上人物中任选一位，确定研究主题，说出他的主要贡献。(3分)

示例：主题：鲁迅与新文化运动

贡献：鲁迅是新文化运动的代表人物。在新文化运动中，他通过文学作品抨击封建的旧道德和旧文化。其中《狂人日记》的发表，号召人民起来推翻“黑漆漆的”吃人社会。

【保护历史遗存 厚植文化内涵】

材料三

北京的“一线三带”是《北京城市总体规划(2016年-2035年)》中重点内容之一。“一线三带”指①北京中轴线、②大运河文化带、③长城文化带、④西山永定河文化带。

北京的中轴线和三个文化带，承载了太多的古都北京历史文化内涵和精髓。北京的7项世界文化遗产全部在其范围内，而且“三带”所在的自然空间也是北京最美的生态景观带，有的段落还集聚了地貌奇观。“一线三带”占据了较大的地理空间，承载了深厚的文化内涵。

北京“一线三带”示意图

(3) 习近平总书记在考察北京时指出，历史文化是城市的灵魂，要像爱惜自己的生命一样保护好城市历史文化遗产，这是首都的职责。

依据材料三，将下列表格所缺项填写完整。(写序号，3分) 请你为保护北京城市历史文化遗产提出建议。(1分)

北京7项世界文化遗产名单	长城	故宫	周口店北京人遗址	颐和园	天坛	明十三陵	大运河
所属“一线三带”			④	④	①	③	

参考答案

第一部分 选择题 (共 30 分)

题号	1	2	3	4	5	6	7	8	9	10
选项	B	B	A	A	C	B	D	D	B	C
题号	11	12	13	14	15	16	17	18	19	20
选项	C	B	C	C	A	A	B	D	C	D

第二部分 非选择题 (共 40 分)

21. (10 分) 在长期历史发展进程中, 各民族交往交流交融, 形成了中华民族多元一体的格局。

答案: (1) (共 4 分): 招怀、互市贸易、民族战争; (3 分) (评分说明: 每答对一项给 1 分, 共 3 分) 促进了各民族间的交往交流交融; 促进了中华民族多元一体的形成。(1 分)

(2) 答案: 内涵: 民族平等; “五族共和”, 共同参与国家治理; 中华民族为一体。(2 分) (评分说明: 答出其中两点给 2 分)

(3) 趋势: 从 1952 年到 2014 年, 民族自治地方的工业总产值和农业总产值大幅 (高速) 增长 (1 分)。

原因: 从政策的扶持、法治的保障、改革开放、西部大开发等角度回答。(2 分) (评分说明: 答出其中两点给 2 分)

(4) 认识: 在长期历史发展进程中, 各民族交往交流交融, 形成了中华民族多元一体的格局; 我国实行民族区域自治制度, 为实现各民族共同繁荣发展奠定了基础; 我们要铸牢中华民族共同体意识, 加强民族团结, 维护国家统一。(1 分) (评分说明: 答出其中一点给 1 分, 其它言之有理即可给分。)

22. (10 分) 中国共产党人的初心和使命, 就是为中国人民谋幸福, 为中华民族谋复兴。

(1) 答案: ①新民主主义革命时期 (1 分); ②社会主义革命和建设时期 (1 分); ③改革开放和社会主义现代化建设新时期 (1 分); ④中国特色社会主义新时代 (1 分)

(2) 参考答案: A④ (1 分); B① (1 分); C② (1 分)

参考答案一: ④抗日战争的胜利, 是近代以来中国人民反抗外敌入侵第一次取得完全胜利的民族解放斗争。为中国共产党带领中国人民实现彻底的民族独立和人民解放奠定了重要基础, 为实现中华民族伟大复兴创造根本社会条件。(2 分)

参考答案二: ①三大改造的完成, 实现了生产资料私有制向社会主义公有制的转变。社会主义基本制度在我国建立起来。我国从此进入社会主义初级阶段。为实现中华民族伟大复兴奠定根本政治前提和制度基础。(2 分)

参考答案三: ②中共十一届三中全会的召开, 是新中国成立以来党的历史上具有深远意义的伟大转折, 开启了改革开放和社会现代化建设新时期。为实现中华民族伟大复兴提供充满新的活力的体制保证和快速发展的物质条件。(2 分)

(评分说明: 史实与意义对应且正确, 给 1 分; 能够结合历史任务回答给 1 分。)

(3) 答案: 学生根据自身实际进行阐述, 合情合理即可给分。(1 分)

23. (10 分) 人类社会进入到 21 世纪, 经济全球化的趋势进一步加强。

答案: (1) 证明了地圆说的正确性 (或者 “证明地球是圆的”。) (1 分。)

影响: 世界开始连成一个整体; 扩大了人类活动范围; 促进了世界范围内的经济文化交流; 为殖民掠夺开辟了道路; 促进了资本主义的发展等。(1 分) (评分说明: 答出一点得 1 分, 意思相近或相似即可。)

(2) 作用: 科技革命改变了社会的经济结构, 殖民扩张加剧, 世界逐步形成不可分割的整体 (1 分); 随着资本主义经济飞速发展, 全球世界市场逐步形成; (1 分) 计算机互联网的发明与使用, 使世界各国的联系和依赖日益紧密, 加速了经济全球化。(1 分) (评分说明: 回答出三点, 给 3 分, 意思相近或相似即可。)

(3) 原因：相对和平的世界局势；生产力水平的提高，科技水平的提高；国家之间的经济联系日益紧密（2分）（评分说明：说出其中两点给2分。其他表述意思接近也给分。）

(4) 隐患表现：全球发展失衡加剧，贫富差距和分配不公增大、国家冲突风险上升、国家治理危机和风险全球化加重。（2分）（评分说明：答出其中两点给2分）

中国贡献：中国倡导的构建人类命运共同体理念推动了经济全球化朝着更加开放、包容、普惠、平衡、共赢的方向发展。如中国所倡导的“一带一路”，为广大发展中国家参与经济全球化提供了一个新的平台。

（1分）（评分说明：答出“构建人类命运共同体”或者“一带一路”这个点就可给1分，其他答案相似，言之有理也可给分）

24.（10分）北京是一座有着丰富历史文化遗存的的城市，某校历史社团开展了实践考察活动。

(1) 答案：①门头沟（1分）

②北京人遗址（1分）

提供了丰富的实物资料；提供了可靠的证据，（1分）（评分说明：答出一点给1分。）

(2) 答案：人物与主题对应正确（2分），写出与之相关的贡献（1分）

(3) 答案：长城——③（1分）；故宫——①（1分）、大运河——②（1分）；（评分说明：答对一项给1分，共3分）

任选其一（1分）（评分说明：能够结合实际提出建议，具有合理和可行性，言之有理，即可给分）



关于我们

北京高考在线创办于 2014 年，隶属于北京太星网络科技有限公司，是北京地区极具影响力的中学升学服务平台。主营业务涵盖：北京新高考、高中生涯规划、志愿填报、强基计划、综合评价招生和学科竞赛等。

北京高考在线旗下拥有网站门户、微信公众平台等全媒体矩阵生态平台。平台活跃用户 40W+，网站年度流量数千万量级。用户群体立足于北京，辐射全国 31 省市。

北京高考在线平台一直秉承 “精益求精、专业严谨” 的建设理念，不断探索 “K12 教育+互联网+大数据” 的运营模式，尝试基于大数据理论为广大中学和家长提供新鲜的高考资讯、专业的高考政策解读、科学的升学规划等，为广大高校、中学和教科研单位提供 “衔接和桥梁纽带” 作用。

平台自创办以来，为众多重点大学发现和推荐优秀生源，和北京近百所中学达成合作关系，累计举办线上线下升学公益讲座数百场，帮助数十万考生顺利通过考入理想大学，在家长、考生、中学和社会各界具有广泛的口碑影响力

未来，北京高考在线平台将立足于北京新高考改革，基于对北京高考政策研究及北京高校资源优势，更好的服务全国高中家长和学生。



微信搜一搜

北京高考资讯