

高三数学

2023.11

(考试时间 120 分钟 满分 150 分)

本试卷分为选择题 40 分和非选择题 110 分

第一部分(选择题 共 40 分)

一、选择题共 10 小题,每小题 4 分,共 40 分。在每小题列出的四个选项中,选出符合题目要求的一项。

(1) 已知全集 $U=\mathbf{Z}$, 集合 $A=\{x \in \mathbf{Z} | -2 < x < 2\}$, $B=\{-1, 0, 1, 2\}$, 则 $(\complement_U A) \cap B =$

- (A) $\{-1, 2\}$ (B) $\{1\}$ (C) $\{0, 1\}$ (D) $\{2\}$

(2) 下列函数中,既是奇函数又在区间 $(0, +\infty)$ 上单调递增的是

- (A) $y = \lg x$ (B) $y = x^3$ (C) $y = x + \frac{1}{x}$ (D) $y = 2^x + 2^{-x}$

(3) 若 $\sin \theta = \sqrt{5} \cos \theta$, 则 $\tan 2\theta =$

- (A) $-\frac{\sqrt{5}}{3}$ (B) $\frac{\sqrt{5}}{3}$ (C) $-\frac{\sqrt{5}}{2}$ (D) $\frac{\sqrt{5}}{2}$

(4) 已知 $a = \log_5 0.5$, $b = 5^{0.5}$, $c = 0.5^{0.6}$, 则

- (A) $a < c < b$ (B) $a < b < c$ (C) $c < a < b$ (D) $b < c < a$

(5) 函数 $y = 2\sin(2x + \frac{\pi}{6})$ 的图象的一条对称轴是

- (A) $x = -\frac{\pi}{6}$ (B) $x = 0$ (C) $x = \frac{\pi}{6}$ (D) $x = \frac{\pi}{2}$

(6) 设 $x \in \mathbf{R}$, 则“ $x(1+x) > 0$ ”是“ $0 < x < 1$ ”的

- (A) 充分而不必要条件 (B) 必要而不充分条件
(C) 充分必要条件 (D) 既不充分也不必要条件

(7) 已知平面内四个不同的点 A, B, C, D 满足 $\vec{BA} = 2\vec{DB} - 2\vec{DC}$, 则 $\frac{|AC|}{|BC|} =$

(A) $\frac{2}{3}$

(B) $\frac{3}{2}$

(C) 2

(D) 3

(8) 已知一个圆锥的高与其底面圆的半径相等, 且体积为 $\frac{8\pi}{3}$. 在该圆锥内有一个正方体, 其下底面的四个顶点在圆锥的底面内, 上底面的四个顶点在圆锥的侧面上, 则该正方体的棱长为

(A) $\frac{2}{3}$

(B) 1

(C) $2 - \sqrt{2}$

(D) $4 - 2\sqrt{2}$

(9) 已知函数 $f(x) = \begin{cases} |x+1| - 1, & x \in (-\infty, 0), \\ \ln(x+1), & x \in [0, +\infty), \end{cases}$ $g(x) = x^2 - 4x - 4$. 设 $b \in \mathbf{R}$, 若存在 $a \in \mathbf{R}$,

使得 $f(a) + g(b) = 0$, 则实数 b 的取值范围是

(A) $[-1, 5]$

(B) $(-\infty, -1] \cup [5, +\infty)$

(C) $[-1, +\infty)$

(D) $(-\infty, 5]$

(10) 已知点集 $\Lambda = \{(x, y) \mid x \in \mathbf{Z}, y \in \mathbf{Z}\}$, $S = \{(a, b) \in \Lambda \mid 1 \leq a \leq 5, 1 \leq b \leq 5\}$. 设非空点集 $T \subseteq \Lambda$, 若对 S 中任意一点 P , 在 T 中存在一点 Q (Q 与 P 不重合), 使得线段 PQ 上除了点 P, Q 外没有 Λ 中的点, 则 T 中的元素个数最小值是

(A) 1

(B) 2

(C) 3

(D) 4

第二部分 (非选择题 共 110 分)

二、填空题共 5 小题, 每小题 5 分, 共 25 分。

(11) 已知函数 $f(x) = \sin \pi x + \cos \pi x$, 则 $f(x)$ 的最小正周期是_____.

(12) 已知单位向量 a, b 满足 $a \cdot (a + 2b) = 2$, 则向量 a 与 b 的夹角为_____.

(13) 设公差为 d 的等差数列 $\{a_n\}$ 的前 n 项和为 S_n ($n \in \mathbf{N}^*$), 能说明“若 $d < 0$, 则数列 $\{S_n\}$ 是递减数列”为假命题的一组 a_1, d 的值依次为_____.

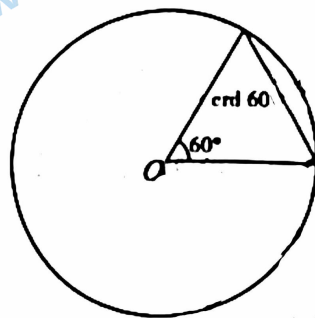
(14) 古希腊数学家托勒密对三角学的发展做出了重要贡献, 他的《天文学大成》包含一张弦表(即不同圆心角的弦长表), 这张表本质上相当于正弦三角函数表. 托勒密把圆的半径

60 等分, 用圆的半径长的 $\frac{1}{60}$ 作为单位来度量弦长. 将圆心角 α 所对的弦长记为 $\text{crd } \alpha$. 如

图, 在圆 O 中, 60° 的圆心角所对的弦长恰好等于圆 O 的半径,

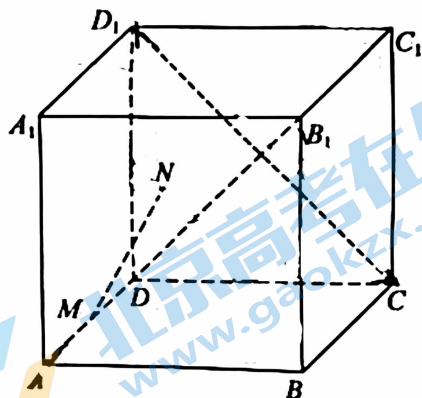
因此 60° 的圆心角所对的弦长为 60 个单位, 即 $\text{crd } 60^\circ = 60$. 若 θ

为圆心角, $\cos \theta = \frac{1}{4}$ ($0^\circ < \theta < 180^\circ$), 则 $\text{crd } \theta =$ _____.



(15) 如图, 在棱长为 1 的正方体 $ABCD-A_1B_1C_1D_1$ 中, 点 M 为 AD 的中点, 点 N 是侧面 DCC_1D_1 上(包括边界)的动点, 且 $B_1D \perp MN$, 给出下列四个结论:

- ① 动点 N 的轨迹是一段圆弧;
- ② 动点 N 的轨迹与 CD_1 没有公共点;
- ③ 三棱锥 $N-B_1BC$ 的体积的最小值为 $\frac{1}{12}$;
- ④ 平面 BMN 截该正方体所得截面的面积的最大值为 $\frac{9}{8}$.



其中所有正确结论的序号是 _____.

三、解答题共 6 小题,共 85 分。解答应写出文字说明,演算步骤或证明过程。

(16)(本小题 13 分)

已知 $\{a_n\}$ 是递增的等比数列,其前 n 项和为 $S_n (n \in \mathbb{N}^*)$, 满足 $a_2 = 6, S_3 = 26$.

(I) 求 $\{a_n\}$ 的通项公式及 S_n ;

(II) 若 $S_n + a_n > 2024$, 求 n 的最小值.

(17)(本小题 13 分)

在 $\triangle ABC$ 中, $b^2 + c^2 - a^2 = bc$.

(I) 求 $\angle A$;

(II) 再从条件 ①、条件 ②、条件 ③ 这三个条件中选择两个作为已知, 使 $\triangle ABC$ 存在且唯一确定, 求 $\triangle ABC$ 的面积.

条件 ①: $\cos B = \frac{11}{14}$;

条件 ②: $a + b = 12$;

条件 ③: $c = 12$.

注: 如果选择的条件不符合要求, 第 (II) 问得 0 分; 如果选择多组符合要求的条件分别

解答, 按第一组解答计分.

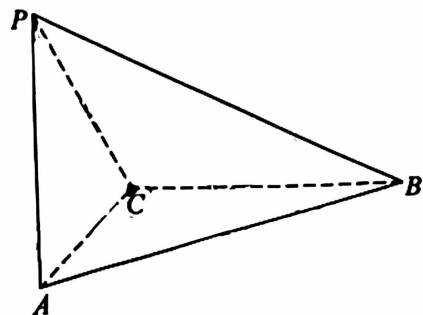
(18)(本小题 15 分)

如图, 在三棱锥 $P-ABC$ 中, $PA \perp$ 平面 ABC , $PA = AC = BC = 2, PB = 2\sqrt{3}$.

(I) 求证: $BC \perp$ 平面 PAC ;

(II) 求二面角 $A-PB-C$ 的大小;

(III) 求点 C 到平面 PAB 的距离.



(19)(本小题 14 分)

已知函数 $f(x) = e^x - \sqrt{\sin x} - ax^2 (a \in \mathbf{R})$.

(I) 若 $a=0$, 求 $f(x)$ 在区间 $[0, \frac{\pi}{2}]$ 上的最小值和最大值;

(II) 若 $a < \frac{1}{2}$, 求证: $f(x)$ 在 $x=0$ 处取得极小值.

(20)(本小题 15 分)

已知函数 $f(x) = mx \ln x - x^2 + 1 (m \in \mathbf{R})$.

(I) 当 $m=1$ 时, 求曲线 $y=f(x)$ 在点 $(1, f(1))$ 处的切线方程;

(II) 若 $f(x) \leq 0$ 在区间 $[1, +\infty)$ 上恒成立, 求 m 的取值范围;

(III) 试比较 $\ln 4$ 与 $\sqrt{2}$ 的大小, 并说明理由.

(21)(本小题 15 分)

已知 $A_m = \begin{pmatrix} a_{1,1} & a_{1,2} & \cdots & a_{1,m} \\ a_{2,1} & a_{2,2} & \cdots & a_{2,m} \\ \vdots & \vdots & \ddots & \vdots \\ a_{m,1} & a_{m,2} & \cdots & a_{m,m} \end{pmatrix}$ ($m \geq 2$) 是 m^2 个正整数组成的 m 行 m 列的数表,

当 $1 \leq i < s \leq m, 1 \leq j < t \leq m$ 时, 记 $d(a_{i,j}, a_{s,t}) = |a_{i,j} - a_{s,j}| + |a_{s,j} - a_{s,t}|$. 设 $n \in \mathbf{N}^*$, 若 A_m 满足如下两个性质:

① $a_{i,j} \in \{1, 2, 3, \dots, n\}$ ($i = 1, 2, \dots, m; j = 1, 2, \dots, m$);

② 对任意 $k \in \{1, 2, 3, \dots, n\}$, 存在 $i \in \{1, 2, \dots, m\}, j \in \{1, 2, \dots, m\}$, 使得 $a_{i,j} = k$,

则称 A_m 为 Γ_n 数表.

(I) 判断 $A_3 = \begin{pmatrix} 1 & 2 & 3 \\ 2 & 3 & 1 \\ 3 & 1 & 2 \end{pmatrix}$ 是否为 Γ_3 数表, 并求 $d(a_{1,1}, a_{2,2}) + d(a_{2,2}, a_{3,3})$ 的值;

(II) 若 Γ_2 数表 A_4 满足 $d(a_{i,j}, a_{i+1,j+1}) = 1$ ($i = 1, 2, 3; j = 1, 2, 3$), 求 A_4 中各数之和的最小值;

(III) 证明: 对任意 Γ_4 数表 A_{10} , 存在 $1 \leq i < s \leq 10, 1 \leq j < t \leq 10$, 使得 $d(a_{i,j}, a_{s,t}) = 0$.

(考生务必将答案答在答题卡上, 在试卷上作答无效)

北京高一高二高三期中试题下载

京考一点通团队整理了【**2023年10-11月北京各区各年级期中试题 & 答案汇总**】专题，及时更新最新试题及答案。

通过【**京考一点通**】公众号，对话框回复【**期中**】或者点击公众号底部栏目<**试题专区**>，进入各年级汇总专题，查看并下载电子版试题及答案！

