

2018~2019 学年度北京市大兴区高三第一次综合练习

地 理

第 1 卷 选择题

2019 年 3 月 5 日-15 日，第十三届全国人民代表大会第二次会议在北京召开。据此回答第 1 题。

1. 会议

- A. 开幕于立春节气，闭幕于雨水节气
- B. 期间北京日出东南，地球公转速度减慢
- C. 期间北京日出渐早，空气湿度渐大
- D. 期间北京太阳高度增大，自转速度增大

2019 年是亚太经济合作组织 (APEC) 成立 30 周年。图 1 为该组织成员国示意图，读图回答 2-3 题。

2. 图中成员国所在大洲

- A. ①地形复杂多样，人口众多，所以各平原都成为重要人口聚居地
- B. ②岛屿众多，多珊瑚岛，受全球变暖影响，很多岛屿面临被淹没的危险
- C. ③纬度跨度大，地势中部低四周高，东西沿海地区气候呈狭长分布
- D. ④位于南半球，多为发展中国家或地区，人口稠密，城市化水平低



图 1

3. 太平洋

- A. 西侧为暖流，东侧为寒流，赤道附近为暖流
- B. 西北和东南由于寒暖流交汇形成两大著名渔场
- C. 由美洲板块与亚欧板块、印度洋板块张裂形成
- D. 是四大洋中面积最大、深度最深、岛屿最多的大洋

据微信大数据分析，2017 年春节期间的全国微信红包收发总量突破 460 亿个。

图 2 为“省际间红包单向流量前五位省份分布图”，

读图回答 4-5 题

4. 省际间红包单向流量最大的是

- A. 京→冀 B. 粤→桂 C. 粤→湘 D. 闽→黔

5. 省际间红包单向流量较多的甲省

- A. 地形以平原为主，种植业发达，古称“天府之国”
- B. 气候受地形影响较大，冬季气温较同纬度偏低
- C. 峨眉山-乐山、青城山-都江堰是世界自然与文化双遗产

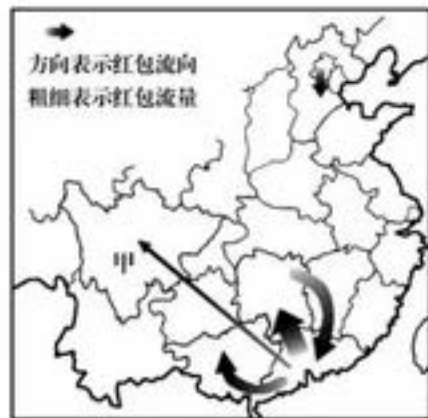


图 2

- D. 靠近亚欧板块与印度洋板块的消亡边界，多地质灾害

读图3“雅鲁藏布江局部等高线地形图”(单位:米)。回答6-7题。

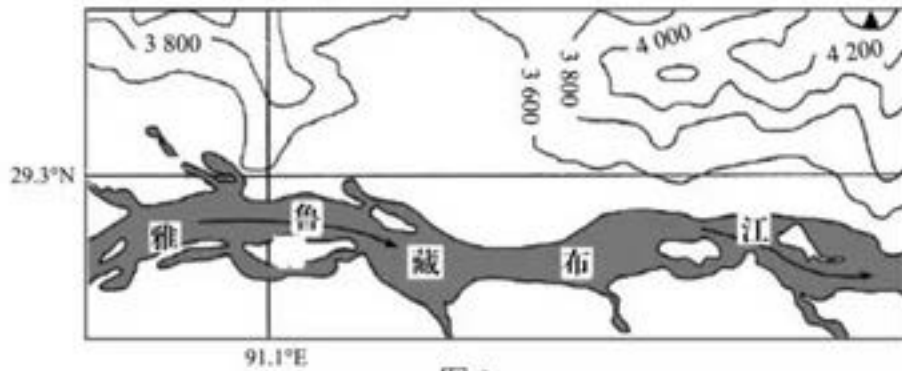


图3

6. 图示区域

- A. 地处亚热带, 河流不结冰
- B. 副热带高压控制, 降水少
- C. 大气逆辐射强, 气温低
- D. 大气削弱作用弱, 光照强

7. 图示南部地区种植业条件优于北部地区, 主要体现在

- A. 地热充足, 一年两熟
- B. 光照充足, 昼夜温差大
- C. 海拔较低, 积温较高
- D. 水源充足, 雨热同期

近年来我国沿海地区风力发电发展较快, 沿海既有陆上风电场, 又有海上风电场, 图4为上海东海大桥风电场, 是我国第一个国家海上风电示范工程, 读图回答8-9题



图4

8. 海上风能

- A. 能源清洁, 发电技术要求高
- B. 分布广, 储量大, 发电成本低
- C. 来自太阳辐射, 能量密集
- D. 稳定可靠, 可大规模开发

9. 我国沿海地区风电场分布比内陆更加密集, 主要原因是

- A. 交通发达, 建设材料运输便捷
- B. 经济发达, 风电技术较为成熟
- C. 常规能源缺乏, 能源需求量大
- D. 靠近夏季风源地, 风能资源丰富

北京正研究 6 条主要的通风廊道，以增强通风能力，读图 5“北京通风廊道示意图”回答 10-11 题。

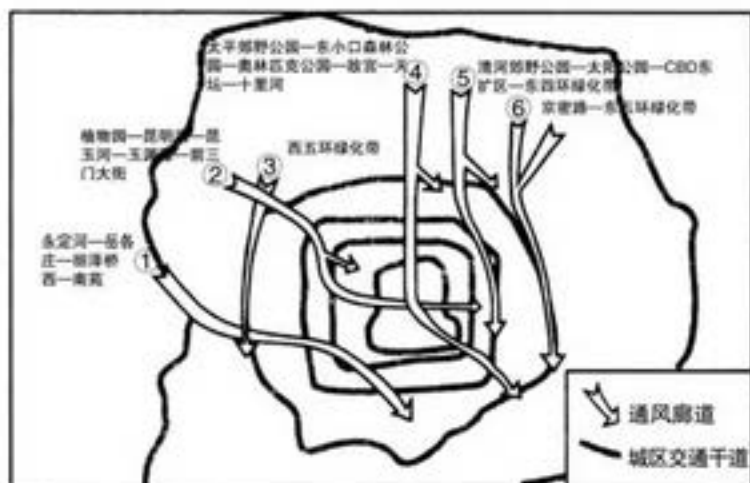


图 5

- 10.北京城市通风廊道，可以
- A. 缓解雾霾天气和城市热岛效应
 - B. 分散城市职能和疏散城市人口
 - C. 减少交通污染和缓解交通拥堵
 - D. 合理利用土地和控制地租价格
- 11.北京城市风道设计中要考虑的因素及合理的规划分别是
- A. 盛行风向，①风道的东南方向可建化工厂
 - B. 建筑物高度，②风道主要沿绿地、公园、河湖布局
 - C. 城郊热岛环流，③风道需大量拆迁高大建筑物
 - D. 人口密度，④风道有利于保护沿线文物古迹

第 II 卷 非选择题

36. (36 分) 读图 16 及材料，回答下列问题。

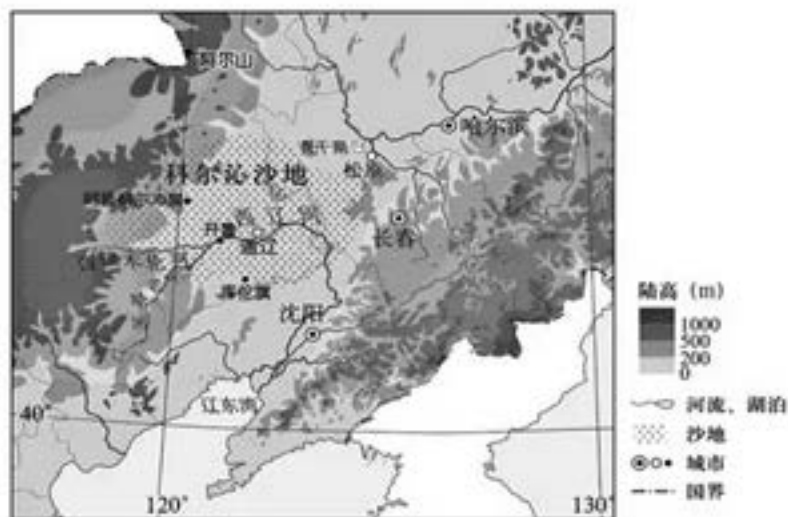


图 16

(1) 描述图示区域地形特征。(8分)

1991-1996年,我国某研究机构在科尔沁沙地进行了放牧试验,试验分为3个放牧强度进行,即重牧(6只羊/公顷)、中牧(4只羊/公顷)、轻牧(2只羊/公顷),主要研究不同放牧强度对草原植被的影响。图17为试验期内“不同放牧强度下物种丰富程度变化示意图”。

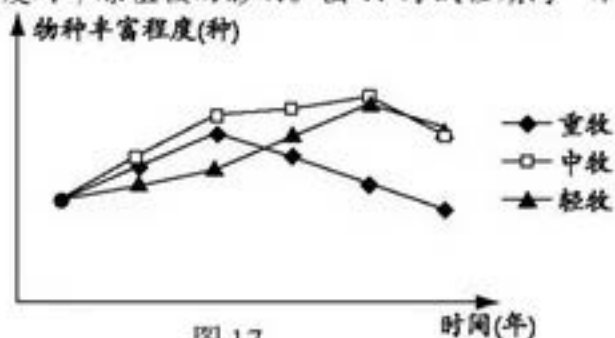


图17

(2) 描述图17中不同放牧强度下物种丰富程度的变化情况,简述该区域畜牧业合理发展的措施。(12分)

科尔沁沙地地下水丰富,埋藏深度10米左右,有沙地疏林分布,经治理,近年来沙地生态环境持续得到改善。

(3) 指出治理科尔沁沙地的有利自然条件,并说明理由。(8分)

阿尔山国家森林公园具有当今旅游业崇尚的“阳光、空气、绿色”三大要素,火山熔岩地貌也独具特色。

(4) 分析阿尔山火山熔岩地貌的旅游资源价值,并设计其旅游活动内容。(8分)

40. (20分) 德国地处欧洲“十字路口”,历史悠久,经济发达。

莱茵河发源于阿尔卑斯山,于荷兰鹿特丹注入北海,是德国最长的河流,也是世界上航运最繁忙的河流之一。

(1) 读图20,分析莱茵河航运价值高的原因。(10分)



图20

41. (24分) 2019年是新中国70华诞。70年光辉岁月,弹指一挥间,70年美丽蝶变,今朝千般秀。

材料一 近年来,物联网产业作为战略性新兴产业在各地纷纷兴起和发展,人们借助无线网

络技术，就可以实现人和物体“对话”，物体和物体之间也能“交流”。图 21 是“我国物联网重点企业的空间分布示意图”。（10 分）

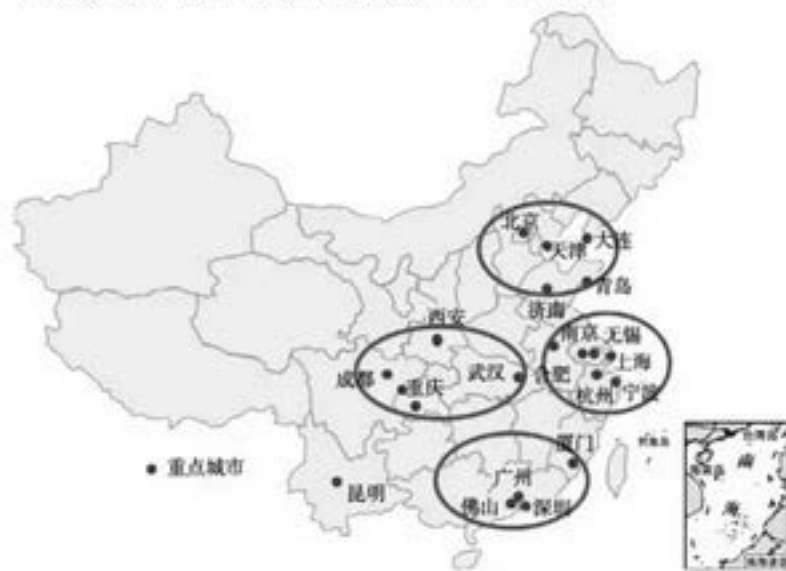


图 21

(1). 说出我国物联网重点企业的空间分布特点，并说出原因。（10 分）

2018~2019 学年度北京市大兴区高三第一次综合练习

地理参考答案及评分标准

选择题

题号	1	2	3	4	5	6	7	8	9	10	11
答案	B	B	D	C	D	D	C	A	C	A	B

非选择题

36. (36分)

(1) (8分) 以山地平原为主；东部西部为山地；中部为平原；地势东西两侧高，中间低。

(2) (12分) 变化：中牧区物种最丰富；随着放牧时间的加长，各放牧强度的物种丰富度均呈现先增加后减少趋势；放牧强度越大，物种开始减少的越早。(4分，三选二)

措施：规定合理的载畜量；划区轮牧、围栏放牧；提高技术水平，培育优良品种；进行畜产品的加工，延长产业链，增加附加值。(8分)

(3) (8分) 降水较多；距海较近，受夏季风影响较大；水源条件好；地下水丰富，埋藏浅；有疏林植被分布，抑制风沙活动。(三选二)

(4) (8分) 是典型火山地貌景观，有研究地质地貌的科学价值；
景观独特，非凡性突出，有美学价值；(4分，有因有果，合理即可得分)
赏火山地貌景观，利用温泉、地热度假疗养，科普讲座(4分)

40. (1) (10分)

温带海洋性气候，水量充沛；流量季节变化小，通航能力强；气候温暖无结冰期，通航时间长；平原地形河道宽阔，水流缓，通航安全；人工运河沟通，河海联运，通航里程长；

流经地区人口城市多，经济发达，市场需求大。(六选五)

41. (1) (10分)

分布差异：东部多，西部少；(2分) 集中分布在环渤海地区或京津冀地区、长江三角洲地区和珠江三角洲地区、西三角(川渝地区)；(2分，答出2个集中分布的地区即可)

原因：东部地区工业基础好，物联网企业生产协作条件好；高校和研发机构众多，有大量的研发人员和高素质的技术工人；经济发达，物联网市场需求大；其联系的范围(腹地)较广。

(6分，四选三，或者答西部地区的情况)

大兴区 2019 年高三政治一模试卷

政治试题

24.



沔阳雕花



耀州青瓷



福州漆器

图 9

剪纸、陶瓷、髹漆等传统手工艺是我国民间艺人数千年勤劳和智慧的结晶。然而，“隐在深山人未识”也曾是其一度面临的困境。如今，一批批传统手艺人不断创新，借助互联网等新媒体实现了从“守艺”向“创艺”的华丽转身。这一转变

- A. 体现互联网等新媒体已成为继承和发展优秀传统手工艺的主要途径
- B. 借助互联网的传递和共享功能促进了传统手工艺的传承与发展
- C. 充分表明互联网思维是助推传统手艺人实现工艺创新的根本原因
- D. 说明只要具备互联网思维必能推动传统手工艺从小圈子走向大市场

史书万卷，字里行间皆可见“家国”。“修身、齐家、治国、平天下”的人文理想，“天下兴亡，匹夫有责”的豪迈誓言……这种与国家民族休戚与共的壮怀，来自人生开始的地方——“家”。据此回答 25、26 题。

25. “家”字历经千古演变，字形由繁向简，字义所承载的内涵不断丰富。透过其形义及演变，我们可以认识到汉字是

- ①传统文化持续稳定的保障
- ②中华文化源远流长的见证
- ③中华民族文化的集中展示
- ④中华文明传承的重要标志



图 10

- A. ①②
- B. ①③
- C. ②④
- D. ③④

26. 穿越历史的长河，追寻现代的中国，家国情怀已经深深植根于华夏儿女的血脉之中，成为中华民族的精神特质。可见

- ①家国情怀源于我国人民对人与外部世界关系的主观思考
- ②家国情怀是我国在发展过程中经济政治在精神上的反映
- ③弘扬家国情怀对于实现中华民族的伟大复兴有指导作用
- ④家国和谐共存体现了矛盾同一性是推动事物发展的动力

- A. ①③
- B. ①④
- C. ②③
- D. ②④

27. 我国是爱玉之国，崇玉之邦，玉早已成为中华民族的文化符号。“宁为玉碎”的爱国气节；“瑕不掩瑜”的廉洁气魄；“润泽以温”的奉献品德……这种“寓德于玉，以玉比德”的“玉文化”随着时代更迭而经久不衰。下列说法正确的是

- ①“寓德于玉”体现了“德”与“玉”的自在联系
- ②“寓德于玉”中的“德”与“玉”之间相互决定
- ③“以玉比德”的玉文化是一个不断丰富过程

④“玉”的具体特性决定“以玉比德”的思想观念

- A. ①② B. ①③ C. ②④ D. ③④

28. 从哲学的角度看，图 11 给我们的启示有

- A. 实现人生价值需要有砥砺前行决心并积极践诺
B. 价值观对于人生价值的实现具有巨大的推动作用
C. 社会提供的客观条件是人们实现人生价值的前提
D. 实现人生价值要把握时机，扬长避短、量力而行



图 11 作者：刘志永

29. “滴”的一声，赵阿姨的手机收到了绿色账户积分，月底她就可以用积分兑换牙膏、洗衣粉等生活用品。垃圾分类换取积分的方式已经成为一种“新时尚”，这一时尚

- ①有利于调动居民垃圾分类的热情和积极性
②借助科技手段实现了人人都参与垃圾分类
③利用价格杠杆引导居民树立正确的消费观
④能够更好地落实国家倡导的绿色发展理念

- A. ①③ B. ①④ C. ②③ D. ②④

30. 2019 年全国“两会期待”调查结果如图 12 显示，就业问题备受关注。就业是民生之本，为了促进高质量的就业，国家应该

- ①坚持就业优先战略和更加积极的就业政策，安排劳动者在企业就业
②购买基本公共就业创业服务，发挥其在劳动力资源配置中的决定作用
③鼓励发展平台经济、共享经济等新业态，充分释放新动能带动就业效应
④围绕传统制造业向智能化发展对人才的需求，促进劳动者转岗提质就业



图 12

- A. ①② B. ②③ C. ①④ D. ③④

31.

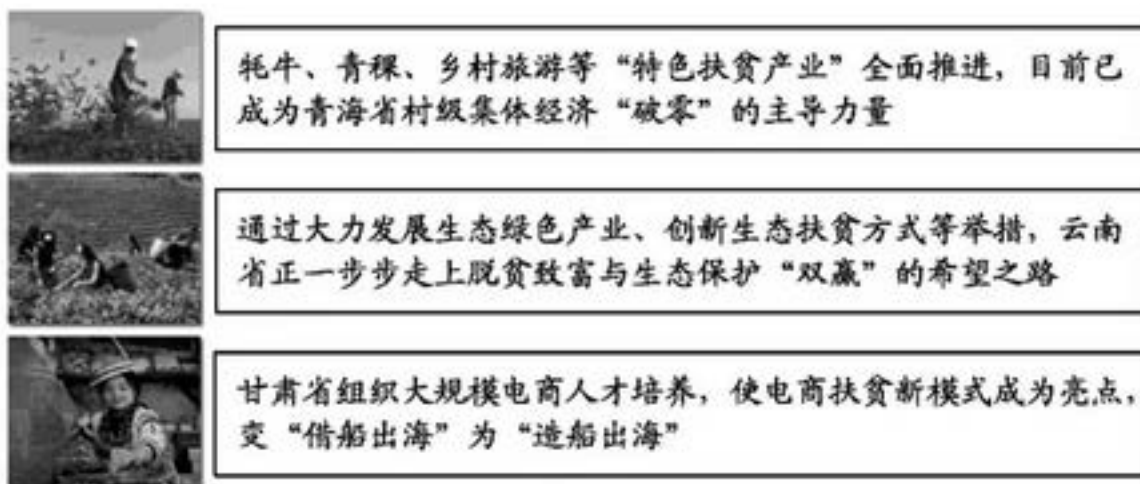


图 13

“空谈误国，实干兴邦。”图 13 中三地做法所体现的共同主题，表述最恰当的是

- A. 抓落实 促进旅游产业发展
B. 勇担当 生态文明建设先行
C. 借电商 互联网红利在乡村

D. 奔小康 脱贫路上各显其能

32. 读图 14，乙观点产生的社会背景和遇到的挑战分别是

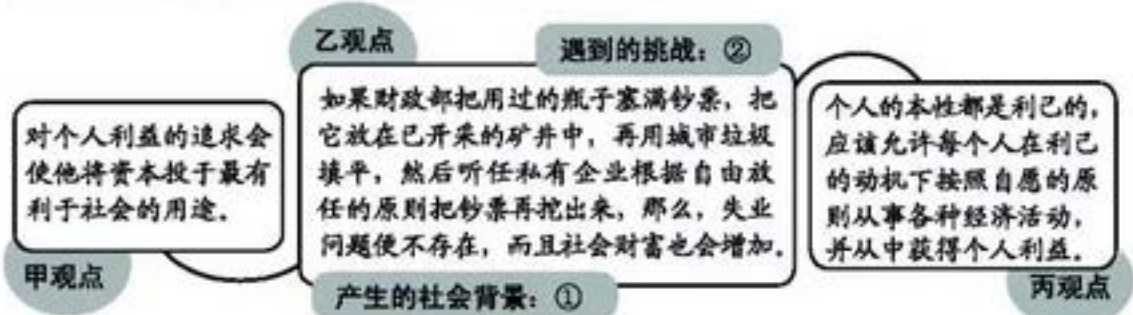


图 14

- A. ①圈地运动 ②生产过剩 B. ①经济危机 ②通货紧缩
C. ①经济危机 ②滞胀现象 D. ①滞胀现象 ②经济垄断

33. 推进北方地区冬季清洁取暖是事关“蓝天保卫战”成败与群众冷暖的民生工程。此项工作必须突出一个“宜”字，宜气则气，宜电则电，宜可再生则可再生，宜建筑节能则保温改造。某地采用强制禁煤方式推行清洁取暖，无法保障群众温暖过冬，这种“一刀切”行为是没有认识到

- A. 公民对于政府的重要决策和具体事务应享有知情权
B. 煤炭资源与天然气、电等清洁能源具有相互替代性
C. 创新是引领发展的第一动力和长期坚持的治国之道
D. 政府坚持深入调研和实事求是 对落实政策的重要性

34. 70 年风雨同舟，70 年见证辉煌。人民政协凝聚社会各个阶层、各个团体、各个行业的力量，在国家发展过程中积极履职，体现了中华民族和衷共济的精神。下列体现人民政协职能的是

- ①政协委员就垃圾秸秆焚烧综合发电以及环保产业发展问题建言献策
②政协委员对养老服务等专题进行深入调研，针对存在的不足督促改进
③2019 年两会期间政协委员听取并讨论政府工作报告及外商投资法草案
④区政协认真学习习近平关于加强和改进人民政协工作的重要思想理论
- A. ①②③ B. ①②④ C. ②③④ D. ①③④

35. 从图 15 显示的英国跌宕起伏的“脱欧”进程中，我们可以感受到与英国政治生活相一致的是



图 15

- ①国首相的权力很大并且可以直接对其选民负责
②政府在启动“脱欧”程序前需向议会提交议案并经其批准
③英国女王批准“脱欧”法案可见其掌握真正的国家权力

④英国议会下院否决了“脱欧”协议彰显其“至尊议会”的地位

A. ①② B. ②④ C. ①③ D. ③④

38. (32分) “未来竞争是管理的竞争，竞争的焦点在于每个社会组织内部成员之间及其与外部组织的有效沟通上。”良好的沟通不仅可以使人与人之间更加靠近，也有利于国与国之间实现共赢。

◇ 情感沟通

常听一些家长抱怨：“这孩子也不知怎么了，小时候可听话了，现在上了高中什么都要跟你唱反调，而且才说几句就嫌烦。”这样的埋怨并非偶然，而是非常普遍。

有位著名作家也遇到了这种不可避免的“代沟”问题，她在作品中这样写道：

当我结束市政府的工作，重新有时间过日子的时候，他已经是一个十八岁的青年，是高校学生了……我走近他，他退后；我要跟他谈天，他说，谈什么？我企求地追问，他说，我不是你可爱的安安了，我是我……他愿意将所有的时间给他的朋友，和我对坐于晚餐桌时，却默默无语，眼睛，盯着手机，手指，忙着传讯……

有多少父母和儿女深爱着彼此却不能互相了解，终日生活在一起却无话可谈，向往两相接触却找不到沟通的桥梁，渴望表达却最终无言。

(1) 结合材料和生活体验，运用《生活与哲学》的相关知识，谈谈你希望如何与父母进行有效的沟通？(10分)

◇ 文化沟通

由中意联合推出的实验京剧《图兰朵》是一部中西艺术深度融合的作品。该剧融合了中西方戏剧、音乐等元素，通过全视角解读“中国公主”的动人传说，在意大利首演便广受关注。该剧让西方观众在熟悉的故事中领略中国京剧艺术魅力，也为中意文化交流注入新活力。




随着中意两国在“一带一路”框架下合作日益深化，两国文化交流逐步丰富，涉及教育、旅游等合作领域，交流规模不断扩大。

国之文在于民相亲、民相亲在于心相通。中意两国在人文领域不断深化的合作不仅为两国民心相通架起一座座互通共融的桥梁，也为两国经济、政治关系的全面发展提供了强大动力。

(2) 结合材料，运用《文化生活》的相关知识，分析中意两国文化交流活动的意义。(10分)

◇ 区域沟通

材料一 “一带一路”好比丝带串起沿线国家，越来越多国家加入了“一带一路”朋友圈，大家在“群里”纷纷发言：

-  如今，国际环境发生深刻变化，中国提出“一带一路”倡议是要促进协同合作。正所谓“你好，我好，大家好！”中国愿意看到人类社会的共同进步。
-  消除贫困是人民享有和平的基础。“一带一路”建设有助于带动相关国家和地区经济发展，为解决国家、区域和其他国际问题带来希望。
-  在“一带一路”框架下，大批合作项目在世界各地铺展开来。各国之间也建立起更高水平的相互信任，并相互协商通过了一系列重大决议。

材料二



图 18

经过夯基垒台、立柱架梁的五年，共建“一带一路”正在成为中国参与经济开放合作、改善全球经济治理体系、促进全球共同发展繁荣、推动构建人类命运共同体的中国方案。

(3) 结合上述材料，运用当代国际社会的相关知识，谈谈对共建“一带一路”的认识。(12分)

39. (14分) 改造后的南锣鼓巷褪去了浓厚的商业气息，增添了一些有特色、有创意、有内涵的小店，还原了这个有着700多年历史底蕴的老街风貌。在“感受南锣鼓巷变化”的社会实践活动中，老师给同学们布置了任务：

任务一：出行规划

(1) 读图19，有三个前往南锣鼓巷的出行方案，请从中选择其一，并从《经济生活》角度说明理由。(6分)



图 19

任务二：策划宣传

第一阶段：网上查阅

为了更多了解南锣鼓巷的变化，网上寻找特色小店：

小店1：“饰绝”，独一无二的原创手工店。这里的饰品都是由店长设计、制作完成，每一件都是独一无二的。价格方面，根据材质不同价位不同。喜欢自己动手的女生还可以在这里买上一些珠子，亲自制作属于自己的个性饰品。

小店2：“创艺无限·心灵便当”是一间以软陶艺术为主题的设计小店。店里不仅有琳琅满目的创意手工产品，还是南锣鼓巷极少数允许游客随意拍照的店铺之一。小店的店员也会主动跟游客讲解软陶艺术品背后的故事……

小店3：在南锣鼓巷，与老手艺一起被人们关注的，还有老匠人。在“祥升行”，看着墙上挂着的一幅幅人像摄影，很多人都会停下来边欣赏边赞叹：“真像油画一样啊！”把人

像摄影拍成艺术品的是年近 70 被评为“南锣工匠”的摄影老匠人戴文济。

第二阶段：实地调研

请选择以上任意一家你最认同的小店进行调研：

(2) 为了解小店变化后的情况，你可以先向该店店主和店内顾客分别提出一个问题。(2 分)

①店主您好！_____

②这位顾客您好！_____

第三阶段：宣传报道

(3) 结合资料及了解的情况，请你运用《经济生活》的相关知识为该小店写一篇宣传报道。(6 分)

要求：观点鲜明；可以就某一点深入剖析，也可以全面论证；知识运用恰当、准确；论述逻辑性强，条理清晰。字数 150 字左右。

41. (24 分) 70 年光辉岁月，弹指一挥间，70 年美丽蝶变，今朝千般秀。

材料三



20 世纪 50 年代



20 世纪 60 年代



20 世纪 70~80 年代



20 世纪 90 年代至今

图 22

人们常说，衣食住行、穿衣吃饭，“衣”排在首位，名正言顺地在人们生活中占据着无可替代的地位。

新中国成立之初，我国处于经济发展的起步阶段，人们在穿着上追求实用、结实。全社会流行朴素美，穿列宁装、留短发是那时年轻女性的时尚装扮。

60 年代后期，中国进入一个特殊的历史时期，一身绿色的军装是当时最具特色的着装方式。

70~80 年代，随着我国对外开放的逐步推进，紧身衣、牛仔裤、红裙子及高跟鞋开始进入大众的视野，人们在着装上追求“个性化、高档化”。

90 年代至今，我国处于快速发展的时期，人们的审美观念日益成熟，着装彰显本性、追求时尚成为多数人的选择。

七十年来，人们的着装从朴素单调到丰富多彩，生活在变，服饰也在变。

(3) 有人说“服饰的变化反映着一个时代的思维，是时代的一面忠实的镜子。”请结合材料三，运用实践与认识的关系谈谈你对这句话的理解。(6 分)

2018~2019 学年度北京市大兴区高三第一次综合练习

政治参考答案及评分标准

客观题

题号	24	25	26	27	28	29	30	31	32	33	34	35
答案	B	C	C	D	A	B	D	D	C	D	A	B

主观题

38. (32 分)

(1) (10 分)

等级水平	等级描述
水平 4 (9-10 分)	观点鲜明, 能明确表达自己的见解; 紧扣问题, 全面展开论述; 知识运用准确、贴切; 逻辑严密, 条理清晰
水平 3 (5-8 分)	观点比较明确, 能表达自己的见解; 能扣住问题展开论述; 知识运用比较准确、贴切; 逻辑性较强, 有条理
水平 2 (2-4 分)	观点不明确; 论述不能集中指向问题, 罗列知识; 知识运用不正确; 论述缺乏逻辑, 条理性差
水平 1 (0-1 分)	应答与试题无关; 或重复试题内容; 或没有应答

参考示例:

- ①能够在平等的基础上进行沟通。自己和父母作为沟通的双方, 想法意见会存在差异, 但又彼此关心, 是对立统一的关系, 应该互相尊重。
- ②能够在相互理解、心平气和的状态下沟通。意识对于人体生理活动具有调节和控制作用, 只有在心平气和、积极心态的指导下, 沟通才会更加顺畅。
- ③能够积极主动的沟通。充分发挥主观能动性, 创造机会, 相互了解内心的想法, 进行更加深入的沟通。
- ④能够有策略的进行沟通。沟通过程中要坚持具体问题具体分析, 可以根据当时具体情况选择沟通的话题、方式, 必要时冷静后再沟通、交流。

(2) (10 分)

- ①通过中意两国文化交流, 实现两国不同民族文化之间的相互学习、借鉴, 促进中意两国文化的创新与发展, 推动我国民族文化走向国门, 增强我国文化的国际影响力, 增强文化自信。
- ②文化与经济相互影响、相互交融。通过中意两国文化交流, 可以促进教育、旅游等产业的发展, 实现经济上的互利共赢。
- ③文化与政治相互影响。通过两国文化交流, 可以促进国家间的相互理解, 减少隔阂, 增进

共识。

(3) (12分)

- ①在面对复杂多变的国际环境下，中国始终奉行独立自主的和平外交政策。提出“一带一路”倡议以促进各国合作互惠共赢，体现了我国维护世界和平、促进共同发展的外交宗旨。
- ②国家利益是国际关系的决定因素，共同利益是国家间合作的基础。共建“一带一路”，促进协同合作，实现共同发展，符合各国间的共同利益。
- ③和平与发展是当今时代的主题。共建“一带一路”有助于带动相关国家和地区经济发展，增强维护世界和平的力量，从而促进国际经济政治新秩序的建立，推动构建人类命运共同体。

39. (14分)

(1) (6分)

答案示例：选择方案三：地铁出行

理由：

- ①价格是影响消费决策的重要因素。选择地铁出行，可以节约出行的货币成本。
- ②地铁出行能够避免交通拥堵带来的风险，节约消费者的时间成本。
- ③地铁出行是消费者保护环境、绿色消费的重要体现，有利于践行绿色发展理念。
(选择方案一、二，可以从使用价值、时间成本、收入、消费心理等角度分析。)

(2) (2分)

答案示例：

- ①店主：请问您认为小店改造后最令顾客满意的是什么？
- ②顾客：请问小店改造后最吸引您的地方是什么？
(只要分主体提问，言之有理即可得分)

(3) (6分)

等级水平	等级描述
水平4 (5~6分)	观点鲜明；知识运用准确、贴切；逻辑严密，条理清晰
水平3 (3~4分)	观点比较明确；知识运用比较准确、贴切；逻辑性较强，有条理
水平2 (1~2分)	观点不明确；罗列知识或知识运用不正确；论述缺乏逻辑，条理性差
水平1 (0分)	应答与试题无关，或重复试题内容，或没有应答

参考示例：创艺无限 创意无限

在南锣鼓巷的深处，有一家小店“创艺无限”。小店里每一件软陶作品都体现着设计师的灵感和创意，产品的创新吸引着南来北往的游客。小店的魅力不仅在于精致的作品，更多的是店主能够准确把握消费者的心理，提供优质贴心的服务，让消费者有良好的消费体验。店主自己独特的营销方式满足了消费者多层次的消费需求，使小店更具吸引力，可谓“创意无限”。

41.

(3) (6分)

- ①实践是认识的来源。不同时期人们对服饰的审美追求反映了所处时代我国经济、政治的发展状况。
- ②实践是认识发展的动力。70年间我国经济、政治发展变化不断的推动着人们服饰审美观

念的转变。

③认识反作用于实践。新中国成立以来，人们对衣着不一样的审美认识指导其对服饰选择不同，带动了相关产业，促进了社会发展。