

2023 届高三冲刺卷(一) 全国卷 文科综合

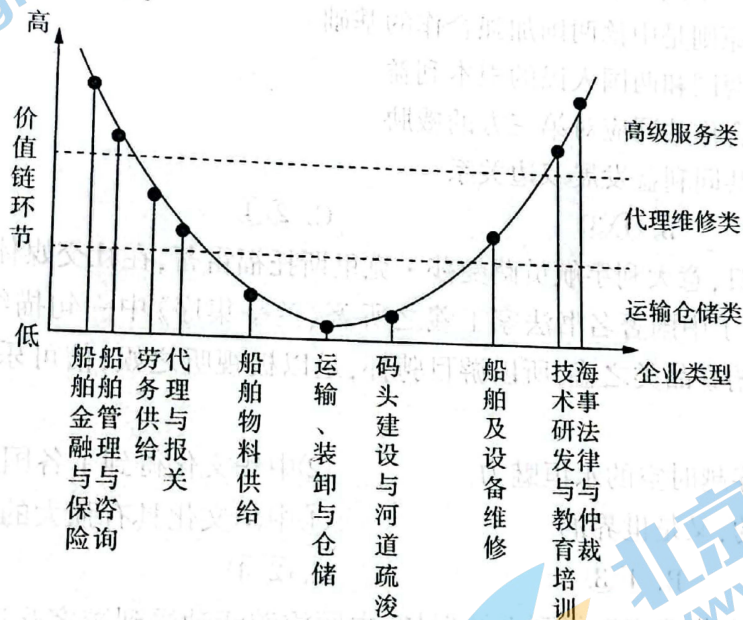
注意事项:

1. 答卷前,考生务必将自己的姓名、考生号等填写在答题卡上。
2. 回答选择题时,选出每小题答案后,用铅笔把答题卡上对应题目的答案标号涂黑。如需改动,用橡皮擦干净后,再选涂其他答案标号。回答非选择题时,将答案写在答题卡上。写在本试卷上无效。
3. 考试结束后,将本试卷和答题卡一并交回。

考试时间 150 分钟,满分 300 分

一、选择题:本题共 35 小题,每小题 4 分,共 140 分。在每小题给出的四个选项中,只有一项是最符合题目要求的。

长三角地区形成了以上海港为中心枢纽港,太仓港、嘉兴港等众多港口为外围边缘港的港口体系。在经济高速发展的背景下,港口企业、航运企业及相关物流服务企业也面临整合和重组,港口体系亟待转型。下图示意港口后勤要素的价值链分布,为长三角的港口体系转型提供理论依据。据此完成 1~2 题。



1. 下列产业中,更宜依托上海港发展的是
 - A. 运输与装卸产业
 - B. 船舶及设备维修产业
 - C. 高科技制造产业
 - D. 船舶金融与保险产业
2. 长三角的港口体系转型会促进
 - A. 运量格局趋于分散
 - B. 制造业向中心枢纽港集聚
 - C. 仓储布局趋于集聚
 - D. 国际航线向外围边缘港挂靠

- B. 船舶及设备维修产业
- D. 船舶金融与保险产业

2018 年某月 5-7 日和 27-29 日,四川盆地出现两次降水过程。下图示意两次降水过程部分天气要素的变化。据此完成 3~5 题。

冲刺卷(一) 全国卷 文科综合 第 1 页(共 12 页)

10. 与12月相比,11月反射镜
- A. 转动角度较大,倾斜角度较大
B. 转动角度较小,倾斜角度较大
C. 转动角度较大,倾斜角度较小
D. 转动角度较小,倾斜角度较小
11. 维加内拉村落一年当中照不到太阳光的时间大约为
- A. 1个月
B. 3个月
C. 5个月
D. 7个月
12. 2022年11月2日,美国联邦储备委员会宣布将联邦基金利率目标区间上调75个基点到3.75%至4%之间。这是美联储今年连续第六次加息,美国利率水平在一年内从接近零快速升至2008年1月以来最高位。不考虑其他因素,美国的政策带来的影响传导正确的是
- ①美元存款收益上升→美国居民消费意愿削弱→美国企业倒闭→工人失业
②国际资本流入美国→美元升值→中国在美商品价格下降→我国出口美国商品增多
③美元存款利率提高→流通中货币量减少→缓解通胀→物价上涨
④美元借贷成本提高→住房贷款负担加重→购房需求减少→房价下跌
- A. ①②
B. ①④
C. ②③
D. ②④
13. 2022年以来,面对需求收缩、供给冲击等压力,多数家电产品对欧洲出口额呈下降态势。在此背景下,取暖设备逆势增长、持续走俏,成为行业发展的亮点,助力轻工业经济稳增长,也展现了中国制造的发展水平。中国取暖设备畅销海外的原因可能是
- ①企业依靠科技创新,提高产品的价值量
②企业专注转型升级,提升产品品质
③企业以市场为导向,增加有效供给
④企业完善产业体系,降低经营成本
- A. ①③
B. ①④
C. ②③
D. ②④
14. 近年来,某县鼓励村集体经济、专业合作社、涉农企业等农业经营主体带头创办村级合作社,探索“村级供销合作社+企业+农户”等多种发展模式,成立以村级合作社为主体,村民以资金、土地、产品入股为股民的新型农业体系,打造“一村一品”特色产业,带动村民入社,共同增收致富。上述举措
- ①创新了农村经营模式,发展壮大农村集体经济
②确立了农民土地使用权,保障了农民合法权益
③培育新型农业经营主体,带动农民就业增收
④健全按要素分配的体制机制,实现社会公平
- A. ①②
B. ①③
C. ②③
D. ②④
15. 近两年,受新冠肺炎疫情等因素影响,部分养老托育服务机构可持续经营受到了很大冲击。2022年8月29日,国家发展改革委等13部门印发《养老托育服务业纾困扶持若干政策措施》的通知,明确了房租减免、税费减免、社会保险支持等26条纾困扶持措施。这说明
- ①国家降低市场准入门槛激发市场主体活力
②优化营商环境有利于培育壮大市场主体
③完善的市场机制有利于优化资源配置
④国家通过经济手段支持服务企业纾困发展
- A. ①②
B. ①④
C. ②③
D. ②④
16. 自2018年以来公安部连续5年组织全国公安机关开展“净网”专项行动,以集群战役和专项整治为抓手,以人民群众满意、网络秩序安定为目标,对网络违法犯罪发起强大攻势。专项行动以来,共侦破各类网络犯罪案件25.5万起,抓获犯罪嫌疑人38.5万名,有力维护了网络空间安全和网上秩序稳定。这表明公安机关

- ①公正司法,切实维护群众利益
③坚持依法行政,推进法治中国建设

- ②严格执法,实现社会公平正义
④维护法律权威,保障基本民主权利

A. ①③

B. ①④

C. ②③

D. ②④

17. 对口支援 20 多年,西藏多领域多方面获得了长足进步。民生领域的变化最是显著,医疗、教育、社会保障……一桩桩一件件,变化体现在群众日常生活里。从各类设施完善到人才不断成长,再到长效机制的建立,西藏不少地区在结对帮扶中不断变迁,一个个点的变化,正在雪域高原上连缀成片,跨越式可持续发展正在逐步实现。这表明

- ①民族团结是民族平等的基础,是社会稳定和发展的前提
②我国坚持民族平等、民族团结、各民族共同繁荣的方针
③对口支援政策协调了西藏的特殊利益和国家的整体利益
④民族共同体意识是推动国家和民族地区发展的根本动力

A. ①②

B. ①④

C. ②③

D. ②④

18. 2022 年 11 月 4 日,习近平主席会见德国总理朔尔茨。习近平强调,今年恰逢中德建交 50 周年。50 载历程表明,只要秉持相互尊重、求同存异、交流互鉴、合作共赢原则,两国关系的大方向就不会偏,步子也会走得很稳。中方愿同德方共同努力,构建面向未来的全方位战略伙伴关系,推动中德、中欧关系取得新的发展。由此可见

- ①和平共处五项原则是中德两国加强合作的基础
②中德合作符合两国和两国人民的根本利益
③中德两国友好合作共同应对第三方的威胁
④中德两国基于共同利益发展双边关系

A. ①②

B. ①③

C. ②④

D. ③④

19. 2022 年 10 月 12 日,意大利宇航员萨曼莎·克里斯托福雷蒂,在社交媒体上发布了一组太空摄影作品,并配上了中国著名书法家王羲之所著《兰亭集序》中一句描绘宇宙景观的古文,“仰观宇宙之大,俯察品类之盛,所以游目骋怀,足以极视听之娱,信可乐也。”引发中外网友热议。这表明

- ①文化经典具有穿越时空的永恒魅力
②中华文化得到了各国的广泛认可
③文化既是民族的,又是世界的
④中华文化具有强大的包容性

A. ①②

B. ①③

C. ②④

D. ③④

20. 在山东东营,黄河文化遗产正得到系统保护,主题旅游活动受到游客欢迎;在江苏扬州,非遗文化、运河美食等专题榜单发布,让公众感受“千年诗渡,胜景犹存”的历史穿越……一段时间以来,长城、大运河、长征、黄河、长江国家文化公园建设稳步推进,相关景点景区成为网红出游打卡地,展现出新时代文化建设的恢弘气象。高标准建设国家文化公园有利于

- ①繁荣文化旅游产业,保障人民群众基本文化权益
②赋予中华文化新的内涵,保护中国历史文化遗产
③推动中华优秀传统文化创新发展,讲好中国故事
④传承民族文化基因,铸牢中华民族共同体意识

A. ①②

B. ①③

C. ②④

D. ③④

冲刺卷(一) 全国卷 文科综合 第 4 页(共 12 页)

21. 2022年7月24日,问天实验舱搭载的生命生态等科学实验柜成功发射,开展了空间微重力条件下水稻和拟南芥的培养实验。本次实验其中一个目标是完成水稻在太空“从种子到种子”全生命周期的培养研究,为进一步解析空间微重力对水稻生长发育的影响和利用水稻进行空间粮食生产提供实验证据。材料说明

- ①事物在不同的联系中会有不同的特性
- ②人为事物的联系不以人的意志为转移
- ③人们可以利用规律创造新的自在事物联系
- ④把握联系的多样性是认识和利用事物的前提

A. ①③

B. ①④

C. ②③

D. ②④

22. 提到地沟油,很多人第一反应就是有害健康,但是如果用对了地方,地沟油也能发挥它的价值。“地沟油”不仅能变身“生物航煤”加进飞机里,还能变成“生物柴油”加进大巴车里,地沟油通过一系列的生化反应后,可与普通柴油按照5比95的比例参配成绿色能源:B5生物柴油。由此可见

- ①矛盾双方在一定条件下可以相互转化
- ②任何事物都是普遍性和特殊性的统一
- ③新事物代替旧事物是事物变化发展的基本状态
- ④观念创新可以促进事物价值的转换与创造

A. ①②

B. ①④

C. ②③

D. ③④

23. 习近平总书记在党的二十大报告中指出:“青年强,则国家强。当代中国青年生逢其时,施展才干的舞台无比广阔,实现梦想的前景无比光明。”百余年间,中国青年冲锋陷阵、浴血斗争,勇挑重担、甘于奉献,勇立潮头、拼搏奋进,谱写了中华民族伟大复兴进程中激昂的青春乐章。材料启示我们

- ①要在个人与社会的统一中实现人生价值
- ②顽强拼搏的精神是实现人生价值的前提
- ③奉献国家和人民事业是人生价值的最高标准
- ④人既是价值的创造者,又是价值的享受者

A. ①②

B. ①③

C. ②④

D. ③④

24. 儒家主张“列君臣父子之礼,序夫妇长幼之别,虽百家弗能易也”;法家强调“尊主卑臣,明分职不得相逾越,虽百家弗能改也”。这说明二者

- A. 思想主张渐趋合流
- B. 治国理念相互借鉴
- C. 主张稳定政治秩序
- D. 重视社会阶层差异

25. 东汉尚书台由西汉武帝内朝少府尚书演变而来,并下辖吏部、二千石、三公、中都等六曹,负责选举、辞讼、州郡考课等具体事务。尚书台的设置表明东汉

- A. 中枢权力分配出现调整
- B. 君主专制权力遭到削弱
- C. 内朝逐渐丧失决策权力
- D. 中央强化了对地方管控

26. 下表为隋唐人口变化统计表,出现这一人口变化是由于

冲刺卷(一) 全国卷 文科综合 第5页(共12页)

时间	人口	比率
隋炀帝大业五年(609)	4600 余万	100%
唐太宗贞观十三年(639)	1200 余万	26%

- A. 自然灾害的破坏
B. 租庸调制的推行
C. 农业生产的退步
D. 农民战争的影响
27. 据学者考证,明代有影响力的小说几乎都成书或刊刻于明代中后期,如《西游记》成书于嘉靖年间,《封神演义》成书于隆庆万历之际。这是因为明代中后期
- A. 江南市镇繁荣
B. 市民阶层兴起
C. 雕版印刷推广
D. 商品经济发展
28. 当利玛窦等传教士携“SCIENCE”一词初来中国时,明末徐光启借用古汉语中的“格致”为其命名。至洋务运动开展后的数十年间,人们习惯性地使用格致一词,并未对此产生过疑问。“格致学”也成为官方用语,频繁地出现在朝廷的公文之中。19 世纪末 20 世纪初,中国的报刊逐渐使用日文译语“科学”一词,之后“格致”便难以存身了。这一变化体现出
- A. 科学获得国人的认同
B. 报刊成为文化传播主媒介
C. 清政府主动学习西方
D. 知识界对西方认识的深入
29. 20 世纪初,上海市郊兴起种植蔬菜花果之风,如嘉定的部分农民将水稻田改造为可以种植蔬果的旱田,宝山的中上之家甚至雇工种植苗圃。这一现象的出现适应了
- A. 近代城市化的发展
B. 通商口岸的开辟
C. 自然经济开始解体
D. 雇佣劳动的普及
30. 1937 年 12 月,曾担任南京国民政府行政院参事的陈克文在日记中写道:战败后,许多人的自信心似乎渐次消失。张伯勉到四明银行接洽公务,便说政府改组,最好请毛泽东做行政院长,朱德做军政部长,他们的办法要多些。这可以说明当时
- A. 国民政府贪腐成风民心尽丧
B. 抗日民族统一战线开始破裂
C. 中国共产党获得一定的认可
D. 敌后战场已成为抗战主战场
31. 据统计,相较于 1952 年,1957 年广东省农民的日常消费中粮食增加了 10%、猪肉制品增加了 38.9%、食糖增加了 31.2%、棉布则增加了 30%。农民消费水平的提高主要是因为
- A. 土地改革的成功
B. 新型工业化的实现
C. 国民经济的恢复
D. 社会主义改造完成
32. 公元前 6—前 4 世纪,雅典城邦除了审判处死 10 将军中的 8 位和西西里远征的灾难性失败外,在两个世纪内并没有其他的重大决策失误。这得益于
- A. 十将军委员会的领导
B. 公民直接参与决策事务
C. 伯里克利改革的成功
D. 法律至上原则得到贯彻
33. 从但丁的《神曲》开始,到彼特拉克的《歌集》,再到薄伽丘的《十日谈》,这些人文主义者的眼光并没有局限于赞美人的自然天性,而是越来越多地给予人的社会属性以高度的关注。这反映出当时
- A. 资产阶级势力日益壮大
B. 人文思想的深入发展
C. 文艺复兴群众基础深厚
D. 反专制成为时代潮流

34. 直到1928年,苏联的农业生产主要以畜力和手工方式进行,大约1/3的农户缺乏进行独立经营所必需的生产资料,这说明当时的苏联

- A. 农村生产关系亟待调整
- B. 农民的生产积极性高涨
- C. 经济结构失衡的问题严重
- D. 农业集体化运动缺乏认同

35. 1975年,日本中央政府机关中的50万名公务员中,高等学校毕业的占90%,高级官员中基本上全是大学毕业生,其中尤以东京大学的毕业生为多。1978年英国文官队伍中的专家人数已达到45000人,比1968年增加了一倍。这些现象

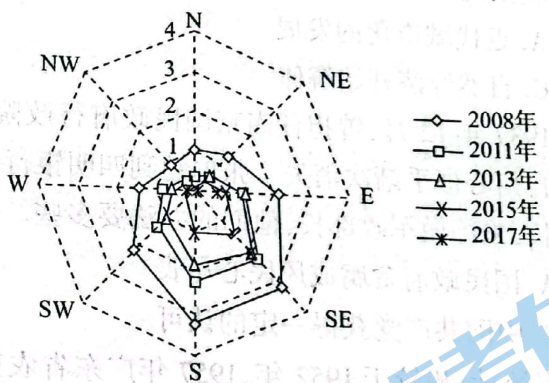
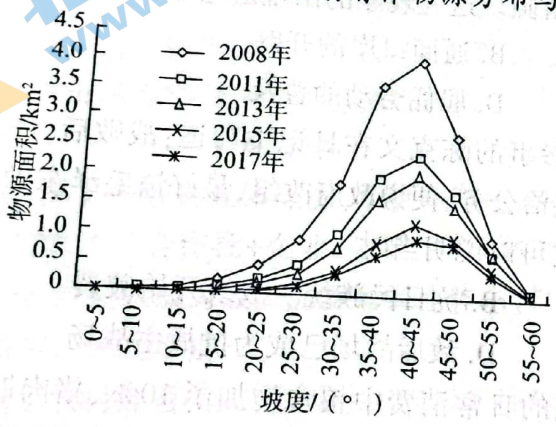
- A. 借鉴了中国的科举制度
- B. 契合了社会管理复杂化趋向
- C. 破坏了政治中立的原则
- D. 解决了严峻的青年就业问题

二、非选择题:共160分,第36~42题为必考题,每个试题考生都必须作答。第43~47题为选考题,考生根据要求作答。

(一)必考题:共135分。

36. 阅读图文资料,完成下列要求。(22分)

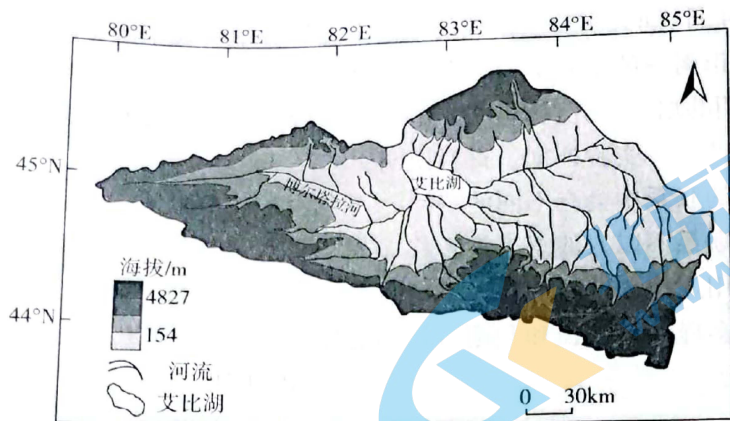
汶川地震是中国近代以来最具破坏性的地震,诱发了约50000处崩塌、滑坡,形成的固体松散物总体积达52.5亿 m^3 ,这些崩滑体成为震后泥石流活动的主要物源。研究汶川县映秀镇北部的14条沟的物源分布及演变发现,2008~2017年,流域内的崩滑体物源数量和面积不断减小。下图示意崩滑体物源分布与山体坡度、坡向的关系。



- (1) 描述崩滑体物源面积随山体坡度的变化特征。(6分)
- (2) 分析崩滑体物源面积随山体坡度变化特征的成因。(6分)
- (3) 2008—2011年期间各个坡度间的崩滑体物源面积减少最快,试推测其原因。(6分)
- (4) 图中显示,山体的南坡、东南坡的崩滑体物源数量减少速度最快,试分析原因。(4分)

37. 阅读图文资料,完成下列要求。(24分)

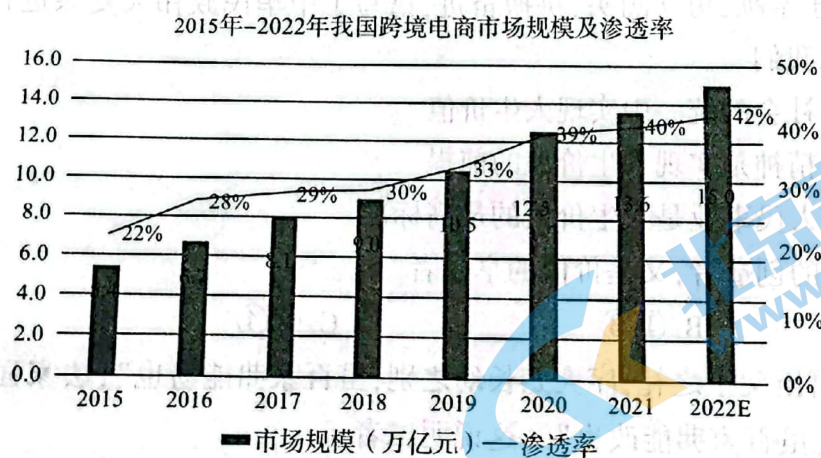
艾比湖流域位于新疆西北部,三面环山,东部与准噶尔盆地相连。艾比湖流域是新疆的聚落较为密集的区域,人口以从事农业生产活动为主,农田种植作物以棉花为主,农业面源污染严重。近20年来,全流域表现出明显的增温增湿,径流量明显增加,艾比湖水量微增,水质却呈下降趋势,夏秋季节明显差于冬春季节。下图示意艾比湖流域。



- (1) 推测近 20 年艾比湖流域增温增湿明显,湖泊水量仅微增的原因。(6 分)
- (2) 分析近 20 年艾比湖水质呈下降趋势的原因。(4 分)
- (3) 说明艾比湖水质夏秋季节明显差于冬春季节的原因。(6 分)
- (4) 结合艾比湖流域实际情况,列举为有效提升水质可采取的有效措施。(8 分)

38. 阅读材料,完成下列要求。(14 分)

材料一 党的十八大以来,我国锚定贸易强国建设目标,加快推进外贸转动力、调结构。2021 年,我国货物贸易总额达到 6.05 万亿美元,服务贸易突破 8 000 亿美元,较 2012 年分别增长 56% 和 70%;2022 年前 7 个月,与东盟进出口增长 13.2%,比中美、中欧进出口增长分别高了 1.4 和 4.3 个百分点。跨境电商行业如下图所示:



材料二 当前,我国外贸处在向好发展的关键期。但与一些国家相比,我国外贸在产业基础、创新能力、市场主体等方面还有差距,存在“大而不强”的问题。世界经济滞胀风险上升,主要发达经济体货币政策收缩,放大了外需市场不确定性。

结合材料并运用经济知识,分析阐述我国外贸的特点并说明如何建设贸易强国,拓展外贸空间。

39. 阅读材料,完成下列要求。(12分)

2012年11月15日,习近平总书记郑重的宣示言犹在耳:“要团结带领全党全国各族人民,接过历史的接力棒,继续为实现中华民族伟大复兴而努力奋斗。”这十年,以习近平同志为核心的党中央担负起对民族、对人民、对党的责任,践行初心、不负承诺。他在党的二十大报告中指出,我们经过接续奋斗,实现了小康这个中华民族的千年梦想,打赢了人类历史上规模最大的脱贫攻坚战,历史性地解决了绝对贫困问题,为全球减贫事业作出了重大贡献。反腐败斗争取得压倒性胜利并全面巩固,消除了党、国家、军队内部存在的严重隐患。生态环境保护发生历史性、转折性、全局性变化,我们的祖国天更蓝、山更绿、水更清……沉甸甸的党的二十大报告,字里行间诠释着什么是“言必信、行必果”,什么是“不忘初心、牢记使命”。

结合材料,运用政治生活知识,阐明为什么中国共产党能赢得民心、赢得时代。

40. 阅读材料,完成下列要求。(26分)

延安是中国革命的圣地、新中国的摇篮。从1935年到1948年,党中央和毛泽东等老一辈革命家在延安生活和战斗了13年,领导中国革命事业从低潮走向高潮、实现历史性转折,扭转了中国前途命运。毛泽东同志等老一辈革命家在延安,住窑洞、吃粗粮、穿布衣,用“延安作风”打败了“西安作风”。习近平总书记强调,在延安时期形成和发扬的光荣传统和优良作风,培育形成的以坚定正确的政治方向、解放思想实事求是的思想路线、全心全意为人民服务的根本宗旨、自力更生艰苦奋斗的创业精神为主要内容的延安精神,是党的宝贵精神财富,要代代传承下去。全党同志要大力弘扬自力更生、艰苦奋斗精神,无论我们将来物质生活多么丰富,自力更生、艰苦奋斗的精神一定不能丢,脚踏实地、苦干实干,集中精力办好自己事情,把国家和民族发展放在自己力量的基点上。全党同志要发扬斗争精神,提高斗争本领,坚决战胜前进道路上的各种困难和挑战,依靠顽强斗争打开事业发展新天地。

(1)运用文化生活的知识并结合材料,说明弘扬延安精神的时代价值。(10分)

(2)延安精神是党的宝贵精神财富,要代代传承下去。结合材料,运用意识作用的知识谈谈你对这句话的理解。(12分) 全站免费,更多学习资源关注公众号拾穗者的杂货铺x思维方糖研究所

(3)班级举行“赓续红色血脉、传承奋斗精神”主题班会,请列举两个发言要点。要求:主旨鲜明,朗朗上口,每个要点在15字以内。(4分)

41. 阅读材料,完成下列要求。(25分)

材料一 元末,群雄纷争,干戈不息,长江以北广大地区出现人烟断绝、土地荒芜的凄凉景象。鉴于此,明初政府强制移民内地和边疆,从事开荒和调军屯垦。十五世纪中叶,政府强制移民运动已结束,农民自发的流动成为主流。到了十六世纪,代之而来的是从农村流入城镇,实现空间上的流动;另一种则是弃农迁业,虽然空间上没有流动,但是从生产的内部分工观察,他们则由农业人口变为非农业人口,由农转而为工、商。这一发展趋势最早从东南沿海地区的农村开始。

——摘编自林金树《明代农村的人口流动与农村经济变革》

材料二 中古时期英国劳动力流动的动力主要来源于农业,农业生产率提高了,则城市化和非农产业获得显著发展,农业生产萧条萎缩则劳动力转移停滞不前甚至倒退。英国劳动力流动历时长达六七世纪之久,但城市人口仅占总人口比例的21%,农村人口中的大部分仍旧从事农业和依靠农业为生。这一时期英国农村劳动力的流动路线相对集中,其中尤以向首都伦敦的移民规模最大,使得首都的城市化进程最快。英国的农民也有行业上的流动,主要集中在纺织等轻工业部门。

——摘编自谷延方《中古英国农村劳动力转移和城市化特点》

- (1) 根据材料一并结合所学知识,概括明代农村人口流动的变化并分析其主要原因。(13分)
- (2) 根据材料二并结合所学知识,概括中古时期英国农村人口流动的特点并指出其积极影响。(12分)

42. 阅读材料,完成下列要求。(12分)

材料 花木兰是中国文艺史上一个经久不衰的经典人物,以下为木兰形象的统计。

时期	形象	出处
唐代	世有臣子心,能如木兰节,忠孝两不渝,千古之名焉可灭!	韦元甫《木兰歌》
清末民初	“我虽为一女子,亦国民之一份子也,我其往哉。”“天下兴亡,匹妇有责”	柳亚子《中国第一女豪杰女军人家花木兰传》
新中国初期	花木兰纠正男性(刘大哥)的唱段:许多女英雄,也把功劳建,为国杀敌是代代出英贤,这女子们哪一点不如儿男	1950年代,常香玉主演的豫剧电影《花木兰》

——摘编自郑皓怡《从“孝女”到“女杰”——花木兰形象的流变》

根据材料提取信息,结合所学知识拟定一个论题,并予以阐述。(要求:观点正确,史实准确,论证充分,表述清晰。)

(二)选考题:共25分。请考生从2道地理选考题、3道历史选考题中每科任选一题作答。如果多做,则每科按所做的第一题计分。

43. [地理—选修3:旅游地理](10分)

高速铁路作为一种快速、便捷且舒适的新型交通方式,深刻影响着区域旅游的发展,主要通过其产生的“时空压缩”效应来实现,具体表现为:第一,游客在景区的游览时间不变,但高铁缩短了其旅途时间;第二,游客安排的旅游总时间不变,而高铁缩短其旅途时间,相应地使游览时间增加。

说明高铁运输网的不断完善对游客的影响,及旅游景区应采取的适应性对策。

44. [地理—选修6:环境保护](10分)

地球大气中的 O_3 由原子氧和分子氧(O_2)的综合反应而形成,在对流层中, NO_2 光解是原子氧的主要来源。 O_3 作为一种强氧化性的空气污染物,不但直接危害人体健康,而且损伤植物内部结构,造成其光合能力降低。近年来,我国 O_3 污染总体上增加趋势较快,国内农作物产量损失持续增加,尤其是黄淮海平原的小麦产量损失最为严重,严重威胁到我国的粮食安全。

针对目前我国面临的 O_3 污染及其对粮食安全的威胁,请提出行之有效的应对措施。

45. 【历史——选修1:历史上重大改革回眸】(15分)

材料 唐代的司法机关由大理寺、刑部、御史台三大机关组成。凡大狱重囚,均由三大机关共同审理,史称“三司推事”,其中监察御史既享有一定范围内的审判权,还享有司法检察权。地方未解至中央的重大案件,三机关则派员充当“三司使”,其中监察御史参与会审并监督大理寺和刑部的司法审判活动。唐代的司法监察重点是地方司法活动,监察内容为依法断狱、审录囚徒、辨明冤枉等方面。唐代重视依法治吏,《唐律疏议》《唐六典》中对违规违纪及贪赃枉法等司法渎职和犯罪,法条之详尽、设禁之严密超过以往任何朝代,这成为司法监察的依据。唐代的统治者深知冤假错案带来的社会危害,将天下划分为十五道监察区,除去监察御史外,还不定期派出使臣巡行天下,对于冤假错案则会认真核察、及时纠正。

——摘编自李青《唐代的司法监察》

(1)根据材料,概括唐代司法监察制度的特点。(9分)

(2)根据材料并结合所学知识,简析唐代司法监察制度的影响。(6分)

46.【历史——选修3:20世纪的战争与和平】(15分)

材料 阿登纳(1949—1963年在任)上台后坚决反对德国社会民主党提出的“中立化”的要求,决心推行向西方一边倒的政策。加上由于德国羸弱不堪且未被西欧真正接纳,在处理与美国关系时不得不扮演“小兄弟”的角色,唯美国“马首是瞻”,从而获得了美国的安全庇护和大量的经济援助并顺利参加了欧洲的一体化。虽然大部分时间阿登纳政府都与美国站在一起,但在围绕德国统一的问题上,两国之间存在明显的分歧和矛盾,很明显阿登纳政府在核心利益上坚持了德国利益至上原则。阿登纳本人作为资产阶级政治家,坚决反对苏联为代表的社会主义国家,由此奉行不承认东德、不与东德建交的“哈尔斯坦主义”,以致在东西方关系缓和时,阿登纳政府在东方问题上处于无所作为的状态。

——摘编自刘旭《联邦德国阿登纳时期对美政策述评》

- (1)根据材料并结合所学知识,指出阿登纳政府外交政策的背景。(6分)
- (2)根据材料并结合所学知识,说明阿登纳政府外交政策的特点。(9分)

47.【历史——选修4:中外历史人物评说】(15分)

材料 蔡锷(1882—1916),近代著名的革命家。戊戌变法失败后,蔡锷东渡日本求学,比较系统地学习了“英法名儒之自由平等天赋人权诸学说”,逐步由维新改良转向民主共和思想,并投身反清革命的洪流之中。他在《新民丛报》上发表长文《军国民篇》,批评封建专制制度,鼓吹军国民主义,呼吁陶铸尚武国魂。武昌起义爆发后,蔡锷担任云南反清起义的总指挥,领导云南起义取得了成功。鉴于当时各省纷纷宣告独立,大多数省份主张实行联邦制的情势,蔡锷认为应该建立一个全国性的领导机关,统一领导革命,建立共和政府,并强调“国基未固,非有强有力之中央政府,不足以应对乱局”。蔡锷还认为“人民即一国之主人翁,凡制定宪法,推举总统,票选议员,皆出自一班人民之公意”。1916年,蔡锷病逝,孙中山以班超、马援为比喻,题写挽联“平生慷慨班都护,万里间关马伏波”。

——摘编自邓江祁《论蔡锷民主共和思想与实践》

- (1)根据材料并结合所学知识,概括蔡锷民主共和思想内涵。(9分)
- (2)根据材料并结合所学知识,简要评价蔡锷的民主共和思想。(6分)

2023 届高三冲刺卷(一) 全国卷

文综政治参考答案及评分意见

12. D【解析】美联储加息可以推出美元存款收益上升,美国居民消费意愿削弱,但并不一定会带来美国企业的倒闭,①错误。美联储加息推出国际资本流入美国,美元升值,中国在美商品价格下降,我国出口美国商品增多,②正确。美元存款利率提高,流通中的货币量减少,缓解通货膨胀,推导出物价下跌而不是上涨,③错误。美元借贷成本提高推导出住房贷款负担加重,购房需求减少,带来房价下跌,④正确。故选 D。

13. C【解析】产品的价值量由生产产品的社会必要劳动时间决定,科技创新并不能提高产品的价值量,①错误。专注转型升级,提升产品品质属于中国取暖设备畅销海外的可能的原因,②符合题意。取暖设备逆势增长、持续走俏体现了企业以市场为导向,增加有效供给,③符合题意。企业完善产业体系,降低经营成本不属于取暖设备畅销海外的原因,④不符合题意。故选 C。

14. B【解析】探索“村级供销合作社+企业+农户”等多种发展模式体现出创新了农村经营模式,发展壮大农村集体经济,①符合题意。材料中是村民以资金、土地、产品入股而不是确立农民土地使用权,②错误。集体经济、专业合作社、涉农企业等农业经营主体带头创办村级合作社体现了培育新型农业经营主体,带动农民就业增收。③符合题意。农民以资金、土地、产品入股体现了健全按要素分配的体制机制,让一切创造财富的源泉充分涌流,而不是实现社会公平,④错误。故选 B。

15. D【解析】“降低市场准入门槛”的说法缺乏材料信息支撑,①不符合题意。材料强调政府宏观调控而不是市场机制发挥作用,排除③。房租减免、税费减免、社会保险支持等体现了国家通过经济手段支持服务企业纾困发展;优化营商环境,培育壮大市场主体。②④符合题意。故选 D。

16. C【解析】公安机关属于行政机关,司法机关公正司法,①错误。公安部连续 5 年组织全国公安机关开展“净网”专项行动体现了公安机关严格执法,实现社会公平正义,②符合题意。专项行动以来,共侦破各类网络犯罪案件 25.5 万起等材料信息体现了坚持依法行政,推进法治中国建设,③符合题意。材料体现了维护法律权威,但是没有体现保障基本民主权利,④错误。故选 C。

17. C【解析】民族平等是民族团结的基础,①错误。对口支援 20 多年,西藏不少地区在结对帮扶中不断变迁体现了我国坚持民族平等、民族团结、各民族共同繁荣的方针,②符合题意。对口支援使西藏地区发生了变迁体现了对口支援政策协调了西藏的特殊利益和国家的整体利益,③符合题意。民族共同体意识是推动国家和民族地区发展的动力,但不是根本动力,④错误。故选 C。

18. C【解析】国家间的共同利益是中德两国合作的基础,而不是和平共处五项原则,①错误。中德关系的发展历程体现了中德合作符合两国和两国人民的根本利益,②正确。中国不同任何国家结盟,“共同应对第三方威胁”表述错误,③错误。中德两国相互尊重、求同存异、交流互鉴、合作共赢等体现了中德两国基于共同利益发展双边关系,④符合题意。故选 C。

19. B【解析】中国古文能穿越千年的时光,跨过语言的障碍,在茫茫太空中引发一个外国人的情感共鸣,这体现了文化经典具有穿越时空的永恒魅力,①正确。材料没有体现中华文化得到了各国的广泛认可,②不符合题意。意大利宇航员在社交媒体上发布了一组太空摄影作品,配上了中国描绘宇宙景观的古文,这体现了文化既是民族的,又是世界的,③符合题意。材料没有体现中华文化具有强大的包容性,④不符合题意。故选 B。

20. D【解析】发展文化事业,保障人民群众基本文化权益,①错误。材料不体现赋予中华文化新的内涵,②错误。在江苏扬州,非遗文化、运河美食等专题榜单发布,让公众感受“千年诗渡,胜景犹存”的历史穿越等材料体现了推动中华优秀传统文化创新发展,讲好中国故事,③符合题意。长城、大运河、长征、黄河、长江国家文化公园建设有利于传承民族文化基因,铸牢中华民族共同体意识,④符合题意。故选 D。

21. B【解析】材料中种子在条件下的变化体现了事物在不同的联系中会有不同的特性,①符合题意。材料不体现人为事物的联系不以人的意志为转移,②不符合题意。材料体现的是人们利用规律建立新的人

为事物的联系,而不是自在事物的联系,③错误。完成水稻在太空“从种子到种子”全生命周期的培养研究体现了把握联系的多样性是认识和利用事物的前提,④符合题意。故选 B。

22. B【解析】众所周知,地沟油对人体健康有害,但如果用对了地方,“地沟油”不仅能变身“生物航煤”加进飞机里,还能变成“生物柴油”,这体现了矛盾双方在一定条件下可以相互转化,①符合题意。材料没有体现矛盾普遍性和特殊性的统一,②错误。量变和质变是事物变化发展的基本状态,③错误。提到地沟油,很多人第一反应就是有害健康,但是如果用对了地方,地沟油也能发挥它的价值,这体现了观念创新可以促进事物价值的转换与创造,④符合题意。故选 B。

23. B【解析】“当代中国青年生逢其时,施展才干的舞台无比广阔,实现梦想的前景无比光明”,中国青年冲锋陷阵、浴血斗争,勇挑重担、甘于奉献,勇立潮头、拼搏奋进,这体现了要在个人和社会统一中实现人生价值,①符合题意。社会提供的客观条件是实现人生价值的前提,②错误。“青年强,则国家强”“谱写了中华民族伟大复兴进程中激昂的青春乐章”等材料启示我们奉献国家和人民事业是人生价值的最高标准,③符合题意。人既是价值的创造者,又是价值的享受者,不属于材料的启示,排除④。故选 B。

38.【参考答案】

我国外贸的特点:我国外贸总量稳步增加(1分),外贸结构持续优化(1分),贸易伙伴更加多元(1分),跨境电商规模及渗透率稳步逐年增长,外贸新业态新模式不断发展。(2分)中国外贸呈现出量质齐升、量增质优态势。(1分)

举措:不断夯实外贸产业基础,提高自主创新能力,推动外贸产业转型升级。(2分)着力培育开放型经济发展新优势,形成以技术、品牌、质量、服务为核心的出口竞争新优势。(2分)着力拓展多元化外贸市场,发展新业态新模式,不断拓展贸易空间。(2分)构建以国内大循环为主体,国内国际双循环相互促进的新发展格局。(2分)

【解析】对于我国外贸的特点,2021年,我国货物贸易总额达到6.05万亿美元,这体现了我国外贸总量稳步增加。服务贸易突破8000亿美元体现了外贸结构持续优化。2022年前7个月,与东盟进出口增长13.2%,比中美、中欧进出口增长分别高了1.4和4.3个百分点,这体现了贸易伙伴更加多元。跨境电商行业的发展体现了跨境电商规模及渗透率稳步逐年增长,外贸新业态新模式不断发展。我国外贸发展的总体状态体现了中国外贸呈现出量质齐升、量增质优态势。

对于如何建设贸易强国,拓展外贸空间:根据我国外贸在产业基础有差距得出,要不断夯实外贸产业基础。由创新能力不足得出,要提高自主创新能力,推动外贸产业转型升级。由“世界经济滞胀风险上升,主要发达经济体货币政策收缩,放大了外需市场不确定性”得出,要构建以国内大循环为主体,国内国际双循环相互促进的新发展格局。综合我国外贸存在的问题需要着力培育开放型经济发展新优势,形成以技术、品牌、质量、服务为核心的出口竞争新优势。

39.【参考答案】

①中国共产党坚守初心使命,始终坚持人民主体地位,坚持以人民为中心,立党为公、执政为民,把人民对美好生活的向往作为党的奋斗目标,坚持人民利益至上,对人民不负承诺。(4分)②勇于自我革命是中国共产党区别于其他政党的显著标志。中国共产党始终坚持党要管党、全面从严治党,加强党的长期执政能力建设,保持党的先进性和纯洁性。(4分)③中国共产党是中国工人阶级的先锋队,同时是中国人民和中华民族的先锋队,具有与时俱进的执政能力。(4分)

【解析】这十年,以习近平同志为核心的党中央担负起对民族、对人民、对党的责任,践行初心、不负承诺;打赢脱贫攻坚战等材料体现了中国共产党坚守初心使命,始终坚持人民主体地位,坚持以人民为中心,立党为公、执政为民,把人民对美好生活的向往作为党的奋斗目标,坚持人民利益至上,对人民不负承诺。反腐败斗争取得压倒性胜利并全面巩固,消除了党、国家、军队内部存在的严重隐患,这体现了勇于自我革命是中国共产党区别于其他政党的显著标志,中国共产党始终坚持党要管党、全面从严治党,加强党的长期执政能力建设,保持党的先进性和纯洁性。材料中十年中国的发展体现了中国共产党是中国工人阶级的先

锋队,同时是中国人民和中华民族的先锋队,具有与时俱进的执政能力。

40.【参考答案】

(1)①文化是一种精神力量,在认识世界和改造世界的过程中可以转化为物质的力量,对社会发展产生深刻影响。弘扬延安精神有利于激励全党人民为实现全面推进中华民族伟大复兴团结奋斗。(3分)②延安精神是中国精神生动诠释,丰富和发展了以爱国主义为核心的民族精神,为推动社会发展提供强大的精神动力和精神支撑。(3分)③延安精神是革命文化的重要组成部分,弘扬延安精神有利于传承革命文化,赓续红色血脉,坚定历史自信,增强历史主动,更好构筑中国精神、中国价值、中国力量。(4分)

(2)意识是对物质的能动反映,对物质具有能动的反作用。(3分)延安精神是在延安时期形成和发扬的光荣传统和优良作风,是激励中国人民坚持抗战、争取胜利的强大精神动力。(3分)意识对于人体生理活动具有调节和控制作用。(3分)延安精神依然能够激励我们坚决战胜前进道路上的各种困难和挑战,依靠顽强斗争打开事业发展新天地,要代代传承下去。(3分)

(3)示例:传承红色基因,勇担强国使命;(2分)重温革命历史,继承光荣传统。(2分)

【解析】(1)领导中国革命事业从低潮走向高潮,实现历史性转折,扭转了中国前途命运,用“延安作风”打败了“西安作风”等材料体现了文化是一种精神力量,在认识世界和改造世界的过程中可以转化为物质的力量,对社会发展产生深刻影响。延安精神的内涵是中国精神生动诠释,体现了以爱国主义为核心的民族精神。全党同志要大力弘扬自力更生、艰苦奋斗精神体现了传承革命文化,赓续红色血脉,坚定历史自信,增强历史主动,更好构筑中国精神、中国价值、中国力量。

(2)延安精神是在延安时期形成和发扬的光荣传统和优良作风,这体现了意识是对物质的能动反映。领导中国革命事业从低潮走向高潮,实现历史性转折,扭转了中国前途命运,这体现了意识对物质具有能动的反作用。全党同志要发扬斗争精神、提高斗争本领,坚决战胜前进道路上的各种困难和挑战,依靠顽强斗争打开事业发展新天地。这体现了意识对于人体生理活动具有调节和控制作用。

(3)该题是开放性试题,主题明确,字数合适均可得分。

2023 届高三冲刺卷(一) 全国卷 文综地理参考答案及评分意见

1. D【解析】根据港口后勤要素的价值链分布图,可以判断船舶金融与保险产业在四个选项中是价值最高的,更适合依托中心枢纽港上海港的发展。故选 D。

2. A【解析】港口体系的转型会促进中心枢纽港和外围边缘港的运输格局的调整和产业分工协作。其中运输和仓储会更多由边缘枢纽港承担,更加趋于分散,A 正确,C 错误。而中心枢纽港凭借其强大的港口条件可以承接更多的来自国际航线的大型货轮的停靠,D 错误。至于产业的分工协作,中心枢纽港适合发展价值链高端的产业,边缘枢纽港适合发展低端的产业,所以制造业适合向外围边缘港集聚,B 错误。故选 A。

3. B【解析】根据温度和气压的变化,即温度下降,气压升高,可以判断引起降水的天气系统为冷锋。故选 B。

4. D【解析】根据图中气温的分布,0—10℃之间,可以判断为冬半年的四川盆地,3 月份已经进入春季,气温逐步升高,因此整体趋势是 3 月底温度要高于 3 月初,而题目里是月底温度低于月初,因此可以判断为 12 月。故选 D。

5. A【解析】5—7 日的降温幅度更大,因此冷空气势力更强,A 正确。降水过程对大气的削弱作用有影响,会影响到降温,B 错误。5—7 日的降水量更大,因此暖空气湿度更大,C 错误。据图可知两次降温最低气温均达到过 3—4 摄氏度,是有可能发生降雪或雨夹雪的,D 错误。故选 A。

6. A【解析】米兰和周边城镇之间的庞大产业集群形成的基础是密切的产业分工与协作,周边城镇拥有成熟的产业体系,承接更多的人口,避免米兰大都市的无序扩张。故选 A。

7. D【解析】周边城镇拥有成熟的产业体系,创造了大量的就业,并且与米兰之间有着明确的产业分工,并非趋同,因此没有出现大量人口前往米兰的现象。故选 D。

8. B【解析】米兰作为城市群的核心城市,拥有强大的辐射能力,其更适合发展价值链体系中附加值更高的产业,比如高新技术工业和服务业。故选 B。

9. B【解析】意大利位于北半球中纬度,由材料可知,维加内拉村落冬季利用镜子反射太阳光照明。冬季中午前后,太阳大致位于南方。故选 B。

10. C【解析】从材料中可知,随着太阳的移动,反射镜相应进行倾斜(倾斜角度为反射镜和地面的夹角)和转动,始终让阳光向下反射。与 12 月相比,11 月昼长较长、同时刻太阳高度角较大,因此反射镜转动角度较大,倾斜角度较小。故选 C。

11. B【解析】从材料中可知,每年的 11 月中旬开始,村落得不到阳光的照射。村落得不到阳光的照射的终止日期与起始日期应关于 12 月 22 日对称。故得不到太阳光照射的终止时间月为 2 月初,可算出一年当中照不到太阳光的时间大约为 3 个月。故选 B。

36.【参考答案】

(1)随着坡度增加物源面积逐渐增大;在坡度为 40°~45°时达到最大值;随后又迅速降低。(6 分)

(2)坡度大于 45°的地方,松散碎屑物质发育较薄,不利于浅层滑坡发生;坡度小于 20°,坡度较小,坡体较稳定。(6 分)

(3)震后山体松弛,地表破碎,松散物源充足;期间爆发强降雨,形成强烈的地表径流;崩滑体物源被冲刷进入沟道,并随径流流出沟口。(6 分)

(4)南坡、东南坡的崩滑体发育更为突出,物源面积基数大;地处迎风坡,降雨集中,崩滑体物源更易被降雨冲刷进入沟道,冲出沟口。(4 分)

【解析】(1)据图可知不同坡度崩滑体的分布特征,即随坡度增大先增后减。

(2)坡度较大会因为松散物质发育较差,坡度较小会因为坡体较稳定,导致崩滑体物源面积较小。

(3)2008—2011年是地震之后最初时期,该时段松散物质量较大,侵蚀量大,同时期间必然伴随强降雨,从而将其侵蚀搬运出沟口。

(4)据图可知南坡和东南坡的崩滑体本身面积更大,因此侵蚀量大,同时又地处迎风坡,雨水侵蚀强度更大,共同导致崩滑体物源数量减少最快。

37.【参考答案】

(1)艾比湖水量主要依赖于流域内各河流水量的汇入;近20年来流域内各冲积平原水土资源利用加大,农田灌溉引用河水量不断增大;各河流在流向艾比湖的过程中蒸发、下渗消耗明显。(6分)

(2)艾比湖流域是重要的农业区,化肥农药的使用产生大量废水,这些废水进入河流,随河流进入湖泊,从而恶化了艾比湖的水质。(4分)

(3)夏秋季节是棉花生长季节,农田化肥农药使用量大,大量N、P等营养元素在土壤中富集;随径流流失是土壤中营养元素进入水体的主要途径;夏秋季冰雪融水和降雨带来的地表径流冲刷地面,大量营养物质随之输入湖中。(6分)

(4)流域内农区加强管理,禁止污染物的随意排放;实施保护性耕作和精准施肥,减少农田养分流失;加强植树种草,实施生态建设;进行景观格局规划,以改善湖泊水质。(8分)

【解析】(1)艾比湖直接依赖于流域内河流的补给,而流域处于增温增湿的状态,所以河流的径流量是明显增加的,但是湖水量仅微增,从而可以判断出河流在注入湖泊途中被大量利用,材料中流域属于重要的农业区就是佐证,同时沿途的下渗和蒸发也是重要原因。

(2)本题考查农业污染的过程。农业污染主要源自于化肥农药的使用,其伴随着被污染的地表水流入河流,继而随着河流注入湖泊。

(3)污染的季节差异要从两个方面分析,即污染源和地表径流。夏秋季节伴随棉花的快速生长,同时也是污染物大量产出的过程,另外夏秋季节也是地表径流量较大的季节。

(4)加强管理,精准施肥,生态建设,加强治理是针对艾比湖流域农业污染实际情况的有效提升水质的措施。

43.【参考答案】

影响:旅途时间的缩短激发了游客的出游动机,尤其是远距离的出游;游览时间的增加可放慢游客的旅游节奏,有更好的旅游体验;也增加了游览周围景区的机会,进行丰富多样的旅游活动。(4分)

对策:景区应不断提高自身吸引力,提供更高品质的旅游产品,将潜在游客转化为真实游客;丰富旅游业态,并加强与周边景区合作,以满足游客在游览时间增加背景下的旅游新需求。(6分)

【解析】根据材料可知高铁通过“时空压缩”效应影响旅游,因此对游客的影响表现在出游动机和旅游过程两个方面。而景区应针对相应的影响采取适应性对策,即提升自身水平和丰富旅游产品。

44.【参考答案】

加强管理,严格控制 NO_2 等污染气体的排放;结合我国农作物对 O_3 污染的响应特征,建立保护农作物的空气 O_3 质量标准;加强粮食主产区的大气 O_3 的监测和预警,及时指导农民采取适当应对措施;对 O_3 污染严重地区重点治理;研究推广抗 O_3 污染农作物品种和减缓 O_3 危害的农业耕作措施。(10分)

【解析】根据材料可知 NO_2 光解是原子氧的主要来源,因此首先应控制该气体的排放。然后应加强对 O_3 的监测预警和重点治理,并研究推广相适应的农作物品种等。

2023届高三冲刺卷(一) 全国卷

文综历史参考答案

24.C 25.A 26.D 27.D 28.D 29.A 30.C 31.D 32.B 33.B 34.A 35.B

41.(1)

变化：前期带有政治性和强制性，后期则是在经济因素影响下自发性的流动；
迁移方向不同，前期由南方迁移到内地和边疆，中后期则是由农村流向城镇为主；
由前期侧重于空间上的流动，到中后期职业上由农到工、商的流动。
(每点3分，共9分)

原因：前期由于农民战争导致人口减少与人口的空间分布不均衡，政府为维护统治采取了强制措施；
后期由于人口增加，商品经济发展和市镇的繁荣，出现了自发性的由农村向城镇的流动和职业上的横向流动。(每点2分，共4分)

(2)

特点：以农业发展为动力；
历时长、城市化水平低；
以首都为中心，地域不均衡；
产业不均衡，以轻工业为主要方向等。(每点2分，共8分)

积极影响：推动城市化进程；
为中古后期的资本主义发展提供了自由劳动力等。
(每点2分，共4分)

42.

论题：人物的形象随时代而流变(2分)

阐述：花木兰初见于《木兰辞》，塑造了替父从军的形象。到了唐代，随着儒家文化的影响和封建君主专制的加强，《木兰歌》中塑造了一个“忠”“孝”两全的女性形象，这契合了传统封建社会对女性的要求。清末民初，民族危机加深，随着思想解放的推进和近代社会转型，花木兰的形象也发生了变化，女性也成为救亡图存的一分子，柳亚子塑造的人物形象就是这一时代的折射。新中国成立后，妇女工作发生了革命性的变化，国家高度重视男女平等，女性也成为国家建设的重要力量。电影塑造的独立女性形象就是这一时期妇女解放的反映。(8分)

综上所述，花木兰形象跟随时代潮流，满足时代需求，是人们思想解放，妇女社会地位变化的时代缩影。(2分)

45.

(1)特点：御史监察权参与司法审判活动；
以地方司法活动为监察重点，监察范围广；
法律严密，有法可依；
监察方式多样化；
定期监察与不定期巡查相结合等。
(每点3分，任答3点即可，共9分)

(2)影响：一定程度上减少了冤假错案的发生，有利于司法公正；

有利于减少社会矛盾等。(每点2分，共4分)

司法监察是封建专制制度的一部分，其以维护专制统治为目的，难以实现真正的司法公正。(2分)

冲刺卷(一) 全国卷 历史答案 第1页(共2页)

46.

(1)背景：美苏冷战对峙；

德国分裂，联邦德国国力孱弱；

美国扶植联邦德国等。

(每点2分，共6分)

(2)特点：奉行向西方“一边倒”；

依附于美国；

国家利益至上，带有一定的独立性；

意识形态色彩浓厚等。

(每点3分，任答3点即可，共9分)

47.

(1)内涵：强调军国民主义、启迪民智；

主张革命、建立民主共和政体；

主张建立统一的中央政府，强化中央权威；

重视人民的地位和作用等。

(每点3分，任答3点即可，共9分)

(2)评价：蔡锷的民主共和思想推动了辛亥革命的进行，有利于近代中国民主政治的转型。(3分)

但在半殖民地半封建社会，资产阶级民主共和并不能挽救中国的命运，因此，其救国方案以失败而告终。(3分)

关于我们

北京高考在线创办于 2014 年，隶属于北京太星网络科技有限公司，是北京地区极具影响力的中学升学服务平台。主营业务涵盖：北京新高考、高中生涯规划、志愿填报、强基计划、综合评价招生和学科竞赛等。

北京高考在线旗下拥有网站门户、微信公众平台等全媒体矩阵生态平台。平台活跃用户 40W+，网站年度流量数千万量级。用户群体立足于北京，辐射全国 31 省市。

北京高考在线平台一直秉承 “精益求精、专业严谨” 的建设理念，不断探索 “K12 教育+互联网+大数据” 的运营模式，尝试基于大数据理论为广大中学和家长提供新鲜的高考资讯、专业的高考政策解读、科学的升学规划等，为广大高校、中学和教科研单位提供 “衔接和桥梁纽带” 作用。

平台自创办以来，为众多重点大学发现和推荐优秀生源，和北京近百所中学达成合作关系，累计举办线上线下升学公益讲座数百场，帮助数十万考生顺利通过考入理想大学，在家长、考生、中学和社会各界具有广泛的口碑影响力

未来，北京高考在线平台将立足于北京新高考改革，基于对北京高考政策研究及北京高校资源优势，更好的服务全国高中家长和学生。



微信搜一搜

北京高考资讯