

2023 北京西城高一（下）期末

历史

一、选择题：本部分共 40 题，每题 1.5 分，共 60 分。在每题列出的四个选项中，选出最符合题目要求的一项。

1. 观察下方《世界范围内早期四大文明分布图》。图中信息表明（ ）



- A. 农业和畜牧业是文明产生的前提
B. 早期文明同时产生于北纬 30 度
C. 多源起源是人类早期文明的特点
D. 早期文明分布于美洲等各大洲
2. 生存和生产问题是不同文明区遇到的共同挑战。西非班图人培养出的作物是（ ）
A. 玉米和甘薯
B. 粟和水稻
C. 小麦和土豆
D. 甜高粱和棉花
3. 古巴比伦王国在国家治理方面的特色是（ ）
A. 制订出现存最早的较为完整的成文法典
B. 法老之下设官员处理政务
C. 创建公民直接参与国家管理的政治体制
D. 实行职业世袭的等级制度
4. “我确定了一个原则：不要偶然听到一个故事就写下来，……我所描述的事件，不是我亲自看见的，就是从那些亲自看见这些事情的人那里听到后，经过仔细考核过的。”修昔底德这段话揭示出（ ）
A. 史学是古希腊文化的组成部分
B. 古希腊史学家追求历史真实的特征
C. 其贡献在于首创“历史”一词
D. 他写《伯罗奔尼撒战争史》的缘由
5. 罗马帝国由居住在意大利中部的罗马人所创建，将埃及、两河流域等文明区并入版图，“条条大路通罗马”“条条法律系万民”是其真实写照。它对文明发展的影响表现在（ ）
A. 直接插手被征服地区各项事务
B. 通过征战掠夺各种资源
C. 进一步巩固和扩大了古代文明
D. 在帝国内推广罗马建筑
6. 下列世界文化遗产为古代美洲人所创建的是（ ）
A. 古埃及金字塔
B. 马丘比丘遗址
C. 天津巴布韦遗址
D. 雅典帕特农神庙
7. 在西欧中古时期的受封仪式上，受封者把双手放在封君手中宣誓：“我效忠和依附于您，正如仆人须忠于主人。”其后到封君把封土的象征物授予封臣。由此可以看出（ ）
A. 封君是社会的统治阶级，而封臣不是
B. 封君封臣制度造成西欧的分裂
C. 封臣从封君处领取土地，须效忠封君
D. 受封者不可再将封土授予他人

8. 庄园是中古西欧基本的农业经济组织。庄园的主要劳动者是（ ）
- A. 领主和农奴 B. 奴隶和奴隶主 C. 农民和骑士 D. 农民和农奴
9. 日本除了现用年号“令和”以外，其余年号均取自中国古代典籍，如第一个年号“大化”即出自儒家经典《尚书》，意思是“伟大的变化”。这反映出（ ）
- A. 日本全面学习中国 B. 中华文明的辐射作用
C. 东西方文明的交流 D. 幕府统治出现严重危机
10. 1477 年，西欧低地国家（今荷兰等地）许多市镇集会，向领主提出不得在未获取各市镇同意之前对外宣战或颁发新税令等要求，领主只得接受。此现象表明该地区出现了（ ）
- A. 城市自治的倾向 B. 中央集权的趋势
C. 社会环境的动荡 D. 王权削弱的迹象
11. 新航路开辟后，甘蔗传入美洲并大量种植。《舌尖上的历史》一书中描述：“如果说哥伦布东行所带的玉米是赐福，那么他西行所带的甘蔗便是个诅咒。”该书作者认为（ ）
- A. 哥伦布的贡献在于促进了物种大交流 B. 高产作物玉米的价值高于甘蔗
C. 物种交流给欧洲和美洲带来不同影响 D. 甘蔗的种植是奴隶贸易的根源
12. 2023 年是哥白尼诞辰 550 周年。哥白尼的历史贡献在于（ ）
- A. 制定了世界上第一部太阳历 B. 发起宗教改革，传播人文主义
C. 完成历史上第一次环球航行 D. 提出“日心说”建立新宇宙观
13. 牛顿根据大量数据提出了引力的法则，该法则既支配了整个宇宙，也支配了最微小的物体。由此类推，支配人类社会的法则依靠理性也可以为人们所发现。该表述说明（ ）
- A. 思想家受到科学革命的启发 B. 牛顿的成果引发了工业革命
C. 启蒙运动首先兴起于英国 D. 启蒙运动推动科学革命的发生
14. 从 15 世纪开始，西欧新兴资产阶级和新贵族强行圈占公有土地和农民份地，将其变为私有大农场或大牧场。1485 - 1500 年，英国伯克等郡共圈占了 16000 英亩土地，其中有 13000 亩用作牧场。圈地运动使得英国（ ）
- A. 从小农经济发展为大农场制 B. 具备了工业革命所需全部条件
C. 建立起大大小小的封建庄园 D. 首次实现了生产资料的私有化
15. 1776 年，英国经济学家亚当·斯密发表《国富论》，书中说：“一国国民每年的劳动，本来就是供给他们每年消费的一切生活必需品和便利品的源泉。”亚当·斯密认为（ ）
- A. 财富的创造要靠消费 B. 劳动是财富的源泉
C. 劳动就是生产必需品 D. 劳动是国民的权利
16. 经济大危机使资本主义各国间的货币战、贸易战和关税战愈演愈烈。1933 年，66 个国家召开世界会议却无功而返。二战后初期，为解决上述问题而建立的国际经济组织有（ ）
- ①国际货币基金组织②世界银行③联合国④关税与贸易总协定
- A. ①②③ B. ①②④ C. ①③④ D. ②③④
17. 一位同学进行知识整理时绘制了如下图示。他整理的主题是（ ）



- A. 法国王权的强化
C. 英国王权的演变

- B. 美国法制的完善
D. 荷兰崛起的历程

18. 1787年，在美国制宪会议上，围绕“全国行政官”的设置问题，有人坚决反对“以英国政府为模本，把行政权集于一人”。有人提出“全国行政官由一人担任。若立法、行政、司法相互独立，行政官就应拥有绝对否决权”。此后美国建立的制度是（ ）

- A. 联邦政府拥有最高权力
C. 首相掌握国家行政大权
- B. 总统掌握行政权并受到制约
D. 议会、内阁、军部相互牵制

19. 1782年，瓦特研制出可作为机器动力的蒸汽机。1785年，改良蒸汽机开始在棉纺织工厂使用。1814年，史蒂芬孙制造出蒸汽机车，1825年第一条铁路在英国修建。改良蒸汽机的重大意义在于（ ）

- A. 标志着第一次工业革命的开始
C. 补充和取代电力作为主要动力
- B. 迫使冶金业和采矿业进行改造
D. 解决了大工业所需的动力问题

20. 世界上第一个足球俱乐部于1855年在英国成立。1863年10月26日，第一部统一的足球规则在伦敦产生，这一天被视为现代足球的生日。如今英国的职业足球俱乐部多分布在工业革命时期的新兴工业城市及周边地区。现代足球在英国兴起的主要原因是（ ）

- A. 当地人的文化素养较高
C. 群众性体育运动的需要
- B. 庄园运动被农民带入城市
D. 中间阶层的力量开始壮大

21. 19世纪，封建势力遭到削弱、资本主义在全球范围内继续扩展。发生在此阶段并体现这一特征的史事包括（ ）

- ①欧洲形成两大敌对的军事集团
②俄国废除农奴制
③意大利和德意志实行君主立宪制
④日本进行明治维新

- A. ①②③
B. ①②④
C. ①③④
D. ②③④

22. 1823年，美国总统门罗宣称“美洲是美洲人的美洲”。1879年，埃及祖国党提出“埃及是埃及人的埃及”。这两种提法（ ）

- A. 反映了民族意识的觉醒
C. 均出现于两次大战期间
- B. 都推动了民族独立运动
D. 具有不同的本质与内涵

23. 德国革命家马克思和恩格斯的贡献包括（ ）

- ①起草《共产党宣言》
②创立唯物史观
③撰写和出版《资本论》
④创建布尔什维克党

- A. ①②③
B. ①②④
C. ①③④
D. ②③④

24. 恩格斯在《共产党宣言》1892年波兰文版序言中写道：“某一国家大工业越发展，该国工人想要弄清楚他们作为工人阶级在有产阶级面前所处地位的愿望就越强烈，……对《宣言》的需求也就越增长。”恩格斯强调《宣言》（ ）

- A. 对指导工人运动具有重要意义
C. 推动了第二次工业革命的发生
- B. 肯定了阶级斗争的作用
D. 揭示了资本家剥削的秘密

25. 有学者指出，在世界殖民体系中居于上层的是拥有巨大实力的欧洲列强，居于底层的则是丧失主权的亚非拉被征服、掠夺的民族。此观点认为世界殖民体系的实质是（ ）

- A. 不同社会制度的国家长期并存平等竞争
- B. 中断了亚非拉地区原有的社会发展进程
- C. 西方大国通过和平实现崛起的等级体系
- D. 少数国家奴役大部分国家和地区的体系

26. 如图是第一次世界大战时英国和意大利的征兵海报，分别写着“加入你祖国的军队”和“每一个人尽好你们的职责”。对此宣传语解读准确的是（ ）



- A. 它们揭示出英意两国分属不同集团
- B. 它们掩盖了第一次世界大战的性质
- C. 它们体现出决策者想短期取胜的心理
- D. 它们表明战争给人类带来了巨大灾难

27. 一战爆发后，法国表示想招募华人到法做工。袁世凯总统府秘书长梁士诒随即提出“明守中立，暗示参加，以工代兵”的构想。中国有识之士主张“以工代兵”旨在（ ）

- A. 利用一战提高中国的国际地位
- B. 推动中国企业扩大海外市场
- C. 以此达到分散清朝兵力的目的
- D. 换取同盟国支持袁世凯称帝

28. 1920 年生效的《国际联盟盟约》中，第 8—9 条与缩减军备问题有关；第 11 条规定防止战争的行动；第 12—15 条规定和平解决争端问题。可见，国联的进步性在于（ ）

- A. 真正维护了世界的和平
- B. 它是第一个世界性国际组织
- C. 实施“委任统治”制度
- D. 体现了人类对战争有所反思

29. 1922 年在华盛顿签署的《九国公约》中，体现出列强对华真实意图的内容是（ ）

- A. “不得因中国状况，乘机营谋特别权利”
- B. “尊重中国之主权与独立及领土与行政之完整”
- C. “维持各国在中国全境之商务实业机会均等之原则”
- D. “（给予中国）机会，发展并维持一有力巩固之政府”

30. “（帝国主义国家）在几乎瓜分完毕的世界中不断地争夺殖民地和市场，……这为无产阶级提供了新的革命机会。”下列史实可佐证列宁观点的是（ ）

- A. 美国发动对西班牙的战争
- B. 俄国十月革命获得胜利
- C. 苏俄打败国内外敌对势力
- D. 苏联农民加入集体农庄

31. 列宁对社会主义建设道路的实践探索有（ ）

- A. 提出社会主义革命的战略
- B. 战时共产主义政策和新经济政策
- C. 建立斯大林格勒拖拉机厂
- D. 新经济政策和“苏联模式”

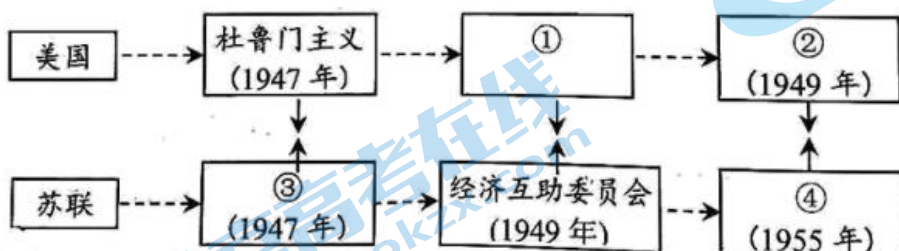
32. 印度开展“非暴力不合作”运动，中国开创农村包围城市的新道路，埃及采用街垒战等方式，墨西哥依据宪法进行改革。这反映出两次世界大战期间亚非拉民族民主运动的特点是（ ）

- A. 均具有反帝反封建的性质
B. 由资产阶级政党领导
C. 形式多样，但均基于国情
D. 都取得了最终的胜利

33. “第一次世界大战解释了第二次世界大战，且实际上引发了第二次世界大战”。这说明（ ）

- A. 凡尔赛—华盛顿体系埋下冲突的祸根
B. 英法的绥靖政策加速战争爆发
C. 国际格局从欧洲为中心走向美苏对抗
D. 经济危机导致法西斯势力上台

34. 第二次世界大战后，美苏两国由战时同盟关系转向全面对抗。下图对应内容准确的是（ ）



- A. ①为马歇尔计划
B. ②为华沙条约组织
C. ③为第一次柏林危机
D. ④为北大西洋公约组织

35. 以下发表于第二次世界大战前后的著名演讲，按时间先后排序正确的是（ ）

- ①罗斯福第一次就任美国总统的演说——唤起民众的信心
②斯大林在莫斯科红场演讲——受阅后军队直接开赴前线
③英国首相丘吉尔的就职演说——放弃绥靖政策坚持抵抗
④周恩来在万隆举行的亚非会议上提出“求同存异”的方针

- A. ①②③④
B. ①③②④
C. ①③④②
D. ②①④③

36. 观察下面的照片与荷兰作家创作的漫画，下列说法准确的是（ ）

	<p>注：1963年，法德签署《爱丽舍条约》正式宣告和解后，两国领导人戴高乐与阿登纳握手。</p>		<p>注：云上三人都曾在两国交锋中打败对手，从左到右分别是普鲁士国王腓特烈二世、法国皇帝拿破仑、普鲁士（德国）宰相俾斯麦。</p>
--	---	--	---

- A. 二者都属于音像类型的史料
B. 漫画是艺术作品，无研究价值
C. 漫画客观描述了历史的真相
D. 漫画往往基于某些史实而创作

37. 20 世纪中期以来，发达国家陆续为“普通民众提供一块可以安生的基石”。1951—1986 年间，英国有 32 年出现赤字，累计上千亿英镑。社会保障制度改革的方向应是（ ）

- A. 废除社会保障制度
B. 在效率和公平间寻找平衡
C. 加大政府财政支出
D. 扩大“中间阶层”的人数

38. 二战后独立的新兴国家属于发展中国家，其现代化之路面临的国际性问题是（ ）

- A. 贪污腐败和环境恶化问题
B. 世界殖民体系的压迫
C. 贫富分化和人口膨胀问题
D. 不平等的国际经济秩序

39. 第二次世界大战后，巴西、墨西哥、韩国和新加坡等国利用发达国家转移劳动密集型工业之际，大力推进工业化，实现经济腾飞。新兴工业化国家经济发展的启示是（ ）

- A. 结合国情并利用经济全球化的机遇
B. 注意保卫自己的经济安全
C. 充分利用地理位置和自然资源优势
D. 坚持创新，掌握核心技术

40. 关于二战后社会主义国家的发展与变化，下列表述准确的是（ ）

- ①社会主义国家的建设取得巨大成就，也经历了曲折
②苏联由沿用斯大林时期创建的模式到成功改革此模式
③中国由学习苏联模式到建立社会主义市场经济体制
④东欧国家从照搬苏联模式到谋求自主发展的道路

- A. ①②③
B. ①②④
C. ①③④
D. ②③④

二、选择题：本部分共 3 题，共 40 分。

41. 探索文物中的古代文明“意大利之源——古罗马文明展”和“心影传神——意大利乌菲齐美术馆馆藏作品展”于 2022-2023 年在中国国家博物馆举办。

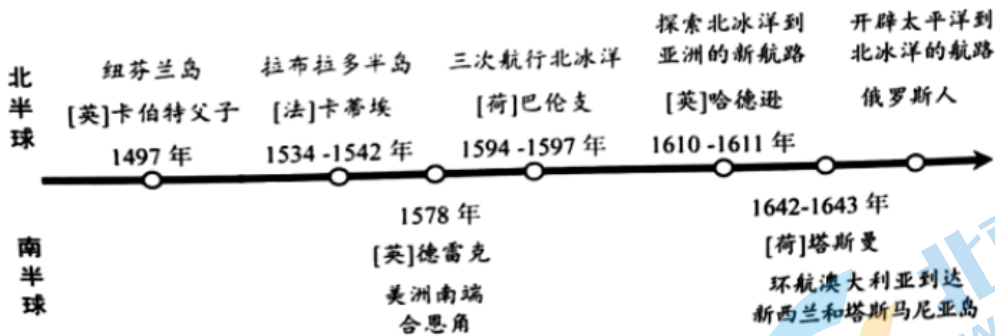
材料 图①古罗马青铜雕塑“胜利之翼”用小刀精雕细刻而成。它是胜利女神像的一部分，古罗马雕塑家喜爱的这一题材延续至近代欧洲。图②《拉斐尔自画像》（1504-1506）拉斐尔与达·芬奇、米开朗琪罗并称为“美术三杰”。



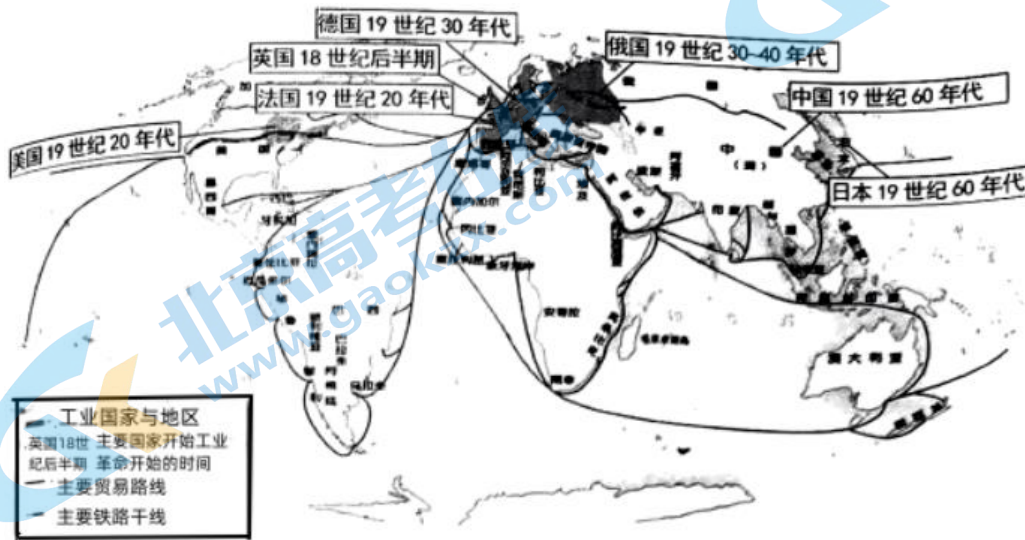
阅读材料并结合所学，分别指出图①和图②的史料类型和价值。

42. 探寻图表中的世界发展历程

材料一 15-17 世纪其他航路的开辟示意图



材料二 工业革命及其扩展示意图



材料三 1870-1992年主要资本主义国家每位就业人员年均工作时间(单位:小时)

年份	英国	德国	美国	日本
1870年	2984	2941	2964	2945
1913年	2624	2584	2605	2588
1950年	1958	2316	1867	2166
1973年	1688	1804	1717	2042
1992年	1491	1563	1589	1876

——摘自麦格劳《现代资本主义:三次工业革命的成功者》

- (1) 对比16世纪前后主要新航路的开辟,概括15-17世纪其他航路开辟的特点,简述全球航路的开辟在世界从分散走向整体过程中起到的作用。
- (2) 依据材料二并结合所学,选择三个角度说明工业革命是如何影响世界的。
- (3) 阅读材料三,指出19世纪中后期至20世纪末主要资本主义国家就业人员年均工作时间的变化趋势,概述其变化的原因。

43. 探究文献中的历史与现实问题

材料一 18-20世纪初,为保障本国人民的权利而颁布的部分法律

1789年	法国制宪议会颁布《人权宣言》，明确提出自由、平等、法治、人民主权和保护私有财产等原则。美国国会通过宪法修正案规定人民的权利
1804年	《法国民法典》肯定法律面前人人平等，保护私有财产不受侵犯
1912年	《中华民国临时约法》对保障人民权利进行了详细规定
1917年	墨西哥颁布宪法，实行八小时劳动制，确定劳工有组织工会和罢工的权利等
1923年	埃及颁布宪法承认公民自由平等的社会地位

材料二 联合国研究了之前的人权宣言，在各国广泛参与下，最终起草了《世界人权宣言》。第一条内容为：“人人生而自由，在尊严和权利上一律平等。他们赋有理性和良心，并应以兄弟关系的精神相待。”1949年，联合国大会以全票通过《世界人权宣言》。

材料三 2023年3月10日，中国、沙特和伊朗三方发表《北京声明》，长期不睦、断交达七年之久的沙伊关系迅速回暖。



2021年以来，在内政外交上均陷入困境的沙伊双方出现关系缓和迹象，但多轮对话未能取得突破。在中国的积极斡旋下，双方最终在北京实现和解。沙伊和解具有重要的战略意义，它直接带动了伊朗、叙利亚与阿拉伯世界关系的缓和，和解及经贸合作的开展，无疑能够为中东国家的发展与合作开辟更大的空间和更多的渠道。中东是当代世界冲突最为集中的地区。中国的中东政策恰如习近平主席在阿拉伯国家联盟总部的讲话所言：“坚持从事情本身的是非曲直出发，坚持从中东人民根本利益出发。我们在中东不找代理人，而是劝和促谈；不搞势力范围，而是推动大家一起加入‘一带一路’朋友圈；不谋求填补‘真空’，而是编织互利共赢的合作伙伴网络。”

——摘编自《中国促成沙伊和解推动中东和平发展新潮流》《光明日报》（2023年4月5日）

- （1）依据材料一并结合时代背景，从欧美和亚非拉地区中任选一个区域，阐释18-20世纪初上述思想在该地区发挥的作用。
- （2）依据材料一、二并结合所学，简述《世界人权宣言》得以全票通过的原因。
- （3）结合当代世界发展的特点与主要趋势，谈谈你对中国能够成功推动沙（特）伊（朗）和解这一重大事件的想法。

参考答案

一、选择题：本部分共 40 题，每题 1.5 分，共 60 分。在每题列出的四个选项中，选出最符合题目要求的一项。

1. 【答案】C

【详解】本题是单类型单项选择题。据本题主题干设问词，可知这是本质题。据本题时间信息可知准确时空是古代世界。据材料“《世界范围内早期四大文明分布图》”并所学知识可知有，地图上涉及的四个地方来自于四大文明古国，因此，我们得出多源起源是人类早期文明的特点的认识，C 项正确；A 项说法符合史实，但是材料无法体现，排除 A 项；据图能判断早期文明产生于北纬 30 度左右，但是同时产生的说法不符合史实，排除 B 项；材料涉及的早期文明主要涉及亚非两大洲，排除 D 项。故选 C 项。

2. 【答案】D

【详解】本题是单类型单项选择题。据本题主题干的设问词，可知这是正向题。据本题时间信息可知准确时空是：古代（西非）。结合所学可知，西非居民班图人培育出了甜高粱、西瓜和棉花等重要农作物，驯养了牛，引进了绵阳和山羊等，D 项正确；哥伦布首航美洲时发现了玉米和甘薯，排除 A 项；水稻和粟是中国人最早栽培的作物，排除 B 项；小麦起源于近东中心和中亚西亚中心以及非洲中心；土豆起源于南美洲中心，排除 C 项。故选 D 项。

3. 【答案】A

【详解】本题属于单类型单项选择题，据本题题干设问可知本题为正向题。时空是：古巴比伦时期。结合所学知识，公元前 18 世纪，古巴比伦国王汉谟拉比统一了两河流域，建立起中央集权的奴隶制国家。为了维护奴隶主的利益，汉谟拉比制定了一部法典，史称《汉谟拉比法典》，它是世界上现存的古代第一部比较完备的成文法典，A 项正确；古埃及在法老之下设官员处理政务，排除 B 项；创建公民直接参与国家管理的政治体制是古希腊的民主政治，排除 C 项；实行职业世袭的等级制度比较典型的国家是古印度，排除 D 项。故选 A 项。

4. 【答案】B

【详解】本题是单类型单项选择题。据本题次题干的设问词，可知这是正向题、本质题。据本题时间信息可知准确时空是：古希腊时期（欧洲）。根据材料“我确定了一个原则：不要偶然听到一个故事就写下来，……我所描述的事件，不是我亲自看见的，就是我从那些亲自看见这些事情的人那里听到后，经过仔细考核过了的。”可知，材料中描述的是修昔底德的观点，即一个历史史实的确定是亲自看见或是听亲自看见的人说的，并进行仔细考核，体现了古希腊史学家追求历史真实的特征，B 项正确；材料没有描述史学与古希腊文化的关系，排除 A 项；材料中没有描述首创“历史”一词，排除 C 项；材料描述的是追求历史真实，没有提及《伯罗奔尼撒战争史》，排除 D 项。故选 B 项。

5. 【答案】C

【详解】本题是单类型单项选择题。据本题主题干的设问词，可知这是正向题。据本题时间信息可知准确时空是古代罗马。根据“将埃及、两河流域等文明区并入版图，‘条条大路通罗马’‘条条法律系万民’是其真实写照”可知，罗马通过对外扩张和征服将罗马的文明元素扩展到被征服的地区，从而进一步巩固和扩大

了古代文明，C项正确；材料内容体现的是古罗马文明的影响，并不能说罗马直接插手被征服地区的各项事务和掠夺各种资源，排除AB项；材料没有体现推广罗马建筑，排除D项。故选C项。

6. 【答案】B

【详解】本题是单类型单项选择题。据本题主题干的设问词，可知这是正向题。据本题时间信息可知准确时空是：古代美洲文明时期（美洲）。结合所学知识可知，马丘比丘遗址由于独特的位置、地理特点和发现时间较晚，马丘比丘成了印加帝国最为人所熟悉的标志，B项正确；古埃及金字塔是古代非洲的世界文化遗产，排除A项；大津巴布韦遗址是撒哈拉以南非洲大陆最重要的古代遗迹，排除C项；雅典帕特农神庙是古代雅典的文化遗产，排除D项。故选B项。

7. 【答案】C

【详解】本题是单类型单项选择题。据本题主题干的设问词，可知这是推断题。据本题时间信息可知准确时空是：中世纪（欧洲）。根据材料“我效忠和依附于您，正如仆人须忠于主人。”“其后到君把封土的象征物授予封臣”可知，材料描述的是中世纪时期封君封臣制度，封臣从封君处领取土地，须效忠封君，C项正确；欧洲封君封臣制度，封君是社会统治阶级，而封臣在其封地中依然是统治阶级，排除A项；材料中没有描述西欧的分裂来源于封君封臣制度，排除B项；西欧的封君封臣制度，受封者仍可将封土授予他人，排除D项。故选C项。

8. 【答案】D

【详解】本题是单类型单项选择题。根据主题干的设问词，可知是正向题。时空是：中古西欧。结合所学知识可知，庄园的主要劳动者是农民和农奴，农民和农奴耕种农民份地，为领主服一定时间的劳役，还要向领主缴纳租税，D项正确；领主是庄园的统治者，排除A项；庄园是中古西欧基本的农业经济组织，当时西欧处于封建社会，奴隶不是庄园的主要劳动者，排除B项；骑士一般指欧洲中世纪时受过正式的军事训练的骑兵，排除C项。故选D项。

9. 【答案】B

【详解】本题是单类型单项选择题。据本题主题干的设问词，可知这是本质题。据本题时间信息可知准确时空是：古代（日本）。根据材料“其余年号均取自中国古代典籍”可知，日本的年号多取自中国典籍，这在一定程度上体现了中国儒教文化对日本的影响，反映出中华文明的辐射作用，B项正确；“全面”说法不符合史实，排除A项；材料没有体现东西方文明的交流，排除C项；日本幕府统治出现在12世纪，排除D项。故选B项。

10. 【答案】A

【详解】本题是单类型单项选择题。据本题主题干的设问词，可知这是本质题。据本题时间信息可知准确时空是：中世纪（西欧）。根据材料“向领主提出不得在未获取各市镇同意之前对外宣战或颁发新税令等要求，领主只得接受”可知，当时荷兰很多城市有较强的自治权利，反映出城市的自治倾向非常明显，A项正确；中央集权是指权力集中于中央政府，材料没有体现出中央集权，排除B项；材料无法体现出社会的动荡，排除C项；材料强调的是城市的自治，没有涉及王权，排除D项。故选A项。

11. 【答案】C

【详解】本题是单类型单项选择题。据本题主题干的设问词，可知这是正向题。据本题时间信息可知准确

时空是：新航路开辟后（世界）。根据材料及所学知识可知，“哥伦布东行所带的玉米是赐福”是指哥伦布将原产于美洲的玉米等新物种传入欧洲，产生了积极影响，丰富了欧亚的物种资源，改变了当地的饮食结构，促进了人口增长；“他西行所带的甘蔗是诅咒”是指原产于欧亚的甘蔗等传入美洲后，殖民者建立单一种植园经济和使用奴隶劳动，产生了消极影响，阻碍了美洲农业的正常发展，奴隶贸易给非洲带来灾难。综合上述分析可知，材料强调的是哥伦布引发的物种交换给欧洲和美洲带来不同影响，C项正确；该书作者认为物种交流给欧洲和美洲带来不同影响，A项不符合材料主旨，排除A项；玉米和甘蔗的价值都很高，材料没有比较两者价值，排除B项；奴隶贸易的根源在于资本原始积累的迫切需求，D项说法错误，排除D项。故选C项。

12. 【答案】D

【详解】本题是单类型单项选择题。据本题主题干设问词，可知这是正向题。据本题时间信息可以得出准确时空是1473年欧洲。据所学可知，哥白尼在文艺复兴时期的主要贡献是撰写了《天体运行论》，提出“日心说”，建立新宇宙观，D项正确；据所学可知，世界上第一部太阳历是古埃及人制定的，排除A项；据所学可知，哥白尼的主要贡献是对近代科学，不涉及宗教改革，发起宗教改革的是马丁·路德，排除B项；据所学可知，新航路开辟时期麦哲伦船队完成了第一次环球航行，排除C项。故选D项。

13. 【答案】A

【详解】本题是单类型单项选择题。据本题主题干的设问词，可知这是本质题。据本题时间信息可知准确时空是：16—17世纪（欧洲）。根据材料“牛顿根据大量数据提出了引力的法则，该法则既支配了整个宇宙，也支配了最微小的物体。由此类推，支配人类社会的法则依靠理性也可以为人们所发现。”可知，根据牛顿的引力法则，推断出支配人类社会的法则依靠理性也可以为人们所发现，说明思想家受到科学革命的启发，A项正确；材料描述的是科学革命促进启蒙运动的出现，而非是工业革命，排除B项；材料中没有描述启蒙运动的起源，排除C项；科学革命推动启蒙运动的发生，排除D项。故选A项。

14. 【答案】A

【详解】本题是单类型单项选择题。根据主题干的设问词，可知是影响题。时空是：15-16世纪。新兴资产阶级和新贵族强行圈占公有土地和农民份地，将其变为私有的大农场或大牧场，使得英国从小农经济发展为大农场制，A项正确；圈地运动为工业发展提供了充裕的农产品、自由劳动力和国内市场，此外，工业革命还需要海外市场、技术等条件，“具备了工业革命所需全部条件”说法错误，排除B项；庄园是中古西欧基本的农业经济组织，排除C项；中古时期庄园的大部分土地、磨坊等生产资料归庄园主所有，此时生产资料已经私有化，排除D项。故选A项。

15. 【答案】B

【详解】本题是单类型单项选择题。根据主题干的设问词，可知是正向题。时空是：1776年英国。据材料“国民每年的劳动……是供给他们每年消费的一切生活必需品和便利品的源泉”，并结合所学可知，亚当·斯密认为劳动是财富的源泉和衡量价值的尺度，B项正确；材料本意是劳动是消费品的源泉，也即财富的创造靠劳动而非消费，排除A项；材料除了提及劳动生产必需品，还提及生产便利品，排除C项；材料未提及国民的劳动权，排除D项。故选B项。

16. 【答案】B

【详解】本题是组合题。时空是 20 世纪初期的国际。本题可从各国际组织成立的时间及目的角度出发来回答问题。①②④关贸总协定以及国际货币基金组织、世界银行是第二次世界大战后主要的世界性经济组织，它们构成了调整世界经济贸易和金融的三大支柱，美国在这三大支柱中拥有特殊地位，在此基础上，以美国为主导的资本主义世界经济体系形成，它适应了经济全球化发展的趋势，符合题意；③联合国主要维护世界和平，属于政治机构，不符合题意。综上所述，①②④正确，B 项正确；排除 A、C、D 项。故选 B 项。

17. 【答案】C

【详解】本题是单类型单项选择题。据本题主题干的设问词，可知这是推断题。据本题时间信息可知准确时空是：近代英国。结合所学可知，13 世纪，英国通过《大宪章》，确立了法律至上和王权有限的原则，《权利法案》确定了王在法下、议会权力至上的原则，《王位继承法》确立了王位继承需议会同意的原则，责任内阁制确立后，王权进一步削弱，逐步“统而不治”，C 项正确；法国在 1875 年《法兰西第三共和国宪法》颁布后确立了共和制，王权并未强化，排除 A 项；美国通过 1787 年宪法确立了民主共和制，与《大宪章》等文件无关，排除 B 项；荷兰在殖民扩张时期崛起，材料信息与此无关，排除 D 项。故选 C 项。

18. 【答案】B

【详解】本题是单类型单项选择题。根据主题干的设问词，可知是正向题。时空是：1787 年美国。材料描述了 1787 年美国制宪会议围绕“全国行政官”的设置问题进行的争论，有人认为把行政权集于一人会导致“全国行政官”权力过大，也有人认为若立法、行政、司法相互独立就应该相对加强“全国行政官”权力，让行政官拥有绝对否决权。结合所学，美国 1787 年宪法规定总统掌握行政权，有权否决国会通过的法律，同时国会和最高法院分别掌握立法权和司法权，可以制约总统，B 项正确；材料主要讲“全国行政官”的设置，而非联邦政府和各州的权力划分，排除 A 项；英国首相掌握国家行政大权，美国不设首相，排除 C 项；明治维新期间日本仿效西方国家制定宪法，宪法肯定了天皇神圣不可侵犯和统揽一切的地位，议会、内阁、军部相互牵制，成为天皇权力的代行机构，排除 D 项。故选 B 项。

19. 【答案】B

【详解】本题是单类型单项选择题。据本题主题干的设问词，可知这是影响题。据本题时间信息可知准确时空是：第一次工业革命时期（英国）。根据材料“1782 年，瓦特研制出可作为机器动力的蒸汽机。1785 年，改良蒸汽机开始在棉纺织工厂使用。1814 年，史蒂芬孙制造出蒸汽机车，1825 年第一条铁路在英国修建”可知，第一次工业革命期间，改良蒸汽机的出现，促进了交通运输业以及棉纺织工厂的发展，同时也对能源的需求增加，迫使冶金业和采矿业进行改造，提高生产效率，因此改良蒸汽机的重大意义在于迫使冶金业和采矿业进行改造，B 项正确；第一次工业革命的开始的标志是珍妮纺纱机的发明，与题干不符，排除 A 项；蒸汽机可以作为电力的补充，但其最终被电力取代，排除 C 项；解决了大工业所需的动力问题的表述中“解决了”一词说法过于绝对，排除 D 项。故选 B 项。

20. 【答案】C

【详解】本题是单类型单项选择题。据本题主题干的设问词，可知这是原因题。据本题时间信息可知准确时空是：19 世纪（世界）。根据材料“世界上第一个足球俱乐部于 1855 年在英国成立。1863 年 10 月 26

日，第一部统一的足球规则在伦敦产生，这一天被视为现代足球的诞生日。如今英国的职业足球俱乐部多分布在工业革命时期的新兴工业城市及周边地区。”并结合所学可知，第一个足球俱乐部和第一个统一的足球规则都是诞生在英国，这和工业革命密切相关，是为了满足群众的体育运动需求，C项正确；材料所述现象与当地人的文化素养高低无关，排除A项；材料未涉及“庄园运动”的内容，排除B项；材料现象无法得出此时中间阶层的力量开始壮大，“开始”表述错误，排除D项。故选C项。

21. 【答案】D

【详解】本题是组合选择题。时空是19世纪世界。20世纪初，欧洲形成“同盟国”、“协约国”两大敌对的军事集团，①错误。1861年，面临空前危机的俄国沙皇政府进行废除农奴制改革，改革促进了俄国资本主义的发展，②正确。意大利通过革命和反侵略战争，于1861年建立意大利王国，实行君主立宪制。1864—1871年，普鲁士先后击败丹麦、奥地利和法国，统一了除奥地利以外的德意志。1871年，德意志帝国成立，实行君主立宪制，③正确。日本有识之士于1868年推翻幕府统治，进行改革，史称“明治维新”，明治维新使日本走上了发展资本主义的道路，④正确。D项正确；排除A、B、C项。故选D项。

22. 【答案】D

【详解】本题是多类型单项选择题。据本题次题干的提示词，可知这是本质题、影响题。据本题时间信息可知准确时空是：1823年（美国）和1879年（埃及）。根据材料“美洲是美洲人的美洲”“埃及是埃及人的埃及”可知，19世纪初美国的门罗宣言是要求把拉美地区变成美国的势力范围，体现的是美国扩展主义思想的特征；1879年埃及祖国党提出的“埃及是埃及人的埃及”的口号，体现了强烈的民族主义和爱国主义思想特征，因此题干中的两个口号体现了扩张主义和民族主义，具有不同的本质与内涵，D项正确；“美洲是美洲人的美洲”体现的是美国扩展主义思想，没有体现民族意识的觉醒，排除A项；“美洲是美洲人的美洲”体现的是美国扩展主义思想，没有推动民族独立运动，排除B项；两种提法分别提出于1823年和1879年，并没有出现于两次大战期间，排除C项。故选D项。

23. 【答案】A

【详解】本题是组合选择题。时空是近代世界。结合所学，马克思和恩格斯受委托起草“共产主义者同盟”纲领，这就是《共产党宣言》，①正确，唯物史观是马克思和恩格斯在19世纪中期创立的，②正确；1867年，马克思撰写的政治经济学巨著《资本论》第一卷出版，恩格斯对《资本论》的写作和出版作出了巨大贡献，③正确，故①②③符合题意，A项正确；创建布尔什维克党的是列宁，④错误，BCD项不符合题意，排除BCD项。故选A项。

24. 【答案】A

【详解】本题是多类型单项选择题。据本题次题干的设问词，可知这是影响题、本质题。据本题时间信息可知准确时空是：1892年（欧洲）。根据材料“某一国家大工业越发展，该国工人想要弄清楚他们作为工人阶级在有产阶级面前所处地位的愿望就越强烈，……对《宣言》的需求也就越增长。”可知，恩格斯认为，资本主义国家的工业越发达，则其工人阶级越需要《共产党宣言》的指导，说明《共产党宣言》对指导工人运动具有重要意义，A项正确；材料描述的是《共产党宣言》对工人运动的指导意义，没有描述关于阶级斗争作用的信息，排除B项；资本主义国家生产力的不断发展，推动第二次工业革命的发生，排除C项；《资本论》提出的“剩余价值”理论，揭示了资本家剥削的秘密，排除D项。故选A项。

25. 【答案】B

【详解】本题是单类型单项选择题。据本题主题干的设问词，可知这是本质题。据本题时间信息可知准确时空是：19—20 世纪（世界）。根据材料“在世界殖民体系中居于上层的是拥有巨大实力的欧洲列强，居于底层的则是丧失主权的亚非拉被征服、掠夺的民族”可知，该学者认为，在世界殖民体系中，欧洲列强主导，而亚非拉则丧失主权，说明该学者认为世界殖民体系客观上中断了亚非拉地区原有的社会发展进程，B 项正确；材料中描述的是欧洲列强与亚非拉的不公平、不平等，没有涉及不同社会制度的相关论述，排除 A 项；世界殖民体系是西方大国通过殖民扩张和掠夺而建立的体系，而非和平崛起，排除 C 项；材料描述的是发达国家奴役亚非拉国家，而非少数国家奴役大部分国家和地区，排除 D 项。故选 B 项。

26. 【答案】A

【详解】本题是单类型单项选择题。据本题主题干的设问词，可知这是推断题。据本题时间信息可知准确时空是：一战期间（欧洲）。根据材料信息，英国征兵海报写着“加入你祖国的军队”，而意大利的征兵海报写着“每一个人尽好你们的职责”，据此可推断，英国和意大利其所属的军事集团不同，一个是协约国、一个是同盟国，A 项正确；第一次世界大战的性质是帝国主义重新瓜分世界的战争，在材料中没有体现，排除 B 项；材料描述的是征兵海报，没有体现决策者的心理，排除 C 项；战争给人类带来了巨大灾难，但是在材料中没有描述对战争的评价，排除 D 项。故选 A 项。

27. 【答案】A

【详解】本题是单类型单项选择题。据本题主题干的设问词，可知这是目的题。据本题时间信息可知准确时空是一战时期的中国和世界。结合所学，1914 年，第一次世界大战爆发，我国的有识之士就开始酝酿如何借助世界大战爆发收回山东主权。其间，为提高中国的国际地位和影响力，中国提出“以工代兵”方式，派出中国劳工驰援欧洲，为协约国的胜利作出贡献，也为中国赢得了参加巴黎和会的入场券，A 项正确；近代中国企业相对于外国资本而言，力量非常薄弱，自保尚力不从心，没有“扩大海外市场”的实力和要求，且材料与 B 项无关，排除 B 项；清政府已于 1912 年被推翻，排除 C 项；虽然袁世凯有复辟帝制的野心，但不能说“中国有识之士”支持袁世凯称帝，排除 D 项。故选 A 项。

28. 【答案】D

【详解】本题是单类型单项选择题。根据主题干的设问词，可知是正向题。时空是：1920 年世界。据材料，《国际联盟盟约》中有关于缩减军备、防止战争、和平解决争端的相关内容。结合所学，一战的残酷促使人类对战争有所反思，国联体现了国际社会维护世界和平的愿望和努力，D 项正确；国联形成决议的“全体一致”原则，使其失去了对侵略行为采取任何有效行动的可能性，无法制止战争发生，英法则将国联作为维护自己既得利益、操纵国际事务的工具。因此，国联在制裁侵略、保卫世界和平方面没有发挥应有的作用，排除 A 项；材料主旨是国联以实现世界和平为主旨，并非强调国联“世界性国际组织”的属性，排除 B 项；“委任统治”制度实质是帝国主义重新瓜分殖民地，不是国联进步性的主要体现，排除 C 项。故选 D 项。

29. 【答案】B

【详解】本题是单类型单项选择题。据本题主题干的设问词，可知这是本质题。据本题时间信息可知准确时空是：1922 年（中国、西方）。根据材料信息可知，公约的核心是肯定美国提出的在华实行“门户开放，

机会均等”的原则，并赋予它以国际协定的性质，使日本独占中国的野心遭到挫折，而实质上是在美国占优势的基础上，帝国主义列强建立的对中国的联合统治，加深了中国的半殖民地地位，“尊重中国之主权与独立及领土与行政之完整”体现了这一实质，B项正确；“不得因中国状况，乘机营谋特别权利”“维持各国在中国全境之商务实业机会均等之原则”都是“门户开放，机会均等”原则的体现，排除A项和C项；“（给予中国）机会，发展并维持一有力巩固之政府”是中国半殖民地化的体现，排除D项。故选B项。

30. 【答案】B

【详解】本题是单类型单项选择题。据本题主题干的设问词，可知这是正向题。据本题时间信息可知准确时空是：近代（世界）。根据材料可知，列宁认为资本主义发展到帝国主义阶段后，帝国主义国家之间因争夺殖民地和势力范围，不可避免地要发生战争，这为无产阶级夺取国内政权提供了契机。而俄国十月革命获得胜利符合材料中的观点，B项正确；美国发动对西班牙的战争不属于无产阶级革命，不符合材料，排除A项；苏俄打败国内外敌对势力，巩固了新生的苏维埃政权，但与材料观点无关，排除C项；苏联农民加入集体农庄，推动了农业集体化的发展，但不能佐证列宁的观点，排除D项。故选B项。

31. 【答案】C

【详解】本题是单类型单项选择题，据本题主题干的设问词，可知这是正向题，据本题时间信息可知准确时空是：苏联时期。十月革命胜利后，列宁在实践层面也开始探索俄国的社会主义建设道路，斯大林格勒拖拉机厂是苏联第一个五年计划期间引进外国技术首批建成的拖拉机制造大型工厂，是列宁新经济政策的具体表现，为苏联的工业化做出了突出贡献，C项正确；题干考查的是社会主义建设道路的实践探索，社会主义革命的战略不属于社会主义道路的实践探索，排除A项；战时共产主义政策是列宁为应对外国武装干涉和国内战争而采取的一种临时性政策，而非社会主义建设道路的实践探索，排除B项；苏联高度集中的计划经济模式建立于斯大林时期，排除D项。故选C项。

32. 【答案】A

【详解】本题是单类型单项选择题。据本题主题干的设问词，可知这是正向题。据本题时间信息可知准确时空是：两次世界大战期间（印度、中国、埃及、墨西哥）。根据材料和所学知识可知，印度的“非暴力不合作”运动动员群众、运用非暴力不合作的策略与英印当局进行斗争，打击了英国的殖民统治；中国开创农村包围城市的新道路，推动了中国民主革命的发展；华夫脱党采取同政府不合作政策，鼓励不纳捐税。随即爆发民族起义。开罗、亚历山大港的工人举行反英总罢工。学生、农民举行示威游行。政府派军警镇压，一些城市发生街垒战后被镇压；20世纪30年代中期，墨西哥总统卡德纳斯为捍卫资产阶级革命成果，贯彻宪法原则，进行的民主改革等等。综上所述，它们反映出两次世界大战期间亚非拉民族民主运动的特点是均具有反帝反封建的性质，A项正确；中国的新民主主义革命由无产阶级领导，排除B项；“均基于国情”说法绝对，不符合史实，排除C项；“都取得了最终的胜利”说法绝对，不符合史实，部分亚非拉民族民主运动以失败告终，排除D项。故选A项。

33. 【答案】A

【详解】本题是多类型单项选择题。据本题主题干的提示词，可知这是本质题。据本题时间信息可知准确时空是：两次世界大战间的世界。根据“第一次世界大战解释了第二次世界大战，且实际上引发了第二次世界大战”可得出一战后建应的凡尔赛-华盛顿体系之下隐藏着巨大的矛盾，为二战的爆发埋下了冲突的

祸根，A项正确；材料没有体现绥靖政策，排除B项；国际格局从欧洲为中心走向美苏对抗是在二战后，排除C项；材料强调一战的影响，而不是经济危机的影响，排除D项。故选A项。

34. 【答案】A

【详解】本题是单类型单项选择题。据本题主题干的设问词，可知这是正向题。据本题时间信息可知准确时空是：第二次世界大战后（美苏）。根据材料和所学知识可知，美国在反对“共产主义扩张”的旗号下，对苏联实行遏制政策，率先对苏联发动了冷战。苏联予以反击。随着冷战的发生和发展，逐渐形成了政治、经济、地理和军事上的两极格局。在政治上，1947年3月，杜鲁门发表被称为“杜鲁门主义”的演说，宣布世界已经分裂为两个对立的营垒，美国将支持所有反对共产主义的国家。这篇演说是美国对苏联发动冷战的标志。为应对美国的挑战，同年9月，苏联和波兰等东欧国家成立共产党和工人党情报局，宣布世界已经分裂为帝国主义和反帝国主义两个相互敌对与斗争的阵营。在经济上，美国实施马歇尔计划，巩固了西欧的资本主义制度。苏联则与东欧各国成立经济互助委员会，形成了以苏联计划经济模式为主导的经济体系。在军事上，1949年4月，美国和英法等国成立北大西洋公约组织，简称“北约”。1955年5月，北约接纳联邦德国为成员。苏联随即成立包括东德和其他东欧国家在内的华沙条约组织，简称“华约”。到20世纪50年代中期，以美苏为首的两大集团终于形成全面冷战对峙，两极格局正式形成。因此，①为马歇尔计划，A项正确；②为北大西洋公约组织，③为共产党和工人党情报局，④为华沙条约组织，排除BCD项。故选A项。

35. 【答案】B

【详解】本题是组合选择题。时空：二战前后的东西方。本题是考查二战前后的世界重要讲话的史实，据所学可知，①是1933年美国大危机时期，②是二战1941年苏德战争时期，③是二战时期1940年，④1955年亚非会议。时间先后顺序是①③②④，故本题选B项。

36. 【答案】D

【详解】本题是单类型单项选择题。据本题主题干的设问词，可知这是正向题。据本题时间信息可知准确时空是：1963年（法德）。根据材料可知，荷兰作家创作的漫画与1963年法德签署《爱丽舍条约》的历史照片密切相关，说明漫画往往基于某些史实而创作，D项正确；材料为照片与漫画，而音像资料指的是一种以音乐和视频为主的物质媒介形式，不属于音像类型的史料，排除A项；漫画在一定程度上也具有史料价值，具备研究价值，排除B项；漫画在一定程度上反映了历史事实，但C项说法绝对，排除C项。故选D项。

37. 【答案】B

【详解】本题是单类型单项选择题。据本题主题干的设问词，可知这是正向题。据本题时间信息可知准确时空是：20世纪中期以来（发达国家）。根据材料“20世纪中期以来，发达国家陆续为‘普通民众提供一块可以安生的基石’。1951-1986年间，英国有32年出现赤字，累计上千亿英镑。”并结合所学可知，社会福利增加了国家的财政负担，英美法等国都不同程度的减少政府的公共开支，改革社会保障制度，在提高社会效率和维护社会公平之间寻找平衡，B项正确；“废除”的表述过于绝对，排除A项；此时社会保障制度改革的方向是减少政府财政支出，排除C项；扩大“中间阶层”的人数能够缓和社会矛盾，材料未涉及“中间阶层”的内容，排除D项。故选B项。

38. 【答案】D

【详解】本题是单类型单项选择题。据本题主题干的设问词，可知这是正向题。据本题时间信息可知准确时空是：二战后（世界）。根据材料信息可知，二战后独立的新兴国家属于发展中国家，其现代化之路面临的国际性问题是国际经济秩序，D项正确；贪污腐败和环境恶化问题是新兴国家发展国家国内的问题，排除A项；二战后，世界殖民体系逐渐瓦解，排除B项；贫富分化和人口膨胀问题是新兴国家发展国家国内的问题，排除C项。故选D项。

39. 【答案】A

【详解】本题是单类型单项选择题。据本题主题干的设问词，可知这是本质题。据本题时间信息可知准确时空是：二战后（世界）。根据材料“巴西、墨西哥、韩国和新加坡等国利用发达国家转移劳动密集型工业之际，大力推进工业化，实现经济腾飞。”可知，二战后，巴西、墨西哥、韩国和新加坡等国利用发达国家转移劳动密集型工业之际，大力推进工业化，实现了经济腾飞，据此可知，新兴工业化国家要实现经济发展，需要结合国情并利用经济全球化的机遇，A项正确；材料描述的是与世界发展相结合，而非保护自己的经济安全，排除B项；材料中没有体现地理位置和自然资源优势信息，排除C项；材料描述的是利用他国技术，没有描述创新的信息，排除D项。故选A项。

40. 【答案】C

【详解】本题是组合选择题。时空是二战后社会主义国家。第二次世界大战结束前后，社会主义从一国扩展到多国，形成了以苏联为首的社会主义阵营，在建设社会主义过程中，这些国家经历了快速发展与艰难曲折的改革，①正确。苏联20世纪50年代至80年代的改革没能突破斯大林时期创建的高度集中的计划经济体制，②错误。新中国成立后仿照苏联模式建立计划经济体制，改革开放后，中国以农村改革为突破口，逐步建立了社会主义市场经济体制，③正确。第二次世界大战胜利前后，东欧各国人民经过艰苦奋斗，在苏联的帮助下建立了一系列人民民主国家。东欧各国着手恢复遭到战争破坏的经济，提高了人民生活水平和教育水平，但大多采取苏联模式，造成国民经济比例失调。一些东欧国家希望摆脱苏联控制，通过改革，走自己独立发展的道路，④正确。C项正确；排除A、B、D项。故选C项。

二、选择题：本部分共3题，共40分。

41. 【答案】图①：实物史料；可用于研究古罗马的青铜制造艺术、意大利古代文明成就、欧洲文化源头与传承，或对比中西方不同的青铜制造技艺。图②：图像史料；自画像在相机诞生前是艺术家留给世界的影像；用于研究14-15世纪以人为中心的社会文化；反映拉斐尔或文艺复兴时期的绘画技法。

【详解】本题是特点类材料分析题。结合所学内容可知，古罗马青铜雕塑“胜利之翼”是实物史料，这是用小刀精雕细刻而成。它是胜利女神像的一部分，所以可用于研究古罗马的青铜制造艺术、意大利古代文明成就、欧洲文化源头与传承，或对比中西方不同的青铜制造技艺。《拉斐尔自画像》属于图像史料，而自画像在相机诞生前是艺术家留给世界的影像；所以可以用于研究14-15世纪以人为中心的社会文化；反映拉斐尔或文艺复兴时期的绘画技法。

42. 【答案】（1）特点：开辟了北大西洋和南太平洋的海上航线；英法荷等欧洲人为主体；在某一领域持续进行海上探险。作用：它是人类从分散走向整体的重要节点。之前各大洲之间仅有局部的联系，新航路开辟后全球海路大通，世界主要大洋和大陆之间通过海上航线建立了直接联系，陆路为主的交往开始让位于

海路；引发全球性商品、物种的流动、人口迁移，或人类认识世界的视野拓展。

(2) 说明：从生产方式看，工业国家和地区由手工生产过渡到机器大生产，手工工场逐渐被大工厂取代；从时空上看，首先在英国发生，然后扩展到欧洲大陆的法国等国和北美，再扩展到亚非拉地区；交通方面，铁路、轮船分别成为陆上和海上主要交通工具；从手段上看，列强凭借工业革命提供的强大实力，继续向世界各地大肆扩张；众多贸易路线联系各大洲，世界市场初步形成。

(3) 趋势：工作用时越来越少，减少近一半。原因：第二次工业革命及新科技新发展提高了劳动效率；工人长期斗争的结果，或法律制度保障工人基本权利。

【小问 1 详解】

本题是特点类材料分析题。时空是新航路开辟时期世界。第一小问特点，根据材料一图示信息可知，开辟了北大西洋和南太平洋的海上航线，英法荷等欧洲人为主体，在某一领域持续进行海上探险。第二小问作用，结合所学可知，新航路开辟是人类从分散走向整体的重要节点，之前各大洲之间仅有局部的联系，新航路开辟后全球海路大通，世界主要大洋和大陆之间通过海上航线建立了直接联系，陆路为主的交往开始让位于海路；结合所学可知，新航路开辟引发了全球性商品、物种的流动、人口迁移，或人类认识世界的视野拓展。

【小问 2 详解】

本题是影响类材料分析题。时空是工业革命世界。结合所学可知，从生产方式看，工业国家和地区由手工生产过渡到机器大生产，手工工场逐渐被大工厂取代；根据材料二地图信息可知，从时空上看，首先在英国发生，然后扩展到欧洲大陆的法国等国和北美，再扩展到亚非拉地区；结合所学可知，交通方面，铁路、轮船分别成为陆上和海上主要交通工具；结合所学世界市场的形成的相关知识可知，从手段上看，列强凭借工业革命提供的强大实力，继续向世界各地大肆扩张，众多贸易路线联系各大洲，世界市场初步形成。

【小问 3 详解】

本题是特点类材料分析题。时空是 19 世纪中后期至 20 世纪末世界。第一小问趋势，根据材料三图表信息可知，工作用时越来越少，减少近一半。第二小问原因，结合所学工业革命和科技革命的相关知识可知，第二次工业革命及新科技新发展提高了劳动效率；结合所学工人运动的相关知识可知，工人长期斗争的结果，或法律制度保障工人基本权利。

43. 【答案】(1) 欧美地区：在西欧反封建专制的斗争中，天赋人权、自由、平等、民主等启蒙思想兴起，进一步解放了人们的思想。在其影响下，北美人民通过独立战争推翻殖民统治、欧洲国家通过资产阶级革命推翻封建专制制度，建立资本主义制度，并通过议会颁布法律的形式保障人的权利。

亚非拉地区：20 世纪初世界殖民体系形成，亚非拉地区成为殖民地或半殖民地。天赋人权、自由、平等、民主等启蒙思想传入，促进民族民主意识觉醒，成为指导民族民主运动的精神武器，打击封建统治和帝国主义势力，动摇了世界殖民体系，并得以部分实现。

(2) 原因：自由、平等、法治等是人类普遍的追求；人类反思战争对人的尊严和权利的践踏；继承了各国已有的思想成果；联合国的宗旨是维护国际和平与安全；各国广泛参与使得宣言更具有普适性。

(3) 示例

一方面，沙特和伊朗均有改善关系的内生动力。两国文化相近，地理上均属中东地区。和平与发展是时代主题，缺少和平环境严重影响其发展，迫切改善地区局势，同时在经济全球化和区域集团化下，发挥经济互补作用。另一方面，中国发挥了重要作用。中国长期坚持和平共处五项原则，实力增强，与各方守望相助，赢得信任；中国构建人类命运共同体和新型国际关系，发展全球伙伴关系，推进共建“一带一路”，与各国进行务实合作。在文化领域，尊重文明多样性，举办亚洲文明大会等。这些与长期饱受战乱对抗、民族冲突、文明隔阂困扰的中东人民的需求高度契合。

总之，和平发展、互利共赢、公平正义是中国能够斡旋沙伊和解的关键。

【小问 1 详解】

本题是影响类材料分析题。时空是：18—20 世纪初（欧美、亚非拉）。

欧美地区：根据材料“法国制宪议会颁布《人权宣言》，明确提出自由、平等、法治、人民主权和保护私有财产等原则。美国国会通过宪法修正案规定人民的权利……《法国民法典》肯定法律面前人人平等，保护私有财产不受侵犯”等信息可知，材料内容主要体现了启蒙思想内容，在西欧反封建专制的斗争中，这些启蒙思想兴起，进一步解放了人们的思想并推动欧美国家资产阶级革命。在其影响下，北美人民通过独立战争推翻殖民统治、欧洲国家通过资产阶级革命推翻封建专制制度，建立资本主义制度，并通过议会颁布法律的形式保障人的权利。

亚非拉地区：根据材料“《中华民国临时约法》对保障人民权利进行了详细规定。……墨西哥颁布宪法，实行八小时劳动制，确定劳工有组织工会和罢工的权利等。……埃及颁布宪法承认公民自由平等的社会地位”等信息可知，启蒙思想传入亚非拉地区，促进这些地区的民族民主运动和民族觉醒，这些启蒙思想逐渐成为指导民族民主运动的精神武器，打击封建统治和帝国主义势力，动摇了世界殖民体系，并得以部分实现。

【小问 2 详解】

本题是背景类材料分析题。时空是：1949 年（世界）。

原因：根据材料“人人生而自由，在尊严和权利上一律平等”可知，自由、平等、法治等是人类普遍的追求；结合所学知识可知，人类反思战争对人的尊严和权利的践踏，同时各国也继承了各国已有的思想成果；根据材料“联合国研究了之前的人权宣言，在各国广泛参与下，最终起草了《世界人权宣言》”可知，联合国的宗旨是维护国际和平与安全，同时各国广泛参与使得宣言更具有普适性。

【小问 3 详解】

本题是认识类材料分析题。时空是：当代世界。

根据材料“在中国的积极斡旋下，双方最终在北京实现和解。沙伊和解具有重要的战略意义，它直接带动了伊朗、叙利亚与阿拉伯世界关系的缓和，和解及经贸合作的开展，无疑能够为中东国家的发展与合作开辟更大的空间和更多的渠道”结合所学知识可知，在中国的积极斡旋下，沙伊最终在北京实现和解标志了沙特和伊朗这两个因历史问题、地缘政治、教派冲突等一系列复杂因素而对立的中东大国，重新迎来了发展睦邻友好的契机，这沙特和伊朗均有改善关系的内生动力，即两国在地理、文化等方面的相近性；在当今全球化进一步发展的背景下，和平与发展是时代主题，缺少和平环境严重影响其发展，迫切改善地区局势，同时在经济全球化和区域集团化下，发挥经济互补作用；根据材料“坚持从事情本身的是非曲直出

发，坚持从中东人民根本利益出发。我们在中东不找代理人，而是劝和促谈；不搞势力范围，而是推动大家一起加入‘一带一路’朋友圈；不谋求填补‘真空’，而是编织互利共赢的合作伙伴网络”可知，中国发挥了重要作用。中国长期坚持和平共处五项原则，实力增强，与各方守望相助，赢得信任；中国构建人类命运共同体和新型国际关系，发展全球伙伴关系，推进共建“一带一路”，与各国进行务实合作。在文化领域，尊重文明多样性，举办亚洲文明大会等。这些与长期饱受战乱对抗、民族冲突、文明隔阂困扰的中东人民的需求高度契合。总之，和平发展、互利共赢、公平正义是中国能够斡旋沙伊和解的关键。



北京高一高二高三期末试题下载

京考一点通团队整理了【**2023年7月北京各区各年级期末试题&答案汇总**】专题，及时更新 最新试题及答案。

通过【**京考一点通**】公众号，对话框回复【**期末**】或者底部栏目<**高一高二**>**期末试题**>，进入汇总专题，查看并下载电子版试题及答案！

