

2023 北京昌平高二（下）期末

历史

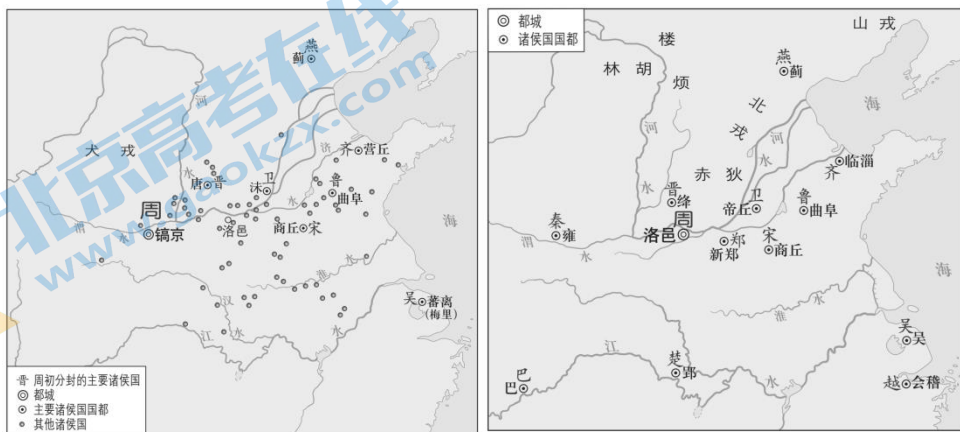
2023. 7

本试卷共 7 页，共 100 分。考试时长 90 分钟。考生务必将答案答在答题卡上，在试卷上作答无效。考试结束后，将答题卡交回。

第一部分

本部分共 15 题，每题 3 分，共 45 分。在每题列出的四个选项中，选出最符合题目要求的一项。

1. 下图分别为《西周分封示意图》和《春秋列国形势图》。对于这两幅图的理解，下列说法正确的是



- ①周朝都城发生了变化 ②分封制是周朝的重要政治制度
 - ③一些诸侯国依然存在 ④戎狄蛮夷都已完全融入华夏族
- A. ①②③ B. ①②④ C. ①③④ D. ②③④
2. 《汉书》中记载：“（秦）为驰道于天下，东穷燕齐，南极吴楚，江湖之上，濒海之观毕至。道广五十步，三丈而树，厚筑其外，隐以金椎，树以青松。”这反映了秦朝驰道
- A. 能到达全国任何地方 B. 奠定了统一六国的基础
- C. 具有统一的修筑标准 D. 将湘水和离水连接起来
3. 西汉初年的各种制度基本沿袭秦朝，史称“汉承秦制”。下列史实能体现这一现象的是
- A. 分封同姓诸侯王 B. 实行察举制度
- C. 设刺史监察辖区 D. 皇权至高无上
4. 据北魏律，对亲属相犯，拟罪之前，先查清相互间的亲疏尊卑长幼关系，再依据服制详定刑罚等差。凡是卑幼伤尊长，处分重于常人相杀；反之，尊长杀卑幼，刑事责任轻于杀常人。这表明
- A. 律是中华法系最重要的部分 B. 北魏律有利于维护三纲五常
- C. 皇帝有随意增减刑罚的权力 D. 政府利用家训强化基层教化
5. 著名诗人王维在天宝年间曾官拜给事中，掌驳正政令之事。给事中在唐朝隶属于
- A. 鸿胪寺 B. 中书省 C. 尚书省 D. 门下省
6. 唐朝时，中下级官员考核，每年一次，评定当年为政优劣，称小考；三或四年综合任期内政绩进行总体鉴定，称大考。考核标准具体分为四善二十七最，“善”属于德行方面对全体官员的共同要求，“最”则是

关注北京高考在线官方微信：[京考一点通](#)（微信号：[bjgkzx](#)），获取更多试题资料及排名分析信息。

根据不同部门的性质、职责对有关工作所提出的不同要求。综合善、最定等第，确定官员升降。这反映了唐朝官员考核

- A. 内容十分苛刻 B. 体系比较完备 C. 执行非常严格 D. 形式灵活多样

7. 金代实行五京制。1153 年迁都后，五京是中都大兴府、东京辽阳府、西京大同府、南京开封府、北京大定府，其中位于今天北京地区的是

- A. 中都大兴府 B. 北京大定府 C. 东京辽阳府 D. 西京大同府

8. 下列史料涉及的历史事件，按时序排列正确的是

- ① “民有二男以上不分异者，倍其赋。有军功者，各以率受上爵”
② “一条鞭法者，总括一州县之赋役，量地计丁，丁粮毕输于官”
③ “宜改姓元氏。诸功臣旧族自代来者，姓或重复，皆改之”
④ “今县官乃自出息钱，以春、秋贷民”

- A. ①③④② B. ①④②③ C. ③①④② D. ③④②①

9. 明清时期，中国边疆地区受到外来的骚扰或殖民活动不断。下列历史人物中，为抵抗外来的骚扰或侵略，作出贡献的有

- ①徐弘祖 ②戚继光 ③俞大猷 ④郑成功

- A. ①②③ B. ①②④ C. ①③④ D. ②③④

10. 自明朝后期起，商品经济进入新的繁荣期，推动当时社会出现了一些新的变化。这些变化包括

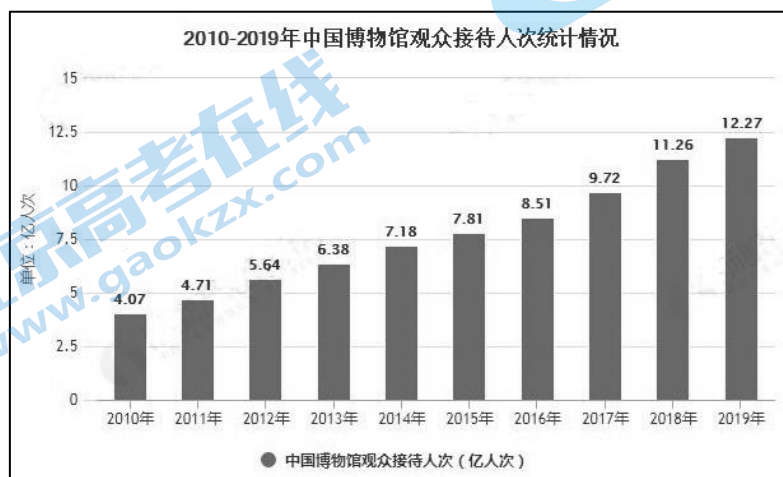
- ①“工商皆本”思想的出现 ②小说和戏曲的创作成就显著
③清朝时出现新的中枢机构 ④西方资本主义生产方式传入

- A. ①② B. ①④ C. ②③ D. ③④

11. 中国第一所官办的近代西医学校是由李鸿章创办的。其课程包括解剖、生理、内外科、公共卫生、治疗化学等。教学内容既有基础课又有临床实践，学生需经过严格考试，由中国官方代表和外籍医生监督考核，共同签署毕业证书。这表明

- A. 中国公共卫生事业得到快速发展 B. 西医得到了中国官方的初步认可
C. 科学已经成为中国学校主要课程 D. 传统医学受到了西医的重大冲击

12. 下图为 2010-2019 年中国博物馆观众接待人数统计情况。这反映出



- A. 博物馆全方位向公众提供各类知识
- B. 博物馆是收藏文化遗产的重要场所
- C. 参观者的文化修养得到了极大提高
- D. 公众到博物馆参观学习的热情高涨

13. 受地理和历史条件影响，古代文化表现出明显的多元特征。不同地区出现了各具特色的文学作品。下列文学作品与产生地区对应正确的是

- A. 《吉尔伽美什》——古代埃及
- B. 《荷马史诗》——古代罗马
- C. 《罗摩衍那》——古代印度
- D. 《源氏物语》——古代朝鲜

14. 战争带给人类深重的灾难，但又在客观上造成了不同文化的碰撞与交锋。下列战争中促使希腊文化对西亚地区产生重要影响的是

- A. 伯罗奔尼撒战争
- B. 亚历山大东征
- C. 蒙古西征
- D. 拿破仑战争

15. 墨西哥的斗牛起源于西班牙斗牛。爱尔兰和英国的木鞋舞，到了美国衍化成踢踏舞。古巴黑人仍保留着非洲祖先的古老传说。巴西民间口头文学中经常可以寻觅到来自安哥拉、刚果和莫桑比克的黑人传统的遗痕。这些现象

- ①消除了各洲之间的隔阂
- ②是人口迁移带来的影响
- ③改变了美洲的人口结构
- ④是不同文化融合反映

- A. ①②
- B. ①③
- C. ②④
- D. ③④

第二部分

本部分共 5 题，共 55 分。

16. (12 分) 诸子百家之学

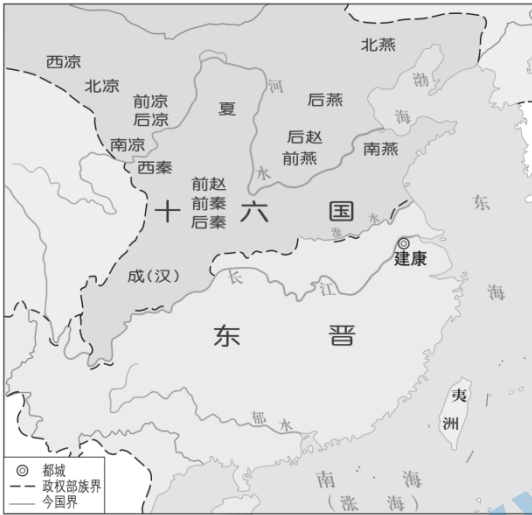
中国历史上的春秋战国时期，上接夏商周特别是西周时的礼乐文化，形成了“和而不同”的诸子百家之学，产生了不同的学派。后来的中华文化都可以从诸子百家之学中找到原初的基本论点，即文化基因。诸子百家之学主要围绕着“天道”与“人道”的相互关系进行讨论。所谓“天道”，泛指天地、自然的起源和法则，而“人道”则是关于社会和人自身的道理。

——摘自张岂之《深刻认识中华文化的历史渊源》

依据材料和所学，从中华优秀传统文化内涵的角度，阐释春秋战国时期的诸子百家之学。(12 分)

17. (12 分) 民族交融

材料一



▲ 东晋十六国形势图

注：十六国中除前凉、北燕、西凉外均为少数民族所建政权

材料二 (刘聪)以永嘉四年(310年)僭即皇帝位……置左右司隶,各领户二十余万,万户置一内史,凡内史四十三。单于左右辅,各主六夷十万落,万落置一都尉。省吏部,置左右选曹尚书。自司隶以下六官,皆位次仆射。置御史大夫及州牧,位皆亚公。

——《晋书·刘聪载记》

注：刘聪，匈奴族，前赵的建立者。

材料三 (石)勒清定五品,以张宾领选,复续定九品……以右常侍霍皓为劝课大夫,与典农使者朱表、典劝都尉陆充等循行州郡,核定户籍,劝课农桑。

——《晋书·石勒载记》

注：石勒，羯族，后赵的建立者。

材料四 东汉后期,军队将士开始穿着裤褶服,也称为戎服。这种服饰源于北方少数民族。魏晋以后,军队中官员无论职位高低,一般都要穿裤褶。在皇帝亲征或者国家内外戒严时,文职官员也需要穿着裤褶。

——摘编自张鹤泉《魏晋南北朝史》

- (1) 结合材料一和所学,说明东晋十六国局面形成的背景。(4分)
- (2) 结合上述材料和所学,阐述东晋十六国时期北方民族交融的表现。(8分)

18. (12分) 宋代社会生活

材料一



二侍填香石刻

这是四川地区出土的宋代石室墓石刻精品，收藏于中国国家博物馆。画面中二侍着展翅幞头，身穿圆领、小袖开衩衫子，露出内衣衣领，腰系带，衫下露出跣尖鞋。面庞圆润，神态敦厚，分立香炉两侧，作填香状。香炉为三足式，炉身为狻猊（suān ní中国古代神话中的神兽）捧莲

材料二

部分宋朝展品

①	沈括《梦溪笔谈》	⑥	壁画《夫妻对坐宴饮图》
②	张择端《清明上河图》	⑦	钧窑 玫瑰紫大花盆
③	宋徽宗《芙蓉锦鸡图》	⑧	土地买卖契约残片
④	定窑 划花萱草葵瓣口碗	⑨	石刻朱熹自画像
⑤	手持罗盘的陶俑	⑩	“南海1号”沉船上的瓷碗

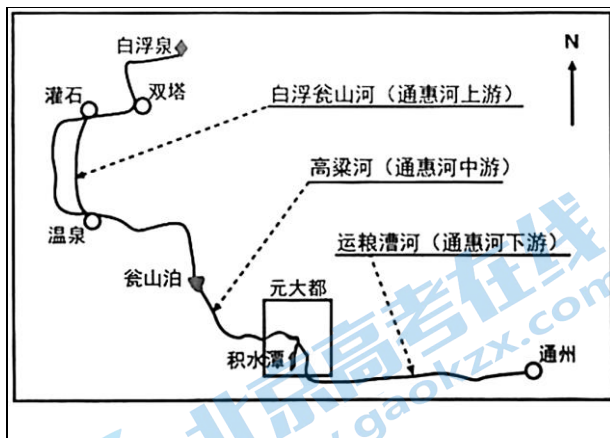
(1) 阅读材料一，分析“二侍填香石刻”的史料价值。(4分)

(2) 从材料二中选择至少三件展品，与材料一中的石刻一起策划一个微展览，结合时代背景撰写该微展览的介绍。(8分)

要求：写出所选展品序号；此介绍应包括展览主题、展品与该主题的关系、此展览的意义。

19. (9分) 京杭大运河

材料一



郭守敬发现昌平龙山脚下的白浮泉水量充沛，巧妙导引其沿着北京西北部等高山际线进入元大都城内的积水潭，使积水潭的储水量更加充足，形成更大的水位势能，再流向通州，这样南来的漕船可以通过船闸逆流而上进入积水潭，使积水潭成为京杭运河的码头，延长了京杭大运河的北线，解决了通州至大都城内“最后一千米”的粮食物资运输问题

材料二 关于运河的部分研究成果

成果作者及题目	主要内容
于琪《明清京杭运河闸官研究》	深入探讨了闸官的设置与历史沿革、闸官的职能和处理问题的方式
岳广燕《明代运河沿线的水马驿站》	具体分析了明代运河沿线驿站的功能、地位与作用

林任梁《明代漕军制度初探》	对明代漕军制的形成、职能做了具体的分析与论述
郑民德《明代徐州水次仓漕运仓储历史变迁》	通过对徐州水次仓的研究与探讨，揭示了明代漕运仓储设置、管理与运作
林纯业《明代漕运与天津商业城市的兴起》	对运河沿岸城市天津受到漕运的影响做了深入的分析
胡梦飞《明清时期徐州运河漕运与地方信仰风俗嬗变》	分析了漕运对徐州民间风俗的种种影响

(1) 阅读材料一，分析白浮泉水引入京杭运河的原因。(4分)

(2) 依据材料二，概括明代运河的影响。(5分)

20. (10分) 英国城市化

18世纪后期，工业成为城市形成和发展的新动力。在英国，棉纺织业、冶金和矿业的发展使许多小镇迅速发展起来，曼彻斯特、伯明翰等新兴工业城市甚至跻身于大城市之列。铁路的发展，也使得沿线出现了许多铁路城镇。19世纪中期，城市人口已占全国总人口的52%。城市化不仅仅是城市人口的聚集，也是发展城市建设、提高城市管理水平、改善城市居民生活和工作条件的进程。城市生活方式大大改变了人们的社会关系和观念。

在19世纪的城市化过程中，英国出现了一系列严重的问题。城市病从地理空间上凸显了社会不公。工人住宅区是大城市和工业区的贫民窟，成为贫穷、疾病和犯罪的渊藪。工业和生活垃圾造成了整个城市、整片地区的环境污染。恶劣的卫生条件导致流行病频频爆发。过度的劳动和恶劣的生活条件使工人及其子女的健康受到了严重摧残。工人的寿命大大低于其他阶层。

在有识之士和专业人士的推动下，英国的城市病引起重视，并逐步得到有效的治理。1848年，议会通过了《公共卫生法》。1876年，政府通过《河流防污法》。1890年，议会还通过法律，责成地方政府改善穷人的居住条件。到19世纪末，英国人（包括工人）的生活普遍变得文明体面。

——摘编自武寅主编《简明世界历史读本》

阅读材料，结合所学，评析18世纪后期到19世纪的英国城市化进程。(10分)

参考答案

第一部分共 15 题，每题 3 分，共 45 分。

1. A	2. C	3. D	4. B	5. D
6. B	7. A	8. A	9. D	10. A
11. B	12. D	13. C	14. B	15. C

第二部分共 5 题，共 55 分。

16. (12 分) 参考答案示例:

春秋战国时期，社会出现大变革。面对礼崩乐坏的局面，孔子对西周礼乐文明进行多方面阐述，儒家文化的思想核心形成。战国时期，一大批思想家纷纷著书立说，提出了自己的看法和主张，“百家争鸣”局面出现，诸子百家之学形成。

诸子百家之学主要讨论“天道”与“人道”的关系。有的重视以人为本，比如孔子主张“仁者爱人”，孟子提出“仁政”说。有的崇尚天人合一，道法自然，比如老子提出“道”的概念，认为万物都是由道而产生，自然而然，荀子提出“制天命而用之”的思想。有的提倡爱国，追求家国情怀。比如孔子、墨子、孟子等均有以天下为己任的思想。有的崇德尚贤，推崇天下为公。比如孔子提出“为政以德”，要求人人都应该“见贤思齐焉”，墨子认为“夫尚贤者，政之本也”。有的崇尚自强不息，厚德载物。比如孔子编订的《周易》中写道：“天行健，君子以自强不息”“地势坤，君子以厚德载物”，孟子强调“富贵不能淫，贫贱不能移，威武不能屈”的气概。有的主张和而不同。比如孔子、孟子视“和”为人性中应有的美德，提出了“和为贵”“君子和而不同”等思想。

这一时期的诸子百家之学大放异彩，成为后世思想文化发展的源头。先秦成为中华文化的奠基时期。

17. (12 分)

(1) 参考答案要点:

背景：自东汉以来，西、北边陲的一些少数民族不断向内地迁徙。西晋时，宗室诸王展开对中央权力的争夺，演化为内战。内迁少数民族卷入其中，并且逐渐主导了局势。从西晋末年起，为躲避战乱，北方人民大批南迁。西晋灭亡后，宗室司马睿在建康重建晋朝，史称东晋。北方先后出现了一批政权，最主要的有 15 个，加上西南地区的成汉，合称“十六国”。

(2) 参考答案示例:

表现：北方少数民族政权采用中原模式的国号，比如夏、赵、燕、秦等。北方少数民族政权学习汉族的典章制度，比如前赵政权建立者刘聪称皇帝，设置左右选曹尚书、御史大夫、州牧等官职。再如后赵政权的建立者石勒恢复了原来魏晋时期的九品中正制度。北方少数民族受到了农业生产生活方式的影响。比如后赵政权的建立者石勒派遣官员劝课农桑，核定户口，恢复农业生产。中原地区的服饰受到少数民族服饰影响，比如裤褶在军队中的普及。总之，北方各民族在政治、经济、生活习俗等方面交往交流交融。

18. (12 分)

关注北京高考在线官方微信：[京考一点通](#)（微信号：[bjgkzx](#)），获取更多试题资料及排名分析信息。

(1) 参考答案要点:

史料价值:“二侍填香石刻”是图像史料,可以用来研究宋代石刻艺术、墓葬习俗、服饰文化、焚香习俗、香炉器具、外来文化影响等。

(2) 参考答案示例:

所选展品:④⑥⑦

微展览介绍:本次微展览的主题是宋朝人的生活。宋朝时内部统治比较稳定,社会经济高度发展,宋朝人的生活也有所发展。本次展览的展品“二侍填香石刻”展现了宋朝人填香的场景,展品《夫妻对坐宴饮图》反映了宋朝人家居生活的场景,展品“划花萱草葵瓣口碗”和“玫瑰紫大花盆”都是日常生活用品。本次微展览通过两个生活场景和两件生活用品的展示,可以增进参观者对宋朝人生活的了解,也能通过宋朝人的生活,感受到宋朝经济的繁荣。

19. (9分)

(1) 参考答案要点:

原因:京杭运河漕运从水路进入大都城的需要;北京地势西北高东南低,昌平位于北京西北,元代时水资源丰富。

(2) 参考答案要点:

影响:推动了运河管理、运输制度及相关配套设施的发展;促进了沿岸城市的经济发展;影响了沿途社会风俗信仰。

20. (10分) 参考答案示例:

英国的城市化伴随着工业革命展开。从18世纪后期开始,英国以工厂为中心形成了很多工业城市。新交通工具火车的出现,也促使铁路沿线的城镇不断发展。到19世纪中期,英国城市人口超过了总人口的50%。

英国城市化推动了人们生活方式和思想观念的改变,也促进了城市建设与管理的发展。但在城市化进程中,城市病越来越凸显。城市集中大量工厂,排放的废气废水对生活环境造成了严重污染。城市中的工人居住条件恶劣,工人家庭的健康状况受到严重影响。面对这系列的问题,英国通过立法进行解决,到19世纪末,英国城市生活环境得到改善。

总之,从18世纪后期到19世纪,英国城市化伴随着工业化发展,环境污染等问题也日益加剧,随着各方力量的推动,人们的居住条件和生活环境得到不断改善。

北京高一高二高三期末试题下载

京考一点通团队整理了【**2023年7月北京各区各年级期末试题&答案汇总**】专题，及时更新 最新试题及答案。

通过【**京考一点通**】公众号，对话框回复【**期末**】或者底部栏目<**高一高二**>**期末试题**>，进入汇总专题，查看并下载电子版试题及答案！

