

顺义区 2020 届高三第二次统练

地理试卷

考生须知	1.本试卷总分 100 分，考试用时 90 分钟。 2.本试卷共 8 页，分为选择题(45 分)和非选择题(55 分)两个部分。 3.试卷所有答案必须填涂或书写在答题卡上，在试卷上作答无效。第一部分必须用 2B 铅笔作答；第二部分必须用黑色字迹的签字笔作答。(作图可以使用 2B 铅笔) 4.考试结束后，请将答题卡交回，试卷自己保留。
------	--

第一部分

本部分共 15 题，每题 3 分，共 45 分。在每题列出的四个选项中，选出最符合题目要求的一项。

2019 年 10 月 15 日，中国首艘自主建造的极地科学考察破冰船“雪龙 2”号从深圳出发，首次前往南极执行科考任务。图 1 为我国南极考察站分布图。读图，回答第 1-3 题。

1.中山站

- A. 纬度高于泰山站
- B. 位于西半球
- C. 位于长城站西南
- D. 濒临印度洋

2. 昆仑站到南极点的直线距离最接近

- A. 1100 千米
- B. 3300 千米
- C. 6600 千米
- D. 8800 千米

3. 考察船出发时

- A. 适逢中国霜降节气
- B. 巴西高原草木枯黄
- C. 长城站 6 点后日出东南且昼长夜短

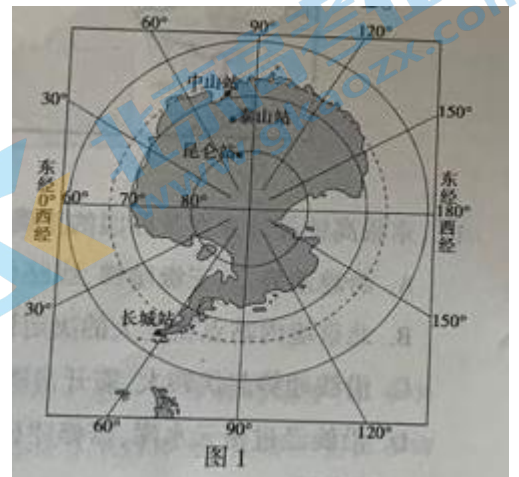
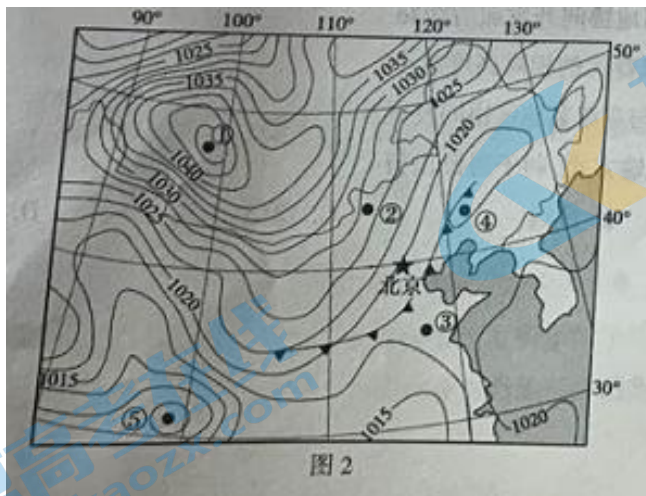


图 1

D.中山站比昆仑站正午太阳高度角大

图 2 为某日 6 时北半球局部海平西气压分布图(单位:百帕), 读图, 回答第 4、5 题,



4.图中

A.①比③气温高

B.①比④云量多

C.②比③风速大

D.②比④气压低

5.据图推断

A.①地受高压控制, 炎热干燥

B.低压天气系统中, ⑤地的强度最强

C.黄海海域天气晴朗, 风大浪高

D.北京位于冷锋锋前, 出现大风降水

图 3 为非洲局部气温、降水分布图, 读图, 回答第 6、7 题。

6.甲地

A.气温比同纬度内陆地区高

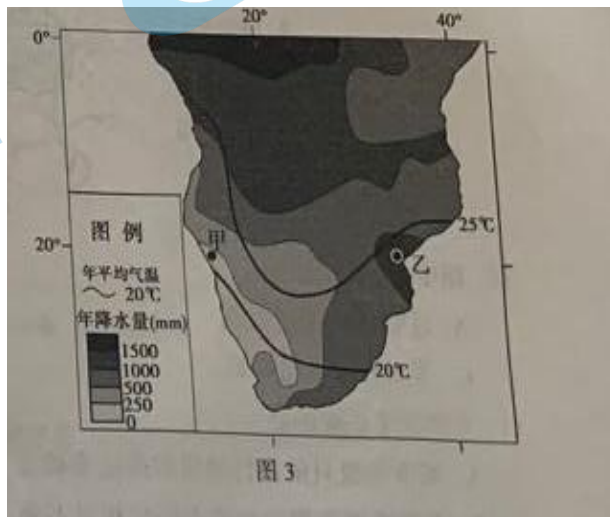
B.沿岸洋流自低纬流向高纬

C.出现独特的热带雨林景观

D.附近海域的渔业资源丰富

7.乙地降水丰富, 主要原因有

①沿岸有暖流经过, 增温增湿



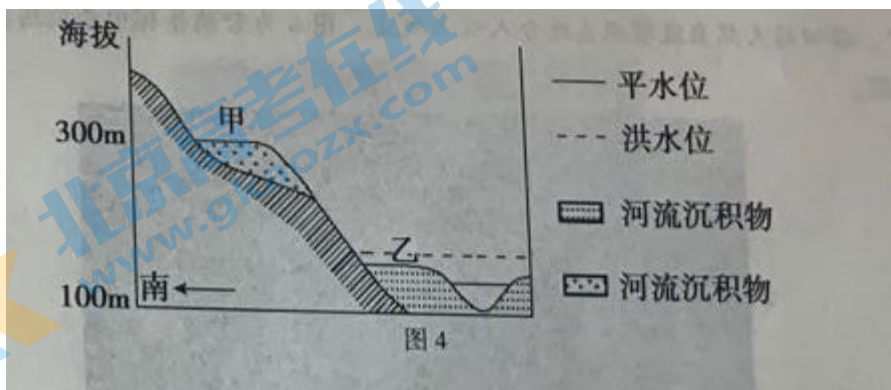
②夏季东南季风影响，水汽丰富

③地处热带，空气对流运动旺盛

④位于迎风海岸，受到地形抬升

A. ①③ B. ①④ C. ②③ D. ②④

图4为我国江南地区某河流上游河段的单侧断面示意图，甲地河流沉积物颗粒比乙地大。读图，回答第8、9题。



8.图中

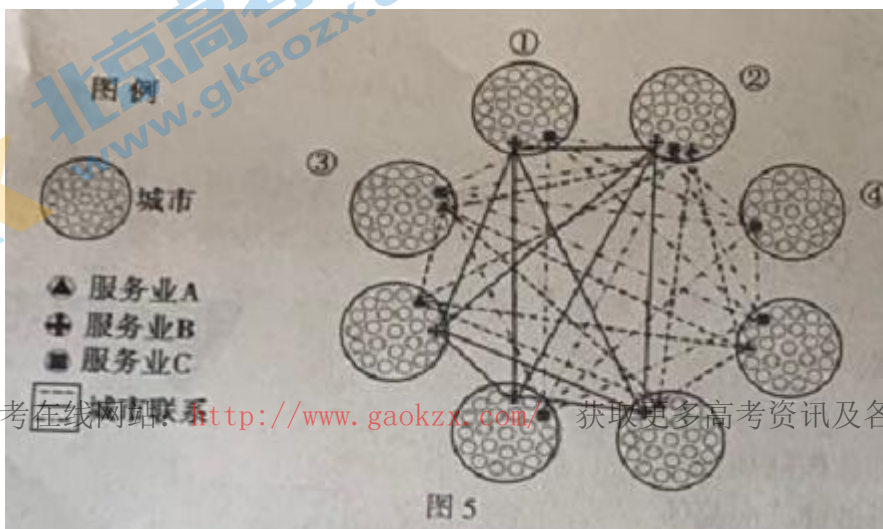
- A. 甲地河流沉积物的面积不断扩大 B. 甲形成时期河流流速比乙形成时期慢
C. 乙地河流沉积物的面积不断缩小 D. 河流沉积物的形成时期甲地早于乙地

9.该河谷

- A. 南岸为阳坡，因流水堆积作用形成 B. 地处平原地区，沿岸人口聚落密布
C. 夏秋季节为洪水期，河流流速较快 D. 平水期流水侵蚀强，沿岸杨柳成荫

读图5，回

答第10、11题



进入北京高考在线网站: <http://www.gaokzx.com/> 获取更多高考资讯及各类测试试题答案!

图5

10.图中

- A.①的城市等级最高
- B.②的服务业最综合
- C.③对外联系最频繁
- D.④人口的数量最大

11.下列表述正确的是

- A.城市等级只依据行政级别高低来确定
- B.高等级城市提供的就业岗位相对不多
- C.低等级城市服务业均由高等级城市提供
- D.高等级城市的交通需求比低等级城市高

紫鹊界梯田位于湖南省西北部的娄底市新化县，是全球重要农业文化遗产、世界灌溉工程遗产。梯田的天然自流灌溉系统令人叹为观止。图6为紫鹊界梯田景观图，读图，回答第12、13题。



12.紫鹊界梯田

- ①地处雪峰山脉
 - ②与等高线平行
 - ③沿山谷修建
 - ④水量常年稳定
- A.①② B.①③ C.②④ D.③④

13.修筑梯田的主要意义有

- ①改变地形类型，提高土地利用效率
 - ②扩大耕地面积，增加粮食产量
 - ③减小气候垂直差异，发展旅游业
 - ④降低山地坡度，减缓水土流失
- A. ①③ B.①④ C.②③ D.②④

2019年12月3日京张高速铁路正式开通运营，张家口至北京最快运行时间缩短至56分钟。京张高铁是北京至兰州通道的重要组成部分。图7为京张高铁线路图。读图，回答第14、15题。



14.京张高铁设计方案及原因的正确叙述是

- A.跨越地势二、三级阶梯，线路呈“之”字形
- B.北京境内站点密度大的决定性因素是地形
- C.沿线地势起伏较大，需开凿隧道
- D.沿线经过密云水库，需修建桥梁

15.京张高铁

- ①有利于京、张两地协同开发旅游线路
- ②使冬奥会京、张赛区的相对高度减小
- ③促进西北地区与京津冀地区协同发展
- ④增加了交通运输方式，利于居民出行

A.①③

B.①④

C.②③

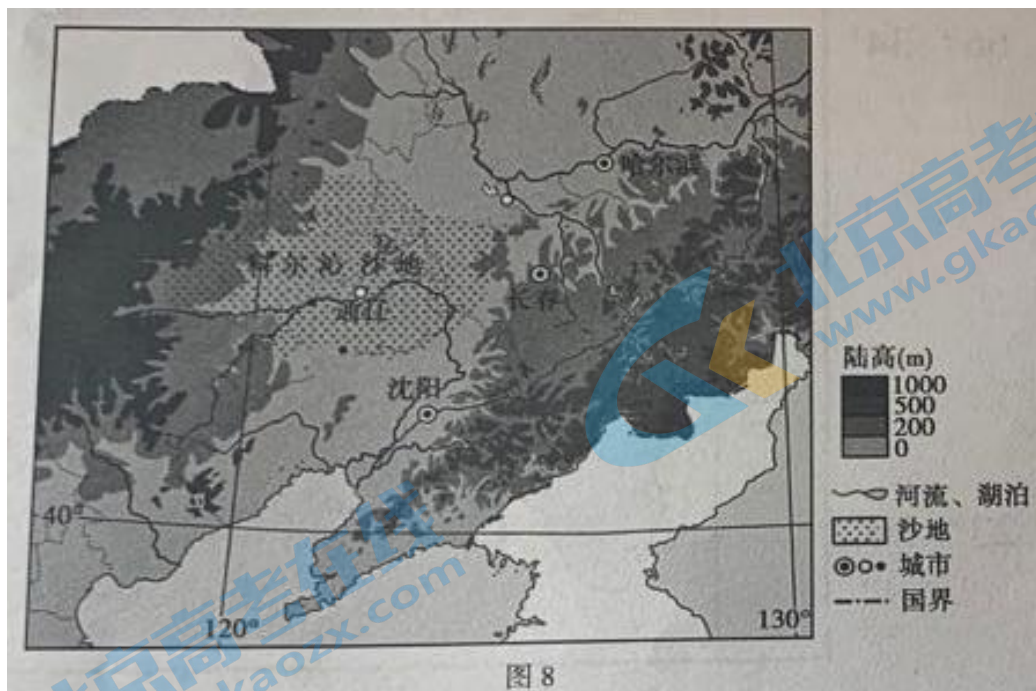
D.②④

第二部分

本部分共4道题，共55分。请用黑色字迹签字笔在答题卡上各题的答题区域内作答，在试卷上作答无效。(作图可以用2B铅笔)

16.(16分)读图文资料,回答下列问题

进入北京高考在线网站：<http://www.gaokzx.com/> 获取更多高考资讯及各类测试试题答案！



(1) 简述图中西部山脉的地理意义。(3分)

科尔沁沙地有近 200 米厚的沙质沉积物, 在距离砂层表面一米多深的地方, 水分含量适合种植水稻。科学家采用科技手段在地下 1 米处铺设保水防渗层, 成功开垦出万亩稻田, 盛产优质大米。

(2) 分析科尔沁沙地盛产优质大米的有利条件。(3分)

(3) 绘制科尔沁沙地参与的水循环示意图, 并简述该沙地发展水稻种植业对水循环的影响。(7分)

某中德合资大型汽车企业总部设在吉林省长春市, 已形成长春、成都、佛山、青岛等生产基地。长春基地生产高档车型, 中低档车型的生产大部分转移到其他基地。

(4) 简述该企业在成都、佛山、青岛等地发展汽车产业对当地经济的积极影响。(3分)

17.(9分)读图文资料,回答下列问题。

图9为阿尔泰山山地牧场分布示意图。图中甲、乙为冬、夏牧场。阿尔泰山区牧民在牧场之间按季节迁移,形成了独具特色的“转场”。



(1) 指出当地牧民“转场”所考虑的主要自然地理要素,以及转到甲类牧场的季节。(3分)

(2) 描述图9中主要牧区的空间分布特征,并分析其原因(3分)

吉木乃神石城地质公园,以花岗岩石蛋地貌为主,造型奇异,规模宏大。图10为某中学生拍摄的景观照片“巨虾”

(3) 说明地貌景观“巨虾”的形成过程。(3分)



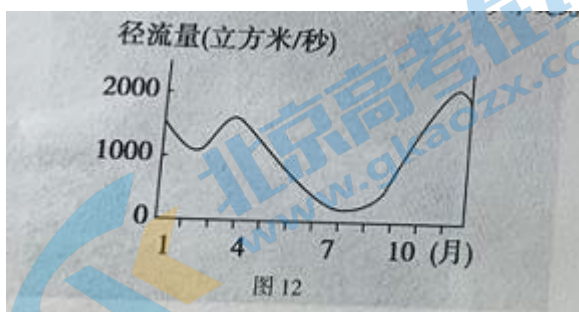
18. (15 分)读图文资料,回答下列问题。



北京时间 2020 年 3 月 13 日清晨 5 点 31 分,中国医疗队乘坐飞机抵达罗马,支援意大利新冠肺炎疫情防控工作。

- (1)推算中国医疗队抵达罗马时,罗马所在时区的区时,并比较此后一个月内罗马和北京的昼长差异。(4 分)
- (2)简述意大利多山地的主要原因。(2 分)

波河是意大利最大的河流,图 12 中曲线为蓬泰拉戈斯库罗水文站的实测流量变化。



(3) 描述该水文站径流量的季节变化特点，并分析其原因。(7分)

意大利国家统计局数据显示，2019年意大利新生婴儿出生率再次创历史新低。

(4) 列举出生率下降可能对意大利社会经济发展带来的中长远影响。(2分)

19.(15分)读图文资料，回答下列问题。

索科特拉岛隶属也门，全年降水稀少，生物资源独特，战略地位突出，近年来政局不稳，军事冲突不断。2018年该国人均GDP为936美元。(按世界银行当年公布数据，人均GDP低于995美元为低收入国家)。



(1) 概述索科特拉岛的地理位置在区际联系中的重要性。(3分)

波斯湾及其沿岸地区是世界上最大的石油输出地区。

(2)按顺序写出波斯湾沿岸石油运往日本或英国的最近海洋运输线路途径的重要海域、海峡、运河名称。(日本、英国两国任选其一作答)(3分)

(3)某年1月,一艘油轮在索科特拉岛附近海域泄漏大量原油,油污带漂向非洲东海岸,说明其原因。(2分)

索科特拉岛上835种植物中有37%的植物、90%的爬虫动物和95%的蜗牛品种都是世界其他地方见所未见的,被称作“独特的活的生物进化博物馆和陈列室”。2008年列入联合国教科文组织世界遗产名录,岛上不能兴建大型人工建筑,只有3条主要公路。

(4)依据图文材料,评价该岛发展旅游业的条件。(7分)

顺义区 2020 届高三第二次统练

地理参考答案

第一部分（选择题 共 45 分）

题号	1	2	3	4	5	6	7	8	9
答案	D	A	D	C	B	D	B	D	C
题号	10	11	12	13	14	15			
答案	B	D	A	D	C	A			

第二部分（非选择题 共 55 分）

16. (12 分)

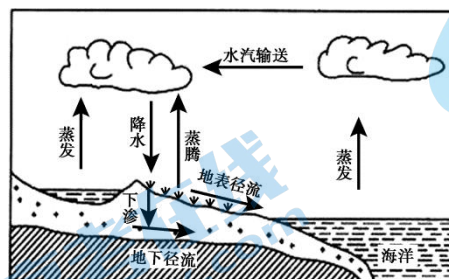
(1) (3 分) 地理意义：大兴安岭

自然界线：是我国地势第二级阶梯与第三级阶梯的界线；东北平原与内蒙古高原的界线；季风区与非季风区的界线；半湿润区与半干旱区的界线；（400 毫米等降水线经过）；内流区与外流区的分界线；温带落叶阔叶林与温带草原的界线。

人文界线：种植业分布区（农耕区）与畜牧业分布区（牧区）界线等。

(2) (3 分) 晴天多，夏季白昼长，光照充足；昼夜温差大；一年一熟，水稻生长季节长，有利于营养物质累积，环境污染小。

(3) (7 分)



湿地面积增加，蒸发、蒸腾作用增强；降水量增加；下渗量减少；地下径流量减少，地表径流增加等。

(4) (3分)

优化产业结构；带动相关产业发展，促进经济发展；促进工业化和城市化进程，增加劳动力就业，（改善基础设施）等。

17. (9分)

(1) (3分) 地形、气候、和植被（牧草）

夏季

(2) (3分) 分布不均，主要牧区靠近河流（水源地）分布。

原因：该地气候干旱，靠近河流，便于人畜饮用；草类生长茂盛，生态环境好（地形相对起伏小）；适合放牧。

(3) (3分) 岩浆侵入地壳内部冷凝形成花岗岩；经地壳运动抬升出露地表；经外力的风化、侵蚀作用形成“巨虾”等形态各异的花岗岩地貌。（内外力共同作用）

18. (15分)

(1) (4分)

罗马区时：2020年3月12日22点31分。

昼夜差异：3月13日至3月21日前后，罗马比北京昼短，3月21日前后，罗马与北京昼等长，3月21日之后罗马比北京昼长。

(2) (2分) 位于板块（亚欧板块与非洲板块）交界地带，板块碰撞挤压抬升，多山地。

(3) (7分)

特点：河流径流量的季节变化大；冬季和春季径流量大；夏季径流量小。

原因：大气降水是河流的主要补给方式；波河流域属于地中海气候，夏季受副热带高压控制，降水少，流量小；冬季受西风带控制，降水多，流量大。河流发源于西北部山地，海拔较高，有季节性积雪融水补给，春季气温回升，积雪融水补给形成春汛。

(4) (2分) 影响：劳动力数量减少，养老压力加大，制约经济的发展等。

进入北京高考在线网站：<http://www.gaokzx.com/> 获取更多高考资讯及各类测试试题答案！

19. (15分)

(1) (3分) 位于印度洋西北部，西临非洲大陆，北靠亚欧大陆；是印度洋通向红海和东非的海上交通要道；连接亚非欧三大洲的海上生命线，对外联系方便。

(2) (3分)

日本航线：波斯湾→霍尔木兹海峡→阿拉伯海→印度洋→马六甲海峡→太平洋→日本；

英国航线：波斯湾→霍尔木兹海峡→阿拉伯海→曼德海峡→红海→苏伊士运河→地中海→直布罗陀海峡→大西洋→英国

(3) (2分) 该岛附近海域盛行季风洋流；一月盛行东北风；洋流呈逆时针方向流动；所以油污会随洋流漂向非洲东海岸。

(4) (7分)

有利：该岛珍稀动植物资源丰富，品种繁多；旅游资源具有独特性和非凡性；具有较高的美学价值、科学价值。

不利：该岛经济欠发达，交通等基础设施薄弱，旅游接待能力差；全年炎热干燥，生态环境脆弱，旅游环境容量小；地区冲突不断，旅游安全保障差；该岛远离经济发达地区，距离客源市场较远。

。