

2024 届NCS高三摸底测试

数学

2023. 9. 08

本试卷共 4 页, 22 小题, 满分 150 分. 考试时间 120 分钟.

一. 单项选择题: 本题共 8 小题, 每小题 5 分, 共 40 分. 在每小题给出的四个选项中, 只有一项是符合题目要求的.

1. 已知集合 $P = \{x | y = \sqrt{x}\}$, $Q = \{y | y = 2^x\}$, 则
- A. $Q \subseteq P$ B. $P \subseteq Q$ C. $P = Q$ D. $Q \subseteq \complement_{\mathbb{R}} P$
2. 复数 $z = \frac{1}{3+4i}$ 的虚部是
- A. $-\frac{3}{25}$ B. $-\frac{3}{25}i$ C. $-\frac{4}{25}$ D. $-\frac{4}{25}i$
3. 已知向量 $a = (2, m)$, $b = (m+1, 1)$, 若 $\bar{a} \parallel \bar{b}$, 则 $m =$
- A. $-\frac{2}{3}$ B. 1 C. 2 或 -1 D. 1 或 -2
4. 已知公比为 q 的等比数列 $\{a_n\}$ 的前 n 项和 $S_n = 2a_1 - 2q^n$, 则 $a_1 =$
- A. $\frac{1}{2}$ B. 1 C. 2 D. 4
5. 已知抛物线 $C: x^2 = 4y$ 的焦点为 F , P 是抛物线 C 在第一象限的一点, 过 P 作 C 的准线的垂线, 垂足为 M , FM 的中点为 N , 若直线 PN 经过点 $(0, -3)$, 则直线 PN 的斜率为
- A. 1 B. 2 C. $\sqrt{3}$ D. 3
6. 已知函数 $y = e^x$ 和 $y = \ln x$ 的图象与直线 $y = 2 - x$ 交点的横坐标分别为 a, b , 则
- A. $a > b$ B. $a + b < 2$ C. $ab > 1$ D. $a^2 + b^2 > 2$
7. 已知函数 $f(x)$ 的值域为 A , 函数 $g(x) = \frac{f(x)}{f^2(x)+1}$ 的值域为 B , 则“ $A = [-1, 1]$ ”是
- “ $B = [-\frac{1}{2}, \frac{1}{2}]$ ”的
- A. 充分不必要条件 B. 必要不充分条件
C. 充要条件 D. 既不充分也不必要条件
8. 若函数 $f(x) = \cos x$, $\alpha \in (\frac{\pi}{2}, \pi]$, 则函数 $f(x)$ 在 $[\frac{\pi}{2}, \alpha]$ 上平均变化率的取值范围为
- A. $(-1, 0]$ B. $(-1, -\frac{2}{\pi}]$
C. $(-\infty, 0]$ D. $(-\infty, -\frac{2}{\pi}]$

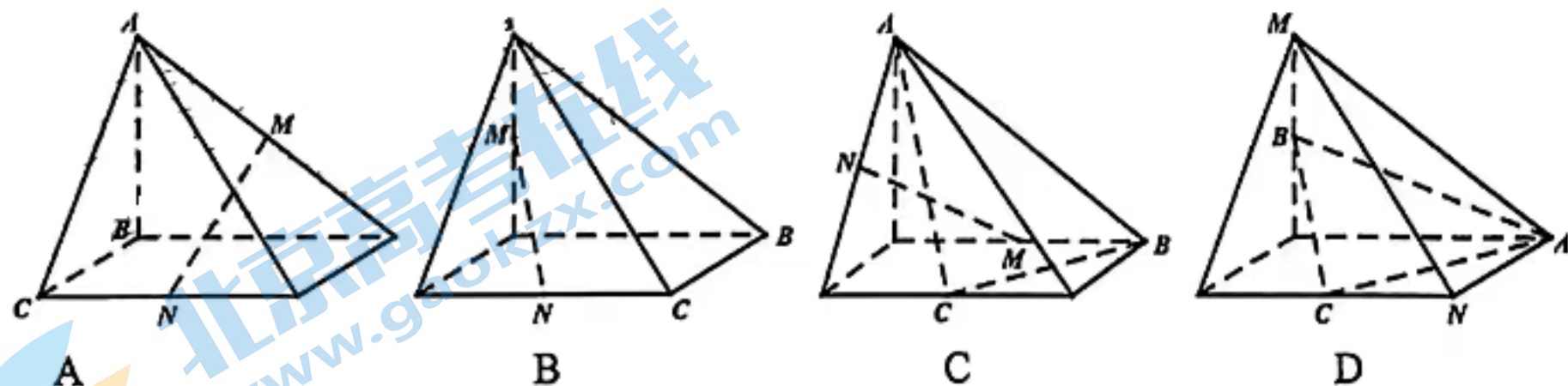
二. 多项选择题: 本题共4小题, 每小题5分, 共20分. 在每小题给出的四个选项中, 有多个选项是符合题目要求, 全部选对得5分, 部分选对的得2分, 有选错的得0分.

9. “未来之星”少儿才艺大赛, 选手通过自我介绍和才艺表演, 展示仪表形象、表达能力、风度气质等自身的整体形象, 评委现场打分. 若九位评委对某选手打分分别是 x_1, x_2, \dots, x_9 , 记这组数据的平均分、中位数、标准差、极差分别为 \bar{x}, z, s, j , 去掉这组数据的一个最高分和一个最低分后, 其平均分、中位数、标准差、极差分别为 \bar{x}', z', s', j' , 则下列判断中一定正确的是

- A. $\bar{x} = \bar{x}'$
C. $s \geq s'$

- B. $z = z'$
D. $j \geq j'$

10. 在下列四棱锥中, A, B, C, M, N 是四棱锥的顶点或棱的中点, 则 $MN \parallel$ 平面 ABC 的有



11. $f(x)$ 是定义在 \mathbb{R} 上连续可导函数, 其导函数为 $f'(x)$, 下列命题中正确的是

- A. 若 $f(x) = f(-x)$, 则 $f'(x) = -f'(-x)$
B. 若 $f'(x) = f'(x+T) (T \neq 0)$, 则 $f(x) = f(x+T)$
C. 若 $f(x)$ 的图象关于点 (a, b) 中心对称, 则 $f'(x)$ 的图象关于直线 $x = a$ 轴对称
D. 若 $f(-1+x) + f(-1-x) = 2$, $f'(x+2)$ 的图象关于原点对称, 则 $f(-1) + f'(2) = 1$

12. 已知双曲线 $C: x^2 - y^2 = 2$, 点 M 为双曲线右支上的一个动点, 过点 M 分别作两条渐近线的垂线, 垂足分别为 A, B 两点, 则下列说法正确的是

- A. 双曲线的离心率为 $\sqrt{2}$
B. 存在点 M , 使得四边形 $OAMB$ 为正方形
C. 直线 AB, OM 的斜率之积为 2
D. 存在点 M , 使得 $|MA| + |MB| = \sqrt{3}$

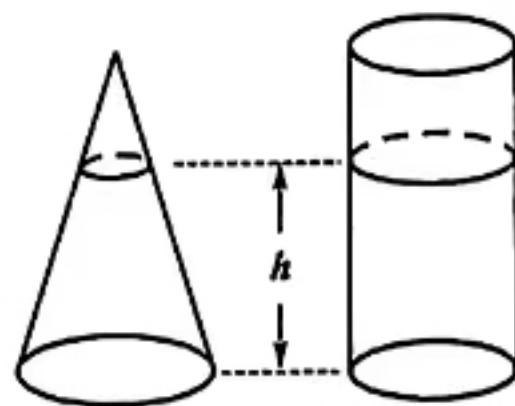
三. 填空题: 本题共4小题, 每小题5分, 共20分.

13. 已知直线 $x + y + 2 = 0$ 与圆 $x^2 + y^2 = r^2$ 相切, 则半径 $r =$ _____.

14. $(1 - x + x^2)(1 + x)^6$ 展开式中 x^7 的系数是 _____.

15. 如图, 高度均为 3 的封闭玻璃圆锥和圆柱容器内装入等体积的水, 此时水面高度均为 h , 若 $h = 2$, 记圆锥的底面半径

为 R , 圆柱的底面半径为 r , 则 $\frac{R}{r} =$ _____.



16. 已知函数 $y = A \sin(x + \varphi) (A > 0)$ 的图象与直线 $y = m (0 < m < A)$ 连续的三个公共点从

左到右依次为 M, N, P , 若 $|PN| = 3|MN|$, 则 $\frac{m}{A} =$ _____.

关注北京高考在线官方微信: 京考一点通 (微信号: bjgkzx), 获取更多试题资料及排名分析信息

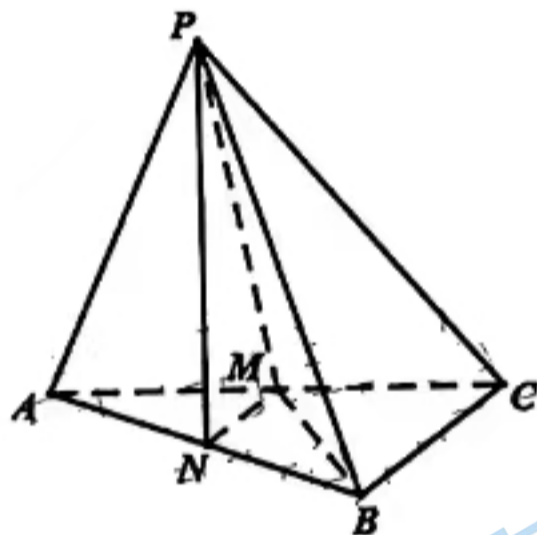
四. 解答题: 共 70 分. 17 题 10 分, 其余大题 12 分一道, 解答应写出文字说明、证明过程或演算步骤.

17. (10 分) 在 $\triangle ABC$ 中, 角 A, B, C 所对的边分别为 a, b, c , $C = \frac{\pi}{3}$, $a \cos B + b \cos A = abc$.

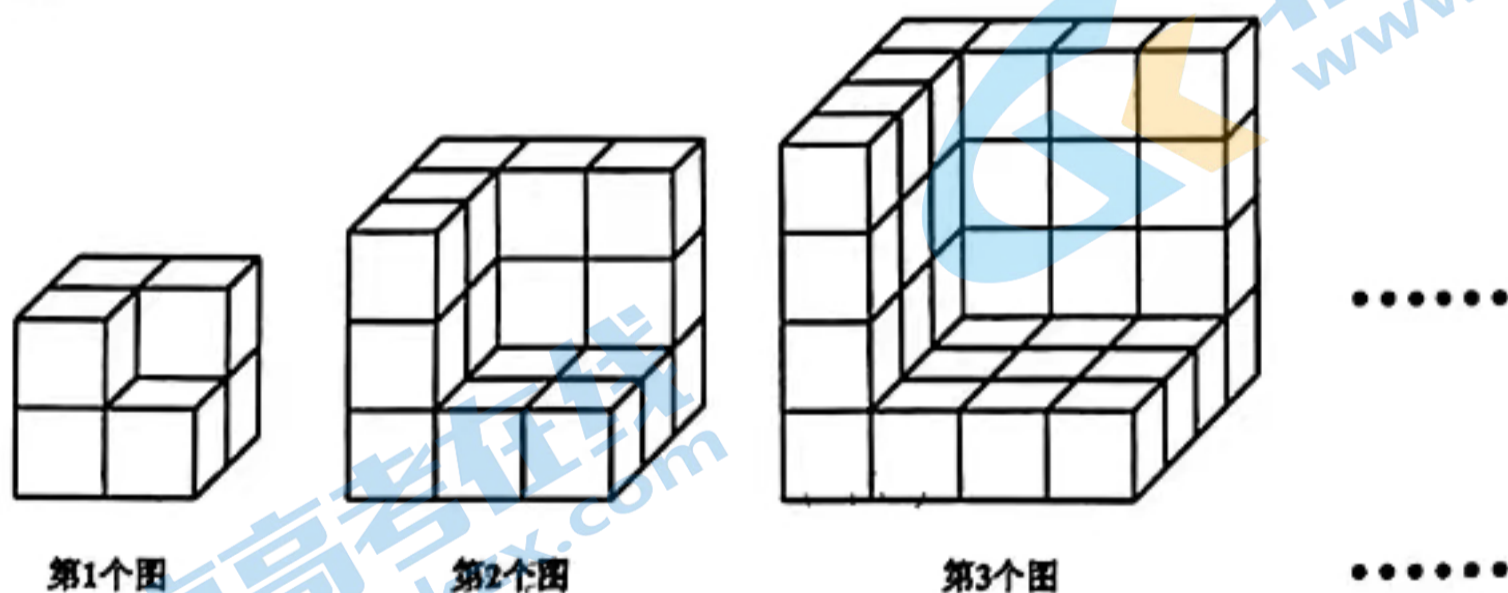
- (1) 求 $\triangle ABC$ 的面积;
- (2) 若 $c=1$, 求 $\triangle ABC$ 的周长.

18. (12 分) 如图, 在三棱锥 $P-ABC$ 中, $AB \perp BC$, M, N 分别为 AC, AB 的中点, $PM \perp AB$.

- (1) 求证: $AB \perp PN$;
- (2) 若 $AB = BC = 2, BP = PM = 3$, 求二面角 $N-PM-B$ 的余弦值.



19. (12 分) 如图, 第 n 个图形是由棱长为 $n+1$ 的正方体挖去棱长为 n 的正方体得到的, 记其体积为 $\{a_n\}$.



- (1) 求证: $a_n = 3n^2 + 3n + 1$;
- (2) 求和: $1^2 + 2^2 + 3^2 + \dots + n^2$.

20. (12分) 已知椭圆 $C: \frac{x^2}{a^2} + \frac{y^2}{b^2} = 1 (a > b > 0)$ 经过点 $M(1, \frac{3}{2})$, F 为椭圆 C 的右焦点, O 为坐标原点, $\triangle OFM$ 的面积为 $\frac{3}{4}$.

(1) 求椭圆 C 的标准方程;

(2) 过点 $P(4, 0)$ 作一条斜率不为 0 的直线与椭圆 C 相交于 A, B 两点 (A 在 B, P 之间), 直线 BF 与椭圆 C 的另一个交点为 D , 求证: 点 A, D 关于 x 轴对称.

21. (12分) 迎“七一”党建知识竞赛, 竞赛有两关, 某学校代表队有四名队员, 这四名队员若有机会参加这两关比赛, 通过的概率见下表:

队员	第一关	第二关
甲	$\frac{3}{4}$	$\frac{2}{3}$
乙	$\frac{3}{4}$	$\frac{2}{3}$
丙	$\frac{2}{3}$	$\frac{1}{2}$
丁	$\frac{2}{3}$	$\frac{1}{2}$

比赛规则是: 从四名队员中随机选出两名队员分别参加比赛, 每个队员通过第一关可以得 60 分, 且有资格参加第二关比赛, 若没有通过, 得 0 分且没有资格参加第二关比赛, 若通过第二关可以再得 40 分, 若没有通过, 不再加分. 两名参赛队员所得总分为该代表队的得分, 代表队得分不低于 160 分, 可以获得“党建优秀代表队”称号. 假设两名参赛队员不相互影响.

(1) 求这次比赛中, 该校获得“党建优秀代表队”称号的概率;

(2) 若这次比赛中, 选中了甲乙两名队员参赛, 记该代表队的得分为 X , 求随机变量 X 的分布列和期望.

22. (12分) 已知函数 $f(x) = a^x (a > 1)$.

(1) 求函数 $g(x) = f(x) + f(\frac{1}{x})$ 在 $(0, +\infty)$ 上的单调区间和极值;

(2) 若方程 $f(\frac{1}{x}) = 1 - x \log_a x$ 有两个不同的正根, 求 a 的取值范围.

2024 届NCS高三摸底测试

数学 参考答案及评分意见

一. 单项选择题：本题共 8 小题，每小题 5 分，共 40 分。在每小题给出的四个选项中，只有一项是符合题目要求的。

题号	1	2	3	4	5	6	7	8
答案	A	C	D	B	C	D	A	B

二. 多项选择题：本题共 4 小题，每小题 5 分，共 20 分。在每小题给出的四个选项中，有多个选项是符合题目要求，全部选对得 5 分，部分选对的得 2 分，有选错的得 0 分。

题号	9	10	11	12
答案	BCD	AB	ACD	AB

三. 填空题：本题共 4 小题，每小题 5 分，共 20 分。

13. $\sqrt{2}$; 14. 5; 15. $\frac{3\sqrt{39}}{13}$; 16. $\frac{\sqrt{2}}{2}$.

四. 解答题：共 70 分。17 题 10 分，其余大题 12 分一道，解答应写出文字说明、证明过程或演算步骤。

17. 【解析】(1) 由已知， $\sin A \cos B + \sin B \cos A = ab \sin C$ ，
即 $\sin(A+B) = ab \sin C$ ，

$\sin C = ab \sin C$ ，所以 $ab = 1$ ， 3 分

故 $\triangle ABC$ 的面积为 $\frac{1}{2} ab \sin C = \frac{1}{2} \times 1 \times \frac{\sqrt{3}}{2} = \frac{\sqrt{3}}{4}$ 5 分

(2) 由余弦定理， $\cos C = \frac{a^2 + b^2 - c^2}{2ab}$ 可得 $\frac{a^2 + b^2 - 1}{2} = \frac{1}{2}$ ，

所以 $a^2 + b^2 = 2$ ， 7 分

所以 $(a+b)^2 = a^2 + b^2 + 2ab = 4$ ，即 $a+b=2$ ，

所以 $\triangle ABC$ 的周长为 3. 10 分

18. 【解析】(1) 因为 M, N 分别为 AC, AB 的中点，所以 $NM \parallel BC$ ，

因为 $AB \perp BC$ ，所以 $AB \perp MN$ ， 2 分

因为 $AB \perp PM$ ， $PM \cap MN = M$ ，

所以 $AB \perp$ 平面 PMN ，所以 $AB \perp PN$ ； 5 分

(2) 因为 $AB = BC = 2, BP = PM = 3$ ，则 $NM = NB = 1$ ，

所以 $\triangle PNB \cong \triangle PNM$ ，因为 $AB \perp PN$ ，所以 $PN \perp NM$ ，

因为 $NB \cap NM = N$ ，所以 $PN \perp$ 平面 ABC ，

因为 $AB = BC = 2, BP = PM = 3$ ，所以 $PN = 2\sqrt{2}$ ， 7 分

以 NB 为 x 轴， NM 为 y 轴， NP 为 z 轴，

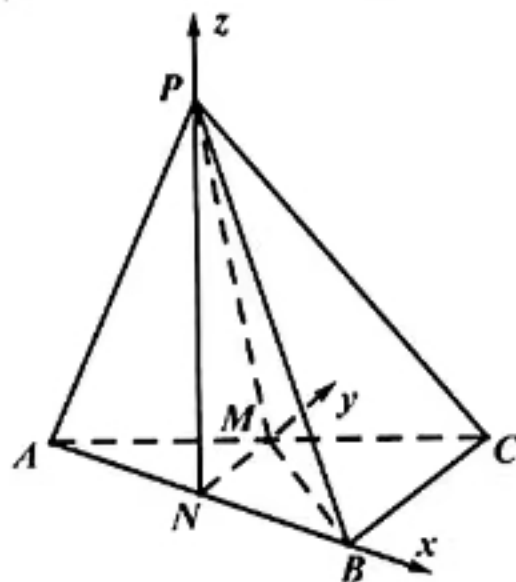
建立如图所示的空间直角坐标系，

则 $M(0, 1, 0)$ ， $B(1, 0, 0)$ ； $P(0, 0, 2\sqrt{2})$ ，

所以 $\vec{MB} = (1, -1, 0)$ ， $\vec{MP} = (0, -1, 2\sqrt{2})$ ，

设平面 PMB 的法向量为 $\vec{n}_1 = (x, y, z)$ ，

则 $\begin{cases} \vec{MB} \cdot \vec{n}_1 = 0 \\ \vec{MP} \cdot \vec{n}_1 = 0 \end{cases}$ ，所以 $\begin{cases} x - y = 0 \\ -y + 2\sqrt{2}z = 0 \end{cases}$



令 $z=1$, 得到 $\vec{n}_1 = (2\sqrt{2}, 2\sqrt{2}, 1)$,

平面 PMN 的法向量为 $\vec{n}_2 = (1, 0, 0)$ 10分

$$\text{所以 } \cos \langle \vec{n}_1, \vec{n}_2 \rangle = \frac{\vec{n}_1 \cdot \vec{n}_2}{|\vec{n}_1| |\vec{n}_2|} = \frac{2\sqrt{2}}{\sqrt{17}} = \frac{2\sqrt{34}}{17},$$

则二面角 $N-PM-B$ 的余弦值为 $\frac{2\sqrt{34}}{17}$ 12分

19. 【解析】(1) 棱长为 $n+1$ 的正方体的体积为 $(n+1)^3$,

棱长为 n 的正方体的体积为 n^3 , 3分

所以 $a_n = (n+1)^3 - n^3 = n^3 + 3n^2 + 3n + 1 - n^3 = 3n^2 + 3n + 1$; 5分

(2) 由 (1) 可知 $a_n = (n+1)^3 - n^3 = 3n^2 + 3n + 1$, 7分

则 $a_1 + a_2 + \dots + a_n = 3 \times 1^2 + 3 \times 1 + 1 + 3 \times 2^2 + 3 \times 2 + 1 + \dots + 3 \times n^2 + 3 \times n + 1$

$$= 3 \times (1^2 + 2^2 + \dots + n^2) + 3 \times (1 + 2 + \dots + n) + n = 3 \times (1^2 + 2^2 + \dots + n^2) + 3 \times \frac{n(n+1)}{2} + n$$

又 $a_1 + a_2 + \dots + a_n = 2^3 - 1^3 + 3^3 - 2^3 + \dots + (n+1)^3 - n^3 = (n+1)^3 - 1 = n^3 + 3n^2 + 3n$,

$$\text{所以 } 3 \times (1^2 + 2^2 + \dots + n^2) + 3 \times \frac{n(n+1)}{2} + n = n^3 + 3n^2 + 3n,$$

$$\text{即 } 1^2 + 2^2 + 3^2 + \dots + n^2 = \frac{2n^3 + 3n^2 + n}{6} = \frac{n(n+1)(2n+1)}{6} \dots\dots\dots 12分$$

20. 【解析】(1) 因为 $\triangle OFM$ 的面积为 $\frac{3}{4}$, 则有 $\frac{1}{2} \times c \times \frac{3}{2} = \frac{3}{4}$, 解得 $c=1$, 2分

$$\text{又因为 } M(1, \frac{3}{2}) \text{ 在椭圆 } C \text{ 上, 则 } \begin{cases} \frac{1}{a^2} + \frac{9}{4b^2} = 1 \\ a^2 - b^2 = 1 \end{cases}, \text{ 解得 } \begin{cases} a^2 = 4 \\ b^2 = 3 \end{cases}$$

所以椭圆 C 的标准方程为 $\frac{x^2}{4} + \frac{y^2}{3} = 1$; 5分

(2) 根据椭圆的对称性, 欲证 A, D 关于 x 轴对称,

只需证 $k_{FA} = -k_{FD}$, 即证 $k_{FA} + k_{FB} = 0$,

设 $A(x_2, y_2), B(x_1, y_1)$, 直线 AB 方程为 $x = my + 4$,

$$\text{由 } \begin{cases} x = my + 4 \\ 3x^2 + 4y^2 = 12 \end{cases} \text{ 消去 } x \text{ 得 } (3m^2 + 4)y^2 + 24my + 36 = 0,$$

$$\text{所以 } y_1 + y_2 = \frac{-24m}{3m^2 + 4}, y_1 y_2 = \frac{36}{3m^2 + 4} \dots\dots\dots 9分$$

$$\text{则 } k_{FA} + k_{FB} = \frac{y_1}{x_1 - 1} + \frac{y_2}{x_2 - 1} = \frac{y_1(x_2 - 1) + y_2(x_1 - 1)}{(x_1 - 1)(x_2 - 1)} = \frac{y_1x_2 + y_2x_1 - (y_1 + y_2)}{(x_1 - 1)(x_2 - 1)}$$

$$\text{因为 } y_1x_2 + y_2x_1 - (y_1 + y_2) = 2my_1y_2 + 3(y_1 + y_2) = 2m \times \frac{36}{3m^2 + 4} + 3 \frac{-24m}{3m^2 + 4} = 0$$

所以 $k_{FA} + k_{FB} = 0$ ，即 A, D 关于 x 轴对称。..... 12 分

21. 【解析】(1) 记选出甲乙两名队员参赛为事件 A_1 ，

选出甲乙、丙丁各一人参赛为事件 A_2 ，

选出丙丁两名队员参赛为事件 A_3 ，

活动“党建优秀代表队”称号为事件 B 。

$$\text{则 } P(A_1) = \frac{C_2^2}{C_4^2} = \frac{1}{6}, P(A_2) = \frac{C_2^1 C_2^1}{C_4^2} = \frac{2}{3}, P(A_3) = \frac{C_2^2}{C_4^2} = \frac{1}{6} \dots\dots\dots 3 \text{ 分}$$

$$P(B) = P(A_1B + A_2B + A_3B)$$

$$= \frac{1}{6} \times \left(\frac{3}{4}\right)^2 \times \left[\left(\frac{2}{3}\right)^2 + 2 \times \frac{2}{3} \times \frac{1}{3}\right] + \frac{2}{3} \times \frac{3}{4} \times \frac{2}{3} \times \left(\frac{2}{3} \times \frac{1}{2} + \frac{1}{3} \times \frac{1}{2} + \frac{2}{3} \times \frac{1}{2}\right) +$$

$$\frac{1}{6} \times \left(\frac{2}{3}\right)^2 \times \left[\left(\frac{1}{2}\right)^2 + 2 \times \frac{1}{2} \times \frac{1}{2}\right] = \frac{1}{12} + \frac{5}{18} + \frac{1}{18} = \frac{5}{12} \dots\dots\dots 6 \text{ 分}$$

(2) X 的可能取值为: 0, 60, 100, 120, 160, 200,

$$P(X = 0) = \left(\frac{1}{4}\right)^2 = \frac{1}{16}, P(X = 60) = 2 \times \frac{3}{4} \times \frac{1}{3} \times \frac{1}{4} = \frac{1}{8},$$

$$P(X = 100) = 2 \times \frac{3}{4} \times \frac{2}{3} \times \frac{1}{4} = \frac{1}{4}, P(X = 120) = \left(\frac{3}{4}\right)^2 \times \left(\frac{1}{3}\right)^2 = \frac{1}{16},$$

$$P(X = 160) = \left(\frac{3}{4}\right)^2 \times 2 \times \frac{2}{3} \times \frac{1}{3} = \frac{1}{4}, P(X = 200) = \left(\frac{3}{4}\right)^2 \times \left(\frac{2}{3}\right)^2 = \frac{1}{4}.$$

所以随机变量 X 的分布列为:

X	0	60	100	120	160	200
P	$\frac{1}{16}$	$\frac{1}{8}$	$\frac{1}{4}$	$\frac{1}{16}$	$\frac{1}{4}$	$\frac{1}{4}$

$$\text{所以 } EX = 0 \times \frac{1}{16} + 60 \times \frac{1}{8} + 100 \times \frac{1}{4} + 120 \times \frac{1}{16} + 160 \times \frac{1}{4} + 200 \times \frac{1}{4} = 130.$$

..... 12 分

22. 【解析】(1) $g(x) = a^x + a^x, (a > 1)$,

$$\text{则 } g'(x) = a^x \ln a - \frac{a^x \ln a}{x^2} = \frac{\ln a}{x^2} (x^2 a^x - a^x), \dots\dots\dots 2 \text{ 分}$$

$$\text{设 } h(x) = x^2 a^x - a^x, \text{ 则 } h'(x) = 2xa^x + x^2 a^x \ln a + \frac{1}{x^2} a^x \ln a > 0,$$

故 $h(x)$ 在 $(0, +\infty)$ 单调递增, 又因为 $h(1) = 0$,

故 $g(x)$ 在 $(0, 1)$ 单调递减, 在 $(1, +\infty)$ 单调递增.

则 $g(x)$ 的极小值为 $g(1) = 2a$, 无极大值. 5 分

(2) 因为 $f(\frac{1}{x}) = 1 - x \cdot \log_a x$, 所以 $1 - x \log_a x = a^{\frac{1}{x}}$,

$$\frac{1}{x} a^{\frac{1}{x}} = \log_a (\frac{1}{x} a^{\frac{1}{x}}),$$

..... 7分

令 $t = \frac{1}{x} a^{\frac{1}{x}}$, 显然 $t = \frac{1}{x} a^{\frac{1}{x}}$ 在 $(0, +\infty)$ 单调递减,

故有 $f(\frac{1}{x}) = 1 - x \cdot \log_a x$ 两个正根, 等价于 $h(t) = t - \log_a t$ 有两个零点.

$$h'(t) = 1 - \frac{1}{\ln a \cdot t}, \text{ 显然 } t \in (0, \frac{1}{\ln a}) \text{ 时, } h'(t) < 0,$$

$$t \in (\frac{1}{\ln a}, +\infty) \text{ 时, } h'(t) > 0,$$

故 $h(t)$ 在 $(0, \frac{1}{\ln a})$ 递减, $(\frac{1}{\ln a}, +\infty)$ 递增,

$$h(t)_{\min} = h(\frac{1}{\ln a}) = \frac{1}{\ln a} - \log_a \frac{1}{\ln a} = \log_a (a^{\frac{1}{\ln a}} \cdot \ln a),$$

..... 9分

令 $\log_a (a^{\frac{1}{\ln a}} \cdot \ln a) < 0$, 所以 $a^{\frac{1}{\ln a}} \cdot \ln a < 1$, 则 $a^{\frac{1}{\ln a}} < \frac{1}{\ln a}$.

设 $x_0 = \frac{1}{\ln a}$, 则 $a = e^{x_0}$, $a^{\frac{1}{\ln a}} = a^{x_0} = (e^{x_0})^{x_0} = e$.

所以 $a^{\frac{1}{\ln a}} < \frac{1}{\ln a}$, 则 $e < \frac{1}{\ln a}$, 则 $a \in (1, e^e)$,

因为 $h(\frac{1}{a}) = \frac{1}{a} + 1 > 0$, $h(a^a) = a^a - a = a(a^{a-1} - 1) > 0$.

此时存在两零点 x_1, x_2 , 其中 $x_1 \in (\frac{1}{a}, \frac{1}{\ln a})$, $x_2 \in (\frac{1}{\ln a}, +\infty)$, 且 $h(x_1) = h(x_2) = 0$.

故 $a \in (1, e^e)$.

..... 12分

关于我们

北京高考在线创办于 2014 年，隶属于北京太星网络科技有限公司，是北京地区极具影响力的中学升学服务平台。主营业务涵盖：北京新高考、高中生涯规划、志愿填报、强基计划、综合评价招生和学科竞赛等。

北京高考在线旗下拥有网站门户、微信公众平台等全媒体矩阵生态平台。平台活跃用户 40W+，网站年度流量数千万量级。用户群体立足于北京，辐射全国 31 省市。

北京高考在线平台一直秉承 “精益求精、专业严谨” 的建设理念，不断探索 “K12 教育+互联网+大数据” 的运营模式，尝试基于大数据理论为广大中学和家长提供新鲜的高考资讯、专业的高考政策解读、科学的升学规划等，为广大高校、中学和教科研单位提供 “衔接和桥梁纽带” 作用。

平台自创办以来，为众多重点大学发现和推荐优秀生源，和北京近百所中学达成合作关系，累计举办线上线下升学公益讲座数百场，帮助数十万考生顺利通过考入理想大学，在家长、考生、中学和社会各界具有广泛的口碑影响力

未来，北京高考在线平台将立足于北京新高考改革，基于对北京高考政策研究及北京高校资源优势，更好的服务全国高中家长和学生。



微信搜一搜



京考一点通