

文科综合

2018.03

注意事项:

1. 答题前, 考生务必先将答题卡上的学校、年级、班级、姓名、准考证号用黑色字迹签字笔填写清楚, 并认真核对条形码上的准考证号、姓名, 在答题卡的“条形码粘贴区”贴好条形码。
2. 本次考试所有答题均在答题卡上完成。选择题必须使用 2B 铅笔以正确填涂方式将各小题对应选项涂黑, 如需改动, 用橡皮擦除干净后再选涂其它选项。非选择题必须使用标准黑色字迹签字笔书写, 要求字体工整、字迹清楚。
3. 请严格按照答题卡上题号在相应答题区内作答, 超出答题区域书写的答案无效, 在试卷、草稿纸上答题无效。
4. 请保持答题卡卡面清洁, 不要装订、不要折叠、不要破损。

第一部分 (选择题 共 140 分)

本部分共 35 小题, 每小题 4 分, 共 140 分。在每小题列出的四个选项中, 选出最符合题目要求的一项。

2018 年春晚的四大分会场 (三亚、珠海、泰安和曲阜、黔东南) 以众星拱月之势与北京主会场共同演绎着新春大联欢。据此回答第 1、2 题。

1. 四个分会场中,
 - A. 泰安市的名山属于褶皱山
 - B. 黔东南地处我国地势的第三级阶梯
 - C. 珠海市位于珠江口的东侧
 - D. 三亚市所在省区管辖海域面积最大
2. 黔东南分会场歌舞表演的主题最可能是
 - A. 南海风情, 讲述春天故事
 - B. 海晏河清, 祈愿国泰民安
 - C. 展现苗侗文化, 助推脱贫致富
 - D. 铸航天强国梦, 续海上丝路情

2018 年 2 月 28 日, 北京局部有零星小雪, 东北大部出现强降雪天气。图 1 为该日 14 时亚洲部分地区海平面气压形势图 (单位: hpa)。读图, 回答第 3、4 题。

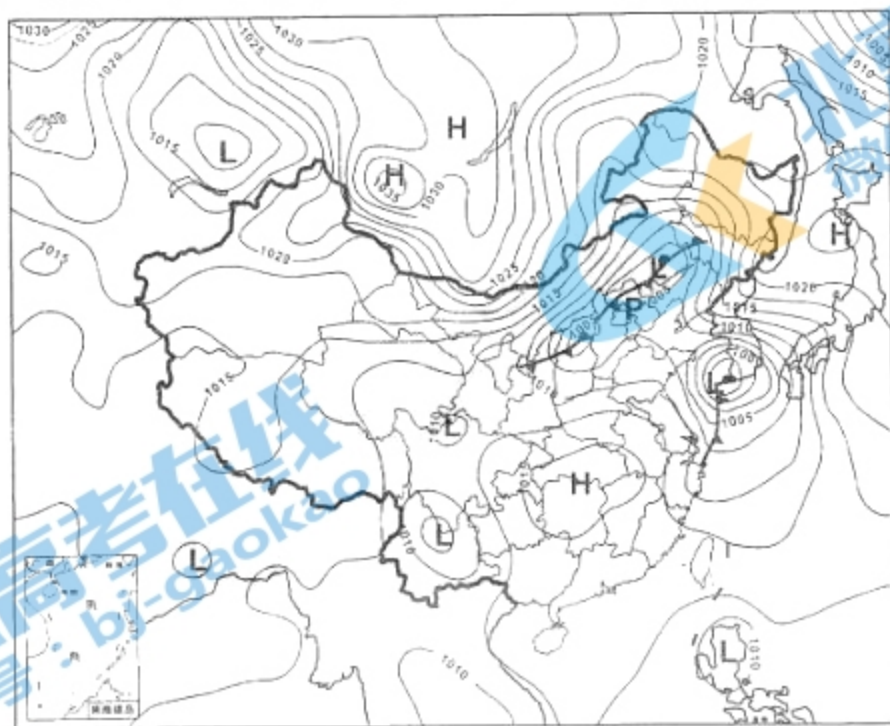
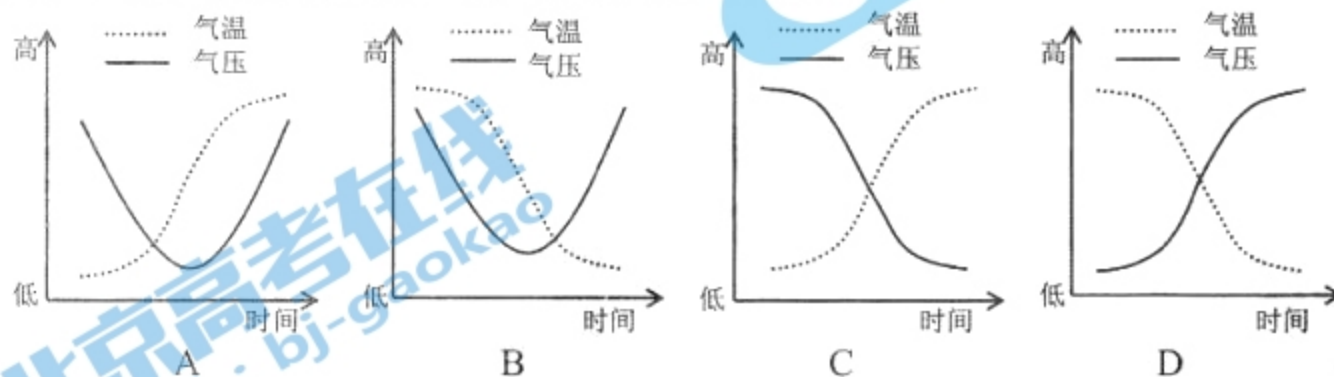


图 1

3. 此时,

- A. 江西省可能会发生滑坡、泥石流
- B. 海南岛东部沿海受风暴潮袭击
- C. 北京降雪规模小的原因主要是锋前暖气团较干燥
- D. 吉林省西部出现暴雪的原因是正处于暖锋的锋后

4. 图中P锋面系统过境前后, 天气变化与下图相符的是



肯尼亚山位于东非高原, 是距离赤道最近的雪山。图 2 为非洲肯尼亚山植被的垂直分布示意图。读图, 回答第 5、6 题。

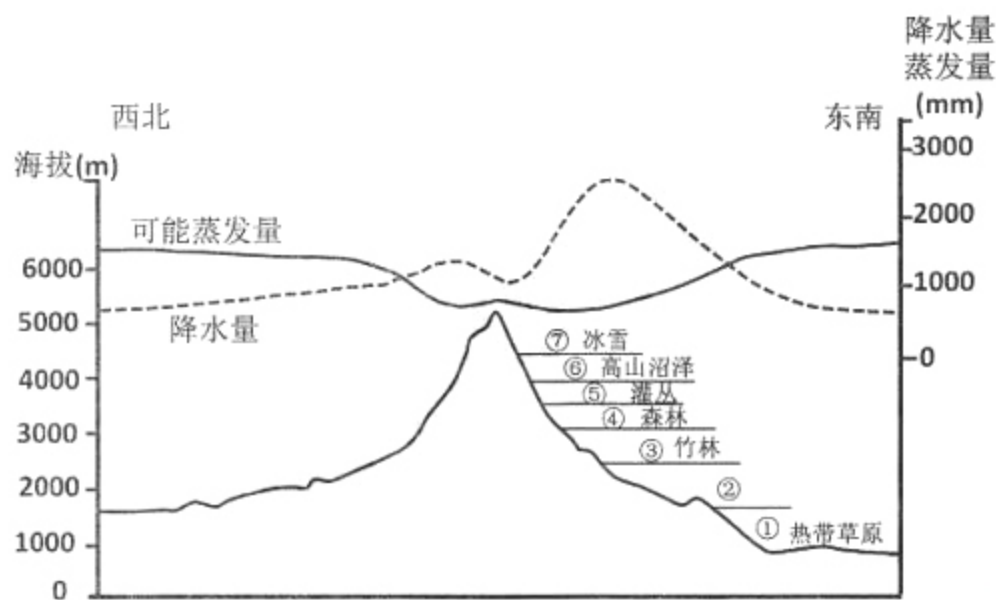


图 2

5. 图中降水量与可能蒸发量最大差值处的海拔约为

- A. 1500m
- B. 2200m
- C. 2700m
- D. 5000m

6. 肯尼亚山

- A. ①地自然带分布属于地带性规律
- B. ②地植被为山地雨林
- C. ③地受人类活动影响强度最大
- D. 地处板块消亡边界

2016 年, 我国农业部正式发布《关于推进马铃薯产业开发的指导意见》, 将马铃薯作为主粮产品进行产业化开发。马铃薯是喜冷凉的作物, 图 3 示意我国西南地区马铃薯周年生产周期。读图, 回答第 7~9 题。




图3

7. 西南地区每个季节都有时鲜马铃薯上市，主要原因是
- A. 地形复杂，气候类型多样 B. 纬度较低，水热条件充足
- C. 政策支持，市场需求量大 D. 技术成熟，种植经验丰富
8. 西南地区
- A. 冬作马铃薯比小春马铃薯种植区的海拔高
- B. 早春马铃薯种植区主要分布在低热河谷
- C. 早春马铃薯比大春马铃薯种植区的海拔低
- D. 秋作马铃薯所在种植区只能一年一熟
9. 与图中大春马铃薯种植条件最接近的是
- A. 松嫩平原 B. 成都平原 C. 太湖平原 D. 珠江三角洲

我国某通信设备制造商的业务涵盖了移动、宽带、IP、光网络、电信增值业务和终端等众多领域，其产品和解决方案已经应用于140多个国家，服务全球1/3的人口，目前已经初步成长为一个全球化公司。据此，回答第10、11题。

10. 该公司产品核心竞争力强的主要原因是
- A. 重视技术创新 B. 优化产品服务
- C. 劳动力成本低 D. 企业内部交易成本低
11. 该公司全球化战略布局的最主要目的是
- A. 降低运输成本 B. 提升科技水平
- C. 避开贸易壁垒 D. 扩大销售市场
12. 20世纪80年代以来，考古工作者在河北雄安新区南阳遗址先后出土春秋战国时期的陶罐、陶纺轮、铜戈、铜壶及刀币等大量文物。一些文物上刻有“燕侯载”“燕王职”“左征（燕国内府官署名）”等文字。上述考古发现有助于研究当时
- ①地方管理体制 ②本地农业生产
- ③社会生活状况 ④工、商业状况
- A. ①②③ B. ②③④ C. ①③④ D. ①②④
13. 美国历史学家斯塔夫里阿诺斯指出：“宋朝时期发生了一场名副其实的商业革命。”下列描述与此相符的是
- A. 近坊灯火如昼明，十里东风吹市声
- B. 崆峒西极过昆仑，驼马由来拥国门
- C. 风云独享三百年，信义生得晋商人
- D. 十三行畔搬洋货，如看波斯进宝图

14. 清朝名臣张廷玉居官五十年，兢兢业业、廉洁奉公，深受器重，是清朝唯一配享太庙的汉臣。曾任户部尚书、吏部尚书、保和殿大学士、首席军机大臣等职。在担任首席军机大臣期间，他可以

- A. 监察地方各级官员 B. 协助皇帝上传下达
C. 独立处理军国大事 D. 直接掌管中央六部

15. 下列是中国近代不同政治派别的主张，他们的共同诉求是

中国欲自强，则莫如学习外国利器，欲学习外国利器，则莫如覓制器之器	下诏鼓天下之气，迁都定天下之本，练兵强天下之势，变法成天下之治	革命必先反满反清，其清廷已蜕变为“洋人之走狗”，焉可保狗护狗而不打狗乎
----------------------------------	---------------------------------	-------------------------------------

- A. 反对专制统治，实行民主政治
B. 反抗外来侵略，抵制西方文化
C. 发展资本主义，振兴民族经济
D. 救亡图存，推动中国的近代化

16. 下面为《钦定宪法大纲》的部分内容，其与《中华民国临时约法》的共同点有

臣民于法律范围以内，所有言论、著作、出版、结社等事，均准其自由
臣民之财产及居住，无故不加侵扰
选举用投票之法
一次内阁不得解散两次国会
君上有统治国家之大权……以议院协赞立法，以政府辅弼行政，以法院遵律司法

- ①采用内阁制的组织形式
②体现了一定的分权思想
③规定主权在民，人民一律平等
④承认了公民的一些基本权利
A. ①②③ B. ①③④
C. ②③④ D. ①②④

17. 一位同学在学习中国近代史时，以中国共产党的奋斗历程为题材，绘制了一幅示意图（图4），图中五个序号代表五个事件，按时间先后排序正确的是

- ①“开天辟地”
②“理论成熟”
③“战略决战”
④“北伐风云”
⑤“星火燎原”
A. ①②③④⑤
B. ①④⑤②③
C. ①④②③⑤
D. ①②④③⑤

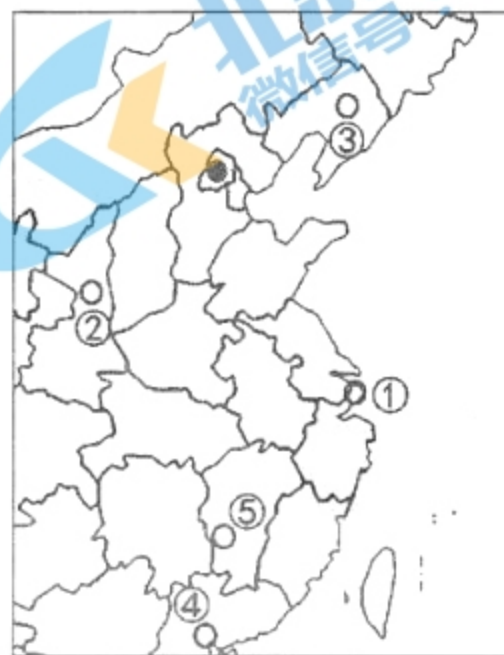


图4

18. 图 5 数据整理自《中华人民共和国经济史》。关于图中①②两个阶段农业总产值年均增长率的表述，正确的是

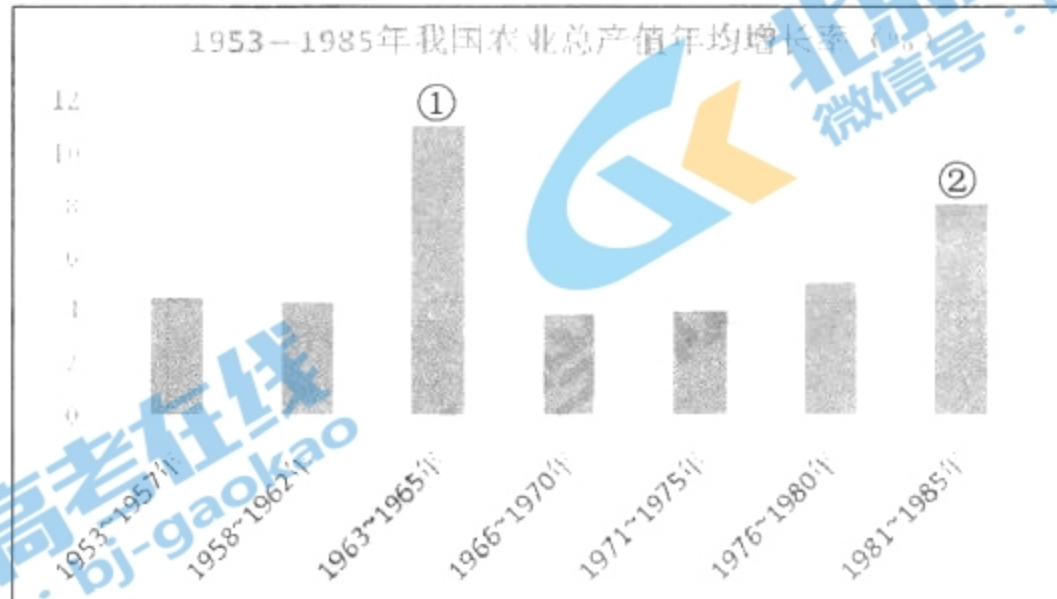


图 5

- A. 农业合作化运动促使①段农业生产迅速发展
 B. 农民获得土地所有权促使②段农业生产发展
 C. ①②段农业生产的提高都是政策调整的结果
 D. ①②段农业生产提高都推动了经济体制改革
19. 近代某国宪法规定：联邦议会和帝国国会行使立法权，帝国国会由选举产生，但不能组成代议制政府。下列评价符合此时期该国政体的是
- A. “举国听于议院，势太偏重”
 B. “君主能以事下会议而不能独断”
 C. “议院主立法，政府主行政，察院主断法”
 D. “上议院主用世爵，参以选举，君权仍重”
20. 图 6 是 18 世纪以来欧洲人口变化示意图。其中阶段 2 为 19 世纪人口变化情况，下列对该阶段解释合理的是

出生率和死亡率

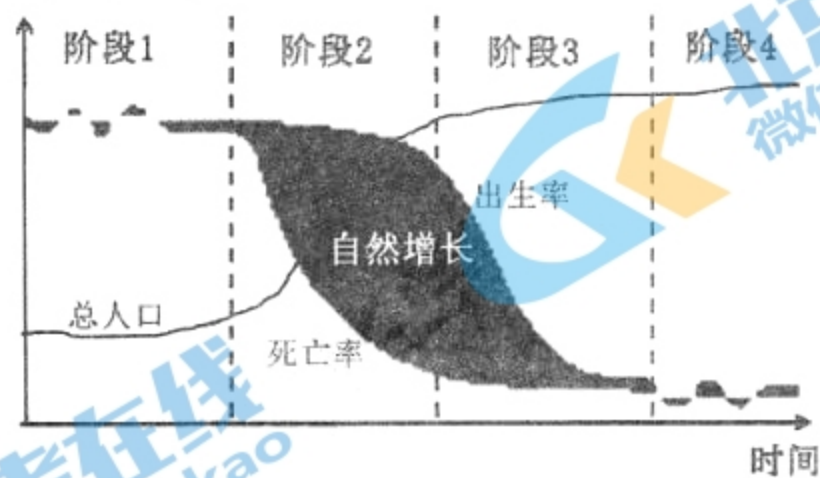


图 6

- A. 科技进步导致死亡率下降
 B. 黑奴贸易促欧洲人口增长
 C. 义务教育促人口素质提升
 D. 工业革命导致出生率增长

21. 1921 年苏俄政府作出决定：凡雇佣 20 人以下的小企业，一律归还业主或者出租。1921—1922 年，把 14 个企业租让给外国资本家。1922 年上半年，私营企业达 257 个。这表明苏俄
- A. 利用资本主义作为提高生产力手段
B. 放弃向社会主义过渡的设想和实践
C. 采取军事和行政手段管理国家经济
D. 资本主义企业掌握了国家经济命脉

22. 2017 年 12 月，美国总统宣布承认耶路撒冷为以色列首都，各国纷纷反对。尽管美国发出制裁威胁，联合国大会仍通过决议：任何宣称改变耶路撒冷地位的决定和行动都将“无效”，以色列和巴勒斯坦应通过谈判决定耶路撒冷的地位。图 7 为决议投票结果。这表明




图 7

- ①霸权主义强权政治仍存在
②世界多极化格局已经形成
③国际关系日益趋向民主化
④国际政治经济新秩序确立
- A. ①② B. ③④
C. ①③ D. ②④

23. 下列选项中史实与结论之间逻辑关系正确的是

	史实	结论
A	汉武帝设置中朝	使“朝廷不行黜陟，而藩国自析”
B	北魏孝文帝实行三长制	改变“民多荫附，豪强征敛”局面
C	民国政府推行移风易俗措施	结束近代中国城乡落后、封闭状态
D	欧美出现浪漫主义文学流派	反映出人们对现代西方文明的不满

24. 书法通过笔墨，把中国汉字变成了表现情感意蕴的符号。这些优美的文字，这些文字所表达的人的精神，都是经过岁月沉淀的中国文化的永恒的坐标。



“颜体”是针对颜真卿的楷书而言的。其楷书结体方正茂密，笔画横轻竖重，笔力雄强刚厚，气势庄严雄浑。

安史之乱时，颜真卿率义军对抗叛军。七十四岁的颜真卿为维护国家统一，孤身一人晓谕叛将，凛然拒贼，终被缢杀。被追念其一生是“才使匡国，忠至灭身，器质天资，公忠杰出，出入四朝，坚贞一志，拘胁累岁，死而不挠，稽其盛节，实谓犹生”。颜真卿的书法风度与他高尚的人格相契合。

图 8

下列对书法与人格关系表述正确的是

- A. “书为心画”，书法作为精神的载体，是一种社会物质力量
- B. 书法创作作为民族文化的结晶，是中华民族精神的集中体现
- C. 书法借笔墨传递内心审美体验，人格的完善可以提升书法价值
- D. 世界观、人生观、价值观成为文化风格评判的重要来源

25. 中国网络文学现今已成为助力中国走向世界出版强国的重要力量，而国家倡导的“推动中华文化走出去”更是为中国网络文化发力全球市场注入了一针强心剂，在全球文化创意产业领域扮演更具分量的角色。为中国网络文学创造更广阔的海外发展空间，下列措施不恰当的是

- A. 国家扶植——号召文化骨干企业“走出去”，扩大影响力
- B. 文化吸引——增强对中华文化认同感，强化植入力
- C. 市场需求——立足多样化个性化需求，增加吸引力
- D. 企业助推——完善海外布局战略合作，提升竞争力

26. 近年来互联网直播发展迅猛，一些主播为博取粉丝关注而不择手段，触碰法律和道德底线，违规开展新闻信息直播和网络互动，扰乱正常传播秩序。为此国家互联网信息办公室发布《互联网直播服务管理规定》。该规定的实施

- ①可以保障人民民主的真实性和广泛性
- ②有利于增强法律面前人人平等的意识
- ③可以弥补市场调节存在的缺陷
- ④有利于确保网络直播监管有法可依


- A. ①② B. ③④ C. ①③ D. ②④

27. 十九大报告提出，“健全党和国家监督体系”，“构建党统一指挥、全面覆盖、权威高效的监督体系，把党内监督同国家机关监督、民主监督、司法监督、群众监督、舆论监督贯通起来，增强监督合力”。重视“健全党和国家监督体系”是因为

- ①党内监督和国家各级监督内在一致，高度互补
- ②要把健全党和国家监督体系作为当前工作的中心环节
- ③强化党自我净化能力，使内外监督结合凝聚反腐合力
- ④权力的行使需要制约和监督，更好地维护人民利益

- A. ①② B. ②④ C. ①③ D. ③④

28. 2018年3月两会期间，“部长通道”再次开启，国家税务总局、国家知识产权局等部门负责人就相关问题回答了中外记者提问。如图9所示。



国家税务总局

“百分之百让党中央、国务院税改大礼包落到每一位纳税人手上。”

文化旅游部

“利用好文化遗产，要让人民群众‘零门槛’‘无障碍’接触文化遗产。”

国家知识产权局

“加快推动专利法修改，引入惩罚性赔偿措施，让侵权者付出沉重代价。”

国务院扶贫办

“建档立卡需要有一些填表报数，但是搞形式主义、弄虚作假是不行的。”

图9

如果给上述内容拟定标题，最恰当的是

- A. 政府积极履职，回应民众关切 B. 审慎行使权力，加强民主决策
C. 扩大人民参与，树立政府权威 D. 坚持群众路线，创新治理模式

29.

农业服务体系 内容关注度排名 (前三位)	农业补贴	农村金融	农业社会化服务
地区关注度排名 (前三位)	内蒙古 黑龙江 湖北	广东 河南 山东 江苏 四川	浙江 天津 山西

上表是关于农业服务体系关注度的调查结果。基于此，在完善农业服务体系中应坚持

- A. 客观与主观具体的历史的统一
B. 矛盾普遍性与矛盾特殊性辩证统一
C. 经济基础与上层建筑辩证统一
D. 革命批判精神与创新意识辩证统一
30. “万里人南去，三春雁北飞。”雁群在天空中飞翔，一般都是排成人字阵或一字斜阵，并定时交换左右位置，这一飞行阵势是它们飞得最快最省力的方式。队伍中最重要的是领头雁。头雁勤，群雁就能“春风一夜到衡阳”，而头雁惰，只会“万里寒云雁阵迟”，这就是雁阵效应。下列与雁阵效应蕴含的哲理相同的是
- A. 羊群效应：羊群在一起时常互相冲撞，一旦有一只头羊动起来，其他的羊也会不假思索地一哄而上，全然不顾前面可能有狼或者不远处有更好的草
B. 螃蟹效应：用敞口藤篮来装螃蟹，一只螃蟹很容易爬出来。多装几只后，就没有一只爬出来了。不因为别的原因，就因为相互扯后腿
C. 狼群效应：狼群是自然界中最具作战能力的群体之一。头狼作为开路先锋，指挥群狼统一行动，集中弱小形成合力摧毁强大力量
D. 鲇鱼效应：沙丁鱼在长途运输中因窒息死亡率极高。在鱼槽里放入习性凶猛的鲇鱼后，沙丁鱼四处躲避加速游动，缺氧问题迎刃而解

31. 漫画“一争两丑 一合两赢”给我们的启示是
- A. 立足局部，选择最佳方案，实现最优目标
B. 抓住机遇，促成事物质变，赢得主动发展
C. 敢于实践，建立人为联系，推动事物发展
D. 求同存异，创造有利条件，促进和谐共生



一争两丑 一合两赢

图 10

32. 一张图回顾中国家装行业发展三十年。



图 11

这张发展历程图体现了

- ①家装行业不断优化升级，逐渐形成规模经济
- ②不同时代的消费意愿决定家装行业的发展方向
- ③制定顺应时代发展战略，就能取得竞争胜利
- ④遵循市场规律，激发各类市场主体的活力

A. ①② B. ①④ C. ②③ D. ③④

33. 近日上海迪士尼集团 VIP 插队事件引发热议，官方回应称，所谓的“天价插队费”实为一次“尊享导览服务”，即购买尊享卡可享受所购游乐项目的不需排队、专属导览等多种特殊服务。那这个服务公平吗？对此，多方表达了自己的感受和观点，下列说法正确的是

- A. 将排队等候的痛点当作利润的增长点，扰乱了市场秩序
- B. “迪士尼”提供的服务并非公共物品，它可以自主制定营销策略
- C. 价高者得，供需自由匹配，完全符合市场价格规则
- D. 政府应规范尊享服务，制定细则内容，确保消费公平

34. 随着自助银行、网上银行、电话银行、手机银行的发展，2016 年银行业金融机构离柜交易达 1777.14 亿笔，同比增长 63.68%；与此同时，网上银行交易 849.92 亿笔，同比增长 98.06%；手机银行交易金额 140.57 万亿元，同比增长 98.82%；微信银行交易 2.18 亿笔，交易金额为 9.97 万亿元，是去年的 30 多倍。由此能够推断

- ①银行的用工需求增速可能会逐渐放缓
- ②银行风险控制能力将得到完善和提高
- ③银行会积极研发新产品提升服务水平
- ④互联网金融服务将取代银行的柜台业务

A. ①② B. ③④ C. ①③ D. ②④

35. 进入老龄化社会以来，呈现出老年人口基数大、增速快、高龄化、失能化、空巢化趋势明显的态势，再加上我国未富先老的国情和家庭小型化的结构叠加在一起，养老问题异常严峻。为此，我国将在税收、土地等方面实施优惠政策，鼓励民营资本参与社会养老体系的建设。根据凯恩斯理论，制定这样的政策是基于

- A. 资本流动性偏好，民间投资养老服务产业的热情会提高
- B. 扩大财政支出能促进养老消费，促进我国经济快速发展
- C. 资本边际效率递增，投资养老服务的预期收益率会增加
- D. 边际消费倾向递减，对养老服务产品的有效需求会旺盛

第二部分（非选择题 共 160 分）

36. (36 分) 读图 12, 回答下列问题。

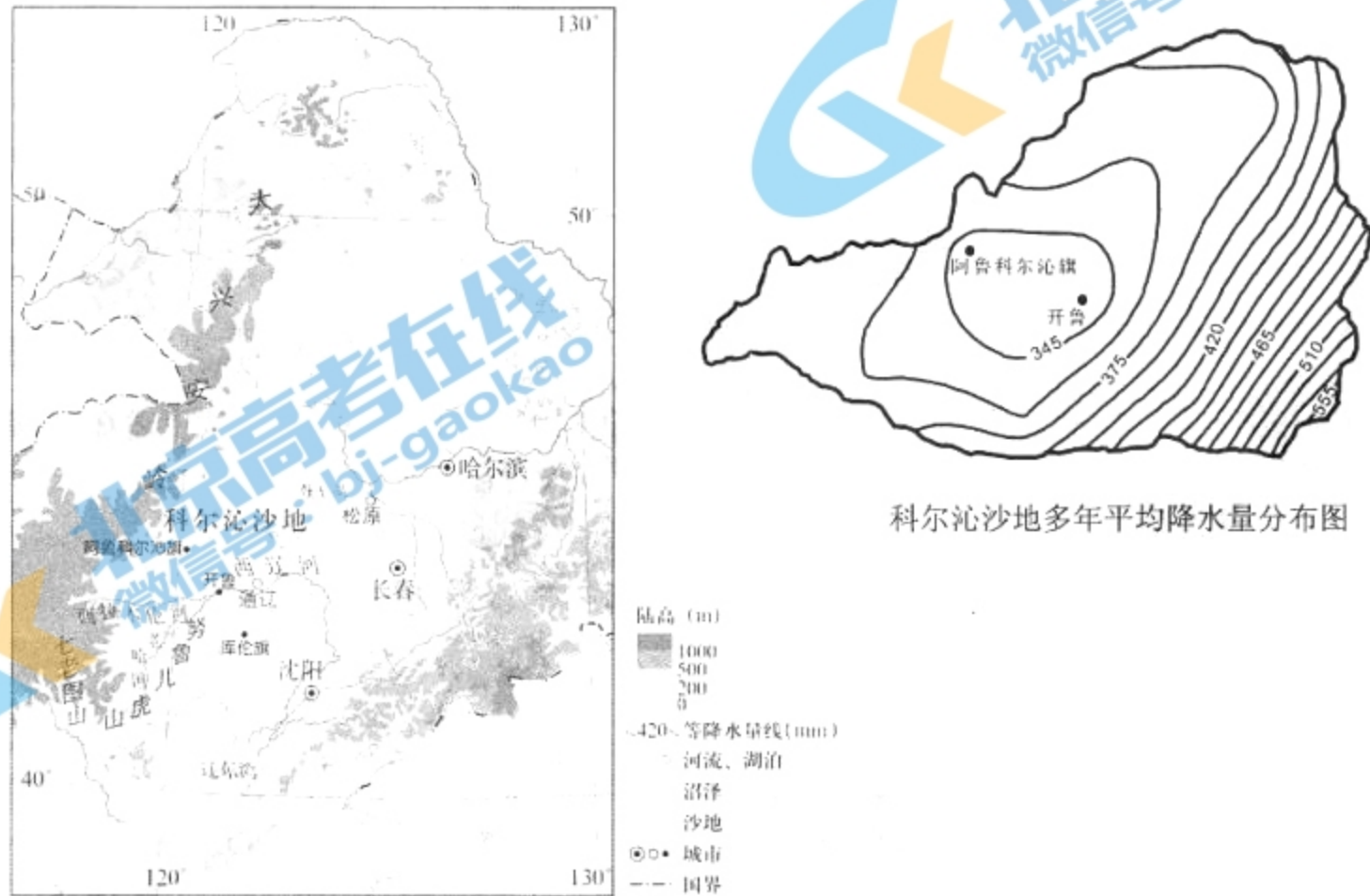


图 12

地处我国北方农牧交错带的科尔沁沙地历史上水草丰美、植被茂盛, 近代退化为中国四大沙地之一。经过治理, 科尔沁沙地率先实现了治理速度大于沙化速度的良性逆转。

(1) 说明科尔沁沙地多年平均降水量的分布特点及原因。(10 分)

(2) 从时间或空间角度任选其一, 简述西拉木伦河水量的变化特点和形成原因。(8 分)

近年来, 库伦旗通过开发沙地衬膜水稻项目, 促进精准脱贫和农牧业转型。衬膜水稻项目是通过平整流动、半流动沙丘后, 在沙地上挖 70~80 厘米深的池坑, 在池坑底及四壁衬垫可降解塑料膜, 然后回填沙土, 再在田旁打井, 运用有机肥、节水灌溉等综合措施种植水稻。科尔沁沙地水稻种植实现了农牧民增收与治沙双赢。

(3) 说出“衬膜”的作用以及当地种植水稻的生态效益。(8 分)

查干湖冬季冰雪捕鱼, 是一种传统的渔业生产方式, 被列为国家级非物质文化遗产, 每年吸引国内外大量游客前往观赏体验。

(4) 简述查干湖冬捕对当地旅游业的有利影响。(10 分)

37. (38分) 国家观念是一定时期人们对国家的认知, 不同时代国家观念的内涵不同。

材料一 人有恒言, 皆曰天下国家, 天下之本在国, 国之本在家。(赵歧注: “国谓诸侯之国, 家谓卿大夫也。”)

得天下有道: 得其民, 斯得天下矣。得其民有道: 得其心, 斯得民矣。

劳心者治人, 劳力者治于人。

——摘自《孟子》

柏拉图认为, 正义是一个城邦(国家)秩序井然稳定发展的基础……国家的三个阶层即统治者、武士和生产者, 它们各自的德性应该是智慧、勇敢和节制。统治者的职能是依靠智慧, 理性地管理国家; 武士的职能是发挥激情, 勇敢地保卫国家; 生产者的职能是节制欲望, 安分守己, 努力劳动。

——摘自张志伟《西方哲学十五讲》

(1) 依据材料一, 概括孟子和柏拉图国家观念的相同点。结合所学分析形成上述观念的共同原因。(10分)

材料二 甲午战后, “实业救国”思潮产生, 提倡发展农工商业, 通过振兴实业, 解决民族危机, 实现以富求强。这一思潮推动中国实业发展浪潮。

甲午战后至20世纪初, 清政府鼓励官民从事工商业活动。1898年设立矿务铁路总局。1903年设商部, 出台了《商律》《破产律》等经济法规和规章制度。1897年中国人自办的第一家银行——中国通商银行成立, 1908年大清银行成立。此外, 传播科学技术和实业知识的民间经济实业团体、实业报刊杂志开始出现, 1897-1911年, 创办的各类实业报刊约有31种。

民国初期, 南京临时政府和北洋政府先后成立实业部、农商部。1912-1923年间制定了《商人通例》《公司条例》《矿业条例》等70余项经济法规, 内容更合理、详实, 更具可行性, 涉及农、工、商、矿、渔、林业等多方面。1913年, 成立中国银行作为中央银行, 颁布《劝业银行条例》《农工银行则例》《实业银行条例》等文件, 形成中国银行体系和银行制度。此外, 自20世纪初抵制美货以来逐步兴起的国货运动在辛亥革命后蔚然成风, 中华国货维持会成立。

——摘编自李旻《清末民初实业救国思潮研究》

(2) 依据材料二, 概括甲午战后至20世纪初中国实业发展的社会条件, 结合所学分析此时期实业发展产生的影响。概括民国初年实业发展条件的新特点。(14分)

材料三 中世纪的欧洲，教权不断扩大。11世纪末至13世纪末，基督教神权国家观（教权至上）成为国家观念最显著的特征。

15、16世纪，意大利政治思想家马基雅维利主张国家的根本问题是统治权，统治者应以夺取和保持权力为目的。法国政治思想家让·博丹第一次提出将主权视为国家的根本属性，主权是超乎公民和居民之上，不受法律限制的最高权力；国家则是由许多家庭及其共同财产所组成的，具有一种最高主权的合法政府；主权具有绝对性、永恒性特征，不可分割、不可转让、不受限制。

17、18世纪，现代意义上的国家观念逐渐发展起来。英国思想家洛克发展了国家观念，强调代表人民意志的议会主权至上。卢梭的“人民主权说”成为西方不可超越的主权理念……在国家权力结构中“人民意志”被赋予更高的地位，为国民对于民族国家的认同与效忠奠定了基础。

——摘编自姚璐《全球化背景下国家观念的嬗变》

(3) 阅读材料三，对西方“国家观念”的发展历程进行解读。(14分)

要求：提取信息充分；总结和归纳准确、完整；解释和分析逻辑清晰。

38. (36分) 从春天出发，开启新征程。在习近平新时代中国特色社会主义思想指引下，坚定不移推进高质量发展，我们一定能共同书写新时代的发展新答卷。

材料一 下面是关于中国制造业的三则新闻报道：

新闻报道1 沈阳鼓风机集团在过去几年，建立了沈鼓云智能制造服务平台，可以为用户提供设备在线监测、远程诊断和全生命周期的服务。

新闻报道2 上海丹豆工艺品有限公司在第122届广交会上展出的家具有了明显变化，整体色调由原来的明媚多彩变得质朴淡雅，尽量少用油漆，更多地采用水性漆等相对环保的涂料。不仅如此，产品工艺也进行了改变，以尽可能地减少生产过程中油气、粉尘的排放。

新闻报道3 有着互联网“基因”的小米和传统制造业一起，用技术和平台带动“中国制造”品质跃升。定位高性能、做“发烧友”手机，整合优质供应链。如果说创新决定着制造业能“飞”多高，品质则决定着能“走”多远。

(1) 结合材料，运用《经济生活》相关知识，概述制造业在高质量发展阶段的特点。(6分)

材料二 随着大数据、机器学习以及计算机处理器的进一步发展，人工智能迎来新一轮发展浪潮。人工智能带来新技术、新模式，助力高质量经济发展。但回顾过往，每次人类迎来新的技术革命，都会伴随着各种争议，特别是人们担心被新技术取代会产生大规模的失业问题。

关注者眼中的行业变迁




图 13

(2) 观察图 13，在 A 和 B 中任选一处填写符合条件的行业，并说明理由。(3 分)

(3) 有人说“人工智能是带刺的玫瑰”，请运用《经济生活》的知识，预测并分析人工智能对社会发展的影响。(7 分)

材料三 我国人民热爱生活，期盼有更好的教育、更稳定的工作、更满意的收入、更可靠的社会保障、更高水平的医疗卫生服务、更舒适的居住条件、更优美的环境。高质量发展，就要多谋民生之利，多解民生之忧，不断增进人民群众获得感、幸福感、安全感。人民日益增长的美好生活需要，既是一种享受美好生活的需要，也是一种创造美好生活的需要。美好生活靠劳动创造，需要全国各族人民“撸起袖子加油干”。

材料四 “白日不到处，青春恰自来。苔花如米小，亦学牡丹开。”近日，清代袁枚的一首《苔》在《经典咏流传》舞台上华彩绽放。乡村教师梁俊和来自贵州大山里的孩子们用最质朴无华的天籁之声，让亿万中国人在这一刻热泪盈眶，久久难忘。因为它不光是写给梁老师和他的学生们，它也是写给你我，写给绽放在天地之间的每一个平凡又尊贵的生命。

(4) 在这个时代，人人渴望拥有高质量人生。阅读材料三、四，运用人生观和价值观的知识，以“致敬新时代，奔向高质量的人生”为主题，给自己写一封信。(10 分)

要求：字数不少于 200 字，在信中不能出现姓名、学校等个人信息；

观点鲜明，可以全面论述也可以就某一点深入分析；

知识运用准确，贴切，论述合乎逻辑，条理清晰。

材料五 “法与时转则治，治与世宜则有功”。2018年3月全国人大一次会议表决通过的《中华人民共和国宪法修正案》中有一处重大的变化：将“发展社会主义民主，健全社会主义法制”改为“发展社会主义民主，健全社会主义法治”。一字之差体现了高质量民主政治的发展要求。



(5) 任选一个政治参与的主体，阅读材料，谈谈如何凝聚法治力量，助力社会高质量发展。(10分)

39. (10分)

每一座城市
都有着她的过去、现在与未来
想要了解一座城市
最快的方式就是走进她的博物馆
这里述说着辉煌的历史
同时 更重要的
是向众人展示着一座城市的未来
博物馆 城市的文化支点
以历史的力量为城市加固 以文明的名义为城市输氧
以艺术的经典使城市夺目 以支点的伟力使城市动容

运用《文化生活》有关知识，以你参观的博物馆为例，围绕“博物馆——一个城市的精神花园”主题写一篇宣传稿。(10分)

40. (18分) 中美关系是当今世界最富活力、最具影响的双边关系之一。



图14 跨越大洋的握手

1972年美国总统尼克松访华，在机场与周恩来总理的握手被称为“跨越大洋的握手”(图14)。后来，尼克松在回忆录中写道：“我知道，1954年在日内瓦会议时杜勒斯拒绝同周(恩来)握手，使他深受侮辱，因此我走完阶梯时决心先伸出我的手，一边向他走去。当我们的手相握时，一个时代结束了，另一个时代开始了。”

(1) 在①和②两个问题中任选其一作答。(8分)

①结合所学，简述二战结束到20世纪70年代中美关系的变化历程。

②为什么尼克松认为“一个时代结束了，另一个时代开始了”？结合所学，加以说明。

1980年，中国上海市与美国旧金山市结为友好城市。山城旧金山景观独特，原野上的草色季相变化明显。读图15，回答第(2)题。

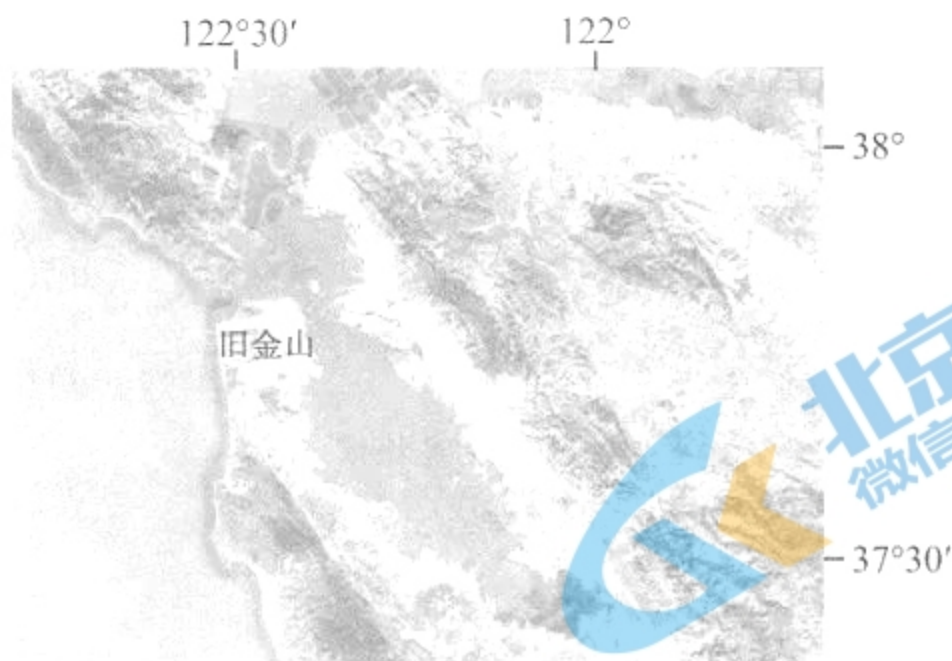


图15

(2) 说明旧金山原野草色季相变化特点及成因。(10分)

41. (22分) 国家主席习近平在2018年新年贺词中强调, 改革开放是当代中国发展进步的必由之路, 要以庆祝改革开放四十周年为契机, 将改革进行到底。

珠江三角洲地区作为我国改革开放的前沿阵地, 经济发展迅速。读图16, 回答第(1)题。

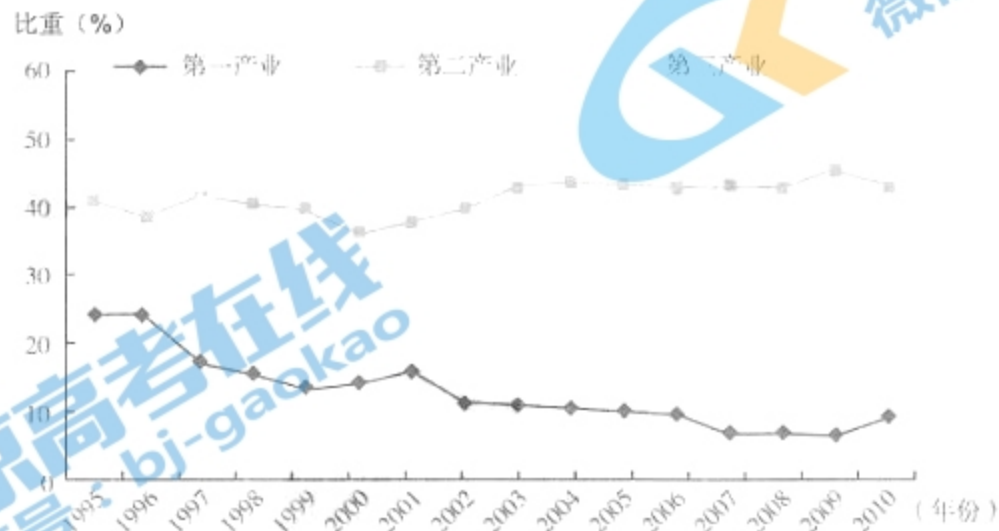


图16 珠海市1995年~2010年就业结构变化图

(1) 说出珠海市就业结构的变化特点, 并简述其对城市化推动作用的差异。(10分)

韩村河村位于北京市房山区, 它从一个贫穷落后, 被人们戏称“寒心河”的小村庄发展为环境优美的“中国十大最美乡村”。它的发展得益于韩建集团的发展壮大。

韩建集团发展历程

①	1978年	韩村河成立一支30多人的村集体建筑队
②	1984年	成功完成北京玉渊潭的紫玉饭店工程, 在首都建筑市场站稳脚跟
③	1988年	韩村河村建筑队加入房山区建筑集团第二工程公司, 参与南水北调工程
④	1994年	韩村河村建筑队从房建集团分离出来, 独立组建“韩村河村建筑集团总公司”。在发展建筑主业的同时, 成立建材总厂、构件厂、设备安装、装饰装潢和房地产开发公司, 实现了一条龙配套生产。企业管理实现科学化、规范化和现代化
⑤	2006年	提出新的发展战略, 即以房地产业为龙头, 以建筑施工和其他工业项目为龙身, 以三产项目为依托, 加快发展步伐

——摘编自刘文江《坚定不移地走共同富裕之路》

(2) 依据材料, 将韩建集团发展历程按序号划分阶段, 说明理由。任选一段, 分析背景。(6分)

丰台区 2018 年高三年级第二学期统一练习（一）参考答案

文科综合能力测试地理部分

2018.3

一、选择题

题号	1	2	3	4	5	6	7	8	9	10	11	12
答案	D	C	C	D	B	B	A	C	A	A	D	C
题号	13	14	15	16	17	18	19	20	21	22	23	24
答案	A	B	D	D	B	C	D	A	A	C	B	C
题号	25	26	27	28	29	30	31	32	33	34	35	
答案	B	B	D	A	B	C	D	B	B	C	A	

二、综合题

36. (1) (10 分)

以开鲁、阿鲁科尔沁旗为中心向四周逐渐增大；大部分地区降水量在 345mm~555mm 之间；最小值小于 345mm，出现在开鲁、阿鲁科尔沁旗附近地区。（每点 2 分，共 6 分）

原因：由东南向西北，距太平洋越来越远（1 分），受夏季风的影响逐渐减弱（1 分），到达的海洋水汽越来越少（1 分）；开鲁、阿鲁科尔沁旗附近地区为夏季风的背风坡（雨影区），降水少（1 分）。

(2) (8 分)

时间：春、夏季流量较大，秋、冬季流量较小。（4 分）原因：春季有季节性积雪融水补给，夏季主要为大气降水补给。（4 分）

空间：从上游至下游水量渐少。（2 分）原因：流经地区气候干旱，蒸发旺盛；流经沙地地下渗强烈；支流汇入少；河流沿岸生产生活用水量大。（答出 3 点得 6 分）

(3) (8 分)

作用：防止漏水、防止跑肥（保水保肥）（2 分）

生态效益：防风固沙，抑制风沙危害；增加空气湿度，增加降水量，改善区域小气候；增加湿地面积，改善生态环境。（6 分）

(4) (10 分)

传承和保护传统习俗，丰富旅游资源类型；提升旅游资源价值；提高旅游资源知名度；吸引游客，扩大客源市场（或增加旅游业的收入）；完善当地基础设施，提升接待能力和水平。

37. (38 分)

(1) (10 分)

同：都具有初步的国家观念；都阐述了治理国家的方法途径：即统治者应受道德约束；不同的人在国家中居于不同位置，应各司其职，各负其责。（6 分）

共同原因：社会动荡，秩序混乱。（2 分）结合时代背景，答出具体史实。（2 分）

(2) (14分)

社会条件：实业救国思潮推动；国家经济政策调整；政府机构变革；近代经济法规颁布；近代化银行出现；民间经济实业团体、经济实业报刊创办。(6分)

影响：推动民族工业初步发展；推动资产阶级政治变革；促进思想文化及社会生活的进步。(任意两点给4分)

特点：政府经济立法更详实可行；银行体系和银行制度创立；出现维护民族经济权益提倡国货运动的团体。(任意两点给4分)

(3) (14分)

中世纪，欧洲处于分裂割据状态，天主教会垄断精神统治，教权至上的教会神权国家观是这一时期国家观念的显著特征。使西欧各国长期处于天主教的控制之下。(3分)

15、16世纪，资本主义经济发展、新航路开辟、文艺复兴和宗教改革运动促使这一时期国家主权观念产生。国家权力至高无上，不可分割。这一观念推动欧洲近代民族国家形成与发展。(4分)

17、18世纪，资本主义经济进一步发展、英国资产阶级革命和启蒙运动促进以公民个人权利为核心的现代国家观念形成。这一观念解放了人们的思想，推动了欧美国家争取自由、民主的斗争。(5分)

总之，西方国家观念从以教会神权为中心，向注重公民个人权利的观念转变。其转变是伴随资本主义经济发展，人文精神不断觉醒，资产阶级与教会及专制王权不断斗争的结果。西方国家观念的演变，推动了人们的思想解放和资产阶级的政治变革。(2分)

38. (36分)

(1) (6分)

特点：创新驱动、提高设计能力；以市场导向调整产品结构经营战略、产业价值链延伸、创新营销模式；提高产品质量，树立口碑和信任、改善用户体验，用户忠诚度；生产效率提高、绿色节能环保、经济效益社会效益生态效益统一。

(其他答案言之有理，可酌情给分)

(2) (3分)

A 如电话/保险推销、翻译、电话中心从业者、收银员、司机、快递员、导购员等。

理由：被替代度高的行业多为工作简单重复、机械性、可复制性较高的行业。

B 数据采集、心理医生、高级管理、政治家、个性化咨询、未成年人教育、体育、表演等

理由：标准化流程程度低，开创性创造创意性高；涉及大量非标准化需要主观判断和洞察力；涉及大量有关个人或人群的高级/敏锐/复杂情感体验或复杂合作体系战略；价值天然依靠由人来完成的职位；

(其他答案言之有理，可酌情给分)

(3) (7分)

作答示例：从经济主体角度作答

对国家：转变经济发展方式，实现集约化发展；优化经济结构和产业布局(生产力和科技发展带动新增产业，淘汰落后行业，扶植新兴产业，改造传统行业和产业)

对行业、企业生产：市场在资源配置中起决定作用，调整经营战略，创新营销模式，优化生产要素配置，提高全要素效益。

对个人：新兴产业提供就业岗位，满足就业需求；传统行业转型升级促使劳动者转变就业观念，提高劳动者素质，激发创造力和竞争力；影响收入分配结构；生产决定消费的对象、方式、质量和水平，为消费创造动力，满足高质量消费。

（其他答案可从对要素结构、对社会再生产等角度作答，言之有理，可酌情给分）

（4）（10分）可从：个人与国家社会的关系，人生价值的实现，价值观导向作用，人民群众历史作用，树立正确价值判断价值选择等角度作答。

（其他答案言之有理，可酌情给分）

评分标准：

等级	等级描述
水平4 (9-10分)	观点明确，能够运用辩证思维分析问题，从多个角度展开论证，阐释观点，逻辑严密；能够准确运用学科知识，术语表述科学。
水平3 (6-8分)	观点比较明确，能够从多个角度展开论证，阐释观点，前后逻辑比较一致；能够比较准确地运用学科知识，论述基本合理，但不够完整或内容有瑕疵。
水平2 (3-5分)	观点不够明确，能够从某一角度展开论证；能够简单运用学科知识阐述观点，语义不完整、不连贯，堆砌不相关知识。
水平1 (0-2分)	重复试题内容；应答与试题无关或没有应答。

（5）（10分）

作答示例：

中共：

法律是治国之重器。全面推进依法治国，总目标是建设中国特色社会主义法治体系，建设社会主义法治国家。

必须坚持中国共产党领导。依法治国是中国共产党治国的基本方略。依法执政是中国共产党执政的基本方式。依法执政首先是依宪治国，依宪执政。中国共产党领导立法，提出立法建议，指明立法方向，通过法定程序将党的意志上升为国家意志即法律，提出由法制改为法治的修宪建议，正是发挥了党的领导和执政作用，推动全社会树立维护宪法和法律权威的意识。

作答要求：

①可从国家机关及国家工作人员、公民、社会组织等角度作答。

②既要说明政治参与主体推进参与法治建设的具体方式，又要说明其如何发挥作用促进社会高质量发展。

（其他答案言之有理，可酌情给分）

39.（10分）

评分标准：

等级	等级描述
水平4 (9-10分)	观点明确，能够运用辩证思维分析问题，从多个角度展开论证，阐释观点，逻辑严密；能够准确运用学科知识，术语表述科学。
水平3 (6-8分)	观点比较明确，能够从多个角度展开论证，阐释观点，前后逻辑比较一致；能够比较准确地运用学科知识，论述基本合理，但不够完整或内容有瑕疵。

水平 2 (3-5 分)	观点不够明确, 能够从某一角度展开论证; 能够简单运用学科知识阐述观点, 语义不完整、不连贯, 堆砌不相关知识。
水平 1 (0-2 分)	重复试题内容; 应答与试题无关或没有应答。

(其他答案言之有理, 可酌情给分)

40. (18 分)

(1) (8 分)

历程: 1945-1949, 美国扶蒋反共, 援助蒋介石发动内战; 新中国成立到 20 世纪 60 年代, 中美两国处于敌对状态。建国初美国阻挠大陆统一台湾, 50 年代中国抗美援朝, 美国一直阻挠中国恢复联合国合法席位; 20 世纪 70 年代, 尼克松访华中美关系正常化, 1979 年中美正式建交。(8 分)

说明: “一个时代结束了, 另一个时代开始了”是指中美关系由敌对状态走向缓和。(2 分) 具体史实, 表述见上。(6 分)

(2) (10 分)

旧金山地处亚热带大陆西岸, 夏季太阳直射点北移, 气温较高, 受副热带高压带影响, 降水少, 草色枯黄。(5 分)

冬季太阳直射点南移, 受来自海洋的盛行西风影响, 地形抬升作用明显, 气候温和, 降水多, 绿草茵茵。(5 分)

41. (24 分)

(1) (10 分)

第一产业就业比重平稳下降; 第二产业就业比重变化较小; 第三产业就业比重波动上升。第二、三产业就业比重远超第一产业; 1997 年之后第三产业就业比重超过第二产业。(6 分)

第二、第三产业是推动城市化的主要动力。1997 年之后第三产业对城市化的推动作用愈加显著。(4 分)

(2) (6 分)

阶段: 第一阶段: ①—③, 乡镇企业; 第二阶段: ④、⑤, 现代企业。(其它划分, 合理即可给分) (4 分)

背景: 十一届三中全会制定实行改革开放的战略决策; 农村实行家庭联产承包责任制, 促进乡镇企业和非农产业发展; 十四大提出建立社会主义市场经济体制目标, 建立现代企业制度。(2 分)

(3) (6 分)

作答示例:

系统优化的方法要求我们用综合的思维方式认识事物, 要善于分析和把握事物存在和发展的各种条件, 从整体出发, 把各个部分、各个要素联系起来, 统筹考虑。个税标准扣除额不能仅考虑公众可支配收入, 要与住房、教育、医疗等情况结合起来, 保证其基本生活不受影响。

(其他答案言之有理, 可酌情给分)