

2023 北京石景山初三一模

历史

学校名称 _____ 姓名 _____ 准考证号 _____

考生须知	1. 本试卷共 10 页，共 24 道小题，满分 70 分。考试时间 70 分钟。 2. 在试卷和答题卡上准确填写学校名称、姓名和准考证号。 3. 试题答案一律填涂或书写在答题卡上，选择题请用 2B 铅笔作答，其他试题请用黑色字迹签字笔作答，在试卷上作答无效。 4. 考试结束，将本试卷和答题卡一并交回。
------	---

第一部分

本部分共 20 题，每题 1.5 分，共 30 分。在每题列出的四个选项中，选出最符合题目要求的一项。

1. 在 2022 年中国十大考古发现之一的湖北学堂梁子遗址中，出土了距今约 100 万年、具有直立人特征的“郧县人”3 号完整头骨化石，以及数十片打制而成的刮削器、石核、石片等。以下早期人类中与“郧县人”有着类似特征的是

A. 北京人 B. 山顶洞人 C. 河姆渡人 D. 半坡人

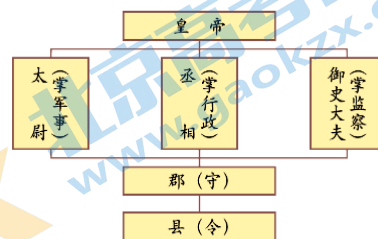
2. 下图为陕西临潼出土的西周青铜器利簋，其铭文记载了周武王伐纣的相关史实，史学家们根据铭文信息破解了武王伐纣的准确时间。以上内容重在说明

A. 钟鼎文是年代最早、体系较为完整的文字
B. 利簋是迄今世界上出土的最重的青铜礼器
C. 青铜器上的铭文具有非常珍贵的史料价值
D. 商朝是我国青铜冶炼技术发展的高峰时期



3. 右图是某朝代政治建制示意图。该制度的创立者是

A. 周文王
B. 秦始皇
C. 汉武帝
D. 唐太宗



4. 自西汉起，很多朝代都将精通儒学作为选官的重要条件，并且在中央乃至地方兴办学校，传授儒学。这一做法的目的是

A. 恢复经济 B. 促进开放 C. 统一思想 D. 抑制武将

5. 历史地图是学习历史的重要资料。以下地图中可以来说明东晋南朝时期江南地区经济开发背景的是



①春秋战国形势图 ②官渡之战示意图 ③八王之乱示意图 ④西晋末年少数民族分布与北方流民南迁示意图

- A. ①② B. ①③ C. ②④ D. ③④

6. 唐朝时期中外文化交流频繁。以下建筑中可以对此观点加以佐证的是



河南南阳医圣祠

A



日本奈良唐招提寺

B



唐蕃会盟碑

C






印尼爪哇岛三宝庙

D

7. 宋代汪洙的诗句“朝为田舍郎，暮登天子堂。将相本无种，男儿当自强。”说明了科举制

- A. 在隋朝时期开始确立 B. 是一种通过推荐来选拔人才的制度
C. 只考察读书人的品格 D. 扩大了选官范围，促进了阶层流动

8. 某历史学习小组要筹备一次主题展览，以下是他们收集的材料。“?”处可以补充的是

 《齐民要术》书影	 泥活字版(模型)	 元代火铳	?
---	---	--	---

- A. 商鞅铜方量 B. 唐三彩骑驼乐舞俑
C. 宋代蹴鞠铜镜 D. 《天工开物》

9. 以下是某同学所作历史专题复习的部分笔记内容。他复习的专题是

- A. 疆域拓展与社会变革
B. 民族交融和对外开放
C. 统一多民族国家的巩固
D. 盛世表象下的重重危机

汉：实施“推恩令”、设置西域都护
唐：设置安西都护府、北庭都护府
元：实行政省制、设立宣政院、澎湖巡检司
清：设立台湾府和驻藏大臣

10. 从香港和五口输入的外国商品，开始冲击中国的自然经济，几千年来的经济结构被侵蚀而逐步改组。

上述材料反映了条约制度下的社会变化，与此变化的发生直接相关的条约是

- A. 《南京条约》 B. 《天津条约》 C. 《马关条约》 D. 《辛丑条约》

11. 右侧示意图中的空白处应填写

- ①动摇了封建道德礼教的地位
②开创了中国特色革命的新局面
③成为中国新民主主义革命的起点
④为五四运动起了思想宣传的作用

背景：封建思想残留
内容：{ 提倡民主与科学
提倡新道德，反对旧道德
提倡新文学，反对旧文学
影响：_____。

- A. ①② B. ①③ C. ①④ D. ③④

12. 某同学在参观中国人民抗日战争纪念馆时看到如下资料。这些资料可用来研究

照片：瓦窑堡会议旧址、进抵平型关的八路军
表格：百团大战战绩统计、敌后战场战绩统计
地图：敌后战场军民大反攻形势图
实物：东北抗日联军反日签名捐款收据、各种版本的《论持久战》

- A. 中国共产党在抗日战争中的贡献 B. 抗日战争对世界反法西斯战争的作用
C. 世界各国人民对中国抗战的帮助 D. 正面战场在抗日战争中的重要贡献

13. 有学者说：“如果说中世纪的时候，大家的内心世界主要是信仰和服从，那么到了十四世纪以后，人们的精神世界就逐渐发生了变化了。”人们精神世界发生变化的起点是

- A. 百家争鸣 B. 文艺复兴 C. 明治维新 D. 十月革命

14. 19世纪60年代，美国和俄国颁行了如下的文件或法令。它们的颁行

- ①都是为了解决本国的实际困难
②都是在遭受外来侵略时的选择
③都有利于本国资本主义的发展
④都很彻底地解决了奴隶制问题

美国《解放黑人奴隶宣言》	俄国废除农奴制的法令
自1863年元旦起，南方叛乱地区的奴隶永远获得自由，并可以用自由人的身份参加北方军队	农奴获得人身自由，可以改变身份，自由转换职业；农奴在获得解放的同时，可以得到一块份地，但必须出钱赎买

- A. ①③ B. ①④
C. ②③ D. ②④

15. 据统计，第一次世界大战中参战各国的死伤人数超过3000万，直接经济损失达1805亿美元；英国失去了其对外投资的1/4，法国失去了1/3，而德国失去了其全部海外投资。以上材料说明一战

- ①是帝国主义瓜分世界的战争 ②促进了殖民地人民的觉醒
③给人类社会带来了巨大灾难 ④极大地削弱了欧洲的力量
A. ①② B. ①③ C. ②④ D. ③④

16. 丘吉尔曾把凡尔赛体系称为“胜利者的蠢事”。这主要是因为

- A. 巴黎和会通过了美国的提议，决定成立国际联盟
B. 美国未批准《凡尔赛条约》，也未加入国际联盟
C. 和约内容过分削弱德国，埋下了战争的隐患
D. 中国未摆脱被帝国主义国家共同支配的局面

17. 识读以下《1913—1925年俄国粮食产量变化曲线图》。其中粮食产量逐年提高的主要原因是实行

- A. 战时共产主义政策
B. 新经济政策
C. 农业集体化
D. 分田到户



18. 以下漫画描绘了20世纪30年代罗斯福政府的一些举措。这体现了



- A. 国家对经济的干预 B. 市场的自我调节
C. 罗斯福的崇高威望 D. 美国的对外政策

19. 某同学拟撰写历史小论文，并编制了内容提纲。以下各项中最适合做论文题目的是

- A. 漫谈世界如何从分散到连为一体
- B. 试论亚非拉民族民主运动的发展
- C. 浅析一战之后国际新秩序的确立
- D. 小议社会主义阵营的建立和扩大

一、拉丁美洲独立运动
二、非暴力不合作运动
三、“非洲年”

20. 将中国历史放在世界历史演进的大背景中，可以更好地理解中国历史发展。以下各项对应正确的是

序号	中国历史事件	世界历史背景
①	郑和下西洋	16世纪“三角贸易”开始
②	林则徐虎门销烟	19世纪英国进行殖民扩张
③	抗日战争	20世纪30年代法西斯国家对外侵略扩张
④	抗美援朝	二战后以美苏为首的两大集团开始冷战

- A. ①②③ B. ①②④ C. ①③④ D. ②③④

第二部分

本部分共4题，共40分。

21. (11分) 现代化：人类从传统向现代演化发展。

材料一

 <p>《权利法案》书影（部分）</p>	 <p>英国城市人口和农村人口的比例的变化</p>
 <p>19世纪工厂中的儿童</p>	 <p>西方列强的殖民地和势力范围（迄1914年）</p>

(1) 有学者认为，西方现代化进程的历史，是既体现进步、繁荣、文明、富裕，也包含侵略、剥削和压迫的历史。运用材料一，并结合所学，加以解释。(3分)

材料二 中国式现代化历程大事年表（部分）

时 间	史 实
1949年	中华人民共和国成立

1953-1957年	A，中国开始向社会主义工业化迈进
1964年底	周恩来在政府工作报告中首次提出“四个现代化”，即工业、农业、国防和科学技术现代化
1978年底	B，中国开启了改革开放和社会主义现代化的伟大征程
1981年	中共十一届六中全会召开，提出在社会主义初级阶段，我国社会的主要矛盾是人民日益增长的物质文化需要同落后的社会生产之间的矛盾
1982年	邓小平首次提出“建设有中国特色的社会主义”这一历史性重大命题
1987年	中共十三大制定了分三步实现解决温饱、达到小康和基本实现现代化的战略目标，提出建设“富强、民主、文明的社会主义现代化国家”
1992年	中共十四大提出建立社会主义市场经济体制
2001年	中国加入世界贸易组织
2012年	中共十八大确定了全面建成小康社会和全面深化改革的目标，对新的时代条件下推进中国特色社会主义事业作出了全面部署
2017年	中共十九大召开，指出中国特色社会主义进入了新时代，社会主要矛盾已经转化为人民日益增长的美好生活需要和不平衡不充分的发展之间的矛盾
2020年	脱贫攻坚战取得全面胜利，中国全面建成小康社会
2022年	中共二十大召开，提出全面建成社会主义现代化强国、实现第二个百年奋斗目标，以中国式现代化全面推进中华民族伟大复兴

(2) 将以下内容填入大事年表恰当位置。(写序号)(2分)

①中共十一届三中全会召开 ②实施一五计划

(3) 选择材料中两个或两个以上相互关联的史实，提炼一个观点，结合所学加以阐述或说明。(要求：观点正确，史论结合，条理清楚)(6分)

22. (10分) 休闲娱乐见证时代变迁。

材料一 北宋时期，休闲娱乐场所和官署民宅交错出现，形成了以相国寺为中心、以街巷河道为半径、以外城城墙为周长，呈点、线、面状全方位覆盖内城、外城的布局。休闲娱乐活动主要分为观赏型和参与型两类，在不同时节不同场地均有所不同。在各种观赏型休闲娱乐活动中，各个领域都有知名艺人出现，呈现不同的技艺且趋于精湛。休闲娱乐活动内容丰富，仅品味美食就有二百多种选择。当时，无论男女老少，从事何种职业，上至天子，下至普通民众，都不同程度地参与到休闲娱乐活动中去。

——摘编自韩芳《北宋东京休闲娱乐活动研究》

(1) 依据材料一，归纳北宋东京休闲娱乐生活丰富多彩的表现。(2分) 结合所学，说明原因。(2分)

材料二

1866年9月	第一国际通过了“为获得每日工作8小时而奋斗”的决议
1884年10月	美国和加拿大的8个国际性和全国性工人团体在芝加哥集会，决定于1886年5月1日举行总罢工，迫使资本家实施8小时工作制
1886年5月1日	美国约40万工人参加了“五一”大罢工。在工人阶级的坚持斗争下，美国政府在一个月后，宣布实施8小时工作制
1889年7月	为纪念美国工人的罢工运动，恩格斯领导的第二国际在巴黎召开成立大会，会上宣布将每年的5月1日定为国际劳动节。这一决定得到世界各国工人阶级的积极响应
1890年5月1日	欧美多国的工人阶级走上街头，举行示威游行与集会，争取合法权益。从此每到这一天很多国家的人民都会组织庆祝活动

- (2) 依据材料二，说明“五一”国际劳动节产生的原因。(1分) 结合所学，指出马克思、恩格斯对工人运动的贡献。(1分)

材料三

建国以来我国假期天数一览表

年份	周末	元旦	春节	清明	劳动	端午	中秋	国庆	总计(天)			
1949-1994	52	1	3	0	1	0	0	2	59			
1995-1998	104				3				1	0	111	
1999-2007					1				1	1	1	114
2008-					1				1	1	1	115

注:1994年3月1日,国家开始试行“1+2”休假制度,即这周休息两天,下周休息一天。

1995年5月1日,完全意义上的双休日工作制正式实施。

——杨华《休闲活动的发展趋势分析》

休闲活动	占比
业余时间稍微娱乐,但以学习工作为主	68.6%
劳逸结合,身心得到放松	60.1%
能结交好友,增进情谊	53.1%
能增加运动,强身健体	44.1%
纯粹娱乐	43.0%
增长见识和胆识,敢于展现自己	34.2%
时间花费过多,影响了正常的学习工作	9.9%
其他	0.8%

(注:数据整理自贾晓芬《新时代公众的休闲娱乐状况调查》)

- (3) 依据材料三，概括建国后民众休闲活动的特点。(2分) 结合所学，分析原因。(2分)

23. (9分) 铁路承载着历史的发展。

材料一 1830-1870年世界铁路营业里程表(单位:英里)

	1830年	1840年	1850年	1870年
欧洲	60	1800	14000	65000
北美洲	—	2800	9000	56000
亚洲	—	—	200	5100
南美洲	—	—	—	1800
非洲	—	—	—	1100
澳洲	—	—	—	1000
全世界总计	60	4600	23200	130000

——(英)伯里编《新编剑桥世界近代史(第10卷)》

- (1) 依据材料一，指出铁路发展呈现的趋势。(2分) 结合所学，分析原因。(2分)

材料二 开平煤矿储量丰富，日产量可达八九百吨。但开平煤外运困难，于是主持人唐廷枢提出了修建铁路的建议。李鸿章采纳了这一意见，于光绪五年专折具奏力陈修建此路的重要。清政府批准这一

请求。唐胥铁路投入使用以后，开平煤的销售市场由本地扩大到了上海，由只供当地民用发展到供应北洋军舰、招商局轮船、天津铁厂，以致夺洋煤之利，也使得风雨飘摇的清政府收入有所增加。继此之后，中国出现了兴建铁路的热潮，实业救国成了中国人的新思维，也涌现出了詹天佑等著名的铁路专家。

——摘编自孙石月《唐胥铁路修筑始末》

- (2) 依据材料二并结合所学，写出唐胥铁路修建所体现的洋务运动的口号。(1分) 说明唐胥铁路修建的意义。(2分)

材料三 新中国部分铁路干线

路线名称	建设历史
京沪线	京沪铁路各个路段建于1897到1912年之间。1949年5月，上海解放，中断12年的京沪线恢复开行。2007年完成电气化改造
陇海线	1905年，汴洛铁路开工建设；1912年，北洋政府以汴洛铁路为基础向东西方向展筑；1953年，陇海铁路全线建成通车。2009年全线完成电气化改造
京广线	1906年京汉铁路建成通车；1936年粤汉铁路建成通车；1957年京汉铁路与粤汉铁路合并成京广铁路。2001年完成电气化改造
京九线	自1958年开始规划，原计划由北京至九江，1983年重新规划为从北京至香港九龙。1996年正式通车。2013年完成电气化改造
沪昆铁路	由20世纪初到20世纪70年代相继建成的沪杭、浙赣、湘黔、贵昆四条铁路组合而成。应第六次铁路大提速需要，2006年正式合并

- (3) 依据材料三，概括新中国铁路干线建设的特点。(2分)

24. (10分) 北京的商业。

材料一 1153年，金海陵王将辽南京城扩建为较大的中都城，城内的坊巷较前增加许多。旧坊有的被打破，原来仅在封闭的坊内进行商业活动的习惯也被打破，新建的开放的街巷可以多设交易场所以及酒楼等，也有利于商贩走街串巷去售卖商品。中都城消耗日繁，购买力强大，四方商贾常运货物到此贸易。中都市场上出售的货物有粮食类、衣着类、果品类、铁器类等，还出售从榷场运来的、从南宋输入的茶、荔枝、沙糖、生姜、橘子等以及从西夏输入的珠、玉、马匹等。

——摘编自曹子西主编《北京通史》

- (1) 依据材料一，指出中都城商业发展的主要表现。(2分) 结合所学，说明商业得到发展的时代背景。(1分)

材料二 元大都的商业街市大部分集中在钟、鼓楼至积水潭一带(大运河的终点码头)。明北京城在元大都的基础上向南迁移，商业中心从原来的钟、鼓楼一带移到皇城之南。此时，大运河的终点码头南移至东便门外的大通桥下，带动北京城商业中心的南移。清初规定内城不许开设店铺，内城商人迁往外城，外城人口密度逐渐增加，外城的商业日益发展起来。

——摘编自张景秋《北京城市商业中心布局的演变》

- (2) 依据材料二，指出从元到清北京城市商业中心分布的变化。(1分) 分析产生变化的主要原因。(2分)

材料三

1978年，北京商业增加值仅为8.27亿元，2007年则高达879.4亿元，占当年北京国内生产总值的9.4%，累计增长超过100倍。

——北京商业经济学会副会长王茹芹口述

1980年，东城区翠花胡同出现了北京市第一家个体饭馆——悦宾饭馆，轰动一时，后来街面上弹棉花、理发的都出现了。1983年，北京巴黎马克西姆餐厅营业，之后北京光餐饮就批准了近500家的外国餐饮企业。

——北京商业联合会副会长张锡霖口述

1987年，北太平庄商场基本是个亏损企业，当时我进行了用工制度改革，打破铁饭碗，实行管理改革和分配制度改革，年底就盈利26万元。

——北太平庄商场经理李秀珍口述

1997年，北京翠微大厦开业。当时实现计算机对人财物全面管理、单品计价核算，推进翠微大厦跟上了时代发展。

——北京翠微集团顾问栾茂茹口述

——《三十年，丈量北京商业的革新跨度》北京商报2008年12月22日

- (3) 依据材料三，指出改革开放以来北京商业的发展变化。(3分)

- (4) 2022年颁布的《北京市商业消费空间布局专项规划》中提出，将北京建设成为“中国潮”“国际范”“烟火气”共融共生的国际消费中心示范城市、国际一流的和谐宜居之都。请你提出一条实现此目标的合理化建议。(1分)

参考答案

第一部分

(每小题 1.5 分, 共 30 分)

题号	1	2	3	4	5	6	7	8	9	10
答案	A	C	B	C	D	B	D	D	C	A
题号	11	12	13	14	15	16	17	18	19	20
答案	C	A	B	A	D	C	B	A	B	D

第二部分

(共 40 分)

21. (11 分)

(1) (3 分)

在西方现代化的过程中, 实现了大机器生产, 极大地提高了社会生产力; 城市化进程加快, 人口结构发生变化; 民主逐渐取代专制, 社会不断进步。同时西方殖民扩张的范围进一步扩大, 给广大殖民地和半殖民地带来灾难; 资产阶级不断加强对工人阶级的剥削, 加剧了贫富分化, 引发了严重的阶级矛盾。(从进步性和局限性两方面作答, 答出三点内容即可。每点 1 分, 共 3 分。)

(2) (2 分)

A: ② B: ① (2 分)

(3) (6 分)

分数	提炼的观点	材料运用与论述
5-6	明确, 有新意或有思想深度	紧扣自己的观点加以论述, 运用材料中两个及以上的史实, 能够做到史论结合, 逻辑清晰
3-4	明确	能够围绕观点论述, 运用了材料中的史实, 但不够充分或不够典型, 条理基本清楚
1-2	不够明确	有论述或说明, 但材料不充分, 或史论结合不充分
0	没有凝练出观点	观点、论述与材料无关, 或仅仅重复材料中的史实

答案示例:

观点: 改革开放推进中国社会主义现代化建设

史实: 1978 年, 中共十一届三中全会召开; 1992 年, 中共十四大提出建立社会主义市场经济体制; 2001 年, 中国加入世贸组织; 2012 年, 中共十八大提出全面深化改革的目标。

论述: 1978 年中共十一届三中全会作出了把工作中心转移到经济建设上来, 实行改革开放的历史性决策, 中国社会主义现代化征程由此开启。1992 年, 中共十四大提出建立社会主义市场经济体制, 这有利于实现经济的协调发展和稳定高速增长, 对现代化建设有巨大推动作用。2001 年, 中国成功加入世贸组织, 这既是对外开放的重要成果, 也为我国参与经济全球化开辟了新途径, 为国民经济和社会发展开拓了新空间。2012 年, 中共十八大确定了全面建成小康社会和全面深化改革的目标。此后加快构建“四个全面”战略布局, 改革开放的成果日益扩大, 中国社会主义现代化建设不断取得新成就。

22. (10分)

(1) (共4分)

表现：休闲娱乐场所分布广；活动类型和内容丰富；出现大量知名表演者；参与群体广泛。（答出以上任意两点即可得分。每点1分，共2分。）

原因：北宋时期，政治相对稳定；商品经济发展；城市日益繁荣；市民阶层不断壮大；文化政策相对宽松等。（答出以上任意两点即可得分。每点1分，共2分。）

(2) (共2分)

原因：为纪念美国工人罢工运动。（1分）

贡献：创立马克思主义理论；创建或参与国际性工人组织；指导工人运动。（答出以上任意一点即可得分。1分）

(3) (共4分)

特点：民众休闲活动的时间增多；休闲活动形式多样；休闲活动与自身发展相结合。（答出以上任意两点即可得分。每点1分，共2分。）

原因：改革开放以来经济快速发展；人们对高品质生活的追求；互联网、移动通讯等技术的发展。（答出以上任意两点即可得分。每点1分，共2分。）

23. (9分)

(1) (4分)

趋势：世界铁路里程迅速增长；铁路建设从欧洲扩展到各大洲。（每点1分，共2分。）

原因：工业革命从欧洲开始，并向其他地区扩展；资本主义制度的确立；殖民活动的影响；经济发展迅速对铁路的需求增加等。（答出以上任意两点即可得分。每点1分，共2分。）

(2) (3分)

口号：求富。（1分）

意义：拓宽了开平煤的销售市场；一定程度上抵制了西方的经济侵略；增加了清政府的收入；引发了修建铁路热潮；带动了人才的发展；促进了实业救国思想的兴起。（答出以上任意两点即可得分。每点1分，共2分。）

(3) (2分)

覆盖地区广泛；在原有铁路基础上进行修建或合并；利用现代化技术进行改造。（答出以上任意两点即可得分。每点1分，共2分。）

24. (10分)

(1) (3分)

表现：坊巷数量增加；坊巷由封闭到开放，商业活动不受空间限制；商品种类丰富；货物来源广泛。（答出以上任意两点即可得分。每点1分，共2分。）

背景：民族政权并立，民族关系发展。（1分）

(2) (3分)

变化：北京城市商业中心由北向南移动。（1分）

原因：北京城市空间范围变大；大运河终点南移；清政府禁止在内城开设店铺；外城人口逐渐增加。（答出以上任意两点即可得分。每点1分，共2分。）

(3) (3分)

商业对北京经济的贡献增多；出现了多种经济形式；商业企业内部实行改革，增强了企业活力；

科技服务于商业，提高了管理水平等。（答出以上任意三点即可得分。每点 1 分，共 3 分。）

(4) (1 分)

言之成理即可得分。(1 分)



关于我们

北京高考在线创办于 2014 年，隶属于北京太星网络科技有限公司，是北京地区极具影响力的中学升学服务平台。主营业务涵盖：北京新高考、高中生涯规划、志愿填报、强基计划、综合评价招生和学科竞赛等。

北京高考在线旗下拥有网站门户、微信公众平台等全媒体矩阵生态平台。平台活跃用户 40W+，网站年度流量数千万量级。用户群体立足于北京，辐射全国 31 省市。

北京高考在线平台一直秉承 “精益求精、专业严谨” 的建设理念，不断探索 “K12 教育+互联网+大数据” 的运营模式，尝试基于大数据理论为广大中学和家长提供新鲜的高考资讯、专业的高考政策解读、科学的升学规划等，为广大高校、中学和教科研单位提供 “衔接和桥梁纽带” 作用。

平台自创办以来，为众多重点大学发现和推荐优秀生源，和北京近百所中学达成合作关系，累计举办线上线下升学公益讲座数百场，帮助数十万考生顺利通过考入理想大学，在家长、考生、中学和社会各界具有广泛的口碑影响力

未来，北京高考在线平台将立足于北京新高考改革，基于对北京高考政策研究及北京高校资源优势，更好的服务全国高中家长和学生。



微信搜一搜

北京高考资讯