

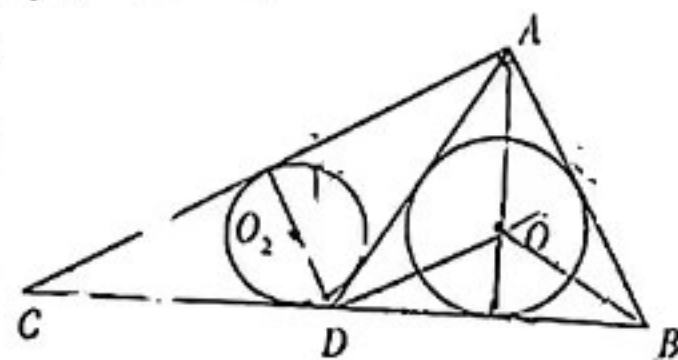
数 学

考生注意：

1. 答题前，考生务必将自己的姓名、考生号填写在试卷和答题卡上，并将考生号条形码粘贴在答题卡上的指定位置。
2. 回答选择题时，选出每小题答案后，用铅笔把答题卡对应题目的答案标号涂黑。如需改动，用橡皮擦干净后，再选涂其他答案标号。回答非选择题时，将答案写在答题卡上。写在本试卷上无效。
3. 考试结束后，将本试卷和答题卡一并交回。

一、单项选择题：本题共 8 小题，每小题 5 分，共 40 分。在每小题给出的四个选项中，只有一项是符合题目要求的。

1. 已知集合 $A = \{y | y = \lg(x^2 + 1)\}$ ，集合 $B = \left\{x \mid \frac{2x+2}{x-3} \leq 1\right\}$ ，则 $A \cap B =$
 A. $\{x | 0 \leq x < 3\}$ B. $\{x | -5 \leq x < 3\}$ C. $\{x | -5 \leq x \leq 3\}$ D. \emptyset
2. 若复数 z 满足 $(1+i)z = 1+2i$ ，则 z 的虚部为
 A. $\frac{i}{2}$ B. $\frac{1}{2}$ C. $-\frac{i}{2}$ D. $-\frac{1}{2}$
3. 已知向量 $m = (ax, 2)$ ， $n = (x, 1-2ax)$ ，命题 $p: \exists x \in \mathbf{R}, m \cdot n < 0$ 。若 p 是假命题，则实数 a 的取值范围是
 A. $\left(0, \frac{1}{2}\right)$ B. $\left[0, \frac{1}{2}\right)$ C. $\left(0, \frac{1}{2}\right]$ D. $\left[0, \frac{1}{2}\right]$
4. 已知数列 $\{a_n\}$ 的前 n 项和 $S_n = pn^2 + qn + r$ (p, q, r 为常数，且 $p \neq 0, n \in \mathbf{N}^*$)，则“ $\{a_n\}$ 是等差数列”是“ $r=0$ ”的
 A. 充要条件 B. 充分不必要条件
 C. 必要不充分条件 D. 既不充分也不必要条件
5. 已知 $\triangle ABC$ 是锐角三角形，函数 $f(x) = e^x + e^{-x}$ ，则下列结论中一定成立的是
 A. $f(-\sin A) > f(\cos B)$ B. $f(\cos C) > f(\sin B)$
 C. $f(\cos A) > f(-\sin C)$ D. $f(\sin C) > f(-\sin B)$
6. 某中学开展结合学科知识的动手能力大赛，参赛学生甲需要加工一个外轮廓为三角形的模具，原材料为如图所示的 $\triangle ABC$ ， $\angle BAC = \frac{\pi}{2}$ ， D 是边 BC 上一点， $\angle ABD = \angle ADB$ ， $AC = 3$ cm， $CD = \sqrt{3}$ cm，要求分别把 $\triangle ABD$ ， $\triangle ACD$ 的内切圆 O_1 ，



O_2 裁去,则裁去的圆 O_1, O_2 的面积之和为

A. $(16\sqrt{3} - 9)\pi \text{ cm}^2$

B. $(6 - 3\sqrt{3})\pi \text{ cm}^2$

C. $(16 - 9\sqrt{3})\pi \text{ cm}^2$

D. $\frac{(\sqrt{3} - 1)\pi}{2} \text{ cm}^2$

7. 有甲、乙等五人到三家企业去应聘,若每人至多被一家企业录用,每家企业至少录用其中一人且甲、乙两人不能被同一家企业录用,则不同的录用情况种数是

A. 60

B. 114

C. 278

D. 336

8. 若函数 $f(x) = x^2 - axe^x + ae^{2x+1}$ 有三个不同的零点,则实数 a 的取值范围是

A. $\left(-\frac{1}{e^2} - 1, 0\right)$

B. $\left(0, \frac{1}{e^2} + 1\right)$

C. $\left(0, \frac{1}{e^3 - e}\right)$

D. $\left(\frac{1}{e - e^3}, 0\right)$

二、多项选择题:本题共 4 小题,每小题 5 分,共 20 分. 在每小题给出的四个选项中,有多项符合题目要求,全部选对的得 5 分,部分选对的得 2 分,有选错的得 0 分.

9. 下列说法错误的是

A. 当样本相关系数 r 满足 $|r| = 1$ 时,成对样本数据的两个分量之间满足一种线性关系

B. 残差等于预测值减去观测值

C. 决定系数 R^2 越大,模型拟合效果越差

D. 在独立性检验中,当 $\chi^2 \geq x_\alpha$ (x_α 为 α 的临界值)时,推断零假设 H_0 不成立

10. 已知函数 $f(x) = \cos 2x - \sin x$, 则

A. $f(x)$ 是奇函数

B. $f(x)$ 最小的 10 个正零点之和为 $\frac{95\pi}{3}$

C. 2π 是 $f(x)$ 的一个周期

D. $f(x)$ 在 $x=0$ 处的切线方程为 $y = -x + 1$

11. 若正实数 x, y, z 满足 $xyz(x+y+z) = 1$, 记 $S = (x+z)(y+z)$, 则

A. S 的最小值是 2

B. 当 S 取最小值时, z 的最小值为 $\frac{\sqrt{2}}{2}$

C. 当 S 取最小值时, z 的最大值为 $\sqrt{2} - 1$

D. 当 S 取最小值时, 一定有 $x = y$

12. 在棱长为 1 的正方体 $ABCD - A_1B_1C_1D_1$ 中,点 E 在棱 A_1B_1 上运动,点 F 在正方体表面上运动,则

A. 存在点 E , 使 $AE \perp DB_1$

B. 当 $\frac{A_1E}{EB_1} = \sqrt{3}$ 时, 经过点 A, C, E 的平面将正方体分成体积比为 3:1 的大小两部分

C. 当 $FA = FB$ 时, 点 F 的轨迹长度为 4

D. 当 $FA = 2FB$ 时, 点 F 的轨迹长度为 $\frac{(8 + 3\sqrt{3})\pi}{18}$

三、填空题:本题共 4 小题,每小题 5 分,共 20 分.

13. 已知直线 l 经过 $A(-1, -1, 0), B(1, -1, 2)$ 两点, 则点 $P(-1, 1, 2)$ 到直线 l 的距离为

14. 为提高学生的数学核心素养和学习数学的兴趣,学校在高一年级开设了《数学探究与发现》选修课. 在某次主题是“向量与不等式”的课上,学生甲运用平面向量的数量积知识证

明了著名的柯西不等式(二维):当向量 $a = (x_1, y_1), b = (x_2, y_2)$ 时,有 $|a \cdot b|^2 \leq |a|^2 |b|^2$, 即 $(x_1 x_2 + y_1 y_2)^2 \leq (x_1^2 + y_1^2)(x_2^2 + y_2^2)$, 当且仅当 $x_1 y_2 = x_2 y_1$ 时等号成立; 学生乙从这个结论出发, 作一个代数变换, 得到了一个新不等式: $(x_1 x_2 - y_1 y_2)^2 \geq (x_1^2 - y_1^2)(x_2^2 - y_2^2)$, 当且仅当 $x_1 y_2 = x_2 y_1$ 时等号成立, 并取名为“类柯西不等式”. 根据前面的结论可知: 当 $x \in \mathbf{R}$ 时, $\frac{1}{2x^2 + 1} - \frac{2}{x^2 + 1}$ 的最小值是 _____.

15. 已知椭圆 $\frac{x^2}{a^2} + y^2 = 1 (a > 1)$, $\triangle ABC$ 是以点 $B(0, 1)$ 为直角顶点的等腰直角三角形, 直角边 BA, BC 与椭圆分别交于另外两点 A, C . 若这样的 $\triangle ABC$ 有且仅有一个, 则该椭圆的离心率的取值范围是 _____.
16. 从教学楼一楼到二楼共有 11 级台阶(从下往上依次为第 1 级, 第 2 级, ..., 第 11 级), 学生甲一步能上 1 级或 2 级台阶, 若甲从一楼上到二楼使用每一种方法都是等概率的, 则甲踩过第 5 级台阶的概率是 _____.

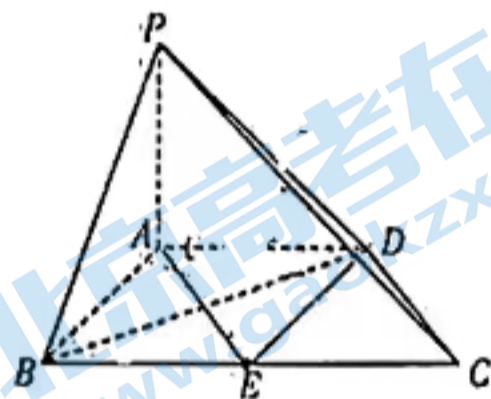
四、解答题: 共 70 分. 解答应写出文字说明、证明过程或演算步骤.

17. (10 分)

如图, 在四棱锥 $P-ABCD$ 中, $AD \parallel BC, AD \perp PA, E$ 为棱 BC 的中点, $BD = CD = 2\sqrt{2}, AD = \frac{1}{2}BC = 2$.

(I) 求证: $AD \perp PB$;

(II) 若 $PB = PD = 2\sqrt{2}$, 求 PB 与平面 PCD 所成角的余弦值.



18. (12 分)

在 $\triangle ABC$ 中, 角 A, B, C 的对边分别为 $a, b, c, 2\cos A \cos C = \frac{\tan B}{\tan A + \tan C}$

(I) 求角 B ;

(II) 若 $\triangle ABC$ 为钝角三角形, 且 $b = 2$, 求 $a + c$ 的取值范围.

19. (12 分)

某工厂生产一批螺丝钉, 长度均为整数, 且在 24 mm 至 50 mm 之间, 技术监督组为了解生产的螺丝钉质量, 按照长度分为 9 组, 每组抽取 150 个对其中的优质螺丝钉个数进行统计, 数据如下:

长度区间	[24, 26]	[27, 29]	[30, 32]	[33, 35]	[36, 38]	[39, 41]	[42, 44]	[45, 47]	[48, 50]
优质个数	81	81	84	88	84	83	83	70	66

(I) 设每个长度区间的中点值为 x , 优质个数为 y , 求 y 关于 x 的回归直线方程. 若该厂又生产了一批长度区间为 $[54, 56]$ 的螺丝钉, 并从中随机抽取 150 个, 请根据回归直线方程预测这 150 个中的优质个数.

(II) 若在某一长度区间内有超过半数的螺丝钉是优质的, 则认为从该长度区间内任选一个均为优质的, 否则不是. 现从 $[24, 26], [33, 35], [39, 41], [45, 47], [48, 50]$ 这五个长度区间中各随机抽取一个, 再从这 5 个螺丝钉中任选 3 个, 记随机变量 X 为其中的优质个数, 求 X 的分布列与数学期望.

(参考公式和数据: $b = \frac{\sum_{i=1}^n (x_i - \bar{x})(y_i - \bar{y})}{\sum_{i=1}^n (x_i - \bar{x})^2}$, $a = \bar{y} - b\bar{x}$, $\sum_{i=1}^9 x_i y_i = 26\,340$, $\sum_{i=1}^9 y_i = 720$)

20. (12分)

已知数列 $\{a_n\}$ 满足 $a_{n+1} = a_n^2 + a_n (n \in \mathbf{N}^*)$, 且 $a_1 = \frac{1}{3}$, 数列 $\{b_n\}$ 满足 $b_{n+1}^2 = b_n b_{n+2} (n \in \mathbf{N}^*)$, 且 $b_1 = \left[\sum_{i=1}^{2023} \frac{1}{a_i + 1} \right]$ ($[x]$ 表示不超过 x 的最大整数), $b_2 = 32$.

(I) 求 b_1 ;

(II) 令 $c_n = \frac{1}{\sqrt{\log_2 b_n}} (n \in \mathbf{N}^*)$, 记数列 $\{c_n\}$ 的前 n 项和为 T_n , 求证: $T_n > \frac{\sqrt{4n+1}}{2} - 1 (n \in \mathbf{N}^*)$.

1. (12分)

已知双曲线 $C: \frac{x^2}{a^2} - \frac{y^2}{b^2} = 1 (a > 0, b > 0)$, F_1, F_2 分别是 C 的左、右焦点. 若 C 的离心率 $e = 2$, 且点 $(4, 6)$ 在 C 上.

(I) 求 C 的方程.

(II) 若过点 F_2 的直线 l 与 C 的左、右两支分别交于 A, B 两点 (不同于双曲线的顶点),

问: $\left| \frac{1}{|AF_2|} - \frac{1}{|BF_2|} \right|$ 是否为定值? 若是, 求出该定值; 若不是, 请说明理由.

(12分)

已知函数 $f(x) = 2e^x - x^2 + ax - 2$.

(I) 若 $\forall x \in (0, +\infty)$, $f(x) > 0$ 恒成立, 求实数 a 的取值范围;

(II) 证明: 对任意正整数 n , 都有不等式 $\sum_{k=1}^n (e^{e^k} - e^k) > \frac{(n+1)e^{n+1} - 2e}{2(e-1)} + \frac{e^2 - e^{n+1}}{2(e-1)^2} + n$

成立.

数学·答案

一、单项选择题:本题共 8 小题,每小题 5 分,共 40 分.

1. 答案 A

命题意图 本题考查集合的运算.

解析 $A = \{y | y \geq 0\}$, $B = \{x | -5 \leq x < 3\}$, 所以 $A \cap B = \{x | 0 \leq x < 3\}$.

2. 答案 B

命题意图 本题考查复数的运算及复数的虚部的定义.

解析 由 $(1+i)z = 1+2i$, 得 $z = \frac{3}{2} + \frac{1}{2}i$, 所以 z 的虚部为 $\frac{1}{2}$.

3. 答案 D

命题意图 本题考查向量的数量积及命题的真假.

解析 由题可知命题 p 的否定: $\forall x \in \mathbf{R}, m \cdot n \geq 0$, 且否定是真命题, 即 $\forall x \in \mathbf{R}, ax^2 - 4ax + 2 \geq 0$ 是真命题. 当 $a=0$ 时, $2 \geq 0, x \in \mathbf{R}$; 当 $a \neq 0$ 时, $a > 0$ 且 $16a^2 - 8a \leq 0$, 所以 $0 < a \leq \frac{1}{2}$. 综上, 实数 a 的取值范围是 $[0, \frac{1}{2}]$.

4. 答案 A

命题意图 本题考查等差数列的定义及充分条件与必要条件的判断.

解析 是充要条件, 证明如下: (\Rightarrow) 若 $\{a_n\}$ 是等差数列, 设其公差为 $d (d \neq 0)$, 则 $S_n = \frac{d}{2}n^2 + (a_1 - \frac{d}{2})n$, 所以 $r=0$; (\Leftarrow) 若 $r=0$, 则 $S_n = pn^2 + qn (p \neq 0)$, 当 $n=1$ 时, $a_1 = S_1 = p+q$, 当 $n \geq 2$ 时, $a_n = S_n - S_{n-1} = 2pn + q - p$, 此时 $n=1$ 也满足, 所以 $a_n = 2pn + q - p$, 于是有 $a_{n+1} - a_n = 2p$, $\{a_n\}$ 是等差数列. 所以“ $\{a_n\}$ 是等差数列”是“ $r=0$ ”的充要条件.

5. 答案 A

命题意图 本题考查函数的奇偶性及单调性.

解析 易得 $f(x)$ 是偶函数, 当 $x > 0$ 时 $f'(x) = e^x - e^{-x} > 0$, 所以 $f(x)$ 在 $(0, +\infty)$ 上单调递增. 因为 $\triangle ABC$ 是锐角三角形, 所以 $\frac{\pi}{2} < A+B < \pi, 0 < \frac{\pi}{2} - B < A < \frac{\pi}{2}$, 所以 $0 < \sin(\frac{\pi}{2} - B) < \sin A$, 即 $0 < \cos B < \sin A$, 同理, $0 < \cos C < \sin B, 0 < \cos A < \sin C$, 所以 A 正确, B, C 错误, 当 $A=B=C = \frac{\pi}{3}$ 时, D 错误.

6. 答案 C

命题意图 本题考查解三角形.

解析 设 $\angle ABD = \angle ADB = \alpha, \alpha \in (0, \frac{\pi}{2})$, 则 $\angle ACD = \frac{\pi}{2} - \alpha, \angle CAD = 2\alpha - \frac{\pi}{2}, \therefore \sin \angle CAD = \sin(2\alpha - \frac{\pi}{2}) = -\cos 2\alpha$. 在 $\triangle ACD$ 中, $\therefore AC = 3 \text{ cm}, CD = \sqrt{3} \text{ cm}, \therefore AC = \sqrt{3} CD$, 由正弦定理得 $\sin \angle ADC = \sqrt{3} \sin \angle CAD, \therefore \sin(\pi -$

$\alpha) = \sqrt{3}(-\cos 2\alpha)$, $\therefore \sin \alpha = \sqrt{3}(2\sin^2 \alpha - 1)$, 即 $2\sqrt{3}\sin^2 \alpha - \sin \alpha - \sqrt{3} = 0$, 解得 $\sin \alpha = \frac{\sqrt{3}}{2}$ 或 $\sin \alpha = -\frac{\sqrt{3}}{3}$.

$\because \alpha \in (0, \frac{\pi}{2})$, $\therefore \alpha = \frac{\pi}{3}$ (舍去负值), $\therefore \angle ADC = \frac{2\pi}{3}$. 设圆 O_1, O_2 的半径分别为 r_1, r_2 , 由题可知 $\triangle ABD$ 为正三角

形, 边长为 $\sqrt{3}$ cm, $\triangle ACD$ 为等腰三角形, $CD = AD = \sqrt{3}$ cm, $AC = 3$ cm, 由等面积法解得 $r_1 = \frac{1}{2}$, $r_2 = \frac{6-3\sqrt{3}}{2}$,

$\therefore \pi r_1^2 + \pi r_2^2 = (16 - 9\sqrt{3})\pi$.

7. 答案 D

命题意图 本题考查排列与组合的应用.

解析 录用 3 人, 有 $C_5^3 A_3^3 = 60$ 种情况; 录用 4 人, 有 $C_5^4 C_4^2 A_3^3 - C_3^2 A_3^3 = 162$ 种情况; 录用 5 人, 有

$(\frac{C_5^1 C_4^2}{A_2^2} A_3^3 - C_3^2 A_3^3) + (C_5^3 A_3^3 - C_3^1 A_3^3) = 114$ 种情况. 所以共有 336 种.

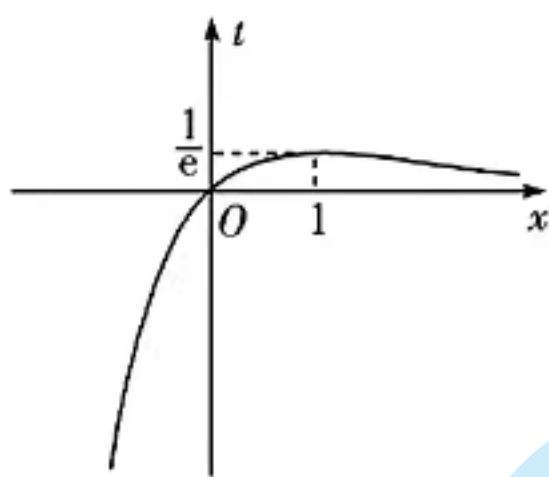
8. 答案 D

命题意图 本题考查导数的综合应用.

解析 令 $f(x) = 0$, 得 $x^2 - axe^x + ae^{2x+1} = 0$, 即 $\frac{x^2}{e^{2x}} - \frac{ax}{e^x} + ae = 0$. 记 $t = \frac{x}{e^x}$, 则 $t^2 - at + ae = 0$, 对 $t = \frac{x}{e^x}$ 求导得 $t' =$

$\frac{1-x}{e^x}$, 因为当 $x < 1$ 时, $t' > 0$, 当 $x > 1$ 时, $t' < 0$, 所以函数 $t = \frac{x}{e^x}$ 在 $(-\infty, 1)$ 上单调递增, 在 $(1, +\infty)$ 上单调递

减, 且当 $x \rightarrow +\infty$ 时, $t > 0$ 且 $t \rightarrow 0$, 当 $x = 0$ 时, $t = 0$, 当 $x \rightarrow -\infty$ 时, $t \rightarrow -\infty$, 则函数 $t = \frac{x}{e^x}$ 的大致图象如图所示.



记 $g(t) = t^2 - at + ae$, 由于 $f(x)$ 有三个不同的零点, 所以 $g(t)$ 必有两个不同的零点, 记为 t_1, t_2 .

(1) 当 $t_1 = \frac{1}{e}, 0 < t_2 < \frac{1}{e}$ 时, 有 $\begin{cases} g(\frac{1}{e}) = 0, \\ g(0) > 0, \\ 0 < \frac{a}{2} < \frac{1}{e}, \end{cases}$ 无解;

(2) 当 $t_1 = 0, 0 < t_2 < \frac{1}{e}$ 时, 有 $\begin{cases} g(\frac{1}{e}) > 0, \\ g(0) = 0, \\ 0 < \frac{a}{2} < \frac{1}{e}, \end{cases}$ 无解;

(3) 当 $t_1 < 0, 0 < t_2 < \frac{1}{e}$ 时, 有 $\begin{cases} g(\frac{1}{e}) > 0, \\ g(0) < 0, \end{cases}$ 解得 $\frac{1}{e-e^3} < a < 0$.

综上, a 的取值范围为 $(\frac{1}{e-e^3}, 0)$.

二、多项选择题: 本题共 4 小题, 每小题 5 分, 共 20 分. 每小题全部选对的得 5 分, 部分选对的得 2 分, 有选错的得 0 分.

9. 答案 BC

命题意图 本题考查回归分析及独立性检验的相关概念.

解析 当样本相关系数 $r = \pm 1$ 时, 成对样本数据的两个分量之间满足一种线性关系, 故 A 正确; 残差等于观测值减去预测值, 故 B 错误; 决定系数 R^2 越大, 模型拟合效果越好, 故 C 错误; 根据独立性检验的规则, 可知 D 正确.

10. 答案 BCD

命题意图 本题考查三角函数的性质及导数的几何意义.

解析 因为 $f(-x) = \cos 2x + \sin x \neq -f(x)$, 所以 $f(x)$ 不是奇函数, 故 A 错误; 令 $f(x) = 0$, 得 $\cos 2x - \sin x = 0$, 即 $2\sin^2 x + \sin x - 1 = 0$, 所以 $\sin x = \frac{1}{2}$ 或 $\sin x = -1$, $x = 2k\pi + \frac{\pi}{6}$ 或 $x = 2k\pi + \frac{5\pi}{6}$ 或 $x = 2k\pi + \frac{3\pi}{2}$ ($k \in \mathbf{Z}$), 即 $x = \frac{2k\pi}{3} + \frac{\pi}{6}$ ($k \in \mathbf{Z}$), 当 $k = 0, 1, \dots, 9$ 时, 对应最小的 10 个正零点, 它们的和为 $\sum_{k=0}^9 (\frac{2k\pi}{3} + \frac{\pi}{6}) = \frac{95\pi}{3}$, 故 B 正确; 由于 $f(2\pi + x) = f(x)$, 故 C 正确; $f(0) = 1$, $f'(x) = -2\sin 2x - \cos x$, $f'(0) = -1$, 所以 $f(x)$ 在 $x = 0$ 处的切线方程为 $y = -x + 1$, 故 D 正确.

11. 答案 AC

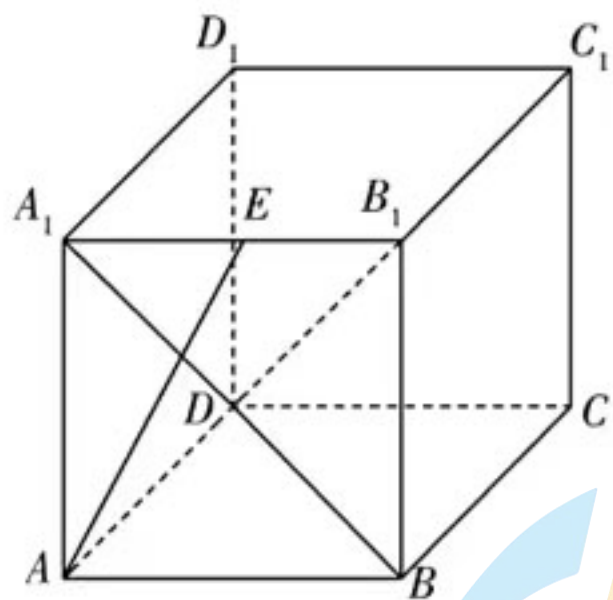
命题意图 本题考查基本不等式的应用及函数的单调性.

解析 $S = (x+z)(y+z) = xy + xz + zy + z^2 = xy + (x+y+z)z$, 由 $xyz(x+y+z) = 1$ 可得 $z(x+y+z) = \frac{1}{xy}$, 所以 $S = xy + \frac{1}{xy} \geq 2\sqrt{xy \cdot \frac{1}{xy}} = 2$, 当且仅当 $xy = 1$ 时, 等号成立, 所以 A 正确、D 错误; 当 S 取最小值时, $xy = 1$, $xyz(x+y+z) = z(x+y+z) = z^2 + (x+y)z = 1$, 所以 $z^2 + (x+y)z - 1 = 0$, $z = \frac{-(x+y) \pm \sqrt{(x+y)^2 + 4}}{2}$, 又 $z > 0$, 所以 $z = \frac{\sqrt{(x+y)^2 + 4} - (x+y)}{2} = \frac{2}{\sqrt{(x+y)^2 + 4} + (x+y)}$, 又 $x+y \geq 2\sqrt{xy} = 2$, 当且仅当 $x = y = 1$ 时等号成立, 记 $t = x+y$, 则 $t \geq 2$, 所以 $z = \frac{2}{\sqrt{t^2 + 4} + t}$, 函数 z 在 $t \in [2, +\infty)$ 时单调递减, 所以当 $t = 2$ 时, z 取得最大值, 且 $z_{\max} = \frac{2}{\sqrt{2^2 + 4} + 2} = \sqrt{2} - 1$, z 无最小值, 所以 C 正确、B 错误.

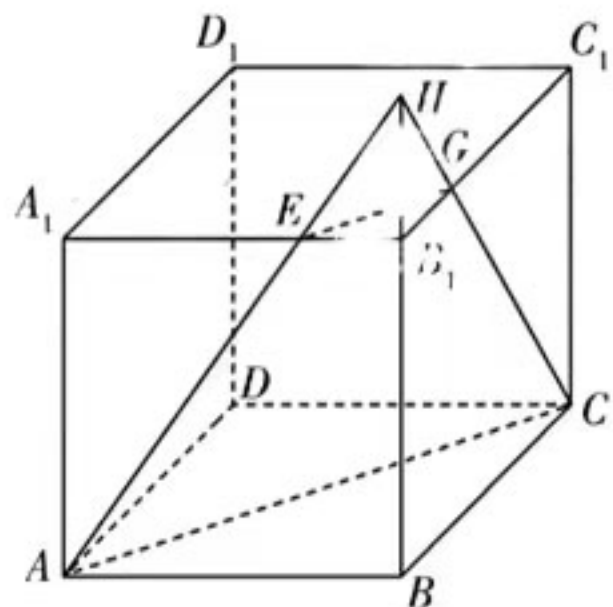
12. 答案 BCD

命题意图 本题考查立体几何中点、线、面的位置关系及点的轨迹的判断.

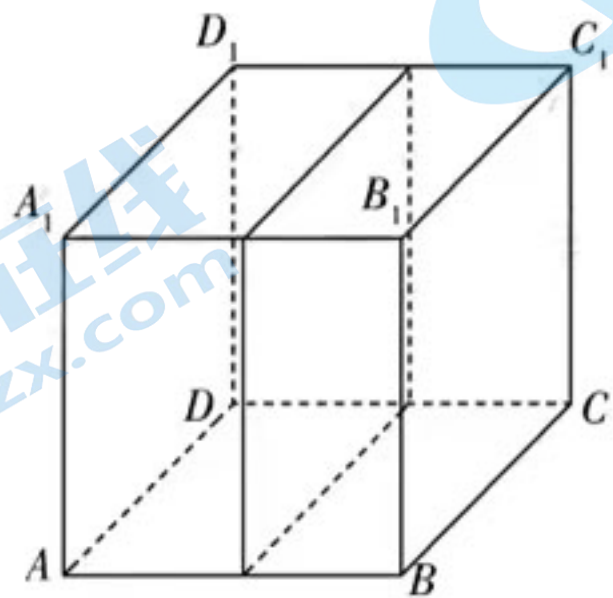
解析 对于 A, 如图, 在正方体中, 易知 $A_1B \perp DB_1$, 若存在点 E , 使 $AE \perp DB_1$, 由于 AE 与 A_1B 相交, 所以 $DB_1 \perp$ 平面 AA_1B_1B , 显然不成立, 故 A 错误.



对于 B, 当 $\frac{A_1E}{EB_1} = \sqrt{3}$ 时, 如图, 记经过点 A, C, E 的平面与 B_1C_1 交于点 G , 连接 CG, EG , 则 $EB_1 = GB_1 = \frac{\sqrt{3}-1}{2}$. 由于平面 $ABCD \parallel$ 平面 $A_1B_1C_1D_1$, 平面 $ACE \cap$ 平面 $ABCD = AC$, 平面 $ACE \cap$ 平面 $A_1B_1C_1D_1 = EG$, 所以 $EG \parallel AC$. 记 $BB_1 \cap CG = H$, 则 $\frac{HB_1}{HB} = \frac{GB_1}{BC} = \frac{\sqrt{3}-1}{2}$. 记 $BB_1 \cap AE = H_1$, 则 $\frac{H_1B_1}{H_1B} = \frac{EB_1}{AB} = \frac{\sqrt{3}-1}{2}$, 所以点 H 与 H_1 重合. 又平面 $ABC \parallel$ 平面 EB_1G , 所以几何体 $ABC-EB_1G$ 是棱台, $V_{ABC-EB_1G} = \frac{1}{3} \cdot BB_1 (S_{\triangle ABC} + \sqrt{S_{\triangle ABC} \cdot S_{\triangle EB_1G}} + S_{\triangle EB_1G}) = \frac{1}{4}$, 其余部分的体积为 $1 - \frac{1}{4} = \frac{3}{4}$, 所以经过点 A, C, E 的平面将正方体分成体积比为 $3:1$ 的大小两部分, 故 B 正确.



对于 C, 当 $FA = FB$ 时, 点 F 的轨迹是以棱 AB, A_1B_1, C_1D_1, CD 的中点为顶点的正方形, 如图所示, 轨迹的长度为 4 , 故 C 正确.

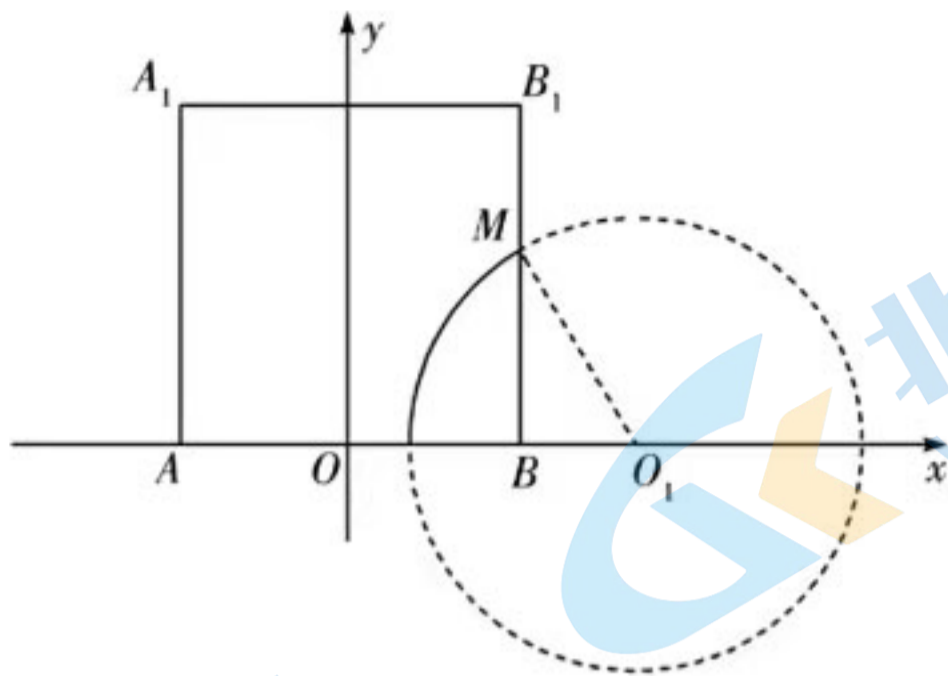


对于 D, 先看点 F 在侧面 ABB_1A_1 内的轨迹, 以 AB 的中点 O 为坐标原点, AB 所在直线为 x 轴建立平面直角坐标系, 如图. 设 $F(x, y)$, 由 $FA = 2FB$ 可得点 F 的轨迹方程为 $(x - \frac{5}{6})^2 + y^2 = \frac{4}{9}$, 其是以 $O_1(\frac{5}{6}, 0)$ 为圆心, $\frac{2}{3}$

为半径的圆, 记该圆与 BB_1 交于点 M , 则 $\angle BO_1M = \frac{\pi}{3}$, 点 F 在侧面 ABB_1A_1 内的轨迹为一段圆弧, 长度为 $\frac{2\pi}{9}$.

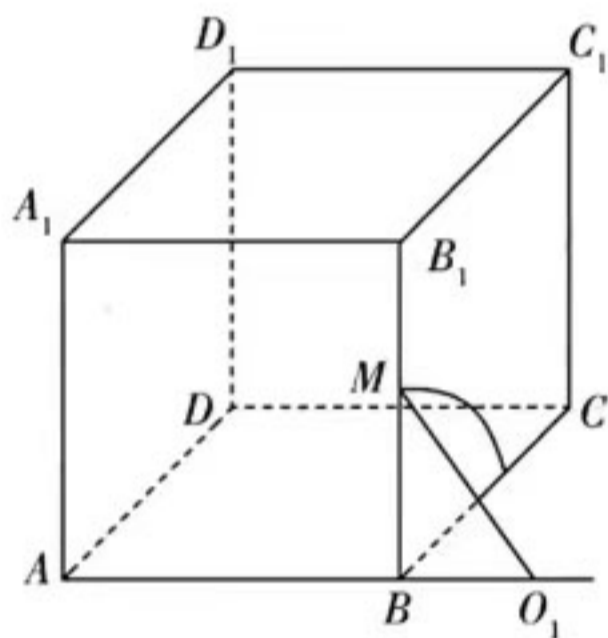
关注北京高考在线官方微信: **京考一点通** (微信号:bjgkzx), 获取更多试题资料及排名分析信息

同理点 F 在底面 $ABCD$ 内的轨迹的长度也为 $\frac{2\pi}{9}$.



当点 F 在侧面 BCC_1B_1 内时,其轨迹可视为以 O_1 为球心, $\frac{2}{3}$ 为半径的球面与侧面 BCC_1B_1 的交线,由于 $BO_1 = \frac{1}{3}$, $O_1M = \frac{2}{3}$,所以 $BM = \frac{\sqrt{3}}{3}$,点 F 在侧面 BCC_1B_1 内的轨迹是以 B 为圆心, $\frac{\sqrt{3}}{3}$ 为半径的圆的 $\frac{1}{4}$,长为 $\frac{\sqrt{3}\pi}{6}$. 分

析易知,其余面上的点均不满足题意. 所以点 F 的轨迹长度为 $\frac{(8+3\sqrt{3})\pi}{18}$,故 D 正确.



三、填空题:本题共 4 小题,每小题 5 分,共 20 分.

13. 答案 $\sqrt{6}$

命题意图 本题考查空间向量的应用.

解析 由题可知 $\vec{AB} = (2, 0, 2)$, $\vec{PB} = (2, -2, 0)$, 则点 P 到直线 l 的距离为 $d = \sqrt{|\vec{PB}|^2 - \left(\vec{PB} \cdot \frac{\vec{AB}}{|\vec{AB}|}\right)^2} = \sqrt{6}$.

14. 答案 -1

命题意图 本题考查数学文化.

解析 由题意得 $\frac{1}{2x^2+1} - \frac{2}{x^2+1} = \frac{1}{2x^2+1} - \frac{4}{2x^2+2}$, 则 $\left(\frac{1}{2x^2+1} - \frac{4}{2x^2+2}\right) [(2x^2+1) - (2x^2+2)] \leq \left(\frac{1}{\sqrt{2x^2+1}} \cdot \sqrt{2x^2+1} - \frac{2}{\sqrt{2x^2+2}} \cdot \sqrt{2x^2+2}\right)^2 = 1$, 当且仅当 $\frac{1}{\sqrt{2x^2+1}} \cdot \sqrt{2x^2+2} = \frac{2}{\sqrt{2x^2+2}} \cdot \sqrt{2x^2+1}$,

即 $x=0$ 时, 等号成立, 所以 $\frac{1}{2x^2+1} - \frac{2}{x^2+1} = \frac{1}{2x^2+1} - \frac{4}{2x^2+2} \geq -1$, 最小值为 -1 , 此时 $x=0$.

另解: 记 $f(x) = \frac{1}{2x^2+1} - \frac{2}{x^2+1}$, $f(x)$ 是 \mathbf{R} 上的偶函数, 当 $x \in [0, +\infty)$ 时, $f'(x) =$

$\left(\frac{1}{x^2+1} + \frac{1}{2x^2+1}\right) \frac{4x^3}{(x^2+1)(2x^2+1)} \geq 0$, 所以 $f(x)$ 在 $[0, +\infty)$ 上单调递增, 则 $f(x)$ 的最小值为 $f(0) = -1$.

15. 答案 $\left(0, \frac{\sqrt{6}}{3}\right]$

命题意图 本题考查椭圆的离心率的计算.

解析 不妨设直线 $BA: y = kx + 1 (k > 0)$, 则直线 $BC: y = -\frac{1}{k}x + 1$. 联立方程得 $\begin{cases} y = kx + 1, \\ \frac{x^2}{a^2} + y^2 = 1, \end{cases}$ 得 $(1 + a^2k^2)x^2 + 2a^2kx = 0$, $\therefore x_A = -\frac{2a^2k}{1 + a^2k^2}$. 用 $-\frac{1}{k}$ 代替 k 得 $x_C = \frac{2a^2k}{a^2 + k^2}$, $\therefore |BA| = \sqrt{1 + k^2} |x_A| = \frac{2a^2k \sqrt{1 + k^2}}{1 + a^2k^2}$, $|BC| =$

$\sqrt{1 + \frac{1}{k^2}} |x_C| = \frac{2a^2 \sqrt{1 + k^2}}{a^2 + k^2}$. 由 $|BA| = |BC|$, 得 $(k - 1)[k^2 + (1 - a^2)k + 1] = 0$, 该方程关于 k 已有一解 $k = 1$,

由于符合条件的 $\triangle ABC$ 有且仅有一个, \therefore 关于 k 的方程 $k^2 + (1 - a^2)k + 1 = 0$ 无实数解或有两个相等的实数

解 $k = 1$. 无实数解时, $\Delta = (1 - a^2)^2 - 4 < 0$, 所以 $1 < a < \sqrt{3}$; 有两个相等的实数解 $k = 1$ 时, $\Delta = 0, a = \sqrt{3}$. $\therefore 1 <$

$a \leq \sqrt{3}$, 则该椭圆的离心率 $e = \frac{c}{a} = \sqrt{1 - \frac{1}{a^2}}$ 的取值范围是 $\left(0, \frac{\sqrt{6}}{3}\right]$.

16. 答案 $\frac{13}{18}$

命题意图 本题考查数列与概率的综合.

解析 记学生甲上到第 n 级台阶共有 a_n 种上法, 则 $a_1 = 1, a_2 = 2$, 当 $n \geq 3$ 时, 学生甲上到第 n 级台阶, 可以从第 $n - 1$ 级或第 $n - 2$ 级上去, 所以 $a_{n-2} + a_{n-1} = a_n$, 于是 $a_3 = 3, a_4 = 5, a_5 = 8, a_6 = 13, a_7 = 21, a_8 = 34, a_9 = 55,$

$a_{10} = 89, a_{11} = 144$, 所以甲踩过第 5 级台阶的概率是 $P = \frac{a_5 a_6}{a_{11}} = \frac{13}{18}$.

四、解答题: 共 70 分. 解答应写出文字说明、证明过程或演算步骤.

17. 命题意图 本题考查线线垂直的证明及空间向量的应用.

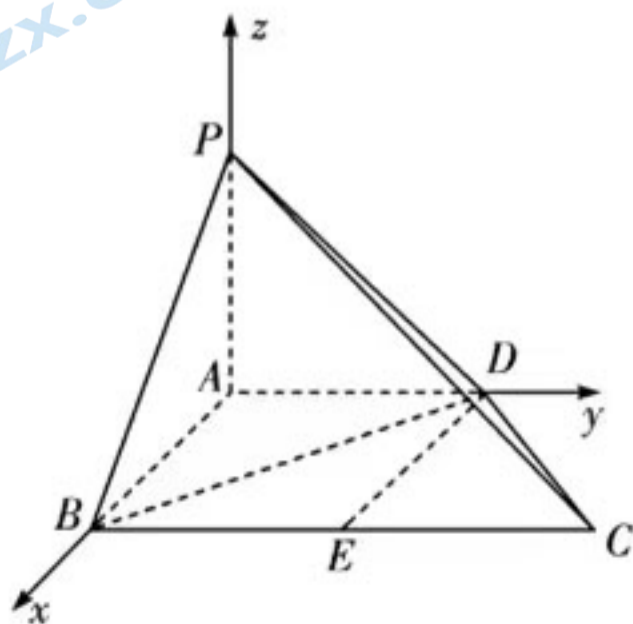
解析 (I) 如图, 连接 DE , $\because BD = DC = 2\sqrt{2}, BC = 4, E$ 为棱 BC 的中点,

$\therefore DE \perp BC$, 且 $DE = 2$,

又 $AD \parallel BE, AD = BE = DE = 2$, \therefore 四边形 $ABED$ 是正方形, (2 分)

$\therefore AD \perp AB$, 又 $\because AD \perp PA, PA \cap AB = A$, $\therefore AD \perp$ 平面 PAB ,

又 $PB \subset$ 平面 PAB , $\therefore AD \perp PB$ (4 分)



(II) $\because PA \perp AD, PB = PD = 2\sqrt{2}, AD = AB = 2,$

$\therefore PA = 2.$

又 $PA^2 + AB^2 = PB^2,$

$\therefore PA \perp AB,$

又 $PA \perp AD, AD \cap AB = A,$

$\therefore PA \perp$ 平面 $ABCD.$ (6分)

以 A 为坐标原点, AB, AD, AP 所在直线分别为 x 轴、 y 轴、 z 轴建立如图所示的空间直角坐标系,

则 $B(2,0,0), C(2,4,0), D(0,2,0), P(0,0,2),$

$\therefore \vec{PB} = (2,0,-2), \vec{PC} = (2,4,-2), \vec{PD} = (0,2,-2).$

设平面 PCD 的法向量为 $m = (x,y,z),$

则 $\begin{cases} m \cdot \vec{PC} = 0, \\ m \cdot \vec{PD} = 0, \end{cases}$ 即 $\begin{cases} 2x + 4y - 2z = 0, \\ 2y - 2z = 0, \end{cases}$ 令 $z = 1,$ 则 $m = (-1, 1, 1).$ (8分)

设 PB 与平面 PCD 所成的角为 $\theta (\theta \in [0, \frac{\pi}{2}]),$ 则 $\sin \theta = |\cos \langle m, \vec{PB} \rangle| = \frac{\sqrt{6}}{3},$

$\therefore \cos \theta = \frac{\sqrt{3}}{3}.$ (10分)

18. 命题意图 本题考查三角恒等变换及正弦定理的应用.

解析 (I) 由 $2\cos A \cos C = \frac{\tan B}{\tan A + \tan C},$ 得

$2\cos A \cos C \left(\frac{\sin A}{\cos A} + \frac{\sin C}{\cos C} \right) = \frac{\sin B}{\cos B},$

$2\sin A \cos C + 2\cos A \sin C = \frac{\sin B}{\cos B},$

$2\sin(A+C) = 2\sin B = \frac{\sin B}{\cos B}.$ (3分)

又 $\sin B > 0,$

$\therefore \cos B = \frac{1}{2}.$ (4分)

$\because B \in (0, \pi)$ 且 $B \neq \frac{\pi}{2},$

$\therefore B = \frac{\pi}{3}.$ (5分)

(II) 由正弦定理, 得 $\frac{a}{\sin A} = \frac{b}{\sin B} = \frac{c}{\sin C} = \frac{4\sqrt{3}}{3},$

$\therefore a = \frac{4\sqrt{3}}{3} \sin A, c = \frac{4\sqrt{3}}{3} \sin C.$ (7分)

$\because \triangle ABC$ 是钝角三角形, 不妨设 A 为钝角, 则 $A \in (\frac{\pi}{2}, \frac{2\pi}{3}).$

$$a + c = \frac{4\sqrt{3}}{3}(\sin A + \sin C) = \frac{4\sqrt{3}}{3} \left[\sin A + \sin \left(\frac{2\pi}{3} - A \right) \right] = 4\sin \left(A + \frac{\pi}{6} \right), \dots\dots\dots (9 \text{ 分})$$

$$\because A \in \left(\frac{\pi}{2}, \frac{2\pi}{3} \right), \therefore A + \frac{\pi}{6} \in \left(\frac{2\pi}{3}, \frac{5\pi}{6} \right),$$

$$\therefore \sin \left(A + \frac{\pi}{6} \right) \in \left(\frac{1}{2}, \frac{\sqrt{3}}{2} \right), \dots\dots\dots (11 \text{ 分})$$

$$\therefore a + c \text{ 的取值范围是 } (2, 2\sqrt{3}). \dots\dots\dots (12 \text{ 分})$$

19. 命题意图 本题考查线性回归及随机变量的分布列与数学期望.

解析 (I) 由题意得, $\sum_{i=1}^9 x_i = 333, \bar{x} = \frac{333}{9} = 37, \sum_{i=1}^9 y_i = 720, \bar{y} = 80,$

$$9\bar{x} \cdot \bar{y} = 26\,640, \sum_{i=1}^9 x_i y_i = 26\,340,$$

$$\text{所以 } \sum_{i=1}^9 (x_i - \bar{x})(y_i - \bar{y}) = \sum_{i=1}^9 x_i y_i - 9\bar{x} \cdot \bar{y} = 26\,340 - 26\,640 = -300, \dots\dots\dots (2 \text{ 分})$$

$$\text{又 } \sum_{i=1}^9 (x_i - \bar{x})^2 = 540, \dots\dots\dots (3 \text{ 分})$$

$$\text{所以 } \hat{b} = \frac{\sum_{i=1}^9 (x_i - \bar{x})(y_i - \bar{y})}{\sum_{i=1}^9 (x_i - \bar{x})^2} = \frac{-300}{540} = -\frac{5}{9}, \hat{a} = \bar{y} - \hat{b}\bar{x} = 80 + \frac{5}{9} \times 37 = \frac{905}{9},$$

$$\text{故 } y \text{ 关于 } x \text{ 的回归直线方程为 } \hat{y} = -\frac{5}{9}x + \frac{905}{9}. \dots\dots\dots (5 \text{ 分})$$

当 $x = 55$ 时, $\hat{y} = 70$, 即预测长度区间为 $[54, 56]$ 的 150 个螺丝钉中的优质个数为 70. $\dots\dots\dots (6 \text{ 分})$

(II) 根据题意, 在 $[24, 26], [33, 35], [39, 41], [45, 47], [48, 50]$ 这五个长度区间中, $[24, 26], [33, 35], [39, 41]$ 这三个长度区间中超过半数优质的, 在 $[45, 47], [48, 50]$ 这两个长度区间中优质的不足一半, 故随机抽取得到的 5 个螺丝钉中有 3 个是优质的.

所以 X 的所有可能取值为 1, 2, 3, $\dots\dots\dots (8 \text{ 分})$

$$\text{则 } P(X=1) = \frac{C_3^1 C_2^2}{C_5^3} = \frac{3}{10}, P(X=2) = \frac{C_3^2 C_2^1}{C_5^3} = \frac{3}{5}, P(X=3) = \frac{C_3^3}{C_5^3} = \frac{1}{10}, \dots\dots\dots (10 \text{ 分})$$

故随机变量 X 的分布列为

X	1	2	3
P	$\frac{3}{10}$	$\frac{3}{5}$	$\frac{1}{10}$

$$E(X) = 1 \times \frac{3}{10} + 2 \times \frac{3}{5} + 3 \times \frac{1}{10} = \frac{9}{5}. \dots\dots\dots (12 \text{ 分})$$

20. 命题意图 本题考查数列的单调性、等比数列的定义及数列前 n 项和的计算.

解析 (I) $a_{n+1} = a_n^2 + a_n = a_n(a_n + 1), \because a_1 = \frac{1}{3} > 0, \therefore a_n > 0,$

$$\therefore \frac{1}{a_{n+1}} = \frac{1}{a_n(a_n + 1)} = \frac{1}{a_n} - \frac{1}{a_n + 1},$$

$$\therefore \frac{1}{a_n + 1} = \frac{1}{a_n} - \frac{1}{a_{n+1}},$$

$$\therefore \sum_{i=1}^{2023} \frac{1}{a_i + 1} = \frac{1}{a_1} - \frac{1}{a_{2024}} = 3 - \frac{1}{a_{2024}}. \dots\dots\dots (2 \text{分})$$

又 $a_{n+1} - a_n = a_n^2 > 0$, $\therefore \{a_n\}$ 是递增数列,

$$\therefore a_1 = \frac{1}{3}, a_2 = \frac{4}{9}, a_3 = \frac{52}{81}, a_4 = \frac{6916}{6561} > 1,$$

\therefore 当 $n \geq 4$ 时, $a_n > 1$. $\dots\dots\dots (4 \text{分})$

$$\therefore a_{2024} > 1, 3 - \frac{1}{a_{2024}} \in (2, 3), \therefore b_1 = \left[\sum_{i=1}^{2023} \frac{1}{a_i + 1} \right] = 2. \dots\dots\dots (6 \text{分})$$

$$(II) \because b_{n+1}^2 = b_n b_{n+2} (n \in \mathbf{N}^*), b_1 = 2, b_2 = 32,$$

$$\therefore b_n > 0, \text{ 则有 } \frac{b_{n+1}}{b_n} = \frac{b_{n+2}}{b_{n+1}} (n \in \mathbf{N}^*),$$

$\therefore \{b_n\}$ 是以 $b_1 = 2$ 为首项, $q = \frac{b_2}{b_1} = 16$ 为公比的等比数列, $\dots\dots\dots (8 \text{分})$

$$\therefore b_n = 2 \cdot 16^{n-1} = 2^{4n-3} (n \in \mathbf{N}^*), \therefore c_n = \frac{1}{\sqrt{\log_2 b_n}} = \frac{1}{\sqrt{4n-3}} (n \in \mathbf{N}^*).$$

$$\therefore c_n = \frac{1}{\sqrt{4n-3}} = \frac{2}{\sqrt{4n-3} + \sqrt{4n-3}} > \frac{2}{\sqrt{4n+1} + \sqrt{4n-3}} = \frac{1}{2}(\sqrt{4n+1} - \sqrt{4n-3}), \dots\dots\dots (10 \text{分})$$

$$\therefore T_n = c_1 + c_2 + \dots + c_n > \frac{1}{2}(\sqrt{5} - \sqrt{1} + \sqrt{9} - \sqrt{5} + \dots + \sqrt{4n+1} - \sqrt{4n-3})$$

$$= \frac{1}{2}(\sqrt{4n+1} - 1)$$

$$= \frac{\sqrt{4n+1}}{2} - \frac{1}{2}$$

$$> \frac{\sqrt{4n+1}}{2} - 1,$$

\therefore 原不等式得证. $\dots\dots\dots (12 \text{分})$

21. 命题意图 本题考查双曲线的方程及直线与双曲线的位置关系.

解析 (I) 设双曲线 C 的半焦距为 $c (c > 0)$.

$$\text{由题意可得, } \begin{cases} e = \frac{c}{a} = 2, \\ \frac{16}{a^2} - \frac{36}{b^2} = 1, \\ c^2 = a^2 + b^2, \end{cases}$$

$$\text{解得 } a = 2, b = 2\sqrt{3}, c = 4, \dots\dots\dots (3 \text{分})$$

$$\text{所以 } C \text{ 的方程为 } \frac{x^2}{4} - \frac{y^2}{12} = 1. \dots\dots\dots (4 \text{分})$$

(II) $\left| \frac{1}{|AF_2|} - \frac{1}{|BF_2|} \right|$ 为定值, 理由如下:

由(I)知 $F_2(4,0)$, 设直线 $l: x = my + 4, A(x_1, y_1), B(x_2, y_2)$,

$$\text{联立方程得} \begin{cases} \frac{x^2}{4} - \frac{y^2}{12} = 1, \\ x = my + 4, \end{cases} \text{消去 } x, \text{整理可得 } (3m^2 - 1)y^2 + 24my + 36 = 0,$$

$$\therefore \begin{cases} 3m^2 - 1 \neq 0, \\ \Delta = 144(m^2 + 1) > 0, \\ y_1 + y_2 = -\frac{24m}{3m^2 - 1}, \\ y_1 y_2 = \frac{36}{3m^2 - 1}. \end{cases} \dots\dots\dots (6 \text{分})$$

$$\therefore |AF_2|^2 = (x_1 - 4)^2 + y_1^2 = (m^2 + 1)y_1^2,$$

$$\therefore |AF_2| = \sqrt{m^2 + 1}|y_1|, \text{同理 } |BF_2| = \sqrt{m^2 + 1}|y_2|. \dots\dots\dots (8 \text{分})$$

\therefore 直线 l 过点 F_2 且与 C 的左、右两支分别交于 A, B 两点,

$\therefore A, B$ 两点在 x 轴同侧,

$$\therefore y_1 y_2 > 0, \text{此时 } 3m^2 - 1 > 0, \text{即 } m^2 > \frac{1}{3}.$$

$$\therefore \left| \frac{1}{|AF_2|} - \frac{1}{|BF_2|} \right|^2 = \frac{1}{|AF_2|^2} + \frac{1}{|BF_2|^2} - \frac{2}{|AF_2| \cdot |BF_2|} \dots\dots\dots (10 \text{分})$$

$$= \frac{1}{(m^2 + 1)y_1^2} + \frac{1}{(m^2 + 1)y_2^2} - \frac{2}{(m^2 + 1)|y_1 y_2|}$$

$$= \frac{1}{(m^2 + 1)y_1^2} + \frac{1}{(m^2 + 1)y_2^2} - \frac{2}{(m^2 + 1)y_1 y_2}$$

$$= \frac{1}{m^2 + 1} \cdot \left(\frac{1}{y_1^2} + \frac{1}{y_2^2} - \frac{2}{y_1 y_2} \right)$$

$$= \frac{1}{m^2 + 1} \cdot \frac{(y_1 + y_2)^2 - 4y_1 y_2}{(y_1 y_2)^2}$$

$$= \frac{1}{m^2 + 1} \cdot \frac{m^2 + 1}{9} = \frac{1}{9},$$

$$\therefore \left| \frac{1}{|AF_2|} - \frac{1}{|BF_2|} \right| = \frac{1}{3}, \text{为定值.} \dots\dots\dots (12 \text{分})$$

22. 命题意图 本题考查导数的综合应用.

解析 (I) 由题可知 $f'(x) = 2e^x - 2x + a$,

记 $g(x) = 2e^x - 2x + a$, 则 $g'(x) = 2e^x - 2$,

当 $x \in (0, +\infty)$ 时, $g'(x) > 0, \therefore g(x)$ 在 $(0, +\infty)$ 上单调递增, 即 $f'(x)$ 在 $(0, +\infty)$ 上单调递增,

\therefore 当 $x \in (0, +\infty)$ 时, $f'(x) > f'(0) = 2 + a. \dots\dots\dots (1 \text{分})$

(i) 当 $a \geq -2$ 时, $f'(x) > f'(0) = 2 + a \geq 0, \therefore f(x)$ 在 $(0, +\infty)$ 上单调递增,

则 $f(x) > f(0) = 0, \therefore a \geq -2$ 成立; $\dots\dots\dots (2 \text{分})$

(ii) 当 $a < -2$ 时, $f'(0) = 2 + a < 0$,

$$f'(x) = 2e^x - 2x + a = e^x - 2x + e^x + a,$$

记 $h(x) = e^x - 2x, x \in (0, +\infty)$, 则 $h'(x) = e^x - 2$, 令 $h'(x) = 0$, 得 $x = \ln 2$,

当 $x > \ln 2$ 时, $h'(x) > 0$, 当 $0 < x < \ln 2$ 时, $h'(x) < 0$,

$\therefore h(x)$ 在 $(0, \ln 2)$ 上单调递减, 在 $(\ln 2, +\infty)$ 上单调递增,

$\therefore h(x)_{\min} = h(\ln 2) = 2 - 2\ln 2 > 0$, 则 $h(x) > 0$.

令 $x = \ln(-a) > \ln 2 > 0$, 则 $f'(\ln(-a)) = e^{\ln(-a)} - 2\ln(-a) > 0$,

\therefore 存在 $x_0 \in (0, \ln(-a))$, 使得 $f'(x_0) = 2e^{x_0} - 2x_0 + a = 0$, 则 $a = -2e^{x_0} + 2x_0, \dots \dots \dots (4 \text{ 分})$

\therefore 当 $x \in (0, x_0)$ 时, $f'(x) < 0$, 当 $x \in (x_0, +\infty)$ 时, $f'(x) > 0$,

$\therefore f(x)$ 在 $(0, x_0)$ 上单调递减, 在 $(x_0, +\infty)$ 上单调递增,

$\therefore f(x)_{\min} = f(x_0) = 2e^{x_0} - x_0^2 + ax_0 - 2 = 2(1 - x_0)e^{x_0} + x_0^2 - 2$.

记 $\varphi(x) = 2(1 - x)e^x + x^2 - 2$,

则当 $x \in (0, +\infty)$ 时, $\varphi'(x) = 2x(1 - e^x) < 0$,

$\therefore \varphi(x)$ 在 $(0, +\infty)$ 上单调递减,

$\therefore \varphi(x) < \varphi(0) = 0$, 则有 $f(x_0) < 0$, 与 $f(x) > 0$ 恒成立矛盾, 所以 $a < -2$ 不成立.

综上, 实数 a 的取值范围是 $[-2, +\infty)$. $\dots \dots \dots (6 \text{ 分})$

(II) 由(I)知, 当 $a = -2$ 时, $\forall x \in (0, +\infty), f(x) = 2e^x - x^2 - 2x - 2 > 0$,

$$\therefore e^x - x > \frac{1}{2}x^2 + 1.$$

记 $m(x) = x - 1 - \ln x$,

则当 $x \in (1, +\infty)$ 时, $m'(x) = 1 - \frac{1}{x} = \frac{x-1}{x} > 0$,

$\therefore m(x)$ 在 $(1, +\infty)$ 上单调递增, 则有 $m(x) > m(1) = 0$,

\therefore 当 $x \in (1, +\infty)$ 时, $x > 1 + \ln x$,

\therefore 当 $x \in (1, +\infty)$ 时, $e^x - x > \frac{1}{2}x^2 + 1 > \frac{x(1 + \ln x)}{2} + 1. \dots \dots \dots (8 \text{ 分})$

令 $x = e^k (k \in \mathbf{N}^*)$, 则 $e^{e^k} - e^k > \frac{e^k(1+k)}{2} + 1$.

记 $T_n = \sum_{k=1}^n e^k(1+k) (n \in \mathbf{N}^*)$,

则 $T_n = 2e + 3e^2 + 4e^3 + \dots + (n+1)e^n, eT_n = 2e^2 + 3e^3 + 4e^4 + \dots + (n+1)e^{n+1}$,

$\therefore (e-1)T_n = (n+1)e^{n+1} - (e^2 + e^3 + \dots + e^n) - 2e = (n+1)e^{n+1} - \frac{e^2(1-e^{n-1})}{1-e} - 2e$,

$\therefore T_n = \frac{(n+1)e^{n+1} - 2e}{e-1} + \frac{e^2 - e^{n+1}}{(e-1)^2}, \dots \dots \dots (10 \text{ 分})$

$\therefore \sum_{k=1}^n (e^{e^k} - e^k) > \frac{1}{2}T_n + n = \frac{(n+1)e^{n+1} - 2e}{2(e-1)} + \frac{e^2 - e^{n+1}}{2(e-1)^2} + n$,

\therefore 对任意正整数 n , 都有不等式 $\sum_{k=1}^n (e^{e^k} - e^k) > \frac{(n+1)e^{n+1} - 2e}{2(e-1)} + \frac{e^2 - e^{n+1}}{2(e-1)^2} + n$ 成立. $\dots \dots \dots (12 \text{ 分})$

关于我们

北京高考在线创办于 2014 年，隶属于北京太星网络科技有限公司，是北京地区极具影响力的中学升学服务平台。主营业务涵盖：北京新高考、高中生涯规划、志愿填报、强基计划、综合评价招生和学科竞赛等。

北京高考在线旗下拥有网站门户、微信公众平台等全媒体矩阵生态平台。平台活跃用户 50W+，网站年度流量数千万量级。用户群体立足于北京，辐射全国 31 省市。

北京高考在线平台一直秉承“精益求精、专业严谨”的建设理念，不断探索“K12 教育+互联网+大数据”的运营模式，尝试基于大数据理论为广大中学和家长提供新鲜的高考资讯、专业的高考政策解读、科学的升学规划等，为广大高校、中学和教科研单位提供“衔接和桥梁纽带”作用。

平台自创办以来，为众多重点大学发现和推荐优秀生源，和北京近百所中学达成合作关系，累计举办线上线下升学公益讲座数千场，帮助数十万考生顺利通过考入理想大学，在家长、考生、中学和社会各界具有广泛的口碑影响力

未来，北京高考在线平台将立足于北京新高考改革，基于对北京高考政策研究及北京高校资源优势，更好的服务全国高中家长和学生。

推荐大家关注北京高考在线网站官方微信公众号：**京考一点通**，我们会持续为大家整理分享最新的高中升学资讯、政策解读、热门试题答案、招生通知等内容！

