

2022 北京海淀初二一模

地 理


2022. 04

| | |
|------------------|---|
| 考 生 须 知 | <ol style="list-style-type: none">1. 本试卷共 10 页，共两部分，29 道题，满分 70 分。考试时间 70 分钟。2. 在试卷和答题卡上准确填写学校名称、姓名和准考证号。3. 试题答案一律填涂或书写在答题卡上，在试卷上作答无效。4. 在答题卡上，选择题用 2B 铅笔作答，其他试题用黑色字迹签字笔作答。5. 考试结束，请将本试卷、答题卡和草稿纸一并交回。 |
|------------------|---|

第一部分

本部分共 25 题，每题 1 分，共 25 分。在每题列出的四个选项中，选出最符合题目要求的一项。

地理课上，同学们用地球仪和灯泡演示地球的运动。图 1 为地球运动过程演示示意图。读图，完成 1~4 题。



a




图 1

1. 地球仪

- A. 反映地球真实大小
- B. 表明地球形状是圆形
- C. 最长的纬线是赤道
- D. 地轴与经线相互垂直

2. 演示地球运动时

- A. 从左向右拨动地球仪使其转动，演示地球的自转
- B. 在桌面上移动而不转动地球仪，演示地球的自转和公转
- C. 按甲→乙→丙→丁的顺序沿者桌面移动地球仪，演示地球的自转
- D. 按甲→丁→丙→乙的顺序沿着桌面移动地球仪，演示地球的公转

3. 图 1 中 a 演示的日期对应 b 中的

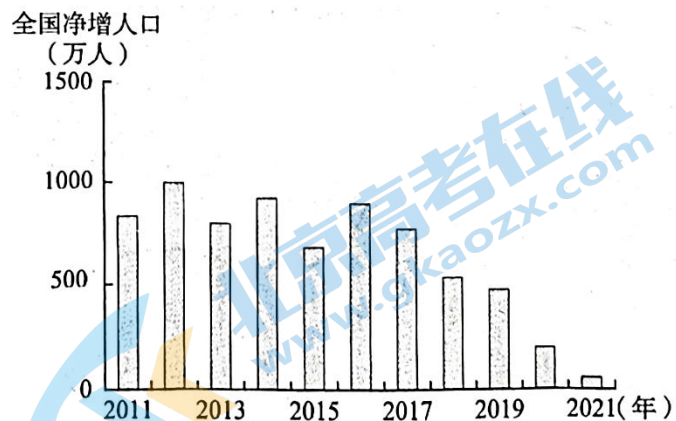


图3

8. 图中显示我国全

- A. 人口总量在逐年减少
- B. 2012年人口总量最多
- C. 2021年净增人口最少
- D. 人口自然增长率低于零

9. 针对我国目前的人口状况, 采取的合理措施有

- ①控制人口数量, 提倡一对夫妇只生育一个孩子
- ②继续优化生育政策, 促进人口长期均衡发展
- ③完善养老服务体系, 增加养老产品和服务供给
- ④开展尊老助老活动, 弘扬中华民族传统美德

- A. ①②③
- B. ①②④
- C. ①③④
- D. ②③④

2021年11月19日, 世界第二大水电站——金沙江白鹤滩水电站正式并网发电, 标志着长江干流成为世界上最大的清洁能源走廊。长江干流上的水电站为国家电网的安全稳定运行发挥了重要作用, 也为“西电东送”国家重大战略的实施提供了有力支撑。图4为长江流域示意图。读图, 完成10~12题。

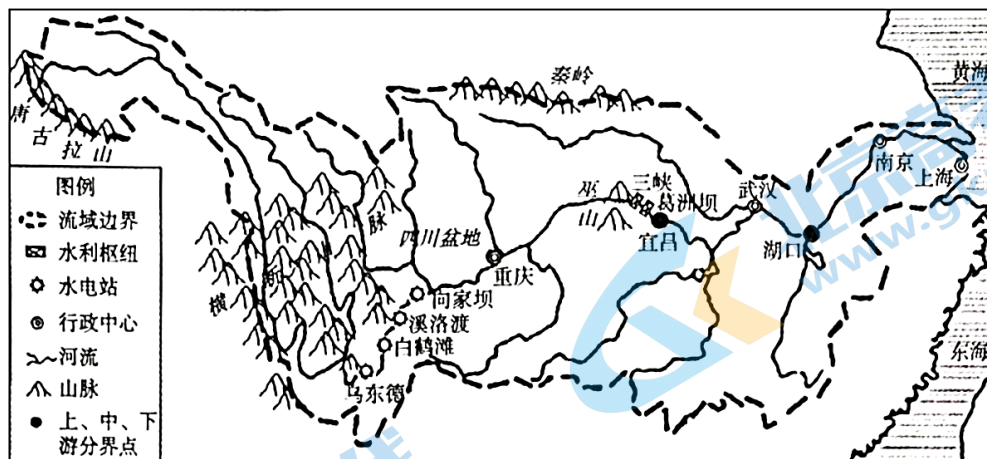


图4

10. 长江

- A. 发源于唐古拉山, 注入黄海, 为外流河
- B. 流域面积广阔, 支流众多, 结冰期较长
- C. 流程长, 流过了湖北、江苏等省的行政中心
- D. 是我国南北交通大动脉, 被称为“黄金水道”

11. 图中水电站主要分布在

- A. 地势阶梯交界处 B. 长江中游河段
C. 长江中下游平原 D. 我国的内流区

12. 建设清洁能源走廊有利于

- ①为经济发展提供能源 ②减少非可再生能源的消耗
③改善大气环境质量 ④彻底解决长江水污染问题

- A. ①②③ B. ①②④ C. ①③④ D. ②③④

春回大地暖，春耕正当时。图5为我国2022年春耕春播时间示意图。读图，完成13~16题。

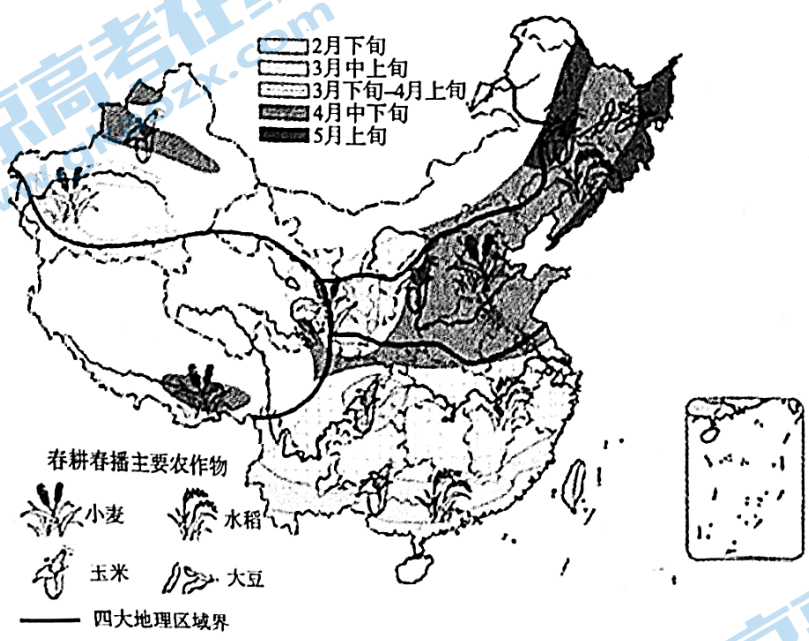


图5

13. 最早开始春耕春播的省级行政区有

- A. 江西省 B. 海南省 C. 吉林省 D. 山东省

14. 图中

- A. 北方地区3月中上旬播种大豆 B. 南方地区均在2月下旬种水稻
C. 西北地区在2月下旬播种玉米 D. 青藏地区4月中下旬播种小麦

15. 我国东部地区春耕春播时间差异的主要影响因素是

- A. 地形 B. 气温 C. 降水 D. 土壤

16. 春耕春播期间华北平原春旱严重，应对的合理措施有

- A. 开挖河道，引河流水大水漫灌 B. 地膜覆盖，减少土壤水分蒸发
C. 增加耕地面积，保证粮食产量 D. 大量施用农药，防治病虫害

陕北靠山式窑洞在天然土壁内开凿修建，是当地的传统民居。图6为靠山式窑洞景观图。读图，完成17~19题。




图6

17. 靠山式窑洞

- A. 依山而建
- B. 屋顶坡度大
- C. 木质结构
- D. 底层架空

18. 该建筑特点反映了当地

- A. 冬暖夏凉
- B. 降水较少
- C. 土层较薄
- D. 森林茂密

19. 保护和利用传统民居的合理措施有

- A. 居民易地搬迁，发展特色旅游
- B. 恢复原貌，维持传统生活方式
- C. 保留民居特色，传承地域文化
- D. 大量改建，满足现代生活需要

巴拿马地理位置重要，因巴拿马运河而被称为“运河之国”。图7为巴拿马地图。读图，完成20~22题。

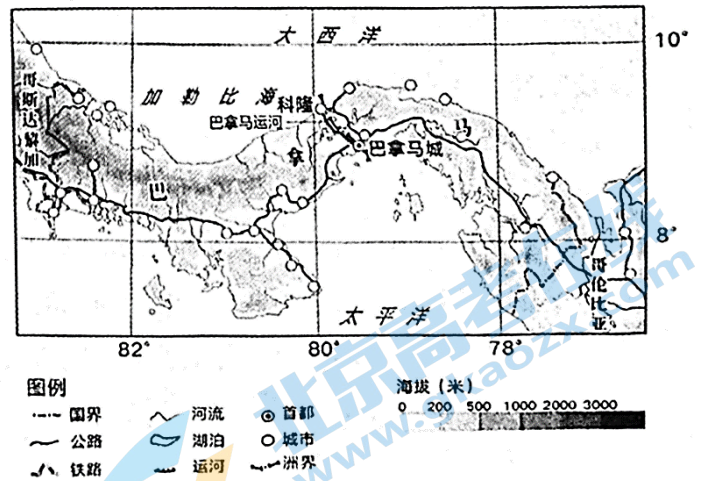


图7

20. 巴拿马西

- A. 首都科隆位于北部沿海
- B. 国内以航空运输为主
- C. 城市都分布在沿海地区
- D. 运河沟通大西洋和太平洋

21. 修建巴拿马运河最可能遇到的困难是

- A. 地形崎岖，海拔高
- B. 冬季寒冷，风沙大
- C. 高温难耐，易中暑
- D. 沙漠广布，运输难

22. 运河的通航

- ①缩短航程，降低运输成本
- ②促进区域之间的经济合作
- ③使所在国成为了发达国家
- ④促进世界海洋运输业发展

- A. ①②③
- B. ①②④
- C. ①③④
- D. ②③④

岛国汤加是火山地震多发的国家。2022年1月汤加境内发生火山喷发(20.6° S, 175.4° W)。图8为世界六大板块分布示意图。读图，完成23~25题。

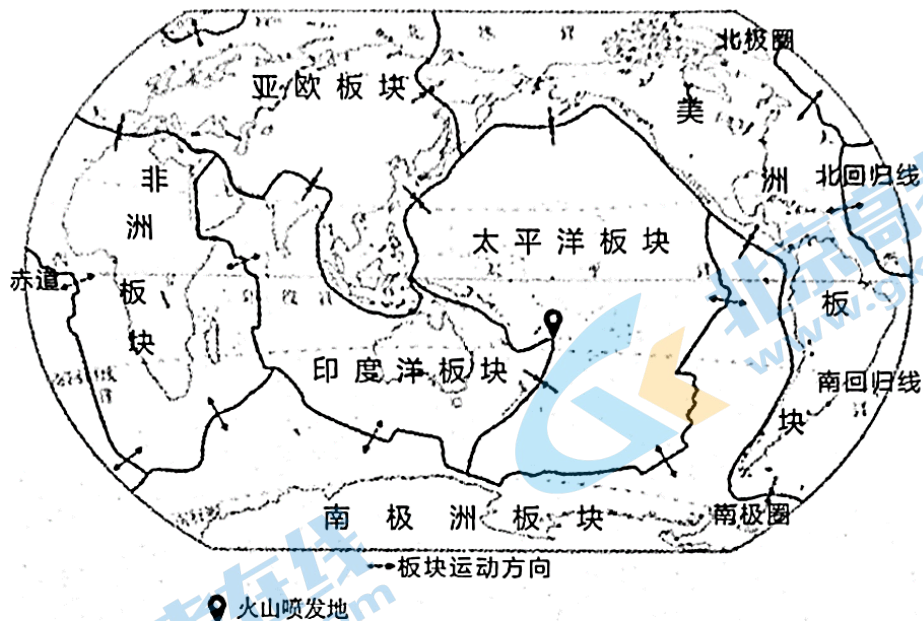


图 8

23. 汤加火山喷发地位于

- A. 西半球 B. 印度洋 C. 高纬度地区 D. 南温带

24. 汤加多火山是由于地处

- A. 太平洋板块内部
 B. 太平洋板块与南极洲板块交界处
 C. 太平洋板块与亚欧板块交界处
 D. 太平洋板块与印度洋板块交界处

25. 火山喷发后中国政府积极提供人道主义援助，援助物资最不可能是

- A. 瓶装水 B. 食品罐头 C. 帐篷 D. 羽绒服

第二部分

本部分共 4 题，共 45 分。

26. (13 分) 北京冬奥会的成功举办带动了我国 3 亿人投入冰雪运动，推动了冰雪事业的发展。图 9 为我国滑雪场和主要山脉分布图。阅读图文资料，回答下列问题。

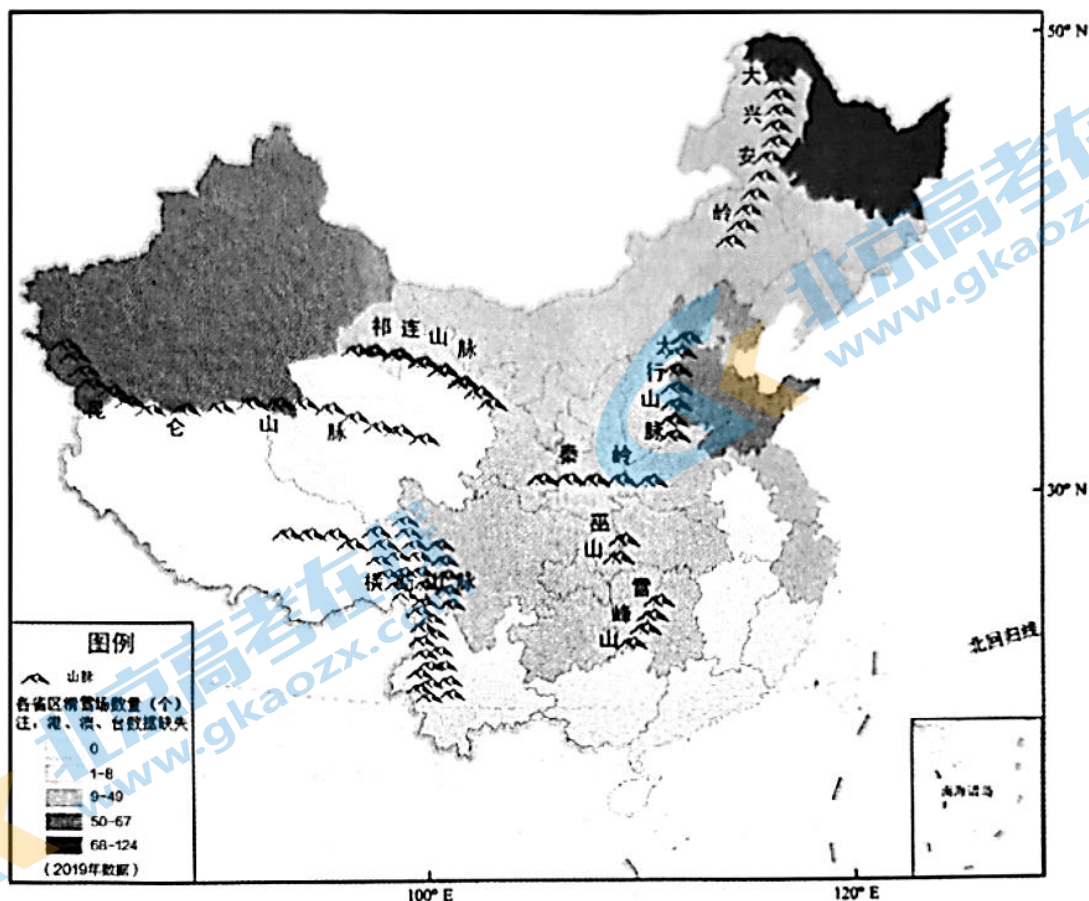


图9

(1) 我国滑雪场分布不均，_____、祁连山脉、_____等山脉以北地区滑雪场数量较多。南方地区滑雪场数量在1~8个的省级行政区有_____、_____等(填简称)

(2) 我国户外滑雪场数量最多的省级行政区是黑龙江省，当地纬度较_____，气温较_____，冬季较长，积雪不易融化，积雪保存时间_____，具有建设滑雪场的优势条件。西藏自治区气候寒冷，但目前没有滑雪场，试推测其可能原因：_____。(至少两点)

(3) 广东省的滑雪场多为室内滑雪场，这主要得益于_____。(双项选择)

- A. 人工造雪技术的发展
- B. 与日俱增的滑雪需求
- C. 天然起伏的地形优势
- D. 丰沛并且集中的降水

(4) 列举建设滑雪场、开展冰雪运动的积极影响。(至少两点)

27.(12分) 河南省洛阳市有“千年帝都，牡丹花城”的美誉。图10为洛阳市地形图。阅读图文资料，回答下列问题。

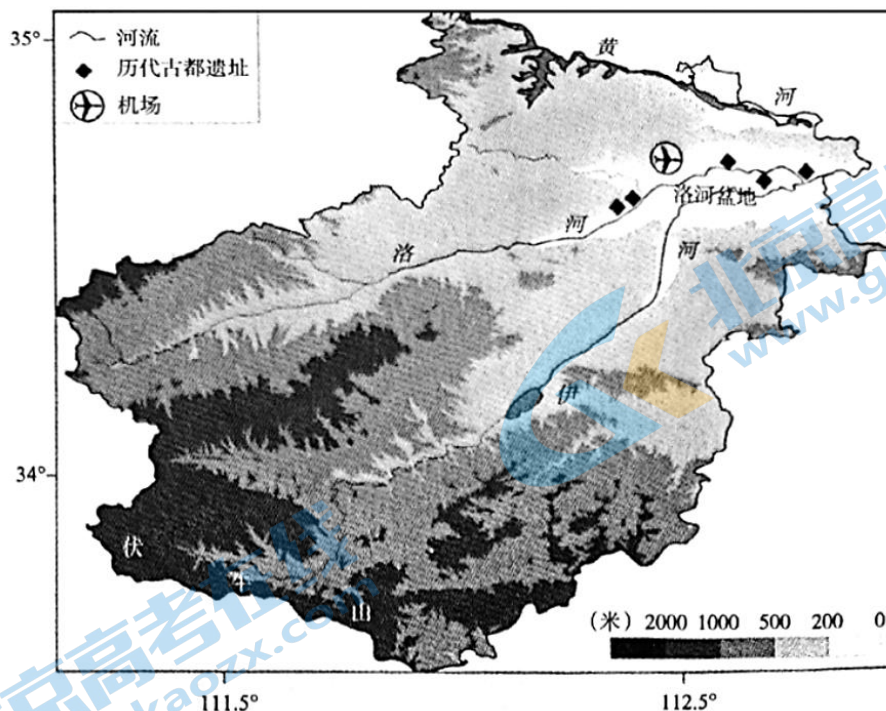


图 10

“欲问古今兴废事，请君只看洛阳城。”洛阳是著名古都，历史上许多朝代都曾在此建立都城。

(1) 读图分析历代古都选址洛阳的自然条件。

“洛阳牡丹甲天下”。洛阳牡丹的栽培始于隋，鼎盛于唐、宋。目前通过科技研发，洛阳已有九大色系的 1100 多个牡丹品种，除满足国内市场外，还开辟了国外市场，誉满天下。图 11 为牡丹的生长习性和洛阳市气温曲线和降水量柱状图。

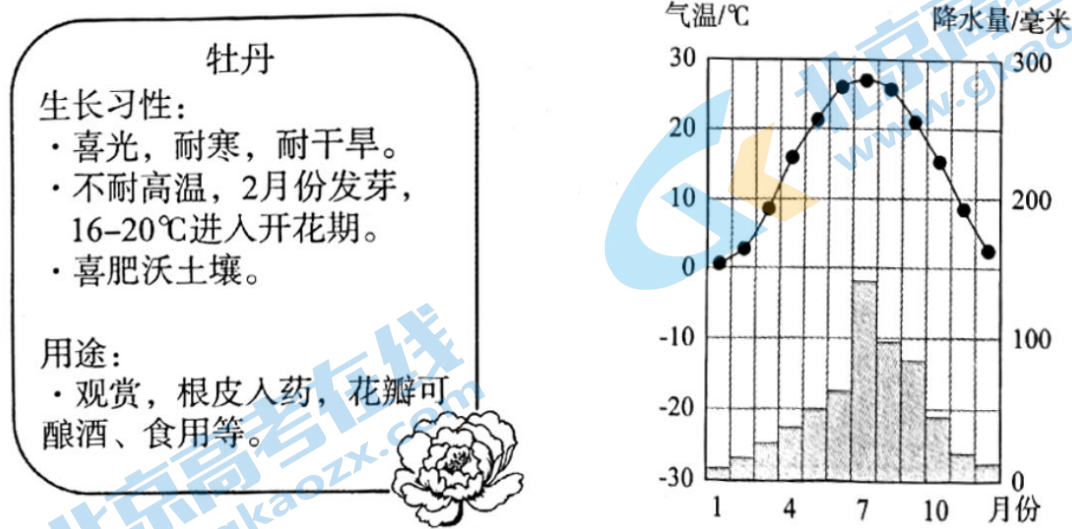
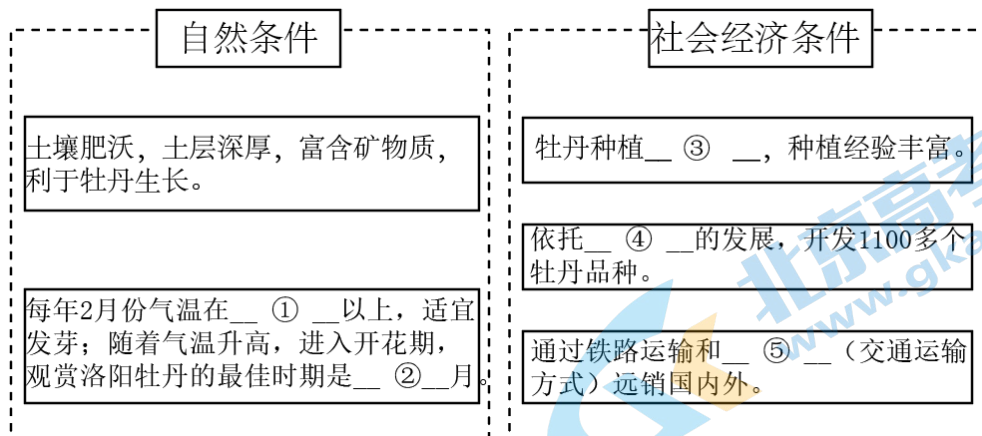



图 11

(2) 依据资料，分析“洛阳牡丹甲天下”的条件，完成填空。



“须是牡丹花盛发，满城方始乐无涯。”近年来，洛阳牡丹产业发展迅速。图12示意洛阳牡丹产业的发展举措。



牡丹花



牡丹鲜花饼



牡丹文创产品



中国·洛阳

牡丹花都

The Peony Capital

牡丹文化节

(3) 依据图12，说出洛阳发展牡丹产业的主要措施。（至少三点）

28. (10分) 随着人口增长、经济发展，中东地区水资源紧缺日益严重。图13为中东的水资源分布图，图14为麦地那气温曲线和降水量柱状图。阅读图文资料，回答下列问题。

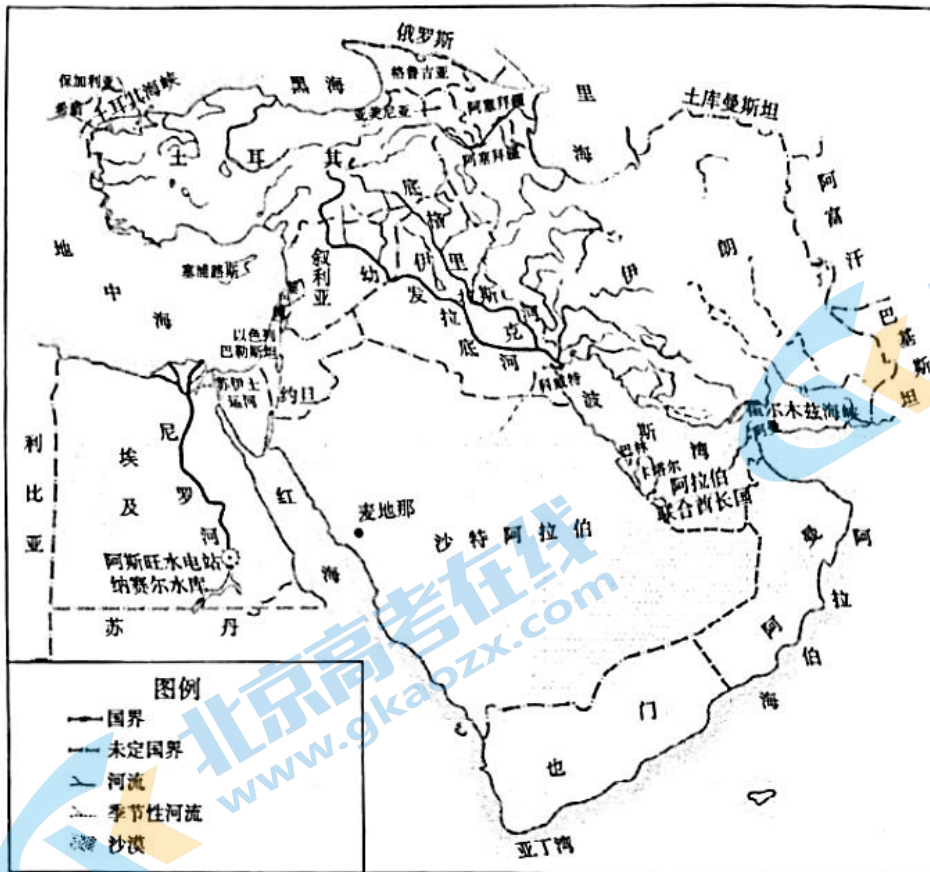


图 13

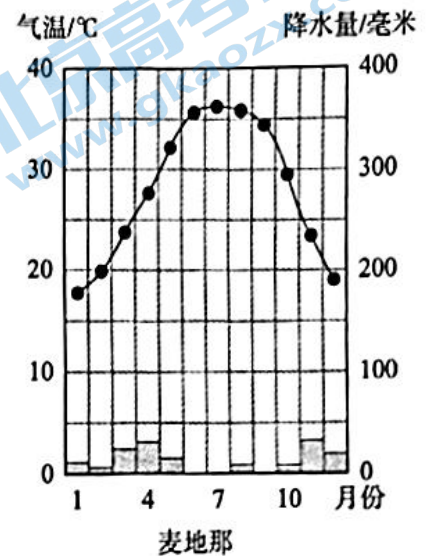


图 14

(1) 中东地区河流稀少，主要河流有_____河和_____河，它们主要流经土耳其、叙利亚、伊拉克等国。很多国家存在大面积的无流区，如_____（国家）等。

(2) 中东地区以热带沙漠气候为主，全年气温_____，蒸发_____，月降水量不超过_____，因此，河流水量_____。

中东地区的以色列长期以来大力发展节水技术，实现了从“缺水国”到“富水国”的转变。以色列建设有大量海水淡化工厂，使用反渗透膜技术，生产出来的水含盐度低、清澈度高，价格低廉。为解决南部沙漠地区农业发展受限的问题，以色列建造了“国家输水工程”，把北部地中海沿岸的水资源输送至南部，使得在沙漠中种植多种作物成为现实。以色列大力推广滴灌技术，将水直接输送到植物根部，只有4%的水因蒸发而浪费。污水在以色列被视为重要的国家资源，经过处理的污水占以色列农业用水的三分之一。

(3) 根据资料，概括以色列解决水资源短缺的具体措施。（至少三点）

29. (10分) 哥斯达黎加致力于成为实现“碳中和”的国家。图15为哥斯达黎加等高线地形图。阅读图文资料，回答下列问题。

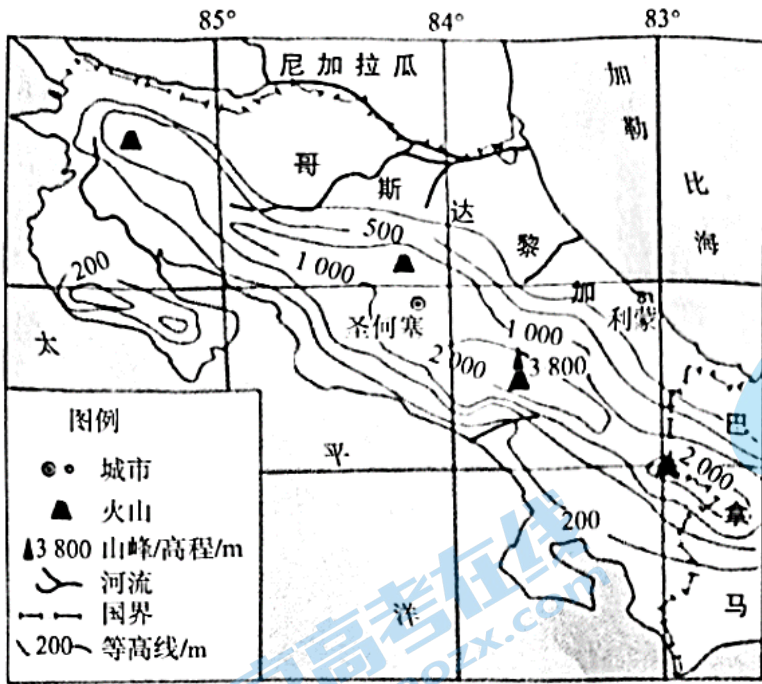
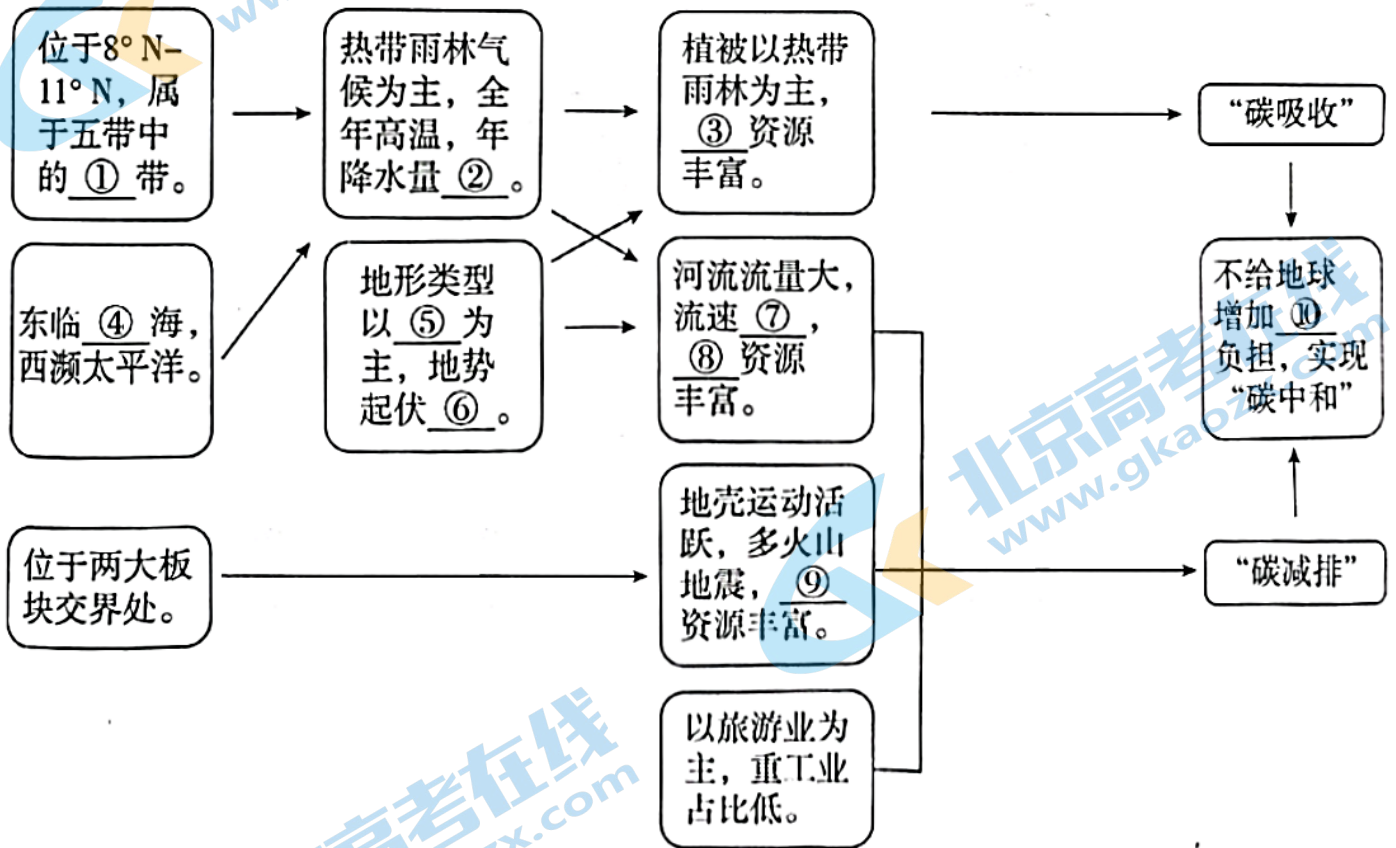



图 15

小资料：碳中和

所谓碳中和，简单来说就是不给地球环境增加二氧化碳负担。它是指通过植树造林、节能减排等方式抵消企业、个人在一定时间内直接或间接产生的二氧化碳排放总量，以实现二氧化碳“零排放”。



参考答案

第一部分

| | | | | | | | | | | |
|----|----|----|----|----|----|----|----|----|----|----|
| 题号 | 1 | 2 | 3 | 4 | 5 | 6 | 7 | 8 | 9 | 10 |
| 答案 | C | A | D | D | C | A | B | C | D | C |
| 题号 | 11 | 12 | 13 | 14 | 15 | 16 | 17 | 18 | 19 | 20 |
| 答案 | A | A | B | D | B | B | A | B | C | D |
| 题号 | 21 | 22 | 23 | 24 | 25 | | | | | |
| 答案 | C | B | A | D | D | | | | | |

第二部分

26. (1) 昆仑山脉 秦岭

皖、赣、闽、粤、桂、云/滇（任选其二）

(2) 高低长

略（答出两点，合理即可）

(3) A B

(4) 略（答出两点，合理即可）

27. (1) 从地形、河流、气候等自然条件角度分析原因。（答出两点，合理即可）如：位于洛阳盆地内部，地形平坦，易于城市建设；

靠近河流，水源丰富，水运（交通）便利等。

(2) ①0℃ ②4 ③历史悠久

④科技 ⑤航空运输

(3) 进行牡丹观赏，发展旅游业；

进行深加工，延长产业链；

开发牡丹周边产品，设计文创产品；

加大宣传力度，提高牡丹知名度（任选其三，合理即可）

28. (1) 幼发拉底 底格里斯

沙特阿拉伯\也门\阿曼等（任选其一）

(2) 高 大 50毫米 小

(3) 海水淡化，跨流域调水，采取滴灌等灌溉技术，污水处理、循环利用等

（任选其三，合理即可）

29. ①热 ②大 ③森林 ④加勒比 ⑤山地

⑥大 ⑦快 ⑧水能 ⑨地热⑩二氧化碳

关注北京高考在线官方微信：[北京高考资讯\(微信号:bjgkzx\)](#)，获取更多试题资料及排名分析信息。

2022 北京各区初三一模试题下载

北京高考资讯公众号整理【**2022 北京各区初三一模试题&答案**】，持续为大家进行分享。

想要下载练习各区各科试题答案，可以扫描下方二维码，进入试题答案汇总下载高清电子版文件。

扫描二维码进入试题答案汇总
下载电子版试题



还有更多**一模成绩、排名**等信息，考后持续分享
记得关注我们的公众号【**北京高考资讯 (ID : bjgkzx)**】！



微信搜一搜

北京高考资讯