

13. 已知角 α 的终边与单位圆 $x^2 + y^2 = 1$ 的交点为 $P\left(x, \frac{\sqrt{3}}{2}\right)$, 则 $\sin 2\alpha =$ _____.

14. 已知 $|\vec{a}|=1$, $|\vec{b}|=\sqrt{2}$, $\vec{a} \cdot \vec{b} = -1$, 若 $\vec{a} + t\vec{b}$ 与 $t\vec{a} + \vec{b}$ 的夹角为锐角, 则实数 t 的取值范围是 _____.

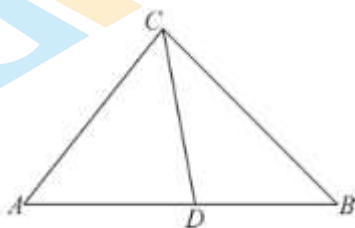
15. 在正方体 $ABCD - A'B'C'D'$ 中, O 为正方形 $A'B'C'D'$ 的中心. 动点 P 沿着线段 CO 从点 C 向点 O 移动, 有下列四个结论:

- ①存在点 P , 使得 $PA' = PB$
- ②三棱锥 $A' - BDP$ 的体积保持不变;
- ③ $\triangle PA'B$ 的面积越来越小;
- ④线段 $A'B$ 上存在点 Q , 使得 $PQ \perp A'B$, 且 $PQ \perp OC$.

其中所有正确结论的序号是 _____.

三、解答题共 6 小题. 解答应写出文字说明、演算步骤或证明过程.

16. 如图, 在 $\triangle ABC$ 中, D 为 AB 边上一点, 且 $DA = DC$, 已知 $B = \frac{\pi}{4}$, $BC = 1$.



(1) 若 $\triangle ABC$ 是锐角三角形, $DC = \frac{\sqrt{6}}{3}$, 求角 A 的大小;

(2) 若 $\triangle BCD$ 的面积为 $\frac{1}{6}$, 求 AB 的长.

17. 已知函数 $f(x) = \cos\left(2x - \frac{\pi}{6}\right) \left[\tan\left(x - \frac{\pi}{3}\right) - 1 \right]$.

(1) 求函数 $f(x)$ 的最大值.

(2) 若方程 $f(x) = -2$ 在 $[0, m]$ 上恰有 2 个解, 求 m 的取值范围.

18. 如图, 在三棱柱 $ABC - A_1B_1C_1$ 中, $CC_1 \perp$ 平面 ABC , D, E, F, G 分别为 AA_1, AC, A_1C_1, BB_1 的中点, $AB = BC = \sqrt{5}$, $AC = AA_1 = 2$.

参考答案

一、选择题共 10 小题. 在每小题列出的四个选项中, 选出符合题目要求的一项.

1. 【答案】D

【分析】化简集合 Q , 再根据交集的定义计算.

【详解】由 $Q = \left\{ x \in \mathbf{N} \mid \frac{x}{x-2} \leq 0 \right\}$, 则 $Q = \{0, 1\}$, 则 $P \cap Q = \{0, 1\}$.

故选: D

2. 【答案】A

【详解】 \because 等差数列 $\{a_n\}$ 中, $a_2 = 3, a_3 + a_4 = 9, \therefore a_2 + d + a_2 + 2d = 9 \Rightarrow d = 1$

$\therefore a_1 = a_2 - d = 2$

$a_6 = a_2 + 4d = 7, \therefore a_1 a_6 = 14$, 故选 A.

3. 【答案】A

【分析】根据正弦定理, 求出 $\sin B$ 的值, 然后根据大边对大角, 即可得到结果.

【详解】由正弦定理 $\frac{a}{\sin A} = \frac{b}{\sin B}$ 得,

$$\sin B = \frac{b \sin A}{a} = \frac{\sqrt{6} \sin \frac{\pi}{3}}{3} = \frac{\sqrt{2}}{2},$$

又因为 $b < a$,

所以 $B < A$, 故 B 为锐角, 所以 $B = \frac{\pi}{4}$,

故选: A.

4. 【答案】C

【详解】分析: 将函数的对称中心平移至原点即可得函数为奇函数.

详解: 由 $y = 2\cos\left(\frac{x}{3} + \frac{\pi}{6}\right)$, 令 $\frac{x}{3} + \frac{\pi}{6} = \frac{\pi}{2} + k\pi, k \in \mathbf{Z}$.

解得 $x = \pi + 3k\pi, k \in \mathbf{Z}$.

即对称中心为 $(\pi + 3k\pi, 0), k \in \mathbf{Z}$.

只需将 $y = 2\cos\left(\frac{x}{3} + \frac{\pi}{6}\right)$ 左移 π 个单位可得一个奇函数的图像,

故选 C.

点睛: 本题主要考查了三角函数的中心对称性和函数的左右平移, 属于中档题, 难度不大.

5. 【答案】B

【分析】结合正弦函数的性质由 $\sin A > \frac{1}{2}$ ，可得 $\frac{\pi}{6} < A < \frac{5\pi}{6}$ ，再根据充分条件和必要条件的定义判断即可.

【详解】在 $\triangle ABC$ 中， $A \in (0, \pi)$ ，

由 $\sin A > \frac{1}{2}$ ，可得 $\frac{\pi}{6} < A < \frac{5\pi}{6}$ ，

所以“ $A > \frac{\pi}{6}$ ”是“ $\sin A > \frac{1}{2}$ ”的必要不充分条件.

故选：B.

6. 【答案】D

【详解】A. $y = \frac{x}{2} + \frac{2}{x}$ ，当 $x < 0$ 时 $y \leq -2$ ，不满足；

B. $y = \frac{x+2}{\sqrt{x+1}} = \sqrt{x+1} + \frac{1}{\sqrt{x+1}} \geq 1$ ，当且仅当 $x=0$ 时成立，因为 $x > 0$ ，故等号不成立，不满足；

C. $y = \sin x + \frac{1}{\sin x}$ ， $0 < x < \frac{\pi}{2}$ ，所以 $\sin x \in (0, 1)$ ， $y = \sin x + \frac{1}{\sin x} > 2$ ，不满足；

D. $y = 7^x + 7^{-x} \geq 2\sqrt{7^x \times 7^{-x}} = 2$ ，当且仅当 $x=0$ 时成立，满足，


故选 D.

7. 【答案】C

【分析】先根据线面角的定义求得 $\tan \angle EMO = \tan \angle EGO = \frac{\sqrt{14}}{5}$ ，从而依次求 EO ， EG ， EB ， EF ，

再把所有棱长相加即可得解.

【详解】如图，过 E 做 $EO \perp$ 平面 $ABCD$ ，垂足为 O ，过 E 分别做 $EG \perp BC$ ， $EM \perp AB$ ，垂足分别为 G ， M ，连接 OG, OM ，



由题意得等腰梯形所在的面、等腰三角形所在的面与底面夹角分别为 $\angle EMO$ 和 $\angle EGO$ ，

所以 $\tan \angle EMO = \tan \angle EGO = \frac{\sqrt{14}}{5}$.

因为 $EO \perp$ 平面 $ABCD$ ， $BC \subset$ 平面 $ABCD$ ，所以 $EO \perp BC$ ，

因为 $EG \perp BC$ ， $EO, EG \subset$ 平面 EOG ， $EO \cap EG = E$ ，

所以 $BC \perp$ 平面 EOG ，因为 $OG \subset$ 平面 EOG ，所以 $BC \perp OG$ ，

同理： $OM \perp BM$ ，又 $BM \perp BG$ ，故四边形 $OMBG$ 是矩形，

所以由 $BC = 10$ 得 $OM = 5$, 所以 $EO = \sqrt{14}$, 所以 $OG = 5$,

所以在直角三角形 EOG 中, $EG = \sqrt{EO^2 + OG^2} = \sqrt{(\sqrt{14})^2 + 5^2} = \sqrt{39}$

在直角三角形 EBG 中, $BG = OM = 5$, $EB = \sqrt{EG^2 + BG^2} = \sqrt{(\sqrt{39})^2 + 5^2} = 8$,

又因为 $EF = AB - 5 - 5 = 25 - 5 - 5 = 15$,

所有棱长之和为 $2 \times 25 + 2 \times 10 + 15 + 4 \times 8 = 117 \text{ m}$.

故选: C

8. 【答案】D

【分析】对 $f(x) = \frac{\ln x}{x} (x > 0)$ 求导后根据题意可得 $\frac{1 - \ln x}{x^2} = -\frac{1}{k}$ 在 $(0, +\infty)$ 上有解. 令

$g(x) = \frac{1 - \ln x}{x^2} (x > 0)$, 求导判断单调性求得值域, 从而可得 $-\frac{1}{k} \geq -\frac{1}{2e^3}$, 求解即可.

【详解】对 $f(x) = \frac{\ln x}{x} (x > 0)$ 求导得 $f'(x) = \frac{1 - \ln x}{x^2} (x > 0)$,

当 $k = 0$ 时, 曲线 $f(x) = \frac{\ln x}{x}$ 不存在与直线 $y = kx$ 垂直的切线,

当 $k \neq 0$ 时, 若曲线 $f(x) = \frac{\ln x}{x}$ 存在与直线 $y = kx$ 垂直的切线,

只需 $\frac{1 - \ln x}{x^2} = -\frac{1}{k}$ 在 $(0, +\infty)$ 上有解.

令 $g(x) = \frac{1 - \ln x}{x^2} (x > 0)$, 求导得 $g'(x) = \frac{2 \ln x - 3}{x^3}$,

所以当 $0 < x < e^{\frac{3}{2}}$ 时, $g'(x) < 0$, 当 $x > e^{\frac{3}{2}}$ 时, $g'(x) > 0$,

所以 $g(x)$ 在 $(0, e^{\frac{3}{2}})$ 上单调递减, 在 $(e^{\frac{3}{2}}, +\infty)$ 上单调递增,

则 $g(x) \geq g(e^{\frac{3}{2}}) = -\frac{1}{2e^3}$, 且当 $x \rightarrow 0$ 时, $g(x) \rightarrow +\infty$,

所以 $-\frac{1}{k} \geq -\frac{1}{2e^3}$, 解得 $k \in (-\infty, 0) \cup [2e^3, +\infty)$,

所以 k 的取值范围是 $(-\infty, 0) \cup [2e^3, +\infty)$.

故选: D.

9. 【答案】C

【分析】设 $MP = tMN$, 则 $t \in (0, 1)$, 利用三角形相似得到 $\lambda = \frac{1-t}{2-t}$, $\mu = \frac{t}{1+t}$, 表达出

$\frac{1}{\lambda} + \frac{1}{\mu} = 2 + \frac{1}{t(1-t)}$, 利用基本不等式求出最值即可.

【详解】设 $MP = tMN$, 则 $t \in (0,1)$,

因为 M, N 分别为 AB, AC 边上的中点, 所以 $MN = \frac{1}{2}BC$, $AM = MB, AN = NC$,

故 $MP = \frac{1}{2}tBC$,

因为 $\triangle DMP \sim \triangle DBC$, 所以 $DM = \frac{1}{2}tBD$,

设 $BD = x$, 则 $DM = \frac{1}{2}tx, MB = x - \frac{1}{2}tx, AD = AM - DM = x - tx$,

故 $\frac{AD}{AB} = \frac{x-tx}{2x-tx} = \frac{1-t}{2-t}$, 故 $\lambda = \frac{1-t}{2-t}$,

同理可得 $NP = (1-t)MN$, $NP = \frac{1}{2}(1-t)BC$,

因为 $\triangle ENP \sim \triangle ECB$, 所以 $EN = \frac{1}{2}(1-t)EC$,

设 $EC = y$, 则 $EN = \frac{1}{2}(1-t)y, CN = y - \frac{1}{2}(1-t)y = \frac{1}{2}(1+t)y$,

$AC = (1+t)y, AE = (1+t)y - y = ty$,

故 $\frac{AE}{AC} = \frac{t}{1+t}, \mu = \frac{t}{1+t}$,

则 $\frac{1}{\lambda} + \frac{1}{\mu} = \frac{2-t}{1-t} + \frac{1+t}{t} = 1 + \frac{1}{1-t} + 1 + \frac{1}{t} = 2 + \frac{1}{1-t} + \frac{1}{t} = 2 + \frac{1}{t(1-t)}$

因为 $t \in (0,1)$, 由基本不等式得 $t(1-t) \leq \left(\frac{t+1-t}{2}\right)^2 = \frac{1}{4}$,

当且仅当 $t = 1-t$, 即 $t = \frac{1}{2}$ 时, 等号成立,

故 $\frac{1}{\lambda} + \frac{1}{\mu} = 2 + \frac{1}{t(1-t)} \geq 2 + 4 = 6$.

故选: C

10. 【答案】C

【分析】选项 ABD, 举特例数列验证可知错误; 选项 C, 由前 n 项和公式, 利用不等式性质放缩找到实数 M , 证明即可.

【详解】选项 A, 当 $q = 1$ 时, 数列 $\{a_n\}$ 为常数列,

$\{a_n\}$ 既不是递增数列，也不是递减数列，故 A 项错误；

选项 B，当 $a_1 = 1, q = -1$ 时， $S_{2023} = S_{2022} + 1 = 1 = a_1$ ，

满足条件 $a_1 > 0, a_1 \geq S_{2023}$ ，但 $q \notin (-1, 0)$ ，故 B 项错误；

选项 C，若 $q^2 < 1$ ，则 $-1 < q < 1$ 且 $q \neq 0, -1 < q^n < 1$ ，

故 $0 < 1 - q^n < 2, \frac{|a_1|}{1 - q} > 0$ ，

$$\text{则 } |S_n| = \left| \frac{a_1(1 - q^n)}{1 - q} \right| = \frac{|a_1|}{1 - q} (1 - q^n) \leq \frac{2|a_1|}{1 - q},$$

故存在实数 $M, M = \frac{2|a_1|}{1 - q}$ ，使得 $\forall n \in \mathbf{N}_+, |S_n| \leq M$ 。

选项 D，当 $q = 1$ 时， $a_1 = a_2 = a_3, a_2\sqrt{a_1 - a_3} = 0$ ，

满足条件 $a_2\sqrt{a_1 - a_3} \leq 0$ ，设 $a_n = 2$ ，

则 $S_n = 2n$ 无最大值，故 D 项错误。

故选：C。

二、填空题共 5 小题。

11. 【答案】 ①. 0 ②. -1

【分析】

【详解】解： $z = i(1 + ai) = ai^2 + i = -a + i$ ，

因为复数 $z = i(1 + ai)$ 为纯虚数，所以 $-a = 0$ ，即 $a = 0$ ，

所以 $z = i$ ，所以 $z^2 = i^2 = -1$

故答案为：0； -1

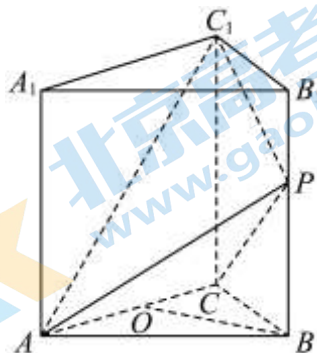
【点睛】一个复数的实部与虚部：

只需将已知的复数化为代数形式 $z = a + bi (a, b \in \mathbf{R})$ ，则该复数的实部为 a ，虚部为 b 。

12. 【答案】 $\frac{2\sqrt{3}}{3}$

【分析】利用线面垂直的判定定理确定三棱锥的高，再用锥体体积公式求解即可。

【详解】



取 AC 中点为 O , 连接 OB ,

因为 $\triangle ABC$ 为正三角形, 所以 $OB \perp AC$,

又因为 $AA_1 \perp$ 平面 ABC , $OB \subset$ 平面 ABC ,

所以 $AA_1 \perp OB$,

且 $AA_1 \cap AC = A, AA_1, AC \subset$ 平面 ACC_1A_1 ,

所以 $OB \perp$ 平面 ACC_1A_1 ,

$OB = \sqrt{4-1} = \sqrt{3}$, 即 B 到平面 ACC_1A_1 的距离为 $OB = \sqrt{3}$,

又因为 $BB_1 // AA_1, BB_1 \not\subset$ 平面 $ACC_1A_1, AA_1 \subset$ 平面 ACC_1A_1 ,

所以 $BB_1 //$ 平面 ACC_1A_1 ,

又因为 P 是棱 BB_1 上一点, 所以 P 到平面 ACC_1A_1 的距离为 $OB = \sqrt{3}$,

所以 $V_{P-ACC_1} = \frac{1}{3} \times S_{\triangle ACC_1} \times OB = \frac{2\sqrt{3}}{3}$,

故答案为: $\frac{2\sqrt{3}}{3}$.

13. 【答案】 $\pm \frac{\sqrt{3}}{2}$

【分析】由三角函数的定义, 求得 $\sin \alpha = \frac{\sqrt{3}}{2}$, 进而得到 $\cos \alpha = \pm \frac{1}{2}$, 再利用正弦的倍角公式, 即可求解, 得到答案.

【详解】由三角函数的定义, 可得 $\sin \alpha = \frac{\sqrt{3}}{2}$,

又由 $\sin^2 \alpha + \cos^2 \alpha = 1$, 解得 $\cos \alpha = \pm \frac{1}{2}$,

由正弦的二倍角公式得: $\sin 2\alpha = 2 \sin \alpha \cos \alpha = \pm \frac{\sqrt{3}}{2}$,

故答案为 $\pm \frac{\sqrt{3}}{2}$.

【点睛】本题主要考查了三角函数的定义, 以及倍角公式的化简求值问题, 其中解答中熟记三角函数的定义, 合理利用正弦的倍角公式, 准确运算是解答的关键, 着重考查了推理与运算能力, 属于基础题.

14. 【答案】 $\left(\frac{3-\sqrt{5}}{2}, 1\right) \cup \left(1, \frac{3+\sqrt{5}}{2}\right)$

【分析】利用数量积的定义, 再根据条件得到 $-t^2 + 3t - 1 > 0$, 从而得到 $\frac{3-\sqrt{5}}{2} < t < \frac{3+\sqrt{5}}{2}$, 再去掉

$\vec{a} + t\vec{b}$ 与 $t\vec{a} + \vec{b}$ 共线同向时, t 的取值, 即可求出结果.

【详解】因为 $\vec{a} + t\vec{b}$ 与 $t\vec{a} + \vec{b}$ 的夹角为锐角, 又 $\cos \angle(\vec{a} + t\vec{b}, t\vec{a} + \vec{b}) = \frac{(\vec{a} + t\vec{b}) \cdot (t\vec{a} + \vec{b})}{|\vec{a} + t\vec{b}| \cdot |t\vec{a} + \vec{b}|}$,

所以 $(\vec{a} + t\vec{b}) \cdot (t\vec{a} + \vec{b}) = t\vec{a}^2 + (1+t^2)\vec{a} \cdot \vec{b} + t\vec{b}^2 > 0$,

又 $|\vec{a}|=1$, $|\vec{b}|=\sqrt{2}$, $\vec{a} \cdot \vec{b} = -1$, 所以 $t - (1+t^2) + 2t = -t^2 + 3t - 1 > 0$,

解得 $\frac{3-\sqrt{5}}{2} < t < \frac{3+\sqrt{5}}{2}$, 又因 $\vec{a} + t\vec{b}, t\vec{a} + \vec{b} \in [0, \pi]$,

当 $\vec{a} + t\vec{b}, t\vec{a} + \vec{b} = 0$ 时, 也满足 $(\vec{a} + t\vec{b}) \cdot (t\vec{a} + \vec{b}) > 0$, 此时不合题意,

当 $\vec{a} + t\vec{b}$ 与 $t\vec{a} + \vec{b}$ 共线同向时, 有 $\vec{a} + t\vec{b} = \mu(t\vec{a} + \vec{b})$, 从而得到 $\begin{cases} 1 = \mu t \\ \mu = t \end{cases}$, 解得 $t = \pm 1$,

又 $-1 < \frac{3-\sqrt{5}}{2}$, 所以实数 t 的取值范围是 $\left(\frac{3-\sqrt{5}}{2}, 1\right) \cup \left(1, \frac{3+\sqrt{5}}{2}\right)$,

故答案为: $\left(\frac{3-\sqrt{5}}{2}, 1\right) \cup \left(1, \frac{3+\sqrt{5}}{2}\right)$.

15. 【答案】①②③

【分析】对于①③④, 以 A 为原点建立空间直角坐标系, 表示出 P 点坐标, 逐项分析即可;

对于②, 说明 CO 平行于平面 $A'BD$ 即可.

【详解】如图, 建立以 A 为原点的空间直角坐标系, 设正方体棱长为 2,

则 $A(0, 0, 0)$, $B(2, 0, 0)$, $A'(0, 0, 2)$, $C(2, 2, 0)$, $O(1, 1, 2)$.

$\vec{AC} = (2, 2, 0)$, $\vec{CO} = (-1, -1, 2)$

设 $\vec{CP} = \lambda \vec{CO} = (-\lambda, -\lambda, 2\lambda)$, 其中 $\lambda \in [0, 1]$.

则 $\vec{AP} = \vec{AC} + \vec{CP} = (2 - \lambda, 2 - \lambda, 2\lambda)$,

即 $P(2 - \lambda, 2 - \lambda, 2\lambda)$.

对于①, 假设存在点 P , 因 $PA' = PB$,

$$\text{则 } \sqrt{2(2-\lambda)^2 + 4(\lambda-1)^2} = \sqrt{\lambda^2 + (2-\lambda)^2 + 4\lambda^2}$$

$$\Rightarrow 6\lambda^2 - 16\lambda + 12 = 6\lambda^2 - 4\lambda + 4 \Rightarrow \lambda = \frac{2}{3}$$

即当 $\vec{CP} = \frac{2}{3}\vec{CO}$ 时, $PA' = PB$, 故①正确;

对于②, 取 BD 中点为 E , 连接 $A'O$, $A'E$, EC . 因 O 为正方形 $A'B'C'D'$ 的中心,

则 $A'O \parallel EC$ ，且 $A'O = EC$ ，故四边形 $A'ECO$ 为平行四边形，得 $A'E \parallel CO$ 。

又 $CO \not\subset$ 平面 $A'BD$ ， $A'E \subset$ 平面 $A'BD$ ，则 CO 平行于平面 $A'BD$ ，

即点 P 到平面 $A'BD$ 的距离 d 为定值。又 $V_{A'-BDP} = V_{P-A'DB} = \frac{1}{3} S_{\triangle A'DB} \cdot d$

三棱锥 $A' - BDP$ 的体积保持不变。故②正确。

对于③，设 $\angle A'BP = \theta$ ，则 $S_{\triangle PA'B} = \frac{1}{2} |\overrightarrow{BA'}| |\overrightarrow{BP}| \sin \theta$ ，注意到：

$$\sin \theta = \sqrt{1 - \cos^2 \langle \overrightarrow{BA'}, \overrightarrow{BP} \rangle} = \sqrt{1 - \left(\frac{\overrightarrow{BA'} \cdot \overrightarrow{BP}}{|\overrightarrow{BA'}| \cdot |\overrightarrow{BP}|} \right)^2} = \frac{\sqrt{|\overrightarrow{BA'}|^2 \cdot |\overrightarrow{BP}|^2 - (\overrightarrow{BA'} \cdot \overrightarrow{BP})^2}}{|\overrightarrow{BA'}| \cdot |\overrightarrow{BP}|}$$

$$\text{则 } S_{\triangle PA'B} = \frac{1}{2} \sqrt{|\overrightarrow{BA'}|^2 \cdot |\overrightarrow{BP}|^2 - (\overrightarrow{BA'} \cdot \overrightarrow{BP})^2}.$$

$$\text{又 } \overrightarrow{BA'} = (-2, 0, 2), \overrightarrow{BP} = (-\lambda, 2 - \lambda, 2\lambda),$$

$$\text{则 } S_{\triangle PA'B} = \frac{1}{2} \sqrt{8(6\lambda^2 - 4\lambda + 4) - 36\lambda^2} = \sqrt{3\left(\lambda - \frac{4}{3}\right)^2 + \frac{8}{3}},$$

因 $f(\lambda) = 3\left(\lambda - \frac{4}{3}\right)^2 + \frac{8}{3}$ 在 $[0, 1]$ 上递减，故当动点 P 沿着线段 CO 从点 C 向点 O 移动过程中，

$\triangle PA'B$ 的面积越来越小。故③正确。

对于④，假设存在满足题意的点 Q ，设 $\overrightarrow{BQ} = \mu \overrightarrow{BA'} = (-2\mu, 0, 2\mu)$ ，其中 $\mu \in [0, 1]$ 。

$$\text{则 } \overrightarrow{AQ} = \overrightarrow{AB} + \overrightarrow{BQ} = (2 - 2\mu, 0, 2\mu),$$

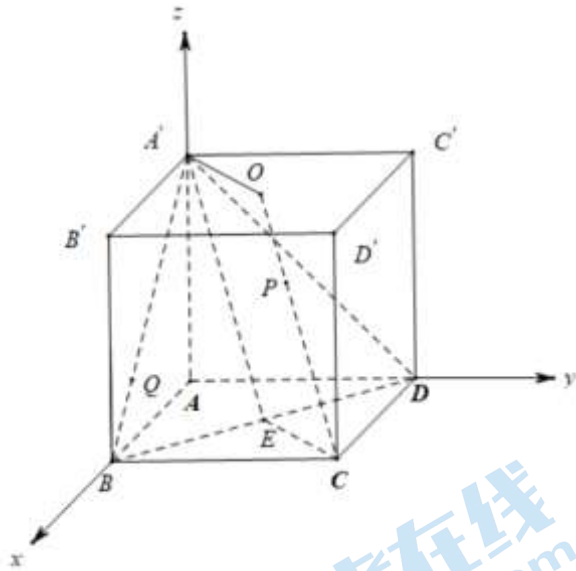
$$\text{即 } Q(2 - 2\mu, 0, 2\mu), \text{ 又 } P(2 - \lambda, 2 - \lambda, 2\lambda), \text{ 则 } \overrightarrow{PQ} = (\lambda - 2\mu, \lambda - 2, 2\mu - 2\lambda).$$

$$\text{因 } PQ \perp A'B, \text{ 且 } PQ \perp OC, \overrightarrow{A'B} = (2, 0, -2), \overrightarrow{OC} = (1, 1, -2),$$

$$\text{则 } \begin{cases} \overrightarrow{PQ} \cdot \overrightarrow{A'B} = 2\lambda - 4\mu + 4\lambda - 4\mu = 0 \\ \overrightarrow{PQ} \cdot \overrightarrow{OC} = \lambda - 2\mu + \lambda - 2 + 4\lambda - 4\mu = 0 \end{cases} \Rightarrow \begin{cases} \lambda = \frac{4}{3}, \\ \mu = 1 \end{cases}$$

因 $\lambda = \frac{4}{3} > 1$ ，与 $\lambda \in [0, 1]$ 矛盾，故不存在相应点 Q 。故④错误。

故答案为：①②③



【点睛】关键点点睛：本题为立体几何中的动点问题，难度较大.对于①③④，因直观图形较为复杂，故利用向量共线并引入参数表示出动点坐标.对于几何体体积不变问题，常转化为判断图形中是否存在线线平行或线面平行.

三、解答题共 6 小题. 解答应写出文字说明、演算步骤或证明过程.

16. 【答案】(1) $A = \frac{\pi}{3}$, (2) $\frac{\sqrt{5} + \sqrt{2}}{3}$.

【详解】【试题分析】(1)在 $\triangle BCD$ 中,利用正弦定理可求得 $\sin \angle BDC = \frac{\sqrt{3}}{2}$,得到 $\angle BDC = \frac{\pi}{3}$,利用等腰的性质可知 $A = \frac{\pi}{3}$.(2)利用三角形的面积公式可求得 BD ,利用余弦定理可求得 CD ,由此求得 AB 的长.

【试题解析】

(1) 在 $\triangle BCD$ 中, $B = \frac{\pi}{4}$, $BC = 1$, $DC = \frac{\sqrt{6}}{3}$, 由正弦定理得 $\frac{BC}{\sin \angle BDC} = \frac{CD}{\sin B}$,

解得 $\sin \angle BDC = \frac{1 \times \frac{\sqrt{2}}{2}}{\frac{\sqrt{6}}{3}} = \frac{\sqrt{3}}{2}$, 所以 $\angle BDC = \frac{\pi}{3}$ 或 $\frac{2\pi}{3}$.

因为 $\triangle ABC$ 是锐角三角形, 所以 $\angle BDC = \frac{2\pi}{3}$.

又 $DA = DC$, 所以 $A = \frac{\pi}{3}$.

(2) 由题意可得 $S_{\triangle BCD} = \frac{1}{2} \cdot BC \cdot BD \cdot \sin \frac{\pi}{4} = \frac{1}{6}$, 解得 $BD = \frac{\sqrt{2}}{3}$,

由余弦定理得 $CD^2 = BC^2 + BD^2 - 2BC \cdot BD \cdot \cos \frac{\pi}{4} = 1 + \frac{2}{9} - 2 \times 1 \times \frac{\sqrt{2}}{3} \times \frac{\sqrt{2}}{2} = \frac{5}{9}$, 解得 $CD = \frac{\sqrt{5}}{3}$,

则 $AB = AD + BD = CD + BD = \frac{\sqrt{5} + \sqrt{2}}{3}$.

所以 AB 的长为 $\frac{\sqrt{5} + \sqrt{2}}{3}$.

17. 【答案】(1) $\sqrt{2} - 1$;

(2) $\left[\frac{13\pi}{12}, \frac{25\pi}{12} \right)$.

【分析】(1) 利用倍角正余弦公式及辅助角公式化简 $f(x) = \sqrt{2} \sin\left(2x - \frac{5\pi}{12}\right) - 1$, 由正弦型函数的性质求最大值;

(2) 首先求出 $f(x) = -2$ 的解, 结合其定义域求出对应的前几个非负解, 再由已知确定参数范围即可.

【小问 1 详解】

$$f(x) = -\sin\left(2x - \frac{2\pi}{3}\right) \left[\tan\left(x - \frac{\pi}{3}\right) - 1 \right], \text{ 正切函数定义域知 } x \neq k\pi + \frac{5\pi}{6}, \text{ 即 } 2x - \frac{5\pi}{12} \neq 2k\pi + \frac{5\pi}{4} \text{ (} k \in \mathbb{Z} \text{)}.$$

$$\begin{aligned} &= -2 \sin\left(x - \frac{\pi}{3}\right) \cos\left(x - \frac{\pi}{3}\right) \tan\left(x - \frac{\pi}{3}\right) + \sin\left(2x - \frac{2\pi}{3}\right) \\ &= -2 \sin^2\left(x - \frac{\pi}{3}\right) + \sin\left(2x - \frac{2\pi}{3}\right) = \cos\left(2x - \frac{2\pi}{3}\right) + \sin\left(2x - \frac{2\pi}{3}\right) - 1 \\ &= \sqrt{2} \sin\left(2x - \frac{2\pi}{3} + \frac{\pi}{4}\right) - 1 = \sqrt{2} \sin\left(2x - \frac{5\pi}{12}\right) - 1, \end{aligned}$$

当 $2x - \frac{5\pi}{12} = 2k\pi + \frac{\pi}{2}$, 即 $x = k\pi + \frac{11\pi}{24}$ ($k \in \mathbb{Z}$) 时 $f(x)$ 取到最大值, $f(x)_{\max} = \sqrt{2} - 1$.

【小问 2 详解】

令 $f(x) = -2$, 得 $\sin\left(2x - \frac{5\pi}{12}\right) = -\frac{\sqrt{2}}{2}$, 故 $2x - \frac{5\pi}{12} = 2k\pi + \frac{5\pi}{4}$ 或 $2k\pi + \frac{7\pi}{4}$ ($k \in \mathbb{Z}$),

解得 $x = k\pi + \frac{5\pi}{6}$ 或 $x = k\pi + \frac{13\pi}{12}$ ($k \in \mathbb{Z}$).

注意到函数 $f(x)$ 的定义域为 $\left\{ x \in \mathbb{R} \mid x \neq k\pi + \frac{5\pi}{6}, k \in \mathbb{Z} \right\}$,

故 $f(x) = -2$ 的解为 $x = k\pi + \frac{13\pi}{12}$ ($k \in \mathbb{Z}$).

取 $k = -1, 0, 1$, 得到 $f(x) = -2$ 的前三个非负解为 $x_1 = \frac{\pi}{12}$, $x_2 = \frac{13\pi}{12}$, $x_3 = \frac{25\pi}{12}$.

因此, 若 $f(x) = -2$ 在 $[0, m]$ 上恰有 2 个解, 那么 $[0, m]$ 应当包含 x_1, x_2 而不包含 x_3 ,

所以 m 的取值范围是 $\left[\frac{13\pi}{12}, \frac{25\pi}{12}\right)$.

18. 【答案】(1) 证明见解析; (2) $-\frac{\sqrt{21}}{21}$; (3) 证明见解析.

【分析】(1) 由等腰三角形性质得 $AC \perp BE$, 由线面垂直性质得 $AC \perp CC_1$, 由三棱柱性质可得 $EF \parallel CC_1$, 因此 $EF \perp AC$, 最后根据线面垂直判定定理得结论;

(2) 根据条件建立空间直角坐标系, 设各点坐标, 利用方程组解得平面 BCD 一个法向量, 根据向量数量积求得两法向量夹角, 再根据二面角与法向量夹角相等或互补关系求结果;

(3) 根据平面 BCD 一个法向量与直线 FG 方向向量数量积不为零, 可得结论.

【详解】(1) 在三棱柱 $ABC-A_1B_1C_1$ 中,

$\because CC_1 \perp$ 平面 ABC , \therefore 四边形 A_1ACC_1 为矩形.

又 E, F 分别为 AC, A_1C_1 的中点, $\therefore AC \perp EF$.

$\because AB=BC, E$ 为 AC 的中点, $\therefore AC \perp BE$, 而 $BE \cap EF = E$,

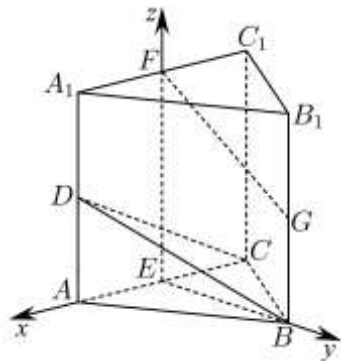
$\therefore AC \perp$ 平面 BEF .

(2) [方法一]: 【通性通法】向量法

由 (1) 知 $AC \perp EF, AC \perp BE, EF \parallel CC_1$. 又 $CC_1 \perp$ 平面 ABC , $\therefore EF \perp$ 平面 ABC .

$\because BE \subset$ 平面 ABC , $\therefore EF \perp BE$.

如图建立空间直角坐标系 $E-xyz$.



由题意得 $B(0, 2, 0), C(-1, 0, 0), D(1, 0, 1), F(0, 0, 2), G(0, 2, 1)$.

$\therefore \overrightarrow{CD} = (2, 0, 1), \overrightarrow{CB} = (1, 2, 0)$,

设平面 BCD 的法向量为 $\vec{n} = (a, b, c)$,

$$\therefore \begin{cases} \vec{n} \cdot \overrightarrow{CD} = 0 \\ \vec{n} \cdot \overrightarrow{CB} = 0 \end{cases}, \therefore \begin{cases} 2a + c = 0 \\ a + 2b = 0 \end{cases},$$

令 $a=2$, 则 $b=-1, c=-4$,

\therefore 平面 BCD 的一个法向量 $\vec{n} = (2, -1, -4)$,

又∵平面 CDC_1 的一个法向量为 $\vec{EB}=(0,2,0)$, $\therefore \cos\langle \vec{n}, \vec{EB} \rangle = \frac{\vec{n} \cdot \vec{EB}}{|\vec{n}| |\vec{EB}|} = -\frac{\sqrt{21}}{21}$.

由图可得二面角 $B-CD-C_1$ 为钝角, 所以二面角 $B-CD-C_1$ 的余弦值为 $-\frac{\sqrt{21}}{21}$.

[方法二]: 【最优解】转化+面积射影法

考虑到二面角 $B-CD-A$ 与二面角 $B-CD-C_1$ 互补, 设二面角 $B-CD-C_1$ 为 θ , 易知 $DC = \sqrt{5}$,

$DB = \sqrt{6}$, 所以 $S_{\triangle DCE} = \frac{1}{2}, S_{\triangle DCB} = \frac{\sqrt{21}}{2}$.

故 $\cos\theta = -\frac{S_{\triangle DCE}}{S_{\triangle DCB}} = -\frac{\frac{1}{2}}{\frac{\sqrt{21}}{2}} = -\frac{\sqrt{21}}{21}$.

[方法三]: 转化+三垂线法

二面角 $B-CD-A$ 与二面角 $B-CD-C_1$ 互补, 并设二面角 $B-CD-A$ 为 θ , 易知 $BE \perp$ 平面 ACD .

如图3, 作 $EH \perp CD$, 垂足为 H , 联结 BH . 则 $\angle BHE$ 是二面角 $B-CD-A$ 的平面角, 所以

$\angle BHE = \theta$, 不难求出 $\cos\theta = \frac{\sqrt{21}}{21}$, 所以二面角 $B-CD-C_1$ 的余弦值为 $-\frac{\sqrt{21}}{21}$.

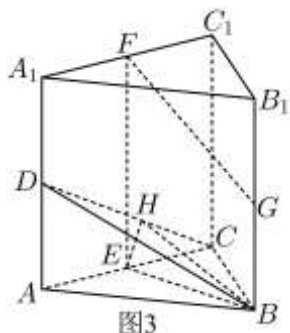


图3

(3) [方法一]: 【最优解】【通性通法】向量法

平面 BCD 的一个法向量为 $\vec{n}=(2,-1,-4)$, $\because G(0,2,1), F(0,0,2)$,

$\therefore \vec{GF}=(0,-2,1)$, $\therefore \vec{n} \cdot \vec{GF} = -2$, $\therefore \vec{n}$ 与 \vec{GF} 不垂直,

$\therefore GF$ 与平面 BCD 不平行且不在平面 BCD 内, $\therefore GF$ 与平面 BCD 相交.

[方法二]: 几何转化

如图4, 取 A_1B_1 的中点 G' , 分别在 BB_1, CC_1 取点 N, M , 使 $4B_1N = BB_1, 4C_1M = CC_1$. 联结

$FG', G'N, NM, FM$. 则平面 $DCB \parallel$ 平面 $FGNM$, 又 $FM \subset$ 平面 $FGNM$, $FG \not\subset$ 平面 $FGNM$, 故直线 FG 与平面 BCD 相交.

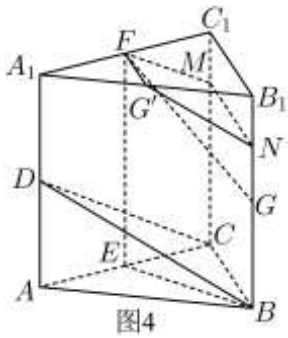


图4

[方法三]: 根据相交的平面定义

如图5, 设 CD 与 EF 交于 P , 联结 PB .

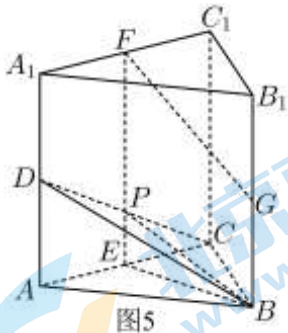


图5

因为 $EF \parallel BB_1$, 且 $EF = BB_1$, 所以 B, E, F, B_1 四点共面.

因为 $PF = \frac{3}{4}EF, BG = \frac{1}{2}BB_1$, 所以 $PF \neq BG$.

又 $PF \parallel BG$, 所以四边形 $PFGB$ 是梯形, 即直线 FG 与直线 BP 一定相交.

因为 $BP \subset$ 平面 BCD , 所以直线 FG 与平面 BCD 相交.

【整体点评】(2) 方法一: 直接利用向量法求出, 属于通性通法;

方法二: 根据二面角 $B-CD-A$ 与二面角 $B-CD-C_1$ 互补, 通过转化求二面角 $B-CD-A$, 利用面积射影法求出, 是该问的最优解;

方法三: 根据二面角 $B-CD-A$ 与二面角 $B-CD-C_1$ 互补, 通过转化求二面角 $B-CD-A$, 利用三垂线法求出;

(3) 方法一: 利用向量证明平面的法向量与直线的方向向量不垂直即可, 既是该问的通性通法, 也是最优解;

方法二: 通过证明与平面 BCD 平行的平面与直线 FG 相交证出;

方法三: 构建过直线 FG 且与平面 BCD 相交的平面, 通过证明直线 FG 与交线相交证出.

19. 【答案】(1) 离心率为 $\frac{\sqrt{2}}{2}$, $\triangle DEF$ 的面积为 $2 + \sqrt{2}$;

(2) 见解析.

【分析】(1) 根据椭圆经过点 $E(2, \sqrt{2})$ 可求出 $a = 2\sqrt{2}$, 从而可求离心率, 求出 D, F 的坐标, 从而可求 $\triangle DEF$ 的面积;

(2) 设 $A(x_1, y_1), B(x_2, y_2)$, 则 $G(x_2, 4)$, 联立 $\begin{cases} \frac{x^2}{8} + \frac{y^2}{4} = 1 \\ y = kx + 1 \end{cases}$, 可得 $kx_1x_2 = \frac{3}{2}(x_1 + x_2)$, AG 的方程为

$$y - 4 = \frac{4 - y_1}{x_2 - x_1}(x - x_2), \text{ 令 } x = 0, \text{ 得 } y = \frac{kx_1x_2 + x_2 - 4x_1}{x_2 - x_1}, \text{ 代入 } kx_1x_2 = \frac{3}{2}(x_1 + x_2) \text{ 化简即可求解.}$$

【小问 1 详解】

因为 $\frac{x^2}{a^2} + \frac{y^2}{4} = 1 (a > 0)$ 经过点 $E(2, \sqrt{2})$, 所以 $\frac{4}{a^2} + \frac{2}{4} = 1 (a > 0)$, 解得 $a = 2\sqrt{2}$.

所以椭圆 $C: \frac{x^2}{8} + \frac{y^2}{4} = 1, c = \sqrt{8 - 4} = 2$,

所以 $e = \frac{c}{a} = \frac{2}{2\sqrt{2}} = \frac{\sqrt{2}}{2}$.

因为 $D(-2\sqrt{2}, 0), F(2, 0), E(2, \sqrt{2})$,

所以 $S_{\triangle DEF} = \frac{1}{2}(2\sqrt{2} + 2) \times \sqrt{2} = 2 + \sqrt{2}$.

【小问 2 详解】

设 $A(x_1, y_1), B(x_2, y_2)$, 则 $G(x_2, 4)$,

则 AG 的方程为 $y - 4 = \frac{4 - y_1}{x_2 - x_1}(x - x_2)$,

令 $x = 0$, 则 $y = \frac{-x_2[4 - (ky_1 + 1)]}{x_2 - x_1} + \frac{4x_2 - 4x_1}{x_2 - x_1} = \frac{kx_1x_2 + x_2 - 4x_1}{x_2 - x_1}$ ①.

联立 $\begin{cases} \frac{x^2}{8} + \frac{y^2}{4} = 1 \\ y = kx + 1 \end{cases}$, 可得 $(1 + 2k^2)x^2 + 4kx - 6 = 0$,

因为 $y = kx + 1$ 过定点 $(0, 1)$, $(0, 1)$ 在椭圆内, 所以 $y = kx + 1$ 与椭圆恒有两个交点,

故 $\Delta > 0$, $\begin{cases} x_1 + x_2 = -\frac{4k}{1 + 2k^2} \\ x_1x_2 = -\frac{6}{1 + 2k^2} \end{cases}$

所以 $kx_1x_2 = -\frac{6k}{1 + 2k^2} = \frac{3}{2}(x_1 + x_2)$.

代入①, 可得 $y = \frac{\frac{3}{2}(x_1 + x_2) + x_2 - 4x_1}{x_2 - x_1} = \frac{-\frac{5}{2}x_1 + \frac{5}{2}x_2}{x_2 - x_1} = \frac{5}{2}$,

故直线 AG 是否与 y 轴交于定点 $(0, \frac{5}{2})$.

【点睛】定点定值点睛：

(1)从特殊入手，求出定值，再证明这个值与变量无关.

(2)直接推理、计算，并在计算推理的过程中消去变量，从而得到定值.

20. 【答案】(1) $x + y - 1 = 0$

(2) 见解析 (3) 证明见解析

【分析】(1) 根据导数的几何意义求出切线斜率即可得解；

(2) 求出函数导数，分类讨论得函数单调性，根据单调性求函数极值即可；

(3) 根据(2)判断函数大致变化趋势，由函数零点个数即函数图象与 x 轴交点个数可证明.

【小问1详解】

当 $a = 1$ 时， $f(x) = e^x(x-1)^2$ ， $f'(x) = e^x(x^2 - 1)$ ，

所以 $k = f'(0) = e^0(0^2 - 1) = -1$ ，

又 $f(0) = e^0(0-1)^2 = 1$ ，

所以切线方程为 $y - 1 = -(x - 0)$ ，即 $x + y - 1 = 0$.

【小问2详解】

$f'(x) = ae^{ax}(x-1)^2 + 2e^{ax}(x-1) = e^{ax}(x-1)(ax - a + 2)$ ，

当 $a = 0$ 时， $f'(x) = 2(x-1) = 0$ ，解得 $x = 1$ ，

故 $x < 1$ 时， $f'(x) < 0$ ， $f(x)$ 单调递减； $x > 1$ 时， $f'(x) > 0$ ， $f(x)$ 单调递增，

故 $x = 1$ 时， $f(x)$ 的极小值为 $f(1) = 0$ ，无极大值；

当 $a > 0$ 时，令 $f'(x) = 0$ ，解得 $x_1 = 1$ ， $x_2 = 1 - \frac{2}{a}$ ，

故当 $x < 1 - \frac{2}{a}$ 或 $x > 1$ 时， $f'(x) > 0$ ， $f(x)$ 单调递增，

当 $1 - \frac{2}{a} < x < 1$ 时， $f'(x) < 0$ ， $f(x)$ 单调递减，

故 $f(x)$ 的极大值为 $f(1 - \frac{2}{a}) = e^{a-2} \left(\frac{2}{a}\right)^2 = \frac{4e^{a-2}}{a^2}$ ，极小值为 $f(1) = 0$ ；

当 $a < 0$ 时，令 $f'(x) = 0$ ，解得 $x_1 = 1$ ， $x_2 = 1 - \frac{2}{a}$ ，

故当 $x < 1$ 或 $x > 1 - \frac{2}{a}$ 时， $f'(x) < 0$ ， $f(x)$ 单调递减，

当 $1 < x < 1 - \frac{2}{a}$ 时， $f'(x) > 0$ ， $f(x)$ 单调递增，

故 $f(x)$ 的极大值为 $f(1 - \frac{2}{a}) = e^{a-2} \left(\frac{2}{a}\right)^2 = \frac{4e^{a-2}}{a^2}$ ，极小值为 $f(1) = 0$ ；

综上, 当 $a=0$ 时, $f(x)$ 的极小值为 $f(1)=0$, 无极大值; 当 $a \neq 0$ 时, $f(x)$ 的极大值为

$$f\left(1-\frac{2}{a}\right) = \frac{4e^{a-2}}{a^2}, \text{ 极小值为 } f(1)=0.$$

【小问 3 详解】

当 $a > 0$ 时, 由 (2) 知, $f(x)$ 在 $(-\infty, 1-\frac{2}{a})$ 和 $(1, +\infty)$ 上单调递增,

在 $(1-\frac{2}{a}, 1)$ 上单调递减, 且 $x < 1$ 时, $f(x) = e^{ax}(x-1)^2 > 0$ 恒成立,

$x \rightarrow +\infty$ 时, $f(x) = e^{ax}(x-1)^2 \rightarrow +\infty$,

又 $f(x)$ 的极大值为 $f(1-\frac{2}{a}) = \frac{4e^{a-2}}{a^2}$, 极小值为 $f(1)=0$,

所以存在实数 $0 < M < \frac{4e^{a-2}}{a^2}$ 时, 函数 $y = f(x) - M$ 有三个零点.

21. 【答案】(1) $a_{1,3}=1, a_{2,2}=3, a_{3,1}=-1$

(2) 证明见详解 (3) 证明见详解

【分析】(1) 根据题意解答即可;

(2) 令 $b_{1,s} = \sum_{j=1}^s a_{1,j} - s (s=1, 2, \dots, n, n+1)$, 根据题意找到 $b_{1,k}$ 的不等式即可;

(3) 本质是找到数表 $[b_{i,s}]$ 中某一行, 满足该行的每一个数都小于等于 0 即可.

【小问 1 详解】

$$a_{1,3} = 3 - a_{1,1} - a_{1,2} = 1,$$

$$a_{2,2} = a_{1,1} = 3,$$

$$a_{3,1} = a_{2,3} = a_{1,2} = -1;$$

【小问 2 详解】

$$\text{令 } b_{1,s} = \sum_{j=1}^s a_{1,j} - s (s=1, 2, \dots, n, n+1)$$

由题意 $b_{1,k} = \max\{b_{1,1}, b_{1,2}, \dots, b_{1,n}\} (k=1, 2, \dots, n)$,

所以一定有 $b_{1,k} \geq b_{1,k+1}$, 即 $\sum_{j=1}^k a_{1,j} - k \geq \sum_{j=1}^{k+1} a_{1,j} - (k+1)$,

所以 $-k \geq a_{1,k+1} - k - k$, 所以 $a_{1,k+1} - 1 \leq 0$;

【小问 3 详解】

由题意, 对任意 $i=1, 2, \dots, n$ 均有 $\sum_{j=1}^n a_{i,j} = n$, 且类似于 (2), 令

$$b_{i,s} = \sum_{j=1}^s a_{i,j} - s (s=1,2,\dots,n), \text{ 其中 } b_{i,n} = \sum_{j=1}^n a_{i,j} - n = n - n = 0,$$

而 $1 \leq s \leq n-1$ 时, 有

$$b_{i,s} = \sum_{j=1}^s a_{i,j} - s = \sum_{j=2}^{s+1} a_{i+1,j-s} - s = \sum_{j=1}^{s+1} a_{i+1,j} - a_{i+1,1} - s,$$

$$\text{有 } b_{i,s} = \sum_{j=1}^{s+1} a_{i+1,j} - (s+1) - a_{i+1,1} + 1 = b_{i+1,s+1} - b_{i+1,1},$$

所以当 $\max_{1 \leq j \leq n} b_{i,j} = b_{i,k} (k=1,2,\dots,n)$ 时, 可推出 $\max_{2 \leq j \leq n} \{ \max(b_{i+1,j} - b_{i+1,1}), 0 \} = b_{i+1,k+1} - b_{i+1,1}$,

$$\text{所以 } \max_{2 \leq j \leq n} \{ \max(b_{i+1,j}, b_{i+1,1}) \} = \max_{i+1,j} b_{i+1,j} = b_{i+1,k+1},$$

假设 $\max_{1 \leq j \leq n} b_{1,j} = b_{1,k} (k=1,2,\dots,n)$, 则有

$$\max_{1 \leq j \leq n} b_{2,j} = b_{2,k+1}, \text{ 即 } \max_{1 \leq j \leq n} b_{3,j} = b_{3,k+2},$$

$$\text{所以 } \max_{1 \leq j \leq n} b_{n-k+1,j} = b_{n-k+1,n},$$

由于 $n-k+1 = n, (n-1), \dots, 1$, 符合 i 的取值, 这样的递推存在,

所以 $\exists m = n-k+1$, 使得任意的 $l \in \{1, 2, \dots, n\}$ 均有

$$b_{m,l} \leq \max_{1 \leq j \leq n} b_{m,j} = b_{m,n} = 0,$$

$$\text{即 } \sum_{j=1}^l a_{m,j} - l \leq 0, \text{ 即 } a_{m,1} + a_{m,2} + \dots + a_{m,l} \leq l.$$

【点睛】 关键点点睛: 本题关键在于理清题目条件, 根据条件求解即可.

关于我们

北京高考在线创办于 2014 年，隶属于北京太星网络科技有限公司，是北京地区极具影响力的中学升学服务平台。主营业务涵盖：北京新高考、高中生涯规划、志愿填报、强基计划、综合评价招生和学科竞赛等。

北京高考在线旗下拥有网站门户、微信公众平台等全媒体矩阵生态平台。平台活跃用户 50W+，网站年度流量数千万量级。用户群体立足于北京，辐射全国 31 省市。

北京高考在线平台一直秉承“精益求精、专业严谨”的建设理念，不断探索“K12 教育+互联网+大数据”的运营模式，尝试基于大数据理论为广大中学和家长提供新鲜的高考资讯、专业的高考政策解读、科学的升学规划等，为广大高校、中学和教科研单位提供“衔接和桥梁纽带”作用。

平台自创办以来，为众多重点大学发现和推荐优秀生源，和北京近百所中学达成合作关系，累计举办线上线下升学公益讲座数千场，帮助数十万考生顺利通过考入理想大学，在家长、考生、中学和社会各界具有广泛的口碑影响力

未来，北京高考在线平台将立足于北京新高考改革，基于对北京高考政策研究及北京高校资源优势，更好的服务全国高中家长和学生。

推荐大家关注北京高考在线网站官方微信公众号：**京考一点通**，我们会持续为大家整理分享最新的高中升学资讯、政策解读、热门试题答案、招生通知等内容！

