

2018 北京师大附中高二（下）期末

政 治（文）

试卷说明：

本试卷分为第 I 卷和第 II 卷两部分，满分 100 分，考试时间 90 分钟。

第 I 卷（共 45 分）

一、选择题（本大题共 30 小题，每题 1.5 分，共计 45 分。在每小题的四个选项中，只有一项是符合题意的。）

1. 2016 年 10 月以来，人民币对美元汇率持续下跌，至 11 月 14 日人民币对美元汇率中间价报 6.8291 元，较前一交易日大幅下调 176 个基点。如果人民币持续贬值将使

- A. 进口商品变得便宜
- B. “海外代购”费用下降
- C. 出口企业价格竞争力提升
- D. 出国留学费用降低

2. “巨无霸指数”是《经济学家》杂志根据麦当劳巨无霸汉堡在各地的售价，测算汇率的一种非正式指数。以巨无霸价格测算美元兑人民币的汇率(E)，其公式为：

$$E = \frac{\text{汉堡在中国的售价（人民币）}}{\text{汉堡在美国的售价（美元）}}$$

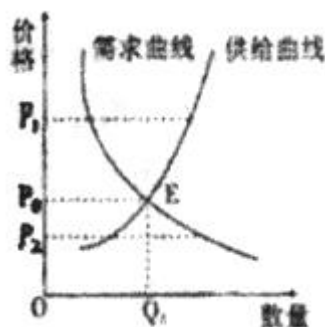
假设其它条件不变，导致 E 上升的是

- A. 汉堡在中国需求增加
- B. 美国增加货币发行量
- C. 人民币的购买力上升
- D. 汉堡在美国售价上升

3. 2017 年某企业的生产条件处于全行业平均水平，其单位产品的价值量为 132 元，产量为 10 万件。如果 2018 年该企业的劳动生产率提高 10%，而全行业的劳动生产率提高 20%，其他条件不变，则该企业 2018 年生产的商品价值总量为

- A. 1210 万元
- B. 1320 万元
- C. 1452 万元
- D. 1100 万元

4. 下图曲线反映某种商品价格和需求、供给的关系，不考虑其他因素，可以推断

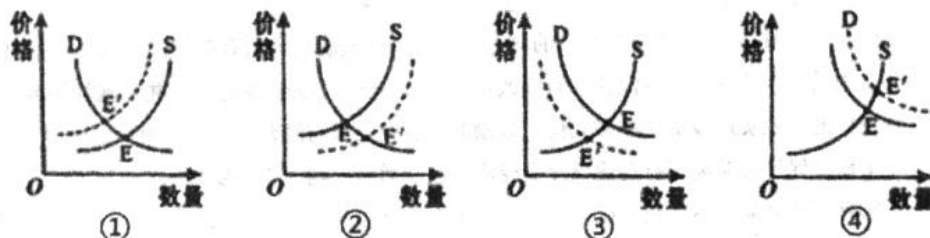


①价格在 P1 时，该商品处于卖方市场状态下

②价格在 P2 时，生产者将缩小生产规模

- ③价格 $P_2 \rightarrow P_0$ 时, 该商品的替代品需求量上升
 - ④需求曲线不变, 该商品劳动生产率提高, E 点将向右下方移动
- A. ①② B. ②③ C. ①④ D. ③④

5. 下图所示, 新能源汽车的需求曲线(D)和供给曲线(S)相交于E点。随着技术的进步, 新能源汽车的电池成本近三年下降了三分之一, 预计再过三年可能下降一半左右, 在其他条件不变的情况下, 会引起E点向E'点方向移动。正确反映这一变化的曲线图是

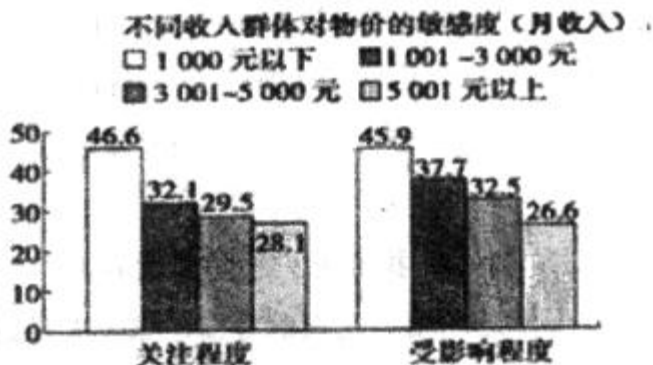


- A. ① B. ② C. ③ D. ④

6. 据《中国年货大数据报告》显示, 在买洋年货方面, 农村地区的消费者偏重于食品和母婴用品, 城里人则偏好高档美妆日化品。这表明城乡居民

- A. 消费增长率同步提高 B. 消费需求日趋一致
- C. 收入预期呈缩小趋势 D. 收入差距依然存在

7. 读下图表“不同收入群体对物价的敏感度”, 得到的结论是



- A. 经济发展决定收入水平
- B. 消费行为受消费心理影响
- C. 收入差距影响消费水平
- D. 收入是消费的基础和前提

8. 2017年3月15日, 李克强总理在两会的记者会上说, 3年多来, 大众创业、万众创新的发展使我国每年新增市场主体1000多万个, 相当于一个中等国家中小微企业的总量。“双创”适应了市场的需求, 适应了消费的个性化、多样化的要求, 政府就是要创造环境, 让人民群众创新创业的热情持久不衰。政府大力推动“双创”的原因在于

- ①增强国有资本控制力 ②国家实施积极的就业政策
- ③生产决定消费的对象 ④提高小微企业劳动生产率

A. ①③ B. ①④ C. ②③ D. ②④

9. 今年中秋节, 一些商家推出“会说话的月饼”——送礼人拍摄录制中秋祝福视频, 转为二维码, 商家将其印制在包装盒上。亲友收到月饼后, 扫描二维码即能观看视频。这种个性定制月饼模式有利于企业

- ①发挥自身优势, 降低经营成本
- ②融入科技元素, 大幅提升价格
- ③应对市场变化, 满足消费需求
- ④依靠新颖设计, 形成竞争优势

A. ①② B. ①④ C. ②③ D. ③④

10. 2015年9月24日, 国务院发布的《关于国有企业发展混合所有制经济的意见》指出, 引导公益类国有企业规范开展混合所有制改革。在水电气热、公共交通、公共设施等领域, 推进具备条件的企业实现投资主体多元化, 鼓励非国有企业参与经营。这一意见

- ①旨在促使公益类国有企业以提高经济效益和增强控制力为主要目标
- ②有利于公益类国有企业在市场竞争中不断提高公共服务效率和能力
- ③有利于促进公共产品和服务行业投资主体多元化, 保障和改善民生
- ④有利于激发企业活力, 实现各种所有制企业在国民经济中地位平等

A. ①③ B. ①④ C. ②③ D. ③④

11. 2017 天猫双 11 全球狂欢节给了世界一个令人惊叹的成绩: 交易额破 1682 亿, 每秒最高交易 8.59 万笔。面对互联网+的冲击, 传统企业应该

- ①深化经济体制改革, 适应经济发展新常态
- ②调整生产经营策略, 提升自主创新能力
- ③响应大众创业号召, 坚持自主竞争择业
- ④优化产品结构, 改进产销模式

A. ①② B. ②④ C. ①③ D. ③④

12. 近日, 我国美的集团与世界著名企业日本东芝株式会社达成协议, 美的集团将通过收购获得东芝冰箱、洗衣机等白色家电业务的控股权。美的集团这一举措的积极意义在于

- ①规避了国际经济风险
- ②提高了资源配置效率
- ③获得了更加广阔的发展空间
- ④增强了利用外资综合优势

A. ①③ B. ①④ C. ②③ D. ②④

13. 我国 2013~2017 年全国日均新登记企业数如下图所示, 据此可以推断出



- A. 民间资本投资逐年增长
- B. 企业投资回报率逐年提高
- C. 企业的营商环境不断优化
- D. 新增就业人口与新增就业岗位缺口逐年加大

14. 2015年8月，国务院批复的《基本养老保险基金投资管理办法》规定，养老基金在投资国债、银行债券等债权性资产的同时，可以投资股票、股票基金，但投资股票等权益类资产的比重不超过30%，上述规定的主要目的是

- A. 增强资本流动性，平抑资本市场的波动
- B. 扩大投资渠道，实现投资收益的最大化
- C. 优化投资组合，追求收益与风险的平衡
- D. 提高投资安全性，促进资本市场的增长

15. 2018年4月，在博鳌亚洲论坛年会上，中国人民银行宣布了中国金融业对外开放12大举措，包括取消银行和金融资产管理公司的外资持股比例限制，大幅度扩大外资银行的业务范围等。扩大中国金融业对外开放，意味着

- ①金融市场结构将发生变化，系统性金融风险降低
- ②金融产品将更加丰富，市场主体有更多选择
- ③金融机构的成本将降低，金融资产的收益率提高
- ④将形成新的竞争格局，促进中国金融业改革

- A. ①③
- B. ①④
- C. ②③
- D. ②④

16. 在小说《哈利·波特与魔法石》中，巨人海格在送哈利去魔法学院之前，带他到银行取哈利父母存放在保管库的遗产。当小妖精拉环打开库门时，哈利睁大眼睛，难以置信这些金加隆、银西可和青铜纳特（魔法货币）是他的。故事中

- A. 哈利取代父母与银行形成了债权债务关系
- B. 银行充当了哈利父母与哈利之间的信用中介
- C. 保管库里的货币属于哈利父母在银行的存款
- D. 哈利父母租用保管库所付费用是银行收入来源

17. 中国人民银行的调查报告显示，2014年上半年我国居民储蓄存款意愿下降明显，居民的钱向股票、债券、保险等其他领域分流速度加快。这一现象说明

- ①储蓄存款风险较高
- ②居民的投资意识增强
- ③居民投资方式日趋多样化
- ④居民的投资回报越来越高

- A. ①④
- B. ②③
- C. ①②
- D. ③④

18. 国有企业负责人薪酬偏高、过高，饱受普通职工不满和社会舆论诟病。近期出台的央企负责人薪酬制度改革方案，提出严格规范中央管理企业负责人薪酬分配，对不合理的偏高、过高收入进行调整，形成企业负责人与职工之间的合理工资收入分配关系，此举有助于

- A. 强化企业负责人的责任，提高企业管理水平

- B. 调动普通劳动者生产积极性，促进企业发展
- C. 提高居民收入在国民收入中的比重，促进社会公平
- D. 完善收入分配方式，建立新型的个人收入分配制度

19. 小华的爸爸是某外资公司的高管，妈妈在该市的工商银行当营业员，爷爷奶奶在农村种责任田。材料中小华的爸爸、妈妈、爷爷奶奶取得收入的相应分配方式分别是

- A. 按劳分配、按劳动要素分配、按劳分配
- B. 按劳动要素分配、按生产要素分配、按劳分配
- C. 按管理要素分配、按劳分配、按劳分配
- D. 按技术要素分配、按劳分配、按劳动要素分配

20. 社会保障是保障人民生活的一项基本制度，但这需要动用国家力量，通过社会救济等项目来调节收入分配，增加低收入者的待遇水平。这表明社会保障

- A. 是提高劳动报酬在初次分配中的重要举措
- B. 能够合理调整我国投资与消费的比例关系
- C. 可以实现社会成员间收入分配的绝对公平
- D. 通过收入再分配实现收入分配的相对公平

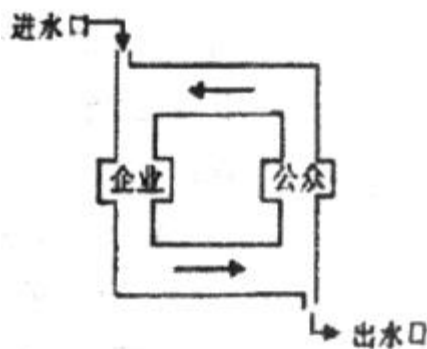
21. 2018年中国拟安排财政赤字2.38万亿元，财政赤字率将扩大到2.6%。结合下图判断，正确的有



- ①进行结构性减税，减少国家财政收入，导致财政赤字
- ②财政收支平衡有利于促进资源合理配置，提高科技水平
- ③在经济放缓的背景下，增加民生支出，利于促进社会公平
- ④加大节能环保支出，利于建设资源节约、环境友好型社会

- A. ①② B. ③④ C. ①③ D. ②④

22. 如图所示，假如“企业”代表社会总供给，“公众”代表社会总需求，“进水口”代表政府宏观经济政策，“出水口”代表公众储蓄，如果其他条件不变，当“企业” > “公众”时，政府可以采取的措施是



- A. 调整产品结构，转变发展方式，增加有效供给
- B. 实施紧缩性财政政策，实现“企业”和“公众”总量平衡
- C. 实施扩张性货币政策，减少“出水口”水量，扩大消费需求
- D. 从“进水口”减少水量，缩小生产规模，保持管道中流量的稳定

23. 近年来，北京打响蓝天保卫战，主要大气污染物排放量呈下降趋势，空气质量明显好转。下列分析正确的有

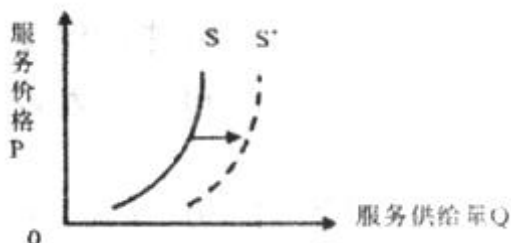
- ①清洁空气具有公共物品属性，需要政府干预
- ②政府干预提高了排放者所承担的成本
- ③市场自发调节作用和自然界自净能力增强
- ④空气产权难以界定清晰，减少了污染物的排放量

- A. ①② B. ①③ C. ②④ D. ③④

24. 国家新闻出版广电总局电影专资办统计数据显示，截至2017年12月3日晚，我国2017年全年票房已达560亿，成为首个票房超过500亿的年份。从2005年的48亿到2017年的560亿，我国电影票房持续走高，其根本原因是

- A. 电影院线经营运转高效 B. 优秀影视精品层出不穷
- C. 我国经济水平持续提升 D. 群众文化需求日益增长

25. 我国快递业竞争日趋激烈，快递服务平均单价连续6年下滑，2017年降至12.37元。在此背景下，若其他条件不变，能引起快递市场供给曲线从S移动到S'（见下图）的是



- ①放宽市场准入，吸引外商投资
- ②工资成本上涨，管理费用增加
- ③运用人工智能，提高劳动效率
- ④网民人数上升，网购数量增加

A. ①② B. ①③ C. ②④ D. ③④

26. 熔断机制最早是美国为控制股市异常波动风险采取的暂停交易措施，在美国起到了预期作用。我国于 2016 年 1 月 1 日起也开始实施熔断机制，但实践中负面影响大于正面效应，1 月 8 日暂停。材料表明

- ①政府应增强宏观调控的科学性
- ②要正确处理政府和市场的关系
- ③股市具有高收益高风险并存的特点
- ④投资多元化可降低投资风险

A. ①② B. ①③ C. ②④ D. ③④

27. 在市场竞争中，必然会出现优胜劣汰。为了鼓励先进，鞭策落后，保护债权人的合法权益，我国已经制定了《企业破产法》，实行了企业破产制度。可见，市场经济的作用是通过_____实现的。

- A. 供求、竞争和价格机制的交互作用
- B. 企业的经营管理
- C. 国家的宏观调控
- D. 产品的质量、价格、品种、服务

28. 2017 年 2 月 5 日，中央下发了新世纪以来指导“三农”工作的第 14 个一号文件，文件提出把推进农业供给侧结构性改革作为主线。下列做法中，符合这一主线的措施有

- ①坚持并完善玉米、小麦、水稻最低收购价政策
- ②打造农产品物流体系，推进农产品物流圈建设
- ③增加农产品出口补贴，扩大我国农产品出口规模
- ④发展绿色生态、环境友好型农业，提高农产品质量安全水平


A. ①② B. ②④ C. ①③ D. ③④

29. 2015 年我国企业海外并购数量和交易金额均创历史新高，涉及中国企业的并购交易总额达 3053 亿美元，较去年同期增长 61.6%，2015 年成为中国的并购年。中国海外并购呈现多元化趋势，除了传统的制造业，中国企业在能源、电力、新能源的投资也在增长，这说明

- ①跨国并购是中国企业实现国际化的有效路径
- ②通过并购实现的规模效应是企业能否成功的关键
- ③我国积极参与国际经济的竞争与合作，转变对外经济发展方式
- ④我国不断创新利用外资形式，加快提高开放型经济水平

A. ①② B. ③④ C. ①③ D. ②④

30. 我国 2013~2017 年消费和投资对经济增长贡献率如图所示。从图中可以推断出



- ①经济结构在逐步转型升级
- ②全社会资本形成总额逐年下降
- ③消费在经济增长中的作用不断增强
- ④经济增长逐渐由投资拉动转向消费拉动

A. ①② B. ①③ C. ②④ D. ③④

第 II 卷 非选择题 (共 55 分)

二、论述题 根据材料，回答问题。(本大题共 4 小题，共 55 分)

31. 阅读材料，回答下列小题。

近几年，外卖成为人们的用餐新宠，某青年打算开办一家外卖餐厅，为此进行市场调研。

材料一：

消费者调查问卷

①您的职业是

在校学生 在校人员 离退休人员 其他

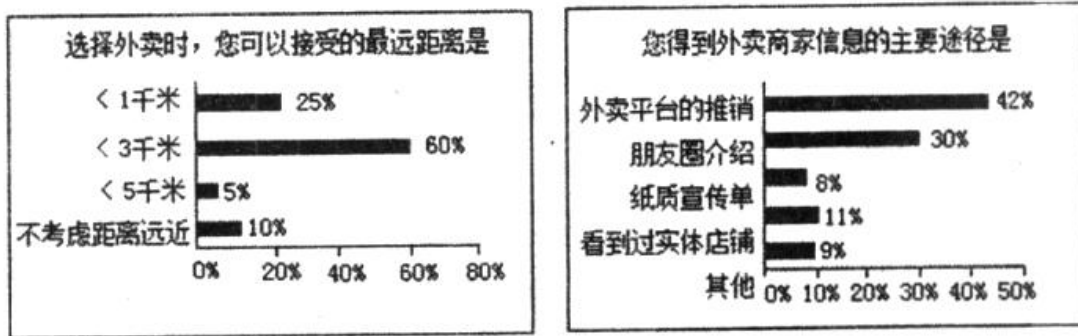
②选择外卖时，您可以接受的最远距离是

< 1 千米 < 3 千米 < 5 千米 不考虑距离远近

③外卖平台或店家进行的价格促销活动，会影响你的消费选择吗？

影响很大 有一些影响 没有影响

材料二：



(1)为了解消费者的需求弹性及其主要影响因素，该青年应该关注材料一中消费者调查问卷中的问题_____和_____。你选择这两个问题的理由是什么？（4分）

(2)分析材料二图中的调查结果，据此你认为该青年在开办餐厅时应该注意哪些问题？（4分）

(3)除了进行消费者一方的调研外，你认为该青年还需要了解哪些方面的信息？（5分）

32. 党的十八届五中全会提出，坚持绿色发展，着力改善生态环境，推动低碳循环发展，加大环境治理力度、筑牢生态安全屏障。

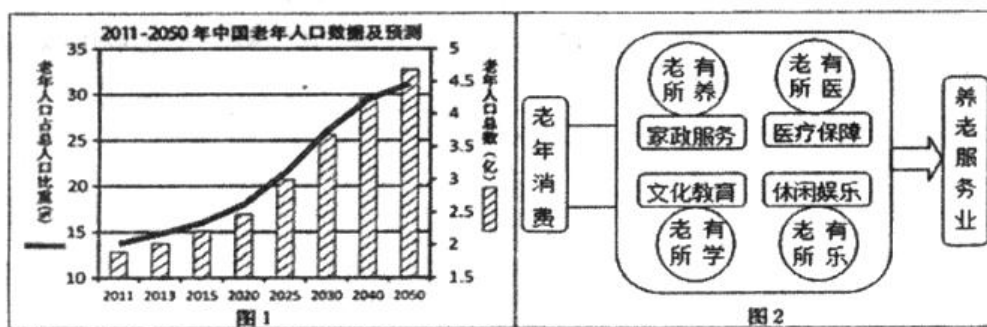
新能源汽车以其碳排放低、使用成本低、行驶安静等优点而受到人们的青睐。但是受续航里程短、购置成本高等因素的制约，消费者对购置使用新能源汽车存在许多顾虑。近几年，新能源汽车的消费市场有所扩大，但与传统汽车相比，其市场占有率依然很低。为推动新能源汽车产业发展，政府制定融资、补贴、免税等优惠政策，引导汽车厂商加大研发投入和生产。

结合材料并运用所学经济知识，分析大力推动新能源汽车生产对消费和产业发展的影响。（14分）

33. 阅读材料，回答问题。

习近平指出，老龄服务事业和产业发展空间十分广阔，要积极推进养老服务业制度、标准、设施、人才队伍建设，完善相关规划和扶持政策。

材料一：



材料二：步入老龄化社会是一个国家经济社会发展的自然趋势，也是我国经济社会发展面临的巨大挑战。2016年，国务院相关部委出台了一系列支持养老服务业发展的文件，在财政支持、市场准入等方面为相关企业的发展提供了依托，使老年消费需求背后隐藏着的巨大市场空间逐渐显露。在市场和政策的双重刺激下，我国养老服务业的发展将迎来爆发期。

(1) 解读材料一中的经济信息。(6分)

(2) 运用《经济生活》知识, 结合材料二, 阐明政府和市场在养老服务业发展中发挥的作用。(8分)

34. 2013年, 习近平提出共建“丝绸之路经济带”和“21世纪海上丝绸之路”(以下简称“一带一路”)的重大倡议, 得到国际社会积极响应。

材料一 共建“一带一路”致力于建立和加强沿线各国互联互通伙伴关系, 实现沿线各国多元、自主、平衡、可持续发展。“一带一路”建设推动了沿线各国发展战略的对接与耦合, 增进了沿线各国人民的人文交流与文明互鉴, 让各国人民相逢相知、互信互敬。截至2017年, 已有70多个国家和国际组织表达了与中国合作建设“一带一路”的意愿。30多个国家同中国签署了合作协议, 中国与相关国家合作建设了50多个境外经贸合作区。

材料二 国际产能合作是指两个经济体之间进行产能供求跨国或者跨地区配置的联合行动。2017年底, 中国已与“一带一路”沿线20多个国家签订了产能合作协议。开展跨国产能合作的中国产业, 既有以轻工、家电为主的传统优势产业, 以钢铁、平板玻璃为主的富余产能优势产业, 又有以通信设备、轨道交通为主的装备制造优势产业, 同时还带动了通讯等优势行业的相关技术和标准“走出去”。

埃及是“一带一路”沿线的重要国家, 中埃国际产能合作取得了积极成果。截至2017年底, 中埃苏伊士经贸合作区第一期吸引了68家企业入驻, 初步形成了石油装备、高低压电器、纺织服装、新型建材、机械制造等产业园区。合作区吸引投资近10亿美元, 年销售额约1.5亿美元, 年纳税约2亿埃镑, 为当地创造了2000多个工作岗位。

运用《经济生活》知识并结合材料, 说明推动“一带一路”国际产能合作对沿线国家和中国是双赢的选择。(14分)

2018 北师大附中高二（下）期末政治（文）参考答案

一、选择题（每题 1.5 分，共 45 分）

1-5 CAADB 6-10 DDCDC 11-15 BCCCD 16-20 DBBCD

21-25 BCACB 26-30 AABCB

二、论述题 根据材料，回答问题。（本大题共 4 小题，共 55 分）

31. (1)①关注问题：距离；理由：外卖的距离是影响消费便捷程度的重要因素。（2分）

③关注问题：价格促销活动；理由：价格是影响消费者消费的重要因素。（2分）

(2)①餐厅位置。（2分）②外卖平台的推销工作。（2分）

(3)①工商等政策信息。（2分）②店面房租信息。（3分）

32. 对消费者的影响：生产出满足消费者的新能源汽车产品；为扩大新能源汽车消费创造动力；引导绿色消费观念的形成，促进汽车消费模式的转变。（共 8 分）

对产业发展的影响：推动汽车产业的转型升级，优化产业结构；产生拉动效应，带动上下游产业的发展。（共 6 分）

33. (1)经济信息：①2011~2050 年，我国老年人口数量和老年人口占总人口比重呈持续增长态势。（2分）②老年人在家政服务等领域的消费需求会促使养老服务业的产生。（2分）③持续增长的老年人口会产生巨大的老年消费需求，促进养老服务业的发展。（2分）

(2)作用：①市场对资源配置起决定作用。供求关系变化可以引导企业调整生产，从而实现资源优化配置。巨大的老年服务市场空间吸引企业积极参与养老服务业的发展。（4分）②资源的优化配置离不开政府的宏观调控。政府运用财政政策等手段为养老服务提供支持，对养老服务业的发展起推动作用。（4分）

34. 沿线国家：扩大产品供给；增加税收；扩大就业，提高居民收入；提高相关产业的技术水平。（8分）

中国：扩大产品市场化；促进优势产能“走出去”；提高在国际分工中的地位。（6分）