

2021 北京丰台初三二模

历史

2021.06

考生须知	1. 本试卷共 8 页，满分 70 分。考试时间 70 分钟。 2. 在试卷和答题卡上认真填写学校名称、姓名和考试号。 3. 试题答案一律填涂或书写在答题卡上，在试卷上作答无效。 4. 在答题卡上，选择题用 2B 铅笔作答，其它试题用黑色字迹签字笔作答。 5. 考试结束，将本试卷和答题卡一并交回。
------	-------------------------------------------------------------------------------------------------------------------------------------------------------------------

第一部分选择题（共 30 分）

本部分共 20 小题，每小题 1.5 分，共 30 分。在每小题列出的四个选项中，选出最符合题目要求的一项。

1.2020 年，为了纪念第一个“北京人”头盖骨化石发现 91 周年，周口店遗址博物馆组织了公益科普舞台剧。下列图片能够反映北京人生活状况的是



A. 人面鱼纹彩陶盆



B. 干栏式建筑



C. 打制石器



D. 骨耜

2.右图是“六”字已知最早的写法，它像房屋的外形框架，有立墙和斜顶，表示房屋的空间维度。该字属于

- A. 甲骨文
- B. 小篆
- C. 隶书
- D. 楷书



3.郭沫若先生评价某位历史人物：“他是一个时代的宠儿，生当大变革的时代，又遇着信任专一的孝公，使他能够放手做去，收到了莫大的功名……秦王政后来之所以能够统一中国，是由于他变法的后果。”这位历史人物是

- A. 商鞅
- B. 张骞
- C. 张仲景
- D. 孝文帝

4.某班同学制作了学习卡片，据此推断学习卡片涉及的地区是

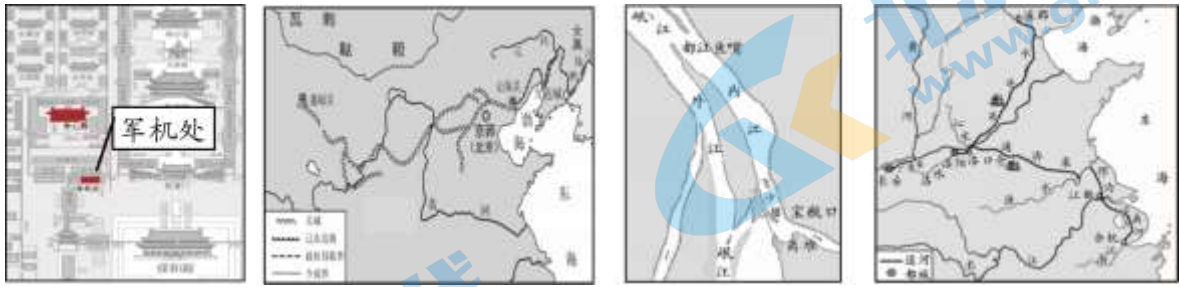
朝代：唐朝 人物：文成公主 事件：唐蕃和亲	朝代：元朝 人物：忽必烈 事件：设置宣政院	朝代：清朝 人物：雍正 事件：设置驻藏大臣
-----------------------------	-----------------------------	-----------------------------

- A. 台湾
- B. 西藏
- C. 新疆
- D. 东北

5.明朝末年流行着这样的歌谣“杀牛羊，备酒浆，开了城门迎闯王，闯王来时不纳粮”。该歌谣反映的历史事件是

- A. 陈胜、吴广起义
- B. 岳飞抗金
- C. 文天祥抗元
- D. 李自成起义

6. 下列图片呈现的是中国古代工程。按时间先后顺序排列正确的是



- ①紫禁城（局部）
- ②明长城
- ③都江堰
- ④大运河

- A. ①②③④
- B. ②①③④
- C. ③①②④
- D. ③④②①

7. 2020年，圆明园举办“百年梦圆——圆明园马首铜像回归展”。右图马首铜像流失于



- A. 鸦片战争期间
- B. 第二次鸦片战争期间
- C. 甲午中日战争期间
- D. 八国联军侵华期间

8. 下列图片是近代中国出版的刊物封面。它们反映的共同主题是



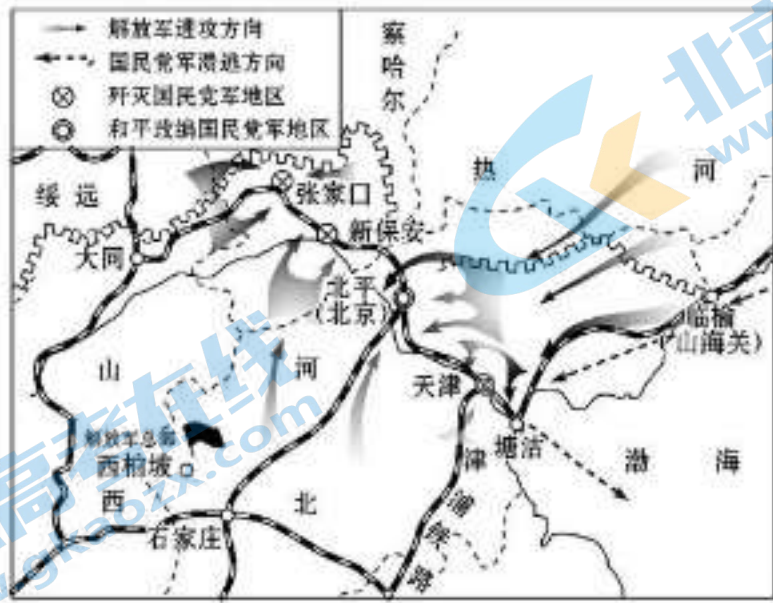
- A. 民族抗争
- B. 列强侵略
- C. 近代化探索
- D. 民主与科学

9. 下图为某位同学绘制的图示。与之相关的历史事件是



- A. 洋务运动 B. 新文化运动 C. 五四运动 D. 西安事变

10.右图中所示战役的历史意义是



- A. 揭开了战略反攻的序幕
 B. 华北全境基本得到解放
 C. 结束国民党在大陆统治
 D. 解放长江中下游以北广大地区

11.以下纪念邮票反映了新中国在工业交通建设方面的成就。下列与之直接相关的是



中国自制汽车出厂



武汉长江大桥

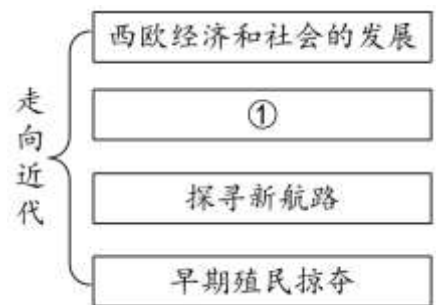
- A. “一五”计划的实施 B. 三大改造的完成
 C. “一国两制”的实践 D. 改革开放的实行

12.历史史实是指客观发生的历史事实，历史观点是对历史史实的认识。以下属于历史观点的是

- A. 1979年，全国人大常委会发表《告台湾同胞书》
 B. “九二共识”的达成和“汪辜会谈”
 C. 2008年，两岸达成“三通”协议
 D. 香港、澳门回归祖国，标志中国人民洗雪百年耻辱

13.右侧示意图中①处应为

- A. 文艺复兴运动



- B. 英国资产阶级革命
- C. 美国独立战争
- D. 国际共产主义运动

14. 1851年，英国伦敦举办的万国工业博览会上，展示了来自世界各地的一万三千余件展品。下列物品可能出现在博览会上的有

- ①蒸汽机 ②汽车 ③火车 ④电话
- A. ①② B. ①④ C. ①③ D. ②③

15. 右侧表格是某学习小组研究的内容。他们研究的课题是

- A. 美国内战
- B. 日本明治维新
- C. 法国大革命
- D. 俄国农奴制改革

政治	经济	社会生活
废藩置县	殖产兴业	文明开化

16. 第一次世界大战后，通过签署《凡尔赛条约》和《九国公约》等一系列条约，暂时调整了战胜国在欧洲、西亚、非洲、东亚和太平洋地区的关系，建立了国际新秩序。这一“国际新秩序”是指

- A. 凡尔赛—华盛顿体系
- B. 世界反法西斯联盟
- C. 亚洲战争策源地形成
- D. 两极格局形成

17. 1933年，为了应付日益严峻的经济大危机，美国总统罗斯福宣布实施新政。新政的特点是

- A. 实行自由放任政策
- B. 实行高度集中的计划经济
- C. 加强国家干预经济
- D. 建立完善的社会保障制度

18. 第二次世界大战后，美国为了遏制苏联和其他社会主义国家的发展，开始推行冷战政策。冷战造成的后果是

- A. 杜鲁门主义出台
- B. 德国的分裂
- C. 《联合国宣言》签署
- D. 马歇尔计划实施

19. 右侧地图反映的主题是

- A. 资本主义制度的扩展
- B. 拉美人民捍卫主权
- C. 亚非拉国家的新发展
- D. 社会主义国家的发展



20. 冷战结束后，世界各国普遍认识到，积极发展经济，增强国力，是世界和平的驱动力。据此判断，当今的时代主题是

- A. 经济全球化
- B. 和平与发展

第二部分材料分析题（共40分）

21. (11分) 科学技术的发展, 深刻影响了世界文明的进程。

材料一

- ①春秋时期, 铁器牛耕出现。战国时期, 铁器牛耕推广, 山林得到开发, 耕地逐步增多。
- ②东汉时, 蔡伦改进造纸工艺。后来造纸术辗转流传到世界多国。
- ③南北朝时, 祖冲之充分考查前人文献资料, 亲自进行精密推算, 将圆周率精确到小数点后第七位。
- ④唐朝时, 发明推广曲辕犁。它设计精妙, 轻便灵巧, 操作时可自如控制入土深浅。⑤北宋时, 毕昇发明活字印刷术。后来活字印刷术传入朝鲜、日本及东南亚等地。⑥明朝时, 宋应星专心致志研究科学技术, 整理各地农业和手工业生产技术和经验, 经过长期积累和不懈探究, 编写了《天工开物》一书。

(1) 将材料一的史实与以下观点相对应。(3分。填写序号, 每空多选、少选、错选均不得分)

技术进步推动农业发展:

中国古代科学家治学严谨:

中国古代科技推动世界文明发展:

材料二工业革命既是生产技术的全面变革, 也是引起生产关系深刻变化的社会革命……以工厂为中心, 大批城市兴起, 人口向城市集中, 农村人口减少, 开始了城市化进程。城市的功能也发生了改变, 成为政治、经济、文化的中心。从总的趋势来看, 现代工业的大批量生产提供了物美价廉的商品, 工资也有所增加, 人们的生活水平和质量有明显提高。大众的文化生活日益丰富, 休闲娱乐和群众性体育运动逐渐兴起, 报纸书籍发行量大增, 人们的文化素养得到提高。

——徐蓝《世界近现代史》

(2) 依据材料二, 说出工业革命给人类社会带来的变化。(2分)

材料三 1949~2015 中国科技大事记(部分)

				
1949年, 中国科学院成立, 奠定了中国科技事业发展的基础	1970年, 中国成功发射第一颗①, 在航天技术领域取得成就	20世纪70年代, ②(人名)成功培育籼型杂交稻, 大幅提高我国水稻产量	2003年, 杨利伟成功完成航天飞行。中国成为第三个掌握载人航天技术的	2015年, 屠呦呦获得诺贝尔生理学或医学奖。她和研发团队发现的青蒿

			国家	素，开创治疗疟疾新方法
--	--	--	----	-------------

(3) 将材料三中①②处补充完整。(2分) 依据材料三并结合所学，分析中国取得巨大科技成就的原因。(2分)

材料四科学是一种在历史上起推动作用的、革命的力量。

——《马克思恩格斯文集》

(4) 综合上述材料，谈谈对科学技术的认识。(2分)

22. (11分) 中国共产党百年奋斗历程。

		
①中国共产党一大会址	②井冈山会师(连环画)	③中国共产党七大会场
		
④毛泽东《论持久战》	⑤《开国大典》原始影像	⑥中共十一届三中全会公报

(1) 辨别整理以上材料，将材料序号填写在相应位置。(3分。填写序号，每空多选、少选、错选均不得分)

属于文献史料的是：

属于实物史料的是：

属于现代音像史料的是：

(2) 请将上述材料中的①⑥，分别置于时间轴上的相应位置。(2分)



(3) 从表格中任选两项，说出其反映的历史事件的意义。(4分)

(4) 历史认识是对历史事物的看法和观点。结合所学，谈谈对中国共产党百年奋斗历程的认识。(2分)

23. (9分) 立国·调整·发展

材料一《大学中国史》记载：隋朝虽二世而亡，但能借鉴前朝经验，融汇南北之长，在制度层面推出一系列改革与创制。随后的唐朝，在此基础上，传承发扬，扩充改进，使当时的政治格局呈现新的气象和特点。隋唐两朝的制度创新在历史上影响尤为深远的是_____。

(1) 从以下制度中选取正确内容填入材料一中的空白处。(2分。填序号)

①三省六部制②科举制③分封制

材料二

★1911年10月10日夜，武昌城内响起了激烈的枪炮声。次日清晨，革命党人起义成功。随后，其他各省纷纷响应，清政府的统治迅速土崩瓦解。

★1912年1月1日，孙中山在南京宣誓就职，宣告中华民国临时政府成立。

★1912年2月12日，自秦始皇创立皇帝制度以来的最后一位皇帝——爱新觉罗·溥仪，颁布退位诏书。

★1912年3月颁布的《中华民国临时约法规定》：中华民国主权属于国民全体；国内各民族一律平等；国民有人身、居住、财产、集会、宗教信仰等自由；国民有选举权和被选举权；人民有保有财产及营业之自由……

(2) 依据材料二，写出1911年爆发的重大历史事件名称，(1分)并概括这一历史事件的意义。(3分)

材料三苏维埃俄国到苏联的发展历程(部分)

1917年11月6日晚，列宁秘密来到彼得格勒起义总指挥部——斯莫尔尼宫，亲自领导起义。第二天，彼得格勒武装起义取得胜利。这次革命因发生在俄历10月，被称为“十月革命”。	1921年，苏维埃政府开始实施新经济政策。以征收粮食税代替余粮收集制；允许使用雇佣劳动力和出租土地，实行自由贸易；允许私人经营中小企业；实行按劳取酬的工资制。	1926年，苏联开始进行社会主义工业化建设。在1928—1937年的两个五年计划期间，苏联建成6000多个大企业。到1937年，苏联工业总产值已跃居欧洲第一位、世界第二位。
--------------------------------------------------------------------------------------	---------------------------------------------------------------------------------	----------------------------------------------------------------------------------------

(3) 依据材料三，分别指出上述史事在社会主义革命和建设中的成就。(3分)

24. (9分) 永定河是北京的“母亲河”，也是一条贯通古今的文脉。某历史社团开展永定河历史文化研究性学习活动。

【研习资料】

北京境内永定河流域考古发现（部分）

 <p>①石磨盘、石磨杵</p>	 <p>②克盃、克壘</p>	 <p>③“渔”字铁斧</p>
<p>北京门头沟东胡林人遗址出土，距今约 1 万年，成套石磨盘、石磨杵及大量红陶碎片与碳化粟</p>	<p>北京房山西周燕都遗址出土，器物内壁铸刻的铭文记载了周王封给召公土地，命克代他去燕为侯等内容</p>	<p>北京丰台大葆台西汉墓出土，斧身为铸铁，其中一面有凸起的“渔”字——这是渔阳铁官作坊的标记</p>

(1) 阅读考古资料，写出其反映的史实。(3分)

【实地考察】

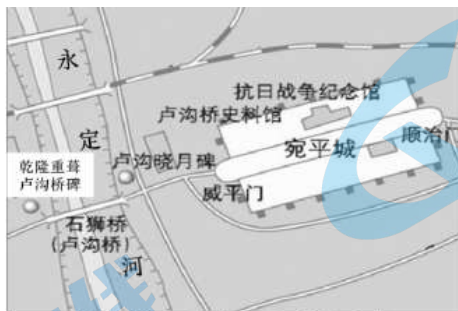
考察记录 1——卢沟桥及周边地区
 卢沟桥位于永定河上，始建于金代，是古代进出京城的必经之地。元朝《卢沟运筏图》描绘了这里“使旅往来”“驿通四海”的景象。

卢沟桥的桥身为联拱石桥，有金、元、明、清不同时期形态各异的石狮子，显示了古代人民的智慧。现今桥面上保留了一段金代以来凹凸不平的车辙印，见证了这里曾是繁华的交通要道。桥面中部还保留了七七事变留下的枪炮弹孔，见证了日军侵略行径和中国守军奋起抵抗的壮举。

卢沟桥东为宛平城。城墙上仍可看到当年日军炮击留下的弹坑，城内可以看到复建的宛平县衙、卢沟驿、兴隆寺等建筑。这里还建有中国人民抗日战争纪念馆，以大量实物展示中国人民抗日战争的画卷。

(2) 考察记录中的图文资料可以用于研究哪些史实？(2分，仿照示例完成，不得选用示例内容)

示例：《卢沟运筏图》描绘的内容，适用于研究元朝卢沟桥地区的交通状况以及社会经济的发展。



卢沟桥及周边文化资源分布

考察记录 2——南苑森林湿地公园

历史上的南苑地处永定河冲积扇前缘，是自辽代以来的皇家猎苑，葱郁草本、珍禽异兽与宫庙衙署等建筑形成了“南囿秋风”历史景观。顺治、乾隆都曾在这里接见西藏宗教领袖。清末国力衰微，不能再维持猎苑的庞大开支。1900年八国联军入侵北京，攻下南苑烧杀抢掠，行宫寺庙被毁。民国初年军阀混战再次破坏。“南囿秋风”盛景逐渐消失。2014年，北京市政府启动建设南苑森林湿地公园，突出自然生态、文化传承、人本服务三个特色，形成了“南囿秋风”新景观。

(3) 依据考察记录，分别说出“南囿秋风”历史景观消失与再现的原因。(2分)

【成果运用】

(4) 北京永定河流域拥有极为丰富的历史文化资源，是北京作为历史文化名城的重要构成。综合以上研究与考察内容，请你确定一个永定河历史文化方面的研究主题，并设计研究方案。(2分)

关于我们

北京高考在线创办于 2014 年，隶属于北京太星网络科技有限公司，是北京地区极具影响力的中学升学服务平台。主营业务涵盖：北京新高考、高中生涯规划、志愿填报、强基计划、综合评价招生和学科竞赛等。

北京高考在线旗下拥有网站门户、微信公众平台等全媒体矩阵生态平台。平台活跃用户 40W+，网站年度流量数千万量级。用户群体立足于北京，辐射全国 31 省市。

北京高考在线平台一直秉承“精益求精、专业严谨”的建设理念，不断探索“K12 教育+互联网+大数据”的运营模式，尝试基于大数据理论为广大中学和家长提供新鲜的高考资讯、专业的高考政策解读、科学的升学规划等，为广大高校、中学和教科研单位提供“衔接和桥梁纽带”作用。

平台自创办以来，为众多重点大学发现和推荐优秀生源，和北京近百所中学达成合作关系，累计举办线上线下升学公益讲座数百场，帮助数十万考生顺利通过考入理想大学，在家长、考生、中学和社会各界具有广泛的口碑影响力

未来，北京高考在线平台将立足于北京新高考改革，基于对北京高考政策研究及北京高校资源优势，更好的服务全国高中家长和学生。



微信搜一搜

北京高考资讯