

2022 北京石景山初三（上）期末

历史

学校_____ 姓名_____ 准考证号_____

考生须知

1. 本试卷共 10 页，共 24 道小题，满分 70 分。考试时间 70 分钟。
2. 请在试卷和答题卡上准确填写学校名称、姓名和准考证号。
3. 试题答案一律填涂或书写在答题卡上，选择题用 2B 铅笔作答，其他试题用黑色字迹签字笔作答，在试卷上作答无效。
4. 考试结束，请将答题卡交回。

第I卷 选择题（共 30 分）

本大题共 20 道小题，每小题 1.5 分，共计 30 分。每题只有一个正确选项。

1. 下列材料中可用于研究北京人体貌特征的是



①北京人狩猎想象图 ②北京人头盖骨化石 ③北京人使用的石器 ④北京人牙齿化石

- A. ①② B. ①③ C. ①④ D. ②④

2. 史书中记载，495 年，帝曰“今欲断诸北语，一从正音（汉语）……三十已下，见在朝廷之人，语音不听仍旧；若有故为，当加降黜。”这段记载叙述的史实是

- A. 汉武帝巩固大一统 B. 光武中兴
C. 北魏孝文帝改革 D. 王安石变法

3. 下表呈现了中国古代某项制度的历史沿革，其中①②处应填

①	创立：用考试来选拔人才，设置进士科
唐	发展：增加考试科目，任用高官主持考试
宋	完善：严格考试程序，增加录取人数
明、清	衰落：②

- A. ①西汉 ②兴办太学 B. ①西晋 ②依门第推荐
C. ①隋 ②八股取士 D. ①元 ②大兴文字狱

4. 右图为某同学制作的复习卡片，以下史实中符合该复习主题的是

- A. 设立宣政院
B. 戚继光抗倭
C. 修建长城
D. 设置台湾府

清朝巩固统一多民族国家

- 雅克萨之战
- 平定大小和卓叛乱
- 设置驻藏大臣

5. 甲午中日战争的失败，使先进的中国人认识到，单凭学习外国器物已不足以挽救民族危亡，于是他们开始尝试制度的变革。材料中的“变革”是指

- A. 洋务运动 B. 戊戌变法 C. 新文化运动 D. 五四运动

6. “皇帝倒了，辫子割了”。这八个字是少年瞿秋白对辛亥革命后社会变化的概括。从这八个字可以看出辛亥革命

- ①推翻了清王朝的统治 ②推动了社会习俗的变革
③传播了民主共和的思想 ④完成了反帝反封建的任务

- A. ①②③ B. ①②④ C. ①③④ D. ②③④

7. 右侧漫画直接反映了

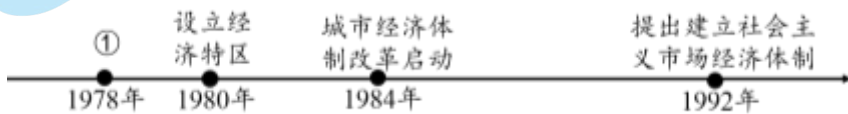
- A. 五四运动的背景
B. 北伐战争的过程
C. 南昌起义的原因
D. 西安事变的影响



8. 首都博物馆“伟大征程——庆祝中国共产党成立 100 周年特展”按时序分为东方破晓、星火燎原、中流砥柱、夺取胜利四个单元。以下属于“夺取胜利”单元的展品是

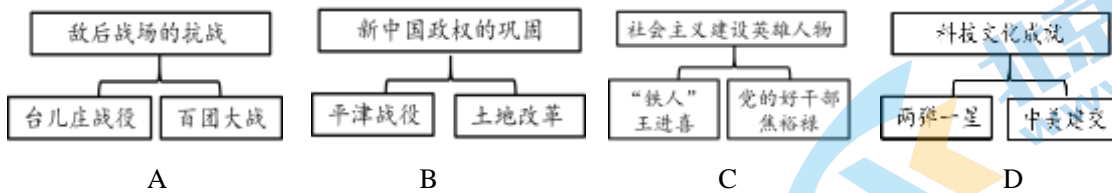
- A. 嘉兴南湖红船的复刻模型 B. 红军在井冈山挑粮用的扁担
C. 中共七大会场的复原场景 D. 人民解放军渡江作战的照片

9. 时间轴呈现历史发展脉络。以下关于某一主题的时间轴中①处应为



- A. 社会主义三大改造完成 B. 中共十一届三中全会召开
C. 邓小平理论指导地位确立 D. 中国加入世界贸易组织

10. 绘制示意图梳理知识结构是学习历史的重要方法。以下示意图正确的是



11. 历史解释是对史实的分析或评判。下列选项中属于历史解释的是

- A. 甲骨文出现于商朝时期
B. 古代印度实行种姓制度
C. 《汉谟拉比法典》刻于黑色石柱之上，正文共有 282 条
D. 金字塔的修建，反映了古埃及社会经济水平的较高水平

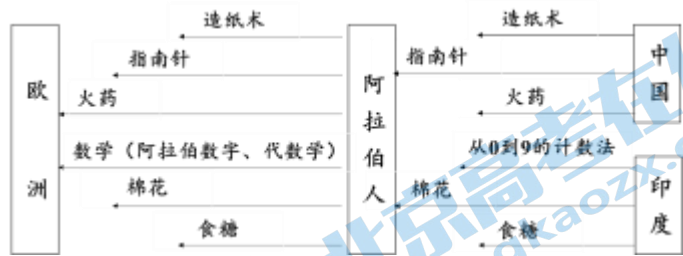
12. 公元前 5 世纪，雅典军事统帅伯罗西斯说“男人就是城邦”。其中的“男人”是指

- A. 雅典的成年男性公民 B. 雅典的所有男性
C. 雅典的成年男性 D. 雅典的自由人

13. 被称为欧洲中世纪教育“最美好的花朵”的是

- A. 大学的兴起 B. 城市的重新兴起
C. 市民阶层的产生 D. 启蒙思想的传播

14. 对右侧示意图解读正确的是
- A. 中国的农业技术传到了欧洲
- B. 古印度人创造了阿拉伯数字
- C. 阿拉伯人沟通了东西方文化
- D. 古代欧洲在科技上毫无成就



15. 右侧材料内容描述的是

领主依靠土地租金生活，不再参与生产管理；
一些富裕农民承租或购买土地，雇佣少地或无地的农民耕种；富余的农产品进入市场。

- A. 封建庄园
- B. 租地农场
- C. 手工工场
- D. 机器工厂

16. 完成右图所示航海活动的是



- A. 迪亚士船队
- B. 哥伦布船队
- C. 达·伽马船队
- D. 麦哲伦船队

17. “国王根据议会的条件登上王位，并服从议会的法律，从而确立了议会的主权”，这样的场景出现在 17 世纪的

- A. 英国 B. 法国 C. 荷兰 D. 日本

18. 右图是某位历史名人传记的部分内容，他是

第二篇 临危受命 中流砥柱
第三篇 独立战争 建功立业
第四篇 首任总统 呕心沥血

- A. 克伦威尔
- B. 华盛顿
- C. 杰斐逊
- D. 罗伯斯庇尔

19. 一位传记作家写到“拿破仑算不上伟大的征服者，即便如此，他仍是近代史巨人，因为其政绩不输战绩，而且其政绩存续时间长得多”。下列选项中能证明该观点的是

- A. 处死国王路易十六 B. 建立法兰西第一帝国
- C. 颁布《拿破仑法典》 D. 多次打败反法联盟

20. 某同学在开展研究性学习时搜集了以下资料，据此推断他研究的主题是



- A. 迈入近代社会的欧洲 B. 资产阶级革命的兴起
- C. 民主共和制的确立 D. 共产主义运动的高涨

21.（10分）糖不仅是重要的食物，也反映了历史的发展。

材料一

序号	时期	蔗糖及制糖技术在中国的发展（部分）
①	西周	甘蔗从印度引入，大量奴隶被役使种植甘蔗，贵族普遍饮用甘蔗汁
②	秦	桂林郡、南海郡、象郡等地广泛种植甘蔗
③	唐	玄奘从印度带回了熬制蔗糖的技术；鉴真东渡时将经中国改进后的熬糖技术带到了日本
④	宋	南方普遍种植甘蔗；四川遂宁是最大的糖霜生产中心之一；市场上出现了芝麻糖、胶牙糖、杨梅糖等多个品类；夜市上也常见糖果制品
⑤	元	从西亚地区学习了“树灰结晶制糖法”，蔗糖颜色更白，更加纯净；泉州作为当时最大的港口，将“白糖”作为商品输出至很多国家
⑥	明	《天工开物》中记载了种植甘蔗及制糖的方法，其中提到用“黄泥水淋脱色法”制造的白糖“尽成白霜”

（1）从②③④⑤中选择两则材料，仿照示例，分别说明其反映的历史信息。（4分）

示例：材料⑥，明朝时科技发展，出现了一批科技巨著。宋应星所著《天工开物》记录了包括制糖技术在内的中国当时具有先进水平的科学技术，被称为“中国17世纪的工艺百科全书”。

材料二 初入英国的蔗糖价格极高，超出绝大部分人的消费能力。13世纪中叶，一磅蔗糖大约需1到2个先令不等。15世纪英国在大西洋属岛建立甘蔗种植园，蔗糖产量大幅提升，蔗糖价格持续缓步下降，16世纪上半期大约1磅蔗糖值3便士(英币旧制12便士=1先令)。尽管此后的糖价偶有上涨，但再也没有回到符合奢侈品身份的高定价。这就为普通民众甚至底层穷人将蔗糖作为日常消费品提供了条件。

——摘编自刘怀玉《奢侈品的演进和社会发展脉络关系浅析》

（2）依据材料二，说出英国蔗糖消费的发展趋势。（1分）结合所学，指出这一趋势形成的原因。（1分）

（3）结合所学，指出下图A、B两条贸易路线中可能出现大规模蔗糖运输的是_____。（1分，填写字母）另一条贸易路线上主要贩运_____。（1分）



“三角贸易”示意图

材料三 工业时代来临后，劳动者大部分时间都在工厂……无法继续将很多时间花在烹饪上。此时，蔗糖的普及提供了解决方案。(英国)工人开始适应将面包加果酱(主要成分包含蔗糖)作为主要食品，有时甚至用加了奶和糖的茶代替热餐。

——摘编自刘怀玉《奢侈品的演进和社会发展脉络关系浅析》

(4) 依据材料三，概括蔗糖给英国工人饮食带来的改变。(1分) 结合所学，说明这一变化发生的背景。(1分)

22. (11分) 历史学习的材料丰富多样。

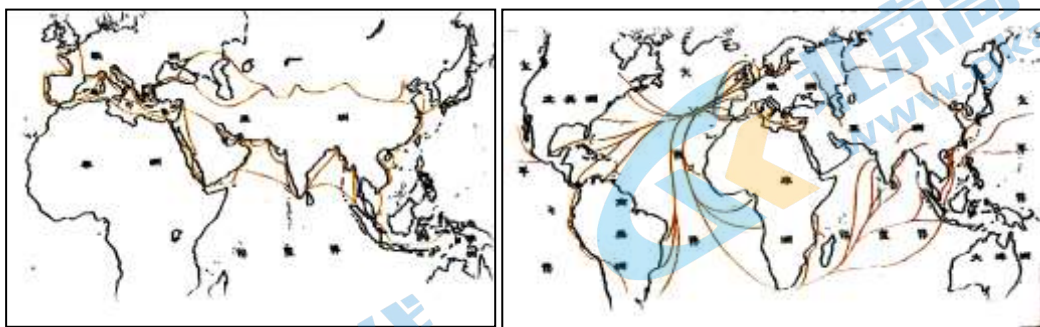
材料一 文物反映阶段特征

 <p>①牺尊。春秋晚期青铜器，作水牛形，牛鼻上穿有一环</p>	 <p>②战国铜壶。壶身刻有水陆攻战的图案</p>	 <p>③战国商鞅铜方量。秦孝公在位时颁行的标准量器</p>
---	--	---

(1) 依据材料一，结合所学，补全表格。(5分)

阶段特征	相关史实	典型文物(填写序号)
战争频发	马陵之战、长平之战等	
		①
制度变革		

材料二 地图描绘历史变迁



13-14 世纪世界主要贸易路线

17-18 世纪世界主要贸易路线

(2) 依据材料二，指出世界贸易的变化。(1分) 分析其影响。(2分)

材料三 画作再现时代风貌



(3) 结合所学, 说明作者将李大钊、马克思和《共产党宣言》置于同一画面中的寓意。(2分)

材料四 家书彰显质朴情怀

为了国家, 凡是有志之男儿都应起来奋斗, 打倒日本帝国主义, 建立独立自由的新中国!

——新四军二支队四团二营五连凌其昌烈士生前写给父亲的家书

爸爸很想陪你去北京, 也想天天陪你写作业, 但现在爸爸是第一书记, 要对白南村村民负责, 只有村民如期脱贫了, 爸爸才不辜负父老乡亲们的信任……希望你长大以后, 做一个心中有大爱、肩上有责任、敢于担当的人。

——河南省禹州市花石镇白南村第一书记于爱波写给儿子的信

(4) 有人说, 家书是中华民族传统文化的精神标识。结合材料四, 谈谈你的理解。(1分)

23. (10分) 文明·交流

材料一 某学者认为文明之间关系的演变经历了两个阶段, 现在正处于第三个阶段。

发展阶段	阶段特征	相关史实
第一阶段: 遭遇——公元 1500 年前的文明	文明之间的关系是断断续续的或有限的多方向的交流与碰撞	A
第二阶段: 冲击——西方的兴起	西方文明对其他文明开始持续的、单方向的冲击	B
第三阶段: 相互作用——一个多文明的体系	进入 20 世纪, 文明之间的关系走向所有文明之间持续的和多方向的相互作用	亚太经合组织、上海合作组织等国际组织的成立

(1) 将以下史实填入材料一的相应位置。(2分。写序号)

- ①亚历山大东征 ②西班牙的殖民扩张

材料二 丝绸之路——地球上的金丝带

丝绸之路原初的含义是从中国西安或洛阳经过河西走廊, 穿过天山脚下, 进入到中亚、西亚, 然后再通向地中海地区的交通道路。正是通过这条大道, 自东向西, 大陆两端的居民开始有了接触和往来, 有了物质和文化的交流, 因而也就有了东西方文明的发展。后来, 人们把联系欧亚大陆的北边的草原之路, 南边的海上交通, 也都称为草原的或海上的丝绸之路, 丝绸之路的概念就延伸到一切与东西方交通联系的交通通道。

——摘编自武斌《丝绸之路全史》

(2) 依据材料二, 指出丝绸之路概念的变化。(1分) 谈谈你对作者把“丝绸之路”称为“地球上的金丝带”的理解。

(1分)

材料三

中国收到的部分国礼	与国礼相关的史实
2014年9月, 习近平主席出访斯里兰卡(古时称作锡兰)时获赠的礼物之一是郑和《布施锡兰山佛寺碑》拓片	A
2015年10月, 习近平主席在英国访问时收到了英国女王赠送的莎士比亚的十四行诗集	B
2019年3月, 法国总统马克龙将《论语导读》法文版原著作为礼物送给到访的习近平主席	孔子和儒家思想

(3) 依据材料三，结合所学，补全表格中的史实。(2分)并分别说明其历史作用。(2分)

材料四

- 人类在漫长的历史长河中，创造和发展了多姿多彩的文明。
- 各种人类文明在价值上是平等的，都各有千秋，也各有不足。
- 只要秉持包容精神，就不存在什么“文明冲突”，就可以实现文明和谐。

——2014年《习近平在联合国教科文组织总部的演讲》

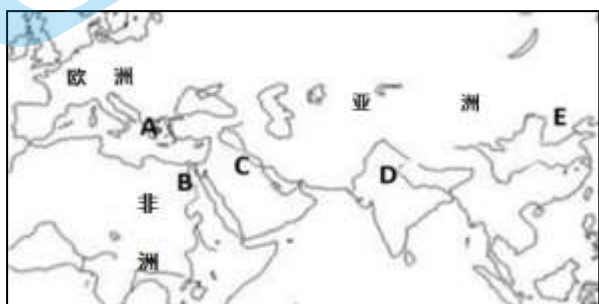
(4) 依据材料四，指出中国秉持的文明观。(2分)

24. (9分) 第24届冬季奥林匹克运动会将于2022年2月在北京召开，某历史社团要举办“中国与奥林匹克运动”主题活动。

【现代奥林匹克】

奥林匹克运动会起源于古希腊。首届现代奥运会于1896年4月在希腊雅典举办。

(1) 在下图中指出首届奥运会召开地。(1分。填写字母)



【“伟大的奥林匹克人”】

何振梁将一生奉献给了奥林匹克事业。他于1981年当选为国际奥委会委员，在为奥林匹克运动服务的30年间，他曾任文化委员会主席、文化和奥林匹克教育委员会主席以及大众体育委员会副主席，做出了很多成绩。何振梁坚信体育在教育中的作用，一直倡导奥林匹克价值观的教育及学校体育课程的开设。正是出于这个原因，在北京奥运会举办的若干年前，中国数亿学生学习了奥林匹克价值观。为北京申办奥运会，何振梁曾在两年多的时间内飞遍五大洲，遍访拥有投票权的国际奥委会委员，飞行总里程超过60万公里，可以绕行地球十多圈。

——摘编自托马斯·巴赫《何振梁：伟大的奥林匹克人》

(2) 依据材料，概括何振梁对奥林匹克事业做出的贡献。(2分)

【凄苦走向辉煌】

①1932年洛杉矶奥运会上，中华民国政府正式派人参加。刘长春成为第一位也是当届唯一一位中国奥运选手
②1936年柏林奥运会上，中国共69名运动员参赛，除撑竿跳项目取得比赛资格外，其他选手都在预赛时淘汰。因经费有限，回国路费还是由华侨、留学生募捐勉强凑够的
③1984年洛杉矶奥运会上，射击选手许海峰获得中国奥运历史上的首枚金牌，体操选手李宁夺得3金2银1铜，成为该届奥运会上获得奖牌数量最多的运动员
④2001年7月北京获得第29届夏季奥林匹克运动会主办权
⑤2002年盐湖城冬奥会上，杨扬在短道速滑项目中为中国赢得了第一枚冬奥会金牌
⑥2004年雅典奥运会上，刘翔以打破奥运会纪录的成绩获得了110米跨栏金牌
⑦2008年北京奥运会上，中国选手创4项世界纪录，夺得100枚奖牌，其中金牌51枚
⑧2015年7月北京获得第24届冬季奥林匹克运动会举办权
⑨2021年东京奥运会上，中国代表团取得了38金32银18铜的优异成绩

(3) 将以上材料按主题整理，每个主题至少选择两条材料。(3分)

主题	材料序号	主题	材料序号	主题	材料序号
艰难起步					

(4) 结合所学，列举中国奥运由凄苦走向辉煌的原因。(2分)

(5) 石景山区是北京2022年冬奥组委驻地和北京赛区唯一的雪上项目竞赛场馆所在地。作为石景山区的一名中学生，谈谈你可以为冬奥会圆满召开做出的努力。(1分)

2022 北京石景山初三（上）期末历史

参考答案

I、选择题（每小题 1.5 分，共 30 分）

题号	1	2	3	4	5	6	7	8	9	10
答案	D	C	C	D	B	A	A	D	B	C
题号	11	12	13	14	15	16	17	18	19	20
答案	D	A	A	C	B	D	A	B	C	B

II、材料解析题（共 40 分）

21. (10 分)

(1) (4 分)

示例：

材料②，秦朝实行郡县制。桂林郡、南海郡、象郡是秦在南方设置的三郡，郡县制的实行，有利于巩固统治，开创了此后我国历代王朝地方行政的基本模式。

材料③，唐朝时对外开放。玄奘西行和鉴真东渡是中外交往中的典型示例，促进了不同文明间的交流。

材料④，宋代南方经济发展。遂宁糖霜生产中心和市场上普遍出售糖类食品反映了当时手工业、商业的发展，丰富了社会生活。

材料⑤，元代对外交通与贸易发达。一方面引起先进制糖技术，另一方面输出大量商品，出现了以泉州为代表的大型商业港口，促进了中外经济、文化和科技的交流。

(2) (2 分)

发展趋势：从只有富人能够消费向普通人消费转变。

原因：英国海外殖民地扩大，甘蔗种植园面积增加，蔗糖产量提高，蔗糖价格下降。

(3) (2 分)

A：黑人奴隶。

(4) (2 分)

改变：英国工人的饮食结构和习惯逐渐改变。（或答出变化的具体表现）

背景：工业革命的发生

22. (11 分)

(1) (5 分)

阶段特征	相关史实	典型文物（填写序号）
		②
生产发展	牛耕的出现与推广	
	商鞅变法	③

(2) (3 分)

变化：贸易范围扩大；贸易线路增多。

影响：世界各地之间的联系进一步加强；世界市场逐渐形成；促进了资本主义的发展；促进了世界范围内的物种交换和人口迁移等。

(3) (2分)

马克思撰写了《共产党宣言》，标志着马克思主义的诞生；李大钊宣传马克思主义，为中国共产党的诞生奠定了思想基础。

(4) (1分) 言之成理即可得分。

23. (10分)

(1) (2分)

A:① B:②

(2) (2分)

变化：由从中国出发，经过中亚、西亚，再通往地中海地区的交通道路延伸为一切与东西方交通联系的交通通道。作者把丝绸之路称为“金丝带”，意在说明丝绸之路在促进东西方经济、文化交流中的重要作用。

(3) (4分)

A:郑和下西洋。促进了中国与亚非国家和地区的相互了解和友好往来，开创了西太平洋与印度洋之间的亚非海上交通线。

B:文艺复兴。推动了欧洲文化思想领域的繁荣，为欧洲资本主义社会的产生和发展奠定了思想文化基础。

(4) (2分)

文明是多元的；文明是平等的；不同文明之间要互相包容；不同文明可以和谐共处。

24. (9分)

(1) (1分)

A

(2) (2分)

推动了国际奥林匹克事业的发展；推广了奥林匹克价值观；助力北京申办奥运会。

(3) (3分)

主题与所选材料匹配

示例：

主题	材料序号
艰难起步	①②

主题	材料序号
首金突破	③⑤

主题	材料序号
承办奥运	④⑧

主题	材料序号
辉煌成就	③④⑤⑥⑦⑧⑨

(4) (2分)

中国国际地位提高；改革开放以来国力增强；国家对于竞技体育的重视；体育人士不懈的努力；科技助力体育训练；国人身体素质提升等。

(5) (1分) 言之成理即可得分。

北京高一高二高三期末试题下载

北京高考资讯整理了【2022年1月北京各区各年级期末试题&答案汇总】专题，及时更新最新试题及答案。

通过【北京高考资讯】公众号，对话框回复【期末】或者底部栏目<试题下载→期末试题>，进入汇总专题，查看并下载电子版试题及答案！

