

## 西城区高三模拟测试

## 数 学(理科)

2017.5

本试卷分第Ⅰ卷和第Ⅱ卷两部分，第Ⅰ卷1至2页，第Ⅱ卷3至6页，共150分。考试时长120分钟。考生务必将答案答在答题纸上，在试卷上作答无效。考试结束后，将本试卷和答题纸一并交回。

## 第Ⅰ卷 (选择题 共40分)

一、选择题：本大题共8小题，每小题5分，共40分。在每小题列出的四个选项中，选出符合题目要求的一项。

1. 在复平面内，复数 $z$ 对应的点是 $Z(1, -2)$ ，则复数 $z$ 的共轭复数 $\bar{z} =$

- (A)  $1+2i$       (B)  $1-2i$       (C)  $2+i$       (D)  $2-i$

2. 下列函数中，值域为 $[0, 1]$ 的是

- (A)  $y = x^2$       (B)  $y = \sin x$

- (C)  $y = \frac{1}{x^2+1}$       (D)  $y = \sqrt{1-x^2}$

3. 在极坐标系中，圆 $\rho = \sin\theta$ 的圆心的极坐标是

- (A)  $(1, \frac{\pi}{2})$       (B)  $(1, 0)$       (C)  $(\frac{1}{2}, \frac{\pi}{2})$       (D)  $(\frac{1}{2}, 0)$

4. 在平面直角坐标系中，不等式组  $\begin{cases} 3x-2y \geq 0, \\ 3x-y-3 \leq 0, \\ y \geq 0 \end{cases}$  表示的平面区域的面积是

- (A) 1      (B)  $\frac{3}{2}$       (C) 2      (D)  $\frac{5}{2}$

北京市西城区2017年5月高三数学试卷(理科) 第1页(共6页)

5. 设双曲线  $\frac{y^2}{a^2} - \frac{x^2}{b^2} = 1$  ( $a > 0, b > 0$ ) 的离心率是 3, 则其渐近线的方程为

(A)  $x \pm 2\sqrt{2}y = 0$

(B)  $2\sqrt{2}x \pm y = 0$

(C)  $x \pm 8y = 0$

(D)  $8x \pm y = 0$

6. 设  $a, b$  是平面上的两个单位向量,  $a \cdot b = \frac{3}{5}$ . 若  $m \in \mathbf{R}$ , 则  $|a + mb|$  的最小值是

(A)  $\frac{3}{4}$

(B)  $\frac{4}{3}$

(C)  $\frac{4}{5}$

(D)  $\frac{5}{4}$

7. 函数  $f(x) = x|x|$ , 若存在  $x \in [1, +\infty)$ , 使得  $f(x-2k) - k < 0$ , 则  $k$  的取值范围是

(A)  $(2, +\infty)$

(B)  $(1, +\infty)$

(C)  $(\frac{1}{2}, +\infty)$

(D)  $(\frac{1}{4}, +\infty)$

8. 有三支股票 A, B, C, 28 位股民的持有情况如下: 每位股民至少持有其中一支股票. 在不持有 A 股票的人中, 持有 B 股票的人数是持有 C 股票的人数的 2 倍. 在持有 A 股票的人中, 只持有 A 股票的人数比除了持有 A 股票外, 同时还持有其它股票的人数多 1. 在只持有一支股票的人中, 有一半持有 A 股票. 则只持有 B 股票的股民人数是

(A) 7

(B) 6

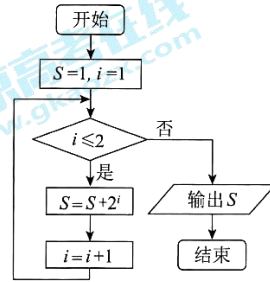
(C) 5

(D) 4

第 II 卷 (非选择题 共 110 分)

二、填空题：本大题共 6 小题，每小题 5 分，共 30 分。

9. 执行如图所示的程序框图，输出的  $S$  值为\_\_\_\_\_。



10. 已知等差数列  $\{a_n\}$  的公差为 2，且  $a_1, a_2, a_4$  成等比

数列，则  $a_1 =$ \_\_\_\_\_；数列  $\{a_n\}$  的前  $n$  项和  $S_n =$ \_\_\_\_\_。

11. 在  $\triangle ABC$  中，角  $A, B, C$  的对边分别是  $a, b, c$ 。若

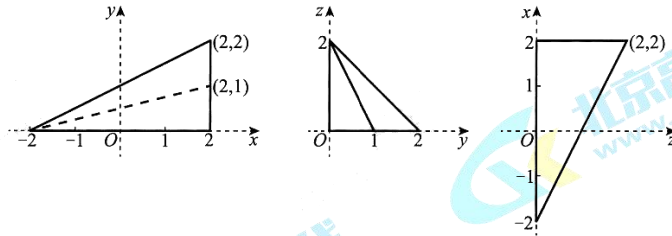
$$A = \frac{\pi}{3}, a = \sqrt{3}, b = 1, \text{ 则 } c = \text{_____}.$$

12. 函数  $f(x) = \begin{cases} 2^x, & x \leq 0, \\ \log_2 x, & x > 0. \end{cases}$  则  $f(\frac{1}{4}) =$ \_\_\_\_\_；方程  $f(-x) = \frac{1}{2}$  的解是\_\_\_\_\_。

13. 大厦一层有 A, B, C, D 四部电梯，3 人在一层乘坐电梯上楼，其中 2 人恰好乘坐同一部电梯，则不同的乘坐方式有\_\_\_\_\_种。(用数字作答)

14. 在空间直角坐标系  $O-xyz$  中，四面体  $A-BCD$  在  $xOy, yOz, zOx$  坐标平面上的

一组正投影图形如图所示(坐标轴用细虚线表示)。该四面体的体积是\_\_\_\_\_。



三、解答题：本大题共 6 小题，共 80 分。解答应写出必要的文字说明、证明过程或演算步骤。

15. (本小题满分 13 分)

已知函数  $f(x) = \tan(x + \frac{\pi}{4})$ .

(I) 求  $f(x)$  的定义域；

(II) 设  $\beta \in (0, \pi)$ ，且  $f(\beta) = 2\cos(\beta - \frac{\pi}{4})$ ，求  $\beta$  的值。

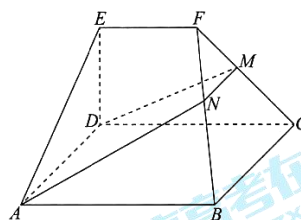
16. (本小题满分 14 分)

如图，在几何体  $ABCDEF$  中，底面  $ABCD$  为矩形， $EF \parallel CD$ ， $AD \perp FC$ 。点  $M$  在棱  $FC$  上，平面  $ADM$  与棱  $FB$  交于点  $N$ 。

(I) 求证： $AD \parallel MN$ ；

(II) 求证：平面  $ADMN \perp$  平面  $CDEF$ ；

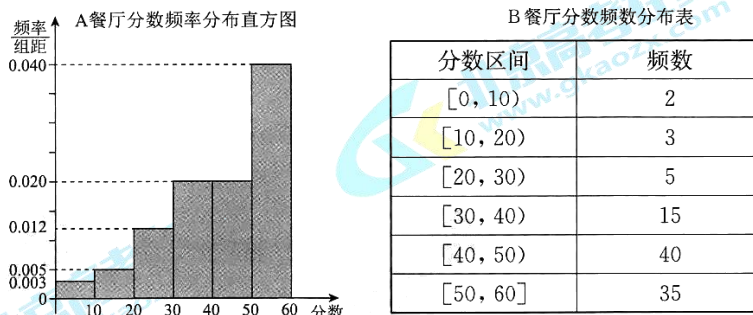
(III) 若  $CD \perp EA$ ， $EF = ED$ ， $CD = 2EF$ ，平面  $ADE \cap$  平面  $BCF = l$ ，求二面角  $A-l-B$  的大小。



17. (本小题满分 13 分)

某大学为调研学生在 A, B 两家餐厅用餐的满意度, 从在 A, B 两家餐厅都用过餐的学生中随机抽取了 100 人, 每人分别对这两家餐厅进行评分, 满分均为 60 分.

整理评分数据, 将分数以 10 为组距分成 6 组:  $[0, 10)$ ,  $[10, 20)$ ,  $[20, 30)$ ,  $[30, 40)$ ,  $[40, 50)$ ,  $[50, 60]$ , 得到 A 餐厅分数的频率分布直方图, 和 B 餐厅分数的频数分布表:



定义学生对餐厅评价的“满意度指数”如下:

分数	$[0, 30)$	$[30, 50)$	$[50, 60]$
满意度指数	0	1	2

- (I) 在抽样的 100 人中, 求对 A 餐厅评价“满意度指数”为 0 的人数;
- (II) 从该校在 A, B 两家餐厅都用过餐的学生中随机抽取 1 人进行调查, 试估计其对 A 餐厅评价的“满意度指数”比对 B 餐厅评价的“满意度指数”高的概率;
- (III) 如果从 A, B 两家餐厅中选择一家用餐, 你会选择哪一家? 说明理由.

18. (本小题满分 14 分)

在平面直角坐标系  $xOy$  中, 抛物线  $C$  的顶点是原点, 以  $x$  轴为对称轴, 且经过点  $P(1, 2)$ .

- (I) 求抛物线  $C$  的方程;
- (II) 设点  $A, B$  在抛物线  $C$  上, 直线  $PA, PB$  分别与  $y$  轴交于点  $M, N$ ,  $|PM| = |PN|$ . 求直线  $AB$  的斜率.

19. (本小题满分 13 分)

已知函数  $f(x) = (x^2 + ax - a) \cdot e^{1-x}$ , 其中  $a \in \mathbf{R}$ .

(I) 求函数  $f'(x)$  的零点个数;

(II) 证明:  $a \geq 0$  是函数  $f(x)$  存在最小值的充分而不必要条件.

20. (本小题满分 13 分)

设集合  $A_{2n} = \{1, 2, 3, \dots, 2n\}$  ( $n \in \mathbf{N}^*$ ,  $n \geq 2$ ). 如果对于  $A_{2n}$  的每一个含有  $m$  ( $m \geq 4$ ) 个元素的子集  $P$ ,  $P$  中必有 4 个元素的和等于  $4n+1$ , 称正整数  $m$  为集合  $A_{2n}$  的一个“相关数”.

(I) 当  $n=3$  时, 判断 5 和 6 是否为集合  $A_6$  的“相关数”, 说明理由;

(II) 若  $m$  为集合  $A_{2n}$  的“相关数”, 证明:  $m - n - 3 \geq 0$ ;

(III) 给定正整数  $n$ . 求集合  $A_{2n}$  的“相关数”  $m$  的最小值.

西城区高三模拟测试

高三数学（理科）参考答案及评分标准

2017.5

一、选择题：本大题共 8 小题，每小题 5 分，共 40 分。

1. A                      2. D                      3. C                      4. B  
5. A                      6. C                      7. D                      8. A

二、填空题：本大题共 6 小题，每小题 5 分，共 30 分。

9. 7                              10. 2,  $n^2 + n$                               11. 2  
12. -2;  $-\sqrt{2}$  或 1                              13. 36                              14.  $\frac{4}{3}$

注：第 10, 12 题第一空 2 分，第二空 3 分。

三、解答题：本大题共 6 小题，共 80 分。其他正确解答过程，请参照评分标准给分。

15. (本小题满分 13 分)

解：(I) 由  $x + \frac{\pi}{4} \neq k\pi + \frac{\pi}{2}$ , 得  $x \neq k\pi + \frac{\pi}{4}$ ,  $k \in \mathbf{Z}$ . [3 分]

所以 函数  $f(x)$  的定义域是  $\{x | x \neq k\pi + \frac{\pi}{4}, k \in \mathbf{Z}\}$ . [4 分]

(II) 依题意, 得  $\tan(\beta + \frac{\pi}{4}) = 2 \cos(\beta - \frac{\pi}{4})$ . [5 分]

所以  $\frac{\sin(\beta + \frac{\pi}{4})}{\cos(\beta + \frac{\pi}{4})} = 2 \sin(\beta + \frac{\pi}{4})$ , [7 分]

整理得  $\sin(\beta + \frac{\pi}{4}) \cdot [2 \cos(\beta + \frac{\pi}{4}) - 1] = 0$ , [8 分]

所以  $\sin(\beta + \frac{\pi}{4}) = 0$ , 或  $\cos(\beta + \frac{\pi}{4}) = \frac{1}{2}$ . [10 分]

因为  $\beta \in (0, \pi)$ , 所以  $\beta + \frac{\pi}{4} \in (\frac{\pi}{4}, \frac{5\pi}{4})$ , [11 分]

由  $\sin(\beta + \frac{\pi}{4}) = 0$ , 得  $\beta + \frac{\pi}{4} = \pi$ ,  $\beta = \frac{3\pi}{4}$ ; [12 分]

由  $\cos(\beta + \frac{\pi}{4}) = \frac{1}{2}$ , 得  $\beta + \frac{\pi}{4} = \frac{\pi}{3}$ ,  $\beta = \frac{\pi}{12}$ .

所以  $\beta = \frac{\pi}{12}$ , 或  $\beta = \frac{3\pi}{4}$ . [13 分]



16. (本小题满分 14 分)

解：(I) 因为  $ABCD$  为矩形，所以  $AD \parallel BC$ ， [1 分]

所以  $AD \parallel$  平面  $FBC$ 。 [3 分]

又因为 平面  $ADMN \cap$  平面  $FBC = MN$ ，

所以  $AD \parallel MN$ 。 [4 分]

(II) 因为  $ABCD$  为矩形，所以  $AD \perp CD$ 。 [5 分]

因为  $AD \perp FC$ ， [6 分]

所以  $AD \perp$  平面  $CDEF$ 。 [7 分]

所以 平面  $ADMN \perp$  平面  $CDEF$ 。 [8 分]

(III) 因为  $EA \perp CD$ ，  $AD \perp CD$ ，

所以  $CD \perp$  平面  $ADE$ ，

所以  $CD \perp DE$ 。

由 (II) 得  $AD \perp$  平面  $CDEF$ ，

所以  $AD \perp DE$ 。

所以  $DA$ ，  $DC$ ，  $DE$  两两互相垂直。 [9 分]

建立空间直角坐标系  $D-xyz$ 。 [10 分]

不妨设  $EF = ED = 1$ ， 则  $CD = 2$ ， 设  $AD = a (a > 0)$ 。

由题意得，  $A(a, 0, 0)$ ，  $B(a, 2, 0)$ ，  $C(0, 2, 0)$ ，  $D(0, 0, 0)$ ，  $E(0, 0, 1)$ ，  $F(0, 1, 1)$ 。

所以  $\vec{CB} = (a, 0, 0)$ ，  $\vec{CF} = (0, -1, 1)$ 。

设平面  $FBC$  的法向量为  $\mathbf{n} = (x, y, z)$ ， 则

$$\begin{cases} \mathbf{n} \cdot \vec{CB} = 0, \\ \mathbf{n} \cdot \vec{CF} = 0, \end{cases} \quad \text{即} \quad \begin{cases} ax = 0, \\ -y + z = 0. \end{cases} \quad \text{令 } z = 1, \text{ 则 } y = 1.$$

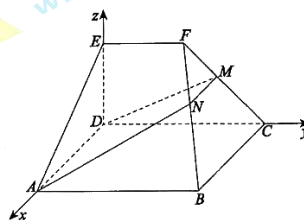
所以  $\mathbf{n} = (0, 1, 1)$ 。 [12 分]

又平面  $ADE$  的法向量为  $\vec{DC} = (0, 2, 0)$ ， 所以

$$|\cos\langle \mathbf{n}, \vec{DC} \rangle| = \frac{|\mathbf{n} \cdot \vec{DC}|}{|\mathbf{n}| |\vec{DC}|} = \frac{\sqrt{2}}{2}.$$

因为 二面角  $A-l-B$  的平面角是锐角，

所以 二面角  $A-l-B$  的大小  $45^\circ$ 。 [14 分]





17. (本小题满分 13 分)

解：(I) 由对 A 餐厅评分的频率分布直方图，得

对 A 餐厅“满意度指数”为 0 的频率为  $(0.003+0.005+0.012)\times 10=0.2$ ， [2 分]

所以，对 A 餐厅评价“满意度指数”为 0 的人数为  $100\times 0.2=20$ 。 [3 分]

(II) 设“对 A 餐厅评价‘满意度指数’比对 B 餐厅评价‘满意度指数’高”为事件 C。

记“对 A 餐厅评价‘满意度指数’为 1”为事件  $A_1$ ；“对 A 餐厅评价‘满意度指

数’为 2”为事件  $A_2$ ；“对 B 餐厅评价‘满意度指数’为 0”为事件  $B_0$ ；“对 B

餐厅评价‘满意度指数’为 1”为事件  $B_1$ 。

所以  $P(A_1)=(0.02+0.02)\times 10=0.4$ ，  $P(A_2)=0.4$ ， [5 分]

由用频率估计概率得： $P(B_0)=\frac{2+3+5}{100}=0.1$ ，  $P(B_1)=\frac{15+40}{100}=0.55$ 。 [7 分]

因为事件  $A_i$  与  $B_j$  相互独立，其中  $i=1,2$ ，  $j=0,1$ 。

所以  $P(C)=P(A_1B_0+A_2B_0+A_2B_1)$

$$=P(A_1)P(B_0)+P(A_2)P(B_0)+P(A_2)P(B_1)$$

$$=0.4\times 0.1+0.4\times 0.1+0.4\times 0.55=0.3。 [10 分]$$

所以 该学生对 A 餐厅评价的“满意度指数”比对 B 餐厅评价的“满意度指数”高的概率为 0.3。

(III) 如果从学生对 A, B 两家餐厅评价的“满意度指数”的期望角度看：

A 餐厅“满意度指数”  $X$  的分布列为：

$X$	0	1	2
$P$	0.2	0.4	0.4

B 餐厅“满意度指数”  $Y$  的分布列为：

$Y$	0	1	2
$P$	0.1	0.55	0.35

因为  $E(X)=0\times 0.2+1\times 0.4+2\times 0.4=1.2$ ；

$$E(Y)=0\times 0.1+1\times 0.55+2\times 0.35=1.25，$$

所以  $E(X)<E(Y)$ ， 会选择 B 餐厅用餐。

[13 分]

注：本题答案不唯一。只要考生言之合理即可。

北京市西城区 2017 年 5 月高三数学（理科）参考答案 第 3 页（共 6 页）

18. (本小题满分 14 分)

解：(I) 依题意，设抛物线  $C$  的方程为  $y^2 = ax (a \neq 0)$ . [1 分]

由抛物线  $C$  且经过点  $P(1, 2)$ ,

得  $a = 4$ ,

[3 分]

所以 抛物线  $C$  的方程为  $y^2 = 4x$ .

[4 分]

(II) 因为  $|PM| = |PN|$ ,

所以  $\angle PMN = \angle PNM$ ,

所以  $\angle 1 = \angle 2$ ,

所以 直线  $PA$  与  $PB$  的倾斜角互补,

所以  $k_{PA} + k_{PB} = 0$ .

[6 分]

依题意，直线  $AP$  的斜率存在，设直线  $AP$  的方程为： $y - 2 = k(x - 1) (k \neq 0)$ ,

将其代入抛物线  $C$  的方程，整理得

$$k^2 x^2 - 2(k^2 - 2k + 2)x + k^2 - 4k + 4 = 0.$$

[8 分]

设  $A(x_1, y_1)$ , 则  $1 \times x_1 = \frac{k^2 - 4k + 4}{k^2}$ ,  $y_1 = k(x_1 - 1) + 2 = \frac{4}{k} - 2$ ,

[10 分]

所以  $A(\frac{(k-2)^2}{k^2}, \frac{4}{k} - 2)$ .

[11 分]

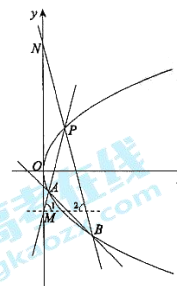
以  $-k$  替换点  $A$  坐标中的  $k$ , 得  $B(\frac{(k+2)^2}{k^2}, -\frac{4}{k} - 2)$ .

[12 分]

$$\text{所以 } k_{AB} = \frac{\frac{4}{k} - (-\frac{4}{k})}{\frac{(k-2)^2}{k^2} - \frac{(k+2)^2}{k^2}} = -1.$$

所以 直线  $AB$  的斜率为  $-1$ .

[14 分]



19. (本小题满分 13 分)

解：(I) 由  $f(x) = (x^2 + ax - a) \cdot e^{1-x}$ ,

$$\text{得 } f'(x) = (2x + a) \cdot e^{1-x} - (x^2 + ax - a) \cdot e^{1-x}$$

$$= -[x^2 + (a-2)x - 2a] \cdot e^{1-x}$$

$$= -(x+a)(x-2) \cdot e^{1-x}.$$

[2 分]

令  $f'(x) = 0$ , 得  $x = 2$ , 或  $x = -a$ .

所以 当  $a = -2$  时, 函数  $f'(x)$  有且只有一个零点:  $x = 2$ ; 当  $a \neq -2$  时, 函数  $f'(x)$

有两个相异的零点:  $x = 2$ ,  $x = -a$ .

[4 分]

(II) ① 当  $a = -2$  时,  $f'(x) \leq 0$  恒成立, 此时函数  $f(x)$  在  $(-\infty, +\infty)$  上单调递减,

所以, 函数  $f(x)$  无极值. [5分]

② 当  $a > -2$  时,  $f'(x)$ ,  $f(x)$  的变化情况如下表:

$x$	$(-\infty, -a)$	$-a$	$(-a, 2)$	$2$	$(2, +\infty)$
$f'(x)$	-	0	+	0	-
$f(x)$	$\searrow$	极小值	$\nearrow$	极大值	$\searrow$

所以,  $a \geq 0$  时,  $f(x)$  的极小值为  $f(-a) = -a \cdot e^{1+a} \leq 0$ . [7分]

又  $x > 2$  时,  $x^2 + ax - a > 2^2 + 2a - a = a + 4 > 0$ ,

所以, 当  $x > 2$  时,  $f(x) = (x^2 + ax - a) \cdot e^{-x} > 0$  恒成立. [8分]

所以,  $f(-a) = -a \cdot e^{1+a}$  为  $f(x)$  的最小值. [9分]

故  $a \geq 0$  是函数  $f(x)$  存在最小值的充分条件. [10分]

③ 当  $a = -5$  时,  $f'(x)$ ,  $f(x)$  的变化情况如下表:

$x$	$(-\infty, 2)$	$2$	$(2, 5)$	$5$	$(5, +\infty)$
$f'(x)$	-	0	+	0	-
$f(x)$	$\searrow$	极小值	$\nearrow$	极大值	$\searrow$

因为 当  $x > 5$  时,  $f(x) = (x^2 - 5x + 5) \cdot e^{-x} > 0$ ,

又  $f(2) = -e^{-1} < 0$ ,

所以, 当  $a = -5$  时, 函数  $f(x)$  也存在最小值. [12分]

所以,  $a \geq 0$  不是函数  $f(x)$  存在最小值的必要条件.

综上,  $a \geq 0$  是函数  $f(x)$  存在最小值的充分而不必要条件. [13分]

20. (本小题满分 13 分)

解: (I) 当  $n = 3$  时,  $A_6 = \{1, 2, 3, 4, 5, 6\}$ ,  $4n + 1 = 13$ . [1分]

① 对于  $A_6$  的含有 5 个元素的子集  $\{2, 3, 4, 5, 6\}$ ,

因为  $2 + 3 + 4 + 5 > 13$ ,

所以 5 不是集合  $A_6$  的“相关数”。 [2分]

②  $A_6$  的含有 6 个元素的子集只有  $\{1,2,3,4,5,6\}$ ,

因为  $1+3+4+5=13$ ,

所以 6 是集合  $A_6$  的“相关数”。 [3分]

(II) 考察集合  $A_{2n}$  的含有  $n+2$  个元素的子集  $B=\{n-1, n, n+1, \dots, 2n\}$ . [4分]

$B$  中任意 4 个元素之和一定不小于  $(n-1)+n+(n+1)+(n+2)=4n+2$ .

所以  $n+2$  一定不是集合  $A_{2n}$  的“相关数”。 [6分]

所以 当  $m \leq n+2$  时,  $m$  一定不是集合  $A_{2n}$  的“相关数”。 [7分]

因此 若  $m$  为集合  $A_{2n}$  的“相关数”, 必有  $m \geq n+3$ .

即 若  $m$  为集合  $A_{2n}$  的“相关数”, 必有  $m-n-3 \geq 0$ . [8分]

(III) 由 (II) 得  $m \geq n+3$ .

先将集合  $A_{2n}$  的元素分成如下  $n$  组:

$$C_i = (i, 2n+1-i) \quad (1 \leq i \leq n).$$

对  $A_{2n}$  的任意一个含有  $n+3$  个元素的子集  $P$ , 必有三组  $C_{i_1}, C_{i_2}, C_{i_3}$  同属于集合  $P$ .

[10分]

再将集合  $A_{2n}$  的元素剔除  $n$  和  $2n$  后, 分成如下  $n-1$  组:

$$D_j = (j, 2n-j) \quad (1 \leq j \leq n-1).$$

对于  $A_{2n}$  的任意一个含有  $n+3$  个元素的子集  $P$ , 必有一组  $D_{j_4}$  属于集合  $P$ . [11分]

这一组  $D_{j_4}$  与上述三组  $C_{i_1}, C_{i_2}, C_{i_3}$  中至少一组无相同元素,

不妨设  $D_{j_4}$  与  $C_{i_1}$  无相同元素.

此时 这 4 个元素之和为  $[i_1 + (2n+1-i_1)] + [j_4 + (2n-j_4)] = 4n+1$ . [12分]

所以 集合  $A_{2n}$  的“相关数”  $m$  的最小值为  $n+3$ . [13分]



扫描二维码, 关注北京高考官方微信!

查看更多北京高考相关资讯