

宜宾市普通高中 2018 级高考适应性考试 文科综合能力测试

本试卷共 14 页，47 题，全卷满分 300 分。考试时间 150 分钟。

注意事项：

1. 答卷前，考生务必将自己的考号、姓名、班级填写在答题卡上。
2. 回答选择题时，选出每小题答案后，用铅笔把答题卡上对应题目的答案标号涂黑。如需改动，用橡皮擦干净后，再选涂其它答案标号。回答非选择题时，将答案写在答题卡上。写在本试卷上无效。

3. 考试结束后，将本试卷和答题卡一并交回。

一、选择题：本题共 35 道小题，每小题 4 分，共 140 分。在每小题给出的四个选项中，只有一项是符合题目要求的。

“中国食品谷”位于山东省潍坊市的城乡结合部，聚合该市优势农产品资源和食品产业，打造农产品从生产到最终消费的全过程闭环控制体系，是农产品流通的一种创新模式。图 1 为该食品谷“核心+外围”园区基本模式图。据此完成 1~3 题。

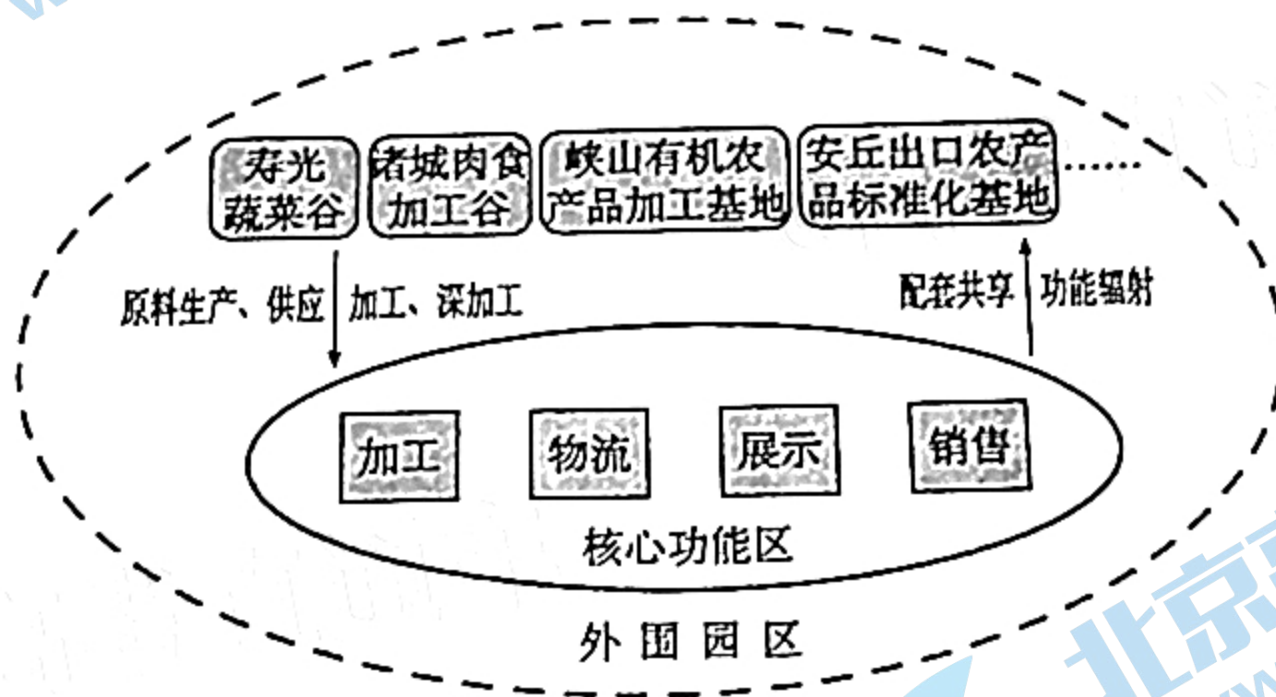


图 1

1. 为保证该模式原料供应充足，食品谷应
 - A. 完善市场销售网络
 - B. 加大技术创新投入
 - C. 加强自主品牌建设
 - D. 扩大农业生产规模
2. 在该模式各环节有机衔接中，起到串联作用的主要是
 - A. 生产环节
 - B. 加工环节
 - C. 物流环节
 - D. 销售环节
3. 该模式可促进

①农产品增值	②农户与企业合作	③农产品种类多样化	④农村生态环境改善
A. ①②	B. ②③	C. ③④	D. ①④

一个国家或地区 65 岁以上老年人口数量占总人口比例超过 7% 时标志着这个国家或地区人口进入老龄化。根据城市和农村人口老龄化程度和速度的不同,可将人口老龄化“城乡差异转变模型”分为四个阶段(图 2)。据此完成 4~6 题。

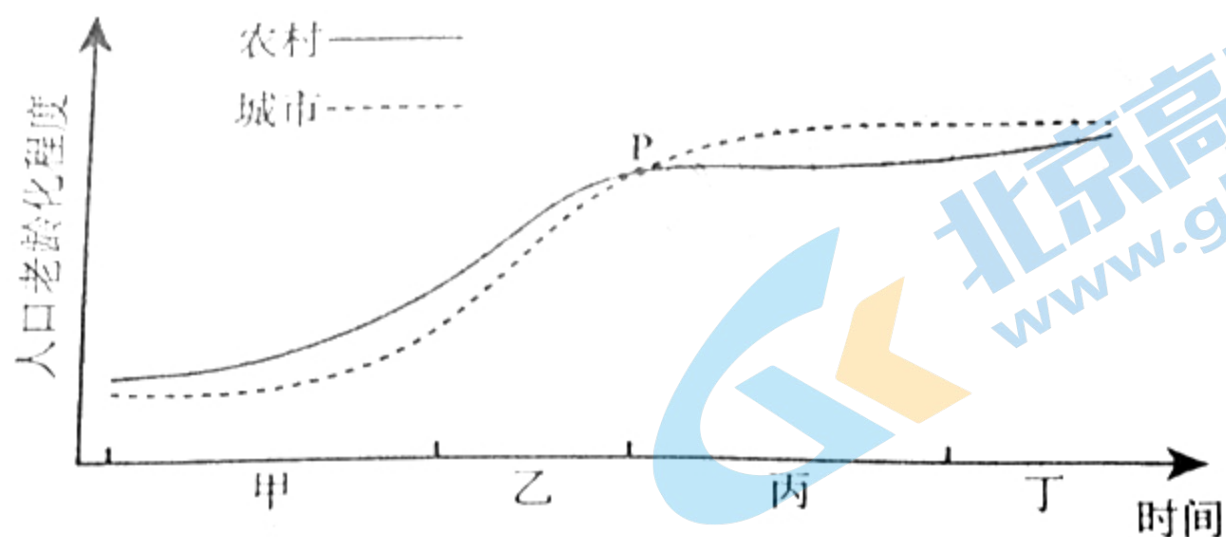


图 2

4. 与城市相比,农村人口老龄化程度高、速度快的阶段是
 - A. 甲段
 - B. 乙段
 - C. 丙段
 - D. 丁段
5. 导致 P 点前人口老龄化程度城乡差异的主要原因可能是城市
 - A. 人均寿命较长
 - B. 人口死亡率较低
 - C. 人口出生率较低
 - D. 青壮年迁入较多
6. 人口老龄化会带来劳动力资源短缺,解决此问题的措施有
 - A. 实行计划生育政策
 - B. 完善养老保障制度
 - C. 探索新型养老方式
 - D. 推行延迟退休政策

新疆是我国棉花种植面积最大、品质最好的地区之一。南疆棉花生长期较北疆地区长 25 天左右,夏季南疆大部分地区的日照时数在 700—900 小时,北疆大部分地区的日照时数可达 900 小时以上。据此完成 7~9 题。

7. 夏季新疆正午太阳高度
 - A. 持续变大
 - B. 先变大,后变小
 - C. 持续变小
 - D. 先变小,后变大
8. 夏季北疆日照时数略长于南疆的主要原因是北疆
 - A. 云量较多
 - B. 沙尘天气较多
 - C. 白昼较长
 - D. 日出方位角较小
9. 与北疆相比,南疆棉花生长期较长的原因是
 - A. 光照更充足
 - B. 热量条件更好
 - C. 降水量更大
 - D. 昼夜温差更大

关注北京高考在线官方微信:北京高考资讯(ID:bj-gaokao),获取更多试题资料及排名分析信息。

乞力马扎罗山位于东非高原赤道与南纬3°之间，拥有丰富的动植物物种。图3为乞力马扎罗山北坡、南坡自然带垂直带谱分布图。据此完成10~11题。

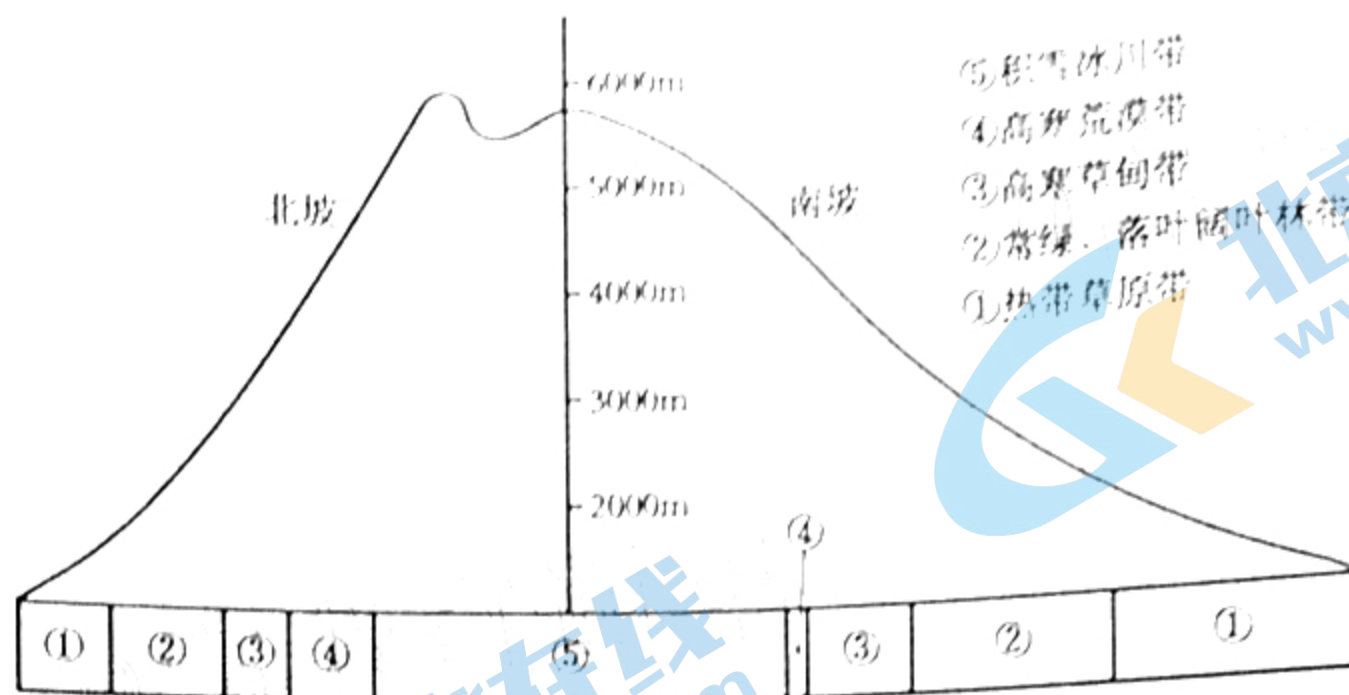


图3

10. 该山地南坡
- A. 为迎风坡，雪线低
B. 为迎风坡，雪线高
C. 为背风坡，雪线低
D. 为背风坡，雪线高
11. 该山地物种最丰富的自然带是
- A. ①
B. ②
C. ③
D. ④
12. 2020年11月，第三届中国国际进口博览会圆满落下帷幕，累计意向成交726.2亿美元，比上届增长2.1%；“双11”，电商交易再次呈现火爆景象；“直播带货”等新业态蓬勃兴起，智慧物流等新模式不断升级，自主品牌等新产品表现亮眼。这表明
- ①居民生活水平的不断提升带动了消费升级
②我国呈现市场活力和消费强劲复苏的态势
③新业态满足了居民个性化、多元化的需求
④我国超大规模市场释放出巨大的消费潜力
- A. ①③
B. ①④
C. ②③
D. ②④
13. 混合所有制改革是新一轮国企改革的重要突破口，非公有资本投资主体可通过出资入股、收购股权、认购可转债、股权置换等多种方式，参与国有企业改制重组或国有控股上市公司增资扩股以及企业经营管理。这一改革旨在
- ①促进非公有制经济更好发展
②推动民企与国企优势互补
③使国有企业处于产业链高端
④促进国有企业治理现代化
- A. ①②
B. ①③
C. ②④
D. ③④
14. 财政部等七部门联合印发《关于进一步加强惠民惠农财政补贴资金“一卡通”管理的指导意见》，提出到2023年，所有直接兑付到人到户的惠民惠农财政补贴资金原则上均实现通过“一卡通”方式发放，鼓励推行以社会保障卡为载体发放补贴资金。这一做法有利于
- ①增加财政补贴资金筹措渠道，提高资金的运转效率
②改变财政补贴资金投入机制，扩大资金的使用范围
③提高财政补贴资金发放效率，方便群众享受财政补贴
④加强财政补贴资金监管，确保财政补贴资金落实到位
- A. ①②
B. ①③
C. ②④
D. ③④

15. 第4届中国—东盟信息港论坛采取“线上+线下”相结合的形式举办,涵盖5G、人工智能、北斗应用和数字丝路建设等领域。线上同步举办中国—东盟数字技术展览,开设有新一代信息技术、5G通信、人工智能、智能制造与电子商务、智慧城市与社会治理等领域的线上展厅。对此正确的认识是
- ①举办中国—东盟信息港论坛顺应了经济全球化发展大势
②“线上+线下”能有效推动信息互联互通,深化数字科技合作
③加强数字经济领域交流合作促成了中国与东盟贸易结构优化
④我国已实现联动发展、普惠共赢的“一带一路”发展格局
- A. ①② B. ①③ C. ②④ D. ③④
16. 某区探索出“群英断是非”的治理模式,群众的“是非”由群众在意的、熟悉的、说话有分量的人坐在一起评理、“断一断”,干部不当“判官”,当好“督官”。经过两年多的实践运用,“群英断是非”仅在5个社区、村就成功解决了29类、287项具体问题。“群英断是非”的治理模式
- ①核心是充分尊重人民当家作主的权利
②实现了干部由管理者向服务者的转变
③创新了公众广泛参与的利益协商渠道
④推进了基层民主决策,满足群众诉求
- A. ①③ B. ①④ C. ②③ D. ②④
17. 每月双周的周三下午,某街道人大代表联络站都会举行一场互动活动。活动双方分别是各级人大代表和附近的居民群众。在这里,不管是哪一级代表,大家都会在工作之余抽出时间来到代表联络站耐心地倾听、真诚地劝解、尽心地服务,并认真记录居民群众的意见建议。人大代表联络站的建设
- ①是坚持和完善人民代表大会制度的重要举措
②是发挥代表作用、促进代表履职的主要渠道
③是通过制度建设强化对权力约束的有益探索
④能够把制度优势转化为推进基层治理的效能
- A. ①③ B. ①④ C. ②③ D. ②④
18. 2020年以来,新冠肺炎疫情在全球迅速蔓延,各种风险不断累积和暴露,世界经济衰退风险攀升。如何准确研判当前国际形势,利用好发展机遇并成功应对,努力开创中国大国外交的新局面,是当前的重要命题。这要求我们
- ①将建立国际新秩序作为外交政策的基本立足点
②把对世界的责任与担当和维护本国利益相结合
③秉持人类命运共同体理念,积极贡献中国力量
④积极推动国际间交流与合作,促进多极化发展
- A. ①③ B. ①④ C. ②③ D. ②④

19. 《典籍里的中国》是一部用国学知识滋养心灵的好节目。它聚焦中华优秀传统文化典籍，以“文化节目+戏剧+影视化”的方式，讲述典籍的成书、核心思想以及流传中的闪亮故事，真正做到了让书写在典籍里的文字“活”起来，展现典籍里蕴含的中国智慧、中国精神和中国价值。该节目成功的原因在于
- ①精选文化典籍，激发了人民群众的情感认同
 - ②立足社会实际，丰富了传统文化的时代价值
 - ③革新表现手法，焕发了历史文化的独特魅力
 - ④传承思想精髓，引领了民族文化的发展潮流
- A. ①② B. ①③ C. ②④ D. ③④
20. 2021年4月“东亚文化之都中国敦煌活动年”在甘肃敦煌举行，活动采取“线上线下相结合”的模式，举办涵盖文化、体育、教育、旅游、经贸等领域的国际交流会展、学术研讨、文旅交融及地方特色等活动。开展“活动年”
- ①是一种通过文化交流来缩小文化发展差距的手段
 - ②为国际文化交流互鉴开辟了新渠道和增添了华彩
 - ③秉承了“丝路精神”，以人文交流促进民心相通
 - ④推动东亚文化一体化，助力打造亚洲命运共同体
- A. ①② B. ①④ C. ②③ D. ③④
21. 历时8年，经过多轮谈判，区域全面经济伙伴关系协定（RCEP）终于在2020年11月正式签署。RCEP的建成是我国在习近平新时代中国特色社会主义思想指引下实施自由贸易区战略取得的重大进展，将为我国在新时期构建开放型经济新体制，形成国内大循环为主体、国内国际双循环相互促进新发展格局提供巨大助力。由此可见
- ①构建经济伙伴关系是我国贸易发展的根本动力
 - ②新发展战略是构建经济新体制、新格局的先导
 - ③人类社会的发展总是离不开以科学理论为指导
 - ④内需和外贸在新发展格局中的地位作用不均衡
- ~~A. ①②~~ ~~B. ①③~~ C. ②④ D. ③④
22. 目前，我国知识产权保护工作取得了历史性成就，但是我们仍然要看到不足之处。我们要从国家战略高度和进入新发展阶段要求出发，全面加强知识产权保护工作，打通知识产权创造、运用、保护、管理、服务全链条，并借鉴外国先进经验，走好中国特色知识产权保护道路。这告诉我们
- ①要将一切事物都看成是优点和缺点的矛盾统一体
 - ②打造特色要实事求是，摆脱不利客观条件的束缚
 - ③充分发挥主观能动性是我们正确解决矛盾的前提
 - ④注重事物内部结构的优化有利于提升整体的效能
- A. ①② B. ①③ C. ②④ D. ③④

关注北京高考在线官方微信：[北京高考资讯\(ID:bj-gaokao\)](#)，获取更多试题资料及排名分析信息。

23. 2020年10月17日，第十三届全国人大常委会第二次修订《中华人民共和国未成年人保护法》，自2021年6月1日起施行。该法为保护未成年人身心健康，保障未成年人合法权益起着至关重要的作用。未成年人保护法的修订是基于

- ①认识受主客观因素的制约，具有反复性和上升性
- ②推动上层建筑与时俱进，才能反作用于经济基础
- ③矛盾具有特殊性，解决问题的对策必须有针对性
- ④生产关系必须适应生产力是社会发展~~的~~客观规律

- A. (1)(2) B. (1)(3) C. (2)(4) D. (3)(4)

24. 图4为先秦时期不同地区的青铜方尊。其形制的特点反映出



图4

- A. 贵族阶层的旨趣一致
- B. 大一统下的整齐划一
- C. 青铜在民间普遍使用
- D. 多元一体的文化融合

25. 汉武帝前期，地方上交中央的贡赋，“往来烦杂，物多苦恶，或不偿其费”。元封年间，武帝推行均输法，“谓诸当所输于官者，皆令输其土地所饶，平其所在时价。官更于他处卖之，输者既便，而官有利”。这一变化

- A. 加重了百姓负担
- B. 增强了市场的活力
- C. 打击了富商大贾
- D. 促使货币地租盛行

26. 隋代三省为政务机构，所谓“朝之众务，总归于台阁，尚书省事无不总”。唐代仍以三省六部制为核心，其运转方式渐趋规范，宰相之间亦形成了较为稳定的权力平衡。这说明唐代

- A. 政治运行机制逐渐成熟
- B. 中央集权进一步加强
- C. “家国同构”形态终结
- D. 官僚政治制度基本确立

；《三国演义》奉刘备为正统，并着力刻画了刘备的仁厚、诸葛亮的足智多谋、关羽的忠义，与曹操“乱臣贼子”形象形成鲜明对比；“三言两拍”中许多作品也被注入了宣传因果宿命和忠烈孝义的内容。这种创作风格反映出

- A. 儒释道开始走向融合
- B. 主流价值观影响文学创作
- C. 小说成为了文学主流

关注小说创作在线官方微信服务北京高考资讯(ID:bj-gaokao)，获取更多试题资料及排名分析信息。

28. 康学熙的华新纱厂以“互助合作”的“华新精神”立厂，郭乐、郭泉的永安集团践行“同舟相连，同舟共济”的“永安精神”，蔡声白的美亚织绸厂始终坚持“和衷共济”的“美亚精神”，这些近代企业塑造的精神
- A. 富有浓厚的民族特色
B. 消除了企业间壁垒
C. 凸显强烈的国家意识
D. 提高了企业的地位
29. 马克思所说的无产阶级是指产业工人，他和列宁从来没有说过农民可以成为无产阶级革命的主力军，列宁还将农民视为潜在的资产阶级。而毛泽东提出建立农村革命根据地，开展以农民为主力的革命武装斗争。毛泽东的观点
- A. 阐明了工农武装割据的必要性
B. 改变了中国民主革命方向
C. 丰富了马克思主义的革命学说
D. 深受重农抑商思想的影响
30. 图5是1936年全国高等院校的分布图（局部），影响图中分布格局的主要因素是

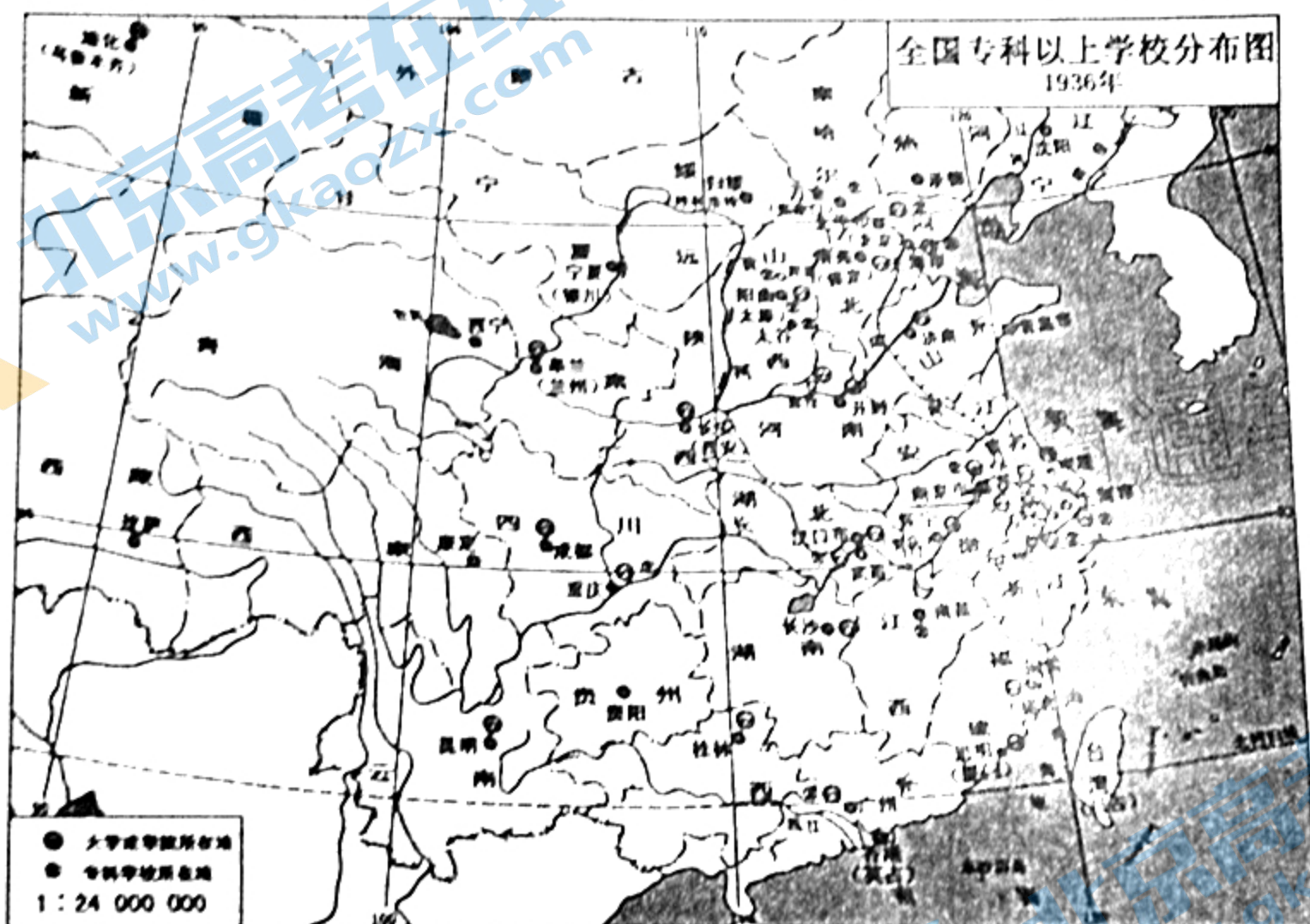


图5

- A. 地理环境与文化传统
B. 列强在华势力范围
C. 抗日救亡运动的高涨
D. 经济文化发展水平
31. 1985年，上海延中实业发行股票，当时有很多上海市民认购。但一年多以后，很多上海市民发现，这些想象中的“活投资”变成了“死储蓄”，就像有了女儿不能出嫁，有了儿子不能娶媳妇一样，砸在了手里。这反映出当时
- A. 社会主义市场经济发展受阻
B. 体制改革需要进一步深化
C. 股民对股票交易的期望过高
D. 国家禁止私人资本入市场
32. 万民法是出于自然理性而为全人类制定的法。它包含着各民族根据实际需要和生活必需而制定的一些法则。……几乎全部契约，如买卖、租赁、合伙、寄存、可以实物偿还的借贷以及其他等等，都起源于万民法。这说明万民法
- A. 将自然法具体化和实践化
B. 推动了契约制度的产生
C. 标志着罗马法律日趋完备
D. 照顾了社会各阶级利益

33. 法国大革命期间，无套裤汉攻入国民公会，高呼“必须获得食物，必须为此立法”，并明确地提出政府应该统管经济、限定物价、打击富人的要求，甚至有人认为这次革命具有“非资产阶级方式”色彩。这说明当时法国
- A. 放弃了资本主义基本原则
B. 追求平等成为下层民众诉求
C. 工人阶级成为革命的主力
D. 消除贫富差距成为国民共识
34. 图6为法国画家欧仁·德拉克洛瓦1830年创作的一幅油画。画面中，自由女神半裸上身在废墟中前行，头戴象征自由和解放的红色弗里吉亚帽，左手握枪，右手高举象征自由、平等、博爱的三色旗。该作品



图6

- A. 以写实手法抨击现实政治
B. 突出对光与色效果的追求
C. 抒发了对理想世界的憧憬
D. 带有强烈的悲伤压抑情调
35. 表1为1978至1988年世界半导体芯片生产情况统计。这些变化

表1

1978至1988年世界半导体芯片的生产情况(%)					
年份	型号	美国	日本	欧共体	全世界合计
1978	4K	87	13	0	100
1982	16K	61	34	5	100
1984	64K	38	58	4	100
1986	256K	15	82	1	100
1988	1M	5	91	3	100

- A. 加剧了美日之间贸易摩擦
B. 促使“三足鼎立”局面形成
C. 使资本主义阵营开始分化
D. 使世界科技重心向日本转移

二、非选择题：共 160 分。第 36~42 题为必考题，每个试题考生都必须作答。第 43~47 题为选考题，考生根据要求作答。

(一) 必考题：共 135 分。

36. 阅读图文材料，完成下列要求。(24 分)

地中海岛国马耳他四季如春、晴天多、环境优美。1925 年该国建立了历史文化遗产保护制度，使大量古建筑得以保留。古建筑风格多样，融合了周边地区的艺术、宗教文化。依托优越的条件，该国吸引了全球众多影视剧组前来拍摄取景，影视拍摄产业迅速崛起。如果影视作品把马耳他风景呈现得唯美、独特，马耳他政府将给予剧组拍摄成本 25% 左右的现金奖励。近年来，该国大力发展影视后期制作等产业。图 7 为马耳他位置图。

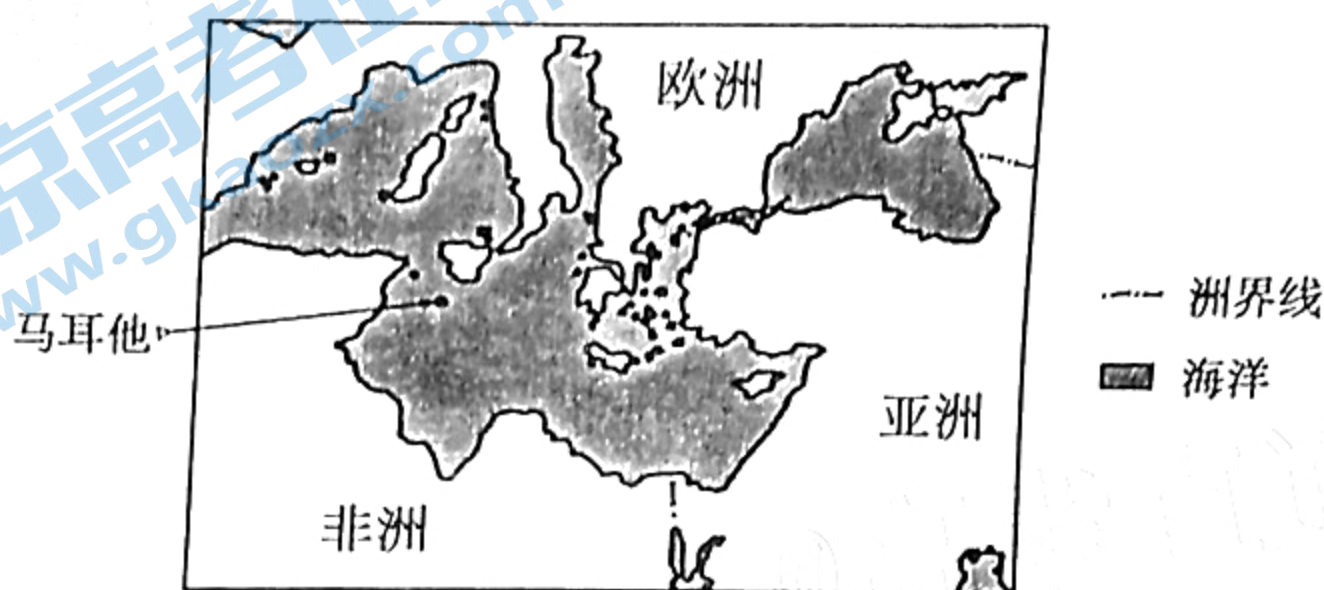


图 7

- (1) 说明马耳他古建筑风格多样且得以保留的原因。(6 分)
- (2) 分析马耳他有利于影视拍摄的天气条件。(8 分)
- (3) 简述马耳他政府出台现金奖励政策的目的是(6 分)
- (4) 指出马耳他大力发展影视后期制作的好处。(4 分)

37. 阅读图文材料，完成下列要求。(22 分)

雅丹地貌是河湖相沉积岩经风化、间歇性流水冲刷、风蚀等地质作用形成的土墩和沟槽。柴达木盆地大部分地区年降水量小于 200 mm，西北部仅有 15 mm，多荒漠景观，盛行西北风、最高风速可达 40m/s；多砂岩、页岩等岩层，雅丹地貌分布面积大。其中冷湖地区的背斜褶皱构造上广泛分布着垄岗和沟槽整齐排列的垄岗状风蚀雅丹地貌。图 8 为柴达木盆地雅丹地貌主要分布图，图 9 为冷湖垄岗状雅丹地貌景观图。

关注北京高考在线官方微信：[北京高考资讯\(ID:bj-gaokao\)](#)，获取更多试题资料及排名分析信息。

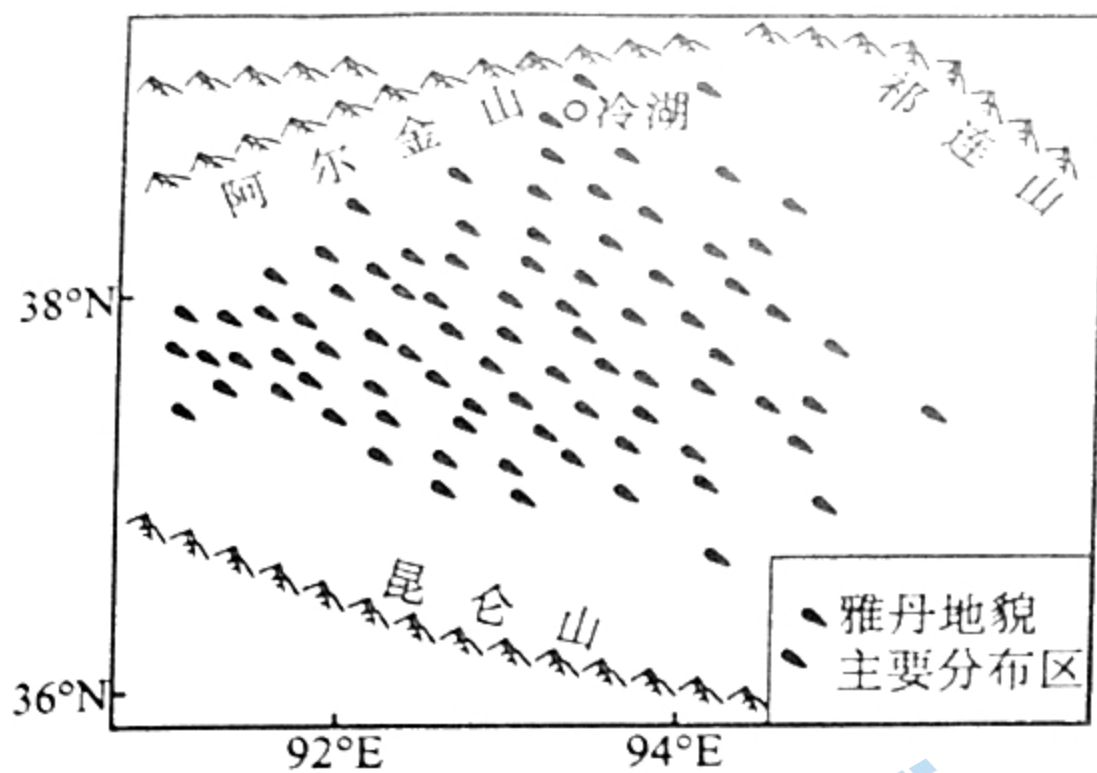


图 8




图 9

- (1) 简述柴达木盆地雅丹地貌分布面积大的自然条件。(8分)
- (2) 简析冷湖雅丹地貌广泛发育于背斜褶皱构造的原因。(6分)
- (3) 说明冷湖雅丹地貌主要由风力侵蚀作用形成的理由。(8分)

38. (14分) 阅读材料, 完成下列要求。

粮食是社稷之本, 种业是粮食之基。

种子是农业的“芯片”, 是国家粮食安全的命脉。种子安全与否, 在相当程度上影响着粮食的产能和品质。2020年我国粮食生产实现“十七连丰”, 连续6年保持在1.3万亿斤以上, 国家粮食安全根基进一步夯实, 为经济社会发展发挥了“压舱石”的作用。目前水稻和小麦种源能够做到完全自给自足且有竞争力; 玉米和大豆种子基本自给, 但受育种及栽培等因素影响, 单产与世界先进水平还有差距; 少数蔬菜品种还不能很好满足市场的多样化需求, 尤其是一些适宜设施栽培、加工专用的蔬菜品种仍需要进口; 种业自主创新水平与发达国家还有差距, 特别是核心技术原创不足、商业化育种体系不健全, 这些都是制约种子的一些“卡脖子”问题。如果我国种业不能及时补上研发短板, 那么我国的“菜篮子”“米袋子”就可能受制于人。

2020年12月召开的中央经济工作会议提出, 要开展种源“卡脖子”技术攻关, 立志打一场种业翻身仗。引导更多科研工作者把论文写在大地上。

- (1) 运用经济生活知识, 简要说明重视种子安全的重要性。(6分)
- (2) 结合材料并运用经济知识, 说明我国应如何开展种源“卡脖子”技术攻关, 打赢种业翻身仗。(8分)

关注北京高考在线官方微信: [北京高考资讯\(ID:bj-gaokao\)](#), 获取更多试题资料及排名分析信息。

39. (12分) 阅读材料, 完成下列要求。

随着传统工业企业的衰落, Y市城北地区发展逐渐滞后, 配套跟不上、环境脏乱差、群众生活大受影响。2019年10月, 市委顺应发展大局、回应群众期盼, 作出改造城北地区的重大决策。

市政府多次现场调研, 关心进展情况, 市级层面和城投、交投等分别成立指挥部, 抽调人员驻点办公, 形成了各司其职、协同配合的高效工作机制。根据群众需要, 采用产权置换、货币、结算凭证等差别化安置方式推进征迁, 一年时间, 共完成棚户区征迁住宅户1.54万户、非住宅项目424个。从基础设施规划、公共设施规划, 以及教育、卫生、社区等方面的规划布局等通盘考虑, 全力打造城市综合商贸物流中心、城市新型商务集聚发展区、生态人文滨水休闲景观区、品质生活绿色宜居新社区。现在Y市城北初展新姿, 已成为各方关注的产城投资热土。

结合材料和所学政治生活知识, 说明Y市政府在推进旧城改造中是如何让人民享受发展成果的。

40. 阅读材料, 完成下列问题。(26分)

2021年是中国共产党成立一百周年。在全党开展党史学习教育, 是党中央为动员全党全国满怀信心投身全面建设社会主义现代化国家而作出的重大决策。

材料一 党的历史是最生动、最有说服力的教科书。我们党历来重视党史学习教育, 注重用党的奋斗历程和伟大成就鼓舞斗志、明确方向, 用党的光荣传统和优良作风坚定信念、凝聚力量, 用党的实践创造和历史经验启迪智慧、砥砺品格。

学习党史, 就要从中找到一个民族、一个国家的价值支撑和精神追求, 涵养“苟利国家生死以, 岂因祸福避趋之”的爱国主义情怀。正如青年毛泽东等一大批建党先驱一样, 为了救国救民, 挺身而出, 大声疾呼: “天下者我们的天下, 国家者我们的国家, 社会者我们的社会。我们不说, 谁说? 我们不干, 谁干?”

材料二 革命烈士们用鲜血和生命写就的家书, 是传承红色基因的宝贵精神财富。习近平总书记强调, 党员、干部要经常“重温革命烈士的家书”。左权“愿以我的成功的事业, 报你与母亲对我的恩爱”。王若飞“一息尚存, 终当努力奋斗”。“愿终身奔波, 竭能力于万一, 救人于涂炭”“儿为伟大而生, 光荣而死, 是我做儿子最后的心意”……。家书里有深情, 家书里有信仰, 家书是情感的纽带, 也是鲜活的历史。随着党史学习教育的扎实推进, 许多党员干部在重温红色家书中, 追思先辈事迹, 感悟初心使命。

(1) 新时代, 培育和践行社会主义核心价值观需要开展党史学习教育。运用文化生活知识进行说明。(10分)

(2) 运用社会历史主体的知识, 说明党员、干部重温革命烈士的家书对不忘初心使命的意义。(12分)

(3) 请你以“学党史 知党恩 跟党走”为主题, 设计两项活动(写出活动名称)。(4分)

41. 阅读材料，完成下列要求。（25分）

材料一

秦始皇开凿灵渠，沟通了长江和珠江水系；修筑驰道、直道和五尺道，构筑了以咸阳为中心的全国性道路网。随着张骞、班超出使西域，开辟了联结中西方的“丝绸之路”。隋唐时期，以长安为中心的陆路交通系统四通八达，以洛阳为中心的大运河沟通中国南北。宋元时期扩展了汉唐的交通网，在全国遍设驿站，古代交通进入高峰时期。……此外，中国从西汉开始不断探索海洋，逐渐形成了与东亚、南亚、西亚、非洲连通的“海上丝绸之路”。

——摘编自王崇焕《中国古代交通》

材料二

南北战争后，美国铁路建设快速发展，从1870~1910年共修筑铁路30万余公里，平均年筑路近8000余公里。电报早期服务于铁路，随着铁路的普及，美国本土电报网络基本建成。在此期间，红绿灯的使用为世界各国所效仿……“一战”后，美国交通运输结构开始发生变化：与汽车制造相联系的公路和输油（气）管道建设逐渐形成网络；开掘深水河道来发展内河运输，以配合已形成的远洋航行网；大力筹建飞机工厂和航空公司，到1930年，航线近5万里。

——据郭正忠《交通与文明——关于交通经济建设的历史考察》等

(1) 根据材料一并结合所学知识，概括中国古代交通建设的特点，并分析其成因。（13分）

(2) 根据材料并结合所学知识，从人类文明进程的角度，指出美国近现代交通建设的发展，并简析其影响。（12分）

42. 阅读材料，完成下列要求。（12分）

材料

中国自秦以降，两千年的专制天下，一直保持独一的最高文化国家，养成很深的自尊自信心。一旦接触到西方文明，于认识上不会很快地承认其优越和有用，自是不能很快吸收。一些开明之士，于直接鼓吹之外，则尽量设喻引例，开导当时的反对分子，以逐渐改变他们的认识，予以灌输许多新的观念。……晚清知识分子思想转变的历程，酝酿着中西观念的激荡，新旧杂糅和更新的创造。同时对于实际政治社会的感染和潜移默化，都随时在扩张其影响。

——摘编自王尔敏《晚清政治思想史论》

围绕材料，结合中国近代史的具体史实，自拟论题，并就所拟论题进行阐释。（要求：论题明确，持论有据，论证充分，表达清晰。）

(二) 选考题：共25分。请考生从2道地理题中任选一题作答，从3道历史题中任选一题作答，如果多做，则按所做的第一题计分。

43. [地理—选修3：旅游地理] (10分)

体育旅游主要以体育为核心资源，以旅游为消费方式，形成一个覆盖面广、产业关联度高的产业。近年来，广西举办了公路自行车世界巡回赛、攀岩锦标赛、中国—东盟山地马拉松等体育赛事，将体育和旅游融合在一起，大力发展体育旅游业。目前广西体育旅游的品牌效应已凸显出来，接待的游客越来越多，经济收入大幅提升。

说明广西发展体育旅游对当地经济发展的意义。

44. [地理—选修6：环境保护] (10分)

白鹤是世界级濒危珍贵动物，每年10月占世界98%的白鹤会到鄱阳湖自然保护区越冬。白鹤栖息于湖区浅水地附近，主要以水生植物的根、茎为食。2020年夏秋季节鄱阳湖流域发生特大洪水，直至10月底保护区湖水水位仍远高于往年同期，且水体较为湍浊，导致白鹤的采食区向保护区外的水田扩散。

分析2020年白鹤采食区发生变化的原因，并推测该变化对白鹤生存可能产生的不利影响。

45. [历史——选修1：历史上重大改革回眸] (15分)

材料

南宋初建，“大河之南，连亘数十州之地，城覆民居，不可胜计”，其不耕之田，千里相望，流移之民，非朝夕可还。高宗被金军追击，又遇叛将乱民之变，只能组织军队抵抗。绍兴三年，军费开支与中央行政费用每年至少达到七千余万缗，而各州郡又往往将上供钱物擅自“便宜截用”，在皇帝行宫附近甚至要派尚书户部的主要官员去调发军食。为此，高宗推行了经总制钱、月桩钱等措施。经总制钱可以分为两类，一是新增税收，二是将原来属于地方财政的收入收归中央。韩世忠驻军建康（今南京），宰相吕颐浩等令江东漕臣每月桩积钱十万缗起发供军。后来浙江、湖南等路都有月桩钱。南宋罢兵后，月桩钱继续保留，只是略做削减而已。

——摘编自漆侠主编《中国改革史》等

(1) 根据材料并结合所学知识，概括宋高宗财政改革的背景。(8分)

(2) 根据材料并结合所学知识，简析宋高宗财政改革的作用。(7分)

46. [历史——选修3：20世纪的战争与和平]（15分）

材料

1990年8月2日，伊拉克军队入侵并迅速占领科威特全境，随即宣布将科威特并入其版图。美国强烈反对伊拉克的侵略行为，并得到其盟国以及海湾和中东地区多数国家的支持。同时，安理会也通过了一系列谴责和制裁伊拉克的决议，并授权联合国成员国使用一切必要手段，维护、执行有关决议，恢复海湾地区的和平与安全。1991年1月17日，以美国为首的多国部队开始实施“沙漠风暴”行动，海湾战争爆发。2月26日，陷于困境的伊拉克宣布从科威特撤军。4月10日，伊拉克接受安理会通过的687号决议，包括：在国际监督下销毁其所有生化武器和远程导弹，接受1963年的边界，并进行战争赔款。次日，安理会宣布海湾战争正式停火。

——摘编自余伟民主编《世界当代史》

(1) 根据材料并结合所学知识，概括海湾战争爆发的背景。（8分）

(2) 根据材料并结合所学知识，简析海湾战争的影响。（7分）

47. [历史——选修4：中外历史人物评说]（15分）

材料

弗罗伦斯·南丁格尔（1820~1910），英国护士和统计学家。她出生于英国上流社会家庭。但是自愿成为一名护士。克里米亚战争期间，英军战地医院收治军士的死亡率高达50%。通过分析资料档案，她认为军士死亡的原因大部分是因为感染疾病，以及重伤士兵得不到及时救护。此后她用实际行动，切实的提高了军队医院的卫生保健工作，使战地医院的死亡率一度降低至2%。战后，她认为护理是一门广泛的科学。必须设立专门学校，严格训练，才能培养出合格的护士。1860年，她创建了世界第一所护士学校。当时，英国的疾病命名与分类混淆不清，各地医院各自为政。南丁格尔制定了医疗统计标准模式，被英国各医院相继采用。在实践中，她撰写了包括《护理札记》《医院札记》《健康护理与疾病札记》等多部专著。

——摘编自许渊明编著《南丁格尔》等

(1) 根据材料并结合所学知识，概括南丁格尔在医疗护理方面所取得的成就。（8分）

(2) 根据材料并结合所学知识，简析南丁格尔在医疗护理方面所取得成就的原因。（7分）

地理参考答案

1—5: DCAAD 6—11: DBCBAB

36 题:

(1) 地处地中海中心, 三大洲的交界地带, 文化、建筑受周边地区影响大 (2分); 海运交通便利, 与外界文化交流频繁 (2分); 立法保护时间早 (2分)。

(2) 晴天多, 可拍摄时间长 (2分); 阳光充足, 光线条件好 (2分); 空气清洁, 拍摄的画面更清晰 (2分); 气温适中, 节约了拍摄过程中防寒、消暑成本 (2分)。

(3) 通过影视作品的“宣传”作用, 可提高该国知名度 (2分); 吸引更多剧组来拍摄, 促进影视拍摄及相关产业的发展 (2分); 吸引游客, 促进旅游业的发展 (2分)。

(4) 完善影视产业链 (2分); 增加就业机会 (2分); 提高经济效益 (2分)。(任答两点得 4分)

37 题:

(1) 沉积岩分布广泛 (2分); 昼夜温差大, 物理风化强烈 (2分); 外力(风力、流水)侵蚀作用强 (2分); 荒漠广布(或植被覆盖率低) (2分)。

(2) 背斜构造分布广泛 (2分); 背斜顶部, 因受张力 (2分), 岩石破碎, 易被侵蚀 (2分)。

(3) 气候干旱, 降水少, 流水作用弱 (2分); 该地盛行西北风 (2分), 风速大(风频高) (2分); 雅丹地貌垄槽的延伸方向及与盛行风向一致 (2分)。

43 题:

提高区域旅游品牌效应, 增加游客数量 (2分); 促进体育、旅游等产业发展 (2分); 优化区域产业结构 (2分); 增加外汇收入 (2分); 促进区域经济发展 (2分)。

44 题:

原因: 鄱阳湖水位高, 适宜采食区域面积减少 (2分); 湖水透明度下降, 影响水生植物光合作用, 食物总量减少 (2分); 水田能为白鹤提供较为丰富的食物来源 (2分)。(任答两点得 4分)

影响: 采食区超出了保护区范围, 保护难度加大 (2分), 白鹤生命安全受到威胁(人为干扰、捕杀, 农田农药残留等) (2分); 白鹤的数量减少 (2分)。(6分)

宜宾市高 2018 级三诊历史学科评分标准

24—28 DCABA 29—33 CDBAB 34—35 CA

41 (1) 特点：自然河流和人工修筑相结合；以都城为中心向四周扩展；由以政治功能为主到以经济功能为主；由国内向其他国家地区扩展；水陆交通不断发展完善（建立了邮驿传递制度）。（每点 2 分，任答 3 点，共 7 分）

成因：统一的中央集权国家的建立和发展；商品经济的发展；经济重心的南移；中华文明影响力不断增强。（每点 2 分，任答 3 点，共 6 分）

(2) 发展：交通运输结构变化，立体交通网络形成（铁路、公路和输油管道、内河及远洋航运、航空）；充分利用两次工业革命的先进成果；运输时间缩短，运输成本降低；交通运输管理规则更为科学完善。（每点 2 分，任答 3 点，共 6 分）

影响：推动了美国经济的高速发展；改变了人们的出行方式，便利了人们的生活；解决了城市化进程中突出的交通问题，提高了城市文明程度；密切了世界各地的联系。（每点 2 分，任答 3 点，共 6 分）

42. 示例 1

论题：晚清开明之士思想观念的更新推动了中国近代化进程。（3 分）

阐释：魏源提出“师夷长技以制夷”，“睁眼看世界”成为社会思潮；洋务派提出“师夷长技以自强”，迈出了中国近代化的第一步；民族资产阶级上层结合中国传统儒学鼓吹维新进行戊戌变法，试图在中国建立君主立宪政体；资产阶级革命派倡导民主共和，在“三民主义”思想指导下，通过辛亥革命，建立了中华民国。（9 分）

示例 2

论题：“中体西用”思想推动了洋务运动的开展（3 分）

阐释：经过两次鸦片战争，面对如何解决内忧外患的问题，中国封建顽固势力固守“夷夏大防”，坚持传统伦理道德，盲目排外。对此，洋务派提出了“中体西用”思想，既强调以中国的纲常名教作为决定国家命运的根本，同时又主张采用西方国家的近代科技，仿效西方国家在教育、赋税、武备、律例等方面的一些具体措施，举办洋务新政，来挽救江河日下的清王朝。“中体西用”思想，推动了洋务运动的开展，开启了中国近代化进程，也为西学的传入创造了条件。（9 分）

示例 3:

论题：“托古改制”思想推动了维新变法的开展（3 分）

阐释：（略）

45 (1) 背景：战争破坏了社会经济；统治范围缩小，流民增多，政府财政收入锐减；军费和行政费用开支浩大加重了财政负担；中央权威受到地方政府挑战。（每点 2 分，共 8 分）

(2) 作用：缓解了中央的财政压力；加强了中央集权；有利于南宋政权的巩固；加重了人民的负担。（每点 2 分，任答 3 点，共 7 分）

46 (1) 背景：两级格局即将瓦解；伊拉克入侵并吞并科威特；美国干预中东事务；安理会的决议为美国干预提供了合法性。（每点 2 分，共 8 分）

(2) 影响：削弱了苏联的影响力；加快了两极格局的终结；有利于美国主导冷战后的世界；增加了中东地区的不稳定因素。（每点 2 分，任答 3 点，共 7 分）

47 (1) 成就：提高了护理质量，降低了死亡率；开创了近代护士学校的先河；制定了医疗统计的行业标准；总结的护理理论，影响深远。（每点 2 分，共 8 分）

(2) 原因：热爱护理工作；近代自然科学的进步；善于分析和总结；社会革命推崇标准化。（每点 2 分，任答 3 点，共 7 分）

关注北京高考在线官方微信：北京高考资讯(ID:bjgkzlx) 获取更多考试资料及排名分析信息。

宜宾“三诊”政治参考答案与评分建议

12.D 13.C 14.D 15.A 16.A 17.B 18.C 19.B 20.C 21.C 22.D 23.B

38. (1) 保证种源健康发展, 提高粮食的产能和品质, 增强我国农业和农产品的竞争力; (2分) 巩固农业基础地位, 满足人民群众日益增长的生活需求, 改善民生; (2分) 保障粮食安全, 降低对外依存度, 促进经济社会可持续发展; (2分)

(2) ①国家实施创新发展战略, 加大种业研发投入, 发挥市场作用, 完善育种商业体系; (3分) ②促进企业与科研院所的种子合作研发, 增强关键核心技术自主创新能力, 加强种业技术国际交流与合作, 满足市场需求; (3分) ③尊重和培养种业创新人才, 健全激励机制, 保护知识产权, 激发创新活力。 (2分)

39. ①着眼问题, 立足群众需求, 落实党委决策, 建立高效工作机制。 (4分)

②求真务实, 强化调研, 打破行政壁垒, 协同治理。 (4分)

③创新工作方式, 切实履行经济、社会、生态职能, 促进产城融合发展, 提升人民生活品质和获得感、幸福感。 (4分)

40. (1) ①社会主义核心价值观体现了社会主义的本质要求, 继承了优秀的革命文化, 是当代中国精神的集中体现, 展现了中华民族共同的价值追求。教育具有选择、传递、创造文化的功能。 (4分)

②党的光荣历史展现了优良的作风和伟大的民族精神, 体现了价值支撑和精神追求, 为培育和践行社会主义核心价值观提供了丰厚滋养。 (3分)

③发挥教育引导人的作用, 增强爱国意识、坚定理想信念, 强化对社会主义核心价值观的价值认同, 脚踏实地, 艰苦奋斗, 为国家富强、民族复兴而不懈努力。 (3分)

(2) ①人民群众是社会历史的主体和创造者, 坚持群众路线是党的根本领导方法和工作方法。 (3分)

②革命烈士们用鲜血和生命写就的家书, 是传承红色基因的宝贵精神财富。 (2分)

③重温先烈家书促使共产党员强化家国情怀, 树牢以人民为中心的发展思想; (3分) 坚定共产主义理想信念, 坚持全心全意为人民服务的宗旨; 立足实践, 敢于牺牲、甘于奉献, 顽强拼搏, 为增进人民福祉, 建成社会主义现代化强国贡献力量。 (4分)

(3) ①开展“学党史 明初心 担使命”为主题的演讲比赛;

②组织观看有关党史的纪录片。 (每点2分, 活动必须包含主题思想与活动名称两个方面)

关于我们

北京高考在线创办于 2014 年，隶属于北京太星网络科技有限公司，是北京地区极具影响力的中学升学服务平台。主营业务涵盖：北京新高考、高中生涯规划、志愿填报、强基计划、综合评价招生和学科竞赛等。

北京高考在线旗下拥有网站门户、微信公众平台等全媒体矩阵生态平台。平台活跃用户 40W+，网站年度流量数千万量级。用户群体立足于北京，辐射全国 31 省市。

北京高考在线平台一直秉承“精益求精、专业严谨”的建设理念，不断探索“K12 教育+互联网+大数据”的运营模式，尝试基于大数据理论为广大中学和家长提供新鲜的高考资讯、专业的高考政策解读、科学的升学规划等，为广大高校、中学和教科研单位提供“衔接和桥梁纽带”作用。

平台自创办以来，为众多重点大学发现和推荐优秀生源，和北京近百所中学达成合作关系，累计举办线上线下升学公益讲座数百场，帮助数十万考生顺利通过考入理想大学，在家长、考生、中学和社会各界具有广泛的口碑影响力

未来，北京高考在线平台将立足于北京新高考改革，基于对北京高考政策研究及北京高校资源优势，更好的服务全国高中家长和学生。



微信搜一搜

北京高考资讯