

2023—2024 学年海南省高考全真模拟卷(一)

政治

1. 本试卷满分 100 分,测试时间 90 分钟,共 8 页。

2. 考查范围:必修 1 和必修 2 全部内容。

一、选择题:本题共 22 小题,每小题 2 分,共 44 分。在每小题给出的四个选项中,只有一项是最符合题目要求的。

1. 恩格斯在《家庭、私有制和国家的起源》中指出:古希腊罗马时代的国家首先是奴隶主用来镇压奴隶的国家,以确保奴隶主的经济地位不被侵犯;封建国家是贵族用来镇压农奴和依附农奴的机关,目的是确保贵族们在经济上始终能够占有统治地位;现代代议制国家是资本剥削雇佣劳动的工具,以使资本获得的利益最大化。这表明

- ①国家是阶级统治的工具
- ②国家总是维护剥削阶级的利益
- ③国家是人类社会发展到一定阶段的产物
- ④上层建筑总是为一定的经济基础服务的

A. ①② B. ①④ C. ②③ D. ③④

2. 马克思在《资本论》中指出,凡是存在私有制的地方,劳动者的劳动时间就不可能自由。在较低形式的徭役劳动下,劳动者的必要劳动和剩余劳动在空间上分开,劳动者对剩余劳动时间有清晰感知。但是到了资本主义雇佣劳动制度下,剩余劳动和必要劳动在时间和空间上相融合,劳动者不能直接分辨两种劳动时间,这也为资本家无限延长剩余劳动时间提供借口。上述论述

- ①表明剩余价值是私有制的伴生物
- ②为批判资本主义提供了科学依据
- ③阐明了人民群众的历史主体作用
- ④揭示了资本主义运行的特殊规律

A. ①③ B. ①④ C. ②③ D. ②④

3. 对于空想社会主义者的一些设想,马克思、恩格斯曾给予高度称赞。马克思指出:“对这些伟大的社会试验的意义不论给予多么高的估价都是不算过分的。”恩格斯认为:“德国的理论上的社会主义永远不会忘记,它是站在圣西门、傅立叶和欧文这三个人的肩上的。”由此可见,空想社会主义

- ①为科学社会主义的产生提供了有益的思想材料
- ②因没有把握社会发展的客观规律而具有局限性
- ③为科学社会主义的产生奠定了重要的理论基础
- ④对美好社会的设计为科学社会主义提供了借鉴

A. ①② B. ①④ C. ②③ D. ③④

4. 2023年7月1日,“不朽的印迹——新民主主义革命时期广西红色标语展”在广西壮族自治区博物馆开展。展览精心遴选广西境内新民主主义革命时期的红色标语110条,这些标语是中国共产党在广西开展武装起义斗争、土地革命、抗日救亡和解放战争的重要见证,是鼓舞人民群众积极参战、支援红军、同一切敌人作斗争的强大思想武器。参观该展览的意义在于

- ①加深对“没有共产党就没有新中国”的认识
- ②深刻体会中华民族有史以来最为广泛而深刻的社会变革
- ③从历史中汲取前行的力量,坚定理想信念
- ④理解新民主主义革命以建立社会主义为任务

A. ①③ B. ①④ C. ②③ D. ②④

5. 邓小平指出:“如果走资本主义道路,可以使中国百分之几的人富裕起来,但是绝对解决不了百分之九十几的人生活富裕的问题。”“如果按资本主义的分配方法,绝大多数人还摆脱不了贫穷落后状态,按社会主义的分配原则,就可以使全国人民普遍过上小康生活。”这说明实现共同富裕

- ①必须坚持走社会主义道路
- ②是中国特色社会主义最本质的特征
- ③必须不断完善社会主义分配制度
- ④要消灭私有经济和剥削

A. ①② B. ①③ C. ②④ D. ③④

6. 如果没有1978年我们党果断决定实行改革开放,并坚定不移推进改革开放,坚定不移把握改革开放的正确方向,社会主义中国就不可能有今天这样的大好局面,就可能面临严重危机,就可能遇到像苏联、东欧国家那样的亡党亡国危机。这说明改革开放

- ①从根本上改变了中国社会发展的方向
- ②是党和国家必须长期坚持的指导思想
- ③是决定当代中国命运的“关键一招”
- ④是坚持和发展中国特色社会主义的必由之路

A. ①② B. ①③ C. ②④ D. ③④

7. 习近平总书记强调:“实现中华民族伟大复兴,道路是最根本的问题。中国特色社会主义是实现中华民族伟大复兴的唯一正确道路。”新的征程上,我们必须坚持和发展中国特色社会主义不动摇。之所以说中国特色社会主义道路是唯一正确的道路,是因为它

- ①是中国特色社会主义制度及其执行能力的集中体现
- ②既符合中国国情,又适合时代发展要求,并取得成功
- ③熔铸于社会实践,积淀着中华民族最深沉的精神追求
- ④能够引领中国进步、增进人民福祉、实现民族复兴

A. ①③ B. ①④ C. ②③ D. ②④

8. 政党是围绕着国家政权来进行活动的政治组织,中国共产党作为当代中国的执政党,领导着经济、社会、文化等方方面面。进入新时代,我们党所肩负的使命任务发生了重大变化,同时当今世界正处于大发展大变革大调整时期,出现了许多前所未有的困难和风险。这要求我们党

- ①增强应对困难和风险的斗争本领
- ②以自我革命为理论和实践的主题
- ③不断地加强先进性和纯洁性建设
- ④坚持党要管党的根本政治立场

A. ①② B. ①③ C. ②④ D. ③④

9. 马克思说：“历史承认那些为共同目标劳动因而自己变得高尚的人是伟大人物；经验赞美那些为大多数人带来幸福的人是最幸福的人。”革命先驱李大钊说：“人生最高之理想，在求达于真理。”正是因为坚信马克思主义“乃是宇宙之真理”，坚信“试看将来的环球，必是赤旗的世界”，一代又一代共产党人甘愿舍生忘死、前赴后继。这启示当代中国青年
- ①坚定理想信念，在实现中国梦的生动实践中放飞青春梦想
 - ②要立足于伟大梦想精神，不负时代的要求、历史的期待
 - ③要认识到中国梦的深厚源泉和根本归宿在于实现世界繁荣
 - ④胸怀天下、志存高远，把为人民幸福而奋斗作为最大的幸福
- A. ①③ B. ①④ C. ②③ D. ②④
10. 我们党的历史，就是一部不断推进马克思主义中国化时代化的历史，就是一部不断推进理论创新的历史。当前，我国改革发展稳定、内政外交国防、治党治国治军等各个领域都面临着一系列新的重大课题，中国之问、世界之问、人民之问、时代之问给我们提出的新考题比过去更复杂、更难，这要求我们不断推进理论创新。这表明，不断推进理论创新
- ①才能正确回答时代和实践提出的重大问题
 - ②是始终保持马克思主义旺盛生命力的要求
 - ③是基于马克思主义是思想之母、理论之源
 - ④能够超越时代的限制，推动社会向前发展
- A. ①② B. ①③ C. ②④ D. ③④
11. 习近平总书记在党的二十大报告中强调：“全党同志务必不忘初心、牢记使命，务必谦虚谨慎、艰苦奋斗，务必敢于斗争、善于斗争，坚定历史自信，增强历史主动，谱写新时代中国特色社会主义更加绚丽的华章。”这一伟大号召
- ①全面阐述了实现中华民族伟大复兴中国梦的“路线图”
 - ②充分彰显百年大党坚定的战略自信和高度战略清醒
 - ③体现新时代中国共产党人强烈的使命担当和斗争意识
 - ④说明中国人民在历史进程中积累的能量已经充分迸发
- A. ①② B. ①④ C. ②③ D. ③④
12. 2023年上半年，海南省国资委重点监管省属企业营业收入达到481.2亿元，同比增长66.73%，超过了2020年全年收入；2023年前5个月海南重点省属企业营收增幅位居全国第一，利润增幅居全国第四。据此可推断出海南省
- ①收入分配更加公平
 - ②公有资产占比提升
 - ③国有企业活力增强
 - ④国有资本效率提升
- A. ①② B. ①④ C. ②③ D. ③④
13. 1998年4月，央企中国建材和民企振石控股集团等四家股东共同发起设立“中国化建”（中国巨石的前身）。此后二十多年，国有资本与民营资本的有机融合，带领中国巨石进入了一个更高更大的平台，成为世界规模最大的玻璃纤维制造商。该案例说明，发展混合所有制经济
- ①能推动不同所有制经济优势互补、共同发展
 - ②有利于企业做强做大做优，提高市场竞争力

- ③是国家的立身之本,是国家强盛的重要支柱
④旨在为民营经济发展腾出更广阔的市场空间

A. ①② B. ①④ C. ②③ D. ③④

14. 互联网时代,流量越高,意味着关注度越高,变现能力越强。但一些人为了流量,无底线地蹭热点,卖惨博取同情心,制作耸人听闻的标题,“比狠”直播哗众取宠,任性造假败坏他人名声,拉踩引战,炒作话题……上述现象表明

- ①市场调节的弊病会扰乱市场秩序、损害公共利益
②市场不是万能的,文化服务不能由市场来调节
③互联网经济的健康发展需要健全规则和加强监管
④社会主义市场经济具有不可弥补的弱点和缺陷

A. ①② B. ①③ C. ②④ D. ③④

15. 某生物科技公司负责人对媒体说:过去只有制造业企业才能享受研发费用税前加计扣除 100% 的政策,2022 年这一优惠覆盖到科技型中小企业,让我们公司能享受研发费用加计扣除 60 余万元。省下更多钱,我们将更好地集中科研力量,攻克技术难题,服务我国养殖业发展。这段话传递给我们的信息是

- ①非公有制经济是创业就业的主要领域
②政府运用财政政策引导资源合理配置
③国家用货币政策影响企业的经营方向
④政府不断加大对创新主体的支持力度

A. ①③ B. ①④ C. ②③ D. ②④

16. 2022 年,全国可再生能源新增装机 1.52 亿千瓦,占全国新增发电装机的 76.2%,已成为我国电力新增装机的主体。其中,风电新增 3 763 万千瓦、太阳能发电新增 8 741 万千瓦、生物质发电新增 334 万千瓦、常规水电新增 1 507 万千瓦。全国可再生能源发电量 2.7 万亿千瓦时,占全国发电量的 31.3%、占全国新增发电量的 81%,已成为我国新增发电量的主体。由此可推知,我国

- ①环境友好型社会建设取得进展,可持续发展能力提升
②绿色发展理念深入人心,能源利用效率不断得到提高
③坚持创新,把能源安全放在国家发展全局的核心位置
④构建多元化的清洁能源供应体系,能源结构持续优化

A. ①③ B. ①④ C. ②③ D. ②④

17. 近年来,海南发挥“温度深度纬度”优势,聚焦种业、深海、航天产业,加强关键核心技术攻关,一大批国家级重大科创平台相继落地。截至 2023 年 6 月,海南拥有高新技术企业 1 527 家,涌现出一批“专精特新”企业和民营 50 强企业。这表明海南省

- ①立足资源禀赋,培育产业优势
②强化自主创新,支撑高质量发展
③淘汰传统产业,优化产业结构
④科技创新水平跃居全国前列

A. ①② B. ①④ C. ②③ D. ③④

18. “‘山河四省’(山东山西河南河北)竟凑不出三个 985!”2023 年高考季,有网友开玩笑地提议,“山河四省”三百多万考生筹资打造一所综合性大学,取名“山河大学”。这一提议受到众多网友热烈响应,官网、校训、校徽、院系招生简章等被网友们接力设计出来。“山河大学”火爆全网并受

到教育部关注。“山河大学”是虚构的,但反映的问题真实存在。解决这一问题,需要党和政府

- ①着力解决好发展不平衡不充分问题
- ②构建彰显优势、协调联动的市场体系
- ③促进区域协调发展,优化教育资源布局
- ④把发展的着力点放在实体经济上

A. ①② B. ①③ C. ②④ D. ③④

19. 某地是“油菜之乡”,全区油菜种植面积超过 30 万亩。近年来,当地充分挖掘油菜的油用、花用、肥用、蜜用等多种功能,逐渐形成了集生产、加工、销售、乡村旅游等为一体的油菜全产业链发展格局,带动当地 10 多万农民增收致富。这启示我们,实现乡村振兴需要

- ①推进一二三产业融合发展,延长产业链提升价值链
- ②遵循市场经济运行规律,夯实农民增收的产业基础
- ③深化农村集体产权制度改革,激活发展的内生动力
- ④增加农民的财产性收入,使全体农民共享发展成果

A. ①② B. ①③ C. ②④ D. ③④

20. 下图显示近十年,我国投资领域发生的变化。



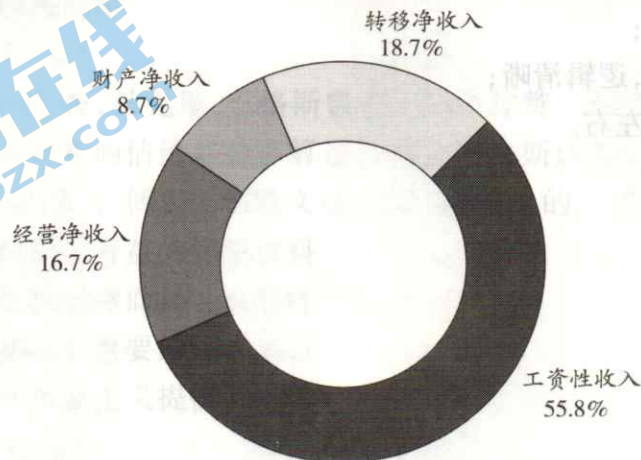
根据上述信息,可推断出我国

- ①制度性开放水平不断提高
- ②破除了外国投资准入门槛
- ③营造良好的涉外营商环境
- ④确保外商投资收益率提高

A. ①② B. ①③ C. ②④ D. ③④

21. 对下图信息分析正确的是

2022 年全国人均可支配收入组成情况占比图



- A. 工资性收入占比过半,是坚持按劳分配为主体的体现
- B. 发展更规范更稳健的要素市场有利于提高财产净收入占比
- C. 转移净收入占比较高,说明国家重视发挥初次分配的作用
- D. 我国居民收入来源多样化是坚持按生产要素分配的结果

22. 一次性扩岗补助是指对在规定时间内招用应届高校毕业生并签订1年以上劳动合同,依法参加失业保险的企业,按每人不超过1500元的标准给予企业的一次性补助。为了让广大企业早受益、真解渴,Q市人社局采取“免申即享”的方式,主动筛选、精准核查,直接为符合条件的企业发放一次性扩岗补助。这有利于

- ①发挥再分配调节作用,处理好社会就业问题
- ②助企纾困化解融资难题,激发企业发展活力
- ③帮助企业对冲用工成本,缓解生产经营压力
- ④提升职工技能水平,增强企业的市场竞争力

- A. ①③ B. ①④ C. ②③ D. ②④

二、非选择题:本题共4小题,共56分。

23. 辨析题。(12分)

实现“老有所依、老有所养”是人们最朴素的人生愿望,也是传统文化中社会发展的重要目标之一。

2023年7月1日,《海南省养老服务条例》正式施行。该条例明确县级以上人民政府主管本行政区域内的养老服务工作,政府应当将养老服务纳入国民经济和社会发展规划,制定养老服务专项规划,建立与社会养老服务发展需求相适应的财政投入机制,增加基本养老服务供给。

有人认为,《海南省养老服务条例》明确了在人口老龄化背景下政府的责任,进一步表明我国居民养老就要靠政府。

运用“我国的社会保障”的知识,对该观点加以辨析。

24. 阅读材料,完成下列要求。(10分)

党的二十大报告指出,要强化现代化建设人才支撑。目前,海南自贸港建设已经进入不可逆转的发展轨道,海南比历史上任何时候都更加急需人才、渴望人才。

过去五年,海南实施“百万人才进海南”行动计划,不断畅通体制机制,优化人才服务,引进人才超过50万人。2023年,海南继续以时不我待的精神“抢”人才,力争引进人才15万人。海南尽己所能为人才打造“诗和远方”,形成了引才聚才的“强大磁场”。

结合材料,运用《经济与社会》知识,就海南省如何形成引才聚才“强大磁场”提出三条措施并阐明依据。

25. 阅读材料,完成下列要求。(12分)

中国工业发展的关键词

关键词一:“进”

2022年,我国高技术制造业、装备制造业增加值占规模以上工业增加值比重分别达到15.5%和31.8%,较2012年分别提高6.1和3.6个百分点。截至2022年底,培育环保装备骨干企业268家,绿色环保领域制造业单项冠军企业12家。

关键词二:“退”

“十三五”期间累计退出过剩钢铁产能1.5亿吨以上,水泥产能3亿吨左右,地条钢实现全面出清,电解铝、水泥行业落后产能基本出清;乘用车单车铅含量下降50%,累计削减铅使用量超过1万吨。

关键词三:“转”

截至2022年底,全国工业企业关键工序数控化率、数字化研发设计工具普及率分别达到58.6%、77.0%;“5G+工业互联网”率先在钢铁、采矿等10个重点行业领域形成20个典型应用场景,促进传统企业提质降本增效。


关键词四:“效”

2012—2021年,规模以上工业单位增加值能耗累计下降约36.2%。

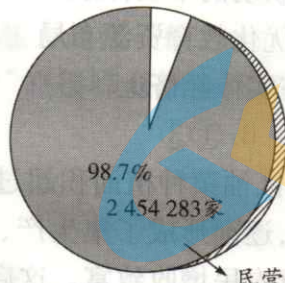
结合材料,运用《经济与社会》知识,说明我国工业发展过程中突出四个“关键词”对建设现代化经济体系、实现高质量发展的作用。

26. 阅读材料,完成下列要求。(22分)

材料一 2022年海南经济的含“民”量



民营经济增加值占全省GDP比重



民营经济主体占全省经营主体数量

材料二 海南省支持民营企业发展出“实招”

为促进民营企业健康发展,进一步提升经济含“民”量,2023年3月,海南省下发文件,要求建立省和市县领导干部定点联系民营企业和行会商会制度,倾听民营企业诉求,为企业家排忧解难;加强反垄断和反不正当竞争执法,依法平等对待国有企业和民营企业等各类市场主体;在科研创新、上市、品牌培育等方面为民营企业提供指导支持;不断优化完善“涉企一件事”,从开办、工程建设、生产经营到惠企政策兑现、员工录用、企业注销等都可以一次性办好;围绕自由贸易港核心政策,开展民营企业申报享受政策专题宣传,让企业不错过自贸港商机和惠企大礼包;加强对优秀民营企业和企业家的宣传力度,实施新时代民营企业企业家培养计划,大力弘扬企业家精神,鼓励和引导民营企业企业家做爱国敬业、守法经营、创业创新、回报社会的典范……

(1)结合材料,运用“我国的生产资料所有制”的知识,说明海南省是如何提升经济含“民”量的。(12分)

(2)在某市召开的“弘扬企业家精神,推进中国式现代化”专题研讨会上,假如你是青年民营企业家,请结合材料,运用《经济与社会》知识写一份简短的倡议书,向全市民营企业家发出倡议。(10分)

要求:①自拟题目;

②主题明确,逻辑清晰;

③字数200左右。