



- A. 历史原因          B. 历史事实          C. 历史过程          D. 历史结论

7. 在甲午中日战争的黄海海战中，邓世昌指挥的致远舰不幸被击沉。2015年，我国进行了打捞致远舰的工作，如图是打捞出水的舷窗残骸。它为研究甲午中日战争的战况提供了



- A. 文献史料          B. 实物史料          C. 口述史料          D. 档案文书

8. 如图是武昌起义军政府旧址，1961年中华人民共和国国务院公布其为全国重点文物保护单位。与旧址相关的历史事件是



- A. 太平天国运动      B. 义和团运动          C. 辛亥革命          D. 秋收起义

9. 歌曲《南湖的船啊，党的摇篮》歌颂了中国共产党的诞生，歌词中有一句是“南湖的船啊，党的摇篮，历史将从你这里揭开新篇”。其中“揭开新篇”指的是

- A. 马克思主义传入中国          B. 革命有了新政党领导  
C. 国民革命军出师北伐          D. 人民军队创建的开始

10. 20世纪20年代，中国共产党开创了“农村包围城市，武装夺取政权”的革命道路。这一道路始于

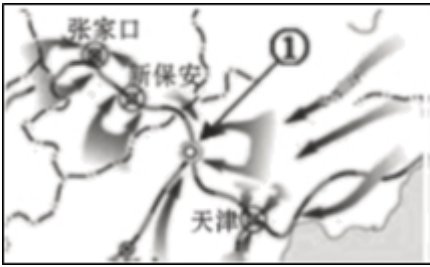
- A. 中共一大的召开  
B. 革命统一战线的建立  
C. 南昌起义的爆发  
D. 井冈山革命根据地的创建

11. 如表是全面抗战爆发后海外华侨捐款的部分统计资料，从资料中可以获取的历史信息是

时间	华侨所在地区	捐款数额 (国币)
1937.7-1939.5	菲律宾	1710 万元
1937.7-1938.12	西欧	1700 万元
1937.7-1938.12	澳大利亚	545.59 万元

- A. 抗战得到了海外华侨支持  
B. 亚洲华侨捐款的人数最多  
C. 抗战得到各国政府的帮助  
D. 中国的国际地位得到提高

12. 如图是解放战争中的某一战役形势图①所示城市获得了和平解放。该战役是



- A. 辽沈战役  
B. 淮海战役  
C. 平津战役  
D. 渡江战役

13. 图片蕴含着丰富的历史信息。如图反映的 20 世纪 50 年代我国民主政治制度建设取得的重大成就是



- A. 建立人民代表大会制度  
B. 进行社会主义改造  
C. 确立村民自治制度  
D. 提出“一国两制”构想

14. 公元前 5 世纪雅典民主政治进一步完善，呈现出人民主权和轮番而治的基本特点。此时雅典的最高权力机关是

- A. 五百人议事会  
B. 元老院  
C. 民众法庭  
D. 公民大会

15. 近代某一法律文献规定：“凡未经议会同意，以国王权威停止法律或停止法律实施之僭越权力，为非法权力。”该文献是

- A. 英国《大宪章》  
B. 英国《权利法案》  
C. 美国 1787 年宪法  
D. 法国 1875 年宪法

16. 独立战争后的美国被人称为“一个头脑听从四肢指挥的怪物”“沙子扭成的绳子”。为了改变这种状况，美国召开制宪会议，通过宪法确立了

- A. 联邦制  
B. 中央集权制  
C. 两党制  
D. 君主立宪制

17. 近代某国被称为“各种政体的实验场”，以一票的微弱多数最后确立了共和政体。这个国家是

- A. 法国  
B. 英国  
C. 美国  
D. 德国

18. 1871 年《德意志帝国宪法》颁布，该宪法体现出德国政治制度的特点是

- ①专制主义的色彩浓厚 ②帝国皇帝掌握国家最高权力  
③国家元首“统而不治” ④宰相不对议会而对皇帝负责

- A. ①②③  
B. ①②④  
C. ①③④  
D. ②③④

19. 《共产党宣言》是国际共产主义运动史上的重要文献。它的发表标志着

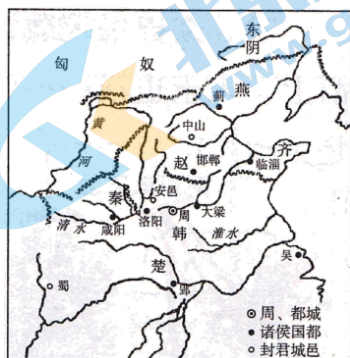
- A. 空想社会主义出现
- B. 马克思主义诞生
- C. 巴黎公社的成立
- D. 工人运动的兴起

20. 如图是停泊在涅瓦河畔的“阿芙乐尔”号巡洋舰，现为圣彼得堡著名的旅游景点。与该舰相关的历史事件是



- A. 北美独立战争
- B. 攻占巴士底狱
- C. 普法战争爆发
- D. 俄国十月革命

21. 历史现象发生在特定的时空之中。与如图对应准确的经济现象是



- A. 农业的生产采用集体劳作
- B. 农业生产以青铜农具为主
- C. 铁犁和牛耕逐步得到推广
- D. 南方经济逐步超过了北方

22. 中国古代某一水利工程不仅解决了岷江水患，还促使四川地区“水旱从人，不知饥馑，时无荒年，天下谓之天府也”。该水利工程是

- A. 白渠
- B. 漕渠
- C. 坎儿井
- D. 都江堰

23. 在历史学习中，从图片中获取有效信息是一项重要技能。如图反映的中国古代经济特点是



- A. 男耕女织的小农经济
- B. 农村商品经济的发达
- C. 家庭手工业规模扩大
- D. 重农抑商的经济政策

24. 下边文本框内是某同学总结的某一时期的经济现象。根据内容判断，他学习的主题应该是



1. 民营手工业占据主导地位
2. 大量白银流入中国，成为流通货币
3. 甘薯、玉米等外来作物引入中国

A. 西汉的农业      B. 唐朝的商业      C. 元朝的外贸      D. 明朝的经济

25. 明清统治者推行“海禁”和“闭关锁国”政策，其主要影响有

- ①阻碍了中外之间的贸易往来
- ②避免了西方殖民侵略
- ③失去了开拓海外市场的契机
- ④保护了民族工业发展

A. ①②      B. ①③      C. ②③      D. ②④

26. 19世纪中期，中国经济结构的主要变化是

- ①自然经济开始解体
- ②近代工业开始出现
- ③资本主义萌芽产生
- ④小农经济完全破产

A. ①②  
B. ③④  
C. ②③  
D. ②④

27. 1872年轮船招商局成立后，遭到外国轮船公司的打压，经过激烈竞争，招商局扭亏为盈，迫使美国旗昌公司破产，英国太古、怡和等公司与招商局签订和解合同。这说明洋务运动

- A. 一定程度上抵制了外国经济侵略
- B. 实现了“师夷长技以自强”的强国目标
- C. 将外商企业彻底挤出了中国市场
- D. 改变了中国半殖民地半封建社会的性质

28. 1873年，华侨商人陈启沅在家乡广东南海创建继昌隆缫丝厂，史书记载该厂“出丝精美，行销于欧美两洲，价值之高，倍于从前，遂获厚利”。该史料可以用于研究

- A. 列强开始在中国投资办厂
- B. 早期民族资本主义企业经营状况
- C. 清政府放宽民间设厂限制
- D. 民国时期官僚资本主义迅速膨胀

29. 甲午战争后，康有为、梁启超等资产阶级维新派掀起了维新变法运动。这一运动的社会经济背景是

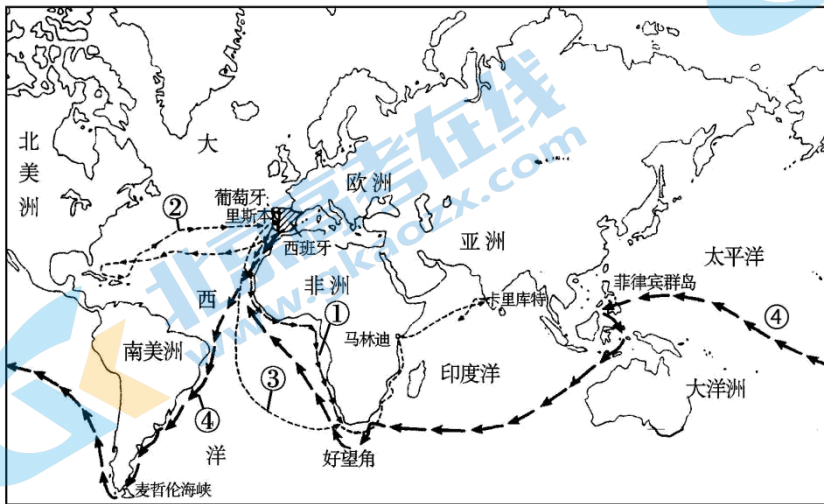
- A. 传统自然经济彻底瓦解
- B. 洋务运动创办军事工业
- C. 民族资本主义初步发展
- D. 民族工业出现短暂春天

30. 如图是长春第一汽车制造厂生产的首批卡车，毛泽东将其命名为“解放”牌汽车。取得这一成就是在



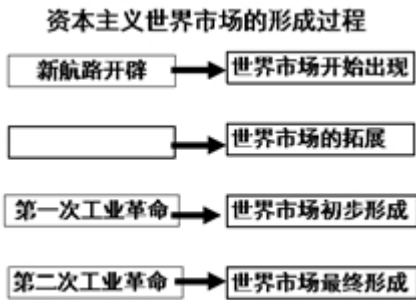
- A. 新中国成立之初国民经济恢复期间
- B. 第一个五年计划期间
- C. “大跃进”运动期间
- D. 社会主义现代化建设新时期

31. 如图中②是某位航海家开创的新航路，该航海家是



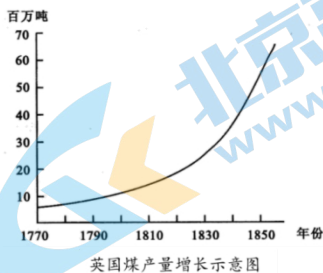
- A. 哥伦布
- B. 迪亚士
- C. 达·伽马
- D. 麦哲伦

32. 如图是某同学整理的知识结构示意图，空格中应该填写的是



- A. 人类史上的首次环球航行
- B. 西方列强的早期殖民扩张
- C. 德国卡尔·本茨发明汽车
- D. 美国莱特兄弟制成了飞机

33. 如图所示，1830年后英国煤产量迅速增长，其原因是



- A. 蒸汽机的广泛应用
- B. 珍妮纺纱机的推广
- C. 发电厂的广泛建立
- D. 内燃机的广泛应用

34. 1921 年列宁说：“目前已经很清楚，我们用冲击的方法，即用简捷、迅速、直接的办法实行社会主义生产和分配的原则的尝试已经失败了……政治形势向我们表明，在许多经济问题上，必须退到国家资本主义上去，从冲击转到围攻的方法上去。”为此苏俄实行的经济政策是
- A. 战时共产主义政策  
B. 新经济政策  
C. 社会主义工业化政策  
D. 农业集体化政策
35. 1932 年，美国农业产量比 1929 年提高了，农产品价格下降了 56%，1932 年农场的平均收入从 1929 年的 962 美元降到了 288 美元。出现这种状况的原因是
- A. 大量外国农产品涌入美国  
B. 以工代赈提供了就业机会  
C. 经济危机波及到农业领域  
D. “新政”鼓励农民缩减生产
36. 布雷顿森林体系建立后，美元也被称为“美金”，美国财政部长福勒说：“各个行星围绕着太阳转，各国货币围绕着美元转。”下列表述正确的是
- A. 美元与黄金挂钩，各国货币与美元挂钩  
B. 美元与马克挂钩，马克与其他货币挂钩  
C. 美元与白银挂钩，各国货币与白银挂钩  
D. 美元与黄金挂钩，各国货币与黄金挂钩
37. 二战后初期，英国政府颁布了《家庭补助法》《国民保险法》《国民救济法》等法案；20 世纪六七十年代，又陆续颁布了《工资委员会法》《劳动合同法》《就业保障法》等法案。这些法案的实施
- ①增加了政府的财政支出 ②消灭了资本主义的弊端  
③有利于社会秩序的稳定 ④保障了低收入者的生活
- A. ①②③  
B. ①②④  
C. ①③④  
D. ②③④
38. 为了解决斯大林模式给苏联经济造成的困难，从赫鲁晓夫、勃列日涅夫到戈尔巴乔夫都进行了经济改革，他们改革的共同点是
- A. 优先解决农业生产中的问题  
B. 发展重工业以进行军备竞赛  
C. 调整所有制结构发展个体经济  
D. 力图缓解计划经济造成的弊端
39. 某一区域性经济组织地跨亚洲、大洋洲、北美洲和南美洲四大洲，各成员国之间差异性明显，但在经济结构上又有很强的互补性。这一区域性经济组织是
- A. 亚太经合组织  
B. 北美自由贸易区  
C. 东南亚国家联盟  
D. 欧洲经济共同体
40. 20 世纪 90 年代以来，经济领域的全球化速度大大加快。对其出现的原因，下列说法正确的是
- ①两极格局的瓦解为经济全球化扫清障碍

- ②世贸组织仲裁彻底消除了各国经济纠纷
- ③跨国公司成为经济全球化的有力推动者
- ④新型交通和通讯方式提供基本技术手段

A. ①②③      B. ①②④      C. ①③④      D. ②③④

第二部分非选择题

41. 史料·史实·史论



①1995年在西安出土的秦代右丞相印封泥

②初，唐因隋制，以三省之长中书令、侍中、尚书令共议国政，此宰相之职也。其后，以太宗尝为尚书令，臣下避，而不居其职，由是仆射为尚书省长官，与侍中、中书令号为宰相。

——《新唐书·百官志一》



③明朝谢环《杏园雅集图》(局部)，描绘了明成祖时杨士奇等多位内阁大臣议事的场景

(1) 材料中①②③分别属于哪种类型的史料？结合所学，说明上述材料印证了中国古代中枢机构变化的哪些史实？

古罗马《十二铜表法》第三表中对债务的“执行”做了详细规定，大概有以下几个步骤：第一，对于自己承认或经判决的债务，有30天的法定宽限期。第二，期满，债务人不还债的，债权人得拘捕之，押其到长官前，申请执行。第三，此时如债务人仍不清偿，又无人为其担保，则债权人得将其押至家中拘留，拴以皮带或脚镣，但重量最多为15磅，愿减轻的听便。

——摘编自《罗马法原论》

(2) 《十二铜表法》对债务执行做这样的规定有什么作用？

(同志们)须发挥五四运动的两个重要的意义：(一)恢复国权运动；(二)新文化运动。此时国外列强之压迫，国内旧思想之反攻，都日甚一日，因此，五四运动之精神仍有发挥之必要。

——1924年4月19日《中共中央通告第十三号》

(3) 依据材料概括五四运动的意义。结合所学，分析中共中央发布这一通告的背景。



说明：1999年，美、英、俄、中等世界上最重要的经济体成立二十国集团(G20集团)，是国际经济合作的主要论坛，是全球经济治理的新机制，也是世界多极化的重要表现。

(4) 以上示意图反映了国际政治格局怎样的发展趋势？任选其中一个事件，说明该事件在这一历史趋势中所起的作用。



## 42. 改革·创新·发展

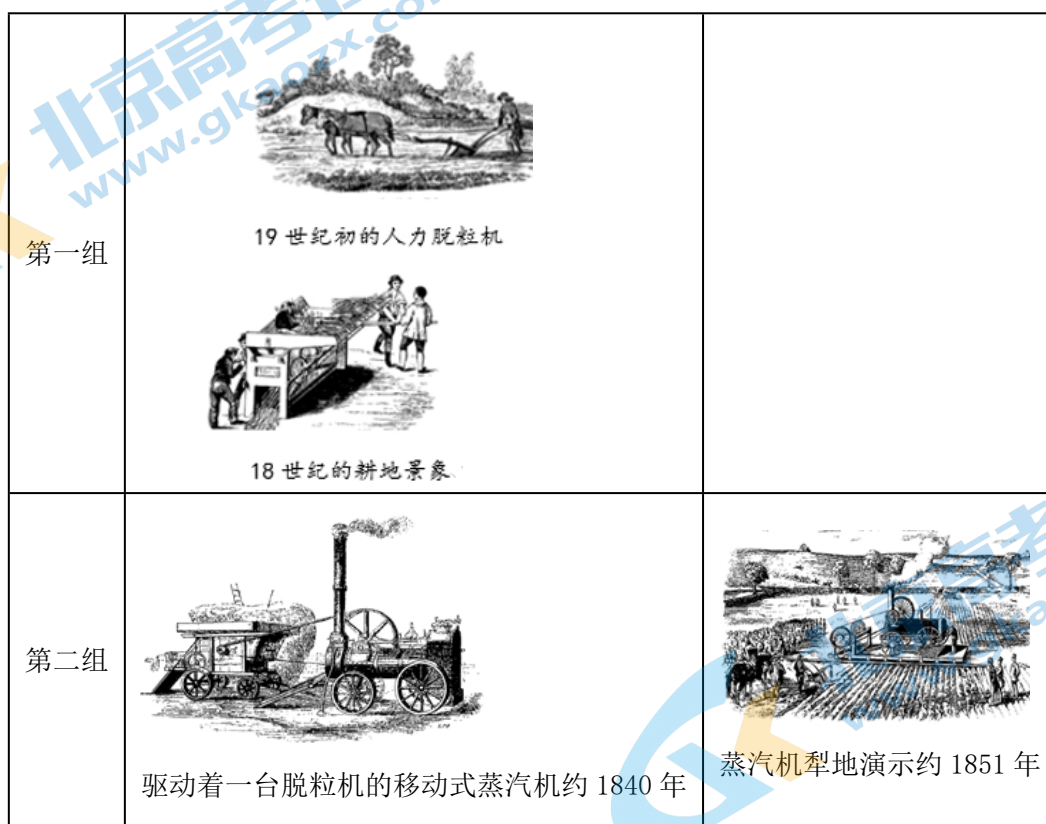
秦与西汉前期，实行盐铁包商政策，国家把大部分盐铁资源包给商人生产和运销，国家向其征课一定数量的税收。西汉文帝时放宽政策，“弛山泽之禁”，导致盐铁工商业主异常活跃，一定程度上促进了工商业的发展，但一些大盐铁商人的牟利行为，“上争王者之利，下锢齐民之业”，严重威胁专制集权统治。

西汉武帝时期，连年征战，尤其对匈奴长期用兵，耗费巨大，财政困难，国家“笼天下盐铁诸利”，实行盐铁官营政策，垄断盐铁产销，打击商人势力，也充实了国家财政，缓和了财政危机。

——摘编自曹大为等《中国大通史》

(1) 依据材料和所学，概括秦汉时期盐铁政策的变化，简要分析其原因。

下面四幅图是 18—19 世纪西欧农业生产的情景：



(2) 观察图片，指出两组农业生产方式有何不同。结合所学指出农业生产方式发展的原因。

1933 年，罗斯福政府颁布一系列银行法案，改革了银行制度，确立商业银行与投资银行分业经营的原则，建立存款保险制度。法案明确规定：以吸收存款为主要资金来源的商业银行，不能同时经营证券投资等长期投资业务；同时，经营证券投资业务的投资银行不能经营吸收存款等商业银行的业务。建立存款保险制度的目的，是重建公众对银行体系的信心，保护存款者的利益，监督并促使银行在保证安全的前提下经营，还成立美国联邦存款保险公司对银行进行监督和管理。

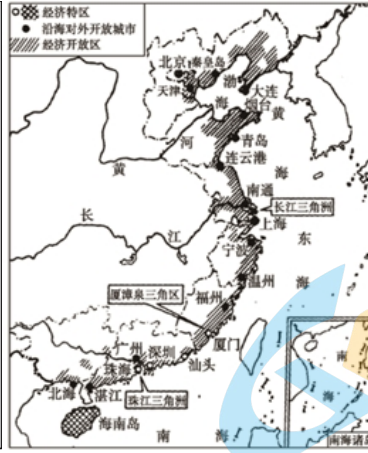
——摘编自高德步、王珏《世界经济史》

(3) 依据材料和所学，指出罗斯福政府整顿金融的措施及历史作用。

关注北京高考在线官方微信：[北京高考资讯\(ID:bj-gaokao\)](#)，获取更多试题资料及排名分析信息。

进入 21 世纪，中国成为所有新兴经济体中最开放的市场。我国外向型经济特别是加工贸易迅速发展，使我国对外贸易迅速扩张，进出口总额 2001 年比 1992 年增长了 3 倍，利用外资的水平也明显提高。2001 年，我国正式加入 WTO，标志着对外开放进入新阶段。中国经济发展取得显著进步，经济结构进一步优化，人民生活水平迅速提高。

——摘编自龚关《中华人民共和国经济史》



(4) 观察如图，指出中共十一届三中全会后我国形成了怎样的对外开放格局？依据材料和所学，围绕“开放与发展”谈谈你的认识。

# 2020 北京第一次普通高中学业水平合格性考试历史

## 参考答案

### 第一部分选择题

1. 【答案】B

【解析】

【详解】西周时期的王位继承主要以嫡长子继承制为主，B 正确；禅让制是原始社会的选贤任能制度，A 排除；郡县制属于地方政治制度，C 排除；皇帝制度是在秦朝时期设置的，D 排除。故选 B。

2. 【答案】C

【解析】

【详解】秦朝时期的御史大夫的职责是监察百官和执掌群臣奏章，C 正确；丞相负责的是协助皇帝处理全国政务，A 排除；太尉负责的是军事，B 排除；郡守属于地方行政长官，D 排除。故选 C。

3. 【答案】D

【解析】

汉武帝时期为了加强中央集权，在政治上接受主父偃的建议，削弱诸侯国势力，加强了中央集权，因此本题选择 D 选项。恩泽贵族只是手段特点，不是最终目的，故 A 项错误；材料中没有涉及到民族问题，B 选项错误；增加税收的举措是将铸币权和盐铁经营权收归中央，且推恩令的目的主要是政治目的而不是经济目的，故 C 选项错误。

点睛：A 项是误选项，没有理解“推恩令”的真正含义。“推恩令”是汉武帝为了加强中央集权，通过分封嫡长子以外的诸王子嗣，解决地方诸王权力及土地过于集中的问题。

4. 【答案】C

【解析】

【详解】材料体现的是宋朝的二府三司制度，C 正确，ABD 排除。故选 C。

5. 【答案】C

【解析】

【详解】雍正时期设置的军机处标志着君主专制达到顶峰，C 正确，ABD 排除。故选 C。

6. 【答案】D

【解析】

【详解】第一次鸦片战争使中国开始沦为半殖民地半封建社会，④属于历史结论，D 正确；①属于历史原因，排除 A；②是历史过程，排除 B；③是历史史实，排除 C。故选 D。

7. 【答案】B

【解析】

【详解】实物史料是历史的见证和历史知识的可靠来源，它既能比较真实地反映历史，又具有形象直观性。材

关注北京高考在线官方微信：北京高考资讯(ID:bj-gaokao)，获取更多试题资料及排名分析信息。

料中打捞出水的舷窗残骸属于实物史料，B 正确；文献史料属于史书记载，A 排除；口述史料指的是以搜集和使用口头史料来研究历史的一种方法，C 排除；档案文书属于文字记载，D 排除。故选 B。

8. 【答案】C

【解析】

【详解】武昌起义是狭义上的辛亥革命，武昌起义后，清王朝统治土崩瓦解，C 正确；太平天国运动是农民阶级反封建反侵略斗争，A 排除；义和团运动是农民阶级的反帝爱国运动，B 排除；秋收起义打响了武装反抗国民党反动派的第一枪，D 排除。故选 C。

9. 【答案】B

【解析】

【详解】材料指的是中国共产党的成立，使中国革命面貌焕然一新，革命有了新政党领导，B 正确；马克思主义传入中国是在十月革命后，A 排除；北伐开始时间是在 1926 年，C 排除；南昌起义标志着人民军队的创建，D 排除。故选 B。

10. 【答案】D

【解析】

试题分析：大革命失败后，以毛泽东为首的中共党人把马克思主义与中国具体实际相结合，在实践中放弃了以“城市为中心”的俄国革命道路，开辟了井冈山革命根据地。井冈山革命根据地的建立，点燃了“工农武装割据”的星星之火，为中国革命的中心工作完成从城市到农村的伟大战略转移，走上农村包围城市，最后夺取城市，开辟了新的道路。故选 D。

考点：工农武装割据

点评：“工农武装割据”是毛泽东提出的关于中国革命新道路理论的一个科学概念。它是指在中国共产党领导下，以武装斗争为主要形式，以土地革命为中心内容，以农村革命根据地战略阵地，三者密切结合。

11. 【答案】A

【解析】

【详解】材料体现的是菲律宾、西欧和澳大利亚的华侨支援中国抗战，体现的是中华民族的向心力，A 正确；B 说法属于材料的表象，排除；材料未涉及各国政府的帮助，C 排除；抗日战争胜利后，使中国的国际地位提高，D 排除。故选 A。

12. 【答案】C

【解析】

【详解】在平津战役中，解放军的作战方式是“先两头，后中间”的策略，先后分割了张家口、天津等地的敌军，最后和平解放的是北平，C 正确；辽沈战役主要是在东北地区，A 排除；淮海战役以徐州为中心展开的，B 排除；渡江战役主要是解放的南京，D 排除。故选 C。

13. 【答案】A

关注北京高考在线官方微信：[北京高考资讯\(ID:bj-gaokao\)](#)，获取更多试题资料及排名分析信息。



【解析】

【详解】根据材料关键信息“20世纪50年代”、“第一届全国人民代表大会”可以判断出是建立人民代表大会制度，A正确；社会主义改造主要是针对的生产资料所有制性质的变革，B排除；村民自治制度属于基层组织，C排除；一国两制主要是针对的台湾问题，D排除。故选A。

14. 【答案】D

【解析】

【详解】公民大会是在雅典的最高权力机关，决定城邦内外的重大失误，D正确；五百人议事会属于公民大会闭会期间的行政机构，A排除；元老院属于贵族议事机构，B排除；民众法庭负责的是司法审判，C排除。故选D。

15. 【答案】B

【解析】

【详解】材料体现的是对国王权力的限制，确立的是议会主权，这主要和《权利法案》有关，B正确；英国《大宪章》主要内容是保障封建贵族和教会的特权及骑士、市民的某些利益，限制王权，A排除；美国1787年宪法确立的是总统共和制政体，C排除；法国1875年宪法确立的是议会制共和制政体，D排除。故选B。

16. 【答案】A

【解析】

【详解】材料描述的是美国邦联制松散无力的问题，为此美国实行的联邦制，加强了中央集权，A正确；美国实行的是中央集权和地方分权的管理制度，B排除；两党制属于政党制度，C排除；美国实行的是总统共和制，D排除。故选A。

17. 【答案】A

【解析】

【详解】法国大革命后政体更迭频繁，最后在1875年以微弱的一票通过1875年宪法，确立了共和政体，A正确；英国通过资产阶级革命确立的是君主立宪制政体，B排除；美国独立战争后确立起了民主共和制政体，C排除；德国通过王朝战争确立了君主立宪制政体，D排除。故选A。

18. 【答案】B

【解析】

【详解】在德国君主立宪制下，国家元首握有实权，并非“统而不治”，③错误，ACD排除；①②④均属于德国君主立宪制下的特征，B正确。故选B。

19. 【答案】B

【解析】

【详解】《共产党宣言》的发表标志着马克思主义的诞生，B正确；空想社会主义是马克思主义诞生的思想基础，A排除；巴黎公社是无产阶级建立政权的一次伟大尝试，C排除；工人运动的兴起是马克思主义诞生的阶级基础，D排除。故选B。

关注北京高考在线官方微信：[北京高考资讯\(ID:bj-gaokao\)](#)，获取更多试题资料及排名分析信息。

20. 【答案】D

【解析】

【详解】十月革命爆发的标志是停泊在涅瓦河畔的“阿芙乐尔”号巡洋舰发出的炮声，D正确；ABC与材料无关，排除。故选D。

21. 【答案】C

【解析】

【详解】根据材料中的诸侯国分布可以判断出这一时期是战国时期，战国时期铁犁牛耕的逐步推广，促进了生产力产生质的飞跃，C正确；战国时期的农业生产主要是以小农经济个体劳作为主，A排除；战国时期的生产工具主要以铁质农具为主，B排除；南方经济逐步超过北方是在唐中叶后，D排除。故选C。

22. 【答案】D

【解析】

【详解】根据材料关键信息“岷江、天府”可以判断出这一水利工程是都江堰，D正确；白渠、漕渠和坎儿井均位于关中地区，ABC排除。故选D。

23. 【答案】A

【解析】

【详解】材料体现的是以家庭为单位的男耕女织的小农经济，A正确；BCD与材料无关，未涉及，排除。故选A。

24. 【答案】D

【解析】

【详解】明中叶后，美洲的甘薯、玉米通过新航路引入到中国，有助于解决中国人口饥饿性问题；随着美洲金银的大量涌入及本国商品经济的发展，白银成为中国流通中的主要货币，D正确，ABC排除。故选D。

25. 【答案】B

【解析】

【详解】明清时期的海禁和闭关锁国政策阻碍了中西方之间的经济文化交往，失去了开拓海外市场的契机，使中国落后于历史的发展潮流，因此①③正确，B符合题意；避免西方殖民侵略的说法不符合史实，②错误，AC排除；当时民族工业尚未产生，④错误，D排除。故选B。

26. 【答案】A

【解析】

【详解】本题考查近代中国经济结构的变化，结合所学知识可知，鸦片战争后，列强对华经济侵略，中国自然经济开始解体，洋务运动产生，近代工业开始出现，故①②正确；明朝中后期资本主义萌芽已经产生，故③排除；“小农经济完全破产”说法过于绝对，故④排除。故选A，排除BCD。

27. 【答案】A

【解析】

关注北京高考在线官方微信：[北京高考资讯\(ID:bj-gaokao\)](#)，获取更多试题资料及排名分析信息。

【详解】材料体现的是轮船招商成立后将美国旗昌公司挤破产，并和英国轮船公司签订和解合同，体现的是洋务运动中的民用企业对外国资本主义起到了一定程度的抵制作用，A 正确；洋务运动并未实现富国强兵的目的，B 排除；C 说法不符合史实，排除；新中国成立后改变了中国半殖民地半封建社会性质，D 排除。故选 A。

28. 【答案】B

【解析】

【详解】材料体现的是在民族资本主义工业产生初期，以陈启沅为代表的继昌隆缫丝厂生产的产品精美和利润甚厚，说明的是早期民族资本主义企业经营良好的状况，B 正确；材料与列强在华设厂无关，A 排除；清政府放宽对民间设厂的限制是在甲午战后，C 排除；材料与官僚资本主义发展无关，D 排除。故选 B。

29. 【答案】C

【解析】

【详解】戊戌变法的经济背景是甲午战后，民族资本主义初步发展，C 正确；A 是在三大改造后，排除；甲午战争标志着洋务运动的破产，B 排除；民族工业出现短暂春天是在一战后，D 排除。故选 C。

30. 【答案】B

【解析】

【详解】长春第一汽车制造厂是在一五计划时期筹办的，当时生产了中国第一批“解放牌”卡车，B 正确，ACD 排除。故选 B。

31. 【答案】A

【解析】

【详解】②开辟的通往美洲的航线，这主要和哥伦布航海有关，A 正确；迪亚士开辟的是到达非洲南端好望角的航线，B 排除；达·伽马是绕过好望角到达印度，C 排除；麦哲伦及其船队完成的是环球航行，D 排除。故选 A。

32. 【答案】B

【解析】

【详解】西欧早期殖民扩张使世界市场进一步拓展，B 正确；麦哲伦及其船队完成的是环球航行，A 排除；CD 是第二次工业革命的产物，排除。故选 B。

33. 【答案】A

【解析】

【详解】根据材料时间可以判断出这一时期是第一次工业革命时期，煤炭产量增加主要和当时的动力改进有关，A 正确；珍妮纺纱机是人力，B 排除；发电厂和内燃机是第二次工业革命的产物，CD 排除。故选 A。

34. 【答案】B

【解析】

【详解】根据材料关键信息“1921 年列宁”、“必须退到国家资本主义上去，从冲击转到围攻的方法上去”和所学知识可知，当时列宁利用市场、商品货币关系间接过渡到社会主义社会，B 正确；战时共产主义政策排斥市场

关注北京高考在线官方微信：[北京高考资讯\(ID:bj\\_gaokao\)](#)，获取更多试题资料及排名分析信息。

和商品货币关系，A 排除；社会主义工业化和农业集体化是斯大林执政时期推行的，CD 排除。故选 B。

35. 【答案】C

【解析】

【详解】材料体现的是 1932 年时期美国的农产品价格暴跌，这主要和当时的经济大危机有关，C 正确；A 与材料无关，排除；罗斯福新政开始时间是在 1933 年，BD 与材料时间不符合，排除。故选 C。

36. 【答案】A

【解析】

【详解】依据材料中“布雷顿森林体系建立后，美元也被称为‘美金’”、“各个行星围绕着太阳转，各国货币围绕着美元转。”等信息结合所学可知，布雷顿森林体系建立后，美元与黄金直接挂钩，国际货币基金组织会员国的货币与美元挂钩，因此 A 选项正确。B 选项错误，布雷顿森林体系使美元获得了“等同黄金”的特殊地位，不是马克；C 选项错误，布雷顿森林体系使美元获得了“等同黄金”的特殊地位，不是白银；D 选项错误，布雷顿森林体系下国际货币基金组织会员国的货币与美元挂钩，不是各国货币与黄金挂钩。故正确答案为 A 选项。

37. 【答案】C

【解析】

【详解】①③④均属于英国福利制度推行的影响，C 正确；资本主义制度的弊端是制度本身带来的，不改变制度是不可能消灭的，②错误，ABD 排除。故选 C。

38. 【答案】D

【解析】

结合所学可知，赫鲁晓夫改革、勃列日涅夫改革、戈尔巴乔夫改革都是因为“斯大林模式”的弊端，因此三者改革的共同点是解决高度集中的计划经济体制的问题，故 D 项正确；A 项只符合赫鲁晓夫改革，排除；B 只符合勃列日涅夫改革，排除；C 只符合戈尔巴乔夫改革，排除。

【名师点睛】

本题考查学生对基础知识的识记、比较、分析、运用的能力，结合所学赫鲁晓夫改革、勃列日涅夫改革、戈尔巴乔夫改革的知识分析比较即可。

39. 【答案】A

【解析】

【详解】亚太经合组织是亚太地区重要的经济合作论坛，也是亚太地区最高级别的政府间经济合作机制，A 正确；BCD 机构包括的范围显然和材料不符合，排除。故选 A。

40. 【答案】C

【解析】

【详解】世界贸易组织有利于解决各国在贸易上的纠纷，无法彻底消除，②错误，ABD 排除；①③④均属于经济全球化发展的原因，C 正确。故选 C。

关注北京高考在线官方微信：[北京高考资讯\(ID:bj-gaokao\)](#)，获取更多试题资料及排名分析信息。



## 第二部分非选择题

41. 【答案】(1) 史料类型: ①实物史料, ②文献史料, ③图像史料。

史实: 秦朝确立丞相制度, 丞相辅佐皇帝; 隋唐时中央设三省, 三省长官都是宰相, 相权分散; 明朝废除丞相制度, 设立内阁。

(2) 作用: 明确了债务执行的程序; 有利于保护私有财产。

(3) 意义: 五四运动既是一场反帝爱国运动, 又是一场思想解放运动。

背景: 帝国主义侵略的加深; 北洋军阀的反动统治; 国共合作, 国民革命运动兴起。

(4) 趋势: 从两极格局形成到多极化趋势发展。

作用: 示例 1: 北约成立, 加剧了美苏“冷战”的程度。

示例 2: 华约成立, 欧洲出现了两大军事政治集团对峙局面, 两极格局正式形成。

示例 3: 不结盟运动兴起, 标志着第三世界国家以独立的力量登上了国际政治舞台, 冲击着两极格局。

示例 4: 欧共体成立, 推动了西欧的崛起, 开始摆脱了美国的控制, 削弱了美国的霸权地位。

示例 5: 苏联解体, 标志着两极格局瓦解, “冷战”宣告结束。

示例 6: 欧盟成立, 欧洲一体化加强, 世界多极化趋势进一步发展。

示例 7: G20 杭州峰会, 多国领导人共商全球治理, 有利于多极化趋势发展。

### 【解析】

【详解】(1) 类型: ①出土封泥属于实物史料, ②《新唐书》属于文献史料, ③《杏园雅集图》属于图像史料。

史实: 结合材料和所学知识可知, ①秦朝确立丞相制度, 丞相辅佐皇帝; ②隋唐时中央设三省, 三省长官都是宰相, 相权分散; ③明朝废除丞相制度, 设立内阁。

(2) 作用: 根据材料“对于自己承认或经判决的债务, 有 30 天的法定宽限期”可归纳出明确了债务执行的程序; 根据材料“债务人不还债的, 债权人得拘捕之, 押其到长官前, 申请执行”可归纳出保护私有财产。

(3) 意义: 根据材料“恢复国权运动”可归纳出是反帝爱国运动; 根据材料“五四运动之精神仍有发挥之必要”可归纳出是思想解放运动。背景: 根据材料关键信息“1924 年 4 月 19 日”结合当时的时代背景可知需要从帝国主义侵略的加深、北洋军阀的反动统治、国共合作等方面进行分析即可。

(4) 趋势: 材料体现的是二战后世界格局由两极格局形成到多极化趋势出现并加强。作用: 结合图示中的事件和所学知识进行作答即可。

42. 【答案】(1) 变化: 秦与西汉前期实行盐铁包商政策, 到汉文帝时期放宽限制, 再到汉武帝时期实行盐铁官营政策。

原因: 汉初实行休养生息政策, 减少对经济的干预; 汉武帝为抗击匈奴, 增加政府财政收入; 打击商人势力, 加强中央集权。

(2) 不同: 第一组依靠人力、畜力进行生产; 第二组以蒸汽机为动力进行生产。

原因: 工业革命使用机器生产, 农业生产的动力发生变革。

关注北京高考在线官方微信: [北京高考资讯\(ID:bj\\_gaokao\)](#), 获取更多试题资料及排名分析信息。

(3) 措施：颁布银行法，规定商业银行和投资银行业务分开；建立存款保险制度，保护存款者利益；成立联邦存款保险公司，对银行进行监管。

作用：稳定了金融秩序，恢复了银行信誉，缓和了社会矛盾，有利于经济复苏。

(4) 格局：形成经济特区、沿海开放城市、沿海经济开放区等多层次的对外开放格局。

示例：对外开放推动了中国经济的发展。对外开放格局的逐步形成，促进了外贸发展，吸引了大量外资，学习了外国先进的管理经验，优化了中国的经济结构，促进了高新技术产业的发展，提高了人民的生活水平。

经济发展需要进一步扩大开放。随着社会主义市场经济体制的完善，需要实现与世界经济全面接轨，2001年中国加入WTO，对外开放进入新阶段。

#### 【解析】

【详解】(1) 变化：根据材料“秦与西汉前期，实行盐铁包商政策”、“西汉文帝时放宽政策”、“西汉武帝时期，实行盐铁官营政策”进行归纳即可。原因：结合所学可从汉初休养生息、汉武帝时期增加财政收入及加强中央集权的角度进行分析即可。

(2) 不同：根据一、二组图片及注释可知，第一组依靠人力、畜力进行生产；第二组以蒸汽机为动力进行生产。原因：结合所学知识可知，出现不同的动力主要和工业革命有关。

(3) 措施：根据材料“颁布一系列银行法案，改革了银行制度，确立商业银行与投资银行分业经营的原则”可归纳出颁布银行法，规定商业银行和投资银行业务分开；根据材料“建立存款保险制度”可归纳出建立存款保险制度；根据材料“还成立美国联邦存款保险公司对银行进行监督和管理”可归纳出成立联邦存款保险公司，对银行进行监管。影响：结合材料和所学知识可知，罗斯福新政在金融方面措施的影响可从稳定金融秩序、促进经济恢复和缓和社会矛盾等方面进行分析即可。

(4) 格局：根据材料和所学知识可知，我国对外开放形成经济特区、沿海开放城市、沿海经济开放区等多层次的对外开放格局。认识：关于“开放与发展”的认识可从对外开放的意义、中国融入世界的过程等方面进行分析即可。

# 关于我们

北京高考资讯是专注于北京新高考政策、新高考选科规划、志愿填报、名校强基计划、学科竞赛、高中生涯规划的超级升学服务平台。总部坐落于北京，旗下拥有北京高考在线网站（[www.gaokzx.com](http://www.gaokzx.com)）和微信公众平台等媒体矩阵。

目前，北京高考资讯微信公众号拥有30W+活跃用户，用户群体涵盖北京80%以上的重点中学校长、老师、家长及考生，引起众多重点高校的关注。  
北京高考在线官方网站：[www.gaokzx.com](http://www.gaokzx.com)

北京高考资讯 (ID: bj-gaokao)  
扫码关注获取更多



关注北京高考在线官方微信：[北京高考资讯 \(ID:bj-gaokao\)](https://www.gaokzx.com)，获取更多试题资料及排名分析信息。