

2019 北京丰台区高三二模

地 理

2019. 05

本部分共 35 小题，每小题 4 分，共 140 分。在每小题列出的四个选项中，选出最符合题目要求的一项。

2019 年 3 月 24 日，国家主席习近平抵达法国尼斯，对法国进行国事访问。图 1 为法国地形图。读图，回答第 1、2 题。

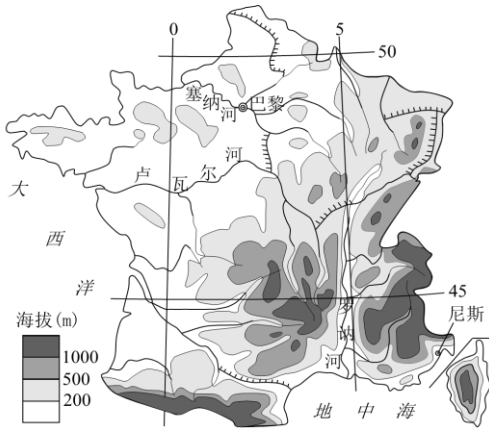


图 1

1. 该日，巴黎比尼斯

- A. 正午太阳高度大
- B. 自转速度快
- C. 日出较晚
- D. 白昼略短

2. 法国

- A. 地形类型多样，以高原盆地为主
- B. 终年受盛行西风控制，温和多雨
- C. 罗讷河下游有凌汛现象，夏季径流量大
- D. 建运河连接河流，沟通大西洋和地中海

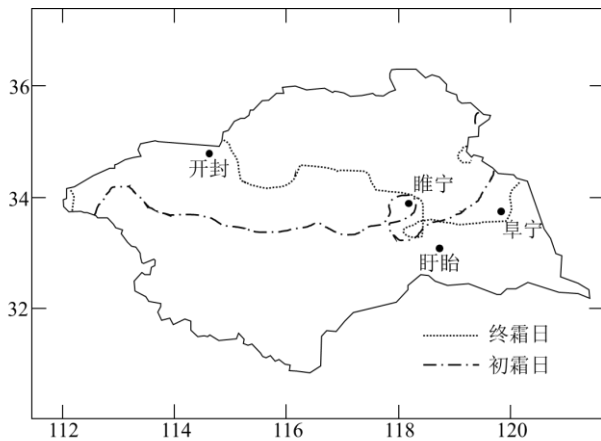


图 2

图2为1987~2010年间淮河流域初霜日为11月8日、终霜日为4月1日的位置示意图。读图，回答第3、4题。

3. 1987~2010年间

- A. 开封初霜日多晚于11月8日
- B. 睢宁终霜日多早于4月1日
- C. 阜宁年平均有霜日数在200天以上
- D. 盱眙地势低平，终年无霜

4. 淮河流域出现霜降现象的可能原因有

- ①东临黄海，水汽充足
- ②较低纬度暖气团北上，增温增湿
- ③晴朗少云，大气透明度高
- ④较高纬度冷气团南下，气温下降

- A. ①②
- B. ①③
- C. ②④
- D. ③④

“地膜覆盖，秸秆深埋”是我国河套灌区的一种土壤改良技术。据此，回答第5题。

5. 该技术可以

- A. 促进土壤表层空气流通
- B. 控制土壤中的含盐量
- C. 防止外力对土壤的侵蚀
- D. 增加土壤中的矿物质

图3示意我国甲山峰与乙山峰垂直自然带谱。读图，回答第6、7题。

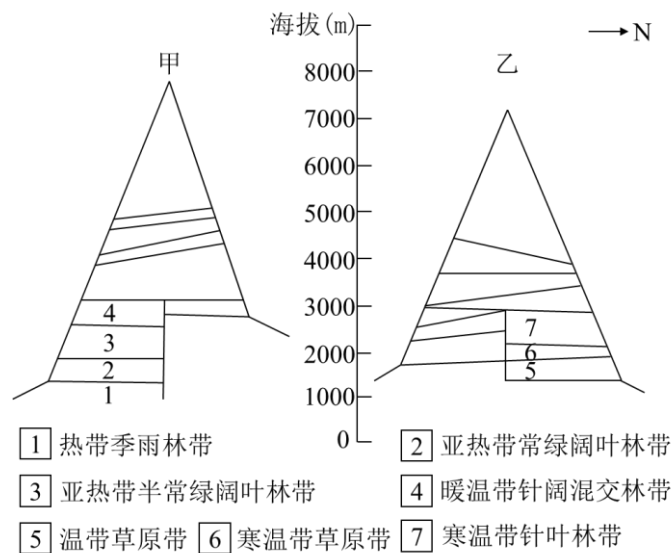


图3

6. 海拔3000米以下，影响甲峰南坡与乙峰北坡垂直自然景观差异的主要因素分别是

- A. 热量 水分
- B. 地势 光照
- C. 湿度 温度
- D. 地形 降水

7. 甲峰南麓、乙峰北麓农业发展的主要方向是

- ①甲峰南麓以林业为主
- ②乙峰北麓以牧业为主
- ③两地区以种植业为主
- ④两地区以混合农业为主

- A. ①②
- B. ①④
- C. ②③
- D. ③④

2018年4月,“环西部火车游”旅游专列推出兰州—天水、兰州—敦煌等6条精品旅游线路,将景点、游客、旅行社融合起来,中国铁路正式进入“火车服务+”的新时代。读图4,回答第8、9题。



图4

8. 开通“环西部火车游”旅游专列可以

- ①提高列车运行速度,加强区域之间的文化交流
- ②提升游客旅游体验,增强乘火车出行的吸引力
- ③进一步挖掘陕、甘两省区境内的旅游资源潜力
- ④推动地方经济发展和跨区域相关行业互利共赢

- A. ①②
- B. ①③
- C. ②④
- D. ③④

9. 游客沿陇南环线可欣赏的景观是



A B C D

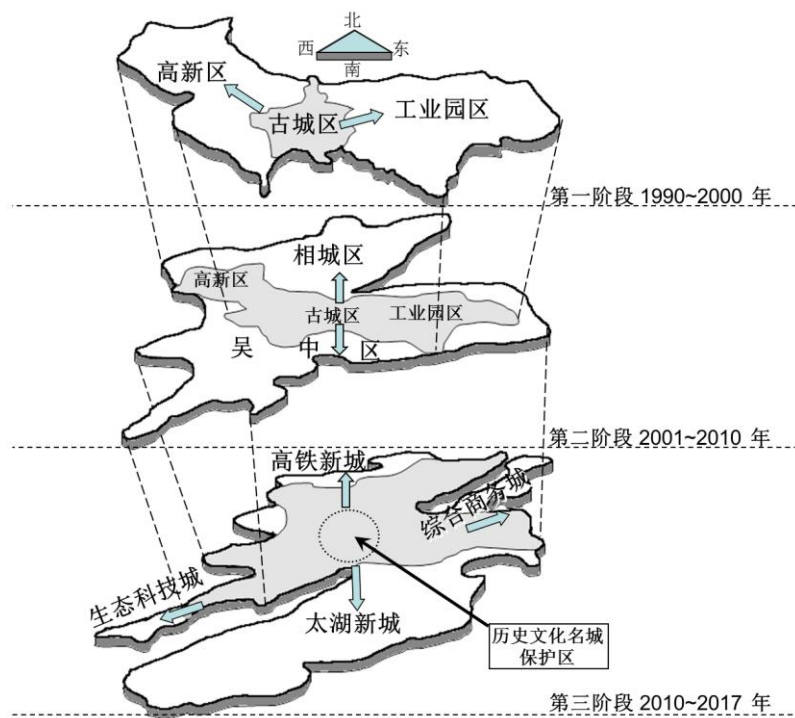


图 5

苏州工业园区是我国一流高科技园区。图 5 为不同时期苏州中心城区形态格局演变示意图。读图，回答第 10、11 题。

10. 苏州中心城区

- A. 地域空间先向南北拓展而后向东西延伸
- B. 形态演变主要受地形和河湖水系的影响
- C. 三个阶段的形态格局演变示意图比例尺相同
- D. 城市内部空间结构演变受城市发展定位影响

11. 工业园区的建设发展有利于苏州市

- A. 调整农业结构
- B. 人口均衡分布
- C. 二、三产业融合
- D. 改变城市职能

36. (36 分) 图 14 为我国局部地区等高线地形图 (单位: m)。读图，完成下列问题。

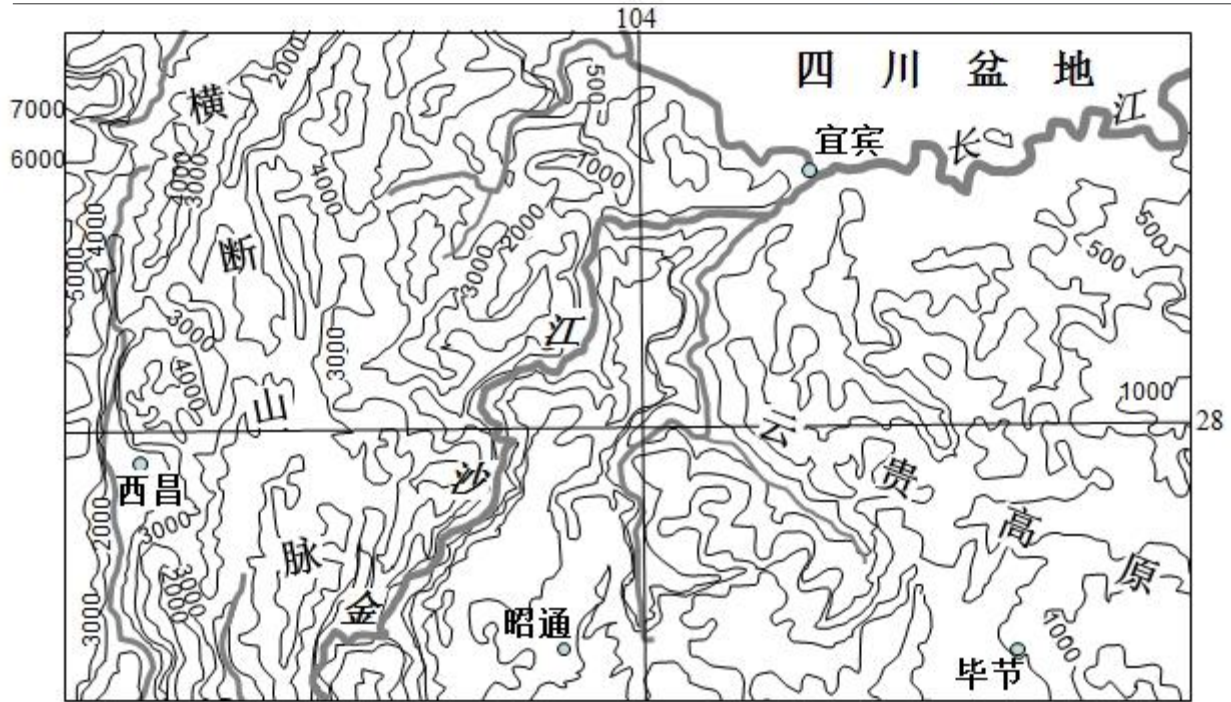


图 14

(1) 金沙江谷地为干热河谷，从地形与大气环流的角度分析其成因。(8分)

西昌素有小“春城”之称，冬暖夏凉、四季如春。

(2) 分析西昌有小“春城”之称的原因。(10分)

(3) 图中城市对外交通方式多以航空运输为主，简述其原因。(8分)

(4) 近年来图示区域生态环境明显改善，简述其对区域河流的影响。(10分)

40. (18分) 工业化是当代世界历史发展的趋势。20世纪以来，俄国对经济建设进行了不断的探索。

近年来，俄罗斯林产工业发展较快，木材产量大，以出口为主，其出口的50%以上是原木等低附加值产品。俄罗斯是世界上最大的原木出口国，国内人均木材消费量远低于欧盟。

(2) 列举俄罗斯政府促进林产工业进一步发展可采取的措施。(10分)

41. (26分) 建设粤港澳大湾区是贯彻落实新发展理念的新典范。

国家环境保护模范城市肇庆市是一座有 2200 多年历史的国家历史文化名城，但经济发展在粤港澳大湾区中却明显滞后。如今，肇庆市正充分利用自身优势加快融入大湾区一体化发展。读图 18，回答第（3）题。

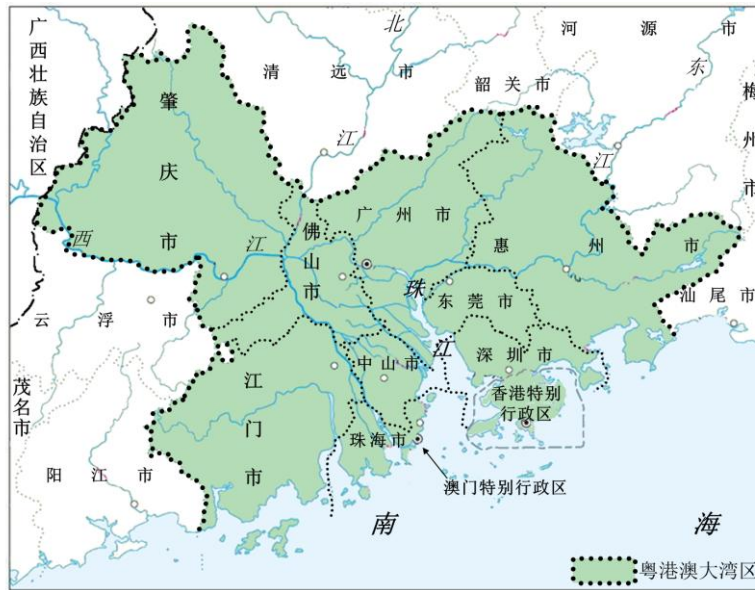


图 18

(3) 概述肇庆市发展的优势地理条件。（10 分）



长按识别关注

地理试题答案

第一部分共 35 小题，每小题 4 分，共 140 分

1	2	3	4	5	6	7	8	9	10
C	D	B	D	B	A	A	C	B	D
11									
C									

第二部分共 6 小题，共 160 分

36. (36 分)

- (1) 金沙江谷地以西是南北纵列分布的横断山脉，以东是云贵高原，阻挡夏季风；金沙江谷地位于夏季风的背风坡，气流下沉，温度升高，湿度减少。
- (2) 夏季受暖湿西南季风影响，多阴雨，对太阳辐射的削弱作用较强；地处横断山脉，海拔较高，夏季较凉爽。纬度较低，位于谷地，有高大山地阻挡北方冷空气南下，冬季较温暖。
- (3) 伴随经济发展，对外联系需求量增大；地形地质条件复杂，地质灾害多发，高速公路和铁路交通设施建设难度大、成本高；航空运输速度快，可提高运输效率。
- (4) 减少河流含沙量，改善水质，减轻河流淤积；流量季节变化幅度减小，河水泛滥频率降低。

40. (18 分)

- (2) 提供政策支持；完善相关法规，加强管理；鼓励高附加值产品的生产；加强林产工业科研投入，鼓励创新型产品的研发；鼓励企业拓展国内外市场。

41. (26 分)

- (3) 肇庆市地处粤港澳大湾区的西北部，是大湾区连接大西南的门户，地理位置优越；土地面积大，价格较低；绿色生态宜居；历史文化底蕴厚重；经济发展潜力较大。