

# 丰台区 2021 年高三年级第二学期综合练习（一）

## 历史试题

2021. 03

本试卷满分共 100 分，考试时间 90 分钟。

### 注意事项：

1. 答题前，考生务必先将答题卡上的学校、年级、班级、姓名、准考证号用黑色字迹签字笔填写清楚，并认真核对条形码上的准考证号、姓名，在答题卡的“条形码粘贴区”贴好条形码。
2. 本次考试所有答题均在答题卡上完成。选择题必须使用 2B 铅笔以正确填涂方式将各小题对应选项涂黑，如需改动，用橡皮擦除干净后再选涂其它选项。非选择题必须使用标准黑色字迹签字笔书写，要求字体工整、字迹清楚。
3. 请严格按照答题卡上题号在相应答题区内作答，超出答题区域书写的答案无效，在试卷、草稿纸上答题无效。
4. 请保持答题卡卡面清洁，不要装订、不要折叠、不要破损。

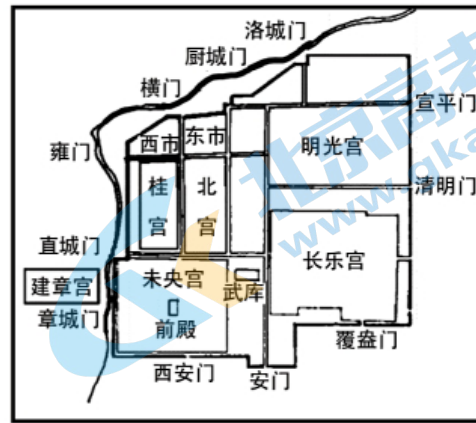
### 第一部分

本部分共 15 题，每题 3 分，共 45 分。在每题列出的四个选项中，选出最符合题目要求的一项。

1. 《国语·晋语》言“工商食官。”《春秋谷梁传》谓“鱄（人名）织纣（丝织品）邯郸”，鱄是私营性质的小手工业劳动者。《史记·货殖列传》载战国“郭纵以铁冶成业，与王者埒（同等）富”。这些现象说明
  - A. 手工业发展适应了兼并战争需要
  - B. 春秋时期工商食官制度已经消失
  - C. 经济制度随着时代的发展而变化
  - D. 私营手工业已经取代官营手工业
2. 观察以下两图，可以看出汉长安城的特点有



汉长安城位置示意图



汉长安城总体布局概貌图

- ①利用秦朝的建设基础，巧用地形，因地制宜
- ②官室区在全城规划中地位突出，是政治中心
- ③遵循前朝后市的传统原则，“市”沿街而设
- ④布局规则严整，坊市分离，“市”在城中心


- A. ①②      B. ①③      C. ②④      D. ③④

3. 秦朝创建了三公九卿的中央体制；汉承秦制，汉武帝内朝官的尚书为原九卿中少府的属官；东汉“众务悉归尚书，三公但受成而已”；魏晋南北朝时期尚书、中书、门下三省体制逐步形成；三公九卿在以后历代仍然存在，职能已变。这些变化

- ①反映了专制皇权加强的历史趋势
- ②说明贵族政治已经彻底消亡
- ③体现出政治制度在继承中的演变
- ④体现中枢权力机制成熟完善

- A. ①②      B. ③④      C. ②④      D. ①③

4. 20 世纪之前，《唐律疏议》的最古刊本是宋刻本残卷。下图是 1908 年在敦煌藏经洞发现的唐写本《唐律疏议》的残卷。该残卷



- ①是出土文献，为唐律研究提供了新材料
- ②是实物史料，用于研究古代法律的形成
- ③是实物史料，用于研究唐代造纸与书法

④是图像史料，生动再现了唐朝社会状况

A. ①②                      B. ①③                      C. ②④                      D. ③④

5. 黄宗羲提出“夫二十一史所载，凡经世之业，亦备矣”，他赞颂古代学者“大者以治天下，小者以为民用，盖未有空言无事实者也”。由此可知，黄宗羲强调

A. 以民为本                  B. 个性解放                  C. 经世致用                  D. 道德自觉

6. 近代一不平等条约规定：“大清国国家允定各使馆境界以为专与住用之处，并独由使馆管理。”“将总理各国事务衙门按照诸国酌定改为外务部，班列六部之前。”这些规定

A. 使中国开始沦为半殖民地半封建社会    B. 便利了西方列强对中国的侵略与控制

C. 使清廷面临割地、赔款、开埠的窘境    D. 刺激了西方列强掀起瓜分中国的狂潮

7. 张海鹏的《中国近代通史》对某一历史事件进行评述：“中国人民对政治发出了自己的声音，从而使政府再不能完全轻视社会民意的表达……中国工人阶级成长为自为阶级时代的到来，对中国未来的政治发展产生不可忽视的影响。”材料中的“影响”是指

①革命任务的变化

②革命指导思想的变化

③革命性质的变化

④革命奋斗目标的变化

A. ①②                      B. ③④                      C. ①③                      D. ②④

8. 下表为1921—1949年中国共产党党员人数变化表，对表格信息解读正确的是

年份	党员人数
1921年7月	53
1927年4月	5.7万
1927年4月后	1万
1934年	30万
1937年初	4万
1945年4月	121万
1949年10月	448万

①北洋军阀的血腥镇压是导致党员人数减少的主要原因

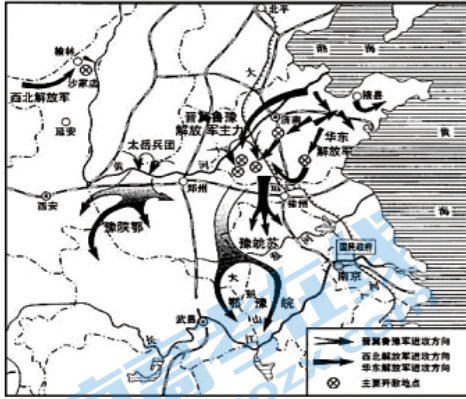
②工作重心转移和革命道路调整使共产党力量得以保全

③严酷的国内和国际环境使共产党的发展历程曲折复杂

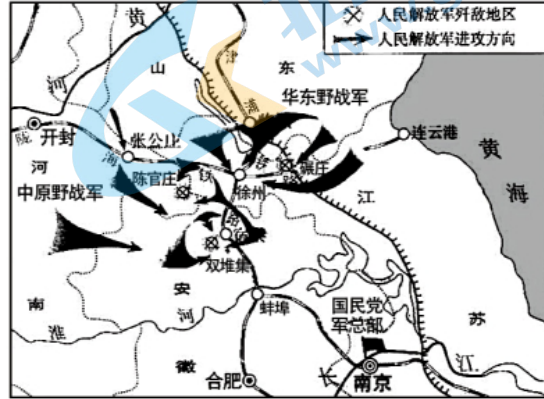
④共产党不断克服自身的失误在探索中逐步地发展壮大

A. ①②③                      B. ②③④                      C. ①②④                      D. ①③④

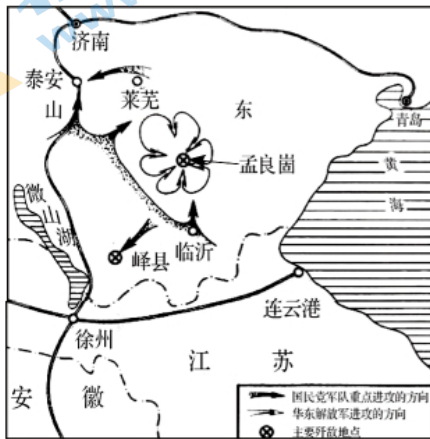
9. 毛泽东在某一军事行动后发表了以下言论：“这是中国人民解放军已经打退了蒋介石的数百万反动军队的进攻，并使自己转入了进攻……现在，人民解放军主力已经打到国民党统治区里去了。”这一军事行动是



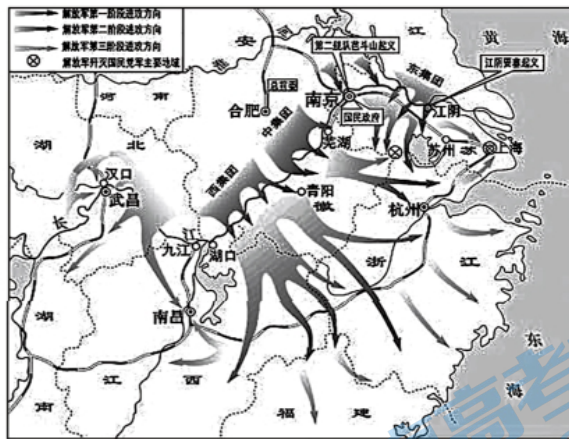
A



B



C



D

10. 以下四项表述可以从史实直接推断出结论的是

	史实	结论
A	1957年，在我国工农业总产值中，工业总产值的比重由1949年的30%上升到56.7%	经济结构发生重大变化
B	邓小平在1984年讲到：“中国……完全采取独立自主的政策。中国不打美国牌，也不打苏联牌。中国也不允许别人打中国牌。”	中国开始以独立的面貌登上国际舞台
C	到1997年底，全国共有91万个村民委员会的村干部由村民直接选举产生，大部分农村有90%以上的选民参加了选举	建成比较完备的法律体系



D	1993—2019年，浦东外贸进出口总额从26亿美元提高到2万亿美元。2019年财政总收入突破4300亿元，是1993年11.15亿元的387倍	标志中国对外开放进入新阶段
---	--	---------------

11. 公元2世纪，演说家阿利斯提德对罗马城有如下描绘：“所有的货物，所有现存的和曾经存在的东西，贸易、航海、农业、金属加工，任何曾经创造出来或者生长出来的东西，都在这里汇合。这里看不到的东西，肯定不存在于这个世界上。”这一现象的形成因素有
- A. 共和制度发展到鼎盛  
B. 民主政治的发展日趋完善  
C. 罗马帝国的对外扩张  
D. 罗马法已发展到完备阶段
12. 有学生对西方人文主义思想的发展历程作了如下概括，按其出现顺序排列正确的是
- ①人权对抗教权，信仰即可得救  
②人文与理性之源，树立人的尊严  
③人性对抗神性，追求现世幸福  
④理性对抗专制，描绘未来社会蓝图
- A. ①②③④  
B. ②③①④  
C. ①④②③  
D. ②③④①
13. 《欧洲近代经济文化史论》指出：17—19世纪中叶，欧洲经历了历史上最为广泛和深刻的历史变迁。在这一历史时期，欧洲的科学、技术、社会生产力、政治思想、文化领域均发生了革命性的变化。下列表述能体现这些变化的是
- ①人类的科学时代到来  
②无产阶级革命理论诞生  
③现代派开始主宰画坛  
④生产组织形式根本变化
- A. ①②③  
B. ②③④  
C. ①②④  
D. ①③④
14. 1861年8月，沙皇亚历山大二世在波尔塔瓦对村长们说：“风传你们等待着其他的自由，除了我给予你们的那种自由外，不可能再有别的自由了。”从中可以看出，这一时期的俄国
- ①社会关系出现了近代化转变  
②改革具有一定的不彻底性  
③广大农民摆脱了地主的剥削  
④社会矛盾得到了有效缓和
- A. ①②  
B. ②③  
C. ③④  
D. ①④
15. 下图是一幅20世纪50年代的题为《骑士及其旅伴》的苏联政治漫画。画中，一位美国骑士骑着身上写着“马歇尔计划”的瘦马正赶往西欧，他的旅伴——一位身着黑衣的魔鬼正如影随形地跟着他。这幅漫画



- ①体现作者对马歇尔计划的敌对态度      ②寓意马歇尔计划会给西欧带来灾难  
③揭示美国实行马歇尔计划的根本目的      ④创作于美苏冷战的国际关系背景之下
- A. ①②③      B. ②③④      C. ①③④      D. ①②④

## 第二部分

本部分共 5 题，共 55 分。

16. (10 分) 中西方传统节日

材料一

中西方重要传统节日 (部分)

中国		西方	
节日及起源	习俗	节日及起源	习俗
春节 (农业节气)	趁农闲祭神祈年、祭祖、纳福、迎春、家族团圆、拜年、贴春联、蒸年糕、吃团圆饭、吃饺子、吃汤圆	圣诞节 (纪念耶稣诞生)	教堂礼拜、集会、唱颂歌、举办舞会、街道狂欢、吃烤火鸡
清明节 (农业节气)	祭祖扫墓、吃青团、吃馓子	情人节 (纪念基督教殉难者瓦伦丁)	送情人鲜花、巧克力
端午节 (农业节气; 纪念屈原)	赛龙舟、吃粽子、吃绿豆糕、喝雄黄酒	狂欢节 (天主教封斋前欢宴喜饮)	举办化妆舞会、彩车游行
七夕节 (农业节气; 牛郎织女神话)	观天河、祈五谷	复活节 (纪念耶稣复活)	制作节日彩蛋、举办大规模化妆游行、喜剧表演、吃烤羊
中秋节 (农业节气; 嫦娥奔月神话)	祭祀月神祈求丰收、阖家团圆、吃月饼	万圣节 (纪念教会所有圣人)	挂南瓜灯、穿奇装异服、举行盛大化妆舞会
重阳节 (农业节气)	敬老、插茱萸、登高、吃重阳糕、喝菊花酒	感恩节 (感谢上帝)	举行集体活动、吃烤火鸡、吃玉米饼

材料二

中西传统文化的差异性使世界绚丽多姿，中西节日作为民族文化的载体，都发挥着传承文化的积极作用。近年来，中国人，尤其是年青一代越来越重视“洋节”，圣诞节、母亲节、父亲节、情人节、愚人节成为年青人的时尚，他们热衷于那种自由、无拘无束、充满个性色彩的氛围。在中国年青人逐步淡化春节的同时，国外对春节的好感和兴趣却日益浓厚。现在

世界各地正越来越接纳中国的春节。在美国，总统每年都要向全美华人表示节日祝福。在纽约州甚至把春节（正月初一）定为全州的法定节日。

——摘编自石琳《中西传统节日文化的差异与空间拓展》冯建民、许丽红《从传统节日看中西文化差异与交融》

(1) 依据材料一，概括中西方传统节日的各自特点，并结合所学分析原因。(8分)

(2) 依据材料二，谈谈你对中西方传统节日的看法。(2分)

17. (16分) 中国近代思想家、实业家——郑观应

材料一

关于郑观应的去世时间，学术界曾存在争议，以下是专家考证过程中先后搜集到的几则材料。

1979年左右，郑观应的三子郑润渠回忆说：“我父死时正是我中学毕业那年，即1922年5月下旬，他卧病在上海提篮桥招商公学宿舍二楼，病时我和我的两位妈妈（五妾、六妾）等六人轮流陪侍，死时我正在他身边”。

1937年修订的《郑雍陌祖房谱》中记载：“官应（郑观应的本名）公，字正翔，号陶斋……卒于民国十年辛酉五月初七日（1921年6月12日），享寿八十。”

1921年上海《申报》上刊登了郑观应亲属发布的两则讣告，6月15日（农历五月初十）的一则为：“……郑公陶斋，于夏历五月初九日寅时寿终，谨择于五月初十日酉时大殓……”7月19日（农历六月十二日）的另一则为：“……陶斋府君，痛于辛酉年夏历五月初九寅时，寿终于上海招商局公学驻校校董公寓……择期扶柩回籍安葬……”

——摘编自陈康衡《郑观应生卒年月》

材料二

郑观应主要人生经历

1842—1872年	出生于广东香山三乡镇。应童子试未中，奉父命远游上海，弃学从商，逐步锻炼成为见多识广、经验丰富的企业家
1873—1883年	参与创办太古轮船公司，先后投资入股轮船招商局、开平矿务局、上海机器织布局。先后任上海电报局、轮船招商局总办。1877、1878年，与盛宣怀等创办筹赈公所，赈济山西、河南等省灾荒
1884—1895年	在中法战争、中日甲午战争期间，积极参与反侵略斗争，如将招商局部



	分船只拨作军用运送人员军械。1894年，著成《盛世危言》一书，要求清廷“立宪法”、“开议会”，实行立宪政治，在我国首次使用“宪法”一词。书中还主张习商战、兴学校，对政治、经济、军事、外交、文化诸方面的改革提出了切实可行的方案。1895年，光绪帝批示印制该书2000部，分发给各省官员。该书印刷总量达十余万部之多，成为科举士子必读参考书籍。后来，康有为、孙中山、毛泽东等人曾阅读此书，受其影响
1896—1905年	先后任汉阳铁厂总办、粤汉铁路总董、轮船招商局会同办理、吉林矿务公司驻沪总董等职。参与收回粤汉铁路路权的活动，任广州商务总会协理。在上海、广州等地掀起抵制美货的爱国运动中，被选为广州拒约会主席
辛亥革命后	鄙视袁世凯称帝和张勋复辟，厌恶军阀混战。倾主要精力办教育，并兼招商局公学住校董事、主任，上海商务中学名誉董事等职。最终病逝于上海

### 材料三

“现代性”是现代社会的特征，它是社会在工业化推动下发生全面变革而形成的一种属性，这种属性是各发达国家在技术、政治、经济、社会发展等方面所具有的共同特征。这种特征可大致概括成为：(1)民主化(2)法制化(3)工业化(4)城市化(5)均富化(6)福利化(7)社会阶层流动化(8)宗教世俗化(9)教育普及化(10)知识科学化等。

——杨国枢《现代社会的心理适应》

- (1) 依据材料一，对郑观应的去世时间进行考证辨析。(10分)
- (2) 结合材料二、三，从“郑观应与现代性”关系的角度，对郑观应的人生历程进行阐释。(6分) 要求：从材料三关于现代性特征的概括中，任选两个方面，进行论述，观点正确，史论结合，逻辑清晰。

### 18. (11分) 太空筑梦

#### 材料

1956年，中国第一个火箭研究机构国防部第五研究院正式成立，中国航天事业从此诞生。苏联在1958年提供给中国一枚小型导弹——“P-2”火箭，中国以此为样本开始仿制。

1960年，在苏联单方面撕毁协定、撤走专家、中断一切资料和器材供应的情况下，中国自行完成了图纸描红、原理研究、改进创新等一系列工作，成功发射仿制的第一枚近程地地导弹。1964年，成功发射第一枚自行研制的弹道式导弹。1970年，中国“长征一号”火箭成功发射第一颗人造地球卫星“东方红一号”，成为世界上第五个用自制火箭发射本国卫星的国家，开始了迈入太空的第一步。80年代后期，卫星研发开始为经济和国防建设服务。进入新世纪后，中国的航天事业迎来了大发展的黄金时期。2003年，“神舟五号”载人飞船成功飞行，实现了中华民族千年以来的飞天愿望，中国成为第三个有能力独自将人送上太空的国家。2004年，中国月球探测“嫦娥工程”正式开展。2020年，“嫦娥五号”计划启程，在月球采样并返回地球；北斗卫星导航系统组网成功，信号覆盖全球；我国第一个火星探测器“天问一号”升空，中国首次火星探测任务随之开启，中国向航天强国迈进。

——摘编自孙家栋《中国航天事业的成就与展望》

阅读材料并结合所学，对中国航天事业的发展历程进行解读。（11分）

#### 19.（10分）英镑国际地位的兴衰

材料

1694年，英格兰银行开始发行纸币英镑，1英镑等于20先令，1先令等于12便士。1717年，铸造金币，确定1盎司黄金合3镑17先令10.5便士。从此，英镑按黄金固定了价格。1816年，英国通过“金本位制度法案”，以法律形式正式确认金本位制（以黄金为本位币的货币制度）。此后，其他资本主义国家也先后采用金本位制。19世纪中后期，形成了以英镑为中心，以金币或黄金在国际间流通为主的国际金本位货币制度。英镑成为国际结算中的硬通货，不仅在英国殖民地和附属国广泛使用，而且被其他国家用作外汇储备和对外结算货币，在国际金融领域里占据了霸主地位。在第一次世界大战中，英国经济受到重大打击，导致金本位制崩溃。20世纪30年代，英镑颓势已不可挽回。二战爆发后，英镑贬值，对美元汇率不断下跌。此后，英镑地位更加衰败，无力同美元相抗，只能追随美元浮动。

——摘编自薛艳《英镑的兴衰与现实选择》许国云《谈谈英镑的变迁》

阅读材料，结合所学，评析英镑国际地位的兴衰。（10分）

#### 20.（8分）中外医药交流

材料一

宋代中药通过海上丝绸之路外传，主要有传到东北亚诸国的东线航路、东南亚诸国的南

线航路、西亚及南亚诸国的西南航路。东线航路主要以明州（今浙江宁波）为始发港，南线及西南航路主要始发港为广州、泉州等。具体有以下几条：向东往高丽（朝鲜半岛）、日本的航路；向南往占城（今越南南部）的航路；向南经南海、三佛齐（今印尼苏门答腊岛），穿过马六甲海峡后向西到印度，然后乘小船往波斯湾及阿拉伯地区的航路；向南往阇婆（今印尼爪哇岛），并转往印度、阿拉伯等地的航路……

——摘编自王棣《海上丝绸之路与中药外传：宋代中药海道外传路线考述》

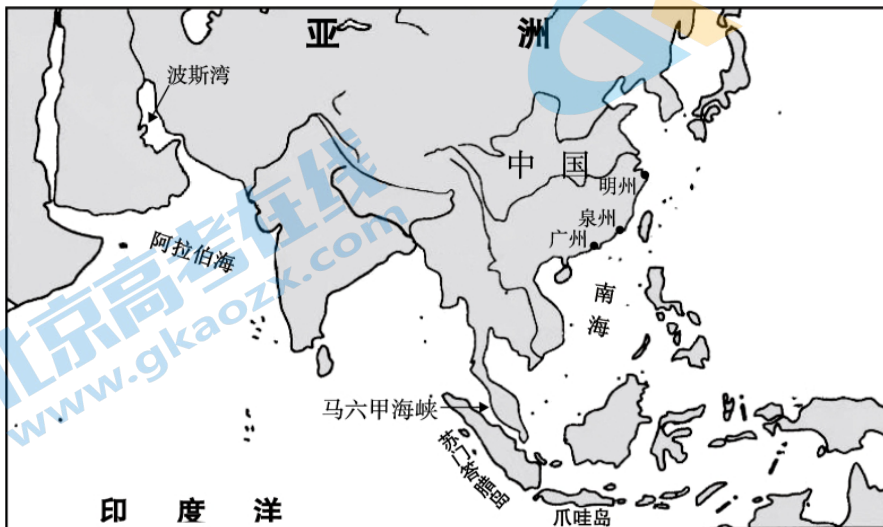
## 材料二

1844年初，英国人威廉·洛克哈脱受英国基督教伦敦教会的派遣，开办了上海首家西医医院，最初命名为中国医院，也是上海仁济医院的源头。医院创办之初，免费为华人治病，遇到饥荒之年，设粥厂施舍饥民。据《申报》记载，1844年至1856年间，这家医院诊治中国病患15万人次，涉及内科、外科、眼科、妇科、骨科、烧伤等科。医院还为鸦片上瘾者戒毒，替民众接种牛痘。在推广西方种痘技术的过程中，由于病人众多，开始培养华人助手。仁济医院最早的华人医生，也是上海第一位西医黄春甫渐渐独当一面。当时，许多中国人因不了解西医的诊疗手段而顾虑重重，黄春甫担当了公共卫生知识的讲解者和科普者。1894年，仁济医院开设40张床位的女病房。来自英国的海莉担任护士长，以女病房为基地开始招收中国妇女，进行护士职业培训。1896年，仁济医院开办高级看护学校，这是全国首家护校。

——摘编自陈思《仁济医院：上海最早的西医医院》

(1) 依据材料一，在下图中画出宋代中药经海道外传的路线。(3分)

要求：至少画出3条。



(2) 依据材料二并结合所学，分析西医在上海传播的原因及影响。(5分)

(考生务必将答案答在答题卡上，在试卷上作答无效)





## 丰台区 2021 年高三年级第二学期综合练习（一）

### 历史试题参考答案及评分标准

一、选择题：本大题共 15 小题，每小题 3 分，共 45 分。在每小题列出的四个选项中，只有一项是符合题目要求的。

题号	1	2	3	4	5	6	7	8	9	10	11	12	13	14	15
答案	C	A	D	B	C	B	D	B	A	A	C	B	C	A	D

二、非选择题：本大题共 4 小题，共 55 分。

16. 本题共 10 分

(1) 特点：中国传统节日多源于农业节气，带有浓郁的农耕文明色彩；具有浓厚的家族观念，尊宗敬祖，重视人伦；形成了寓意丰富的饮食文化；蕴含天人合一的观念。西方传统节日的起源与宗教相关，带有浓重的宗教色彩；节日以狂欢和玩乐为主旋律，娱乐形式多样。（4 分）

原因：中国经历封建社会时间长，以农业为本；深受儒家思想的影响，具有厚重的伦理道德内涵；具有“民以食为天”的文化传统；重视人与自然和谐相处。基督教在西方社会生活中占举足轻重地位，节日文化受宗教影响；个人主义观念浓厚，以自我为中心，崇尚个性张扬。（4 分）

(2) 看法：节日承载文化，传递情感，本身不存在优劣强弱之分；中西方文化的交融与碰撞是世界文化发展的必然趋势；理解并尊重世界各国节日习俗和民族文化，接受多元性；保护中国传统节日，传播中国节日文化，增强中国传统文化竞争力。（2 分）

17. 本题共 16 分

(1) 答案示例：

郑观应去世时间为 1921 年 6 月 14 日（民国十年农历五月初九）。

郑观应三子的采访记录为口述史料，具有主观性。他的回忆是在 1979 年左右，离郑观应去世时间距离较远，容易存在记忆错误。（2 分）1937 年修订的《郑雍陌祖房谱》属于文献史料，距离郑观应去世相隔较近，记载比郑观应三子的回忆更为可靠。（2 分）1921 年《申报》属于文献史料，可靠性较强。申报中的两则讣告

中均提到郑观应卒于 1921 年，讣告的发布具有时效性。(2 分) 结合史料类型、数量、史料与历史事件的时间间隔等方面综合分析，得出郑观应去世时间为 1921 年。(1 分)

就郑观应去世的具体日期来说，讣告中的具体日期比《郑雍陌祖房谱》的记载迟两天。但按可靠性讲，讣告中的日期应该比 16 年后修订的《郑雍陌祖房谱》更准确。因此，郑观应去世日期应为 6 月 14 日。(3 分)

综合以上可以得出结论，郑观应去世时间为 1921 年 6 月 14 日(民国十年农历五月初九)。

(2) 答案示例：

郑观应的人生经历有利于中国民主化。郑观应著《盛世危言》-书，呼吁清政府进行政治变革，他主张“立宪法”、“开议会”，实行君主立宪制，并对政治、经济、军事等方面的改革提出了切实可行的方案。他的主张不仅对各省官员以及科举士子产生一定影响，而且对后来康有为、孙中山，毛泽东等人的政治实践也具有一定影响。所以，郑观应对中国近代的民主化进程有一定的推动作用。(3 分)

郑观应的人生经历有利于中国工业化。郑观应曾经参与创办太古轮船公司，投资入股并经营管理轮船招商局等近代工业。这些近代机器工业的创办及发展，一定程度上抵制了外国的经济侵略。所以，郑观应对中国的工业化做出了一定贡献。(3 分)

18. 本题共 11 分

评分标准：

水平四 (11—9 分)：阶段划分合理，充分提取信息；对所提取信息的分析和阐释全面、准确；逻辑清晰、结构完整。

水平三 (8—6 分)：阶段划分较合理，比较充分地提取信息；对所提取信息的分析和阐释比较全面和准确；逻辑较清晰、结构较完整。

水平二 (5—3 分)：能分阶段，提取部分信息，但解读与主题结合不够紧密；叙述比较连贯通顺，有基本结构。

水平一 (2—0 分)：未分阶段或分段不合理，未能提取有效信息，只列举所学；或只作阶段划分，未作具体阐释；或史实错误，逻辑混乱。

19. 本题共 10 分

答案示例：

兴：新航路的开辟及早期殖民扩张，促进了英国海外贸易的发展，英国成为世界最大的殖民帝国；17 世纪英国资本主义制度确立，为资本主义经济发展提供政治保障；第一次工业革命率先完成，英国成为世界工厂。形成以英镑为中心的国际货币制度，英镑在国际金融领域里占据了霸主地位；控制世界金融霸权，英国成为资本主义世界头号强国。（4 分）

衰：第二次工业革命中英国被美国、德国超过，失去了世界工厂地位；第一次世界大战使英国经济受到重大打击，丧失世界经济霸主地位，英镑的霸权地位开始动摇；1929 年至 1933 年的世界经济危机，进一步对英国的经济造成破坏，使英镑地位进一步下降；第二次世界大战后，美国成为资本主义头号强国，英国经济实力进一步衰落，英国成为美国的债务国，英镑地位更加衰败，以英镑为中心的世界货币体系难以存继，走向解体。（4 分）

英镑的兴衰，受英国经济实力强弱变化的影响，也是世界近现代历史上大国博弈的结果，反映世界各国综合力量强弱的变迁。（2 分）

20. 本题共 8 分

(1) 答案：略（3 分）

(2) 原因：伴随西学东渐，西医知识传入；鸦片战争后不平等条约签订，上海等通商口岸的开放；西方向中国传播宗教文化的需要；西方国家采用易被中国人接受的方式和手段来经营医院。（2 分）

影响：促进西医在中国的传播；推动中西医融合汇通；促进中国近代医学教育产生；提升了民众卫生观念、健康意识；冲击中国人的思想观念；有利于中国近代化。（3 分）

## 关于我们

北京高考在线创办于 2014 年，隶属于北京太星网络科技有限公司，是北京地区极具影响力的中学升学服务平台。主营业务涵盖：北京新高考、高中生涯规划、志愿填报、强基计划、综合评价招生和学科竞赛等。

北京高考在线旗下拥有网站门户、微信公众平台等全媒体矩阵生态平台。平台活跃用户 40W+，网站年度流量数千万量级。用户群体立足于北京，辐射全国 31 省市。

北京高考在线平台一直秉承“精益求精、专业严谨”的建设理念，不断探索“K12 教育+互联网+大数据”的运营模式，尝试基于大数据理论为广大中学和家长提供新鲜的高考资讯、专业的高考政策解读、科学的升学规划等，为广大高校、中学和教科研单位提供“衔接和桥梁纽带”作用。

平台自创办以来，为众多重点大学发现和推荐优秀生源，和北京近百所中学达成合作关系，累计举办线上线下升学公益讲座数百场，帮助数十万考生顺利通过考入理想大学，在家长、考生、中学和社会各界具有广泛的口碑影响力

未来，北京高考在线平台将立足于北京新高考改革，基于对北京高考政策研究及北京高校资源优势，更好的服务全国高中家长和学生。



微信搜一搜

北京高考资讯