

2018 年夏季普通高中合格性考试练习（二）

历 史

第一部分 选择题（每小题 1.5 分，共 60 分）

在下列各题的四个选项中，只有一项是符合题意的。

1. 《大明令·户令》规定：“凡嫡庶子男，除有官荫袭，先尽嫡长子孙，其分析家财田产，不问妻妾婢生，上依子数均分……”该规定沿袭的是

- A. 禅让制
- B. 宗法制
- C. 礼乐制
- D. 郡县制

2. 史料记载：某个历史人物“累迁殿中丞、通判郢州……为三司度支推官，转盐铁判官”。该材料应出自

- A. 《汉书》
- B. 《宋史》
- C. 《元史》
- D. 《明史》

3. 图 1 是中国某朝代中央政府的组织图，结合所学可判断其形成于_____时期

- A. 唐太宗
- B. 宋真宗
- C. 明太祖
- D. 康熙帝

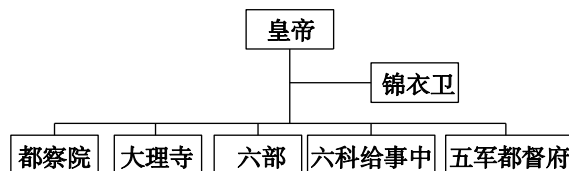


图 1

4. 2014 年 3 月习近平主席访德期间，德国总理默克尔将德意志人 1735 年绘制的中国地图赠与习主席。这幅地图可用于研究

- A. 唐朝疆域
- B. 元朝疆域
- C. 明朝疆域
- D. 清朝疆域

5. 中英《南京条约》附件中规定：“英国的侨民、商人同中国人冲突，犯了法或成为被告，只能由英国驻中国的管事官——领事去裁判，中国政府不得过问。”这说明清政府丧失了

- A. 领土主权
- B. 贸易主权
- C. 司法主权
- D. 关税主权

6. 2013 年 4 月，法国皮诺家族宣布，将向中国政府捐赠流失海外的圆明园十二大水法中的青铜鼠首和兔首。近代劫掠圆明园十二生肖青铜头像的侵略者是

- A. 俄国军队
- B. 英法联军
- C. 美国军队
- D. 八国联军

7. 梁启超指出：“吾国……直待台湾既割，二百兆之偿款既输，而酣睡之声，乃渐惊起。”与文中所涉及内容相关的不平等条约是

- A. 《南京条约》
- B. 《天津条约》
- C. 《马关条约》
- D. 《辛丑条约》

8. 为完成“打倒列强，除军阀”的国民革命任务，国共两党合作领导了

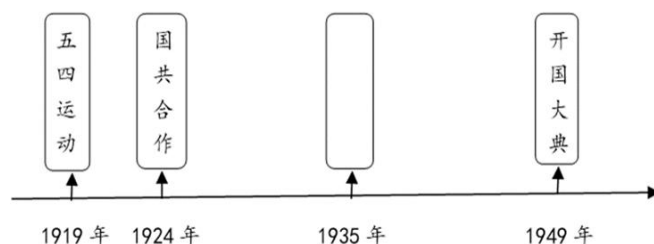
- A. 辛亥革命
- B. 五四运动
- C. 北伐战争
- D. 南昌起义

9. 《2004-2010 年全国红色旅游发展规划纲要》提出建设 12 个重点“红色旅游区”。下列主题中，符合“沪浙红色旅游区”的是

- A. 开天辟地 党的创立
- B. 国共合作 北伐战争

- C. 武装起义，八一建军 D. 战略转移，万里长征
10. 政治口号是历史发展轨迹的生动记录。以下口号中，盛行于抗日战争时期的是
- A. “打倒列强，除军阀” B. “宁为战死鬼，不作亡国奴”
- C. “抓革命，促生产” D. “打过长江去，解放全中国”
11. 制作年代尺是学习历史的重要方法。图 2 是新民主主义革命时期年代尺，空白处应填写

- A. 国民革命
B. 遵义会议
C. 重庆谈判
D. 解放战争



12. 图 3 和图 4 代表着中国解决历史遗留问题的成功范例。它践行的是




图 3

图 4

- A. 政治协商制度 B. “九二共识”
- C. 民族区域自治制度 D. “一国两制”构想
13. “我们的政府形式之所以称为民主制，是因为权力不掌握在少数人手里，而是由全体人民掌握。”伯利克里的这番言论中，“人民”指
- A. 雅典妇女 B. 雅典成年男性公民
- C. 奴隶 D. 外邦人
14. 罗马法体系最终完成的标志是
- A. 习惯法的形成 B. 《十二铜表法》的制定
- C. 公民法的形成 D. 《查士丁尼民法大全》的颁布
15. 有学者指出，1688 年“光荣革命”开始了一个现代化的英国。这里“现代化”指的是
- A. 《大宪章》颁布 B. 议会制度出现
- C. 君主立宪制确立 D. 责任内阁制形成
16. 依据美国 1787 年宪法，总统拥有
- A. 立法权 B. 财政预算权
- C. 司法权 D. 行政权
17. 1877 年，法国一家君主派报纸写道：“我们要把共和国和共和派搞成连猪狗都不吃的烂泥浆。”这段言论反映了法国
- A. 地方割据势力强大 B. 政治体制不断完善
- C. 共和派的力量强大 D. 共和道路艰难曲折
18. 俄国十月社会主义革命进程中出现过两个政权并存的特殊局面，标志着这一局面结束的事件是
- A. 二月革命的发生 B. 《四月提纲》的提出
- C. 七月事件的发生 D. 彼得格勒起义胜利

“美国的援助”，从中能看出马歇尔计划的目的包括

- ①帮助西欧恢复战后经济
- ②加强美国对西欧的控制
- ③推动欧洲走向经济合作
- ④直接对抗华沙条约组织

- A. ①②
- B. ①③
- C. ②③
- D. ②④




图 5

20. “冷战以迅雷不及掩耳之势终结了”。这一评论所指的历史事件是

- A. 波兰剧变
- B. 苏联解体
- C. 两德统一
- D. 科索沃战争

21. 历史现象发生在特定的历史时空之中。出现于图 6 所反映的历史空间中的经济现象是

- A. 农业生产以集体耕作为主
- B. 劳动工具材质以青铜器为主
- C. 铁犁和牛耕逐步得到推广
- D. 南方经济逐步超过北方



图 6

22. 秦汉时期“二十四节气”正式确立，成为指导农事的补充历法。元代王祯在《农书》中强调农事应包括垦耕、耙劳、播种、锄治、粪壤、灌溉、收获等活动。这反映我国古代农业经济的特点是

- ①注重农时
- ②精耕细作
- ③自给自足
- ④男耕女织

- A. ①②
- B. ①③
- C. ②③
- D. ③④

23. 在中国古代的纺织、制瓷等行业中，私营手工业超过官营手工业占据主导地位是在

- A. 汉朝
- B. 唐朝
- C. 宋朝
- D. 明朝

24. 图 7 是某同学的历史课堂笔记。其内容所对应的历史时期应该是

- A. 秦汉时期
- B. 隋唐时期
- C. 宋元时期
- D. 明清时期

1. 玉米、番薯等高产作物被引进
2. 地域性商人群体徽商和晋商出现
3. 棉布成为广大人民的衣料

图 7

25. 19 世纪中期, 中国经济结构的主要变化是

- ①自然经济开始解体
- ②近代工业开始出现
- ③资本主义萌芽产生
- ④小农经济完全破产

- A. ①②
- B. ②③
- C. ②④
- D. ③④

26. 李鸿章说：“中国积弱，由于患贫。必须先求富，而后才能自强。”下列企业由李鸿章创办并体现其“求富”思想的是

- A. 江南制造总局
- B. 湖北织布局
- C. 汉阳铁厂
- D. 轮船招商局

27. 清政府“饬令招商,多设织布、纺绸等局,广为制造”,表明清政府已放宽对民间设厂的限制。这发生在

- A. 19 世纪 40 年代
- B. 19 世纪 60 年代
- C. 19 世纪 90 年代
- D. 20 世纪 20 年代

28. 近代著名诗人黄遵宪在《今别离》一诗中写道:“别肠转如轮,一刻既万周。眼见双轮驰,益增心中忧。送者未及返,君在天尽头。”诗中反映的是

- A. 社会巨变导致人口的大量迁徙
- B. 近代交通工具改变人们的生活
- C. 马车及木船是人们出行的工具
- D. 近代以来出国留学热潮的兴起

29. 下图中的历史信息体现的建设成就是




图 8 我国制造的第一批喷气式飞机



图 9 长春第一汽车制造厂的生产线

- A. 新中国的国民经济得到迅速恢复
- B. “一五”计划奠定工业化初步基础
- C. “大跃进”运动改变经济落后面貌
- D. 经济体制改革增强了企业的活力

30. 山东邹平农民刘宗水从 1963 年开始坚持每天写日记,他在 1981 年 10 月 23 日的日记中写道:“到二队分地,过午四时,大片地已分完,只有自留地和饲料地未分……”。材料中的“分地”

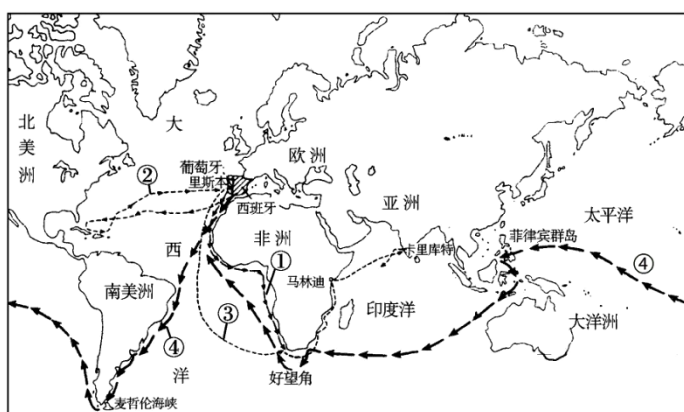
- A. 调动了农民生产的积极性
- B. 确立了市场经济发展目标
- C. 改变了生产资料的所有制
- D. 促进了多种所有制的发展

31. 1982 年 1 月 5 号,“FOLLOW ME”第一次在中央电视台播出,掀起了全民学英语的热潮。

这一高潮出现的主要原因是

- A. 恢复高考制度
- B. 建立经济特区
- C. 实行对外开放
- D. 发展广电事业

32. 下图中,葡萄牙航海家迪亚士的航海路线是



- A. ①
- B. ②
- C. ③
- D. ④

33. 18 世纪,确立了世界殖民霸权的国家是

- A. 英国
- B. 西班牙
- C. 法国
- D. 荷兰

34. 19 世纪后期,英国有钱人以坐船游览伦敦的泰晤士河为时尚,但是这一时期河水已经浑浊不堪,臭气熏天。由此可见

- A. 水力成为主要能源
- B. 工业革命造成了环境污染

- C. 城市日益喧嚣拥挤 D. 工业革命助长了奢侈风气
35. 威廉·本内特在《美国通史》中写道：“数千年轻的男人临时居住在窝棚里，从事修建长途铁路的工程，虽然挣得不多，但他们的健康能够得到保证，重要的是有一种成就感。”罗斯福新政中与之相关的举措是
- A. 复兴工业 B. 整顿银行 C. 以工代赈 D. 调整农业
36. 在罗斯福新政期间，政府一方面成立联邦紧急救济署，给老人、残疾人提供社会救济，另一方面制订了一个大规模的公共工程计划来吸收无职业者。这些措施的影响是
- ①刺激了消费和生产 ②抑制了通货膨胀
③稳定了社会秩序 ④终止了股票投机
- A. ①③ B. ②④ C. ①④ D. ②③
37. 苏俄农民说：“土地属于我们，但面包却属于你们；森林属于我们，但木材却属于你们；水属于我们，但鱼却属于你们。”农民的不满主要是针对
- A. 战时共产主义政策 B. 新经济政策
C. 农业集体化 D. 土地私有化
38. 20 世纪 80 年代，英国首相撒切尔夫人说，社会有一个梯子和一张安全网，梯子用来供人们自己努力改善生活，安全网则用来防止人们跌入深渊。她说的“安全网”是指
- A. 社会保障体系 B. 强化国防保障
C. 发展粮食生产 D. 劳动安全保护法
39. 四川汶川地震造成直接损失 8541 亿元。为应对艰巨的灾后重建任务，我国申请获得国际贷款 7.1 亿美元。下列机构最有可能给中国提供贷款的是



- A. 联合国 B. 世贸组织 C. 世界银行 D. 国际货币基金组织
40. 当今中国很多汽车知名企业与世界汽车集团合资，例如：北汽集团与现代、奔驰、切诺基等，上汽集团与大众、通用等。这些现象出现的背景是
- A. 中国汽车业开始起步 B. 世界市场最终形成
C. 区域集团化趋势出现 D. 经济全球化的推进

第二部分 非选择题（共计 40 分）

一、政治智慧•制度设计•国家实力。阅读材料，回答下列问题。（本题共 20 分）

行政区划的一个主要原则便是依“山川形便”，将自然环境与行政区划有机地结合在一起，所谓“州郡有时而更，山川千古不易”。元代以前，行政区独立的自然属性与经济、文化的一体化趋势较强，故往往中央与地方一级行政区的矛盾很大，产生割据局面的时期较多。从元代开始，中央完全打破了这种原则，采取“犬牙交错”的原则，任意将自然环境差异极大的地区拼成了一个一级行政区。

1. 依据材料，指出中国古代行政区划的原则；（2 分）结合所学，分析元代在地方行政制度上的创新之处及历史作用。（4 分）

1912 年 12 月，中国进行了有史以来第一次国会选举。根据选举法规定，获得登记的选民共有 42,933,992 人，占人口总数的 1/10。国会选举结果如下：

党派	国民党	共和党	无党派	跨党者	民主党	统一党
参议院 274（席）	123	55	44	38	8	6
众议院 596（席）	269	120	26	147	16	18

2. 结合所学，简述中国进行第一次国会选举的背景；（2 分）依据材料，分析当时中国民主政治出现的新气象。（4 分）

中法建交大事记

第一阶段	1949 年	由于中国承认越南民主共和国和支持越南人民的抗法斗争，法国当时拒绝承认中国。
	1950 年	法国派兵参加了朝鲜战争，同中国军队面对面地站在了朝鲜战场上。
第二阶段	1954 年	新中国首次以五大国之一的地位，参加了和平解决朝鲜问题与恢复印度支那和平问题的日内瓦会议。法国总理兼外长孟戴斯·弗朗斯会见了中国代表团团长周恩来总理。这是中法两国总理的首次会晤。
	1957 年	法国前总理埃德加·富尔以私人身份对中国进行了访问。毛泽东在接见富尔时，引用了“鹬蚌相争、渔翁得利”的典故，阐述了中法关系的利害。
	1963 年	富尔再次访华。这是他代表戴高乐总统进行的一次重要访问。周总理、陈毅副总理又分别同他进行了六次认真、坦诚的实质性会谈。富尔回到巴黎后，为保密起见，法方更换谈判代表继续同中国秘密谈判。
	1964 年	1 月 27 日，中法双方同时发表建交公报。1 月 31 日，戴高乐总统举行记者招待会，正式宣布承认同中国建立大使级外交关系。2 月 23 日，中法两国使馆的临时代办同时到达驻在国首都。

3. 依据材料，分别概括两个阶段中法关系的状态；（4 分）结合所学，分析两国关系发生变化的原因。（4 分）

二、15 世纪以来，世界的联系越来越紧密。阅读材料，回答下列问题。（本题共 20 分）

1500~1800 年间，支撑资本主义世界市场体系的，是跨欧、亚、美、非四大洲的贸易圈。与中世纪横跨亚欧大陆和印度沿海的长途贸易相比，新的大西洋贸易和太平洋贸易规模上是前所未有的……欧洲的海上霸权国家在亚洲和美洲都拥有殖民地和港口……这一时期贸易的内容已经逐渐从零散的奢侈品转变为大宗的经济作物甚至是工业制造品。

1. 依据材料，概括 1500~1800 年间全球经济交往的特点。（6 分）

汽油机	光纤通讯	电动机	火车	蒸汽机	计算机
电子邮件	无线电报	飞机	通信卫星	移动电话	轮船

2. 阅读上表，从“科技与世界联系加强”的某个侧面，选出 3 个关键词，提炼一个主题；补充一个符合该主题的主题词。（6 分）

要求：主题立意明确；关键词的选择应与主题保持逻辑上的一致性。

示例用过的主题不能再用。

示例：主题：信息技术加强世界联系

关键词：计算机、光纤通讯、通信卫星

补充：互联网

当世界上其他国家，至少就自由化西方资本主义国家而言，经济陷入一片停滞之时，唯独苏联……最保守的估计，从 1929 年开始，一直到 1940 年，苏联工业产量便增加了 3 倍。1938 年时，苏联总生产量在全球所占的比例，已从 1929 年的 5% 跃升为 18%。同一时期，美英法三国的比例，却由全球总额的 59% 跌落为 52%。更令人惊奇的是，苏联境内毫无失业现象。于是不分意识形态，众人开始以苏联为师。

3. 阅读材料，分别说明 20 世纪 30 年代苏联与美英法三国经济的不同发展趋势，（2 分）并结合所学分析其原因和影响。（6 分）

历史试题答案

历史试卷答案及评分参考

第一部分 选择题（每小题 1.5 分，共 60 分）

1	2	3	4	5	6	7	8	9	10
B	B	C	D	C	B	C	C	A	B
11	12	13	14	15	16	17	18	19	20
B	D	B	D	C	D	D	C	A	B
21	22	23	24	25	26	27	28	29	30
C	A	D	D	A	D	C	B	B	A
31	32	33	34	35	36	37	38	39	40
C	A	A	B	C	A	A	A	C	D

第二部分 非选择题（共计 40 分）

一、本题共 20 分

（1）（6分）

原则：山川形便、犬牙交错。（2 分）

创新之处：行省制度。（2 分）

作用：有利于防止地方割据，加强中央集权；制度创新影响后世，中国的省制由此开端。

（答出 1 点，给 2 分）

（2）（6分）

背景：辛亥革命结束，中华民国成立。（答出 1 点，给 2 分）

新气象：设置国会参众两院；依照法律程序进行议员选举；实行政党政治。

（答出 2 点，给 4 分）

（3）（8分）

状态： 第一阶段：敌对状态。（2 分） 第二阶段：从接触走向建交。（2 分）

变化原因：国际格局的变动；新中国国力增强，国际影响力扩大；两国领导人积极推动；中法两国战略发展的各自需要。（如：中苏关系恶化、法国实力增强谋求大国地位，等等） （答出 2 点，给 4 分）

二、本题共 20 分

（1）（6分）

特点：形成了跨欧、亚、美、非四大洲的贸易圈；贸易规模前所未有的；建立在欧洲强国殖民扩张的基础上；贸易的品种以经济作物为主。（答出 3 点，给 6 分）

（2）（6分）

（主题 2 分，3 个关键词各 1 分，补充词 1 分）

主题：交通工具使世界联系便捷

关键词：飞机、火车、轮船

补充：汽车

主题：通讯手段加强信息交流传播

关键词：无线电报、移动电话、电子邮件

补充：电话

主题：动力改进加强世界联系

关键词：汽油机、蒸汽机、电动机

补充：柴油机

(3) (8分)

不同趋势：苏联工业化快速发展，总生产量在全球所占的比例大幅度上升。(1分)

美英法三国经济停滞，总生产量在全球所占的比例出现下降。(1分)

原因：美英法三国都受到资本主义世界经济大危机的严重冲击；(2分)

而苏联实行高度集中的计划经济体制和新型工业化模式，且未受经济危机波及。(2分)

影响：美国等资本主义国家借鉴苏联的计划经济模式，加强对经济的全面干预。(2分)

北京高考在线是长期为中学老师、家长和考生提供新鲜的高考资讯、专业的高考政策解读、科学的升学规划以及实用的升学讲座活动等全方位服务的升学服务平台。自 2014 年成立以来一直致力于服务北京考生，助力千万学子，圆梦高考。

目前，北京高考在线拥有旗下拥有北京高考在线网站和北京高考资讯微信公众号两大媒体矩阵，关注用户超 10 万+。

北京高考在线_2018 年北京高考门户网站

<http://www.gaokzx.com/>

北京高考资讯微信：bj-gaokao

北京高考资讯

关于我们

北京高考资讯隶属于太星网络旗下，北京地区高考领域极具影响力的升学服务平台。

北京高考资讯团队一直致力于提供最专业、最权威、最及时、最全面的高考政策和资讯。期待与更多中学达成更广泛的合作和联系。

长按二维码 识别关注



微信公众号：bj-gaokao

官方网址：www.gaokzx.com

咨询热线：010-5751 5980