

2020 北京延庆初二（上）期中

地 理

北京高考在线
www.gkzox.com

考 生 须 知	1. 本试卷共 10 页。共 34 道题，满分 80 分。考试时间 90 分钟。 2. 试题答案一律填涂或书写在答题卡上，在试卷上作答无效。 3. 在答题卡上，选择题、画图题用 2B 铅笔作答，其他试题用黑色字迹签字笔作答。 4. 考试结束，将本试卷、答题卡一并交回。
------------------	---

一、单项选择题（共 30 小题，每小题 1 分，共 30 分。请将答案填到答题纸上）

读图 1 世界海陆分布图，完成 1-3 题。

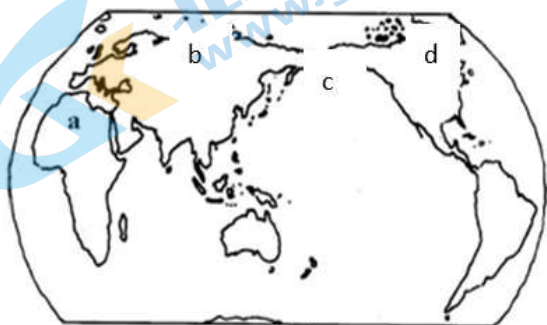


图 1


1. 关于地球表面海陆分布的描述正确的是

- A. 地球表面有三分海洋，七分陆地
- B. 地球表面陆地主要集中在南半球
- C. 地球表面有六块相互连着的大洲
- D. 地球上有彼此相连的四个大洋

2. a, b, c, d 分别是

- A. 非洲、欧洲、大洋洲、北美洲
- B. 欧洲、非洲、大洋洲、北美洲
- C. 非洲、亚洲、太平洋、北美洲
- D. 欧洲、非洲、太平洋、北美洲

3. 同学们绘制了不同形式的统计图，图中深色区域代表海洋占地球表面积的比例，图中能正确表示全球海陆分布状况的是



小明同学用绘制简笔画（如图 2 所示）的方法来记忆大洲大洋的名称、位置。据此，完成第 4-7 题。

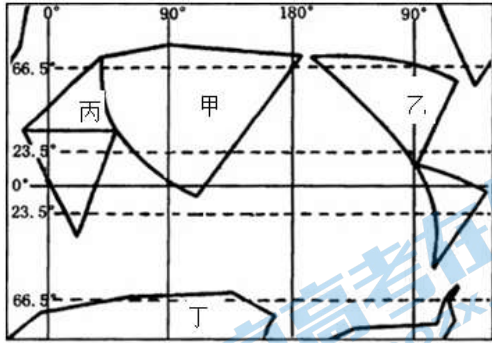


图 2

4. 此简笔画中完全位于南半球的大洲是

- A. 亚洲 B. 非洲 C. 南极洲 D. 南美洲

5. 此简笔画中穿过大西洋和非洲的经线是

- A. 本初子午线 B. 赤道 C. 北回归线 D. 南极圈

6. 小明在简笔画中没有画的大洲是

- A. 亚洲 B. 大洋洲 C. 非洲 D. 南极洲

7. 去年圣诞节之前的最后一个周末，原本应该是最繁忙的日子，新一波大雪使欧洲许多国家航班取消、道路关闭、列车延误……交通几乎瘫痪，扰乱了人们购物和出游的节日计划，上图中代表欧洲的是

- A. 甲 B. 乙 C. 丙 D. 丁

2018 年全球发生多次地震，其中 8 级以上两次，分别为阿拉斯加湾 8.0 级和斐济群岛 8.1 级。图 3 是“2018 年世界七级以上地震分布图”。读图，完成第 8、9 题。

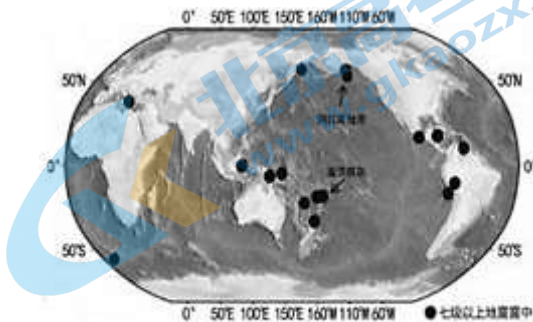


图 3

8.图中显示，七级以上地震震中主要分布在

- A.太平洋沿岸
- B.地中海沿岸
- C.欧亚大陆东岸附近
- D.大西洋沿岸

9.两次8级以上地震发生地及周边地区，频发地震的主因是

- A.群岛数量众多
- B.位于沿海地区
- C.人类活动强度大
- D.位于板块交界地带

10. 中华旋齿鲨化石在珠穆朗玛峰上发现，说明

- A.珠穆朗玛峰是世界第一高峰
- B.人类活动填海造陆的结果
- C.地壳运动的结果
- D.海平面上升的结果

11.关于图4中字母所代表地理事物名称的表述，不正确的是

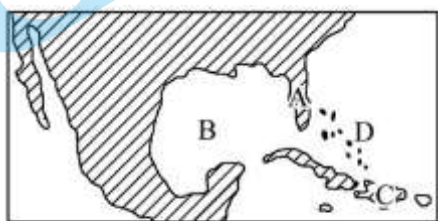


图4

- A. A是半岛
- B. B是海峡
- C. C是岛屿
- D. D是群岛

图5为世界年平均气温分布图。据图，完成12-14题。

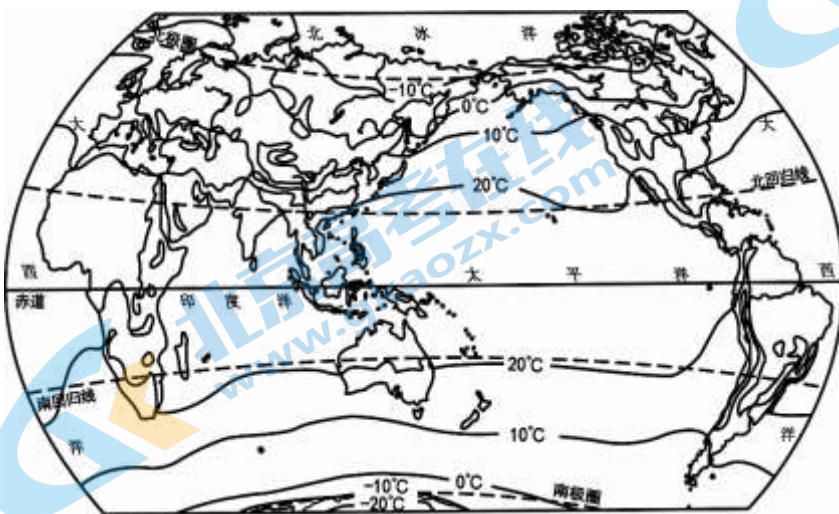


图5

12.影响世界年平均气温分布的主要因素是

- A.地形因素 B.纬度因素 C.海陆因素 D.经度因素

13.图 5 中等温线在海洋和陆地交界处多发生弯曲，主要影响因素是

- A.纬度因素 B.经度因素 C.海陆因素 D.地形因素

14.下列关于气温水平分布的叙述，正确的是

- A.世界上最热的地方永远在赤道上
B.地球上的极端最低气温出现在南极洲
C.一般来说，低纬度地区气温低，高纬度地区气温高
D.在北半球气温从低纬度向高纬度递减，南半球相反

图 6 为全球降水与气温随纬度的变化示意图。读图,回答 15-17 题。

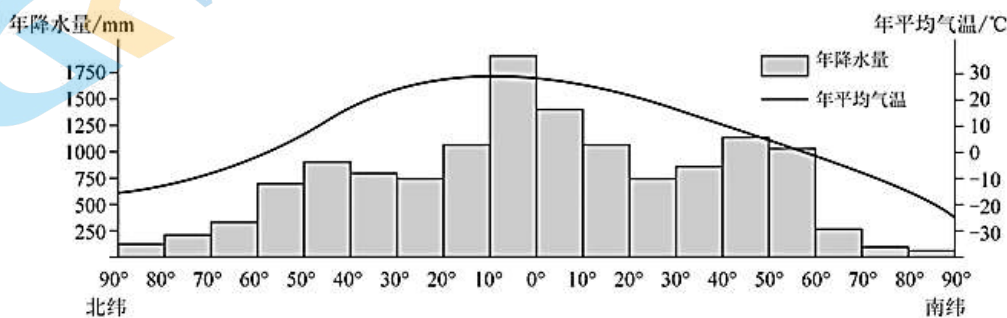


图 6

15.关于全球年平均气温分布特点的描述，正确的是

- A.全球年平均气温从南向北递减 B.全球年平均气温从低纬向高纬递减
C.南北纬 30°附近的年平均气温一样 D.全球年平均气温最低值出现在北极地区

16.关于全球年降水量分布特点的描述，正确的是

- A.全球年降水量从低纬向高纬递减 B.赤道附近地区年降水量最少
C.中纬度地区，南半球比北半球降水量多 D.南极地区比北极地区年降水量多

17.下列对全球变暖起到加强作用的人类活动是

- A.大量采伐森林 B.大量捕捞海洋生物
C.大范围围海造田 D.大规模矿产资源开发

世界人口分布不均，但却有规律可循。图 7 为世界人口各纬度所占比重图。读图和表 1，完成 18~20 题。

关注北京高考在线官方微信：[北京高考资讯\(ID:bj-gaokao\)](#)，获取更多试题资料及排名分析信息。

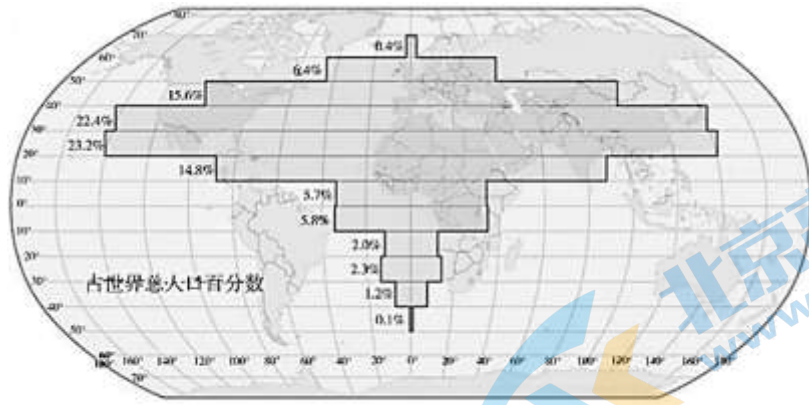


图7

表1 世界人口垂直分布

海拔(米)	0~200	200~500	500~1000	1000~1500	1500~2000	2000~2500
占世界人口比例(%)	56.5	24.0	11.6	4.4	2.3	1.2

18.从表1中可知,世界人口分布最多的地形类型是

- A. 丘陵 B. 平原 C. 高原 D. 山地

19.图7中显示

- A. 世界上约95%的人口分布在北半球 B. 北纬30°~40°地区人口密度最大
C. 北纬20°~30°地区人口数量最多 D. 南半球几乎无人居住

20.高纬度地区人口数量少的主要影响因素是

- A. 气候 B. 河流 C. 地形 D. 植被

北京世界园艺博览会于2019年4月29日——10月9日在北京延庆举行,当时迎来世界各大洲许多国家的园艺展览,凸显美丽世园,绿色生活的理念。读图,回答21-23题。

21.北京世界园艺博览会于10月9日在北京闭幕,此时的澳大利亚正处在_____季节



图8

- A. 冬季 B. 夏季 C. 春季 D. 秋季

22.图片拍摄于北京世园会植物馆楼顶,此图形设计源于__大洲。

- A.亚洲 B.欧洲 C.南极洲 D.非洲

23.此图片反应的自然景观是

- A.热带沙漠景观 B.热带雨林景观 C.热带草原景观 D.温带草原景观

图9是“从亚洲到欧洲传统民居的墙壁厚度变化示意图”，完成24-26题。

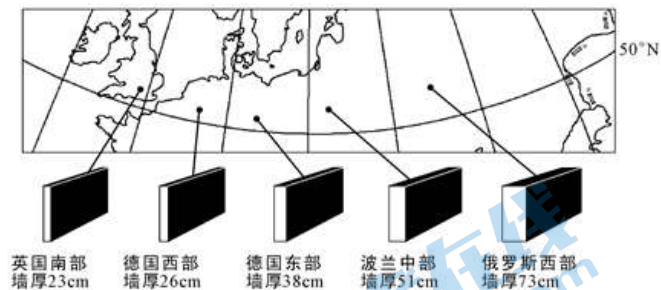


图9

24.气候的两大基本要素是

- A.湿度、风力 B.气温、降水 C.气压、风力 D.风力、降水

25.图中引起墙体厚度变化的主要气候要素是

- A. 气温 B. 降水 C. 纬度 D. 地形

26.图中反映了影响气候的因素是

- A. 纬度位置 B. 风俗习惯 C. 海陆位置 D. 地形

2019年7月，某考察团从图10中M(5°N,0°E)地出发，沿图示路线不跨越任何大洋到达N(29°N,120°E)地，

图11为他们沿途考察三地的年均温和降水量柱状图。读图，完成27-30题。

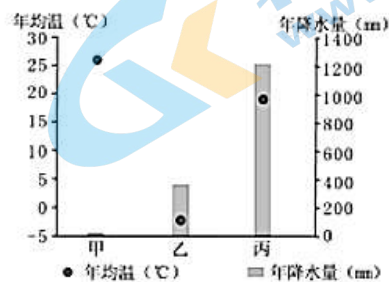
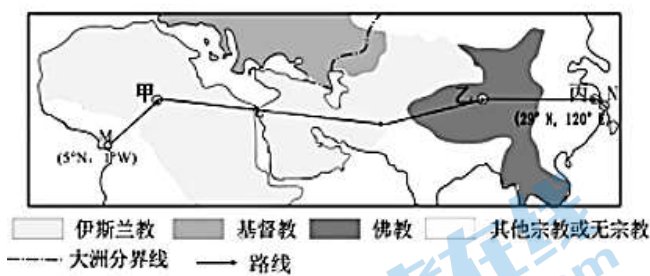


图11

27.考察团经过甲、乙、丙三地中，乙地

- A.年均温最低 B.年均温最高 C.年降水量最多 D.年降水量最少

28.考察团经过甲、乙、丙三地中，甲地

- A.年均温 30 度以上 B.年均温是负值 C.年降水量最多 D.年降水量最少

29. 考察团所经地区

- A.全部位于东半球、北半球 B.通过亚欧界线地中海
C.跨越三大洲、连接两大洋 D.气候类型单一

30. 看图可见考察团所经地区的居民主要信奉

- A.基督教和佛教 B.佛教和其他宗教
C.伊斯兰教和佛教 D.基督教和其他宗教

二、综合题（4道大题，共50分）

31. 地图是地理学习的“第二语言”，比较法是学习地理的重要方法。读图12、图13，回答下列问题。（共12分）

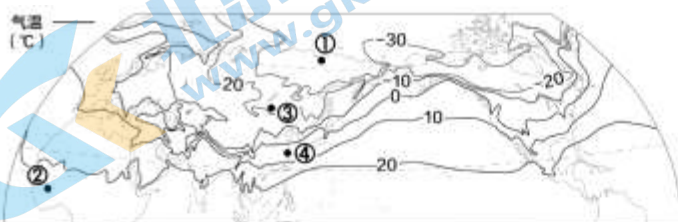


图12(a) 世界1月平均气温

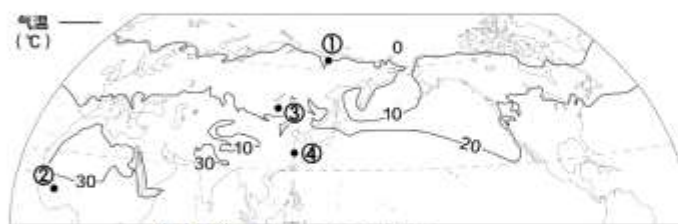


图12(b) 世界7月平均气温

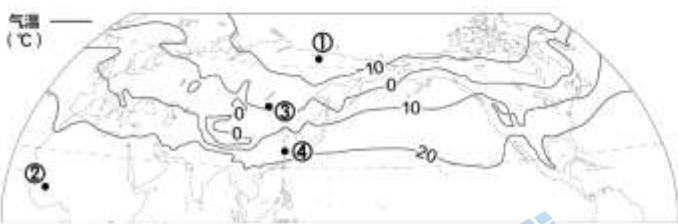
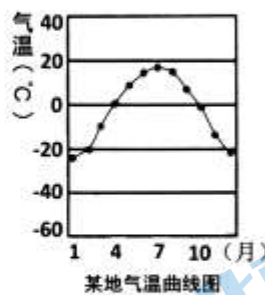


图12(c) 世界年平均气温



某地气温曲线图

图13

(1) 表现北半球最冷月气温分布的是_____（填图号）；该图中，①地气温低于_____。

(2) 图12(a)中，②地与①地温差约_____【单选】。

- A.75°C B.63°C C.51°C D.42°C

(3) 比较图12(a)和图12(b)，描述正确的是_____【多选】

- A. ①地气温比④地低
B. ②地终年高温

C. 1月, 大陆等温线大致向赤道方向凸出

D. 7月, 大陆最高气温出现在纬度最低处

E. 1月比7月南北温差更大

F. 1月和7月同纬度海洋气温低于陆地

(4) 图 13 显示, 某地气温变化特点是_____；该地可能位于图中_____的(填序号)地。

(5) 观察_____ (填图号), 描述北半球年平均气温分布规律是_____。

32. 读图 14、图 15, 回答下列问题 (共 13 分)。

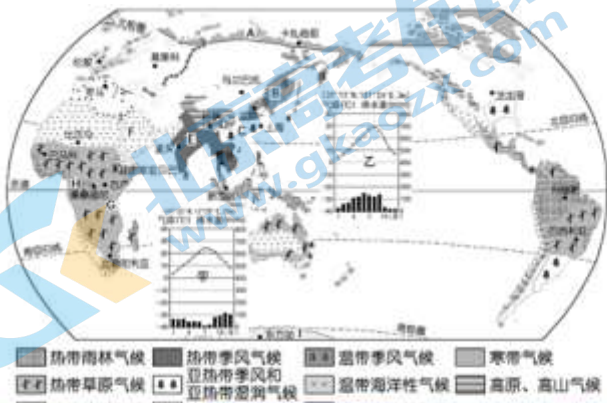


图 14



图 15

(1) 将图 14 中的字母与图 15 中的动物序号连起来。(9 分)

A—— B—— C——

D—— E—— F——

G—— H—— I——

(2) 分析北极熊分布与自然环境的关系。(4 分)

33. 沃尔沃环球帆船赛 2017-2018 赛季于 10 月 22 日从西班牙的阿利坎特港出发, 12 月底抵达澳大利亚墨尔本, 并于来年 6 月底在荷兰海牙结束。图 16 为环球帆船赛路线图。(共 10 分, 每空 1 分)

关注北京高考在线官方微信: [北京高考资讯\(ID:bj-gaokao\)](#), 获取更多试题资料及排名分析信息。

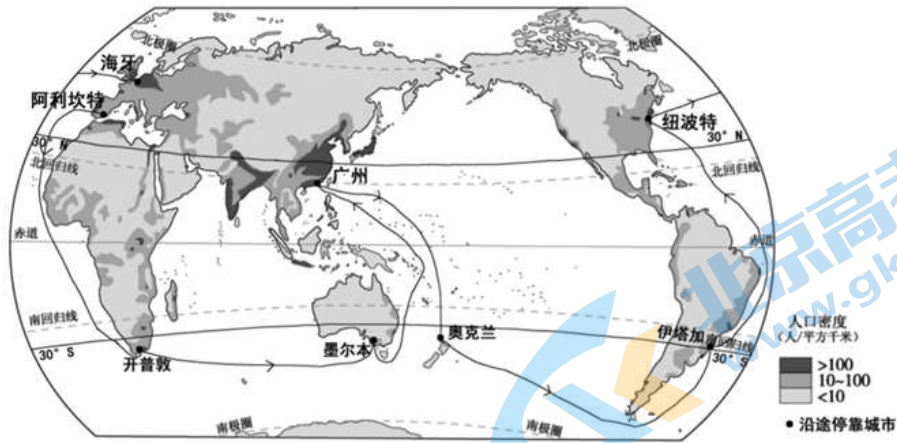
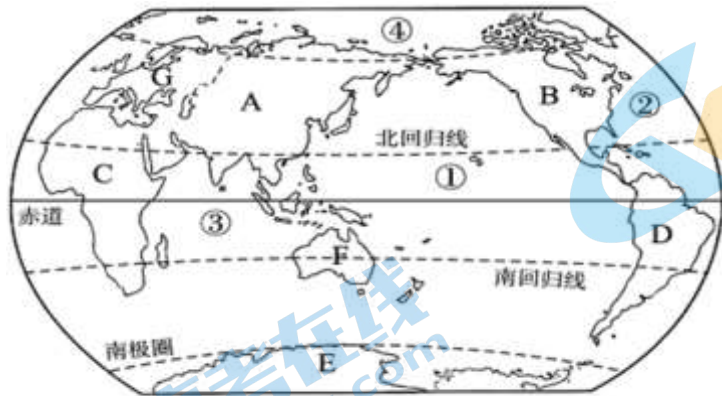


图 16

- 沃尔沃环球帆船在航行过程中，从阿利坎特港出发，依次经过_____洋、非洲、_____洋、_____洲、太平洋、南美洲、_____洲，最终经大西洋回到海牙。
- 阿利坎特港地处_____洲，人口密度在_____，我国的广州人口密度在_____。
- 航行过程中所经城市都属于世界人口_____（稠密/稀疏）区，从纬度位置看，人口主要分布在_____纬度，从海陆位置看，人口主要分布在_____。

34. 请阅读资料完成下列题目。（共 15 分，每空 1 分）

资料一：9 月 28 日下午在日本大阪举行的 2019 年女排世界杯赛第三阶段比赛中，中国队以 3 比 0 战胜欧洲塞尔维亚队豪取世界杯十连胜提前一轮卫冕女排世界杯冠军！中国女排最激荡人心的，也许并不是她的胜利，而是所展现出的精神风貌。从这种精神风貌中，我们读出了何谓团结奋斗，何谓顽强拼搏，何谓勇攀高峰，我们也感受到了那种为国争光的价值诉求。女排精神，正是我们这个时代最需要的。



资料二：

图 17

- 2019 年女排世界杯赛第三阶段比赛地所在大洲为_____（填字母），该大洲大部位于_____半球（东；西），中国女排和非洲的塞尔维亚队所在的大洲分界线是_____。
- 中国女排所居住的大洲是面积_____大洲，东部临的是_____，南临的是_____洋，②是_____洋。
- 与此同时收看直播的 B 所在的大洲和 D 所在的大洲的分界线是_____。

(4) G所在的大洲地形以_____为主，是海拔最低的大洲_____(对；错)。

(5) 图中纬度高的大洋为_____ (填序号)，是_____洋。

资料三：漫画




图 18

(6) 漫画中的动物主要生活在_____；图中看到了该地区的气候正在_____ (气候变暖；气候变冷)。针对这一现象，我们能做些什么呢_____。

2020 北京延庆初二（上）期中地理

参考答案

一、单项选择（共 35 小题，每小题 1 分，共 35 分）

1	2	3	4	5	6	7	8	9	10
D	C	B	C	A	B	C	A	D	C
11	12	13	14	15	16	17	18	19	20
B	B	C	B	B	C	A	B	C	A
21	22	23	24	25	26	27	28	29	30
C	D	C	B	A	C	A	D	A	C

二、综合题（4 道题，共 50 分）

31.12 分

(1) (2 分) 图 12 (a) ; -30°C (2) (1 分) C (3) (4 分) ABCE

(4) (3 分) 冬冷夏凉, 年温差大; ③

(5) (2 分) 12 (c), 从低纬向高纬递减

32.13 分

(1) (9 分) A——③ B——⑦ C——①

D——⑨ E——⑤ F——⑧

G——② H——⑥ I——④

(2) (4 分) 自然界中的各种野生动物都与当地自然环境密不可分, 北极熊脂肪厚, 适合在严寒条件下生存, 因此, 多分布在北冰洋沿岸地区。

33.10 分

(1) (4 分) 大西洋 印度 大洋 北美洲

(2) (3 分) 欧洲 10-100 人/平方千米 大于 100 人/平方千米

(3) (3 分) 稠密 中低 沿海

34.15 分

(1) (3分) A 东 苏伊士运河

(2) (4分) 最大 (亚洲) 太平洋 印度洋 大西洋

(3) (1分) 巴拿马运河

(4) (2分) 平原为主 对

(5) (2分) ④ 北冰洋

(6) (3分) 北冰洋附近 气候变暖 能够说出生活中的正确做法即可



关于我们

北京高考资讯是专注于北京新高考政策、新高考选科规划、志愿填报、名校强基计划、学科竞赛、高中生涯规划的超级升学服务平台。总部坐落于北京，旗下拥有北京高考在线网站（www.gaokzx.com）和微信公众平台等媒体矩阵。

目前，北京高考资讯微信公众号拥有30W+活跃用户，用户群体涵盖北京80%以上的重点中学校长、老师、家长及考生，引起众多重点高校的关注。
北京高考在线官方网站：www.gaokzx.com

北京高考资讯 (ID: bj-gaokao)
扫码关注获取更多



关注北京高考在线官方微信：[北京高考资讯 \(ID:bj-gaokao\)](https://www.gaokzx.com)，获取更多试题资料及排名分析信息。