

中学生标准学术能力诊断性测试 2023 年 3 月测试

文科综合试卷

本试卷共 300 分，考试时间 150 分钟。

一、选择题：本题共 35 小题，每小题 4 分，共 140 分。在每小题给出的四个选项中，只有一项是符合题目要求的。

气候变化对人类社会和生态系统产生重大影响，尤其农业最易受气候变化的影响。唐末宋初，占城稻（原产于越南的古占城国）通过海上丝绸之路引入我国福建省种植，北宋真宗年间（公元 968 年—1022 年），气候急剧转旱，占城稻被继续向北引入淮河以南、长江中下游地区种植，成为宋代农业的“明星品种”。据此，完成 1~3 题。

1. 唐宋时期，我国海上商队出发前往越南引进占城稻的最佳季节是
A. 春季 B. 夏季 C. 秋季 D. 冬季
2. 占城稻成为宋代农业的“明星品种”，主要得益于其
A. 产量高 B. 耐贫瘠 C. 品质优 D. 适应性强
3. 占城稻的推广，反映出古代农业生产应对气候变化采用的措施是
A. 改善农田水利建设 B. 调整农业种植结构
C. 改变农业生产布局 D. 改进农业生产技术

2022 年 11 月 21 日~12 月 18 日，第 22 届世界杯在“袖珍王国”卡塔尔（25° 15' N，51° 34' E）举行，世界各地球迷陆续涌入，观战热情不断高涨。小组赛安排在当地时间每天 13 时、16 时、19 时和 22 时。表 1 为中国球迷制作的 11 月 27 日小组赛赛程表。据此，完成 4~6 题。

表 1

日期	时间	组别场次	主队VS客队
11月27日 星期日 (北京时间)	0:00	D组第2轮	法国VS丹麦
	3:00	C组第2轮	阿根廷VS墨西哥
	18:00	E组第2轮	日本VS哥斯达黎加
	21:00	F组第2轮	比利时VS摩洛哥

4. 高温会影响球员的动作协调性和反应灵敏性。本届世界杯比赛期间，受温度影响较大的运动员来自
A. 澳大利亚 B. 沙特阿拉伯 C. 比利时 D. 美国
5. 2022 年 11 月 27 日的世界杯比赛过程中，下列说法正确的是
A. 法国与丹麦的比赛在当地时间 11 月 26 日进行
B. 现场观看阿根廷与墨西哥比赛时阳光刺眼
C. 日本球迷需熬夜观看本国直播赛况

6. 2022 年世界杯期间，卡塔尔需要应对的新问题是
A. 能源供应紧张 B. 酒店房源稀缺 C. 水资源问题突出 D. 天然气价格上涨
7. 白垩纪晚期，二连盆地一带的地理环境特征是
A. 气候湿热 B. 风沙肆虐 C. 草原面积广大 D. 蕨类植物繁盛
8. 白垩纪恐龙化石所在地层
A. 岩石致密坚硬 B. 下层生物化石更高级
C. 多片理结构 D. 可能含有带羽毛的化石

老龄化（60 岁以上人口占全体人口的比重）和高龄化（80 岁以上人口占 60 岁以上人口的比重）同是反映人口年龄结构“老化”的现象。人口“老化”是人口转变的必然结果。不同国家和地区人口转变步伐不一，人口“老化”的发展趋势和特点也有差别。图 1 表示 2000 年和 2020 年中国、日本、美国和日本利亚四国不同年龄结构人口比重。据此，完成 9~11 题。

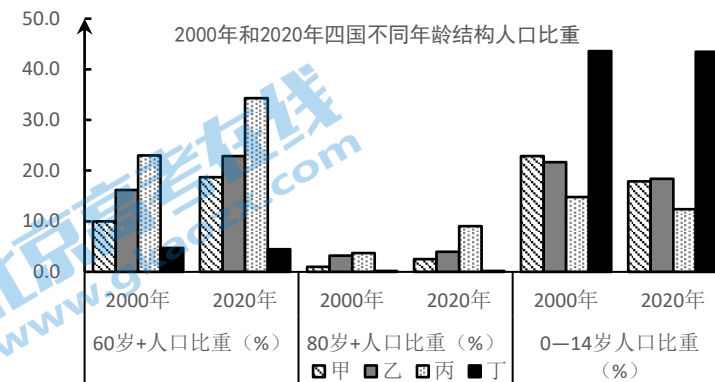


图 1

9. 图中表示中国的图例是
A. 甲 B. 乙 C. 丙 D. 丁
10. 四国相比，
A. 中国少子化现象最突出 B. 尼日利亚老龄化进程最快
C. 美国抚养负担最重 D. 日本高龄化速度最快
11. 丁国 60 岁以上人口比重不升反降的原因是
A. 死亡率较高 B. 青壮年劳动力大量迁入
C. 生育水平高 D. 人口增长模式转变
12. 党的二十大报告强调，中国共产党为什么能，中国特色社会主义为什么好，归根到底是马克思主

义行，是中国化时代化的马克思主义行。坚持马克思主义科学理论指导是我们党坚定信仰信念、把握历史主动的根本所在。这是因为马克思主义

- ①是实践的理论，是人民认识和改造世界行动的基础
- ②是科学的理论，创造性地揭示了人类社会发展规律
- ③是开放的理论，不断丰富发展，始终站在时代前沿
- ④是人民的理论，从理性正义原则出发揭露社会矛盾

A. ①② B. ①④ C. ②③ D. ③④

13. 2022年卡塔尔“世界杯”足球赛期间，义乌制造几乎占到整个“世界杯”相关商品市场份额的70%。

面对疫情冲击，义乌中小微企业紧盯市场需求，加快转型升级；通过线上销售、直播展示等手段及时补位；改善员工福利，对有重大贡献的科技和管理人才给予奖励，有效提高了企业应对风险的能力。义乌中小微企业的成功得益于

- ①推动线上线下消费融合发展，适应消费者多元化需求
- ②深入推进供给侧结构性改革，扩大有效和中高端供给
- ③以市场为导向开展经营活动，规避了国际经营的风险
- ④建立与市场接轨的激励机制，提高员工创新的积极性

A. ①② B. ①④ C. ②③ D. ③④

14. 某市于2022年6月1日起实施《养老服务时间银行实施方案（试行）》。根据方案，志愿者提供1小时养老志愿服务，可在时间银行个人账户中存入1个时间币。志愿者在60岁以后可兑换服务供本人使用，也可将时间币赠予直系亲属或向平台捐赠。“时间银行”互助养老模式

- ①有助于调动社会力量，推动慈善公益事业的发展
- ②属于社会救助的内容，有利于健全社会保障体系
- ③通过跨时空互惠交换，推动养老服务体系的完善
- ④利用社区富余人力资源，更好发挥初次分配作用

A. ①③ B. ①④ C. ②③ D. ②④

15. “以史为鉴，可以知兴替。”中国共产党作为马克思主义政党历来十分重视并善于总结历史经验，不断把党和人民事业推向前进。党重视总结历史经验旨在

- ①坚定理想信念，提高执政能力，建成小康社会
- ②把握历史规律，推进理论创新，找准前进方向
- ③争取历史主动，推动自我革命，践行初心使命
- ④加强党的建设，提高领导水平，实现自身利益

A. ①② B. ①④ C. ②③ D. ③④

16. 2022年7月至9月，全国人大常委会赴7个省份开展《乡村振兴促进法》执法检查。主要检查该法确定的重大原则、重要制度、重点要求的贯彻实施情况以及政府领导组织乡村振兴工作的情况等。全国人大常委会严格执法检查说明

- ①我国不断完善科学民主立法程序，推进法治中国建设
- ②落实《乡村振兴促进法》需要法律监督机关加强监督
- ③人大常委会坚持民主集中制原则，推动法律有效实施
- ④全国人大常委会监督政府的工作，促进政府依法行政

A. ①② B. ①③ C. ②④ D. ③④

17. 图2漫画《每个人心中的上帝》蕴含的哲理是



图2

- ①意识能够在反映现实的基础上创造幻想世界
- ②优秀的艺术作品来源于创作主体的主观创造
- ③艺术作品无法摆脱客观事物固有属性的制约
- ④艺术作品的形式和内容带有强烈的主观色彩

A. ①③ B. ①④ C. ②③ D. ②④

18. 习近平总书记在党的二十大报告中指出，解决台湾问题是中国人自己的事，要由中国人来决定。我们坚持以最大诚意、尽最大努力争取和平统一的前景，但决不承诺放弃使用武力。国家统一、民族复兴的历史车轮滚滚向前，祖国完全统一一定要实现，也一定能够实现！由此可见，解决台湾问题需要我们

- ①利取其重，使两岸关系实现客观与主观的统一
- ②遵循规律，顺应中国统一事业发展的历史大势
- ③迎难而上，要克服两岸统一道路上的困难挫折
- ④居安思危，把握好斗争性向同一性转化的条件

A. ①③ B. ①④ C. ②③ D. ②④

19. 2022年12月27日至31日，在第十八届文博会展厅里，四川三星堆博物馆“考古盲盒”、甘肃省博物馆“马踏飞燕”玩偶纷纷亮相……这些文创产品，将中华优秀传统文化IP（高辨识度的文化符号）与当代创意融合“变身”新国潮，通过文创开发、品牌营销、IP授权等核心产业链，在文化遗产活化利用之路上进行了持续探索。这说明利用好文化遗产有利于

- ①延续中华民族历史文脉，夯实传统文化的发展根基
- ②保留民族优秀文化记忆，完善文化遗产的保护体系

- ③培育文化产业新型业态，释放文化资源的使用效能
- ④激发文化创新创造活力，助推文化产业高质量发展

A. ①② B. ①③ C. ②④ D. ③④

20. 2022年9月，商务部新闻发言人表示，我国将从“扩围、提质、增效”三方面发力，推进实施自贸区提升战略，有效联通国内国际两个市场两种资源，为更高水平对外开放提供机制性保障，服务构建新发展格局。推进实施自贸区提升战略将对中国经济产生积极影响的正确传导路径是

- ①坚持“走出去”→引导外资向服务业延伸→促进投资结构优化和升级
- ②转变经济对外发展方式→形成出口竞争新优势→加快构建新发展格局
- ③推进自贸区谈判→促进贸易投资自由化→提高开放型经济的发展水平
- ④跨境电商试点扩大→降低进口综合交易成本→亚太经济一体化的形成

A. ①② B. ①④ C. ②③ D. ③④

21. 某网站在未经赵教授本人同意的情况下，擅自转载其60余篇文章，并向该网站用户提供收费下载服务，事后没有支付版权费用。赵教授与该网站沟通无果，遂诉诸法院。该网站主张其作为期刊出版单位，对已经在其他刊物发表的文章进行转载，属于法定许可，不构成侵权。关于本案，下列说法正确的是

- ①该网站侵犯了赵教授的信息网络传播权
- ②法定许可意味着权利人可获得授权使用
- ③该网站应停止侵权并对赵教授进行赔偿
- ④该网站行为侵犯了赵教授的文章署名权

A. ①③ B. ①④ C. ②③ D. ②④

22. 经济困难的张某从某县山区的居民处收购了无合法来源的红腹锦鸡（为国家二级重点保护野生动物），准备高价销售谋取利益，被县林业局执法人员查获并依法没收，同时给予张某罚款处罚。张某对此极为不满，遂向人民法院提起诉讼。关于本案，下列说法正确的是

- ①张某可以将纠纷提交仲裁机构进行仲裁
- ②张某可在休庭评议阶段阐明自己的意见
- ③县林业局应提供作出该行政行为的证据
- ④张某可依法申请法律援助获得法律咨询

A. ①② B. ①④ C. ②③ D. ③④

23. 图3表示两个概念外延之间的关系，下列组合中符合图示信息的是

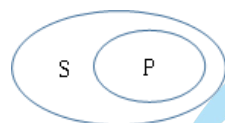


图3

①S：社会实践 P：社会主义改造

- ②S：政党制度 P：国家结构形式
- ③S：上层建筑 P：收入分配制度
- ④S：用益物权 P：宅基地使用权

A. ①② B. ①④ C. ②③ D. ③④

24. 在早期周遗址中，发现占卜用的龟甲和兽骨遗物。但是之后的周人更重占筮，较之鬼卜有更大的灵活性和思想性，暗含抽象思维意向和主观能动精神，并推导出博大精深的《周易》哲学体系。这着重强调

- A. 早期国家宗教信仰一致
- B. 商朝思想神秘色彩浓厚
- C. 周朝文化人本趋向明显
- D. 诸子百家思想渊源深远

25. 赋民公田是指东汉时期将国家所有土地给予贫民耕种，接受赋田的农民获得土地所有权，独立向国家缴纳租税；假民公田是指将公田租赁给贫民，在性质上变成国家的佃农。这些政策的实施

- A. 冲击了土地私有制
- B. 有利于巩固小农经济
- C. 限制自然经济发展
- D. 为租调制奠定了基础

26. 唐代民间私社根据不同活动内容和类型设立，私社活动涉及各个方面，有丧葬互助、水利管理、宗教活动、经济互助等，在乡村社会中十分常见。这一现象

- A. 削弱了中央集权
- B. 有利于维护基层社会安定
- C. 推动了三教融合
- D. 有助于提高政府运作效率

27. 明朝李贽在文学创作上提出“童心说”，提出“诗何必古选，文何必先秦”，把传奇、院本、杂剧、《西厢曲》、《水浒传》列为“古今至文”。这一主张

- A. 开创中国古代儿童文学新局面
- B. 推动市民阶层登上了政治局面
- C. 否定唐宋以来的古文复兴运动
- D. 反映了社会结构发生深层变化

28. 1894年，光绪皇帝在《对日宣战谕旨》中指出：“朝鲜为我大清藩属二百余年，岁修职贡，为中外所共知。”日本《对清宣战布告》中言“……使就与列国为伍之独立国，而清国每称朝鲜为属邦，干涉其内政。”这表明

- A. 争夺朝鲜是战争根本原因
- B. 中国固守传统外交思维
- C. 列强态度是战争胜负根本
- D. 日本致力维护朝鲜独立

29. 晚清颁布的《奏定学堂章程》中专门有《各学堂奖励章程》（表2）。这一章程

表2

级别	学堂类别	奖励出身	授职	升学
第一级	通儒院	翰林升阶	即任较优之京官外官	
第二级	大学堂	进士出身	翰林院编修、检讨/ 庶吉士/各部主事	升通儒院
	分科大学	同进士出身	员外郎/主事/知事	

.....			
第五级	高等小学堂	廪生/增生/附生	升中学堂、 初级师范学堂、 中等实业学堂

- A. 旨在增强传统科举生命力
B. 为维新变法提供了人才基础
C. 有利于缓解教育变革阻力
D. 标志着学堂选官制度的成熟
30. 1939年1月，毛泽东在陕甘宁边区第一届参议会讲话中，把“大大发展国防经济，发展农业手工业，改良人民生活”列为边区1939年施政方针的第一项。这一主张
- A. 促使党的工作重心转移
B. 有利于扩大革命根据地的群众基础
C. 旨在应对严峻经济形势
D. 为提出《论持久战》提供了经济思路
31. 图4是1981年丁聪先生的漫画《评头论足》，该图反映了



图4

- A. 社会习俗的革新步履维艰
B. 农村经济改革的效果微弱
C. 改革开放的步伐势如破竹
D. 发展前进要打破思想束缚
32. 古希腊历史学家修昔底德在书写《伯罗奔尼撒战争史》时确定了一个原则：“不要偶然听到一个故事就写下来，甚至也不单凭我自己的一般印象作为根据……我这部历史著作很可能读起来不引人入胜，因为书中缺少虚构的故事。”这说明
- A. 人文精神渗透历史研究
B. 历史研究应探寻历史规律
C. 求真精神影响史学创作
D. 历史科学应剥离主观意识
33. 新航路开辟后，阿姆斯特丹等大西洋沿岸城市逐渐崛起，来自更多其它不同地区的商人使用不同的货币进行大量商品交易，极为不便。于是，阿姆斯特丹银行发明了银行票据和支票账务系统。这说明
- A. 价格革命萌生信贷行业
B. 世界市场已经基本形成
C. 商业革命表现形式多样
D. 资本输出助推殖民扩张
34. 卢梭说：“冷静的理智从来就不曾完成什么杰出的事，克服激情的唯一办法乃是用另一种激情去

克服它……真正的圣人不同乃是在于此。”这反映了

- A. 对启蒙运动的深入反思
B. 浪漫主义与现实主义的矛盾
C. 人文主义高于理性主义
D. 充分肯定世俗生活的必要性
35. 1961年—1963年，美国总统肯尼迪共邀请26位非洲总统和总理访问白宫，美国驻非洲的大使馆从1959年的6个增加到了1965年的34个。同非洲国家签订的条约和协定由1955年的20个增加到1965年100个。这说明
- A. 美苏冷战重点转向非洲
B. 经济危机影响对外政策
C. 发展中国家影响力增强
D. 非洲开始进入国际社会

二、非选择题：共160分。

36. 阅读材料，完成下列要求。（18分）

材料一：关中平原，又叫渭河平原，南依秦岭、东跨黄河、北望黄土高原，是华夏古都集中地和古丝绸之路的起点，拥有大量珍贵的历史文化遗产和丰富的人文自然资源。

材料二：关中平原发展基础较好，发展潜力较大，在国家现代化建设大局和全方位开放格局中具有独特的战略地位。2018年2月2日，国家印发《关中平原城市群发展规划》，力求将其打造成我国西北地区实力最强的城市群。西安是关中平原城市群唯一的中心城市，以西安为中心构建的“米”字形“一圈一轴三带”总体格局(图5)，进一步强化了中心城市西安的辐射功能，提高了城市群空间发展的凝聚力。

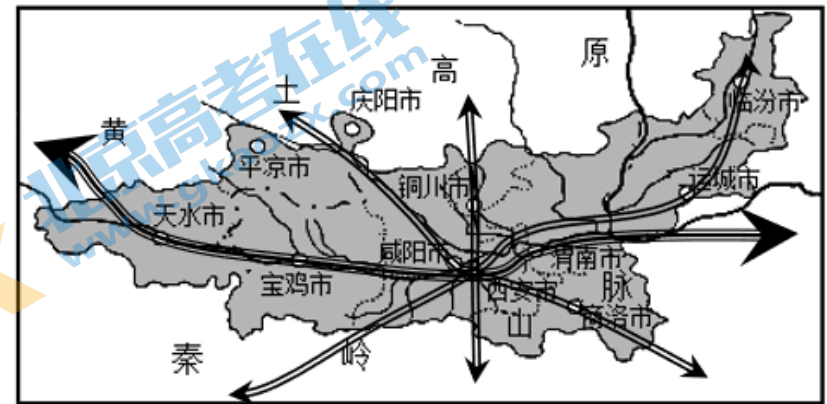


图5

- (1) 分析关中平原成为华夏古都集中地的优势地理条件。（8分）
- (2) 描述关中平原城市群城市体系的特点。（4分）
- (3) 简析“米”字形发展格局对关中平原城市群经济发展的作用。（6分）
37. 阅读材料，完成下列要求。（18分）
- 2022年10月31日，山东半岛南3号海上风电场20兆瓦深远海漂浮式500千万项目发电，成为全球首个投用的深远海风光同场漂浮式光伏实证项目(图6)。该项目距离海岸30余公里，水深达30

米，极端浪高 10 米。



图 6

- (1) 与近海区域相比，指出在开发深远海光伏发电过程中面临的挑战。(4分)
- (2) 从国家能源安全的角度，分析开发深远海风光同场项目的意义。(6分)
- (3) 不少专家非常看好国家发展漂浮式风光同场项目的前景，请说明理由。(8分)

38. 阅读材料，完成下列要求。(20分)

材料一：流水的活力(a)即流水的动能，与流量和流速关系密切；河流的负载(L)指地面流水用于克服水流内部粘带阻力、流水与地面、空气等摩擦阻力以及搬运泥沙所消耗能力的总和。流水的活力(a)与流水的负载(L)之间的关系影响着河流地貌的形成。当 $a < L$ 时，在河流弯道易形成边滩(与河岸相连的泥沙质堆积体)，边滩不断发育可形成河漫滩。图7为某河流弯道处边滩与河漫滩剖面示意图。

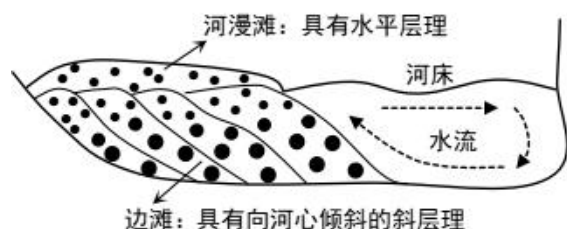
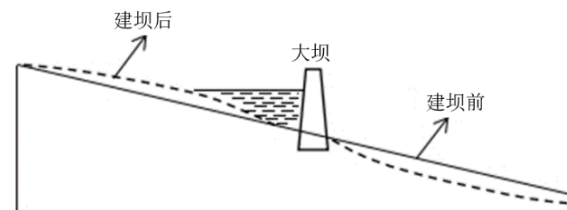


图 7

材料二：图 8 为某大坝建造前后河谷剖面变化示意图。



大坝建造前后河谷剖面的变化

图 8

- (1) 运用流水的活力(a)与流水的负载(L)的关系，解释流水作用。(6分)
- (2) 根据材料阐述边滩的形成和发展过程。(6分)
- (3) 据图分析修建水库后，大坝以下河段河谷的主要变化及原因。(8分)

39. 阅读材料，完成下列要求。(12分)

2022年8月，年度主题为“服务合作促发展 绿色创新赢未来”的中国国际服务贸易交易会(以下简称“服贸会”)以线上线下相结合的方式在北京拉开帷幕。服贸会是中国扩大开放、深化合作、引领创新的重要平台，为促进全球服务业和服务贸易发展做出了积极贡献。在全球疫情起伏反复，世界经济复苏脆弱乏力的背景下如期举办服贸会具有特殊的意义。

服贸会举办十年来，中国服务贸易进出口保持年均6.1%的快速增长势头，高出全球增速3.1个百分点，服务贸易总额连续8年稳居世界第二位，“中国服务”国际竞争力进一步得到提升。近三年，新冠肺炎疫情对传统服务贸易带来了冲击，但也催生了大量新技术、新业态、新场景。远程服务、非接触经济等快速发展，以数字化、智能化、绿色化为特征的知识密集型服务贸易为世界经济发展注入新的动力和活力。

结合材料，运用《经济与社会》、《当代国际政治与经济》的知识，说明中国举办服贸会对国内经济和世界经济产生的积极影响。(12分)

40. 阅读材料，完成下列要求。(18分)

2022年10月16日至22日，中国共产党第二十次全国代表大会(以下简称“二十大”)在北京胜利召开。这是在全党全国各族人民迈上全面建设社会主义现代化国家新征程、向第二个百年奋斗目标进军的关键时刻召开的一次十分重要的大会，是党和国家政治生活中的一件大事。

材料一：党的二十大相关工作网络征求意见从4月15日起正式启动。通过互联网就党的代表大会相关工作向全党全社会征求意见和建议，这在我们党的历史上是第一次。此次网络征求意见涵盖的内容涉及到党和国家事业发展的方方面面，与我们每个人都息息相关。在人民群众广泛响应、积极参与下，共收集各类意见建议留言超过854.2万条、2.9亿字。经过认真梳理汇总，摘编具有建设性、代表性的意见建议1675条。此次网络征求意见把人民的所思所盼融入了党和国家事业发展的顶层设计，是推进全过程人民民主的生动实践，是适应互联网时代新要求、推进国家治理体系和治理能力现代化的有益探索。

材料二：习近平总书记在党的二十大报告中对当代青年提出殷切期望。他指出，青年强，则国家强。当代中国青年生逢其时，施展才干的舞台无比广阔，实现梦想的前景无比光明。广大青年要坚定不移听党话、跟党走，怀抱梦想又脚踏实地，敢想敢为又善作善成，立志做有理想、敢担当、能吃苦、肯奋斗的新时代好青年，让青春在全面建设社会主义现代化国家的火热实践中绽放绚丽之花。

(1) 结合材料一，运用《政治与法治》的知识，分析党的二十大相关工作网络征求意见是如何体现全过程人民民主的。(12分)

(2) 结合材料二，运用《中国特色社会主义》的知识，以“争做新时代好青年”为主，撰写一篇短评。(6分)

要求：①围绕主题，观点明确；②论证充分，逻辑清晰；③学科术语使用规范；④总字数在200字左右。

41. 阅读材料，完成下列要求。(22分)

2022年11月17日，国家广播电视总局公布了“新时代·新品牌·新影响”广电媒体融合新品牌

推选活动结果，河南卫视“中国节日”系列节目再获殊荣。

材料一：中华优秀传统文化是中华民族的根本和灵魂，是文化自信的源泉。河南卫视推出的“中国节日”系列节目，着眼于对中华优秀传统文化的深入挖掘和准确认识，巧妙找到与当代社会生活之间的切合点，将优秀传统文化的多元内涵和当代价值，以新时代的视听语言呈现在观众面前，做到传统与现代的相融相通。让文物古迹、节日节气、文学艺术、地域文化等优秀的传统文化基因再次焕发生机活力，以文艺载体打造文化共识、精神共鸣，唤醒人们对中华文化的深层记忆。

材料二：优秀文艺作品必然是思想内容和艺术表达有机统一的结果。“中国节日”系列节目以传统佳节为创作切口，突破了传统节日晚会“主持人+舞台表演”的创作模式，采用“情景剧+舞台表演”的艺术形式，坚持“思想+艺术+技术”的创作路径，在寻求文化通约性与共同价值的基础上，融合国内外不同年龄受众的多元审美需求，打破受众圈层阻隔，成就了一场老少咸宜、男女皆爱的文化视觉盛宴。以“剧式表达”所具有的真实、沉浸、临场魅力，激发受众共情共振共鸣，让藏在历史典籍里的故事跃然屏上，实现了对中国主要传统节日的“活化”传承。

(1)“中国节日”系列节目是传承中华优秀传统文化的成功案例。请运用“文化遗产与文化创新”的知识分析其成功的原因。(6分)

(2)优秀文艺作品必然是思想内容和艺术表达的有机统一。请运用“矛盾基本属性”的知识论证其合理性。(10分)

(3)结合材料，从创新思维角度分析“中国节日”系列节目“新”在哪里？(6分)

42. 阅读材料，完成下列要求。(19分)

材料一：只要有对新地区的扩张，罗马道路就会随之扩展到这些新土地上。到帝国时期，罗马道路建设的重心已经转向新征服地区和意大利之外的行省。伴随罗马对外征服极限的到达，道路向外延伸逐渐停止。罗马人会根据不同地区的地理环境和实际情况，对道路建设的通常特点加以变通或改变所谓的“罗马标准”，在北非，由于许多地区土质疏松，沙质性重，因此他们把这里的许多道路建造成砂砾路。

——摘编自冯定雄《罗马道路与帝国统治》

材料二：(秦)为驰道於天下，东穷燕齐，南极吴楚，江湖之上，濒海之观毕至。道广五十步，三丈而树，厚筑其外，隐以金椎，树以青松。道广五十步，三丈而树，厚筑其外，隐以金椎，树以青松。

——摘自《汉书·贾山传》

(1)根据材料并结合所学知识，概括罗马帝国道路建设的特点。(10分)

(2)根据材料一、二并结合所学知识，分析古罗马与秦朝道路建设的相同点和不同点。(9分)

43. 阅读材料，完成下列要求。(21分)

材料一：汉律规定国家需向“贫不能自存者”提供救助。宋代采用招商赈济、以工代赈等方式，除此之外，还鼓励民间互助，动员富户救助贫户，并设立“纳粟补官”制度，对参与扶贫的富户奖以荣誉称号。明代林希元《荒政丛言》提出“极贫之民便赈米，次贫之民便赈钱，稍贫之民便转贷”。

清代汪志伊在《荒政辑要》中将“产微力薄，家无担石，或户倾业废，孤寡老弱，鹄面鸠形，朝不谋夕者”定为极贫，将“田虽被灾，盖藏未尽，或有微业可营，尚非急不及待者”定为次贫。政府除了在自然灾害之后开展临时性救助，还从百姓日常生活实际出发，制定系统性扶持办法。从先秦《周礼》的“荒政十二策”，到南宋的《救荒活民书》，再到清代的《荒政辑要》，中国古代在贫困救助方面积累了丰富的经验。

——摘编自孙竞、张文《中国古代扶贫实践及其当代价值》

材料二：新中国成立初期，颁布了《土地改革法》，彻底铲断了造成贫富两极分化的经济根源，并在农村建立“五保”供养制度、储备粮制度等初步社会救助体系。十一届三中全会后，在农村实行家庭联产承包责任制、提高农产品收购价格、大力发展乡镇企业等政策，并针对“老、少、边、穷”地区出台了扶贫专项计划，设置贫困地区发展资金、开展专业技能培训等。1987年确立“开发式扶贫”指导思想，建立了东西部扶贫协作机制，还鼓励民间组织积极开展扶贫公益事业。2001年国务院出台《中国农村扶贫开发纲要(2001—2010年)》，扶贫政策的受众从贫困县下落到贫困村，全国共确定了14.8万个贫困村，更多的是采取“造血式”的扶贫政策。党的十八大以来，习近平提出“现有标准下的7000多万贫困人口，在2020年要全部脱贫”，2015年我国发布《关于打赢脱贫攻坚战的决定》，在国家战略层面确立了精准扶贫政策。

——摘编自白晋博《新中国成立以来我国扶贫工作的发展历程、基本经验和未来展望》

(1)根据材料一并结合所学知识，概括中国古代扶贫的特点。(8分)

(2)根据材料二并结合所学知识，概括新中国成立以来扶贫工作发展阶段并分析其历史意义。(13分)

44. 阅读材料，完成下列要求。(12分)

材料：欧洲在19世纪后期的大扩张被称为“新帝国主义”，因为就其对殖民地和附属地的影响而言，完全是前所未有的；相形之下，传统的帝国主义包含剥削，但不包含根本的经济变化和社会变化。新帝国主义迫使被征服国家发生彻底改变。这与其说是一种经过深思熟虑的政策，不如说是西欧生气勃勃的工业主义对非洲和亚洲静止的、自给自足的农业政权的不可避免的影响。换句话说，欧洲的工业资本主义太复杂、太富于扩张性，不能说它与殖民地是一种简单的贡物关系。

——摘编自斯塔夫里阿诺斯《全球通史》

根据材料提炼一个观点(部分或者整体)，并运用世界史知识对观点加以说明。(要求：写出观点，观点合理、明确，史论结合)