

高三历史

(考试时间：75 分钟；满分：100 分)

第 I 卷 (选择题, 共 48 分)

选择题：本大题有 16 小题，每小题 3 分，共 48 分。在每小题列出的四个选项中，只有一项是符合题目要求的。把所选答案的序号用 2B 铅笔填涂在答题卡相应位置上。

陶寺遗址考古发现了 1 万余平方米的台基基础和直径 0.5 米柱洞的大型基址，还有主体殿堂柱网遗迹，确证了陶寺城宫殿建筑的存在。这反映了陶寺遗址

- A. 呈现出早期文明的特点
- B. 体现较高的国家治理水平
- C. 成为了中华文化的中心
- D. 凸显建筑力学与美学结合

表 1 秦简记载的地方行政运作执行状况 (节选)

序号	行政运作	总数	按律令行政及所占比率		自主行政及所占比率	
			数量	比率	数量	比率
1	县令、丞下达的政令与执行	34	14	41.2%	20	58.8%
2	内部政务的申告与裁决	7	4	57.1%	3	42.9%

据表 1 可知，秦朝

- A. 律令暴露出一定的缺陷
- B. 地方行政决策权限较大
- C. 基层治理模式日臻成熟
- D. 中央集权逐渐得到加强

图 1 为唐代开元年间画家张萱的作品《虢国夫人游春图》(局部)，描绘了当时穿着男装的妇女。这可以印证唐代



图 1

- A. 妇女地位不断提高
- B. 自信乐观的时代风貌
- C. 民族之间交流频繁
- D. 马术竞技的逐步流行

陈寅恪认为，中国诗虽短，却包括时间、人事、地理三点，说明一个时代之关系，纠正一件事之发生及经过，可以补充和纠正历史记载之不足。元稹（元稹、白居易）诗证即是利用中国诗之特点来研究历史的方法。其旨在强调中国诗

- A. 还原当时真实历史
- B. 蕴含历史时空要素
- C. 具备一定史学价值
- D. 反映特定物情风貌

图2、图3为宋元时期泉州某建筑的部件。这反映了当时泉州



图2 景教尖拱形飞天石刻




图3 基督教石挡垛

- A. 佛教文化式微
- B. 石刻艺术精美
- C. 海洋商贸兴起
- D. 多元文化并存

图4为19世纪后期中国茶叶出口统计情况。它反映了当时中国茶叶

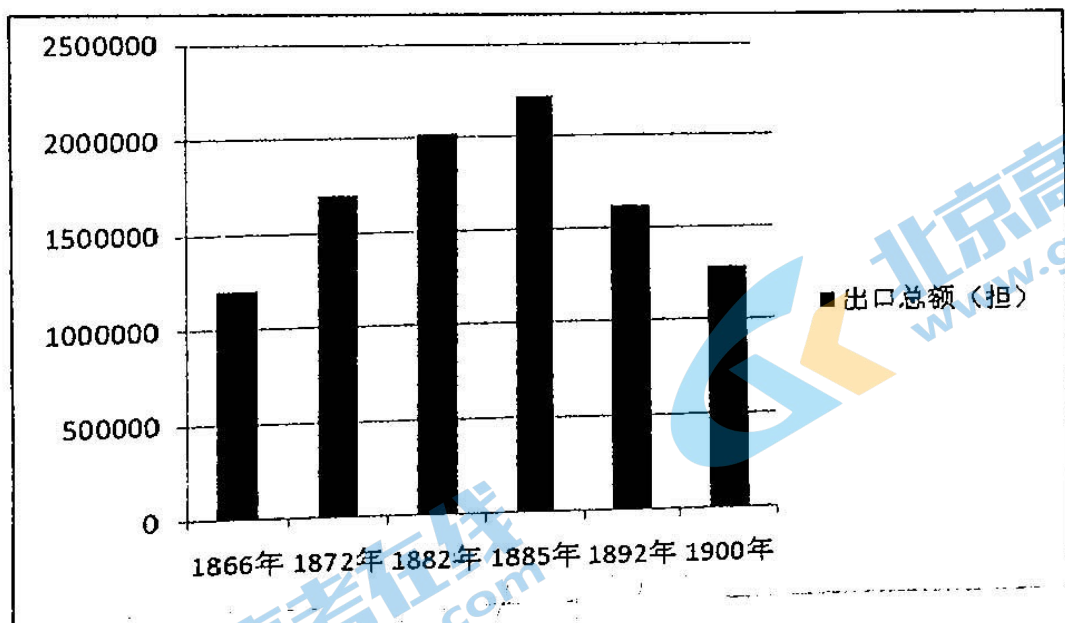


图4

- A. 出口量呈现先升后降趋势
- B. 生产制作走向工业化
- C. 国际市场地位遭到了削弱
- D. 商品化程度不断提升

福建漳平至今保留着 30 多首革命歌谣，如《工农红军》：“工农红军大救星，打倒土豪有田分。实行共产来革命，百姓才得有安身。”这一歌谣

- A. 表达苏区人民对革命的认同
- B. 促进工农武装割据理论形成
- C. 奠定国民大革命胜利的基础
- D. 提高根据地人民的生活水平

8. 抗战时期的陕甘宁边区扶贫工作，一方面重视发展生产，开展以工代赈，为人民创造更多的就业机会。这体现了陕甘宁边区扶贫工作

- A. 促进了三三制原则的实施
- B. 推动边区工业的发展
- C. 开创我党社会保障的先河
- D. 具有标本兼治的特点

9. 图 5 是新中国出版发行于 1950 年的年画。这一年画



图 5

- A. 彰显农业社会主义改造的时代风貌
- B. 倡导适应国家建设需要的社会新风
- C. 反映大规模工业化建设的文化需求
- D. 体现科教兴国战略实施的深远影响

10. 20 世纪 70 年代初，洛阳轴承厂在北京、上海等地设立了经销处。各经销处按季度向洛阳轴承厂提供市场动态、行情和用户对产品的意见，推动轴承销售数量大大增加。由此可知，当时我国

- A. 市场经济体制初步确立
- B. 对外开放领域逐步扩大
- C. 现代企业制度已经建立
- D. 传统经济模式已被突破

11. 公元 6 世纪，东罗马帝国皇帝查士丁尼主持汇编的《民法大全》频繁呈现“债权”“继承权”“契约”“借贷”“租赁”等法律术语。这反映了《民法大全》

- A. 强调法律的公平公正
- B. 注重协调经济和社会关系
- C. 奠定欧陆法系的基础
- D. 适应罗马帝国扩张的需要

12. 路易十四（1661—1715 年执政）在巴黎西郊修建了规模宏大、极尽奢华的凡尔赛宫。其后，他把法国各地的贵族邀来凡尔赛宫居住。这一举措旨在

- A. 促进民族国家意识的觉醒
- B. 摆脱罗马教廷的神权统治
- C. 维护专制王权国家的稳定
- D. 推动民主政治的深入发展

图6为荷兰画家梵高(1885)年创作的油画。该油画体现了



图6 《吃马铃薯的人》

- A. 工业社会的底层生活
- B. 日常食物种类繁多
- C. 经济作物的广泛种植
- D. 贫富分化十分严重

20世纪50年代至60年代末，联邦德国一方面在军事上与美国紧密合作，另一方面在经济领域与美国展开激烈竞争；同时还对苏联给予技术、设备和资金的大力援助。这表明了联邦德国

- A. 突破国家分裂现状
- B. 采用灵活外交策略
- C. 引发了冷战的出现
- D. 加剧经济滞胀程度

表2 20世纪后半期世界部分区域经济合作组织

成立时间	组织名称
1962年	中美洲共同市场
1967年	东南亚国家联盟
1975年	西非经济共同体
1975年	拉丁美洲经济体系
1980年	南部非洲发展协调会议
1983年	中非国家经济共同体

上述区域经济合作组织的建立

- A. 构建了国际贸易基本框架
- B. 推动了不结盟运动的兴起
- C. 冲击了旧的国际经济秩序
- D. 消除了新兴国家间的分歧

1997年，韩国爆发金融危机，韩元一落千丈，贬值一半以上，整个国家的外汇储备只剩下39亿美元。国际货币基金组织应韩国政府要求，向其提供了195亿美元的巨额贷款，韩国经济迅速恢复。这说明，国际货币基金组织

- A. 打破了美元为中心的国际货币体系
- B. 解决了储备货币供应不充足的矛盾
- C. 建立了全球经济一体化的国际格局
- D. 缓解成员国国际收支不平衡的状况

第 II 卷 (非选择题, 共 52 分)

二、非选择题: 本大题有 4 小题, 第 17 题 8 分, 第 18 题 8 分, 第 19 题 24 分, 第 20 题 12 分, 共 52 分。

17. 阅读材料, 完成下列要求。(8 分)

材料

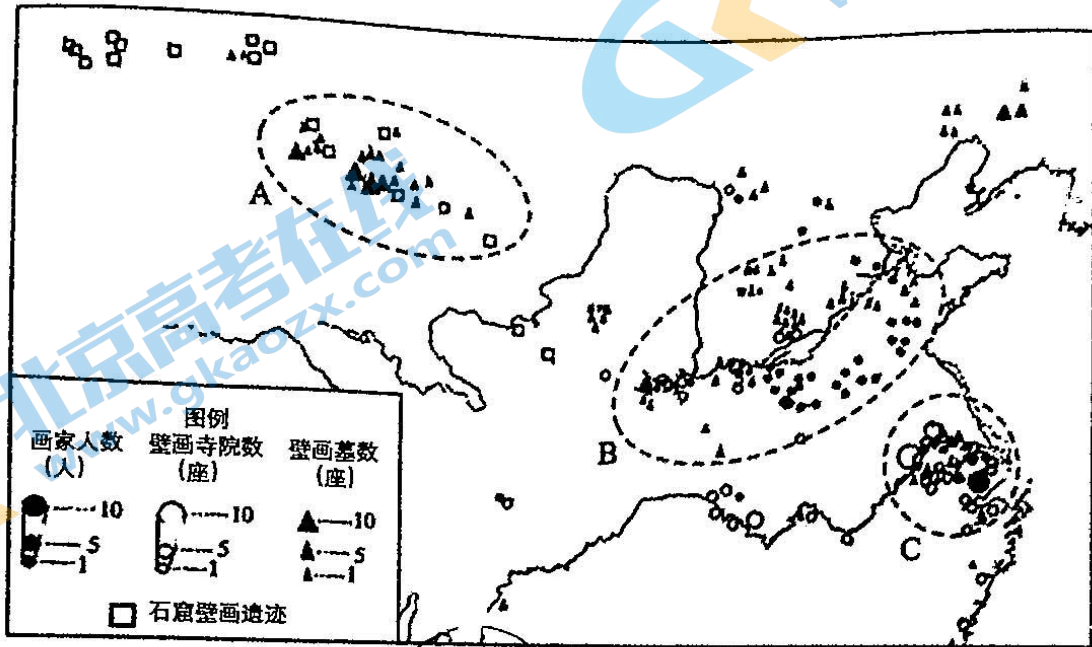


图 7 魏晋南北朝绘画地理分布图 (局部)

——据赵振宇《魏晋南北朝绘画地理格局研究》绘制

从地图 (图 7) 中 A、B、C 三个区域, 任意选择一个, 概括所选区域绘画发展的特点, 并结合所学知识, 分析其原因。(8 分)

18. 阅读材料，完成下列要求。(8分)

材料 王国维重视西北史地和民族史研究，而且善于利用考古发现新资料，借鉴外国东方学家成果，运用严密的科学方法，成就大大超过前辈。王国维早先就十分注意搜集整理蒙元史史料，在他生命的最后两年用很多精力从事校勘、注释，完成了《蒙鞑备忘录笺证》等，为后来学者提供了重要史料的完善校本，对诸书所载人物、地理、史事、年代、制度、风俗等都有精辟的考释。

陈寅恪自幼接受中、西学教育，通晓梵文、中亚古文字和多种东西方语言，在隋唐史、宗教史、西北民族史、敦煌学、古代语言与文学等许多领域都有重要贡献。其研究《蒙古源流》等四篇论文，以蒙、满、汉文诸本对校，旁征博引大量汉、藏、蒙文资料相考证，纯熟运用审音勘同方法考释，甚多发明。陈寅恪的蒙元著述不多，但足以作为我国蒙元史研究开始进入以直接利用多种文字史料运用等特征的新时期标志。

——摘编自白寿彝《中国通史》

根据材料，概括王国维和陈寅恪作为历史学家的共同之处，并结合所学知识，说明史学研究的原则。(8分)

19. 阅读材料，完成下列要求。(24分)

材料一 17世纪开始，随着王权的扩张，地方领主及其代表出席或主持村民会议的权利被进一步限制。君主政府不断加强对村官的控制。后来，严峻的社会经济形势造成乡村共同体公有财产的大量流失，人们参与管理乡村事务的热情普遍降低。作为共同体主要纳税人的部分村民则利用这一机会及其经济上的优势地位逐渐把持了乡村的政治权力，决议权从全体村民转移到村民“委员会”，带来乡村共同体内部权力机构性质的变化。与此同时，中央政府利用乡村共同体在近代早期所遭遇的经济困难，将其置于自己的“财政监护”之下。在掌握共同体经济命脉的同时，中央政府逐步实现了对这一地方政治单位的直接控制。

——摘编自熊芳芳《近代早期法国的乡村共同体与村民自治》

材料二 民国时期的乡村建设运动，是一种旨在全面改造传统农村的模式探索，其内容包括对农村政治、农业经济和农民素质的现代性改造。从当时的时代背景和实际成效来说，乡村建设运动存在着不少缺陷。它改造农村的一些思想认识和具体做法，既把改造农村问题作为中国现代化进程的关键问题，又企图寻找一条改造农村的有效途径。在农村政治改造方面力图实行民主自治制度，在农业经济改造方面试图推行具有企业化和市场化性质的股份合作体制，在农民素质改造方面企图培养初具现代文化科技知识的“新农民”，从而显示了一种比较系统的具有一定现代化意义的农村建设模式。

——摘编自虞和平《民国时期乡村建设运动的农村改造模式》

- (1) 根据材料一并结合所学知识，说明近代法国乡村共同体走向瓦解的原因。(8分)
- (2) 根据材料二，概括民国时期乡村建设运动的主要措施，并结合所学知识对该运动进行简要评价。(12分)
- (3) 根据材料一、二，概述你对乡村治理的认识。(4分)

20. 阅读材料，完成下列要求。(12分)

材料

表3 世界近现代史事(部分)

时间	史事
1492年	哥伦布到达新大陆
16世纪初	马、牛被引进到新大陆
1555年	中国出现最早的玉米种植记录
16世纪80年代	巴西成为世界最重要的蔗糖产地
1600年	英国东印度公司成立
17世纪初	英国殖民北美
约1700年	欧洲人渗透地区的美洲土著人口下降60%—90%
18世纪初	咖啡风靡欧洲和中东，巴西和印度尼西亚开始生产咖啡，新英格兰成为世界贸易中心之一
1750—1850年	美洲人口增长6倍
约1800年	运往新大陆的奴隶数量达到750万
1850—1859年	世界贸易额增加了80%
1900年左右	埃及的棉花种植造成200万农民失去土地

——据(美)菲利普·费尔南德兹·阿迈斯托《世界：一部历史》编制

从材料中提取两条或两条以上信息，拟定一个论题，并就所拟论题进行简要阐述。(要求：明确写出所拟论题，阐述须有史实依据。)