

## 初三历史

2022.12

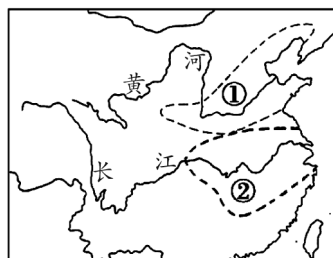
考生须知

1. 本试卷共 8 页,共两部分,24 道小题。满分 70 分。考试时间 70 分钟。
2. 在试卷和答题卡上准确填写学校名称、班级、姓名和准考证号。
3. 试题答案一律填涂或书写在答题卡上,在试卷上作答无效。
4. 在答题卡上,选择题用 2B 铅笔作答,其他题用黑色字迹签字笔作答。

### 第一部分 选择题(每小题 1.5 分,共 30 分)

1. 中国是世界上最早的农耕文明发祥地之一。右图中①②两处区域在新石器时代主要种植的粮食作物分别是

- A. 粟 稻
- B. 粟 小麦
- C. 小麦 玉米
- D. 玉米 粟



2. 利簋(右图)是西周早期青铜器之一。器内底铸铭文记载了甲子日清晨武王伐纣这一重大历史事件。此记载与《尚书》《逸周书》《史记》的记录相符。由此可知

- A. 文献与文物都不可相信
- B. 文物与文献可互相印证
- C. 文献记录更具有真实性
- D. 文物与文献同时代出现



3. 某同学搜集了以下信息。据此可知,他探究的史实是

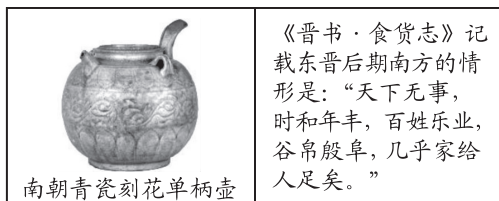
政治	确立县制,由国君直接派官吏治理
经济	鼓励耕织,生产粮食、布帛多的人可免除徭役
军事	奖励军功,对有军功者授予爵位并赏赐土地

- A. 商鞅变法
  - B. 秦始皇巩固统一
  - C. 北魏孝文帝改革
  - D. 王安石变法
4. 将“仁”作为处理人与人关系的最高行为准则和道德规范,提出“仁者爱人”“己欲立而立人,己欲达而达人”的学派是

- A. 儒家
- B. 道家
- C. 法家
- D. 墨家

5. 右侧图文材料说明

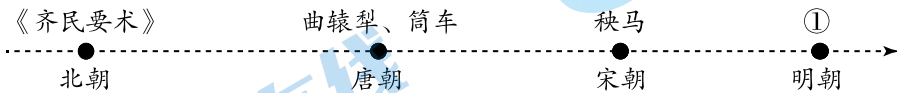
- A. 三国鼎立局面形成
- B. 文学艺术繁荣发展
- C. 江南地区得到开发
- D. 南方经济超过北方



6. 某历史公众号准备推送一期专题——隋唐时期的繁荣和开放。下列各项可以放进专题资源包的是

- ①唐诗:杜甫《忆昔二首》                                      ②实物:唐戴帷帽女子骑马雕塑  
 ③图片:隋朝大运河示意图                                      ④视频:《国宝档案—清明上河图》  
 A. ①②③                      B. ①②④                      C. ①③④                      D. ②③④

7. 下面示意图中①处应为

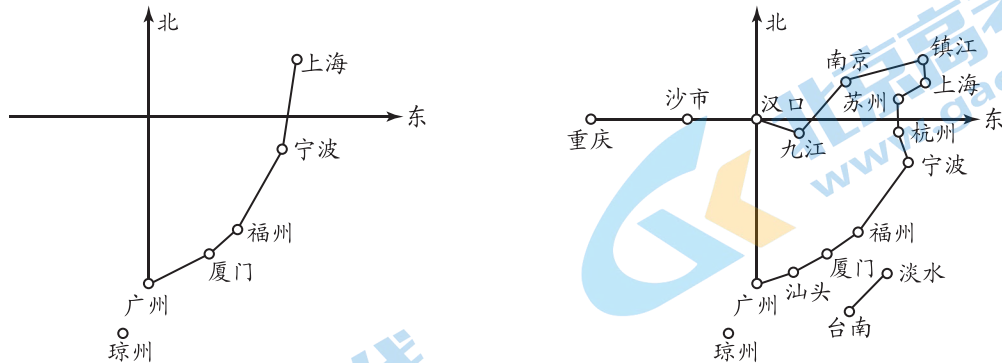


- A. 《资治通鉴》              B. 《本草纲目》              C. 《农政全书》              D. 《红楼梦》

8. 中国古代历史对世界历史发展产生深远影响。以下各项对应正确的是

序号	史实	影响世界
A	丝绸之路	古代东西方往来的大动脉,对于中国同其他国家和地区的贸易与文化交流,起到了极大的促进作用
B	鉴真东渡	在印度传授佛经,还传播中国的医药、文学、书法、建筑、绘画等,为中印文化交流作出了卓越的贡献
C	指南针应用	经阿拉伯商人传到欧洲,对欧洲的火器制造和作战方式产生巨大影响,推动了欧洲社会的变革
D	郑和下西洋	增进了中国与欧洲国家和地区的直接了解和友好往来

9. 比较下面两幅中国近代开放商埠平面示意图,可以得出的正确结论是



- A. 宏大的农民战争抵挡住了外国侵略势力      B. 西方侵略者不断割占清政府的大片领土  
 C. 外国侵略势力从东南沿海深入到了腹地      D. 清政府完全沦为了半殖民地半封建社会  
 10. 张之洞掌管湖北期间,重点发展汉阳当地工业,建设长江中游交通网;左宗棠掌管福建期间,大力发展当地沿海区域的航海及船舶工业,并建立了厦门这一近代化城市。据此可知,洋务运动

- A. 成立了总理衙门                                      B. 巩固了清政府统治  
 C. 创办了新式学堂                                      D. 推动了中国近代化

11. 依据下面资料,可以得出

1895年,梁启超创办《万国公报》,创民间人士自己发表政论之始。1896年,梁启超担任《时务报》主编,他把八股文抛在一边,主张言文一致,文体解放。一年多的时间,发表近40篇文章,大受读者的欢迎。《时务报》在国内70县市及港澳、日本、新加坡等地开设了100多个分销处,发行量达1.2万份

- A. 维新运动实现了救亡图存目的  
B. 维新运动为中国工业近代化奠定基础  
C. 维新运动沉重打击了封建统治  
D. 维新运动在思想文化上产生广泛影响
12. 有学者认为,辛亥革命是20世纪中国第一个最具有重大历史意义的历史事件,这是自秦统一以来中国历史最伟大的一次历史性转折。以下史实能支持这一观点的是  
①中华民国建立  
②宣统帝下诏退位  
③提倡白话文  
④颁布《中华民国临时约法》  
A. ①②③  
B. ①②④  
C. ①③④  
D. ②③④
13. 1920年马克思主义学说研究会、马克思主义研究会等团体纷纷成立,中国出现传播马克思主义的思潮。当时,为这股思潮传播作出贡献的人物有  
A. 林则徐 魏源  
B. 康有为 梁启超  
C. 陈天华 邹容  
D. 陈独秀 李大钊
14. 中国共产党在新民主主义革命时期,培育了一系列体现时代要求、彰显政党性质的伟大中国精神,如红船精神、长征精神等。其中“红船精神”源于  
A. 新文化运动  
B. 中共成立  
C. 国共合作  
D. 北伐战争
15. “以农村包围城市,最后夺取政权”是中国共产党走出的符合中国国情的革命道路。这条道路开始于  
A. 辛亥革命  
B. 中国共产党成立  
C. 第一次国共合作  
D. 井冈山革命根据地的创建
16. 下面是某同学整理的笔记(部分),其中①处应填写的是

新民主主义革命时期中共重要会议	中共三大	正式决定同国民党合作,建立革命统一战线
	古田会议	确立了“思想建党、政治建军”的建党建军原则
	①	确立了以毛泽东为主要代表的马克思主义正确路线在中共中央的领导地位
	瓦窑堡会议	确立了建立抗日民族统一战线的方针

- A. 中共一大  
B. 八七会议  
C. 遵义会议  
D. 中共七大
17. 右侧漫画反映的历史史实是  
A. 挺进大别山  
B. 辽沈战役胜利  
C. 渡江战役成功  
D. 占领南京



18. 戈雷岛位于西非佛得角半岛西南,是非洲距美洲大陆最近的岛屿。因此,戈雷岛是连接非洲、美洲、欧洲航线上的枢纽,它是奴隶船的理想交接站。戈雷岛见证的历史是

- A. 文艺复兴      B. 三角贸易      C. 法国大革命      D. 工业革命

19. 下面两则法律文件,共同维护了

“财产是神圣不可侵犯的权利。”——《人权宣言》  
“个人可以自由支配属其所有的财产。”“任何人财产都不得遭受剥夺。”  
——《拿破仑法典》

- A. 议会的国家最高权力      B. 封建王权专制统治  
C. 资产阶级的革命成果      D. 拿破仑战争的成果

20. 1848年,在伦敦出版的一份宣言成为“所有国家千百万工人共同的纲领,全部社会主义文献中传播最广和最国际性的著作。”该宣言是

- A. 《大宪章》      B. 《权利请愿书》      C. 《拿破仑法典》      D. 《共产党宣言》

## 第二部分 材料分析题(共40分)

21. (8分)统一多民族国家的形成与发展

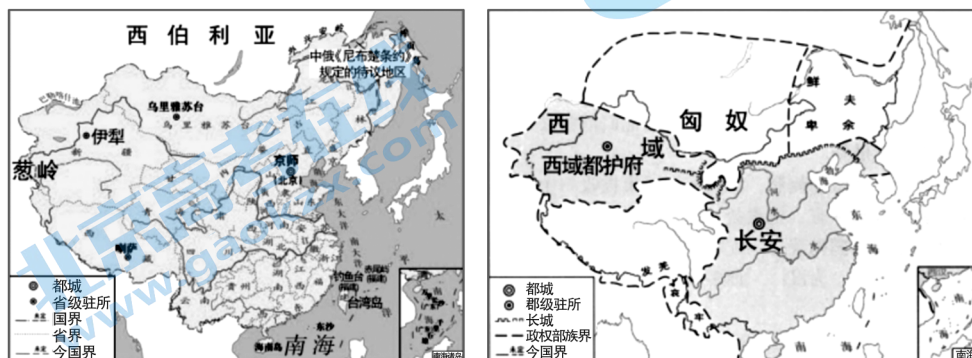
材料一

- ①秦朝创立皇帝制度,确立了皇帝至高无上的统治地位。
- ②汉武帝实施“推恩令”,建立刺史制度,中央对地方的控制大大加强。
- ③唐朝设置安西都护府、北庭都护府,管辖天山南北地区。
- ④戚继光抗倭,巩固了东南海防,保障了沿海人民生命安全和祖国的海疆安全。
- ⑤郑成功收复台湾,打击了荷兰殖民侵略势力。

(1)将材料一中的史实与以下观点相对应。(3分。写序号,多选、少选、错选不得分)

- 建立与完善中央集权制度,有利于统一多民族国家的建立和巩固: \_\_\_\_\_
- 中央政府对边疆进行管辖,维护了边疆稳定,巩固国家统一: \_\_\_\_\_
- 反对外来侵略,维护领土完整、国家统一: \_\_\_\_\_

材料二 中国古代王朝形势图、疆域图



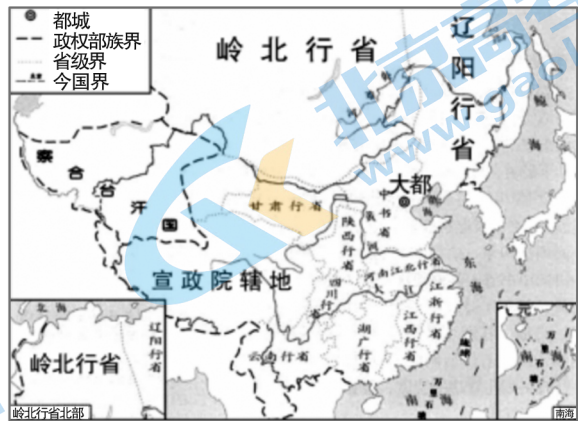
①

②





③



④

(2) 将材料二中的地图按时间排序。(1分。写序号) 结合所学, 写出排序的理由。(2分)

③ → \_\_\_\_\_ → \_\_\_\_\_ → ①

材料三 1988年, 费孝通在《中华民族的多元一体格局》一文中提出: 中华民族是包括中国境内56个民族的民族实体, 56个民族已结合成相互依存的、统一而不能分割的整体; 形成多元一体格局有一个从分散的多元结合成一体的过程……

1995年, 白寿彝在《关于“统一的多民族国家”的几点体会》一文中提出: 在统一的发展过程中, “多”不是削弱了“一”, 而是丰富了“一”, 各民族都有他自己的特点, 都有他们对历史上的贡献, 都有可能对历史上作更多的贡献。

——摘编自陈永亮《关于“统一的多民族国家”与国家治理的思考》

(3) 分别概括材料三中两位学者的观点。(2分)

22. (12分) 青年学生与国家、社会共命运

材料一

时期	近代学校	开设课程
洋务运动期间	京师同文馆	英文、法文、俄文、算学、天文学
	福州船政学堂	造船、轮机、航海理论、英文、法文、几何、数学、微积分、物理、机械等
甲午战后	北洋西学堂	法律、采矿冶金、土木工程、机械等
百日维新期间	京师大学堂	准备设立天学、地学、道学、政学、文学、武学、农学、工学、商学、医学十科

(1) 依据材料一, 分析近代学校创办的作用。(2分)

材料二 卡片 A: \_\_\_\_\_

1919年5月4日,北京3000多名学生汇集在天安门前举行示威游行,学生们提出“外争主权,内除国贼”“誓死力争,还我青岛”“取消二十一条”“拒绝在和约上签字”等口号,要求严惩亲日派卖国贼

卡片 B: \_\_\_\_\_

1935年12月9日,在中国共产党的领导下,北平数千名学生冒着严寒聚集在新华门前,向国民党请愿。他们高呼“打倒日本帝国主义”“反对华北自治”“停止内战,一致对外”等口号,并举行示威游行

(2)分别说出材料二中卡片 A、B 的相关史实。(2分)依据材料二并结合所学,比较二者的相同点。(3分)

材料三 全民族抗战爆发后,中国共产党坚持全面抗战路线,取得了一系列战果,鼓舞了全国军民的信心。一时间,中共中央所在地延安成为令人向往的圣地,“到延安去”成为不愿做亡国奴的人们的共同选择。广大知识青年从国统区、沦陷区、海外奔赴延安,投身革命事业。他们中有工人农民的子弟,也有地主资本家的儿女;有丁玲、洗星海等文学家、音乐家、戏剧家、电影明星、新闻记者、律师、医生、军官、教师等,更多的是青年学生。他们接受了革命教育后,有的留在边区,绝大多数奔赴各抗日根据地。

——摘编自统编教材《中国历史》八年级上册

(3)依据材料三,提炼一个观点,并运用相关史实加以说明。(3分)

材料四 青年强,则国家强。一百年前,一群新青年高举马克思主义思想火炬,在风雨如晦的中国苦苦探寻民族复兴的前途。一百年来,在中国共产党的旗帜下,一代代中国青年把青春奋斗融入党和人民事业,成为实现中华民族伟大复兴的先锋力量。

——摘自习近平庆祝中国共产党成立100周年大会讲话、二十大报告讲话

(4)结合所学,谈谈对材料四内容的理解。(2分)

### 23. (11分)近代欧洲的社会转型

材料一 艺术家身份的转变是西方艺术史发展的重大突破。古希腊时期,从事绘画和雕塑的艺术家通常被视为卑下的体力劳动者,因而遭到社会精英的鄙视。在中世纪,艺术家一般与鞋匠、面包师、理发师等手艺人为伍,即便杰出的艺术家也只被视为技艺熟练的匠人。从14世纪开始,艺术家的价值和尊严得到确立,博学多识的“自由艺术家”与“诗意的艺术家”取代手艺人成为艺术家的典范,甚至还被视为天才。

——摘编自刘君《文艺复兴时期艺术家身份与形象建构》

(1)依据材料一,概括艺术家身份的变化。(2分)结合所学,分析变化原因。(1分)

材料二

英美法资产阶级革命大事年表

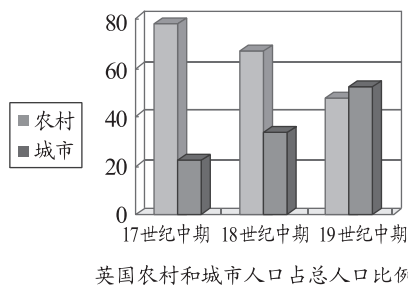
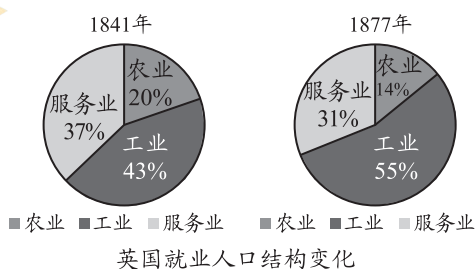
	英国资产阶级革命	③	法国大革命
开始标志	1640 议会的重新召开	1775 来克星顿枪声	1789 巴黎人民攻克巴士底狱
领导人	克伦威尔	华盛顿	资产阶级
法律文献	①	《独立宣言》	《人权宣言》
政治体制	确立 ②	确立联邦共和制政体	确立议会共和制政体

(2) 将材料二①②③处内容填写完整。(3分) 依据材料二并结合所学, 概括英美法资产阶级革命历史意义。(2分)

① \_\_\_\_\_ ② \_\_\_\_\_ ③ \_\_\_\_\_

材料三 英国从 1770 年到 1840 年, 每个工人的生产率平均提高 20 倍, 英国原棉消耗量从 1800 年的 5200 万磅, 到 1840 年的 45590 万磅, 生铁产量 1720 年为 25000 吨, 1840 年增至 139400 吨。煤产量 1770 年为 260 万吨, 1840 年增至 3000 万吨。

——摘自吴于廑、齐世荣《世界近代史》



(3) 依据材料三并结合所学, 分析工业革命给英国带来的影响。(3分)

24. (9分) 历史上的交流

材料一

马可·波罗见证交流

①	②	③
<p>元代急递铺令牌 急递铺是元代驿站中的一种, 主要传递紧急军情。《马可·波罗行纪》中记载: 大汗有无数铺卒, 日夜递送十日路程之文书消息。缘铺卒递送, 日夜皆然, 脱有必要时, 百日路程之文书消息, 十日夜可以递至, 此诚伟举也。</p>	<p>扬州马可·波罗纪念馆 1282年, 马可·波罗自大都沿着大运河南下前往扬州赴任。《马可·波罗行纪》中记载: 每年有大批的谷米运集在瓜州(今扬州), 其中绝大部分是运往汗八里城, 供给皇帝的臣民。</p>	<p>德化窑青白釉印花四系罐 德化白瓷是泉州港口进行海外贸易的重要商品。《马可·波罗行纪》中记载: 此处造碗及瓷器既多且美。</p>

(1)从材料一中任选一项马可·波罗的见闻,说明元代的社会发展情况。(2分。示例除外)

示例:②说明元代大运河是沟通南北的重要交通线,折射出元朝时大运河航运发达。

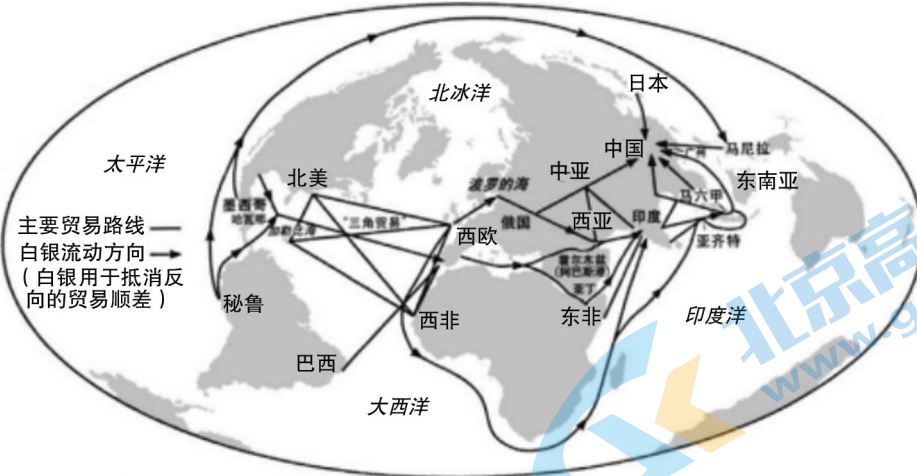
材料二 15世纪末期的欧洲,商品经济日益发展,货币的需要量大大增加,西欧的国王、贵族和商人到处追求黄金白银。《马可·波罗行纪》中描绘了东方遍地黄金的景象,无数探险者在其鼓励下去寻找传说中的东方财富。然而,1453年奥斯曼帝国的军队占领了地中海东部的广大地区,控制了东西方之间的通商要道,从此东方运到欧洲的商品数量急剧减少,价格猛涨。于是,欧洲航海家们开启了一场寻找新航路的探险。

——摘编自王斯德《世界通史》

(2)依据材料二,分析寻找新航路的原因。(2分)结合所学,举出开辟新航路过程中一位航海家及其活动。(2分)

材料三

主要的环球贸易路线(1400~1800年)



——贡德·弗兰克《白银资本:重视经济全球化中的东方》

地理大发现后,新的商品开始在欧洲市场上出现。美洲的烟草、可可,中国的茶叶、瓷器,印度的蔗糖、香水,北亚和北美的毛皮,都成了国际贸易的重要商品。咖啡、大米、香料、布匹等的交易量也大增。由地理大发现带来的舶来品还使一些新的工业行业得到了蓬勃发展。欧洲的各种商品,主要是手工业产品也大量倾销到东方沿海国家、东非、美洲,流入北亚。

——摘编自萧国亮《世界经济史》

(3)依据材料三,概括1400年—1800年世界贸易的特点。(3分)



大兴区 2022~2023 学年度第一学期期末检测

初三历史参考答案及评分标准

第一部分 选择题 (共 30 分)

1	2	3	4	5	6	7	8	9	10
A	B	A	A	C	A	C	A	C	D
11	12	13	14	15	16	17	18	19	20
D	B	D	B	D	C	B	B	C	D

第二部分 材料解析题 (共 40 分)

21. (8分)

(1) (3分) ①②;③;④⑤

(2) (3分) ②④ (1分) 排序理由: 先说出判断疆域图的标准, 可以从疆域四至、都城、边疆管辖等方面。然后按朝代顺序排列。(2分)

(3) (2分)

示例: 学者一观点: 中华民族逐步形成多元一体格局。

学者二观点: 中华文明是各民族共同缔造的。(2分, 各1分)

22. (12分)

(1) (2分) 传播了近代西方的科技文化思想, 培养了近代人才, 促进了近代教育的发展。

(2分, 答出2点即可)

(2) (5分) 卡片 A: 五四运动 卡片 B: 一二·九运动 (2分, 各1分) 相同点: 都是中华民族危机的历史背景下学生发起的爱国运动, 都在北京举行示威游行, 运动中提出明确口号表达政治诉求, 均推动了时局的变化等。(3分, 答出3点即可)

(3) (3分)

示例:

观点: 中国共产党在抗战中发挥了中流砥柱作用, 是知识青年奔赴延安的最重要原因。

说明: 七七事变后日本全面侵华, 全民族抗战爆发。红军改编为国民革命军, 一方面配合正面战场作战, 另一方面深入敌占区, 广泛开展抗日游击战争。1937年9月取得了第一个重大胜利——平型关大捷, 粉碎了日军不可战胜的神话。中国共产党充分动员和依靠群众, 坚持全面抗战路线。1938年毛泽东发表《论持久战》, 正确分析抗战形势, 增强了全国人民坚持抗战的决心和信心。正是因为中共在抗日中发挥中流砥柱作用, 才吸引青年奔赴延安。(观点1分, 史实1分, 逻辑阐述1分。如只罗列2个史实, 不给分)

赋分标准:

赋分	观点	结合史实说明
----	----	--------

3	有价值判断	充分运用史实，紧扣观点加以论述，能做到史论结合，逻辑清晰
2	仅重复材料或为主题表述	有史实列举，但史论结合的说明不充分
1	仅重复材料或为主题表述	仅重复材料
0	无	有史实
		无史实

(4) (2分)

示例：青年人的命运与国家和民族的命运是紧密联系在一起，无论是毛泽东、周恩来这些爱国青年学生在新民主主义革命期间，以民族独立、人民解放为己任，还是在抗日战争时期，奔赴抗日前线的爱国学生，都将自己的个人奋斗与民族大义联系在一起。

(价值观正确1分，结合史实阐述1分。)

23. (11分)

(1) (3分) 变化：从体力劳动者到手艺人，再到艺术家乃至天才。(2分)

原因：文艺复兴时期，人文主义思潮兴起，人的价值与尊严得到肯定；资本主义萌芽出现。

(1分，答出1点即可)

(2) (5分) ①《权利法案》；②君主立宪制；③美国独立战争(美国资产阶级革命)。(3分，各1分)

历史意义：以法治代替人治，使资本主义制度初步确立，促进资本主义经济的发展，推动了世界历史的发展进程。(2分，答出2点即可)

(3) (3分) 影响：极大地提高了劳动生产力(或者促进了生产力的发展)；工业就业人口增多(或者工业化，或者实现工业化)；城市人口比例提升(或者城市人口超过农村人口，或者实现城市化)等。(3分，答出3点即可)

24 (9分)

(1) (2分)

示例：

①说明元代急递铺是政府传递紧急军情的机构，折射出元代驿站制度发达。

③说明元代德化白瓷是海外贸易的重要商品，折射出元代海外贸易繁荣。(2分)

(2) (4分) 原因：商品经济的发展和资本主义萌芽的出现，各阶层渴求开拓新的贸易市场；《马可·波罗行纪》激起欧洲人对东方的向往；传统的商路受阻。(2分，答出2点即可)

事迹：哥伦布发现美洲大陆，迪亚士发现好望角，麦哲伦船队环球航行。(2分，人物、活动各1分)

(3) (3分) 特点：路线多，交易商品多，贸易量增加，以欧洲为中心，白银大量流向中国，参与的地区多，全球性贸易等。(3分，答出3点即可)

## 关于我们

北京高考在线创办于 2014 年，隶属于北京太星网络科技有限公司，是北京地区极具影响力的中学升学服务平台。主营业务涵盖：北京新高考、高中生涯规划、志愿填报、强基计划、综合评价招生和学科竞赛等。

北京高考在线旗下拥有网站门户、微信公众平台等全媒体矩阵生态平台。平台活跃用户 40W+，网站年度流量数千万量级。用户群体立足于北京，辐射全国 31 省市。

北京高考在线平台一直秉承 “精益求精、专业严谨” 的建设理念，不断探索 “K12 教育+互联网+大数据” 的运营模式，尝试基于大数据理论为广大中学和家长提供新鲜的高考资讯、专业的高考政策解读、科学的升学规划等，为广大高校、中学和教科研单位提供 “衔接和桥梁纽带” 作用。

平台自创办以来，为众多重点大学发现和推荐优秀生源，和北京近百所中学达成合作关系，累计举办线上线下升学公益讲座数百场，帮助数十万考生顺利通过考入理想大学，在家长、考生、中学和社会各界具有广泛的口碑影响力

未来，北京高考在线平台将立足于北京新高考改革，基于对北京高考政策研究及北京高校资源优势，更好的服务全国高中家长和学生。



微信搜一搜

北京高考资讯