

2021 北京海淀初三二模

历史

2021.06

学校 _____ 姓名 _____ 准考证号 _____

| | |
|------|---|
| 考生须知 | 1.本试卷共 8 页，共两部分，24 道题，满分 70 分。考试时间 70 分钟。 2.在试卷和答题卡上准确填写学校名称、姓名和准考证号。 3.试题答案一律填涂或书写在答题卡上，在试卷上作答无效。 4.在答题卡上，选择题用 2B 铅笔作答，其他试题用黑色字迹签字笔作答。 5.考试结束，请将本试卷、答题卡和草稿纸一并交回。 |
|------|---|

第一部分

本部分共 20 题，每题 1.5 分，共 30 分。每题列出的四个选项中，选出最符合题目要求的一项。

1.经过几十年考古发掘，四川三星堆出土精美青铜器数百件、其中青铜容器、礼器有鲜明的中原商周文化风格，而青铜人像、头像、面具和青铜动植物形象有蜀地特色风格(如下图)。学者研究认为，三星堆和江西出土的青铜器都使用了来源相同的铜矿石原料。据此，能说明



- ①区域间存在文化交流 ②世袭制代替禅让制
③青铜冶铸的工艺高超 ④分封制的逐步瓦解
- A.①② B.③④ C.①③ D.②④

2.公元前 60 年西汉政府设置西域都护，作为管理西域的最高长官。其意义是

- A.“丝绸之路”得以开通 B.西域正式归属中央政权
C.专门机构管理海上贸易 D.中央掌管西藏军民事务

3.《魏书·高祖孝文帝纪》载：“（北魏孝文帝）雅好读书，手不释卷。五经之义，览之便讲...史传百家，无不该涉（涉猎）。”此记载反映了

- A.三国鼎立局面奠定 B.鲜卑统治者崇尚汉族文化
C.北方人口迁往江南 D.西汉实行开明的民族政策

4.从隋唐时期开始,历朝通过科举考试选拔官员。开创科举制度的是

- A.汉景帝 B.汉光武帝 C.隋炀帝 D.武则天

5.北宋沈括在《梦溪笔谈》中记载:“驿传旧有三等,日步递、马递、急脚递。急脚递最遽(jù急),日行四百里,唯军兴则用之。”《元史·兵志》载:“元制,设急递铺,以达四方文书之往来……唯兵一昼夜行四百里…凡铺卒皆腰革带,悬铃,持枪,挟雨衣,赍(jī携带)文书以行。”据这两则史料可以推断

- ①宋元时期通过驿站传递文书 ②政府设驿站加强与地方联系
③元朝开始设置驿站 ④宋元时期陆路交通发达

- A.①②③ B.②③④ C.①③④ D.①②④

6.明朝时总结了我国古代药理学成就、丰富了中医药学宝库的科技巨著是

- A.《齐民要术》 B.《本草纲目》 C.《天工开物》 D.《农政全书》

7.清代史学家赵翼在《檐曝杂记》中记载,军机大臣“只供传述缮撰,而不能稍有赞画于其间也”。这说明

- A.君主专制统治进一步加强 B.清朝君主权力受到制约
C.军机大臣拥有最高决策权 D.清朝重视民族宗教事务

8.1901年《中外日报》发表的《奉告开平矿务有限公司中国诸股东启》中写道,如果华人股东把股票都售卖给洋人,“则华人于此矿为无权”,吾民必须与洋人“争此矿之权”,并非为了一己之利,实则国民“权力实系之”。依据材料可以判断出

- ①开平煤矿实行了股份制 ②作者主张与洋人争矿权
③南京临时政府鼓励实业 ④作者宣传“三民主义”

- A.①② B.③④ C.①③ D.②④


9.《中华民国临时约法》(1912年)规定:“中华民国由中华人民组织之。中华民国之主权属于国民全体。”此约法颁布是由于

- A.“明定国是”诏书的颁布 B.义和团运动的兴起
C.辛亥革命结束君主专制 D.北洋军阀割据混战

10.张震在《瓮安之役》中记述,红军攻占贵州瓮安城时正值春节,当地群众说:“红军先生,如果不是你们来了,我们连年饭也吃不成哩!”如果红军不来,“土豪一定要向穷人逼债……今天我们(红军)到了,土豪吓跑了,免除了逼债的痛苦、加上发了土豪财物”,所以群众“也笑哈哈了”。对此情景解释正确的是

- A.工农运动支持北伐战争
B.南昌起义创建革命军队
C.长征中的革命措施受到人民欢迎
D.抗日民族统一战线得到巩固发展

11.下列图片反映的抗日战争时期的史事,按时间顺序排列正确的是



- A. ①②③④ B. ①③②④ C. ③④①② D. ④③②①


12. 黄继光、邱少云、蒋道平等的英雄事迹，体现了爱国主义、革命英雄主义、革命乐观主义、革命忠诚和国际主义等精神。上述英雄的事迹发生

- A. 北伐战争期间 B. 解放战争期间
C. 抗美援朝期间 D. 一五计划期间

13. 中国粮食、棉花、油料等主要农产品的产量，从1950年到1952年的增长幅度和每年的总产量都超过了以往任何历史时期。这是因为

- A. 土地改革解放了农村生产力 B. 城市解放促进了农业发展
C. 三大改造后建立起公有制 D. 家庭联产承包责任制推广

14. 读“澳门回归20年经济和民生变化”图示，如右图。图中所示的变化能用来说明



- A. 中葡两国举行澳门政权交接仪式
B. 中国恢复对澳门行使主权
C. 澳门特别行政区政府建立
D. “一国两制”维护澳门繁荣稳定

15. 出生于西非的奥劳达·埃奎亚诺在自传中记录如下场景：“当我来到海岸时，首先映入人眼帘的是大海，一艘贩奴船正在抛锚等待收货……我被带上船时，惊讶很快变成恐惧。我被水手抓住，抛向空中，以检查我的身体是否健全。”据内容判断这一场景中“我”的身份是

- A. 奴隶 B. 殖民者 C. 工场主 D. 商人

16. 右图是 1940 年美国发行的纪念宪法第十三修正案 75 周年的邮票。邮票印的是林肯和下跪黑奴的雕像、表现了黑奴对林肯总统的感激之情。黑奴感激林肯，主要是因为林肯



- A. 领导了美国独立战争
B. 制定了《1787 年宪法》
C. 颁布了《解放黑人奴隶宣言》
D. 签署了《联合国宣言》

17. 1890 年，德皇威廉二世提出德国成为“世界帝国”的“新路线”，从“大陆政策”转向“世界政策”，并在非洲、近东和远东争夺殖民地。此举直接导致

- A. 拿破仑帝国覆灭 B. 英德矛盾激化
C. 凡尔赛体系形成 D. 欧洲联盟建立

18. 1940 年与 1922 年相比，苏联的国民收入增长 10 倍，工业产值增长 23 倍，农业产值增长 2.1 倍，铁路运输货运周转量增长 22 倍，固定资产增长 23 倍，基建投资增长 25 倍，工人和职工数量增长 4.4 倍。以上数据反映了

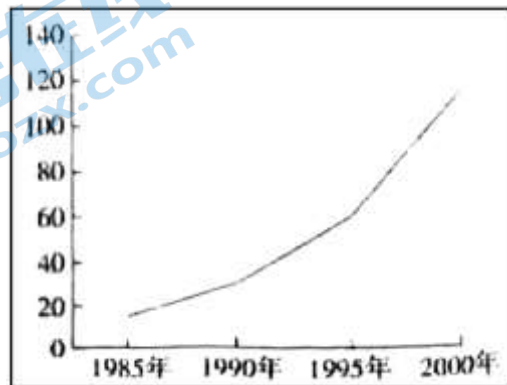
- A. 苏维埃俄国退出第一次世界大战
B. 苏联社会主义建设成就显著
C. 马歇尔计划促进了西欧经济复苏
D. 赫鲁晓夫改革存在严重偏差

19. 某同学复习世界历史时，制作了如下时序图。可以提炼的主题是



- A. 经济全球化新发展
- B. 科学技术新发展
- C. 社会主义运动新发展
- D. 亚非拉国家新发展

20. 电子计算机的发展经历了电子管、晶体管、集成电路、微处理器、互联网等阶段。世界范围内个人电脑使用数量持续增长，如右图所示(单位：百万台)。这对人类的影响是



- A. 推动社会信息化
- B. 建立社会保障制度
- C. 不结盟运动兴起
- D. 严重污染生态环境

第二部分

本部分共 4 题，共 40 分。

21. 铸币·纸币。阅读材料，完成下列要求。(11 分)

材料一 (汉武帝)令县官销半两钱，更铸三铢钱……盗铸诸金钱罪皆死……有司言三铢钱轻，易奸作……(于是)铸五铢钱……

—《史记·平准书》

(1) 依据材料一并结合所学，说明汉武帝时货币政策有何变化?(2 分)这对西汉的统治有何影响?(1 分)

材料二 (唐)高祖即位、仍用隋之五铢钱。武德四年(武德是李渊的年号，即 621 年)七月，废五铢钱，行开元通宝钱……

开元钱之文……欧阳询制词及书，时称其工(字迹工整)。



唐朝“开元通宝”

唐朝铸行开元通宝



日本“和同开珎”
结束中国古代以重量命名
钱币的历史，成为以后历
朝的铸币标准，也影响到日本。

——《旧唐书·食货志上》

(2)依据材料二并结合所学，判断下列叙述的正误。正确的在答题卡相应的序号后打√，错的打×。(4分)

| | | |
|---|-----------------------------|--|
| ① | 隋朝和西汉一样，都曾使用过五铢钱。 | |
| ② | “开元通宝”是唐玄宗开元年间开始铸行的货币。 | |
| ③ | 日本曾仿照唐朝货币形式铸造了钱币。 | |
| ④ | “开元通宝”钱上的文字可以作为研究唐朝书法的实物证据。 | |

材料三 真宗时，张咏镇蜀，患蜀人铁钱重，不便贸易……(规定交子由)富民十六户主之。后富民资稍衰，不能偿所负，争讼不息。转运使薛田、张若谷请置益州交子务(在四川成都设置的掌管纸币流通事务的机关)……私造者禁之。仁宗从其议。

——《宋史·食货志下三》

(3)依据材料三并结合所学，指出北宋时四川地区货币使用与管理的变化。(2分)说明变化的原因。(2分)

22.出版·宣传·发展。阅读材料，完成下列要求。(11分)

材料一 商务印书馆大事记(部分)

| 时间 | 内容 |
|-------|------------------------------------|
| 1897年 | 夏瑞芳、高凤池等人在上海创办商务印书馆 |
| 1898年 | 商务印书馆出版了第一部中英史对照版的教科书《华英初阶》 |
| 1900年 | 印刷《外交报》，是中国近代第一份以评述国际问题为主的报刊 |
| 1902年 | 教育家、出版家张元济加盟商务印书馆，提出以图书“昌明教育、开启民智” |
| 1903年 | 根据清政府的《钦定学堂章程》编印制等小学《最新国文教科书》10册 |
| 1905年 | 出版严复翻译的《天演论》，至1921年印刷20次 |
| 1906年 | 出版严复翻译的法国启蒙思想家孟德斯鸠的著作《法意》 |
| 1913年 | 首次使用自动铸字机，开始经营原版西书 |
| 1915年 | 首次引进彩色胶印机，聘美籍技师，发行《科学》杂志 |

(1)依据材料一、概括19世纪末20世纪初商务印书馆对中国近代社会发展的贡献。(3分)

| | | | |
|---|---|--|---|
|  |  |  |  |
| <p>图①：1920年11月7日创刊的《共产党》月刊，宣传马克思主义理论，论述中国革命道路。</p> | <p>图②：1938年7月2日《抗战文艺》发行“保卫大武汉专号”，刊发了保卫大武汉的文章。</p> | <p>图③：1941年5月《抗战生活》发表的版画，描绘了根据地“临时参议会”召开的情形。</p> | <p>图④：1949年9月30日出版的《群众日报》，刊发了中国人民政治协商会议的系列重要议案，并发表了五星红旗的图案。</p> |

(2)依据材料二并结合所学，从图①③④中任选两张，仿照示例写介绍词。(4分)

[示例]图②：抗日战争时期，日本法西斯侵略华中地区，正面战场组织了武汉会战，“专号”宣传武汉保卫战，鼓动民众抗战热情。

材料三 新中国加强了对新闻出版、报纸广播等的领导。组建负责编辑出版国家级政治书籍的人民出版社和出版国家教材的人民教育出版社；《人民日报》成为中共中央的机关报。

| | 图书品种 | 期刊品种 | 报纸品种 |
|------------------|-------|-------|-------|
| 2018年比1978年增长的倍数 | 34.6倍 | 10.9倍 | 10.1倍 |

1993年，中国电子出版业开始起步。文化产品和文化服务的生产、传播、消费的数字化、网络化进程加快，基于互联网和移动互联网的新文化业态成为文化产业发展的新动能和新增长点。

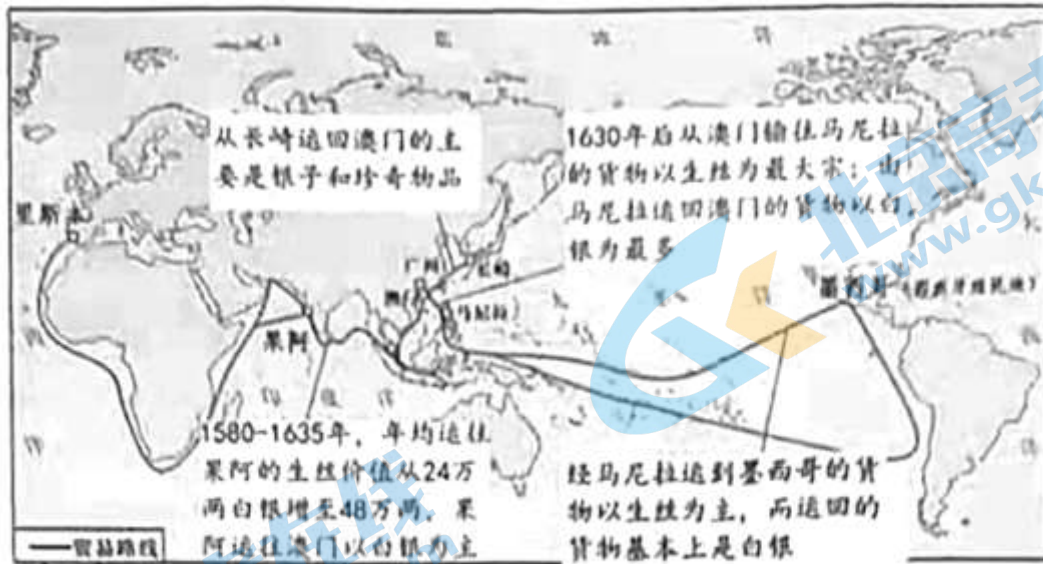
新中国成立70年来，新闻出版业以弘扬社会主义为主旋律，较好地满足了人民群众日益增长的精神文化需要。

——摘编自宁吉喆《辉煌70年》等

(3)依据材料三，说明新中国文化出版事业的发展及其历史作用。(4分)

23.世界经济·世界格局。阅读材料，完成下列要求。(12分)

材料一 16-17世纪印度洋贸易和太平洋贸易示意图



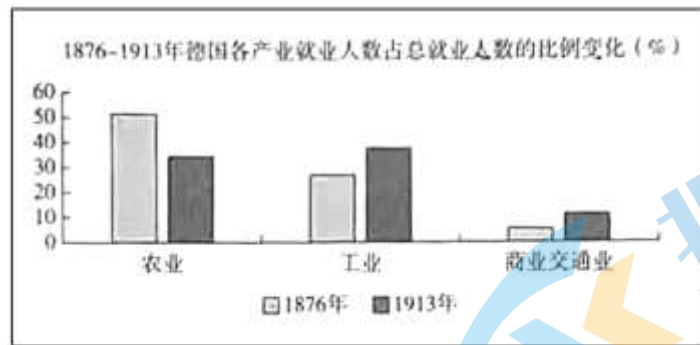
葡萄牙和西班牙控制的商路

葡萄牙：里斯本—果阿—澳门—长崎；西班牙：马尼拉—墨西哥（“大帆船贸易”）

(1)依据示意图并结合所学，指出印度洋贸易和太平洋贸易发展的背景(1分)，归纳西班牙、葡萄牙两国跨洋贸易的相同点。(3分)

材料二 第二次工业革命期间，德国迅速实现了从农业国向工业国的转变，确立了工业在国民经济中的主导地位、通过用新的科学技术改造传统产业(如钢铁、煤炭、纺织、机械制造等)和拓展新兴工业领域(如电气、化工等)，德国成为世界工业强国。

随着工业生产的扩张，企业走向大型化，相对于其他国家，德国工业的垄断程度更高。



——摘编自邢来顺《德国通史》第四卷

(2)依据材料二并结合所学，概括 19 世纪末 20 世纪初德国经济发展的表现。(3分)简要分析其原因。(1分)

材料三 20 世纪初，世界被少数几个主要强国——特别是英国和法国——所控制，它们凭借工业技术征服了亚洲和非洲的大帝国。到该世纪中叶，经历了人类历史上两次最惨烈的世界大战之后，欧洲大国不可避免地受到了削弱。二战之后的 40 年里，美国和苏联成为全球的主宰，凭借工业和军事能力将世界划分为相互竞争的资本主义和社会主义阵营。与此同时，几乎每个殖民地都在为争取独立而努力奋斗，并最终赢得了独立。到 20 世纪最后 10 年，苏联的解体结束了两极世界体系。

——摘编自本特利等《简明新全球史》

(3)依据材料三并结合所学，完成下表。在答题卡相应的序号后书写答案。(4分)

| 时间 | 原因 | 世界格局演变 |
|-----------|---------|----------------|
| 20 世纪初 | 第二次工业革命 | 欧洲强国建立世界殖民体系。 |
| 20 世纪中期 | ① | 美苏“冷战”，两极格局形成。 |
| 20 世纪最后十年 | 苏联解体 | ② |

24.城市掠影。阅读材料，完成下列要求。(6分)

材料一 景泰二年(1451年)，北京大兴、宛平二县曾召集各行商人，根据当时的市场价格制定出一个“收税则例”，列举商品 230 余种，包括罗缎布绢丝棉、巾帽衣服、陶瓷制品、文具纸张、矿冶产品、各种砂糖、日用杂货、药材以及各类农副产品……

从选途贩运的角度来看，粮食、棉花、棉布、丝、丝织品、盐和茶这七类商品占据了市场流通总额的绝大部分。

——王天有、高寿仙《明史：多重性格的时代》

(1)依据材料一，概括明朝后期北京的商业特点。(3分)

材料二《北京城市总体规划(2016-2035年)》明确了首都功能核心区的战略定位：建设成为全国政治中心、文化中心、国际交往中心、科技创新中心。



明朝后期的《皇都积胜图》描绘了北京的繁华景象。城内市场布棚高张，货摊鳞集。

北京“两区”建设、特指国家服务业扩大开放综合示范区、中国(北京)自由贸易试验区建设、“十三五”时期、北京“两区”建设全面启动，实施了四百多项新举措，服务贸易占全国的 1/5 左右。海淀区专门制定了“两区”建设工作方案，加快推进知识产权运用和保护等四项制度创新政策落地，重点推进信息产业、药健康、科技服务等三大产业发展，建设中关村软件园、清华科技园等五大科技片区。

——摘自《首都功能核心区迎来历史性新起点》和《打造改革开放新高地——北京“两区”建设加快推进》

(2)依据材料二，指出北京未来城市发展的方向，说说你对北京未来发展的建议。(3分)

关于我们

北京高考在线创办于 2014 年，隶属于北京太星网络科技有限公司，是北京地区极具影响力的中学升学服务平台。主营业务涵盖：北京新高考、高中生涯规划、志愿填报、强基计划、综合评价招生和学科竞赛等。

北京高考在线旗下拥有网站门户、微信公众平台等全媒体矩阵生态平台。平台活跃用户 40W+，网站年度流量数千万量级。用户群体立足于北京，辐射全国 31 省市。

北京高考在线平台一直秉承“精益求精、专业严谨”的建设理念，不断探索“K12 教育+互联网+大数据”的运营模式，尝试基于大数据理论为广大中学和家长提供新鲜的高考资讯、专业的高考政策解读、科学的升学规划等，为广大高校、中学和教科研单位提供“衔接和桥梁纽带”作用。

平台自创办以来，为众多重点大学发现和推荐优秀生源，和北京近百所中学达成合作关系，累计举办线上线下升学公益讲座数百场，帮助数十万考生顺利通过考入理想大学，在家长、考生、中学和社会各界具有广泛的口碑影响力

未来，北京高考在线平台将立足于北京新高考改革，基于对北京高考政策研究及北京高校资源优势，更好的服务全国高中家长和学生。



微信搜一搜

北京高考资讯