

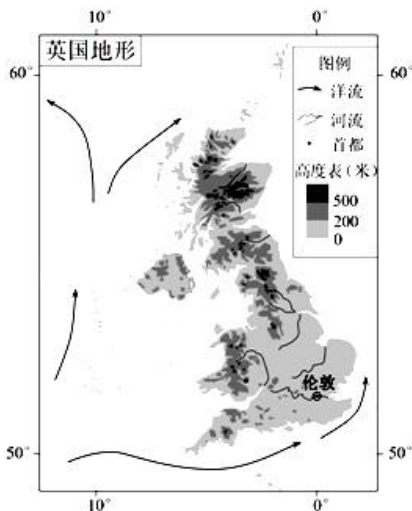
2012 年普通高等学校招生全国统一考试
文科综合（北京卷）

本试卷共 15 页，共 300 分。考试时长 150 分钟。考生务必将答案答在答题卡上，在试卷上作答无效。考试结束后，将本试卷和答题卡一并交回。

第一部分（选择题 共 140 分）

本部分共 35 小题，每小题 4 分，共 140 分。在每小题列出的四个选项中，选出最符合题目要求的一项，

2012 年 7 月 27 日~8 月 12 日，第 30 届夏季奥运会将在英国伦敦举行。读图，回答第 1~3 题。



1. (4 分) 在 7、8 月份，伦敦比北京 ()

- A. 气温高，日较差大
- B. 风小雾大，降水多
- C. 正午太阳高度角小
- D. 日出晚，昼短夜长

2. (4 分) 英国 ()

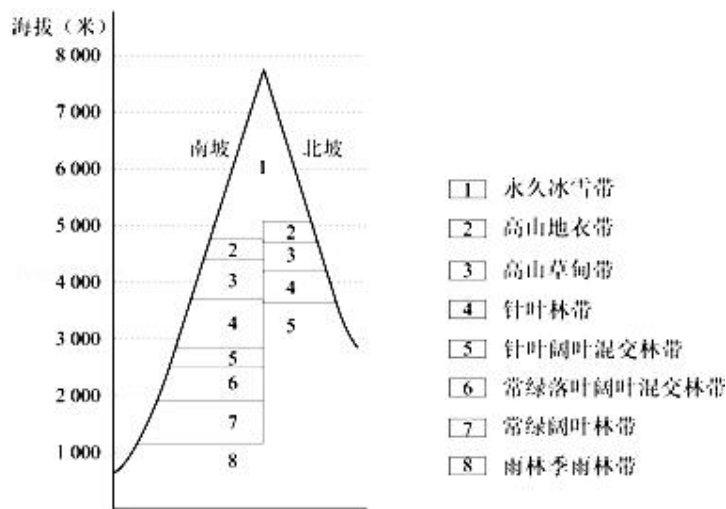
- A. 地处亚欧板块和美洲板块交界处
- B. 西部海岸线曲折，珊瑚礁发育好
- C. 地形以高原为主，地势西高东低
- D. 多数河流短，含沙少，无结冰期

3. (4 分) 途经该区域的洋流 ()

- A. 能使北美洲至欧洲的海轮航行速度加快
- B. 造成欧洲西部地区气温升高、湿度降低

- C. 进入到北冰洋海域，使当地能见度变好
- D. 在与其他洋流交汇的海域不易形成渔场

如图为某山地的垂直带谱示意图。读图，回答第 4、5 题。



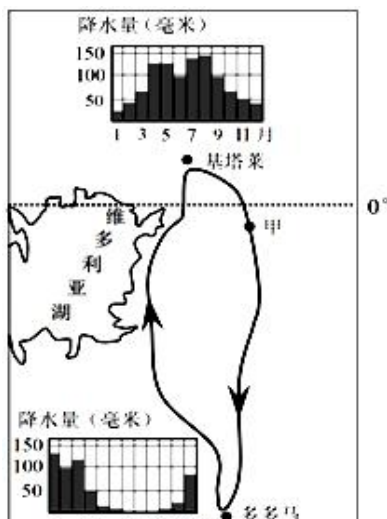
4. (4分) 图中所示山地 ()

- A. 各自然带的界线随季节变化而移动
- B. 北坡热量条件差，林带上界比南坡低
- C. 南坡冰雪带下界因降水量大而较低
- D. 南北坡山麓水平距离造成基带差异大

5. (4分) 该山地位于 ()

- A. 喜马拉雅山脉
- B. 天山山脉
- C. 祁连山脉
- D. 昆仑山脉

如图为东非高原基塔莱和多多马的降水资料及两地之间游牧路线示意图。读图，回答第 6、7 题。



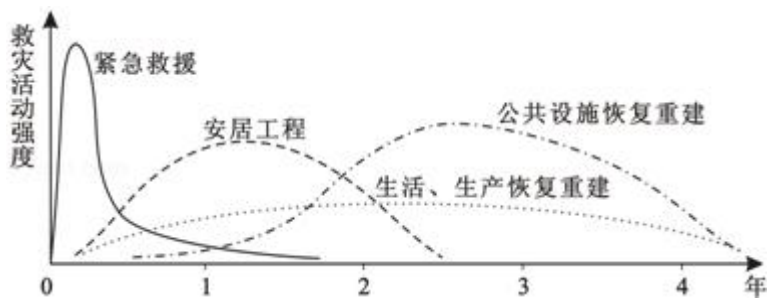
6. (4分) 该游牧活动 ()

- A. 需要穿越热带雨林
- B. 随着雨季南北移动
- C. 向南可至南回归线
- D. 易受飓风灾害侵扰

7. (4分) 游牧至甲地的时间最可能是 ()

- A. 1月
- B. 4月
- C. 7月
- D. 10月

如图是某地区大地震后救灾工作程序示意图. 读图, 回答第8、9题.



8. (4分) 图中所示救灾工作程序还可能适用于 ()

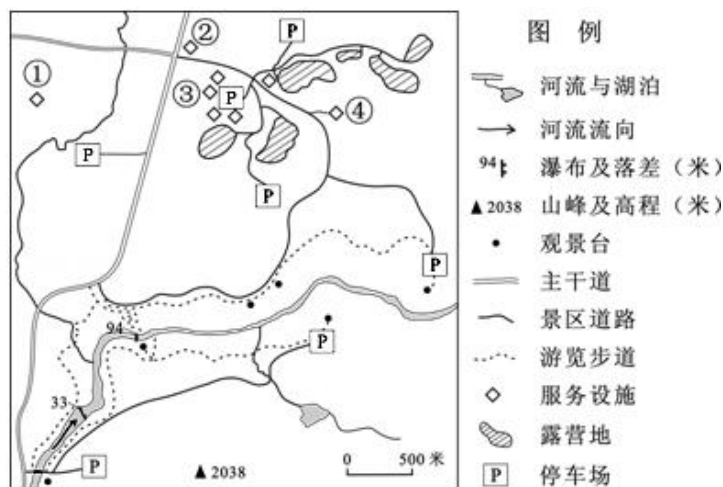
- A. 鼠害
- B. 洪涝
- C. 旱灾
- D. 寒潮

9. (4分) 为降低大城市震后救灾活动强度, 应采取的主要防灾减灾措施包括 ()

- ①完善城市功能区划
- ②调整产业结构
- ③人口外迁
- ④房屋加固
- ⑤组建志愿者队伍
- ⑥避灾自救技能培训.

- A. ①②③④
- B. ②③④⑤
- C. ③④⑤⑥
- D. ①④⑤⑥

如图为温带某景区导游图. 读图, 回答第10、11题.



10. (4分) 在图示景区的主要自然景观中, ()

- A. 峡谷由河流下切塑造而成
B. 河流补给主要靠冰雪融水
C. 瀑布的落差受径流量控制
D. 湖泊是火山口积水形成的
11. (4分) 在景区服务设施中, 依次布局游客中心、加油站、餐厅、巡防站的合理方案是 ()
A. ①③②④ B. ②③①④ C. ③②④① D. ④①③②
12. (4分) 秦汉至明代, 商人长期处于社会底层, 一个重要原因是统治阶层认为商人 ()
A. 不事生产 B. 不尊儒术 C. 不敬宗族 D. 不纳租税
13. (4分) 如图, 是中国某一朝代都城内中枢机构的分布示意图。该都城是 ()



- A. 唐长安 B. 宋开封 C. 元大都 D. 明北京
14. (4分) 下列各选项中, 中外名著创作于同一世纪的是 ()
A. 顾炎武《天下郡国利病书》与洛克《政府论》
B. 郭守敬《授时历》与牛顿《自然哲学的数学原理》
C. 曹雪芹《红楼梦》与薄伽丘《十日谈》
D. 关汉卿《窦娥冤》与莎士比亚《哈姆雷特》
15. (4分) 有西方学者在分析第二次鸦片战争爆发原因时说: “欧洲人渴望中国做出更大的让步以实现其贸易扩张。”若对此进行补充, 下列选项正确的是 ()
A. 西方国家希望通过“最惠国待遇”获得更多权益

- B. 西方国家想借“修约”名义摄取更多的在华利益
- C. 清政府没有遵守《南京条约》各项条款的规定
- D. 总理衙门拒绝了西方提出的公使进驻北京的要求
16. (4分) 下面的史料中，数字符号表示部分句读的位置。其中句读错误的是 ()
- 西人立国具有本①末虽礼乐教化远逊中华②然其驯致富强具有体③用育才于学堂论政于议院国民一体上下同心务
实而戒虚④谋定而后动此其体也轮船大炮洋枪水雷铁路电线⑤此其用也中国遗其体而求⑥其用无论赜蹶步趋常
不相及⑦就令铁舰成行铁路四达果足恃软。
- A. ①②⑥ B. ①③⑥ C. ②④⑤ D. ③④⑦
17. (4分) 晚清重臣端方上奏朝廷称：要消灭革命党人，“唯有于政治上导以新希望”。他所指的“新希望”是 ()
- A. 利用义和团 B. 颁布明定国是诏
- C. 预备立宪 D. 南北和谈
18. (4分) 南昌起义标志着中国共产党创建人民军队的开始。1933年7月，中华苏维埃临时中央政府批准，将
每年8月1日定为 ()
- A. 国民革命军军人节
- B. 中国工农红军成立纪念日
- C. 中华苏维埃共和国成立纪念日
- D. 中国人民解放军建军节
19. (4分) 新中国成立以来，非洲各国与中国有着密切的交往与合作。其主要表现为：非洲发展中国家 ()
- ①是中国重返联合国的重要推动力量
- ②是中国 50 年代初主要建交对象
- ③与中国共同发起不结盟运动
- ④是上海合作组织的成员。
- A. ① B. ①② C. ①②③ D. ①②③④
20. (4分) 如表选项中，材料与结论之间逻辑关系正确的是 ()

②活跃城市的文化市场

③增强人们的精神力量

④培育优秀的文化人才。

- A. ①③ B. ①④ C. ②③ D. ②④

25. (4分) 优秀城市雕塑体现了城市的精神品质和文化追求。北京“十二五”期间将新建一批呈现北京历史文化特色和“北京精神”的城市雕塑，分布在京城的大街小巷。回答1、2题。

优秀城市雕塑作为公共环境艺术作品 ()

①体现了城市环境对雕塑风格的依赖

②反映了雕塑理念与城市环境的统一

③体现了城市环境是时代精神的产物

④反映了历史情怀与时代精神的整合。

- A. ①② B. ①③ C. ②④ D. ③④

26. (4分) 随着国际化程度不断提高，北京越来越多的中餐馆开始提供英文菜单，但一些菜单的译法闹出不少笑话。近来有关部门出版了《美食译苑——中文菜单英文译法》一书，将2158道中餐菜名翻译成外国人能看懂的英文名称。此举有助于 ()

A. 丰富中华饮食文化的内涵

B. 促进中西饮食文化的传播

C. 展现中华饮食文化的魅力

D. 减少中西饮食文化的差异

27. (4分) 加强改革顶层设计和总体规划，重点解决体制性障碍和深层次矛盾，全面协调推进经济、政治、文化、社会等体制创新。从哲学角度，以上论述 ()

①运用了科学的系统优化方法

②把握了矛盾主次方面的辩证统一

③坚持了重点论和两点论统一

④强调了整体功能是部分功能之和。

- A. ①③ B. ①④ C. ②③ D. ②④

28. (4分) 如图漫画中人的困境启示我们, 实现人生目标要 ()



- A. 坚定的理想信念
- B. 以客观条件为基础
- C. 百折不挠反复实践
- D. 努力发展自身才能

29. (4分) 制定和实施村规民约是村民自治的有效途径。我国《村民委员会组织法》规定, 村规民约的内容不得与宪法、法律、法规和国家的政策相抵触, 不得有侵犯村民的人身权利、民主权利和合法财产权利的内容。下列内容能够纳入村规民约的是 ()

- A. 外出务工者必须按时返乡参加选举
- B. 牲畜毁坏他人农作物被打死不赔偿
- C. 村委会定期张榜公布村内重要事项
- D. 村民发生纠纷必须服从村委会裁定

30. (4分) 近年来, 北京市公安局开辟了“人大代表、政协委员直通车”、“人民来访接待室”、“政法民声热线”等民意渠道, 对收集的民意进行分析, 做到“警务跟着社情民意走、警力围着群众工作转”。这些做法强调 ()

- ①坚持群众路线, 转变工作作风
- ②重视代表提案, 维护群众权益
- ③促进信息公开, 审慎行使权力
- ④加强公民参与, 主动接受监督。

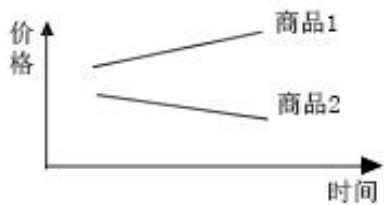
- A. ①③
- B. ①④
- C. ②③
- D. ②④

某班同学以小组为单位进行综合探究。回答 8、9 题。

31. (4分) 甲组同学撰写论文的主要参考文献有: 《关于推动宗教参与和和谐社会建设的思考》、《发挥宗教团体在赈灾救济中的社会功能》、《论农村信教群众在新农村建设中的作用》、《新时期爱国宗教人士的培养研究》。据此推断, 甲组的研究主题最可能是 ()

- A. 我国如何依法管理宗教事务

- B. 我国如何实行宗教信仰自由政策
- C. 我国宗教如何坚持独立自主自办的原则
- D. 我国如何引导宗教与社会主义社会相适应
32. (4分) 乙组同学就所学《国家和国际组织常识》的内容, 拟出下列命题准备开展研究, 其中不成立的是 ()
- A. 人民民主制度是民主与专政的统一
- B. 代议制的本质是直接民主
- C. 我国国家管理形式具有代议制特征
- D. 法国现行政体具有议会制的点
33. (4分) 某两种商品的价格变化如图所示, 由此可以推断出 ()



- A. 两种商品之间相互替代
- B. 商品 1 在市场上供不应求
- C. 商品 2 的生产企业利润上升
- D. 商品 2 的市场供给量高于商品 1
34. (4分) 近年来, 西藏青稞酒、山西老陈醋、新疆沙棘汁等各地名优土特产纷纷出现在北京的“商品大集”上, 广受市民青睐。一系列“商品大集”的举办有利于 ()
- ①提升北京居民的消费结构
- ②加快生产要素向北京聚集
- ③满足北京居民的消费需求
- ④推动商品的跨地区流通。
- A. ①② B. ①④ C. ②③ D. ③④
35. (4分) 经济波动的不同阶段有不同表现, 政府可采取的措施也有所不同。下表中正确的选项是 ()

选项	经济衰退期		经济过热期	
	可能的表现	可采取的措施	可能的表现	可采取的措施
A	税收减少	增加税收	失业减少	降低利率
B	企业投资减少	降低利率	税收增加	减少税收
C	物价上涨	提高利率	企业投资增加	增加税收
D	失业增加	减少税收	物价上涨	提高利率

A. A

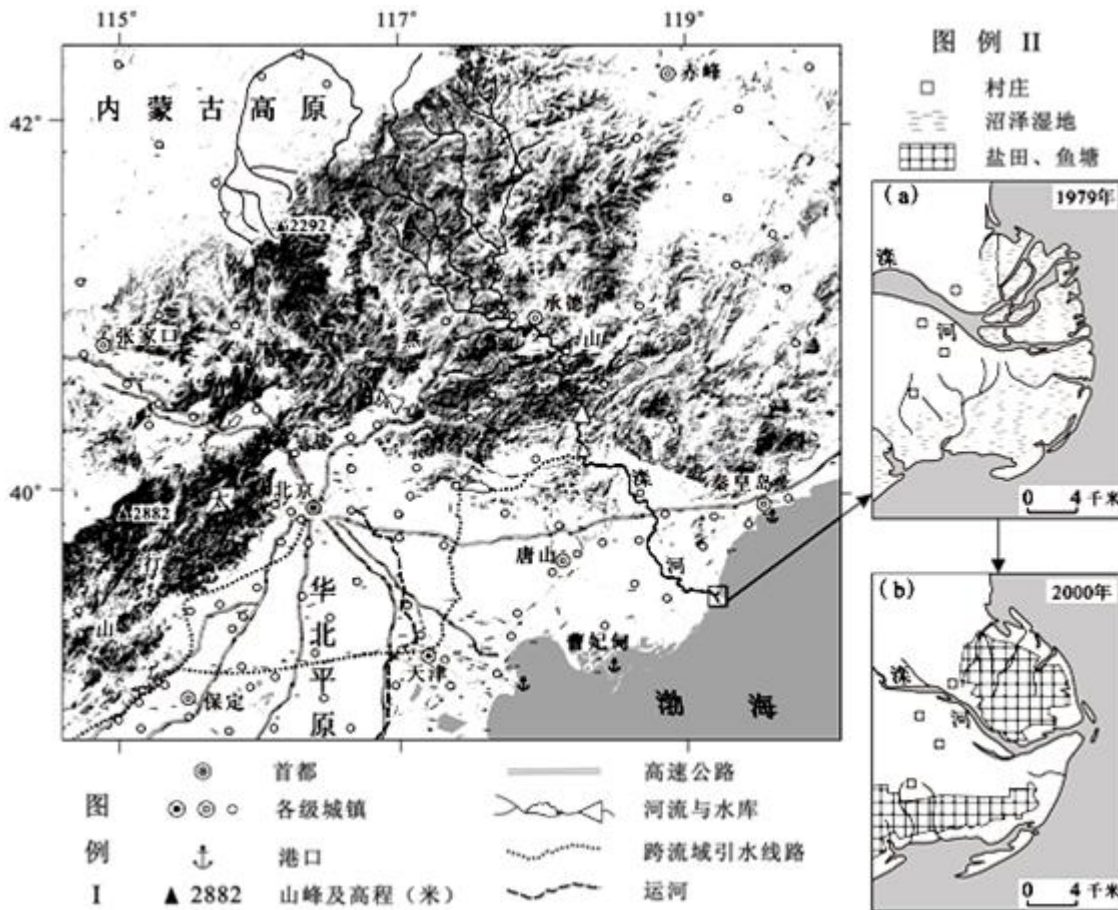
B. B

C. C

D. D

第二部分共 5 小题（共 160 分）

36. （36 分）读图，回答下列问题.



- 说明在地形影响下，该区域城镇和交通线路的分布特征。
- 简述图中滦河三角洲的成因。
- 比较图 10 (a) 与 (b)，分析滦河河道的变化及其人为原因。

2010年，曹妃甸新建的首钢京唐钢铁厂已全面投入生产。

- (4) 说明钢铁厂建设对曹妃甸地区经济发展的带动作用。
- (5) 概述制约华北平原农业生产的自然因素，并提出应对措施。

37. (36分) 水是生命之源，它孕育了人类文明，启迪着人类智慧，影响着人类社会的进程

材料一 天下莫柔弱于水，而攻坚强者莫之能胜，以其无以易之。弱之胜强，柔之胜刚，天下莫不知，莫能行。

(《老子》)

材料二 君者，民之源也，源清则流清，源浊则流浊。故有社稷者而不能爱民，不能利民，而求民之亲爱己，不可得也。(《荀子》)

- (1) 材料一、二分别体现了道家和儒家的什么思想？简述道家和儒家产生的时代背景。

材料三 “南通州北通州，南北通州通南北。”所谓的“南北通州”是指北京通州和江苏南通，它们均与大运河关系密切。但在近代以后，随着运河漕运的停止，北通州及运河沿线大多数城市衰落，南通州却未停止发展的脚步。1898年南通大生纱厂创办，并获得20年方圆百里内独办企业的特权，税收负担较轻。此后建立的大生港承担了航运功能。到20世纪20年代大生资本集团形成，包括棉花种植、碾米、造船、纺织机器制造、发电等企业及银行。其间，南通还创办了师范、农科、商业、纺织等学校，兴建了博物苑、剧院、公园等公共设施。

- (2) 阅读材料三和图，结合所学，概括近代南通经济发展的原因。

材料四 自19世纪初，关于宪法是否明确授权联邦政府帮助地方治理河道的问题，美国国会一直存在争论，1817年和1822年，美国总统两次否决了联邦政府资助地方改善交通的议案，1824年最高法院法官认定，宪法允许联邦政府资助和承担河道改良项目，但联邦政府的权限从改良河道扩大到流域治理、防洪灌溉，又经历了一个多世纪。其间，仍有很多议员认为，联邦政府建设防洪工程过多干预了各州的权力。1935年全国内发生洪灾，100多项防洪议案提交到国会，1936年总统签署《防洪法》，授权联邦政府在全国范围内建设防洪工程，地方需要提供相应的建设土地和空间。

- (3) 结合所学，从美国政治权力分配的角度，对材料四进行解读。

要求：提取信息充分；总结和归纳准确、完整；解释和分析逻辑清晰。

“水与人类文明进步”关键词表

三峡水利工程	筒车	新航路开辟	轮船招商局	第聂伯河水电站
海上马车夫	北洋水师	罗盘针	水力织布机	海上丝绸(陶瓷)之路

- (4) 阅读上表，从“水与人类文明进步”的某个侧面，选出3个关键词，提炼一个主题；再补充一个符合该主题的关键词，运用这4个关键词对该主题进行简要阐释。

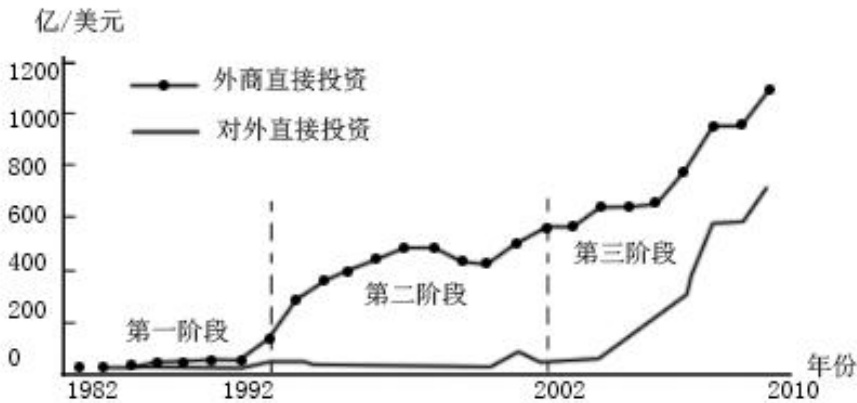
要求：主题立意明确；关键词选择准确；文字说明逻辑清晰；史论结合。





南通地理位置示意图

38. (36分) 随着我国经济发展水平不断提高, 实施“走出去”战略成为对外开放新阶段的重大举措。



1985—2010年我国外商直接投资和对外直接投资情况

(1) 读图, 描述外商直接投资和对外直接投资在各阶段变化的基本特点, 并说明加快对外直接投资对我国经济发展的战略意义。

(2) 评析斯密关于分工的观点, 并据此说明对外直接投资对企业生产经营的影响。

截止 2011 年底, 我国对外直接投资企业已达 1.8 万多家, 遍及全球 178 个国家和地区。目前我国企业对外直接投资还存在一些制约因素: 对外投资审批环节多, 对东道国政治、公共安全和社会民生等信息掌握不够, 有的对外投资企业环保责任意识淡薄, 个别国家对中国企业的到来怀有疑虑, 有的国家复杂的社会政治环境影响我国企业人员和资产安全……

(3) 结合材料, 针对企业对外直接投资在国内外遇到的问题, 说明我国政府应如何帮助企业更好地“走出去”。

作为我国对外直接投资的主体, 企业在对外直接投资中要面对东道国语言、风俗习惯、价值观、宗教信仰等文化差异带来的挑战。

(4) 运用《文化生活》中的相关知识, 谈谈我国对外直接投资企业应对上述挑战应有的正确态度。

39. 发展经济、改善民生是国家和民族发展的目标与责任。

(1) (8分) 20 世纪上半叶, 孙中山和甘地分别提出了改善民生的经济主张。请比较两者经济思想的异同。

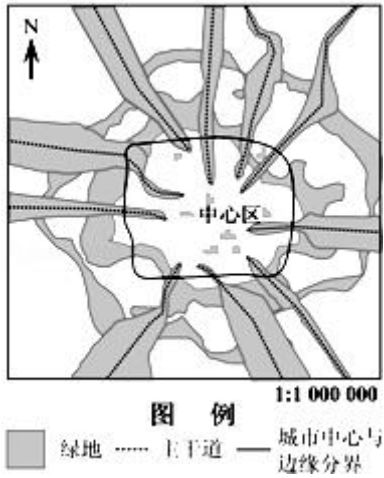
(2) (4分) 让群众广泛享有免费或优惠的基本公共文化服务, 是文化惠民工程的重要内容。试举文化惠民工程的一个实例, 并用《文化生活》中扶持公益性文化事业的相关知识加以简要说明。



(10分) 城市绿化建设是一项重要的民生工程。如图为某城市绿地系统规划示意图。据图回答：

(3) 简述规划绿地的分布特点。

(4) 阐述该绿地系统改善城市空气质量的原理。



40. 地图反映了人们认识世界的程度，地图的变化记录了人们认识世界的过程。欧洲中世纪时，地图主要由神职人员绘制，当时欧洲的世界地图千篇一律；基督教圣地耶路撒冷居于中心，多瑙河、地中海和顿河呈“T”字型，把世界分割为欧亚非三部分。中国古代地图大部分由官方或士大夫绘制，主要用于日常行政事务管理和作为读史的辅助工具，在中国古代绘制的世界地图中，中国占据绝大部分图幅，政区表现较为准确，中国疆域外则绘制简略，严重失真。随着地理信息技术的发展，出现了新的地图形式——数字地图。据图，回答。



(1) 与纸质地图相比，概括数字地图功能方面的特点。(10分)

(2) 阅读上面材料，结合所学，分别指出欧洲中世纪和中国古代地图的功用。说两种地图所反映的社会思想背景。(8分)

(3) 结合材料，说明认识对实践的依赖关系。

文综试题答案

1. **【分析】**北京和伦敦同在北半球，但是，两地分处亚欧大陆的东、西两岸，伦敦比北京的纬度更高。

【解答】解：A、伦敦属于温带海洋性气候，北京属于温带季风气候，7、8月份（夏季）伦敦比北京的气温低，日较差小；故不符合题意。

B、7、8月份我国东部锋面雨带控制华北地区，北京降水较多，伦敦降水比北京少；故不符合题意。

C、伦敦比北京的纬度高，正午太阳高度比北京小；故正确。

D、夏季北半球各地昼长夜短，纬度越高白昼越长，伦敦比北京的纬度高，昼长较北京长；故不符合题意。

故选：C。

【点评】本题考查地球运动与气候等知识点，要掌握相关的规律。

2. **【分析】**英国是一个地处北半球，位于欧洲西部、大西洋东部的岛国。

【解答】解：A、根据板块构造，英国位于亚欧板块内部；故不符合题意。

B、英国西部海岸位于温带，而珊瑚生长在热带海域；故不符合题意。

C、英国地形以低山丘陵、平原为主，地势地平；故不符合题意。

D、英国岛屿面积小，河流短小，温带海洋性气候，各月平均气温都在0℃以上，无结冰期，植被覆盖率高，含沙量小；故正确。

故选：D。

【点评】本题主要考查地形特征的描述、板块的分布、河流的水文特征。

3. **【分析】**此题考查洋流对地理环境的影响。图中的洋流是北大西洋暖流。暖流对沿岸起增温增湿的作用。附近的北海渔场一般都认为是北大西洋暖流与东格陵兰寒流交汇形成。

当暖湿气流经过冷海面时，它把热量传给冷海面而降低了自身的温度，这时饱和水汽量随温度降低呈现出过饱和状态，就会发生凝结。这种现象就是海雾。在北大西洋暖流进入北冰洋沿岸时，会产生海雾，使得能见度降低。

【解答】解：A、图中的洋流是北大西洋暖流。从北美洲至欧洲的海轮航行是顺流，所以速度加快，故正确；

B、图中的洋流是北大西洋暖流。暖流对西欧沿岸起增温增湿的作用，故不符合题意；

C、在北大西洋暖流进入北冰洋沿岸时，会产生海雾，使得能见度降低，故不符合题意；

D、附近的北海渔场一般都认为是北大西洋暖流与东格陵兰寒流交汇形成，故不符合题意。

故选：A。

【点评】 此题考查洋流对地理环境的影响。掌握洋流对航行和渔场的影响，气候的影响解题，难度不大。

4. **【分析】** 该题主要考察了垂直地带性的特征及自然带的分布规律。在不同的气候下，产生相应的，有代表的植被和土壤类型，从而形成具有一定宽度、呈带状分布的陆地自然带。自然带可以有季节变化，但植被、土壤不能移动。从图中可看出明显的北坡自然带上界较高。影响雪线的主要是降水量，即迎风坡背风坡的问题，迎风坡降水量大，雪线低，背风坡降水量小，雪线高。由于南北坡山地基带的分布高度而形成基带的差异。

【解答】 解：A、自然带可以有季节变化，但植被、土壤不能移动，故不能随季节变化而移动，故不符合题意；

B、由图可知，明显北坡自然带界限高于南坡，故不符合题意；

C、山体南坡为迎风坡，降水多故而温度低雪线低，故正确；

D、由于南北坡山地基带的分布高度而形成基带的差异，而不是水平距离造成基带的差异，故不符合题意。

故选：C。

【点评】 掌握基本的垂直地带性的特征、分布规律等，掌握区域特征，难度适中。

5. **【分析】** 本题用示意图考查了山地垂直分异规律。根据山脉的高度及基带的类型即可得出答案。

【解答】 解：由图中信息得知，山地海拔近 8000 米，北坡山麓地带海拔 3000 米左右，南坡山麓自然带为雨林季雨林带，因此该山地位于喜马拉雅山脉，故 A 选项正确。

故选：A。

【点评】 掌握基本的读图析图的方法，记忆根据垂直地域分异规律得出区域的特征，难度较小。

6. **【分析】** 东非高原有大面积的热带草原气候，但是南北半球的热带草原气候的干湿季节正好相反。

【解答】 解：A、游牧路线经过的地区为热带草原气候区，没有热带雨林植被，故不符合题意；

B、游牧活动多是“逐水草而居”，基塔莱在 4 月至 9 月为湿季，11 月至次年 3 月为干季，而多多马的 12 月至次年 4 月为湿季，因此该游牧活动应随着雨季南北移动，故符合题意；

C、向南到南回归线附近为热带沙漠气候，故不符合题意；

D、该路线位于内陆，几乎不受飓风影响，故不符合题意。

故选：B。

【点评】 本题考察影响农业生产的区位因素，属于基础题，正确读图并获取有用信息是关键。

7. **【分析】** 本题主要考查读图分析能力以及获取和解读信息的能力：（1）读图分析能力：由“东非高原基塔莱和多多马的降水资料”可知，基塔莱和多多马都属于热带草原气候，热带草原气候一年分明显的干湿两季；

（2）解读信息的能力：游牧活动是牲畜跟着草走，草跟着雨走；从两地各月降水量图可知，多多马的 4 - 10 月

份是干季，而基塔莱是雨季；多多马的 11 - 次年 3 月份是雨季，而基塔莱是干季，故游牧应从多多马的旱季（4 月份）开始向北迁移，到多多马的雨季（10 月份）开始向南迁移。

【解答】解：从图中可以看出基塔莱和多多马都属于热带草原气候，但它们分别在赤道的南北两边，故季节刚好相反，干湿季也相反；5 - 6 月随南方（多多马）旱季即将来临，草原开始枯黄，游牧者开始向北迁移，而这时北方（基塔莱）正值雨季，水草丰美；10 月北方基塔莱旱季来临，南方雨季将来临，游牧者又开始向南方回迁，迎接雨季的来临，因甲地位于赤道以南，紧邻赤道，游牧的箭头是向南，故游牧至甲地的时间最可能是 10 月。

故选：D。

【点评】解答本题的关键是读取两地的降水资料图，明确两地的气候类型一样，分析出两地的干湿季正好相反；游牧是牲畜跟着草走，草跟着雨走，相反的雨季才使得游牧者在基塔莱和多多马的之间随季节迁移。

8. **【分析】**图中所示救灾工作程序，紧急救援，说明灾害具有突发性，安居工程，需 2 - 3 年时间，生活、生产恢复重建、公共设施恢复重建需 4 - 5 年，说明对建筑设施、生产、生活破坏大。

【解答】解：图中所示救灾工作程序涉及到生产生活等工程建设，在选项中只有洪涝灾害才能造成大范围的工程破坏，灾后需要生产生活工程恢复重建。鼠害、旱灾、寒潮都不会造成大范围的工程破坏。

故选：B。

【点评】本题考查自然灾害类型、发生的主要原因及危害，自然灾害的特点。

9. **【分析】**为降低大城市震后救灾活动强度，就必须提前做好预防工作。

地震的预防措施主要有：①加强地质灾害的科学研究，建立灾情监测预警系统②建立健全减灾工作的政策法规体系，加强地质灾害的管理，

③实施一些预防措施（提高建筑物抗震强度，实施护坡工程，植树造林）

④开展防灾减灾的宣传教育，提高环保意识和减灾意识

【解答】解：为减灾救灾，应完善的城市功能区划、尽量加固房屋、组建救灾志愿者队伍、培训避灾自救技能等措施有利于震后救灾活动的有序进行，使防灾减灾达到良好的效果。调整产业结构与防灾减灾关系不大；人口外迁不适于大城市防灾减灾实际。

故选：D。

【点评】本题考查自然灾害类型、发生的主要原因及危害，结合实际采取防灾减灾措施。

10. **【分析】**读“温带某景区导游图”可知，该地山地较少，海拔较低，旅游资源丰富，有河流、湖泊、瀑布、峡谷等自然景观。

【解答】解：A、峡谷是流水的侵蚀作用形成的。故正确。

- B、该景区所在区域山地较少，且海拔较低，冰雪融水较少，不是该区域河流的主要补给水源；故不符合题意。
- C、瀑布的落差与地质构造和岩石的坚硬程度有直接关系，受流量的影响相对较小；故不符合题意。
- D、火山口积水形成的湖泊为河流的源头，与图示信息不符。故不符合题意。
- 故选：A。

【点评】考查自然旅游资源的形成原因，平时要注意知识积累。

11. **【分析】**读“温带某景区导游图”可知，该地旅游资源丰富，有河流、湖泊、瀑布、峡谷等自然景观。旅游设施比较齐全。

【解答】解：游客中心应布局在服务设施较多，人流量大的地方，③合适；加油站应布局在靠近停车场且车辆经过的区域，②合适；餐厅应靠近游人多的地方布局，④合适；巡防站应该布局在郊外游人较少的地区，①合适。

故选：C。

【点评】本题考查旅游规划，要做到合理布局旅游设施。

12. **【分析】**本题考查中国古代的经济政策。考查重农抑商政策实行的原因，学生运用所学知识解决历史问题的能力。

【解答】重农抑商政策是中国古代的一项基本政策，因为商人主要从事商品的贩运和买卖，所以中国古代的统治者大都认为商人不从事工农业生产，不创造产品，对社会的发展没有贡献。所以统治阶级贬低商人地位，对商人及商业实行限制，商人长期处于社会底层，故A项正确。

儒家思想从汉代开始成为中国封建社会的正统思想，商人也必须尊重儒学，故B项错误。

宗法制从西周开始，一直影响着中国的政治及社会生活，故C项错误。

商人也必须纳税，D项的表述错误，应排除。

故选：A。

【点评】本题主要考查中国古代的重农抑商政策，难度中等。关于重农抑商，还可以考查政策的起源：商鞅变法奖励耕战，另外以后朝代重农抑商的表现也是常考的内容：如汉朝商人不得衣丝乘车。

13. **【分析】**本题意在通过对历史图片的观察和解读考查学生对元朝中央机构的了解。

【解答】从图中可以观察到“中书省”这一中国古代中枢权力机构，在元代只保留中书省，置于都城之内，总理全国政务，为最高行政机构。唐代实行三省制，宋代设置中书门下，明代废中书省，以六部分掌庶政，直接受命于皇帝。

故选：C。

【点评】 本题意在考查学生对历史图片的观察和解读能力，考查学生对元朝中央机构的了解。

14. **【分析】** 本题考查中西方的思想家的相关知识。考查中西方思想家的文学作品的对比，学生对历史知识的再认再现能力。

【解答】 顾炎武（1613 - 1682 年）生活与明末清初，英国哲学家洛克（1632 - - 1704 年），是早期启蒙思想家，两人大约生活与同一时期，即 17 世纪。故 A 项正确。

郭守敬生活与元代，大约是 13 世纪，牛顿是 17 世纪的科学家，故 B 项错误。

曹雪芹生活在 18 世纪的清朝中期，薄伽丘是 14 世纪意大利文艺复兴时期的文学家，故 C 项错误。

关汉卿生活与元代，大约是 13 世纪，莎士比亚（1564 - - 1616 年），故 D 项错误。

故选：A。

【点评】 解答此题的关键在于把握选项中的文学作品出现的时间。试题并未要求从具体的时间上进行比较，只是大体上同一个世纪的就可以。因此题目设置并不偏。用排除法做此类的题目较易。

15. **【分析】** 本题是考查两次鸦片战争，重点要掌握两次鸦片战争的原因。

【解答】 鸦片战争后签订《南京条约》及其附件规定了“最惠国待遇”，清政府也开放上海等为通商口岸，故 A、C 不正确；第二次鸦片战争后才同意外国公使进驻北京的要求，清政府 1860 才设总理衙门，故排除 D。“欧洲人渴望中国做出更大的让步以实现其贸易扩张。”表明欧洲列强希望扩大对中国的侵略，故 B 项符合。

故选：B。

【点评】 本题考查历史知识的理解和材料解读能力。要求掌握鸦片战争的原因、不平等签约内容、影响。

16. **【分析】** 本题主要考查近代中国学习西方的历程。

【解答】 中国近代以来对西方的认识逐步加深，经历了从器物到制度到思想文化三个阶段。①错误，句读应该是在“末”后，“本末”是一个词；③错误，句读应该是在“用”后；⑥错误，句读应该是在“用”后，“中国遗其体而求其用”指的是洋务运动“中体西用”的指导思想，表明中国只是学习西方的科学技术，不改变政治制度。

故选：B。

【点评】 本题的形式十分新颖，让考生判断这段话的句读错误，不少考生认为此题貌似语文，而非历史。题目注重对考生“获取和解读信息的能力”的考查，通过新材料，创设新情境，让考生来分析判断。材料呈现的方式比较灵活，对考生综合能力的要求更高。

17. **【分析】** 本题主要考查预备立宪。

【解答】清政府晚期革命力量风起云涌，清政府摇摇欲坠，为挽救统治危机，清政府酝酿改革，企图实行“预备立宪”，欺骗国民，维护封建专制统治。

故选：C。

【点评】本题旨在考查学生对清朝预备立宪的了解，考查学生对历史知识的理解和材料解读能力。

18. **【分析】**本题考查了南昌起义，意在考查学生所学知识。

【解答】题中“1933年7月，中华苏维埃临时中央政府批准”。A不对，国民革命军是国民党军队的名称，与中共创立军队无关；B符合题意，1933年，中华苏维埃共和国临时中央政府决定8月1日为中国工农红军纪念日；C不对。建军节与中华苏维埃共和国的成立无关；D不对，中华人民共和国成立后，将此纪念日改称为中国人民解放军建军节。

故选：B。

【点评】本题考查了南昌起义，解题的关键在于掌握所学知识。

19. **【分析】**本题主要考查20世纪70年代中国的外交。

【解答】联系已学知识可知新中国50年代初主要与社会主义国家发展外交关系，70年代在非洲等发展中国家的支持下，中国恢复了在联合国的合法席位，因此①符合题意。而中国不是不结盟运动成员国，上海合作组织是中国与俄罗斯、哈萨克斯坦等建立的区域合作组织，因此②③④均不合题意。

故选：A。

【点评】本题为组合型选择题，旨在考查学生对20世纪70年代中国的外交的认识，考查学生对历史基础知识的再认再现能力。

20. **【分析】**本题主要考查进化论影响，要求学生结合近代西方文学发展科技进步以及20世纪不结盟运动发展的基本史实来分析材料。

【解答】A. 20世纪初，西方现实主义文学日益衰落，不能证明证明现代文学呈现多样化的特征。

B. 世界多极化格局的出现最早应该是欧洲的联合，而不是不结盟运动的兴起。

C. 达尔文的物种起源揭示了生命的起源，冲击了天主教的神创论，对封建神学思想构成了致命的冲击。

D. 结合新中国成立以后的科技发展，我们知道，1983年中国研制出第一台亿次计算机，但并不是标志着中国计算机技术领先世界。

故选：C。

【点评】生物进化论的积极意义：

第一，达尔文进化论促进了欧洲的思想解放，在人类思想史上产生了广泛的影响。

进化论的发表沉重地打击了神权统治的根基，从根本上推翻了“神创论”和物种不变论。进而启发人们从宗教迷信的束缚中解放出来。

第二，达尔文的进化论不仅大大推动了生物科学的发展，而且也有利于其它学科领域的发展。

21. 【分析】 本题考查学生对英国君主立宪政体的理解，了解英国君主立宪制确立的过程。

【解答】 英国“光荣革命”后颁布《权利法案》，用明确的法律限制国王的权力，使立法权、司法权、财政大权、军事大权等由议会控制，但是英国国王作为国家元首仍保留较大的行政权，如可拥有任命大臣的权力，只是到了18世纪中期才成为真正的“统而不治”的“虚君”。故排除A、B、C项。

故选：D。

【点评】 要注意培养对英国君主立宪制度下君主权力的分析能力，认识英国君主立宪制形成自己的特点有一个过程，并掌握其特点和过程。

22. 【分析】 本题主要考查学生对法国大革命曲折发展历程线索的识记。

【解答】 1789年7月14日法国大革命爆发，君主立宪派、吉伦特派、雅各宾派先后执政，1794年7月雅各宾派的统治结束；热月党人建立督政府；拿破仑失败后波旁王朝复辟，1830年建立七月王朝。

故选：C。

【点评】 本题旨在考查学生对法国大革命曲折发展历程线索的历史识记能力。

23. 【分析】 本题主要考查知识点第二国际的建立。

【解答】 从图中“奥匈帝国”“德国”等信息可以判断这是普法战争之后的欧洲政治地图，时间应该是1871年 - - - 1918年，因为1871年普法战争后，普鲁士完成德国的统一，故A不正确；1990年两德统一完成，1991年独立国家联合体成立，此时“奥匈帝国”已经不存在，故C、D排除；1889年第二国际建立，正好在这一时间段内。

故选：B。

【点评】 本题旨在通过对地图的分析考查学生对第二国际的建立时间的记忆，要求学生具备再认再现重大历史事件的能力。

24. 【分析】 题目考查：文化的社会作用；

文化的社会作用：

(1) 文化作为一种精神力量，能够在人们认识世界、改造世界的过程中转化为物质力量，对社会发展产生深刻的影响。

(2) 这种影响，不仅表现在个人的成长历程中，而且表现在民族和国家的历史中。

(3) 先进的、健康的文化会促进社会的发展，落后的、腐朽的文化则会阻碍社会的发展。

本题解题的关键是能够理解题目中文化的价值指的是文化对人的积极作用，优秀城市雕塑指的是呈现北京历史文化特色和北京精神的城市雕塑，同时需要注意优秀的城市雕塑不属于文化市场的产品。

【解答】优秀城市雕塑指的是呈现北京历史文化特色和“北京精神”的城市雕塑，显示了北京城市的文化底蕴，能增强人们的精神力量，①③正确；

优秀城市雕塑是公益文化事业，②排除；

优秀城市雕塑的价值是通过文化环境的影响实现的，而培育优秀文化人才是文化教育的任务，④排除。

故选：A。

【点评】题目难度一般，可以适当使用排除法，主要考查学生获取和解读信息、调动和运用知识的能力，学生在面对此类题目需要将文化产品和文化教育进行区分，文化教育是指一种社会现象，是人们在长期生产劳动创造过程中形成的产物，同时又是一种历史现象。确切地说，文化是一个国家或民族的历史、地理、风土人情、传统习俗、生活方式、文学艺术、行为规范、思维方式、价值观念等的统称。

25. **【分析】**题目考查：文化的形式

文化不仅内容上是多样的，形式上也是。无论古代文化还是现代文化，官方文化还是民间文化，精英文化还是大众文化，都有丰富的形式。

在社会生活的方方面面，文化渗透其中，道德、政治、军事、宗教、文学、艺术、教育、科技等活动，都是典型的重大的文化表现形式。

而文学与艺术，又有着无限丰富的表现形式：诸如神话文化、诗歌文化、戏剧文化、等。还有大量的特殊文化表现形式，如：居住文化、园林文化、建筑文化等。

通过对城市雕塑的例子，说明优秀的城市雕塑作为艺术产品，带来的好处或者说有什么意义。学生需要明白雕塑与城市精神之间的关系。

【解答】雕塑风格体现城市环境，但城市环境并不依赖于雕塑风格，①排除。

作为公共环境艺术作品的城市雕塑将雕塑理念与城市环境很好地结合起来，故②入选。

时代精神属于社会意识，城市环境作为社会存在，不是时代精神的产物，故③排除

北京历史文化特色反映了历史情怀，“北京精神”彰显了时代精神，故④入选。

故选：C。

【点评】难度一般，把握时代精神的内涵，时代精神是每一个时代特有的普遍精神实质，是一种超脱个人的共同的集体意识。

26. 【分析】 本题考查：中华文化，文化传播。

中华文化源远流长、博大精深，展现出独特的魅力。

我们既要更加热情地欢迎世界各国优秀文化在中国传播，吸收各国优秀文明成果，又要更加主动的推动中华文化走向世界，做中华文化的使者，增强中华文化国际影响力。本题指向中华文化的传播。

【解答】 AD 错误，此举不能丰富中华文化的内涵，也不会减少中西饮食文化的差异，因此选项 AD 排除；

B 与题意无关，材料不能表明西方饮食文化的传播，排除 B；

C 正确并符合题意，材料中的此举是指将 2158 道中餐菜名翻译成外国人能看懂的英文名称，这样做有利于展现中华饮食文化的魅力，故 C 当选。

故选：C。

【点评】 着重考查获取和解读信息、调动和运用知识的能力，要求考生准确解读材料含义，准确把握题意，仔细对比，注意排除错误选项，找出正确答案。

27. 【分析】 本题考查：系统优化方法、两点论与重点论的统一

“重点解决体制性障碍和深层次矛盾”体现了抓主要矛盾，抓重点；

“全面协调推进经济、政治、文化、社会等体制创新”，体现了运用了科学的系统优化方法解决问题。

【解答】 “总体规划”体现了系统优化方法，①项正确；

“重点解决…”体现了主次矛盾的辩证统一，而不是矛盾主次方面的关系，②项与题意无关；

“重点解决体制性障碍和深层次矛盾”体现了抓重点，“全面协调推进经济、政治、文化、社会等体制创新”体现了两点论，③项正确；

“整体功能是部分功能之和”的说法错误，④排除。

故选：A。

【点评】 本题考查学生运用相关哲理分析解决问题的能力。需要注意区分主次矛盾和矛盾的主次方面。其实要区分这两组概念非常容易，简而言之：矛盾主次方面就是回答这个事情怎么样（性质，形势），主次矛盾就是分析该怎么做。

28. 【分析】 【考点定位】 实现人生价值

实现人生价值需要：1) 充分发挥主观能动性；2) 顽强拼搏、自强不息；3) 努力发展自己的才能，全面提高个人素质；4) 有坚定的理想信念和正确价值观的指引。

“每个人心中都有一个高点”说明漫画中人具有人生的理想目标，有坚定的理想信念，“来来回回许多次”说明百折不挠反复实践，漫画中人是站在一个跷跷板上，虽然它具有坚定的理想信念、百折不挠反复实践的精神和努力发展自身才能，但是若不借助外力，他无法走到心中的高点，这说明实现人生价值要以客观条件为基础。

【解答】 【答案】 B

【解答】

A 漫画中“每个人心中都有一个高点”说明漫画中人具有人生的理想目标，有坚定的理想信念，“来来回回许多次”说明百折不挠反复实践，

但不是漫画想要强调的重点，故排除；

B 根据题意，漫画中人是站在一个跷跷板上，虽然它具有坚定的理想信念、百折不挠反复实践的精神和努力发展自身才能，但是若不借助外力，他无法走到心中的高点，这说明实现人生价值要以客观条件为基础，故符合题意，当选；

C “来来回回许多次”说明漫画中人具有百折不挠反复实践，但不是漫画想要强调的重点，故排除；

D 跟题意无关，不是漫画寓意强调的重点。

【点评】此题关键要把握好漫画作者要让考生思考的是“却为什么站在高点是那么困难”，漫画题转折词“却”后所表述的，往往是作者强调的重点。

29. **【分析】** 本题考查：农村村民自治的内容。

村民自治章程、村规民约以及村民会议或者村民代表讨论决定的事项不得与宪法、法律、法规和国家的政策相抵触，不得有侵犯村民的人身权利、民主权利和合法财产权利的内容。

【解答】 A 项不符合规定，参加选举是公民的权利而不是义务，义务必须履行，但权利可以放弃，故排除 A；

B 项的做法侵犯了公民的合法财产权利，不符合规定，故排除 B；

C 正确并符合题意，村委会定期张榜公布村内重大事项是村务公开的内容，符合规定，可纳入村规民约，故 C 当选；

D 项不符合规定，村委会不是一个裁决机构，它可以调解村民纠纷，但村民不是必须服从，村民纠纷还可以通过法律等途径解决。

故选：C。

【点评】 本题考查村民自治的知识，解答本题要读懂材料中《村民委员会组织法》对村规民约的规定，注意排除不符合法律规定的选项。

30. **【分析】** 题目考查：我国政府工作的基本原则

我国政府工作的基本原则是对人民负责。

- ①坚持为人民服务的工作态度。
- ②树立求真务实的工作作风。
- ③坚持从群众中来到群众中去的工作方法

题干说北京市公安局开辟了“人大代表、政协委员直通车”、“人民来访接待室”、“政法民生热线”等民意渠道，对收集的民意进行分析，做到“警务跟着社情民意走、警力围着群众工作转”，这些做法强调坚持群众路线，转变工作作风，加强公民参与，主动接受监督。

【解答】“人大代表”、等民意渠道，对收集的民意进行分析，这些做法强调坚持群众路线，转变工作作风，加强公民参与，主动接受监督，故①④符合题意，

②③观点正确但是材料没有体现，故不选。

故选：B。

【点评】难度一般，需要将选项和题目中的具体做法一一对应。

31. **【分析】** 本题考查：我国的宗教政策

- (1) 积极引导宗教与社会主义社会相适应；
- (2) 从材料中的各种文献的标题可以推断出研究的主题最有可能是我国如何引导宗教与社会主义社会相适应；

【解答】 该题考查宗教政策，题干中甲组同学撰写论文的主要参考文献有：《关于推动宗教参与和谐社会建设的思考》、《发挥宗教团体在赈灾救济中的社会功能》、《论农村信教群众在新农村建设中的作用》、《新时期爱国宗教人士的培养研究》，说明研究的是如何引导宗教与社会主义社会相适应，故 D 观点符合题意。

A、B、C 均与题意无关，故排除。

故选：D。

【点评】 该题考查宗教政策，全面把握宗教政策：实行宗教信仰自由政策，依法管理宗教事务，坚持独立自主自办的原则，积极引导宗教与社会主义社会相适应。本题是考查我国宗教信仰自由政策的相关知识点。参考文献的题目充分反映了宗教对社会发展、新农村建设等的作用。本题难度一般。

32. **【分析】** 本题考查：民主与专政的关系、代议制

- (1) 民主是专政的基础，只有在统治阶级或人民内部实现充分的民主，才能使得国家政权获得有效的政治支持和必要的政治力量，才能有效地实施对于被统治阶级和敌对力量的专政。
- (2) 专政是民主的政治保障，只有实施对被统治阶级和敌对力量的专政，才能巩固特定的国家政权和统治阶级的政治地位，保障社会政治的稳定，才能使统治阶级或人民内部的民主获得必要的政治条件。

(3) 代议制是指公民通过选举代表，组成代议机关行使国家权力的制度，是间接民主的形式。现代国家普遍实行代议制。资本主义国家的代议机关是议会，所以资本主义代议制又称议会制。中国的人民代表大会制度是新型的代议制，人民选举代表组成人民代表大会统一行使国家权力。

【解答】 A 项成立，人民民主制度是对人民实行民主与对敌人实行专政的统一；

代议制是指公民通过选举代表，组成代议机关行使国家权力的制度。是间接民主的形式，故 B 项不成立；

我国的国家管理形式是人民代表大会制度，因此也具有代议制特征，所以 C 项成立；

法国的现行政体是半总统议会制，故 D 项成立；

故本题的正确答案是 B。

【点评】 本题考查选修 3《国家和国际组织常识》中关于国体与政体的有关知识。注意本题的设问是不成立的是，属于反向选择。难度中等。

33. **【分析】** **【考点定位】** 价格与供求的关系、价格变化对经济生活的影响。

价格与供求存在双向制约的关系，价格影响供求，供求也影响价格。价格变化会调节产量。

【解答】 **【答案】** B

【解析】 判断两种商品是不是替代品，要看需求受价格的影响情况，本题图中没有需求的因素，所以无从判断两者的关系，不能说两种商品相互替代，所以排除 A。

供不应求时，价格上升，故商品 1 在市场上供不应求，B 正确，所以本题答案选 B。

商品 2 价格下降，生产企业利润会下降，C 错误；

商品价格下降，生产规模会缩小，价格上涨，生产规模会扩大，故商品 2 的市场供给少于商品 1，D 说法错误。

【点评】 本图示较简单，考生很容易读懂，解题关键在于熟练掌握基础知识，根据题意准确判断。

34. **【分析】** 此类试题要求学生掌握商品流通的相关知识。商品流通是以货币为媒介的商品交换，公式是：商品 - 货币 - 商品，它的流通可大大增强各地的经贸交流。

【解答】 解析：

①错误，消费结构应发生变化。

②不一定，现在很多厂家为了节省成本，都在原材料产地进行生产。

③符合题意，各地的商品出现在杭州可以满足当地居民的消费需求。

④符合题意，各地的商品出现在杭州会推动商品的跨地区流通。

故选：D。

【点评】 本题难度适中，考查学生根据书本知识联系材料进行分析的能力。

35. **【分析】** 本题考查的是国家宏观调控中的不同做法；经济过热和经济衰退两者的表现不同，政府的做法也不同，表现和措施需要有一一对应关系。

【解答】 可以采取增加财政支出，减少税收，降低利率，增加流通中的货币量，以刺激经济发展，A 错误；当经济过热时，经济发展受供给不足制约时，企业投资增加，失业减少，物价上涨，B 错误；在经济衰退期，经济发展受需求不足制约时，企业投资减少，物价下降，失业增加，由此可以判断 C 错误

可以采取的措施有增加税收，减少财政支出，提高利率。综上所述，可以判断 D 正确。

故选：D。

【点评】 难度较难，需要对不同的经济现象有明确的把握。

36. **【分析】** (1) 读图可知，该地区的主要地形有内蒙古高原和华北平原，很明显平原地区城镇数量多，密度大，交通线路密集；山地和高原：城镇数量少，密度小，交通线路稀疏。

(2) 滦河三角洲，是由于在河口处流水的堆积作用形成的；

(3) 由图可知滦河河道变窄，分叉也减少。原因较多，例如，上游修建水库拦水；用水量的增加以及向流域外引水使得径流量减少；沼泽、湿地被开垦为盐田、鱼塘；

(4) 曹妃甸建钢铁厂对经济的发展主要是积极的影响：拉动基础设施建设；带动相关产业集聚；促进当地商业、服务业的发展；增加当地就业岗位和经济收入；

(5) 制约华北平原发展农业的因素比较多，最主要因素是水资源短缺，另外，寒潮、冰雹、风沙、病虫害、土壤盐碱化等；相应措施完善农田水利设施和防护林体系；增加农业技术投入，发展节水农业；加强对灾害的监测和预防；培育和种植优良作物品种。

【解答】 解：(1) 读图可知，华北平原：城镇数量多，密度大，交通线路密集；山地和高原：城镇数量少，密度小，交通线路稀疏。

(2) 主要由于河口处流水的堆积，在滦河河口附近，流速减缓，泥沙堆积，形成河口三角洲。

(3) 读图可知随着时间的发展，河道变窄，分叉减少。原因：主要由于上游沿线修建水库拦水，自滦河向流域外引水，滦河流域生产生活用水量增加，河流流量减少，沼泽湿地被开发为盐田、鱼塘。

(4) 对经济的发展产生的影响：拉动基础设施建设；带动相关产业集聚；促进当地商业、服务业的发展；增加当地就业岗位和经济收入。

(5) 制约因素：降水偏少，水资源短缺，另外，多旱涝、寒潮、冰雹、风沙、病虫害、土壤盐碱化等；应对措施：完善农田水利设施和防护林体系；增加农业技术投入，发展节水农业；加强对灾害的监测和预防；培育和种植优良作物品种。

故答案为：（1）平原：城镇数量多，密度大，交通线路密集；山地和高原：城镇数量少，密度小，交通线路稀疏；

（2）在滦河河口附近，流速减缓，泥沙堆积，形成河口三角洲；

（3）河道变窄，分叉减少，原因：主要由于上游沿线修建水库拦水，自滦河向流域外引水，滦河流域生产生活用水量增加，河流流量减少，沼泽湿地被开发为盐田、鱼塘；

（4）拉动基础设施建设；带动相关产业集聚；促进当地商业、服务业的发展；增加当地就业岗位和经济收入；

（5）水资源短缺，另外，寒潮、冰雹、风沙、病虫害、土壤盐碱化等；相应措施完善农田水利设施和防护林体系；增加农业技术投入，发展节水农业；加强对灾害的监测和预防；培育和种植优良作物品种。

【点评】该题涉及到的知识点较多，综合性强。①地形与城镇、交通的发展，平原地区交通线路密集，城镇数量多，山地高原则是城镇数量少，交通线路也少；②河口三角洲的形成原因是流水的堆积；③钢铁厂的建设对于该地区主要能起到促进经济发展的作用，而对环境会产生不利的影响；④华北地区发展农业最大的问题是缺水，华北平原可以说是我国最缺水的区域之一。

37. **【分析】**（1）本题考查百家争鸣。应把握百家争鸣的相关知识。

（2）本题考查近代经济的发展。应把握近代经济的发展的特点。

（3）本题考查美国总统共和制的确立。应把握美国总统共和制的特点。

（4）本题考查学生解读材料获取有效信息、分析理解、归纳概括并运用所学知识解决问题的能力。

【解答】（1）第一小问主要从材料一、二中概括即可。“天下莫柔弱于水，而攻坚强者莫之能胜，以其无以易之。弱之胜强，柔之胜刚，天下莫不知，莫能行”可知，反映的是老子的两面性思想，即“辩证”思想。“故有社稷者而不能爱民，不能利民，而求民之亲爱己，不可得也”可知，反映的是儒家的“仁政”思想；第二小问，结合所学知识解答即可。根据所学知识，道家、儒家思想产生的时代背景是时代背景：春秋战国时期，社会发生巨大变革。铁器和牛耕的使用，促进了经济的发展，造成井田制瓦解，各国纷纷变法，确立了土地私有制，从而冲击了传统的宗法分封制。周天子权威下降，诸侯争霸，促成了思想上百家争鸣的局面。

（2）本小问主要从图和材料三中概括，结合所学知识解答即可。从材料“所谓的南北通州是指北京通州和江苏南通，它们均与大运河关系密切”和图可以得出南通地理位置优越的原因；“获得20年方圆百里内独办企业的特权，税收负担较轻”可以得出清政府予以政策扶持，使其在竞争中占据优势的原因；“南通还创办了师范、农科、商业、纺织等学校，兴建了博物苑、剧院、公园等公共设施”可以得出基础设施和产业结构相对完善的原因；结合所学可知张謇的事业救国思想和实践活动，推动了当地经济发展的原因。

(3) 本小问主要概括材料并结合所学知识解答即可。材料表明，最初由于美国宪法没有明确授权联邦政府帮助地方治理河流，导致总统两次否决国会提出的议案。1824年最高法院法官对宪法相关条例的解释，解决了联邦政府可以治理河流的法律问题，但是仍然没有理顺联邦和地方在治理河流方面的权力关系，所以国会仍陷于长期争论。20世纪30年代的经济危机、自然灾害，客观上要求联邦政府更多干预地方经济事务；罗斯福新政加强了联邦政府的权力。这一切为1936年总统签署《防洪法》创造了条件。结合所学知识可知，美国政治权力分配的特点是权力制衡，一方面表现为中央机构之间的三权分立，另一方面表现为联邦制下中央与地方之间的权力分割。

(4) 本小问是开放创新型的题，旨在考查学生对知识的运用能力。首先从材料中选出3个关键词，提炼一个主题。再补充一个符合该主题的关键词，运用这4个关键词对该主题进行简要阐释。因此在选关键词时一定要看到它们之间的联系。

故答案为：

(1) 材料一体现出了道家的“辩证”思想；材料二体现出了儒家的“仁政”思想。

时代背景：春秋战国时期，社会发生巨大变革。铁器和牛耕的使用，促进了经济的发展，造成井田制瓦解，各国纷纷变法，确立了土地私有制，从而冲击了传统的宗法分封制。周天子权威下降，诸侯争霸，促成了思想上百家争鸣的局面。

(2) 南海依托江海，毗邻上海，地理位置优越，有利于经济发展。张謇的事业救国思想和实践活动，推动了当地经济发展。清政府予以政策扶持，使其在竞争中占据优势。基础设施和产业结构相对完善，有利于城市经济持续发展。

(3) 材料表明，最初由于美国宪法没有明确授权联邦政府帮助地方治理河流，导致总统两次否决国会提出的议案。1824年最高法院法官对宪法相关条例的解释，解决了联邦政府可以治理河流的法律问题，但是仍然没有理顺联邦和地方在治理河流方面的权力关系，所以国会仍陷于长期争论。20世纪30年代的经济危机、自然灾害，客观上要求联邦政府更多干预地方经济事务；罗斯福新政加强了联邦政府的权力。这一切为1936年总统签署《防洪法》创造了条件。以上内容表明，美国政治权力分配的特点是权力制衡。权力制衡一方面表现为中央机构之间的三权分立，另一方面表现为联邦制下中央与地方之间的权力分割。在中央与地方权力分配的某些方面，联邦政府的权力有扩大趋势。

(4) 示例：

主题：水与社会生产的发展

关键词：筒车、水利织布机、第聂伯河水电站

添加的关键词：漕渠

简要阐释：中国古代，修建漕渠，使用筒车灌溉农田，推动农业生产的发展。工业革命期间发明的水利织布机等，解放了劳动力，工业生产领域出现革命性的变革。第二次工业革命以后，电力成为社会经济与生活的重要能源。第聂伯河水电站是水利发电的代表之一。

【点评】 本题解题的关键在对材料的解读，获取有效信息，分析概括。再运用所学知识解答即可。

38. **【分析】** **【考点分析】**

第（1）问：考查有关对外开放的相关知识。

①第1小问注意要按图中的三个阶段来分析，注意从无到有的起始阶段要予以阐述，即第一阶段是我国开始引进外商直接投资阶段。

②第2小问考查对外投资的意义。

第（2）问：本题以斯密关于分工的观点为背景，考查学生对所学知识的理解评析能力，同时考查对外直接投资以企业的影响有关知识。

①第1小问属教材知识的再现，要注意评析类试题，既要评，也要有析，本题首先要分析斯密关于分工观点的科学之处，又要分析其不科学之处，即颠倒了分工与交换之间的关系，实际上是分工决定交换，而不是交换决定分工。

②第2小问，企业直接投资有利于参与国际分工，扩大市场规模，提高竞争力与生产效率等。

第（3）问：本题考查政府职能与外交政策的有关知识。

①第一步：从材料中找出措施：制约我国企业对外直接投资的因素：对外投资审批环节多，对东道国政治、公共安全和民生等信息掌握不够、环保意识淡薄、个别国家对中国企业的不了解、东道国复杂的社会政治环境等。

②第二步是将这个因素分类，即分为政治、经济、文化、社会四大类。

③第三步针对这些问题，认真履行政府的政治、经济、文化及社会公共服务职能，没有体现的职能舍去。

④同时注意，帮助企业“走出去”也是我国处理对外关系的一部分，因此也涉及我国的外交政策与和平发展道路等相关知识点，既要维护我国的国家利益，又要尊重东道国的主权与正当利益。

第（4）问：本题以企业对外投资面临文化为背景，考查如何应对文化多样性的有关知识。

面对文化差异，首先我们要尊重其文化，尊重差异，理解个性，求同存异，和谐相处。其次要相互交流、借鉴融合其他民族的优秀文化。

【解答】 **【答案】**

第（1）问：

①第一阶段，我国开始引进外商直接投资，对外直接投资很少。第二阶段，外商直接投资快速增长，对外直接略有增加。第三阶段，外商直接投资与对外直接投资均快速增长。

②对外直接投资是“走出去”的重要方式，可以加快培育我国的跨国公司和知名品牌。利用国际市场和国际资源，促进国民经济又好又快发展。更好地与各合作，优势互补，互利共赢，形成经济全球化条件下参与国际经济合作和竞争的新优势。

第（2）问：

①斯密认为，分工能够提高劳动生产率；市场规模越大，越有利于分工的发展。斯密正确认识到了市场规模对分工的制约，但颠倒了分工与交换之间的关系。

②企业对外直接投资，参与国际分工，有利于扩大市场规模，促进专业化生产，提高生产效率。

第（3）问：

①政府履行组织经济建设职能。加强公共服务，减少企业对外投资的审批环节，提供海外市场环境信息咨询等方面的服务。加强市场监管，监督企业履行社会责任。承担保护我国公民生命安全、企业和个人合法权益不受分割的职能。

②营造良好的国际环境。坚持独立自主的和平外交政策，走和平发展道路。加强与东道国的交往与合作，在平等互利基础上缔结合作条约，便于企业更好地在当地开展投资和经营。尊重其他国家的主权和正当的国家利益，鼓励企业开展有利于改善当民生的项目合作，实现共赢。

第（4）问：

①尊重文化多样性，对外直接投资企业应尊重东道国的文化。

②跨越文化，博采众长，取长补短，促进文化的交流与融合。

【点评】第（1）问共两小问，第1小问描述图表，本题考查学生的读图能力，即将图表中的各要素变化情况描述清楚即可。第2小问属教材知识的简单再现。

第（2）问共两小问，第1小问属于辨析题，辨析的基本管理思路是先判断，再分析，最后总结。第2小问要注意主体是企业，不能谈对国家及人的影响，切不可脱离企业这个主体答题。

第（3）问解答措施类试题要本着措施从问题中来的原则，因此首先要阅读材料，从中获取有效信息。组织答案时要条理清晰，逻辑明确。

第（4）问属于教材知识的再现，学生只要掌握基础知识即可作答。

39. **【分析】**本题共两小问。

第1问，文化惠民的实例。“文化惠民工程”是在党的十七大提出来的，是全国人民物质生活水平快步提高之后的一项伟大工程，是社会主义文化大发展、大繁荣的一项重大举措，也是一项惠及全国人民，普及大众文化的

工程。其中包括广播电视村村通工程、全国文化信息资源共享工程、农村电影放映工程、农家书屋工程、西部开发助学工程和电视进万家工程等重点项目。

第2问，扶持公益性文化事业的相关知识来说明第1问所举实例。发展中国特色社会主义文化，要扶持公益性文化事业。坚持把发展公益性文化事业作为保障人民基本文化权益的主要途径，加大投入力度，加强社区和乡村文化设施建设。

【解答】 (1) 实例：

例如：广播电视村村通、农村电影放映、农家书屋、西部开发助学工程；

(2)

①发展中国特色社会主义文化，要扶持公益性文化事业。坚持把发展公益性文化事业作为保障人民基本文化权益的主要途径。

②加大投入力度，加强社区和乡村文化设施建设。

【点评】 本题以发展公益性文化事业为切入点，考查学生对我国文化惠民工程的了解，举例时要注意是文化惠民工程，不能列举其他非文化工程，并说明扶持公益性文化事业的措施与作用，本题较为简单。

39. (1) **【分析】** 本题考查孙中山和甘地的思想。考查孙中山和甘地经济思想的异同。

【解答】 本题结合所学知识解答即可。依据所学知识可知，孙中山和甘地经济思想的相同点是都反对西方殖民掠夺，主张本民族的经济独立；不同点是孙中山希望实现国家现代化；甘地则希望回归传统经济生活。孙中山主张学习西方先进科学技术；甘地则主张发展传统手工业。孙中山有比较系统的现代化经济发展方案——《实业计划》；甘地发展经济的方案稍显简略。

故答案为：

(1) 相同点：两者都反对西方殖民掠夺，主张本民族的经济独立。

不同点：孙中山希望实现国家现代化；甘地则希望回归传统经济生活。孙中山主张学习西方先进科学技术；甘地则主张发展传统手工业。孙中山有比较系统的现代化经济发展方案——《实业计划》；甘地发展经济的方案稍显简略。

【点评】 本题考查学生对孙中山与甘地经济主张的比较。注意两人都是本国近代化中的代表人物，两个人的经济思想都带有时代的特色。

(2) **【分析】** 本题共两小问。

第1问，文化惠民的实例。“文化惠民工程”是在党的十七大提出来的，是全国人民物质生活水平快步提高之后的一项伟大工程，是社会主义文化大发展、大繁荣的一项重大举措，也是一项惠及全国人民，普及大众文化的

工程。其中包括广播电视村村通工程、全国文化信息资源共享工程、农村电影放映工程、农家书屋工程、西部开发助学工程和电视进万家工程等重点项目。

第2问，扶持公益性文化事业的相关知识来说明第1问所举实例。发展中国特色社会主义文化，要扶持公益性文化事业。坚持把发展公益性文化事业作为保障人民基本文化权益的主要途径，加大投入力度，加强社区和乡村文化设施建设。

【解答】（1）实例：

例如：广播电视村村通、农村电影放映、农家书屋、西部开发助学工程；

（2）

①发展中国特色社会主义文化，要扶持公益性文化事业。坚持把发展公益性文化事业作为保障人民基本文化权益的主要途径。

②加大投入力度，加强社区和乡村文化设施建设。

【点评】本题以发展公益性文化事业为切入点，考查学生对我国文化惠民工程的了解，举例时要注意是文化惠民工程，不能列举其他非文化工程，并说明扶持公益性文化事业的措施与作用，本题较为简单。

【分析】（3）图中显示，在市中心有几快片状的绿地，在外围则是呈放射状和同心圆组成的网状。（4）绿地有降低噪声、吸烟滞尘、吸收二氧化碳放出氧气、增加空气湿度等作用。

【解答】解：（3）根据图中信息，绿地在城市中心为片状分布，边缘呈网状分布（环状分布，沿主干道呈楔形或条带状或放射状分布）。

（4）绿地系统改善城市空气质量的原理：吸附飘（浮）尘，吸收污染气体，释放氧气。

故答案为：

（1）城市中心为片状分布，边缘呈网状分布（环状分布，沿主干道呈楔形或条带状或放射状分布）。

（2）吸附飘（浮）尘，吸收污染气体，释放氧气。

40.（1）**【分析】**根据课文知识，将数字地球与纸质地图比较归纳即可。

【解答】解：数字地球是一个以地球坐标为依据的、具有高分辨率的海量数据和多维显示的地球信息的技术系统。该系统信息丰富多样，以图象、图形、图表、文本报告等多种形式提供局部或全球范围的数据、信息、知识方面的服务，提供信息准确及时，修改、检索、传输信息方便快捷，并可以对系统中的数据作进一步的分析操作，最后输出人们关注的专题信息。与纸质地图相比，具有数据更新快、信息查询和空间分析功能强、交互功能强的特点。

故答案为：增加了交互功能；信息查询和空间分析功能强，数据更新快，信息共享好。

【点评】主要考查对地理信息的理解和应用，这是要关注的一个考点。

(2) 【分析】本题考查中世纪天主教的相关知识。考查中世纪天主教在欧洲的地位以及中西方地图绘制的功能的差异与反映的社会背景，生提取信息，归纳比较、分析理解的能力。

【解答】本题考查学生提取信息，归纳比较、分析理解的能力。第一小问可从材料中，从绘制概括。人员上看：欧洲绘制地图的是神职人员，可知和宗教有关；中国由官方或士大夫绘制，可知与现实的世俗政治生活有关。故功用的不同可概括为：欧洲中世纪地图主要用于宗教宣传；中国古代地图主要用于世俗事务。

第二小问可从材料中概括和结合所学知识得出，欧洲中世纪的地图以基督教圣地耶路撒冷居于中心，所以反映的是当时基督教神权思想居于社会统治地位；而古代中国地图中国占据绝大部分图幅，可知有天朝上国的心理。由此可以概括为：欧洲中世纪地图反映出当时基督教神权思想居于社会统治地位；中国古代地图反映出中国中心论的思想。

故答案为：

功用：欧洲中世纪地图主要用于宗教宣传；中国古代地图主要用于世俗事务。

社会思想背景：欧洲中世纪地图反映出当时基督教神权思想居于社会统治地位；中国古代地图反映出中国中心论的思想。

【点评】本题解题的关键在对材料的准确解读、分析理解。考查学生提取信息，归纳比较、分析理解的能力。

(3) 【分析】【考点分析】

本题以世界地图分绘制历史为背景，考查学生对实践是认识的基础这一哲理的理解与运用能力。

该题原理范围固定，指向性明确，学生可以从实践是认识的来源、动力、真理性的检验标准、目的与归宿等方面回答原理。对材料内容要具体分析和全面认识，简练概括材料要点，对应原理加以分析。

【解答】【答案】

①实践是认识的基础，实践是认识的来源，世界地图的精确绘制是在实践过程中逐步完成的。

②实践是认识发展的动力，实践推动了世界地图的绘制日益精准。

③实践是检验认识的真理性的唯一标准，绘制的世界地图是否与地理实际相符合是在实践中得到检验的。

④实践是认识的目的和归宿，绘制世界地图是为了满足人们的实践需要。

【点评】该题考察学生对实践决定认识的表现的识记和理解，对原理内容要熟练回答，准确解读材料，从材料的做法中概述原理，要求学生要对应材料内容回答原理，紧密结合，切忌只回答原理而不联系材料，或者只分析材料而没有原理。