

2018 北京市夏季高中会考 政 治

第一部分 选择题（共 56 分）

一、选择题 在每小题列出的四个选项中，只有一项是最符合题目要求的。本大题共 28 小题，每小题 2 分，共计 56 分。

1. 中国特色社会主义进入了新时代，我国经济发展

也进入了新时代，基本特征就是我国经济已由高


速增长阶段转向 阶段。这一发展是体现新发展理念的发展，是创新成为第一动力、协调成为内生特点、绿色成为普遍形态、开放成为必由之路、共享成为根本目的的发展。

A. 大规模发展 B. 高质量发展

C. 可持续发展 D. 包容性发展

2.

人民币外汇牌价（人民币 /100 美元）



时间	美元	人民币
2017 年 8 月 31 日	100	660.10
2018 年 4 月 10 日	100	630.71

上表情况说明

A. 外汇汇率降低，美元币值下降，人民币币值上升

B. 外汇汇率升高，美元币值上升，人民币币值下降

C. 外汇汇率升高，美元币值下降，人民币币值上升

D. 外汇汇率降低，美元币值上升，人民币币值下降

3. 有人把分享经济形容为“不求拥有，但求所用”。上下班叫一辆顺风车，车费五折还能与

司机交朋友；外出旅游点击在线短租，可以选住价格实惠又称心的民居；修缮房屋，花

上 10 元钱可以换来电钻的一天使用权……分享逐渐成为更多人的选择。分享经济

①可以方便人们的生活

②能够提高商品价值量

③能够提高资源利用率

④会取代传统消费方式

A. ①②

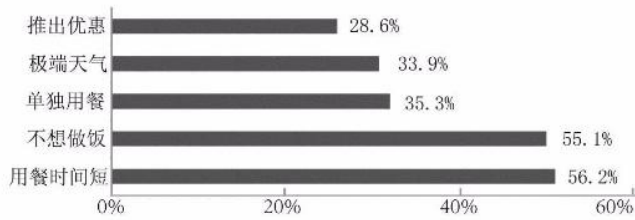
B. ①③

C. ②④

D. ③④

4. 网络时代，外卖影响着我们的生活，也影响着企业的经营。某网站对在线餐饮外卖用户订餐原因作了调查，结果如下图。

在线餐饮外卖用户订餐原因



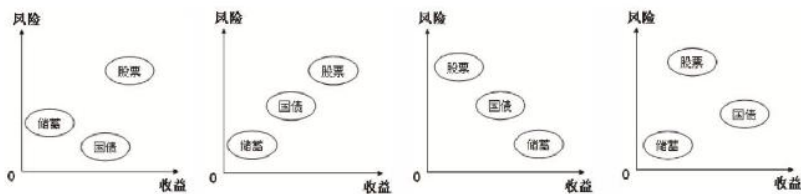
根据调查结果，餐饮外卖企业应

- ①改进操作流程，提高食品价格 ②增加配送费用，分散送餐压力
 ③根据天气变化，调整备餐数量 ④保障餐品质量，提高配送时效
- A. ①② B. ①③ C. ②④ D. ③④

5. 某手机生产企业，从不同渠道广泛筹集资金，成为国家、集体、个人多方持股的公司。

从所有制角度看，这家公司的性质属于

- A. 国有经济 B. 集体经济 C. 私营经济 D. 混合所有制经济
6. 以下是三种投资方式的风险与收益比较示意图。其中合理的是（不考虑其他因素）



A B C D 7. 下列选项中，有利于在收入分配中实现社会公平的是

- ①调节个人过高收入 ②降低最低工资标准
 ③提高企业增值税税率 ④完善社会保障制度
- A. ①③ B. ①④ C. ②③ D. ②④

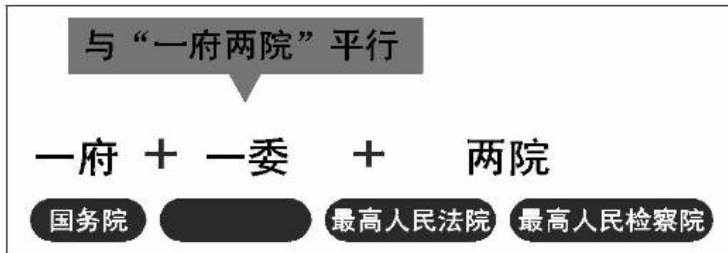
8. 上图中，三个人分别走上了富裕之路。他们的收入都属于

- A. 按劳动要素分配 B. 按资本要素分配
 C. 按技术要素分配 D. 按生产要素分配

2018年3月5日至3月20日，第十三届全国人民代表大会第一次会议在北京召开。回

答第9、10题。

会议表决通过的《中华人民共和国宪法修正案》，在“国家机构”一章中明确了一个新增国家机关的宪法地位（见下图）。这个国家机关（“一委”）是



- A. 国家监察委员会 B. 国家卫生健康委员会
- C. 国家发展和改革委员会 D. 国家民族事务委员会
10. 会议期间，新一届国家领导人在人民大会堂进行了庄严而又隆重的宪法宣誓。这是自宪法宣誓制度施行以来首次在全国人民代表大会上举行的宪法宣誓。向宪法宣誓有利于
- ①彰显宪法权威，增强宪法观念 ②促使国家机关工作人员依法行政
- ③激励公职人员忠于和维护宪法 ④公民在生活中形成一样的价值选择
- A. ①② B. ①③ C. ②④ D. ③④
11. 某市民发现，当地有关行政部门的个别工作人员没有切实履行食品安全监管职责，于是打电话向该部门反映问题并提出建议。该市民行使监督权的方式体现的是
- A. 社情民意反映制度 B. 舆论监督制度
- C. 社会听证制度 D. 信访举报制度
12. 《中华人民共和国村民委员会组织法》规定，村规民约的内容不得与宪法、法律、法规和国家的政策相抵触，不得有侵犯村民的人身权利、民主权利和合法财产权利的内容。下列内容能够纳入村规民约的是
- A. 外出务工人员必须按时返乡参加选举 B. 牲畜毁坏他人农作物被打死不赔偿
- C. 村委会定期张榜公布村内重要事项 D. 村民发生纠纷必须服从村委会裁定
13. 在全国人民代表大会上，国务院总理所作政府工作报告，需经全国人民代表大会审议并决定是否批准。这是全国人民代表大会依法行使
- ①立法权
- ②监督权
- ③决定权
- ④任免权
- A. ①② B. ①④ C. ②③ D. ③④
- 某班同学通过参加“全民国家安全教育日”活动，增强了维护国家安全的意识，进一步明确了公民在维护国家安全方面的义务。公民应当
- ①保守所知悉的国家秘密

②及时报告危害国家安全活动的线索

③随时在网络上发布国家安全危机的信息

④为国家安全工作提供便利条件或者其他协助

A. ①②③ B. ①②④ C. ①③④ D. ②③④

15. 2018年1月,北京市三名中学生受邀观摩了中国人民政治协商会议北京市第十三届委员会第一次会议。在观摩过程中,他们看到的真实场景有

①政协认真审议并决定批准北京市政府工作报告

②政协会议决定任免市政府某些职能部门负责人

③政协委员们就各种热点难点社会问题建言献策

④政协委员按界别分组讨论政协常委会工作报告

A. ①② B. ①④ C. ②③ D. ③④

16. 当代国际关系错综复杂,我国在处理与本国有关的国际问题时,最主要的是

A. 根据我国国家利益决定自己的态度和对策

B. 按照国际条约决定自己的态度和对策

C. 按照联合国的决议决定自己的态度和对策

D. 根据大国一致原则决定自己的态度和对策

17. 建筑是一首凝固的诗,“意趣幽远,境界隽永”。下图中的建筑风格迥异,体现了世界文化的



天坛



泰姬陵



巴黎圣母院



帕提农神庙

A. 继承性

B. 多样性

C. 同一性

D. 稳定性

18. 中国书法是中国汉字特有的一种表现艺术,被誉为“无言之诗、无行之舞、无图之画、无声之乐”。2022年北京

冬奥会会徽“冬梦”(见右图)以书法汉字“冬”为灵感

来源,上半部分展现滑冰运动员的造型,下半部分表现

滑雪运动员的英姿;运用中国书法的艺术形态,将厚重



的东方文化底蕴与国际化的现代风格融为一体，呈现出新时代的中国新形象、新梦想。这一设计

- A. 体现出对传统文化的继承与发展
- B. 是中国传统文化的重要标志
- C. 使汉字成为中华文化的基本载体
- D. 表明传统文化是文化创新的源泉

19. 孔子设立私学、广收门徒，“弟子三千，七十二贤”，扩大了儒家文化的传播和影响。这表明

- ①学校是文化传播的唯一途径
- ②教育具有传承文化的特定功能
- ③教育是文化发展的决定因素
- ④教育在人才培育中发挥重要作用

- A. ①② B. ①③ C. ②④ D. ③④

20. 全国剪纸艺术之乡河北蔚县，积极利用剪纸艺术开发旅游纪念品，使以往人们仅仅用来贴窗花、自娱自乐的小小剪纸，发展为产值数亿元的当地支柱产业。这表明

- A. 文化是经济的基础 B. 科技带动文化发展
- C. 文化能推动经济发展 D. 经济促进文化发展

21. “德”字最初的字形，是十字路口中间有一只眼睛，瞄准了前进的方向（见右图），意为用眼睛找准方向前行。今天品



味这个“德”字，启示我们

- ①追求真善美，传递正能量
- ②人无德不立，国无德不兴
- ③凝聚道德力量，坚持立德树人
- ④尊重个性发展，丰富文化生活

- A. ①②③ B. ①②④ C. ①③④ D. ②③④

22. 2018 年是马克思诞辰 200 周年。无论时代如何变迁，马克思主义依然显示出科学思想的伟力。100 多年前，马克思主义哲学诞生，实现了哲学史上的伟大变革，标志着哲学发展进入了一个崭新时代。之所以做出这样的判断，是因为马克思主义哲学

- ①第一次实现了唯物主义与辩证法的有机统一
- ②第一次实现了唯物辩证的自然观与历史观的统一
- ③第一次实现了实践基础上科学性和革命性的统一
- ④全面继承了德国古典哲学，将哲学发展推向更高阶段

- A. ①②③ B. ①②④

C. ①③④ D. ②③④

观察右侧漫画，下列对其评价恰当的是

不入虎穴，焉得虎子

捡了芝麻，丢了西瓜

一着不慎，满盘皆输

好高骛远，不切实际



24. 某地地处百花山南麓，煤炭资源丰富，过去“靠山吃山”采煤致富，但“黑经济”造成植被被破坏、粉尘污染、地质灾害频发。近年来，该地积极转型，依然“靠山吃山”，发展壮大特色种植、生态旅游等“绿经济”，让百姓充分享受到生态建设带来的红利。该地的成功转型得益于

- ①转变价值观念，不再追求经济利益
- ②坚持科学发展，提高了经济持续增长能力
- ③改造自然规律，有效恢复生态环境
- ④践行绿色发展，将绿水青山变成金山银山

A. ①③ B. ①④ C. ②③ D. ②④

25. 人们经常引用老话支持自己的观点，但有些老话之间似乎也有冲突，如“好马不吃回头草”与“浪子回头金不换”，“退一步海阔天空”与“狭路相逢勇者胜”，等等。这些看

似相互冲突的老话

- ①各有适用的条件和范围
- ②其正确性无法被检验
- ③不应被机械地照搬套用
- ④会导致人们无所适从

A. ①② B. ①③ C. ②④ D. ③④

26. 孔子对不同问“孝”的人有不同的回答。孟懿子问孝，子曰：“无违。”子游问孝，子曰：

“今之孝者，是谓能养。至于犬马，皆能有养。不敬，何以别乎？”子夏问孝，子曰：

“色难。”上述问答表明

- ①“孝”的内涵不具有共性
- ②“不孝”的表现大体相同
- ③“孝”的要求应体现个性
- ④“孝”的方式因人而异

A. ①② B. ①③ C. ②④ D. ③④

27. 右侧漫画告诉我们：“每个人的

智力、体力以及各种能力都是有

限度的，不可能在各方面都优秀，

也许你在某个方面略胜一筹，但

在其他方面，别人却会领先。”

下列说法与漫画寓意相符的是

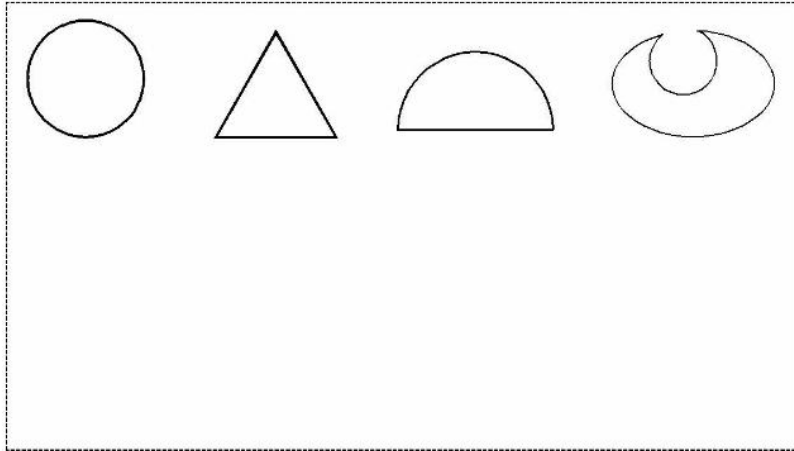
A. 音声相和，前后相随

B. 百尺竿头，更进一步



- C. 尺有所短，寸有所长
- D. 动中有静，静中有动

28.



哲学课上，老师提出这样一个问题：以上四个图形，哪一个图形与其他三个图形特征不同？请说明理由。四位同学发言如下。

- 甲：圆形，因为圆形是唯一没有角的图形。
- 乙：三角形，因为它是唯一全部由直线构成的。
- 丙：半圆形，因为它是唯一由直线和曲线组成的。
- 丁：第四个图形，因为它是唯一的不是轴对称的图形。

老师点评：大家说的都有道理。

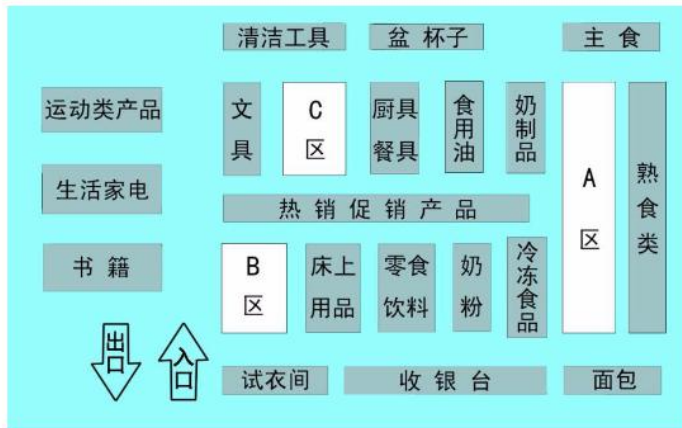
这则材料表明

- A. 对同一个确定对象的认识，会有许多真理
- B. 事物是丰富多彩的，其性质根本无法确定
- C. 看问题的角度不同，对问题的认识会不同 [来源：学，科，网 Z, X, X, K]
- D. 价值判断是多样的，没有统一的衡量尺度


第二部分 非选择题（共 44 分）

二、问答题 根据题目要求作答。本大题共 4 小题，每小题 5 分，共计 20 分。

29. 超市的商品陈列，看似简单却大有学问。某超市（见下图）有 A、B、C 三个区域，需要分别摆放蔬菜水果、洗涤用品和服装。请你提出摆放方案，并运用《经济生活》相关知识说明理由。



30. 从站起来、富起来，中国正在进入强起来的新时代。当今青年，其人生黄金时期与国家“两个一百年”奋斗目标实现高度吻合，是这一历史进程的见证者，更是参与者和创造者。强国一代有我在！回应时代呼唤，众多青年表达了自己不负使命的“强国心声”。



熙熙攘攘的城市中，为了维护和谐稳定，我在无数人酣然入梦时，用警灯照亮辖区大街小巷的每一个角落。我是普通的基层派出所民警，希望天下无贼成为现实。强国一代有我在！

翱翔天际的中国大飞机呼唤更强劲的“中国心脏”，但与航空强国相比，航空发动机仍是我们的软肋。我是飞行器发动机专业的大学生，在书山题海中咬牙坚持，深知祖国的未来需要我的贡献。强国一代有我在！

人迹罕至的山岭里，我不分白天黑夜，不畏严寒酷暑，将混凝土一方一方浇灌到桥梁桩基里。我是一名桥梁建设者，希望一条条高速公路翻山越岭、星罗棋布，连通每一个乡村与城市。强国一代有我在！

“强国一代有我在！”请从哲学角度说明青年应如何担当起时代赋予的重任。

31. 小街巷小胡同，既是我们生活居住的地方，也是城市生生不息的肌体。当下，全市正在开展小街巷小胡同环境整治提升工作，临建违建、拆墙打洞、占道经营、垃圾污染等问题得到有效治理。



整治前后的街巷

小明利用周末，积极参与社区美化环境活动，并拍摄了以上两张照片，看着美丽的家园，既高兴又担心，如何才能长久维护美好的街巷环境？他决定写一份行动建议书。

运用《政治生活》相关知识，请你和小明一起完成建议书。

“让家园美丽永续”行动建议书

社区连着你我他，美好家园靠大家。维护整治成果，提升首都功能，留住古都神韵，共享美好生活。我提出以下建议。

建议 1：城管部门履行好维护城市管理秩序职能，加强巡视，发现问题及时依法整改。

建议 2：社区党员积极发挥先锋模范带头作用，利用空余时间参与维护街巷环境活动。

建议 3：

建议 4：

32. 近来，以优秀传统文化为题材的各类电视节目不断涌现，《中国诗词大会》《国家宝藏》《经典咏流传》《寻找手艺》《百心百匠》《如果国宝会说话》等栏目受到追捧，节目中展示的诗词、非遗、文物等优秀传统文化内容被人们广泛热议，成为最大的“网红”。某班同学以“优秀传统文化为什么能成为最大‘网红’”为议题展开讨论。

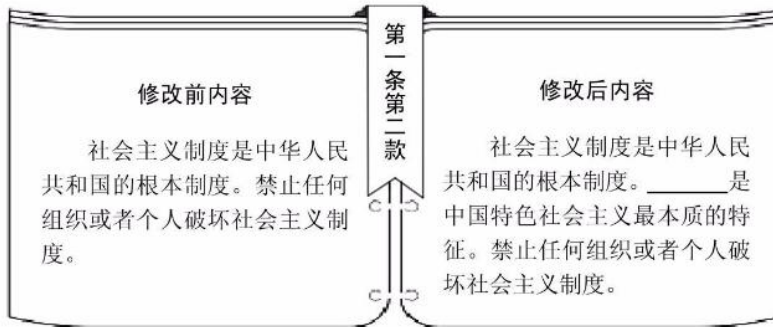
同学甲：优秀传统文化是根，渗透在我们的血脉中；传统文化类节目激发了大家的情感共鸣。

同学乙：优秀传统文化是一座“金山”；传统文化类节目从中挖掘出越来越多的文化“矿藏”。

同学丙：传统文化类节目形式活泼，接地气，通俗易懂，让优秀传统文化“活”起来。请你任选一位同学的发言，运用《文化生活》相关知识说明该同学观点的合理性。

三、简答题 紧扣题意，简明扼要。本大题共 4 小题，共计 10 分。

33. 第十三届全国人民代表大会第一次会议表决通过的《中华人民共和国宪法修正案》，对宪法第一条第二款作了修改。请将下图横线处的内容补充完整。（2 分）



34. 我国很多法定节日或纪念日，体现出对祖国的认同，对中华民族的认同，对中华文化的认同。请你写出一个符合上述要求的法定节日或纪念日：_____。（2 分）

35. 下面表格左栏的内容是政府工作报告提出的 2018 年发展主要预期目标（部分）。请在右栏写出与之相应的宏观调控目标。（2 分）

发展主要预期目标（部分）	宏观调控目标
国内生产总值增长 6.5%左右	促进经济增长
居民消费价格涨幅 3%左右	稳定物价
城镇新增就业 1100 万人以上，城镇调查失业率 5.5%以内， 城镇登记失业率 4.5%以内	
进出口稳中向好，国际收支基本平衡	保持国际收支平衡

36. 星期天，妈妈要小波做午饭。妈妈告诉他：一般来讲，（A）择菜洗菜需 8 分钟，（B）切菜需 4 分钟，（C）淘米需 2 分钟，（D）用电饭煲煮饭需 30 分钟，（E）炒菜需 18 分钟。小波算了一下这些时间，共计 62 分钟。但是，小波设计一套方案，只用了 32 分钟

就完成了任务。

(1) 按顺序写出小波的操作步骤(只写出字母): _____。(2分)

(2) 小波这样安排体现的哲学道理是 _____。(2分)

四、论述题 14分。

37. 2018 年是中国改革开放 40 周年。40 年来,从农村到城市,从试点到推广,从经济体制改革到全面深化改革,中国人民众志成城,用奋斗书写了国家和民族发展的壮丽史诗。

【回望改革历程 探究发展之源】

我国改革开放 40 年成就与大事记(部分)

党的十八届三中全会作出全面深化改革的决

定。③ 推进京津冀协同发展。提出“一带一路”

倡议。2017 年 GDP 为 827122 亿元。

2009—2018 年

党的十六届三中全会全面部署建设完善的社会主义市场经济体制。全面取消农业税。② 标志对外开放进入新阶段。2008 年 GDP 为 319516 亿元。

1999—2008 年

党的十四届三中全会确立社会主义市场经济的改革方向和基本内容。创建股票市场。建立浦东新区。1998 年 GDP 达到 85196 亿元。

1989—1998 年

(1) 下列三张图片反映了三个重要的历史事件,请将图片序号填入上图恰当的位置。

(3分)



- A 中国代表签字加入世界贸易组织 B 小岗村农民按下“大包干”的红手印 C 设立雄安新区

(2) 结合材料,从经济角度简要分析在党的领导下改革开放取得辉煌成就的原因。(3分) 要求:可以从某一角度深入分析,也可以全面分析。

【民之所望 施政所向】



从前办事……



现在办事……

改革开放 40 年来，政府的机构设置、自身职能、施政能力都在悄然发生着深刻的变化，由以前职能交叉重叠、一件事多个部门管，转变为部门职责整合、一类事项原则上由一个部门统筹和负责。

(3) 结合材料，说明政府职能发生了怎样的转变，这一转变对我们的生活产生了什么影响。(4 分)

【改革不停顿 开启新征程】

一个时代有一个时代的问题，一代人有一代人的使命。在新时代，中国人民将继续自强不息、自我革新，坚定不移全面深化改革，逢山开路，遇水架桥，将改革进行到底。

(4) 运用《生活与哲学》相关知识，谈谈走进新时代的中国为什么要坚定不移地推进改革。(4 分)

政治试题答案

第一部分 选择题（共 56 分）

一、选择题 在每小题列出的四个选项中，只有一项是最符合题目要求的。本大题共 28 小题，每小题 2 分，共计 56 分。

题号	1	2	3	4	5	6	7	8	9	10
答案	B	A	B	D	D	A	B	D	A	B
题号	11	12	13	14	15	16	17	18	19	20
答案	D	C	C	B	D	A	B	A	C	C
题号	21	22	23	24	25	26	27	28		
答案	A	A	D	D	B	D	C	C		

第二部分 非选择题（共 44 分）

二、问答题 根据题目要求作答。本大题共 4 小题，每小题 5 分，共计 20 分。

29. A 区适合摆放蔬菜水果；B 区适合摆放服装；C 区适合摆放洗涤用品。

摆放理由评分观察视角：从食品安全、不同种类商品间的关系、增加销售量、方便消费者购买、消费心理等角度说明。

水平四 摆放方案合理，理论运用和理由分析准确。（5 分）

水平三 摆放方案部分合理，理论运用和理由分析比较准确。（3~4 分）

水平二 摆放方案不明确，理论运用和理由分析存在欠缺。（1~2 分）

水平一 摆放方案不合理，观点错误，或没有应答。（0 分）

蔬菜水果摆放 A 区的理由示例：

一般说来，蔬菜水果与主食、熟食有一定互补关系，摆放在 A 区，方便消费者购买。蔬菜水果是生活必需品，消费者购买时，需经过其他商品区域，可能会增加其他商品的销售量，增加营业额。蔬菜水果摆放在 A 区，远离洗涤日化用品等商品，符合食品安全要求。

30. 本题为开放性试题，符合要求，言之有理即可。

水平四 哲学观点选用准确，结合实际分析条理清楚，逻辑严密。（5分）

水平三 哲学观点选用比较准确，结合实际分析比较有条理。（3~4分）

水平二 罗列哲学观点，没有结合实际分析；或有分析但与哲理不相符合。（1~2分）

水平一 答非所问，观点错误，或没有应答。（0分）

示例：

充分发挥主观能动性。自强不息、顽强拼搏，勇于战胜学习和工作中的困难挫折。

重视量的积累。在日常学习和工作中坚持不懈，做好本职，不断提高个人素质。

坚持正确的价值观。报效祖国，服务人民，在奉献中实现人生价值。

31. 评分观察视角：本题可从政府相关部门、人大代表、政协委员、居委会、社区居民、商户、志愿者等角度提出建议，知识运用准确，建议合理可行。（5分）

示例：

居委会发挥基层群众自治组织的作用，制定维护环境文明的公约等。

街巷商户自觉履行维护公共利益义务，做好门前“三包”，维护门前的环境整洁。

32. 评分观察视角：从中华文化、优秀传统文化、文化创新、文化自信等角度，合乎逻辑地作出分析。

水平四 能够对应所选观点，准确运用相关理论，分析条理清楚，逻辑严密。（5分）

水平三 能够对应所选观点，比较准确地运用相关理论，分析比较有条理。（3~4分）

水平二 理论运用存在欠缺，能对所选观点作出一定分析。（1~2分）

水平一 答非所问，观点错误，或没有应答。（0分）

示例：

同学甲：传统文化是维系民族生存和发展的精神纽带，优秀传统文化根植于中国人的内心，潜移默化地影响着人们，人们认同和热爱优秀传统文化。

同学乙：中华文化源远流长、博大精深；优秀传统文化底蕴丰厚，在思想上有大智，在科学上有大真，在伦理上有大善，在艺术上有大美，人们能从中汲取养分、感受魅力。

同学丙：电视节目将优秀传统文化与大众传媒有机结合，充分挖掘优秀传统文化内涵，创新表现形式和传播方式，使优秀传统文化富有时代气息，能为更多人理解和接受。

三、简答题 紧扣题意，简明扼要。本大题共4小题，共计10分。

33. 中国共产党领导（2分）

34. 本题为开放性试题，符合题目要求即可。如春节、中秋节、中华人民共和国国庆日、国家宪法日等（2分）

35. 增加就业（2分）

36. （1）C—D—A—B—E（2分）

（2）系统优化（整体与部分的辩证关系、量变与质变的辩证关系）（2分）

四、论述题 14 分。

37. (1) ① B② A ③ C (各 1 分, 共 3 分)

(2) 评分观察视角: 从我国经济制度、社会主义市场经济体制、对外开放、经济全球化等角度, 分析改革开放取得成就的原因。(3 分)

示例:

建立和发展社会主义市场经济, 充分发挥市场在资源配置中的作用, 提高劳动生产率, 实现资源优化配置, 推动经济持续健康发展。

(3) 政府转变职能, 建设服务型政府, 不断提高行政效能。让我们获得优质公共服务, 办事更加便捷, 生活更加美好。(4 分)

(4) 本题为开放性试题, 符合要求, 言之有理即可。(4 分)

评分观察视角: 可运用历史唯物主义、唯物辩证法的观点分析。

示例:

矛盾是事物发展的源泉和动力, 社会发展是在社会基本矛盾的不断解决中实现的。进入新时代的中国, 虽然取得了巨大成就, 但生产关系与生产力、上层建筑与经济基础之间仍然存在不适应的方面; 我国社会主要矛盾已经转化为人民日益增长的美好生活需要和不平衡不充分的发展之间的矛盾。要解决这些矛盾, 必须坚定不移地推进改革。

北京高考在线是长期为中学老师、家长和考生提供新鲜的高考资讯、专业的高考政策解读、科学的升学规划以及实用的升学讲座活动等全方位服务的升学服务平台。自 2014 年成立以来一直致力于服务北京考生, 助力千万学子, 圆梦高考。

目前, 北京高考在线拥有旗下拥有北京高考在线网站和北京高考资讯微信公众号两大媒体矩阵, 关注用户超 10 万+。

北京高考在线_2018 年北京高考门户网站

<http://www.gaokzx.com/>

北京高考资讯微信: bj-gaokao

官方微信公众号: bj-gaokao
官方网站: www.gaokzx.com

咨询热线: 010-5751 5980
微信客服: gaokzx2018

北京高考资讯

关于我们

北京高考资讯隶属于太星网络旗下，北京地区高考领域极具影响力的升学服务平台。

北京高考资讯团队一直致力于提供最专业、最权威、最及时、最全面的高考政策和资讯。期待与更多中学达成更广泛的合作和联系。

长按二维码 识别关注



微信公众号：bj-gaokao

官方网址：www.gaokzx.com

咨询热线：010-5751 5980