

2023—2024 学年高中毕业班阶段性测试(六)

文科综合

考生注意:

1. 答题前,考生务必将自己的姓名、考生号填写在试卷和答题卡上,并将考生号条形码黏贴在答题卡上的指定位置。
2. 回答选择题时,选出每小题答案后,用铅笔把答题卡对应题目的答案标号涂黑。如需改动,用橡皮擦干净后,再选涂其他答案标号。回答非选择题时,将答案写在答题卡上。写在本试卷上无效。
3. 考试结束后,将本试卷和答题卡一并交回。

一、选择题:本题共 35 小题,每小题 4 分,共 140 分。在每小题给出的四个选项中,只有一项是符合题目要求的。

20 世纪 90 年代后期,在全球制造业转移的大背景下,台湾省灯饰产业大量向广东省中山市古镇转移,大量温州商贾受吸引而来。同时,国内灯饰市场开始启动,古镇灯饰产业进入大规模发展热潮。如今,古镇周边形成了泛古镇大型灯饰产业集群,已成为全球最大的灯饰生产基地。图 1 示意中山市古镇灯饰产业发展模式。据此完成 1~3 题。

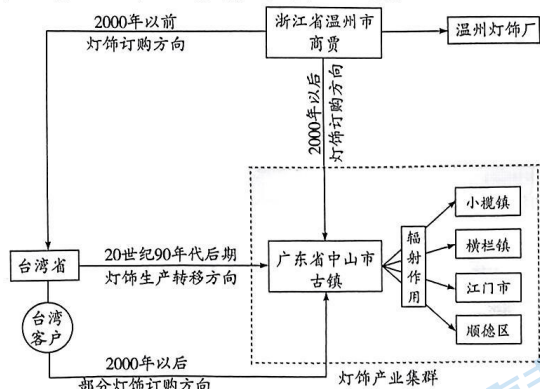


图 1

1. 20 世纪 90 年代后期中山市古镇灯饰产业进入大规模发展热潮,主要得益于
  - ①产业基础雄厚
  - ②台商资金投入
  - ③政策大力支持
  - ④铁路运输发达
 A. ①② B. ②③ C. ③④ D. ①④
2. 2000 年前后温州商贾灯饰订购方向的变化,可以
  - A. 保证灯饰产品的供应
  - B. 降低灯饰生产成本
  - C. 扩大订购资金来源
  - D. 提高灯饰产品的知名度

3. 推测目前中山市古镇灯饰产业集群区

- A. 以手工作坊式生产为主
- B. 产品只面向国内市场
- C. 产品趋向单一化
- D. 已进入智慧化生产时代

尼日利亚(位置见图 2)是非洲第一人口大国,15—16 世纪被殖民者入侵后其农业种植结构发生改变,水稻等作物替代了当地的高粱和粟类作物,但稻米产量一直很低,长期依赖进口,价格也居高不下。2003 年以后,尼日利亚在中国政府的援助下稻米产量连创新高,如今尼日尔河三角洲遍布着由中国援建和当地开垦的稻田,尼日利亚也成为目前非洲稻米产量最高的国家。据此完成 4~5 题。

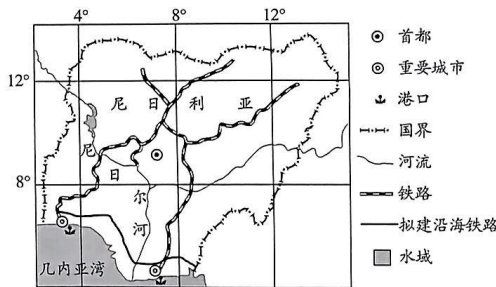


图 2

4. 过去尼日利亚稻米价格居高不下,主要是由于

- ①稻米品质高
- ②技术含量高
- ③农民生产经验不足,单产低
- ④种植面积小

- A. ①②
- B. ②③
- C. ③④
- D. ①④

5. 近年来尼日利亚稻米产量连创新高,这主要得益于该国

- A. 人口规模较大
- B. 消费水平提高
- C. 气候条件改善
- D. 稻米种植技术提高

海陆风是出现于近海和海岸地区、具有日周期的地方性风。图 3 示意我国东南沿海地区甲地的位置及其某年 10 月 17 日 0 时—18 日 1 时海陆风日变化。据此完成 6~8 题。

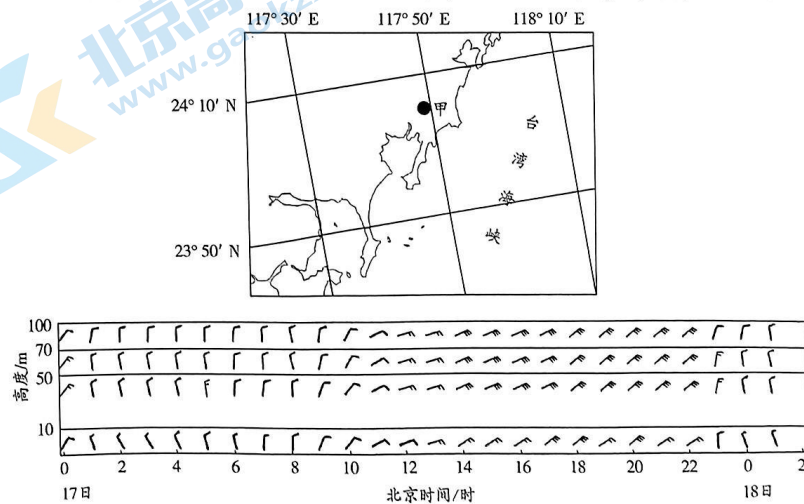


图 3

6. 图示时段甲地海风的风向主要是
- A. 西北风  
B. 西南风  
C. 东南风  
D. 东北风
7. 图示时段甲地由陆风转变为海风的时间大约是
- A. 16日23时—17日1时  
B. 17日3时—17日5时  
C. 17日9时—17日11时  
D. 17日23时—18日1时
8. 影响甲地海陆风风速差异的主要因素是
- A. 地转偏向力  
B. 下垫面性质  
C. 风向  
D. 人类活动

土壤微生物量是指土壤中体积小于 $5\ 000\ \mu\text{m}^3$ 的生物总量,它是活的土壤有机质部分,但活的植物体如植物根系等不包括在内(植物根系分泌物是微生物生长繁殖的重要营养源)。图4示意我国西南地区某山地不同海拔梯度土壤微生物量的季节变化。据此完成9~11题。

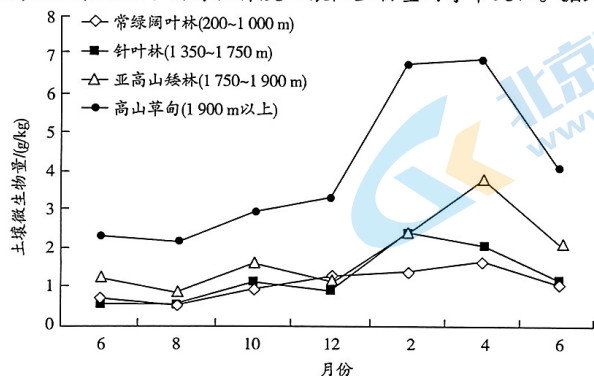


图4

9. 该山地四种植物群落的土壤微生物量
- A. 季节变化明显  
B. 季节变化规律正好相反  
C. 最大值出现在夏季  
D. 最小值出现在高海拔地区
10. 该山地四种植物群落中高山草甸土壤微生物量最大,其主要原因是高山草甸
- A. 类型多样  
B. 四季常青  
C. 茎叶柔软  
D. 根系发达
11. 推测该山地常绿阔叶林土壤微生物量4月份达到最大的主要原因是春季
- A. 植物吸收水分少  
B. 树叶脱落较多  
C. 土壤湿度较小  
D. 土壤中矿物质多
12. 在社会主义革命和建设时期,毛泽东同志提出把马克思列宁主义基本原理同中国具体实际进行“第二次结合”,以毛泽东同志为主要代表的中国共产党人,结合新的实际丰富和发展毛泽东思想。据此,下列推断正确的是,“第一次结合”
- ①创立了毛泽东思想  
②发生在新民主主义革命时期  
③诞生了中国共产党  
④开辟了社会主义改造的道路
- A. ①②  
B. ①③  
C. ②④  
D. ③④
13. 一个国家、一个民族要振兴,就必须在历史前进的逻辑中前进、在时代发展的潮流中发展。小岗破冰,深圳兴涛,海南弄潮,浦东逐浪,雄安扬波……四十五载扬帆奋进,震撼人心的

东方传奇,让一个古老民族迎来了从站起来、富起来到强起来的伟大飞跃。这一“东方传奇”

- ①让我们更有信心实现中华民族伟大复兴的目标  
②为广大发展中国家实现现代化提供了可复制模式  
③成功地开创、坚持和发展了中国特色社会主义  
④全景展示了新时代党治国理政理念、成就和经验
- A. ①②  
B. ①③  
C. ②④  
D. ③④
14. 战略性新兴产业代表新一轮科技革命和产业变革的方向,是国家培育发展新动能、赢得未来竞争新优势的关键领域。2018—2022年,中央企业在战略性新兴产业领域投资规模由0.7万亿元增长至1.5万亿元,占全部投资比重由12.8%提升至27%,投资规模增长115.2%,年均增长28%。这意味着,我国
- ①加快国有经济布局优化和结构调整  
②以增强活力为中心深化国有企业内部改革  
③推动国有资本和国有企业做优做强做大  
④增强国有经济控制力发挥其战略支撑作用
- A. ①③  
B. ②③  
C. ①④  
D. ②④
15. 2023年以来,央行于3月、9月两次降低存款准备金率,当前金融机构加权平均存款准备金率为7.4%。同时,央行通过多种结构性工具支持特定领域,激励引导金融机构把更多金融资源投向科技创新、制造业、绿色发展、普惠小微等重点领域。可见
- ①货币政策工具具有总量和结构调节双重功能  
②宏观经济政策支持虚拟经济发展力度保持稳定  
③稳健的货币政策要保持灵活适度、精准有力  
④持续加大货币供应量以降低社会综合融资成本
- A. ①②  
B. ①③  
C. ②④  
D. ③④
16. 从在河北正定举行的全国人大代表建议办理工作座谈会上获悉,十四届全国人大一次会议期间代表们向大会提出的8 314件建议,截至2023年12月,已经全部办理完毕并答复代表。这些代表建议经逐件研究分析,分别交由204家单位研究办理。材料表明
- ①全国人大代表参加行使国家权力的渠道日益畅通  
②代表联络机制有利于把人民意志转化为国家意志  
③人民代表大会制度保证了国家机关协调高效运转  
④我国以人大代表为纽带,做到民有所呼、我有所应
- A. ①②  
B. ①④  
C. ②③  
D. ③④
17. 2023年11月,某县法院开庭审理了县人民检察院诉县文化广电和旅游局怠于履行监管职责的首起公益诉讼案。该案社会关注度高,依法由3名员额法官和4名来自不同行业、经验丰富的人民陪审员组成合议庭进行公开审理。来自社会各界的7名群众旁听了庭审。本案审理
- ①强化司法监督,提升司法公信力  
②坚持阳光透明,重视人权司法保护  
③充分彰显司法的民主性、公正性  
④做到以事实为依据,确保结果公正
- A. ①③  
B. ①④  
C. ②③  
D. ②④
18. 敦煌莫高窟利用数字科技修复、还原敦煌壁画,用现代艺术形态来演绎石窟中独特的造型元素;西安碑林区的数字展厅以3D可视化技术为载体讲述文物背后的故事,并借助交互式游戏形式,让千年文物触手可及;故宫博物院推出“云游故宫”平台,方便用户全方位欣



赏和领略故宫之美……可见,文物“火起来”得益于科技能够

- ①激活传统元素,深入挖掘文物精神内涵 ②恪守传统风格,实景再现文物原始风貌  
③增强互动体验,拉近文物与游客的距离 ④创新传承方式,方便游客欣赏文物之美

A. ①② B. ①③ C. ②④ D. ③④

19. 2023年12月16日,引江济淮一期工程安徽段正式开启试调水。此次试调水旨在检验各级泵站、输水渠道、控制闸等新老工程联合运用的协调性,实现向沿线生活、生产、航运、生态供水,为后期开展常态化水资源调度奠定基础。材料旨在告诉我们

- ①认识源于实践并服务于实践 ②检验认识的真理性是实践的根本目的  
③实践是有目的有意识的活动 ④人们通过实践创造新的物质生活资料

A. ①② B. ①③ C. ②④ D. ③④

20. 2023年12月19日发布的《国务院关于〈吉林省国土空间规划(2021—2035年)〉的批复》指出:“原则同意自然资源部审查通过的《吉林省国土空间规划(2021—2035年)》(以下简称《规划》)”。《规划》是吉林省空间发展的指南……请认真组织实施。”这体现了

- ①吉林省政府充分发挥自治权,积极构建国土空间体系  
②国务院和吉林省政府各自行使自身在法定范围内的权力  
③吉林省政府要在考虑自身特殊利益前提下开发国土空间  
④我国是单一制国家,吉林省政府被置于国务院领导之下

A. ①③ B. ①④ C. ②③ D. ②④

21. 30年前,面对冷战结束后“人类向何处去”的时代之问,亚太地区领导人召开了首次亚太经合组织领导人非正式会议。如今,世界进入新的动荡变革期,世界经济增长动能不足,不稳定、不确定、难预料因素增多。亚太合作下一个30年将走向何方,成为我们面临的新的时代之问。为此,我们要

- ①创新亚太经合组织方式,弘扬求同存异的好做法  
②搭建一体化建设平台,着重提高集体行动的效能  
③秉持亚太经合组织初心,坚定维护亚太地区繁荣稳定  
④发挥各自比较优势,打造合作共赢的开放型亚太经济

A. ①② B. ①③ C. ②④ D. ③④

22. 2023年10月,原告周某从某商行购买3瓶法国红酒,合计金额639元。后周某发现该商品没有中文标示,无法获取食品相关信息。周某遂提起诉讼,请求判令某商行退还购物款,并依据经营明知不符合食品安全标准的食品的法律规定的规定,支付价款十倍赔偿金6390元。对此,下列说法正确的是

- ①某商行既构成侵权责任,也构成违约责任  
②如原告不能退还红酒,则应从退货款中扣除违约金  
③周某在提起民事诉讼前,应该申请行政仲裁  
④周某如能举证该酒存在安全问题,则可获得赔偿金

A. ①② B. ②③ C. ①④ D. ③④

23. 做好2024年经济工作,既要在稳预期、稳增长、稳就业上下功夫,稳住经济基本盘;又要在转方式、调结构、提质量、增效益上积极进取,牢牢把握发展主动权,确保工作部署落实落地。由此可推出的结论是

- ①如果稳住经济基本盘,就能做好2024年经济工作  
②如果要做好2024年经济工作,就必须稳住经济基本盘  
③只有牢牢把握发展主动权,才能做好2024年经济工作

④只有做好2024年经济工作,才能牢牢把握发展主动权

A. ①③ B. ①④ C. ②③ D. ②④

24. 表1

分布区域	遗址名称	考古学文化	具体发掘情况简介
黄河下游	山东济南月庄遗址	后李文化	在2个灰坑浮选出共28粒炭化稻,很可能为栽培稻
淮河流域	河南舞阳贾湖遗址	裴李岗文化	在9个样品中发现大量水稻硅石,以稷型栽培稻为主
黄河上游	甘肃庆阳遗址	仰韶文化	研究样本中有炭化稻米2720粒、碎米约2000粒、炭化稻谷187粒
黄河下游	山东滕州庄里西遗址	龙山文化	在5个灰坑中浮选出280余粒粳米

表1是新石器时代文化遗址考古发掘情况统计。这可用于印证新石器时代

- A. 农业聚落的规模较为庞大 B. 稻作农业的中心移至北方  
C. 人类生产方式发生了巨变 D. 区域文明间的交流与渗透

25. 庄子说:“欲不可绝,亦不可纵。纵欲招祸,绝欲不生。少私寡欲,清静为正。”荀子说:“人生而有欲,欲而不得,则不能无求;求而无度量分界,则不能不争;争则乱,乱则穷。”这反映出二者都

- A. 提出可行的治国方案 B. 关注人的内在修养  
C. 强调以礼义节制人欲 D. 具有浓厚家国情怀

26. 表2

史料内容	来源
诏曰:“往岁水、旱、蝗虫为灾,谷价腾跃,人用困乏。朕惟百姓无以自贍,惻然愍之。其命郡国有谷者,给粟高年、鳏寡孤独及笃癯、无家属贫不能自存者,如《律》。二千石勉加循抚,无令失职。”	《后汉书·光武帝纪下》
诏曰:“盖君人者,视民如父母,有怵之忧,有忠和之教,葡萄之教。其婴儿无父母亲属,及有子不能养食者,粟给如《律》。”	《后汉书·章帝纪》

表2中的史料

- A. 证实东汉灾害频繁发生 B. 体现了儒家以经律律  
C. 彰显了以民为本的理念 D. 说明政府职能的拓展

27. 据《新唐书》记载,唐朝共有公主199位,有125位招过驸马,按驸马的出身看,外戚占31%,功臣、重臣及其子孙占28%,进士占5%,外族可汗占3%,一般官员占7%,其他不详者占26%。这种婚姻

- A. 具有明显政治意图 B. 壮大了门阀世族势力  
C. 旨在扩大统治基础 D. 促成了中原文化认同

28. 洪武十四年(1381年),明政府在全国推行黄册制度,并特别规定“凡云南攒造黄册,除流官及土官驯熟府分依式攒造外,其土官用事边远顽野之处,里甲不拘定式,听从实编造”。这表明,明初云南

- A. 拥有一定的自治权 B. 赋役标准异于全国  
C. 受中央政权的重视 D. 基层管理较为混乱



29. 1896年《中俄密约》签订,中国允许俄国修筑东清铁路。对此铁路,沙俄财政大臣维特说:“它使俄国在任何时间内在最短的路上把自己的军事力量运到海参崴及集中于满洲、黄海海岸及离中国首都的近距离处。”据此可知,俄国修筑的这一铁路

- A. 激发西方国家瓜分中国的狂潮  
B. 便于从政治军事上控制清政府  
C. 致使中国东北的领土开始丧失  
D. 客观上拓展了中国国内的市场

30. 2023年4月6日,沙特和伊朗两国外长在北京成功会晤,宣布恢复外交关系,长期断交的两个中东大国在中国斡旋下握手言和。就此《华盛顿邮报》指出,沙特选择中国作为担保人是发出一个明确的信号,即中国是比美国更可靠的长期合作伙伴。这说明,我国

- A. 勇于承担大国责任担当  
B. 致力于改善国家的周边环境  
C. 践行多边主义外交政策  
D. 努力促进世界政治的多极化

31. 约公元前2181年,古埃及进入100多年的第一中间期。有关这一时期的材料,基本上都来自稍晚时期创作的文艺作品,如《聂菲尔列胡预言》和《绝望者与自己灵魂的谈话》等,其中记述:“大地倒转,没有武器的人变成了武器的所有者”“河床变成了沙滩”。据此判断,这类作品的记述

- A. 可直接当作真实历史材料使用  
B. 可作为历史研究的材料之一  
C. 是研究古埃及有力的实物证据  
D. 客观反映了古埃及社会全貌

32. 1572年,欧洲强大的贸易联盟——汉萨同盟的各个城市正式承认各行业有定期召集会议和做出决议之权,只要这些决议不违反城市关于货物质量的法令。由此可知,这时的欧洲城市

- A. 自治的程度较高  
B. 商业经营模式已转变  
C. 相互间联系密切  
D. 管理呈现民主化倾向

33. 图5是1801—1871年英国国民收入来源的行业分布情况(单位:%)。这反映了

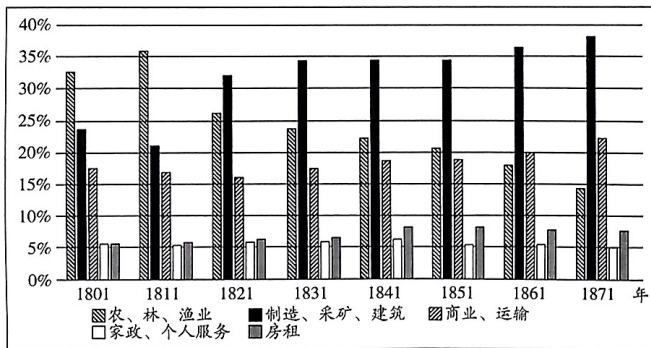


图5

- A. 议会改革增加了英国国民收入  
B. 城市化加速了产业人口的流动  
C. 工业化推动经济结构发生变化  
D. 工业革命提升了民众生活质量

34. 1895年,提拉克在《狮报》上发表文章纪念17世纪的民族英雄希瓦吉,号召人们要像希瓦吉那样来争取印度的自治。同时,他还用《薄伽梵歌》中克里希那的教导宣传武装斗争的思想。提拉克的意图是

- A. 恢复印度传统宗教文化  
B. 发动下层民众抗击英国  
C. 提升印度人的文化自信  
D. 增强印度民族的凝聚力

35. 据《国际组织年鉴》统计,1995年,各种政府间和非政府间国际组织、条约、协定的总数达41 722个,1999年达500 373个,其中非政府间国际组织的90%以上是20世纪50年代之

后发展起来的。这可用于说明

- A. 全球化推动国际机制不断发展  
B. 世界经济力量对比发生显著变化  
C. 美苏冷战加快经济全球化进程  
D. 全球政治经济治理结构亟待完善

二、非选择题:本题共10小题,共160分。

36. 阅读图文材料,完成下列要求。(28分)

兰斯塔德地区位于荷兰西部,是一个由四个核心城市和周边中小卫星城组成的多中心城市群。兰斯塔德地区中间是一个接近3 000平方千米的“绿心”,“绿心”被四个核心城市和其他城镇环绕,主要由农田、河湖、沼泽构成,且多条河流由此入海。兰斯塔德地区区域内部交通联系以铁路和高速公路为主,其也有先进的机场和港口。该地区积聚了全国85%以上的产业,但多年来四大核心城市的人口都严格控制在100万人以内。近年来,为了兰斯塔德地区的可持续发展,荷兰政府不断加强核心城市与卫星城之间的交通网络建设。图6示意兰斯塔德地区的位置和地理概况。

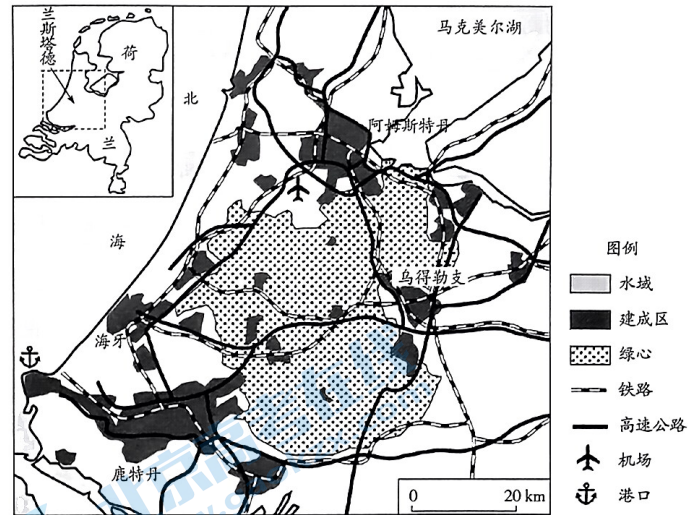


图6

(1) 指出“绿心”对兰斯塔德地区交通沿线环境的有利影响。(6分)

(2) 分析兰斯塔德地区内部交通联系以铁路和高速公路为主的主要原因。(6分)

(3) 说出兰斯塔德地区核心城市将市区人口控制在100万人以内的益处。(8分)

(4) 简述兰斯塔德地区加强核心城市与卫星城之间交通网络建设的主要目的。(8分)



37. 阅读图文材料,完成下列要求。(28分)

草地火是指发生在草原、林区草甸、草塘上的火的总称,可分为草原火、草甸火、草塘火等。澳大利亚国土面积769万平方千米,国土面积的76%是草地,草地火是澳大利亚生态系统的重要组成部分。澳大利亚从2019年10月持续到次年2月的全国性大火很大一部分是草地火,草地火对当地生态环境、野生动物等造成了巨大影响。图7示意澳大利亚自然植被分布(图中序号表示不同的自然带)。

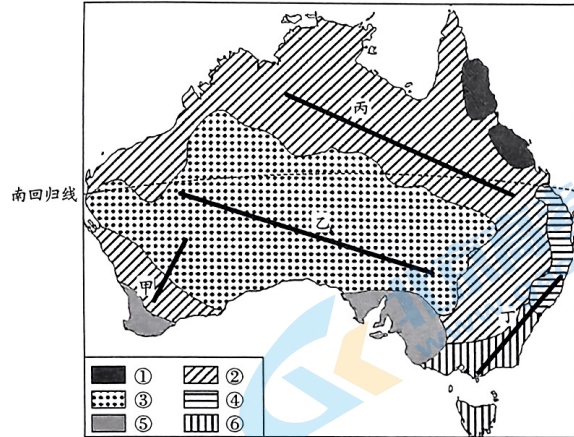


图7

- (1) 指出①代表的自然带类型,并说明当地气候类型的成因。(8分)
- (2) 从水循环的角度,简析澳大利亚草地火频发的原因。(8分)
- (3) 推测近年来澳大利亚草地火持续燃烧时间变长可能的自然原因。(4分)
- (4) 若要在甲、乙、丙、丁四条线附近建设一系列草地火监测站,请指出最合适的一条线,并说明理由。(8分)

38. 阅读材料,完成下列要求。(12分)

2023年12月6日,中共中央在中南海召开党外人士座谈会,就2023年经济形势和2024年经济工作听取各民主党派中央、全国工商联负责人和无党派人士代表的意见和建议。

12月8日,中共中央政治局召开会议,分析研究2024年经济工作;听取中央纪委国家监委工作汇报,研究部署2024年党风廉政建设和反腐败工作;审议《中国共产党纪律处分条例》。

12月11日至12日,中央经济工作会议在北京举行。会议全面总结2023年经济工作,深刻分析当前经济形势,系统部署2024年经济工作,为中国高质量发展掌舵领航;为

以中国式现代化全面推进强国建设、民族复兴伟业指引奋进方向。制度优势是我国做好2024年经济工作的重要保证。结合材料并运用《政治与法治》的相关知识加以说明。

39. 阅读材料,完成下列要求。(10分)

2023年12月7日,第二十四次中国—欧盟领导人会晤在北京举行。

中方强调,中欧应该增进理解互信,相互尊重支持,加强发展战略对接,实现共同发展。中国愿将欧盟作为经贸合作的关键伙伴、科技合作的优先伙伴、产业链供应链合作的可信伙伴,追求互利共赢,实现共同发展。

中方指出,中欧之间没有根本战略分歧,双方是伙伴不是对手。中国对欧政策保持长期稳定,始终视欧洲为多极化世界中的独立一极,坚持中欧关系不针对、不依附、也不受制于第三方。不能因为制度不同就视彼此为对手,不能因为出现竞争就减少合作,不能因为存在分歧就进行对抗。

假如你是一名小记者,要报道本次中国—欧盟领导人会晤,请拟一份报道提纲,简要阐明中国对中欧关系的立场。

40. 阅读材料,完成下列要求。(10分)

近年来,江西积极贯彻新发展理念,用共享发展推动民生改善。

2012—2022年,江西民生支出累计4.48万亿元,占同期财政支出比重稳定在80%左右。赣州实施提高民生品质行动项目,着力保障重点群体就业,推进健康赣州建设,开展全民阅读、全民艺术普及系列活动。吉安市吉州区坚持以问题收集和群众需求为导向,探索出在职党员、乡贤代表人员、平安志愿服务人员、群众代表人员、法治工作人员、城市管理、市场监管人员、环卫人员等“八员”下沉网格的“一格八员”的社会治理工作法,努力在第一时间把矛盾纠纷化解在基层。

结合材料,运用群众路线的知识,分析江西是如何通过共享发展改善民生的。

41. 阅读材料,完成下列要求。(10分)

老杨夫妇有二子,老大家境富裕,在外地工作。次子与其妻子赵某负责照顾老杨夫妇起居生活。次子因病去世后,赵某改嫁,但仍经常照顾老杨夫妇。老杨夫妇生前留有遗嘱将一套房产赠与赵某。老杨夫妇去世后,老大认为弟媳赵某已改嫁,无权继承遗产。

运用《法律与生活》的相关知识,分析赵某取得遗产的方式及其理由,并给当事人提出解决纠纷的建议。



42. 阅读材料,完成下列要求。(10分)

习近平总书记指出:“积极主动融入国家战略,推动高质量发展。”党的十八大以来,党中央制定了一系列具有全局性意义的区域重大战略,A省在习近平同志为核心的党中央坚强领导下,高质量发展取得显著成效。

A省找准自身定位,立足本地实际培植后发优势,找到融入国家战略的抓手。如,积极融入粤港澳大湾区建设,对标大湾区先进做法,开展合格境外有限合伙人制度业务试点改革,为境外资金投资开辟直达通道。实践证明,积极融入国家战略,在大局中谋划自身发展方向、制定发展策略、出台发展举措,就能抓住实现高质量发展的机遇。

结合材料,运用创新思维的相关知识,说明A省为什么能够抢抓高质量发展的机遇。

43. 阅读材料,完成下列要求。(25分)

材料一 1950—1959年,我国进口货物中,工业设备、交通器材、农业机械、化肥农药等大幅度增加。1959年,我国对外贸易总额达149.3亿元,比1950年增长2.6倍。十年来,我国与94个国家和地区建立贸易关系,同其中29国签订政府间贸易条约和协定。苏联和其他兄弟国家在我国对外贸易总额中的比重,恢复时期占64%,一五计划期间为78%,1959年达76%。1958年我国对亚非国家(地区)贸易总额达7.2亿美元,比1950年增长1倍。按1955年中埃双方协定,我国用6万吨钢材交换埃及1.5万吨棉花。我国与西方国家的贸易总额1957年达4.5亿美元,1958年达7.3亿美元,比1952年增长9倍。

——摘编自苏星、杨秋宝《新中国经济史资料选编》

材料二 1950—1957年,法国经济有了初步发展,在此基础上,外贸开始拓展并初具规模。1959—1979年间出口贸易量年均增长率为8.3%,而同期国内生产总值年均增长率为4.8%。出口占国内生产总值的比重从1950年的10.6%上升到1979年的17.9%。表3为其外贸国别方向。

表3

贸易国	共同市场九国		西德		美国		日本		东欧		原法郎区国家		石油输出国	
	a	b	a	b	a	b	a	b	a	b	a	b	a	b
1958年	21.9	22.2	11.7	10.4	10.2	5.8	0.17	0.3	3.1	2.8	27.5	37.5	—	—
1973年	55	56.7	23	19.5	8.4	4.7	1.4	1.2	2.7	3.6	3.5	5.1	—	—
1977年	49.4	50.3	18.5	17.1	6.9	5.7	2	0.7	3.1	4.5	3.5	5.2	—	—
1979年	50.1	51.4	18	16.8	7.6	4.8	1.9	0.9	—	—	—	—	15.1	7.1

注:(a:占进口总值的%,b:占出口总值的%)

——摘编自邓力平《战后法国对外贸易的基本特点》

(1)根据材料一并结合所学知识,概括1950—1959年新中国对外贸易发展的特点。(8分)

(2)根据材料二并结合所学知识,指出1958—1979年法国的对外贸易格局,并简析这一格局形成的原因。(12分)

(3)综合上述材料,说明发展对外贸易对国际社会的积极影响。(5分)

44. 阅读材料,完成下列要求。(12分)

材料 鲁迅在题为《拿来主义》的杂文中指出:“我们被‘送来’的东西吓怕了……于是连清醒的青年们,也对于洋货发生了恐怖。其实,这正是因为那是‘送来’的,而不是‘拿来’的缘故。”“我们要运用脑髓,放出眼光,自己来拿!”“总之,我们要拿来。我们要或使用,或存放,或毁灭。那么,主人是新主人,宅子也就会成为新宅子。然而首先要这人沉着,勇猛,有辨别,不自私。没有拿来的,人不能自称为新人,没有拿来的,文艺不能自称为新文艺。”

鲁迅的文化主张,得到毛泽东同志的高度评价:“鲁迅的方向,就是中华民族新文化的方向。”

——摘编自张岱年、程宜山《中国文化与文化论争》

解读材料信息,提出一个观点,并结合中国近代的相关知识予以阐释。(要求:观点明确,叙述史论结合,逻辑严密,条理清晰)

45. 阅读材料,完成下列要求。(15分)

材料 天圣七年(1029年)《天圣编敕》修订进呈后,仁宗发布诏书:“见行编敕及续降宣敕其未便者,听中外具利害以闻。”详定编敕所回复说:“准诏,新定编敕且未雕印,令写录降下诸转运、发运司看详行用。如内有未便事件,限一年内逐旋具实封闻奏。当所已写录到海外行编敕并目录共三十卷。”天下官吏百姓均可指陈得失。政和元年(1111年)修撰编敕,徽宗命各地“晓谕官吏诸色人,如有见得见行敕令、续(降)等条贯,有未尽未便合行更改,或别有利害,未经条约者,指挥到日,限两月内具状分明指说,实封,经所在投陈。随处州军附急递至京,仰都进奏院直赴本所把风下”。宋代设有提举印造编敕所,专门负责编敕印刷。熙宁六年,提举印造编敕所奏言:“新敕刊本将毕,虑中书、枢密院更有合入条约及续降条约,乞候来年颁降。”宋法律的颁布传达渠道,最初有两个,一是转运司,一为进奏院。宋还采取榜示公告的形式让百姓大众知晓。元丰八年(1085年)三月六日大赦诏书,进奏院七日即递送到京东西路曹州。大赦令到达地方后,“沛然之泽,无所不浃”。

——摘编自戴建国《宋代法律制定、公布的信息渠道》

(1)根据材料,概括宋代法律制定的特点。(7分)

(2)根据材料并结合所学知识,简析宋代法律公布传达的有利条件。(8分)